

INSCRIÇÃO	TURMA	NOME DO CANDIDATO
ASSINO DECLARANDO QUE LI E COMPREENDI AS INSTRUÇÕES ABAIXO:		ORDEM

422 – Médico – ginecologia e obstetrícia

INSTRUÇÕES

1. Confira, acima, o seu número de inscrição, turma e nome. Assine no local indicado.
2. Aguarde autorização para abrir o caderno de prova. **Antes de iniciar a prova**, confira a numeração de todas as páginas.
3. A prova desta fase é composta de 30 questões objetivas.
4. Nesta prova, as questões objetivas são de múltipla escolha, com 5 alternativas cada uma, sempre na sequência **a, b, c, d, e**, das quais somente uma deve ser assinalada.
5. A interpretação das questões é parte do processo de avaliação, não sendo permitidas perguntas aos aplicadores de prova.
6. Ao receber o cartão-resposta, examine-o e verifique se o nome nele impresso corresponde ao seu. Caso haja irregularidade, comunique-a imediatamente ao aplicador de prova.
7. O cartão-resposta deverá ser preenchido com caneta esferográfica de tinta preta, tendo-se o cuidado de não ultrapassar o limite do espaço para cada marcação.
8. A duração da prova é de 2 horas e 30 minutos. Esse tempo inclui a resolução das questões e a transcrição das respostas para o cartão-resposta.
9. **Terá sua prova anulada e será automaticamente desclassificado do Concurso Público o candidato que:**
 - a) recusar-se a entregar o material de prova ao término do tempo destinado para a sua realização;
 - b) faltar com o devido respeito para com qualquer membro da equipe de aplicação da prova, autoridades presentes ou outro candidato;
 - c) praticar atos contra as normas ou a disciplina ou que gerem desconforto durante a aplicação da prova;
 - d) deixar de cumprir instruções/determinações do aplicador de prova ou inspetor;
 - e) descumprir as instruções contidas no caderno de prova;
 - f) for surpreendido em comunicação com outro candidato ou terceiros, verbalmente, por escrito ou por qualquer outro meio de comunicação;
 - g) utilizar meios fraudulentos ou ilegais para obter para si ou para terceiros a aprovação no Concurso Público;
 - h) não se submeter ao controle de detecção de metal;
 - i) ausentar-se do recinto durante a realização da prova sem o acompanhamento de membro da equipe de aplicação do Concurso Público;
 - j) afastar-se da sala durante a realização da prova portando o material de prova;
 - k) retirar-se da sala de prova antes de decorrida uma hora e trinta minutos do início da prova, de acordo com o subitem 9.4.15 do edital;
 - l) retirar-se definitivamente da sala de prova em desacordo com o subitem 9.4.16 do edital (os três últimos candidatos de cada turma só poderão se retirar da sala de prova simultaneamente).
10. Ao concluir a prova, permaneça em seu lugar e comunique ao aplicador de prova. Aguarde autorização para entregar o material de prova.
11. Após a entrega do material ao aplicador de prova, dirija-se imediatamente ao portão de saída e retire-se do local de prova, sob pena de ser excluído do Concurso Público.
12. Se desejar, anote as respostas no quadro disponível no verso desta folha, recorte na linha indicada e leve-o consigo.

✂

RESPOSTAS									
01	04 -	07 -	10 -	13 -	16 -	19 -	22 -	25 -	28 -
02 -	05 -	08 -	11 -	14 -	17 -	20 -	23 -	26 -	29 -
03 -	06 -	09 -	12 -	15 -	18 -	21 -	24 -	27 -	30 -

LÍNGUA PORTUGUESA

O texto a seguir é referência para as questões 01 a 10.

Guerra diminuiu apetite por risco de investidores de startup

Emanuel Pessoa

1 Desde a crise financeira de 2008, os países desenvolvidos, principalmente os Estados Unidos, injetam grandes volumes de
2 dinheiro na economia. Isso aumentou fortemente a quantidade de capital disponível nos mercados, com mais dinheiro em circulação
3 nos últimos 14 anos.

4 Um dos efeitos colaterais foi o inchaço do valor de mercado das empresas de tecnologia e o aumento descomunal no número
5 de startups investidas. Com dinheiro _____ preço extremamente baixo se comparado ao período pré-2008, os investidores tinham
6 dinheiro em excesso e aportaram em empresas de mérito duvidoso. Só no Brasil, as startups receberam US\$ 9,4 bilhões em 2021,
7 segundo levantamento da plataforma Distrito.

8 _____, **essa tendência** apresenta desgaste. O ponto de **inflexão** pode ser a guerra da Ucrânia. Nos últimos meses,
9 muitos investidores já demonstraram a necessidade de verem resultados concretos de suas investidas. **No entanto**, a maior parte
10 **deles** ainda os ignorava diante de um discurso megalomaniaco por parte dos fundadores do próximo Uber disso ou do novo
11 Facebook daquilo.

12 O conflito provocou um aumento fortíssimo no preço das commodities, **já que** as sanções contra a Rússia e o receio de uma
13 escalada na disputa armada levaram os investidores _____ anteciparem uma subida futura de preços, comprarem mais para
14 estocar e aportarem capital em várias delas (sendo o ouro um exemplo) para proteger seu dinheiro.

15 Assim, o apetite por risco diminuiu de modo que as startups agora precisam comprovar uma relação de probabilidade entre
16 risco e retorno, muito superior ao período precedente _____ guerra, para receberem os mesmos investimentos.

17 Embora o capital barato tenha incentivado o crescimento de startups, esse tipo de montante também mascarava ineficiências
18 que levaram _____ destruição imensa de valor, como aconteceu no caso do WeWork.

19 Por mais que seja desejável a realização de investimentos em empresas de inovação, ela deve se guiar por regras que
20 prestigiem startups que fazem seu dever de casa, cortando ineficiências e crescendo de forma escalável, sob pena de que o capital
21 abundante oferecido pelo mundo seja desperdiçado em investimentos indevidos.

(Jornal O Estado de S. Paulo, ano 143, n. 47033, p. B2, 26 jul. 2022. Adaptado.)

01 - Assinale a alternativa que preenche corretamente o quadro no início da linha 8.

- a) De modo que.
- b) Dessa forma.
- c) Tanto que.
- d) Portanto.
- ▶ e) Contudo.

02 - Assinale a alternativa que preenche corretamente as lacunas (linhas 5, 13, 16 e 18), na ordem em que aparecem no texto.

- a) a – a – a – a.
- b) a – à – a – a.
- ▶ c) a – a – à – à.
- d) à – à – à – à.
- e) à – à – a – a.

03 - O termo “deles” (linha 10) faz referência a:

- ▶ a) investidores.
- b) últimos meses.
- c) dinheiro em excesso.
- d) resultados concretos.
- e) fundadores.

04 - A expressão “inflexão” (linha 8) pode ser substituída sem prejuízo de sentido por:

- ▶ a) mudança.
- b) instabilidade.
- c) confirmação.
- d) resultado.
- e) dúvida.

05 - O termo “No entanto”, destacado na linha 9, estabelece com as informações anteriores uma relação de:

- a) condição.
- ▶ b) adversatividade.
- c) concessão.
- d) explicação.
- e) conclusão.

06 - A expressão “essa tendência” (linha 8) faz referência a:

- a) fundação de startups como Uber e Facebook.
- b) grandes volumes de dinheiro disponível no mercado.
- c) crescimento de startups no Brasil por conta da guerra na Ucrânia.
- d) necessidade de os investidores verem resultados concretos das suas investidas.
- ▶ e) aporte de grande quantidade de dinheiro pelos investidores em startups de mérito duvidoso.

07 - Releia o seguinte trecho:

Desde a crise financeira de 2008, os países desenvolvidos, principalmente os Estados Unidos, injetam grandes volumes de dinheiro na economia.

De acordo com a norma padrão escrita da língua portuguesa, esse trecho também pode ser pontuado da seguinte forma:

- a) Desde a crise – financeira de 2008 –, os países desenvolvidos, principalmente os Estados Unidos injetam, grandes volumes de dinheiro, na economia.
- b) Desde a crise financeira, de 2008, os países desenvolvidos principalmente os Estados Unidos injetam grandes volumes de dinheiro; na economia.
- c) Desde a crise financeira de 2008 os países desenvolvidos, principalmente, os Estados Unidos injetam grandes volumes de dinheiro na economia.
- ▶ d) Desde a crise financeira de 2008, os países desenvolvidos – principalmente os Estados Unidos – injetam grandes volumes de dinheiro na economia.
- e) Desde a crise, financeira de 2008, os países desenvolvidos, principalmente os Estados Unidos, injetam grandes volumes de dinheiro na economia.

08 - O tema central do texto é:

- a) Crise financeira das startups brasileiras por conta das sanções contra a Rússia após o ataque à Ucrânia.
- b) Risco de arruinamento de startups causado por dinheiro em excesso injetado na economia após a guerra da Ucrânia.
- ▶ c) Queda de investimentos em startups de capacidade duvidosa motivada por consequências da guerra da Ucrânia.
- d) Falência das startups causada pelo aumento fortíssimo no preço das commodities.
- e) Queda do valor de mercado das startups causada pelo discurso dos fundadores do Uber e do Facebook.

09 - De acordo com o texto, entre as alternativas a seguir, é intenção do autor:

- a) Denunciar a injeção excessiva de dinheiro em empresas de tecnologia e startups feita pelos países desenvolvidos.
- b) Noticiar a queda de investimentos nas startups Uber e Facebook.
- c) Imputar à Ucrânia a culpa pela ineficiência das startups.
- ▶ d) Alertar para a necessidade de investimento responsável em empresas de inovação eficientes.
- e) Divulgar o crescimento das startups brasileiras em 2021.

10 - De acordo com o texto, considere as seguintes afirmativas:

1. A queda de investimento em startups foi causada pela crise financeira de 2008.
2. O preço do ouro subiu por conta da guerra da Ucrânia.
3. O investimento em empresas que não comprovam viabilidade entre risco e retorno diminuiu.

Assinale a alternativa correta.

- a) Somente a afirmativa 1 é verdadeira.
- b) Somente a afirmativa 2 é verdadeira.
- c) Somente as afirmativas 1 e 3 são verdadeiras.
- ▶ d) Somente as afirmativas 2 e 3 são verdadeiras.
- e) As afirmativas 1, 2 e 3 são verdadeiras.

RACIOCÍNIO MATEMÁTICO

11 - Uma lei da Bahia exige que os postos de combustível informem a que porcentagem o preço de etanol corresponde ao preço da gasolina, conforme se vê na frase abaixo, divulgada em um desses postos:

“Neste estabelecimento, o preço do etanol corresponde a 70% do preço da gasolina.”

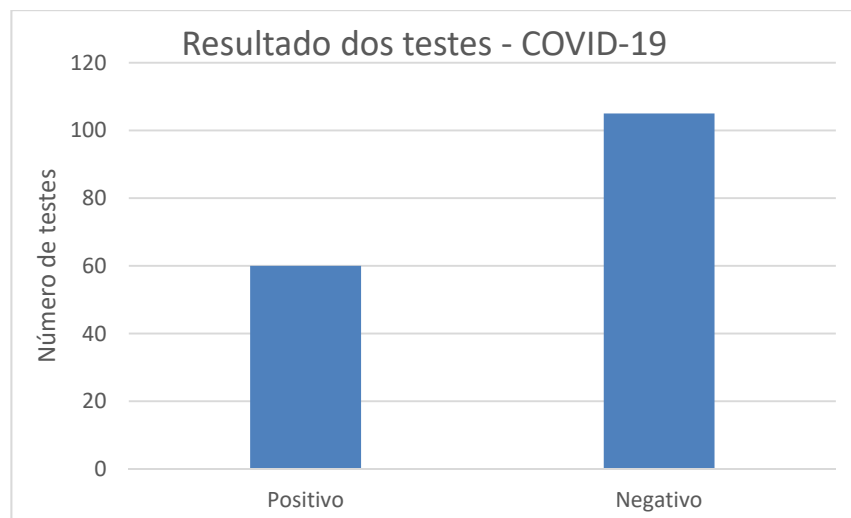
Conhecendo-se o rendimento do automóvel com cada um dos combustíveis, é possível saber com exatidão se é mais econômico abastecer com uma ou com outra opção. Um determinado carro apresenta um rendimento de 9,1 quilômetros por litro de etanol. Nessas condições, se o rendimento do carro com gasolina for:

- a) maior que 15 quilômetros por litro, é mais vantajoso usar etanol.
- ▶ b) maior que 13 quilômetros por litro, é mais vantajoso usar gasolina.
- c) entre 13 e 15 quilômetros por litro, é mais vantajoso usar etanol.
- d) entre 6,4 e 13 quilômetros por litro, é mais vantajoso usar gasolina.
- e) igual a 15,5 quilômetros por litro, não há diferença para o consumidor.

12 - Em um bilhete de loteria, há um espaço com oito corações numerados de 1 a 8. Para fazer sua aposta, o jogador deve marcar dois desses corações. Quantas apostas diferentes podem ser feitas?

- a) 64.
- b) 56.
- c) 48.
- ▶ d) 28.
- e) 16.

- 13 - Em relação a outros investimentos de renda variável, as criptomoedas apresentam uma grande variação. Em meados do mês de junho de 2022, por exemplo, o bitcoin sofreu uma desvalorização de 45%. O percentual que mais se aproxima da valorização que a criptomoeda deverá ter para retornar ao valor de antes dessa desvalorização é:
- 222%.
 - 182%.
 - 82%.
 - 53%.
 - 22%.
- 14 - Desde que os números da pandemia de covid-19 passaram a ser registrados, observou-se que aos fins de semana e às segundas-feiras muitos estados tinham dificuldades para registrar os dados no sistema, o que causava uma falsa sensação de que, nesses dias, havia menos infecções e mortes pela doença. Para evitar tal problema, na divulgação dos números os meios de comunicação passaram a usar o conceito de média móvel, primeiramente a média dos números dos 7 dias anteriores e, atualmente, dos números dos últimos 14 dias. Considere que a média móvel de um determinado período de 7 dias foi de 147 mortes diárias e que, nos 14 dias posteriores, a média foi de 120 mortes diárias. A média de mortes diárias desses 21 dias é de:
- 267.
 - 138.
 - 133,5.
 - 131,5.
 - 129.
- 15 - Uma pesquisa realizada com 235 pessoas detectou que 95 delas não tiveram qualquer doença, algumas delas tiveram covid-19, 120 delas tiveram influenza e metade das que tiveram covid-19 tiveram também influenza. Dessas 235 pessoas, a quantidade que teve covid-19 é de:
- 140.
 - 115.
 - 40.
 - 25.
 - 20.
- 16 - O gráfico a seguir mostra a quantidade de resultados negativos e positivos de 165 testes para covid-19 realizados em uma unidade de saúde em uma determinada semana de 2022.



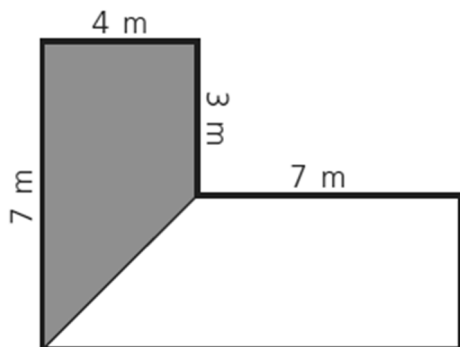
Na semana seguinte, a unidade de saúde registrou um aumento no número de testes realizados, mas a proporção entre resultados negativos e positivos se manteve. Sabendo que, nessa segunda semana, foram realizados 297 testes, o número de resultados positivos foi de:

- 108.
 - 118.
 - 128.
 - 165.
 - 189.
- 17 - Considere um telhado em forma de retângulo de dimensões 15 x 6 metros que capta água para uma cisterna em forma de paralelepípedo de dimensões 5 x 2 x 3 metros. Em um determinado dia, choveu de forma constante 50 mm a cada hora. Com a coleta da água da chuva que caiu no telhado nesse dia, a cisterna ficou cheia em:
- 3 horas.
 - 4 horas.
 - 4 horas e 40 minutos.
 - 6 horas e 6 minutos.
 - 6 horas e 40 minutos.

18 - João, Carlos e Maria realizaram um investimento de R\$ 30.000,00 em um pequeno negócio. Maria e João contribuíram juntos com R\$ 14.000,00 e Carlos com o restante. Em um determinado mês, o trio lucrou R\$ 6.000,00 e combinou que o lucro seria dividido de forma diretamente proporcional ao valor investido. Qual o valor que coube a Carlos?

- ▶ a) R\$ 3.200,00.
- b) R\$ 3.000,00.
- c) R\$ 1.600,00.
- d) R\$ 1.400,00.
- e) R\$ 1.200,00.

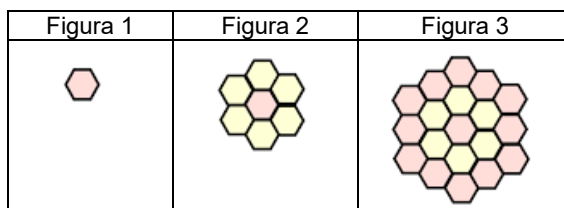
19 - A figura abaixo representa um jardim em que a parte cinza será gramada.



O valor que mais se aproxima da porcentagem da área gramada em relação ao todo é:

- a) 56%.
- b) 50%.
- c) 42%.
- ▶ d) 36%.
- e) 20%.

20 - Considere a sequência de figuras a seguir:



Considerando a continuidade dessa sequência, a figura formada por 631 hexágonos será a de número:

- a) 10.
- ▶ b) 15.
- c) 35.
- d) 105.
- e) 210.

CONHECIMENTOS ESPECÍFICOS

21 - Mulher de 22 anos apresenta lesões eritemato-papulosas com vesículas confluentes sobre esta base eritematosa, dolorosas e localizadas em grande lábio direito. O agente etiológico do quadro clínico é:

- a) *Chlamydia trachomatis*.
- b) *Mycoplasma genitalium*.
- c) *Klebsiella granulomatis*.
- ▶ d) *Herpes simplex* tipo 2.
- e) *Haemophilus ducreyi*.

22 - Os pólipos endometriais são estruturas sólidas que podem ser únicas ou múltiplas, de tamanho variável, com um eixo vascular, recobertas por endométrio e diagnosticadas pelo ultrassom transvaginal. Considerando uma mulher no menacme, qual o momento ideal do ciclo menstrual para realizar esse exame?

- a) Período menstrual.
- b) Fase periovulatória.
- c) Fase lútea ou secretora.
- d) Fase após a ovulação.
- ▶ e) Fase folicular ou proliferativa.

- 23 - Gestante adolescente de 18 anos, G1 P0 com 15 semanas de gravidez, está na segunda consulta de pré-natal e veio à Unidade Básica de Saúde para realizar a atualização da vacinação. Considerando essas informações, qual vacina não será aplicada?
- ▶ a) Tríplice viral.
 - b) Difteria.
 - c) Hepatite B.
 - d) Tétano.
 - e) Influenza.
- 24 - Mulher de 23 anos comparece à Unidade Básica de Saúde queixando-se de corrimento com odor fétido, principalmente no período menstrual, associado a desconforto nas relações sexuais. Apresenta dispareunia e sinusiorragia frequentes. Ao exame especular, observa-se paredes vaginais íntegras e corrimento vaginal perolado bolhoso. Foi coletado material e realizado Teste de Whiff com resultado positivo. Considerando esse quadro clínico, o provável tipo de infecção, e seu agente causal e o tratamento corretos são, respectivamente:
- a) Infecção fúngica por *Candida albicans* e fluconazol 150 mg via oral dose única.
 - b) Infecção bacteriana por *Trichomonas vaginalis* e azitromicina 1 g via oral dose única.
 - ▶ c) Infecção bacteriana por *Gardnerella vaginalis* e metronidazol 500 mg via oral de 12/12 horas por 7 dias.
 - d) Infecção viral por Papilomavírus humano e creme vaginal de imiquimode à noite durante 7 noites.
 - e) Infecção fúngica por *Neisseria gonorrhoeae* e clindamicina 300 mg via oral de 12/12 horas por 5 dias.
- 25 - Paciente de 31 anos, casada, G1 P0 A1, IMC: 28,2 kg/m², com histórico há 1 ano de tireoidite subaguda viral, apresenta fogachos esporádicos noturnos e diurnos e não menstrua há 7 meses. Cirurgias prévias: curetagem uterina evacuadora. Realizou teste da progesterona com medroxiprogesterona 10 mg, sendo negativo. Na sequência, realizou teste com estímulo estrogênico e progestacional e apresentou sangramento por 3 dias. Exames laboratoriais hormonais: estradiol 30 pg/mL, FSH 52 mUI/mL, LH 28 mUI/mL, TSH 3,1 mUI/L, prolactina 25 ng/mL. A paciente não ficou contente com o diagnóstico que recebeu e após 35 dias realizou novos exames hormonais com os seguintes resultados: estradiol 27 pg/mL, FSH 65 mUI/mL, LH 35 mUI/mL, TSH 3,4 mUI/L, prolactina 28 ng/mL. A principal hipótese diagnóstica é:
- a) síndrome dos ovários policísticos.
 - b) amenorreia hipotalâmica.
 - c) hiperprolactinemia.
 - ▶ d) insuficiência ovariana primária.
 - e) Síndrome de Asherman.
- 26 - A benzilpenicilina benzatina é o medicamento de escolha para o tratamento de sífilis, sendo a única droga com eficácia documentada durante a gestação. O medicamento deve ser administrado por via intramuscular no músculo glúteo e, não sendo possível, apenas por via:
- a) intramuscular, no músculo deltoide.
 - ▶ b) intramuscular, no músculo vasto lateral da coxa.
 - c) oral, pela boca.
 - d) intramuscular, no músculo deltoide.
 - e) subcutânea, periumbilical.
- 27 - Gestante de 22 anos, G1 P0, com 10 semanas de gravidez e sem queixas, retorna para nova consulta de pré-natal e traz resultado do exame de urocultura positivo para *Streptococcus agalactiae* com 104 unidades formadoras de colônia (UFC). A bactéria é sensível a ampicilina, clindamicina e cefalexina. Considerando o caso apresentado, é correto afirmar:
- a) O diagnóstico é de bacteriúria assintomática, que deve ser tratada com um dos antibióticos sensíveis informados.
 - b) Uma nova urocultura deve ser solicitada em sete dias após o tratamento com o antibiótico sensível.
 - ▶ c) A paciente é considerada colonizada para *Streptococcus agalactiae* e deverá fazer profilaxia antibiótica quando estiver em trabalho de parto.
 - d) O médico deverá coletar swab vaginal e perianal quando a gravidez da paciente estiver entre 35 e 37 semanas.
 - e) O exame de urina apresenta contaminação e nova coleta deve ser feita para decisão de conduta subsequente.
- 28 - As relações do feto com a bacia materna e com o útero constituem a estática fetal. Sobre as relações uterofetais na gestação, a afirmação correta é:
- ▶ a) Uma apresentação cefálica pode ter uma posição esquerda.
 - b) Uma situação longitudinal pode ocorrer tanto em córmicos quanto em pélvicos.
 - c) Situação é a relação do dorso fetal com o lado materno.
 - d) Na apresentação cefálica defletida de 2º grau o ponto de referência fetal é o mento.
 - e) O ponto de reparo da apresentação fetal é o bregma.

29 - A endometriose peritoneal é uma doença crônica que afeta muitas mulheres no período reprodutivo. Sobre esse assunto, a alternativa correta é:

- a) Pode ser considerado diagnóstico definitivo quando a paciente responde ao tratamento clínico empírico.
- ▶ b) Pacientes com doença leve podem apresentar sintomatologia exuberante, por isso é que não se faz relação com sintomatologia e grau de desenvolvimento da patologia.
- c) O estrogênio não tem papel comprovado na evolução da doença, mas o sangramento menstrual aumentado é um dos seus principais sintomas.
- d) O contraceptivo hormonal combinado oral é o melhor tratamento clínico para paciente com enxaqueca com aura.
- e) A ressonância magnética da pelve com marcador tumoral CA-125 elevado é considerado padrão ouro de diagnóstico.

30 - Os progestógenos sintéticos, também conhecidos por progestagênios, são substâncias importantes na anticoncepção e tentam mimetizar o efeito da progesterona. Mudanças estruturais moleculares podem induzir diferenças consideráveis na atividade de cada um dos seus derivados. Assinale a alternativa que apresenta, correta e respectivamente, um composto que contém progestagênio derivado da 19-Nortestosterona com ação antiandrogênica e um composto derivado da 19-Norprogesterona.

- a) Gestodeno e clormadinona.
- b) Drospirenona e acetato de medroxiprogesterona.
- c) Ciproterona e clormadinona.
- d) Desogestrel e ciproterona.
- ▶ e) Dienogeste e nomegestrol.