


AUXILIAR ADMINISTRATIVO **LEIA ATENTAMENTE AS INSTRUÇÕES ABAIXO:**

- É responsabilidade exclusiva do candidato a conferência de seus dados pessoais, impressos no Cartão de Respostas e no Caderno de Provas, em especial o nome, o número de inscrição, o número de seu documento de identidade, cargo pleiteado, assim como, a marcação e assinatura do seu Cartão de Respostas.
- Verifique se este caderno de prova contém **40** questões. Com cinco alternativas identificadas pelas letras **A, B, C, D e E** das quais apenas uma será a resposta correta.
- Preencha o Cartão de Respostas da prova objetiva utilizando caneta esferográfica azul ou preta, ocupando totalmente o campo de marcação, ao lado dos números, que corresponde à resposta correta. Conforme ilustração:

- **Atenção:** Serão consideradas incorretas questões para as quais o candidato tenha preenchido no cartão resposta mais de uma opção, bem como questões em que o campo de marcação apresente rasuras, emendas ou que não esteja preenchido integralmente. Tenha muito cuidado para não danificar o código de barras utilizado na leitura óptica do Cartão de Respostas, por isso não **DOBRE, AMASSE ou MANCHE** o mesmo. O Cartão de Respostas será o único documento válido para a correção das provas objetivas, salvo à disposição do IDCAP.
- Os fiscais **NÃO** são autorizados a prestar informações de interpretação das questões. Sua função é apenas fiscalizar e orientar quanto ao funcionamento do certame.
- Ao concluir a prova, **entregue ao fiscal de sala o Cartão de Respostas da Prova Objetiva**, a não devolução implicará à eliminação sumária do candidato.
- **Assine a Lista De Presença, Cartão Resposta e transcreva a frase de segurança presente no Cartão Resposta da prova objetiva, sob pena de eliminação.**

 **NÃO SERÁ PERMITIDO:**

- Folhear o caderno de provas antes da autorização do fiscal. Caso aconteça, implicará na eliminação do candidato.
- Qualquer tipo de comunicação entre os candidatos durante a aplicação da prova.
- O uso de calculadoras, dicionários, telefones celulares, pen drive, fone de ouvido, relógio de qualquer espécie, recursos didáticos, aparelhos eletrônicos e bonés.
- A permanência de candidatos no local de realização das provas após o término e a entrega do Cartão de Respostas, devendo o candidato retirar-se imediatamente do local, não sendo possível nem mesmo a utilização dos banheiros e bebedouros.

 **TEMPO DE PROVA:**

- A prova objetiva terá duração máxima de **3h e 30 min (três horas e trinta minutos)**, incluído o tempo para preenchimento do Cartão de Respostas.
- O candidato somente poderá retirar-se do local de prova **após 1 (uma) hora de seu início**.
- O candidato poderá **levar o caderno de provas 1 (uma) hora antes de seu término**. Antes desse horário, será permitido ao candidato levar apenas o **RECORTE DO RODAPÉ DA CAPA DA PROVA** (parte que contém espaço para preenchimento do gabarito).
- Os 3 (três) últimos candidatos somente poderão retirar-se da sala de prova simultaneamente e devem fazê-lo após a assinatura da ata de sala.

1	6	11	16	21	26	31	36
2	7	12	17	22	27	32	37
3	8	13	18	23	28	33	38
4	9	14	19	24	29	34	39
5	10	15	20	25	30	35	40

RASCUNHO

Língua Portuguesa

Questão 01

(Correta: A)

Leia atentamente a sentença abaixo:

"O dirigente analisou o atleta e achou seu comportamento rebelde."

O termo destacado é:

- (A) Predicativo do objeto.
- (B) Adjunto adverbial de modo.
- (C) Objeto direto.
- (D) Adjunto adnominal.
- (E) Predicativo do sujeito.

Questão 02

(Correta: B)

Leia atentamente o período abaixo e assinale a análise correta do termo destacado:

De tão distante, as gotas de chuva pareciam fragmentos de cristal.

- (A) Predicativo do objeto direto.
- (B) Predicativo do sujeito.
- (C) Complemento nominal.
- (D) Adjunto adnominal.
- (E) Objeto direto.

Questão 03

(Correta: C)

Leia o seguinte trecho da música **Nem um dia** de Djavan:

Longe da felicidade

E todas as suas luzes

Te desejo como ao ar

Mais que tudo

És manhã na natureza das flores

Mesmo por toda riqueza

Dos sheiks árabes

Não te esquecerei um dia

Nem um dia

Espero com a força do pensamento

Recriar a luz que me trará você

A música faz uso de uma importante figura de linguagem marcada pela omissão de termos que mesmo que não tinham sido mencionados são de fácil percepção pelo interlocutor. Qual figura de linguagem é esta?

- (A) Silepse.
- (B) Metonímia.

- (C) Elipse.
- (D) Prosopopeia.
- (E) Catacrese.

Questão 04

(Correta: C)

Leia atentamente o seguinte período:

"O presidente e o vice de finanças do clube, jamais negaram a prioridade em pagar as dívidas da agremiação".

No período lido, a vírgula está mal colocada por separar:

- (A) a oração principal e a oração subordinada.
- (B) o sujeito e o objeto direto.
- (C) o sujeito e o predicado.
- (D) o predicado e o objeto direto.
- (E) o sujeito e o seu adjunto adnominal.

Questão 05

(Correta: A)

Na música Asa Branca, Luiz Gonzaga canta:

Quando olhei a terra ardendo

Qual fogueira de São João

Eu perguntei a Deus do céu, ai

Por que tamanha judiação?

Nesse trecho, qual figura de linguagem é utilizada para relacionar a terra com a fogueira de São João?

- (A) Comparação.
- (B) Metáfora.
- (C) Prosopopeia.
- (D) Metonímia.
- (E) Aliteração.

Questão 06

(Correta: E)

Observe os termos sublinhados/destacados no trecho abaixo:

Ronaldo ia ao ataque. Ia com a força de um touro.

Os termos são, respectivamente:

- (A) Adjunto adverbial de modo e adjunto adnominal.
- (B) Adjunto adverbial de lugar e adjunto adverbial de modo.
- (C) Adjunto adverbial de modo e objeto indireto.
- (D) Predicativo do sujeito e adjunto adnominal de modo.
- (E) Adjunto adverbial de lugar e complemento nominal.

Questão 07

(Correta: C)

O termo se exerce a função de um pronome apassivador em:

- (A) Precisa-se de um bom advogado.
- (B) Nada conseguiria, se não tivesse finanças organizadas.
- (C) Proibiram-se os celulares em sala de aula.
- (D) Assim se vai a Roma.
- (E) Eles se entenderam depois da reunião.

Questão 08

(Correta: D)

Leia atentamente o período a seguir:

Leonardo referiu o acidente a Coordenadora.

O termo a deve levar um acento gráfico grave, porque Coordenadora está exercendo a função de:

- (A) Adjunto adnominal preposicionado.
- (B) Objeto direto.
- (C) Sujeito.
- (D) Objeto indireto.
- (E) Adjunto adverbial de finalidade.

Questão 09

(Correta: D)

O termo em destaque exerce a função de sujeito em todas as alternativas, exceto em:

- (A) Quem sabe de que será capaz o sujeito ao ver os danos em seu carro?
- (B) É preciso que haja muita solidariedade com os familiares.
- (C) Raramente se vê o jogo desse altura nas arquibancadas.
- (D) Era somente um rapaz, jogado no banco da praça.
- (E) Amanheceu um dia nublado, e o evento foi cancelado.

Questão 10

(Correta: B)

Leia o período abaixo atentamente:

Não se sabe ao certo se ele será convocado ou não.

Os dois "se" que aparecem acima são empregados como:

- (A) Índice de indeterminação do sujeito - partícula de realce.
- (B) Partícula apassivadora - conjunção integrante.
- (C) Partícula apassivadora - pronome reflexivo, sujeito.
- (D) Partícula integrante do verbo - conjunção integrante.
- (E) Partícula integrante do verbo - conjunção condicional.

Raciocínio Lógico/Matemático

Questão 11

(Correta: E)

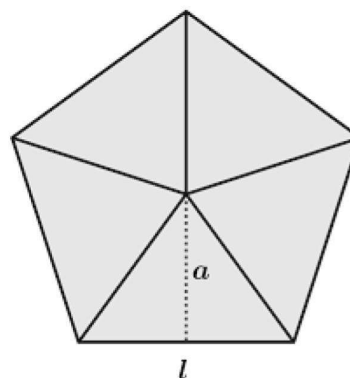
Um grupo de 18 estudantes está se organizando para participar de uma conferência e precisa escolher 2 representantes, mas 3 deles já disseram que não querem a função. Sendo assim, de quantas maneiras diferentes essa dupla pode ser formada?

- (A) De 98 maneiras diferentes.
- (B) De 204 maneiras diferentes.
- (C) De 80 maneiras diferentes.
- (D) De 150 maneiras diferentes.
- (E) De 105 maneiras diferentes.

Questão 12

(Correta: B)

O pentágono regular dado na imagem abaixo é a representação de um vitrô artesanal que Joaquim está fazendo.



Se o lado desse pentágono é $l = 80$ cm e o apótema é $a = 69$ cm, qual é a área total (A) do vitrô?

- (A) $A = 2,27$ m²
- (B) $A = 1,38$ m²
- (C) $A = 1,42$ m²
- (D) $A = 1,95$ m²
- (E) $A = 2,06$ m²

Questão 13

(Correta: C)

Em 3 dias de obra foram construídos 20% de um muro, então, em quantos dias ele estará completamente pronto?

- (A) Em 20 dias.
- (B) Em 12 dias.
- (C) Em 15 dias.
- (D) Em 17 dias.
- (E) Em 25 dias.

Questão 14

(Correta: B)

Karina comprou uma casa em duas parcelas semestrais com juros compostos de 7% ao semestre, que aumentaram o valor do imóvel em R\$26.951,40. Qual era o preço inicial desta casa?

- (A) O preço inicial da casa era de R\$134.000,00.
- (B) O preço inicial da casa era de R\$186.000,00.
- (C) O preço inicial da casa era de R\$195.500,00.
- (D) O preço inicial da casa era de R\$210.000,00.
- (E) O preço inicial da casa era de R\$217.680,00.

Questão 15

(Correta: A)

Considerando gastar um valor fixo de R\$2.500,00 com hospedagem e alimentação e uma variação de R\$1,50 por quilômetro, Bianca criou uma função para determinar o custo de uma viagem, sendo x a quilometragem rodada. Se o trajeto inicial era de 360 km, mas ela acabou rodando 420 km, qual foi a diferença entre o gasto planejado e o que ela realmente teve?

- (A) A diferença foi de R\$90,00.
- (B) A diferença foi de R\$162,50.
- (C) A diferença foi de R\$85,50.
- (D) A diferença foi de R\$89,00.
- (E) A diferença foi de R\$110,00.

Conhecimentos Gerais

Questão 16

(Correta: C)

O governo do estado do Espírito Santo esteve na Inglaterra e na Suíça entre os dias 18 e 22 de setembro para participar de encontros com representantes desses países, a fim de discutir os impactos de novos regulamentos para o comércio exterior e a abertura de novos mercados para um de nossos principais produtos, que é:

- (A) O papel celulose.
- (B) A rocha ornamental.
- (C) O café.
- (D) O minério de ferro.
- (E) O mamão.

Questão 17

(Correta: E)

Segundo o Plano de Carreira dos Servidores Públicos Municipais de Ibitirama/ES, para aquisição da estabilidade e da progressão horizontal faz-se obrigatória:

- (A) Apresentação de proposta que indique os objetivos do servidor com o exercício da sua função.
- (B) Aprovação em sabatina realizada pelos vereadores, após três anos de efetivo exercício.
- (C) A avaliação de desempenho em duas etapas: observação do exercício das funções e avaliação escrita.
- (D) Análise do desempenho no exercício da função, com aprovação do chefe do Poder Executivo.
- (E) A avaliação especial de desempenho por comissão instituída para esta finalidade e estabelecida em regulamento próprio.

Questão 18

(Correta: B)

A Lei Orgânica de Ibitirama/ES determina como poderes do Município, independentes e harmônicos entre si:

- (A) O legislativo, o executivo e o judiciário.
- (B) O legislativo e o executivo.
- (C) O legislativo, o executivo e o público.
- (D) O executivo e o público.
- (E) O executivo e o judiciário.

Questão 19

(Correta: A)

A atuação cada vez maior da inteligência artificial (IA) nos mais diversos setores e aspectos da vida humana vem sendo questionada até mesmo por profissionais especializados no seu desenvolvimento, que alertam para a necessidade de se impor um limite para o seu uso. No processo eleitoral brasileiro de 2022 pudemos acompanhar uma enxurrada de notícias falsas que circulavam confundindo o eleitor. Entre os itens abaixo citamos alguns dos problemas fomentados pelo uso indevido da IA.

- I.Segurança cibernética.
- II.Manipulação de mídia.
- III.Dependência tecnológica.
- IV.Isolamento social.
- V.Garantia de privacidade.

Analisando os itens dados, afirmamos que:

- (A) Apenas os itens II, III e IV estão corretos.
- (B) Apenas os itens I, II e III estão corretos.
- (C) Apenas os itens III, IV e V estão corretos.
- (D) Apenas os itens II, IV e V estão corretos.
- (E) Apenas os itens I, III e V estão corretos.

Questão 20

(Correta: B)

Para efeito da Lei Complementar nº 022/2019 que trata do Plano de Carreira dos Servidores Públicos Municipais

considera-se servidor:

- (A) Toda pessoa física que servir ao município de maneira voluntária.
- (B) Toda pessoa física legalmente investida em cargo ou emprego público de provimento efetivo ou em comissão.
- (C) Toda pessoa física ou jurídica que prestar serviços para o município.
- (D) Toda pessoa física legalmente investida em cargo ou emprego público de provimento efetivo, por meio de concurso de provas e títulos.
- (E) Toda pessoa física legalmente investida em cargo ou emprego público em comissão.

Questão 21

(Correta: C)

O Brasil vem sofrendo com intensas ondas de calor e, inclusive, atingindo temperaturas jamais vistas. Este evento climático já tinha sido previsto por especialistas que apontaram como seus principais fatores causadores:

- (A) As enchentes e o aquecimento global.
- (B) As tempestades e o aquecimento global.
- (C) O El Niño e o aquecimento global.
- (D) Os ciclones e o aquecimento global.
- (E) A La Niña e o aquecimento global.

Questão 22

(Correta: A)

Qual dos itens abaixo **NÃO** representa uma forma de provimento de cargo, segundo o Estatuto dos Servidores Públicos de Ibitirama/ES?

- (A) Promoção.
- (B) Reversão.
- (C) Nomeação.
- (D) Aproveitamento.
- (E) Readmissão.

Questão 23

(Correta: C)

Situada no sul do estado do Espírito Santo, Ibitirama faz parte da região do Caparaó capixaba e tem como principal agente geográfico o Pico da Bandeira. Qual é a característica que dá destaque a este pico?

- (A) É a montanha mais alta do Brasil.
- (B) É a quinta montanha mais alta do mundo.
- (C) É a terceira montanha mais alta do Brasil.
- (D) É a segunda montanha mais alta do Brasil.
- (E) É a montanha mais alta da América Latina.

Questão 24

(Correta: C)

De acordo com o Estatuto dos Servidores Públicos de Ibitirama/ES "exercício" é:

- (A) O ato de realizar alguma tarefa específica que não esteja relacionada ao cargo ou função que o servidor ocupa.
- (B) O ato pelo qual o servidor é considerado efetivado.
- (C) O ato pelo qual o servidor assume as atribuições do seu cargo.
- (D) O ato de realizar alguma tarefa específica relacionada ao cargo ou função que o servidor ocupa.
- (E) O ato de investidura em cargo público.

Questão 25

(Correta: A)

Conforme determina a Lei Orgânica de Ibitirama/ES, os vencimentos dos cargos do Poder Legislativo:

- (A) Não poderão ser superiores aos pagos pelo Poder Executivo.
- (B) Não poderão ser superiores aos pagos pelo Poder Judiciário.
- (C) Devem ser superiores aos pagos pelo Poder Executivo.
- (D) Devem ser superiores aos pagos pelo Poder Judiciário.
- (E) Podem ser superiores aos pagos pelo Poder Executivo.

Informática

Questão 26

(Correta: E)

Seguindo as informações da tabela abaixo no Excel.

	A	B	C	D	E	F	G
1	NOME	JAN	FEV	MAR	ABR	MAI	JUN
2	GONÇALVES	2,0	3,0	1,0	0,4	4,0	4,0
3	NASCIMENTO	3,0	1,0	2,0	0,5	2,0	0,5
4	ALVES	1,0	0,9	3,0	1,0	1,9	5,0
5	SILVA	0,5	0,6	4,0	2,0	3,0	2,0
6	PEREIRA	0,8	0,4	5,0	4,0	5,0	0,1
7	TOTAIS	7,3	5,9	15,0	7,9	15,9	11,6

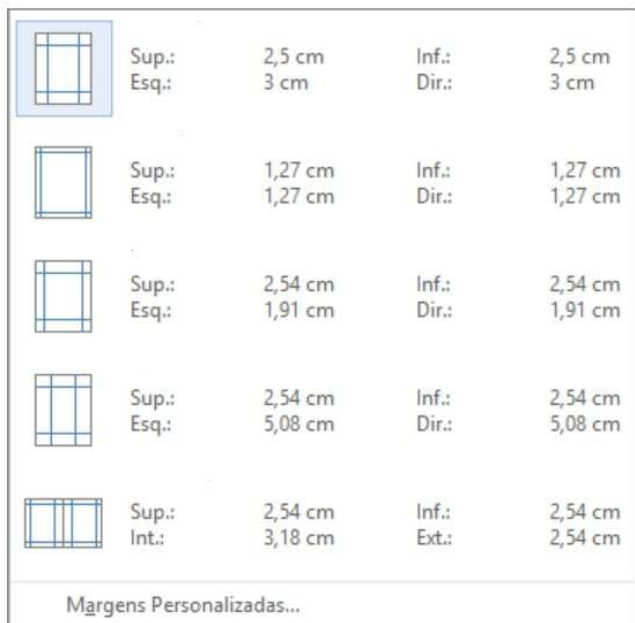
Marque a alternativa CORRETA para calcular a soma dos valores de NASCIMENTO E PEREIRA no mês de MAR (março).

- (A) =SOMA(D1:D7).
- (B) =SOMA(D2:D6).
- (C) =SOMA(D1+D6).
- (D) =SOMA(D1:D7).
- (E) =SOMA(D2+D6).

Questão 27

(Correta: A)

No Word na guia Layout tem a opção de tipos de Margens, conforme imagem abaixo:



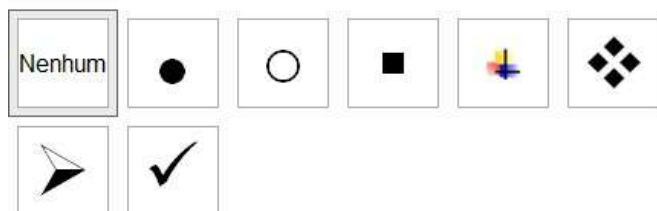
Seguindo a ordem de cima para baixo das opções de tipos Margens, marque a alternativa CORRETA.

- (A) Normal, Estreita, Moderada, Larga e Espelhada.
- (B) Espelhada, Larga, Moderada, Estreita e Normal.
- (C) Estreita, Normal, Moderada, Larga e Espelhada.
- (D) Moderada, Estreita, Normal, Larga e Espelhada.
- (E) Espelhada, Larga, Moderada, Normal e Estreita.

Questão 28

(Correta: A)

Dada a informação da imagem abaixo, da guia Página Inicial do Word.



Marque a alternativa CORRETA que as opções acima são correspondente a qual configuração no Word.

- (A) Marcadores.
- (B) Paginação.
- (C) Numeração.
- (D) Espaçamento.
- (E) Lista de Vários Níveis.

Questão 29

(Correta: D)

No Word seguindo a opção abaixo para criar uma tabela ao clicar em Inserir > Tabela e selecionar na grade.



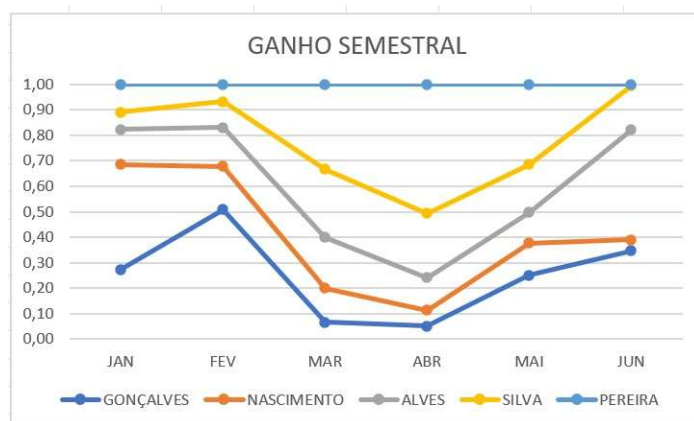
Marque a alternativa CORRETA que corresponde a quantidade de colunas e linhas a ser criada nessa tabela.

- (A) 10 (dez) colunas e 8 (oito) linhas.
- (B) 5 (cinco) colunas e 7 (sete) linhas.
- (C) 8 (oito) colunas e 7 (sete) linhas.
- (D) 7 (sete) colunas e 5 (cinco) linhas.
- (E) 3 (três) colunas e 3 (três) linhas.

Questão 30

(Correta: E)

Seguindo o gráfico abaixo criado no Excel.



Marque a alternativa CORRETA que corresponde ao tipo de gráfico acima.

- (A) Área 3D.
- (B) Área 2D.
- (C) Linhas 2D.
- (D) Linhas 3D.

(E) Linhas 100% Empilhadas com Marcadores.

Conhecimentos Específicos

Questão 31

(Correta: E)

A redação oficial é a maneira pela qual o Poder Público redige comunicações oficiais e atos normativos. O documento oficial para ser bem elaborado deve manter algumas características, assinale a característica que é essencial em toda correspondência oficial:

Fonte: Manual de redação da presidência da república.

- (A) Linguagem coloquial.
- (B) Linguagem conotativa.
- (C) Linguagem árida.
- (D) Termos técnicos e jargão burocráticos.
- (E) Padrão culto da língua portuguesa.

Questão 32

(Correta: D)

Julgue as asserções a seguir sobre qualidade no atendimento ao público e relação proposta entre elas:

I. Atendimento de qualidade é essencial no serviço público, incluem imparcialidade, ética e integridade, transparência, cordialidade, entre outros.

PORQUE

II. O servidor público representa o Estado no desempenho de suas funções e responsabilidades, realizam uma variedade de tarefas e serviços que são essenciais para o funcionamento adequado do governo e para atender às necessidades da sociedade.

A respeito dessas asserções, assinale a opção correta:

- (A) A asserção I é uma proposição falsa e a II é uma proposição verdadeira.
- (B) As asserções I e II são proposições falsas.
- (C) A asserção I é uma proposição verdadeira e a II é uma proposição falsa.
- (D) As asserções I e II são proposições verdadeiras e a II é uma justificativa correta da I.
- (E) As asserções I e II são proposições verdadeiras, mas a II não é uma justificativa correta da I.

Questão 33

(Correta: D)

A estrutura dos poderes da Administração Pública, foi criada há muito tempo pelo pensador francês chamado de Montesquieu e passou assim a caracterizar a República, tal como é no Brasil. Avalie as afirmações abaixo:

I. Poder Judiciário é o responsável por julgar crimes e também avaliar as leis, se elas são constitucionais ou não, isto é, se elas obedecem à Constituição Federal.

II. Poder Legislativo é aquele responsável somente por aplicar as leis e as políticas sociais.

III. Poder Executivo é aquele que se preocupa apenas em elaborar ou modificar as leis.

Fonte disponível em: < <https://escolakids.uol.com.br/geografia/o-estado-e-os-tres-poderes.htm> >

Está correto o que foi descrito em:

- (A) II e III.
- (B) II, apenas.
- (C) I, II e III.
- (D) I, apenas.
- (E) III, apenas.

Questão 34

(Correta: A)

O computador é capaz de realizar muitas tarefas, inúmeras, para o seu funcionamento é preciso que haja alguns componentes que são conhecidos como "hardware", são os componentes eletrônicos, mecânicos, elétricos, fios, cabos etc., formam a parte física do computador. Associe a segunda coluna de acordo com a primeira, que relaciona alguns exemplos de hardwares.

Primeira Coluna

1. Monitor.
2. Roteador.
3. Fones de Ouvido.
4. Impressora.

Segunda Coluna

(__) Dispositivo que permite a conexão de dispositivos à internet por meio de uma rede Wi-Fi.

(__) Hardware de saída de áudio que permite ouvir sons ou música sem a necessidade de alto-falantes.

(__) Exibe informações visuais para o usuário, permitindo a interação com o computador.

(__) Permite criar cópias físicas de documentos em papel.

Marque a opção que descreve corretamente a relação das colunas.

- (A) 2, 3, 1 e 4.
- (B) 3, 1, 4 e 2.
- (C) 2, 1, 4 e 3.
- (D) 1, 2, 3 e 4.
- (E) 4, 1, 2 e 3.

Questão 35

(Correta: D)

A República Federativa do Brasil, formada pela união indissolúvel dos Estados e Municípios e do Distrito Federal, constitui-se em Estado Democrático de Direito e tem como fundamentos, EXCETO:

Fonte: Constituição Federal.

- (A) A soberania.
- (B) A dignidade da pessoa humana.
- (C) O pluralismo político.
- (D) O particularismo político e público.
- (E) A cidadania.

Questão 36

(Correta: C)

Sobre qualidade no atendimento ao público, a imagem da instituição, a imagem profissional, sigilo e postura, avalie as afirmações a seguir e dê valores V, para verdadeiro, e F, para falso:

(__)São deveres fundamentais do servidor público exercer suas atribuições com rapidez, perfeição e rendimento, pondo fim ou procurando prioritariamente resolver situações procrastinatórias, principalmente diante de filas ou de qualquer outra espécie de atraso na prestação dos serviços pelo setor em que exerça suas atribuições, com o fim de evitar dano moral ao usuário.

(__)É vedado ao servidor público o uso do cargo ou função, facilidades, amizades, tempo, posição e influências, para obter qualquer favorecimento, para si ou para outrem.

(__)O trabalho desenvolvido pelo servidor público perante a comunidade deve ser entendido como acréscimo ao seu próprio bem-estar, já que, como cidadão, integrante da sociedade, o êxito desse trabalho pode ser considerado como seu maior patrimônio.

(__)É vedado ao servidor público abster-se, de forma absoluta, de exercer sua função, poder ou autoridade com finalidade estranha ao interesse público, mesmo que observando as formalidades legais e não cometendo qualquer violação expressa à lei.

Fonte: Decreto nº 1171/1994

Marque a alternativa com a ordem correta.

- (A) V, V, V e V.
- (B) V, F, V e F.
- (C) V, V, V e F.
- (D) F, F, F e F.
- (E) F, F, F e V.

Questão 37

(Correta: E)

São exemplos de órgãos da Administração direta, EXCETO:

Fonte disponível em: < [https://www.jusbrasil.com.br/artigos/](https://www.jusbrasil.com.br/artigos/o-que-e-administracao-direta-e-indireta/1263096094)

o-que-e-administracao-direta-e-indireta/1263096094>

- (A) Tribunal de Justiça.
- (B) Congresso Nacional.

- (C) Prefeitura.
- (D) Câmara dos Vereadores.
- (E) Bacen – Banco Central do Brasil.

Questão 38

(Correta: C)

Leia o texto sobre atos administrativos:

A Administração não é incumbida do ônus de provar a legalidade de seus atos e a existência da necessidade de sua prática. Este encargo cairia sobre destinatário do ato que tenha interesse em provar que a administração pública agiu de forma ilegítima. Este atributo, tem por objetivo garantir a rapidez e agilidade na execução dos atos administrativos.

Fonte disponível em: < <https://www.jusbrasil.com.br/artigos/elementos-do-ato-administrativo/346306469>>

Assinale a opção abaixo que corretamente está associada ao texto.

- (A) Imperatividade.
- (B) Forma.
- (C) Presunção de veracidade.
- (D) Tipicidade.
- (E) Autoexecutividade.

Questão 39

(Correta: C)

Segundo Marilena Leite Paes, conforme suas características, forma e conteúdo, os documentos podem ser classificados segundo o gênero e a natureza do assunto. Quanto a gênero os documentos podem ser, EXCETO:

Fonte: Paes, Marilena Leite – Arquivo Teoria e Prática – 3. Ed.

– Rio de Janeiro – Ed. FGV, 2004.

- (A) Iconográficos.
- (B) Informáticos.
- (C) Ostensivo.
- (D) Sonoros.
- (E) Escritos ou textuais.

Questão 40

(Correta: E)

São procedimentos auxiliares das licitações e das contratações regidas pela Lei nº 14.133/2021, analise as opções:

- I. Credenciamento.
- II. Pré-qualificação.
- III. Procedimento de manifestação de interesse.
- IV. Sistema de registro de preços.

V.Registro cadastral.

Após avaliar as opções citadas, assinale a opção que descreve corretamente quais são os procedimentos auxiliares das licitações e das contratações:

- (A) I e V.
- (B) I, II e III.
- (C) I, III e IV.
- (D) I e II.
- (E) I, II, III, IV e V.