

CONCURSO PÚBLICO - 01/2015



INSTITUTO
LEGATUS



011 - MOTORISTA "D"

LEIA ATENTAMENTE AS INSTRUÇÕES SEGUINTE

Informações ao candidato:

- Para a realização desta prova, você está recebendo este CADERNO DE QUESTÕES. No momento oportuno, lhe será entregue a sua FOLHA DE RESPOSTAS personalizada.
- Verifique se este CADERNO DE QUESTÕES corresponde à sua opção de cargo e possui 40 (quarenta) questões, numeradas de 01 a 40. Do contrário, solicite outro ao FISCAL, imediatamente. Não serão aceitas reclamações posteriores.
- Para cada questão existe apenas uma resposta correta, que deverá ser assinalada na FOLHA DE RESPOSTAS, com caneta esferográfica de tinta azul ou preta. Mais de uma resposta assinalada implica na anulação da questão.
- Você terá 04 (quatro) horas para responder a todas às questões e preencher a FOLHA DE RESPOSTAS.
- Nenhum candidato poderá sair da sala antes de decorridos 60 (sessenta) minutos do início da prova, ressalvados os casos de emergência médica.
- O PORTE de quaisquer fontes de consulta, aparelhos de comunicação - inclusive telefone celular - e/ou de registro de dados, no recinto da prova, a qualquer momento, caracteriza TENTATIVA DE FRAUDE, procedendo-se à retirada imediata do candidato e a sua ELIMINAÇÃO SUMÁRIA do concurso. Será igualmente excluído o candidato surpreendido em comunicação com outros candidatos.
- Ao concluir a prova, o candidato terá que devolver a FOLHA DE RESPOSTAS devidamente ASSINADA, bem como este CADERNO DE QUESTÕES. A não devolução de qualquer um deles implicará na eliminação do candidato.
- Os 03 (três) últimos candidatos a concluírem a prova deverão sair juntos e assinar em local apropriado na ATA DA PROVA. Não deixe de também assinar a LISTA DE FREQUÊNCIA.
- Este CADERNO DE QUESTÕES e o GABARITO OFICIAL serão divulgados em até 02 (dois) dias úteis após a aplicação desta prova, no endereço eletrônico www.institutolegatus.com.br, conforme Edital do Concurso.

PREFEITURA MUNICIPAL DE ANGICAL DO PIAUÍ
Concurso Público – 01/2015

01	02	03	04	05	06	07	08	09	10	11	12	13	14	15	16	17	18	19	20

21	22	23	24	25	26	27	28	29	30	31	32	33	34	35	36	37	38	39	40



www.institutolegatus.com.br

LÍNGUA PORTUGUESA**Texto para as questões de 01 a 06:****O pedestre também faz parte do trânsito**

(Débora Monteiro)

O pedestre também faz parte do trânsito e merece respeito. Por mais simples que seja esta afirmação, está claro que ela ainda não foi bem assimilada por toda a sociedade, que parece entender que quem caminha pelas ruas está lá só para atrasar o trajeto dos motoristas.

O pedestre, aliás, é o personagem do trânsito que ocupa o menor espaço, que menos polui e que é o mais vulnerável. Essas são características suficientes para exigir mais respeito e torcer para que mais pessoas ocupem o lugar de pedestre, desafogando o trânsito caótico que somos obrigados a vivenciar diariamente. É verdade que somos refém de uma desestrutura urbana que nos obriga a depender de um carro para nos locomover. Assim, aprendemos a dirigir, mas não aprendemos a respeitar.

Vale lembrar que não é só de direitos que vive o pedestre. A obrigação de atravessar na faixa ou na passarela é algo que pode fazê-lo perder alguns minutos, mas pode salvar sua vida. Enquanto motoristas, reclamamos do pedestre. Enquanto pedestre, reclamamos do motorista. Enquanto cidadãos, o que fazemos para melhorar nossa realidade? Reclamar nas redes sociais não muda a sociedade. Agir como cidadão consciente sim.

É importante observar o quanto o trânsito reflete a educação de uma sociedade. Quem já se viu pedestre nas cidades onde o respeito predomina, sabe o quanto é vergonhoso compararmos com a dinâmica do trânsito de cidades brasileiras, onde o pedestre não tem vez.

Em algumas culturas como a nossa, o ego do indivíduo está diretamente ligado ao modelo do automóvel que dirige, fazendo-o acreditar que se encontra em uma posição superior àquele que caminha pelas ruas. Não importa se você tem consciência cívica, caso você esteja no papel de pedestre, será inevitavelmente visto como alguém que não merece atenção dos demais integrantes do trânsito.

(Disponível em:

<http://www.opovo.com.br/app/fortaleza/2015/09/22/noticiafortaleza,3507841/cronica-o-pedestre-tambem-faz-parte-do-transito.shtml> Adaptado para fins didáticos.)

QUESTÃO 01

De acordo com as ideias defendidas no texto, o problema do trânsito está relacionado:

- (A) à falta de investimento do governo em infraestrutura
- (B) ao comportamento agressivo dos pedestres, que se arriscam para não se atrasarem.
- (C) à educação da sociedade.
- (D) às desigualdades sociais.
- (E) à valorização das coisas materiais, como o carro.

QUESTÃO 02

A autora afirma que “Assim, aprendemos a dirigir, mas não aprendemos a respeitar”. Com base nas ideias defendidas ao longo do texto, ao afirmar isso ela declara que:

- (A) *Dirigir e respeitar* assumem o mesmo valor semântico nesse trecho.
- (B) *Dirigir e respeitar* assumem valor semântico contrário nesse trecho.
- (C) *Dirigir e respeitar* são ações que devem acontecer simultaneamente no trânsito.
- (D) *Dirigir e respeitar* são ações que, no trânsito, não dependem uma da outra.
- (E) *Dirigir e respeitar* são ações contrárias, portanto impossíveis de acontecer de modo simultâneo no trânsito.

QUESTÃO 03

Analise o trecho abaixo:

“É importante observar o quanto o trânsito reflete a educação de uma sociedade. Quem já se viu pedestre nas cidades onde o respeito predomina, sabe o quanto é vergonhoso compararmos com a dinâmica do trânsito de cidades brasileiras, onde o pedestre não tem vez.”

A partir da afirmação acima, pode-se inferir que:

- (A) Em países cuja população é educada, os pedestres são respeitados.
- (B) Em todas as sociedades, o pedestre sofre desrespeitos que vêm daqueles que andam de carro.
- (C) Mesmo em países menos desenvolvidos que o Brasil, a dinâmica de trânsito permite o respeito ao pedestre.
- (D) O que impede o respeito aos pedestres no trânsito brasileiro é a dinâmica do trânsito de cidades brasileiras.
- (E) Em países desenvolvidos cuja população é educada o respeito ao pedestre não é frequente, com exceção do Brasil.

Trecho para as questões 04 e 05:

Vale lembrar que não é só de direitos que vive o pedestre.

QUESTÃO 04

No trecho acima, a autora reconhece que:

- (A) Os pedestres são mais vulneráveis, por isso merecem maior atenção.
- (B) O pedestre é o personagem do trânsito que ocupa o menor espaço, que menos polui e que é o mais vulnerável.
- (C) Se o pedestre é a parte mais vulnerável, ele deve ser tratado como prioridade.
- (D) Por serem mais vulneráveis, os pedestres têm “facilidades” previstas para eles, como as faixas de pedestres.
- (E) O pedestre é o mais vulnerável, mas também tem obrigação de seguir as regras de trânsito que lhe competem.

QUESTÃO 05

Assinale a única alternativa em que a palavra direito é empregada com o mesmo valor semântico que foi empregada no trecho em análise:

- (A) Nas vias de mão única, deve-se estacionar do lado direito.
- (B) João era um homem direito, mas, desnortado, fugiu ao atropelar a criança.
- (C) O Direito brasileiro prevê uma lei específica para regulamentar o trânsito.
- (D) Joao cometeu a infração, porque o guarda não o informou direito qual seria a via de mão dupla naquele local.
- (E) Todos os cidadãos têm direito de receber educação no trânsito.

QUESTÃO 06

“É importante observar o quanto o trânsito reflete a educação de uma sociedade”

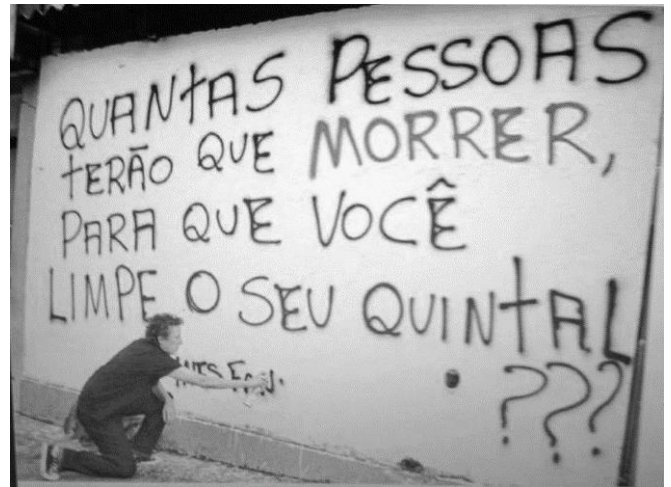
Assinale a alternativa que apresenta um sinônimo para o verbo refletir no trecho acima:

- (A) Desviar
- (B) Evidenciar
- (C) Reluzir
- (D) Afetar
- (E) Transmitir

Texto para as questões de 07 a 10:

Para apoiar a Campanha de combate à dengue “Limpa Geral”, Faneco, que é pipoqueira e organizadora de festas, pichou o muro de sua residência com a frase: “Quantas pessoas terão que morrer para que você limpe seu quintal?” Maria Inês teve o intuito de chamar a atenção da população local para colaborar com a campanha.

Segundo Faneco, na época da publicação, a matéria alcançou 43 mil compartilhamentos em sua página do Facebook. Em entrevista ao JCNNet, a bauruense disse estar contente com a divulgação de sua iniciativa também em outros estados. “É uma forma de as pessoas lerem sobre esse assunto e saberem que a dengue pode levar à morte”, disse.



(Disponível em: <http://www.jcnet.com.br.html> , acesso em 22 de dezembro de 2015)

QUESTÃO 07

No texto acima, percebe-se:

- (A) A indignação da moradora com os agentes públicos que não fazem seu trabalho.
- (B) A cobrança da população por práticas governamentais contra a dengue.
- (C) A tentativa da moradora de conscientizar a população sobre as políticas públicas contra a dengue.
- (D) A preocupação da moradora com a conscientização das pessoas em relação aos cuidados individuais contra a dengue.
- (E) A preocupação da moradora em alertar sobre os males que a dengue pode trazer à população.

QUESTÃO 08

Comparando as ideias do texto I e do texto II, podemos afirmar que há semelhanças entre eles quanto ao fato de:

- (A) Os enunciadores dos dois textos apostam intervenção do governo para a resolução dos problemas apresentados.
- (B) Os enunciadores dos dois textos apostam na educação e na conscientização para a resolução dos problemas apresentados.**
- (C) Os enunciadores dos dois textos utilizam o imperativo na construção de seus textos.
- (D) Os enunciadores dos dois textos indagam o leitor na busca de uma resposta coletiva.
- (E) Os enunciadores dos dois textos apostam nas campanhas sociais para a resolução dos problemas apresentados.

QUESTÃO 09

Analisando-se os aspectos gramaticais de pontuação, ortografia e de concordância verbal, assinale a alternativa que se mantém na norma padrão da língua:

- (A) Faneco, a pipoqueira e a organizadora de festas pichou o muro de sua residência.
- (B) Faneco e a pipoqueira e organizadora de festas pichou o muro de sua residência.
- (C) Faneco, que é pipoqueira, e a organizadora de festas, picharam o muro de sua residência.**
- (D) Faneco, que é pipoqueira e organizadora de festas, pincharam o muro de sua residência.
- (E) Faneco, pipoqueira e organizadora de festas, picharam o muro de sua residência.

QUESTÃO 10

Acerca da acentuação das palavras “residência” e “você”, apresentadas no texto acima, julgue os itens abaixo:

- I. “residência” é acentuada porque “i” e “a” formam hiato e “você” é acentuada porque é dissílaba terminada em “e”
- II. “residência” é acentuada porque termina é proparoxítona e “você” é acentuada porque é dissílaba terminada em “e”
- III. “residência” é acentuada porque é paroxítona terminada em ditongo e “você” é acentuada porque é oxítona terminada em “e”
- IV. Ambas são acentuadas com acento diferencial das paroxítonas e das oxítonas, respectivamente.
- V. Ambas são acentuadas porque são oxítonas terminadas em ditongo e em “e”.

Está correto o que se afirma em:

- (A) I
- (B) II
- (C) III**
- (D) IV
- (E) V

RACIOCÍNIO LÓGICO-MATEMÁTICO

QUESTÃO 11

Um escritório de contabilidade imprime cerca de 15 páginas por dia útil. Considerando que o ano possui 250 dias úteis, pode-se afirmar que o total de páginas impressas será:

- (A) 2.000
- (B) 2.500
- (C) 2.750
- (D) 3.500
- (E) 3.750**

QUESTÃO 12

Pedro confecciona canetas personalizadas com o nome da pessoa. O custo de produção de cada caneta é R\$ 8,50 e Pedro vende cada unidade a R\$ 15,00. Se Pedro vender 10 canetas, o seu lucro total será:

- (A) R\$ 50,00
- (B) R\$ 55,00
- (C) R\$ 65,00**
- (D) R\$ 70,00
- (E) R\$ 85,00

QUESTÃO 13

Ana pretende viajar nas férias para São Paulo. Para conseguir viajar, ela precisa juntar R\$ 1.200,00. O salário de Ana é R\$ 1.000,00 e ela só pode reservar mensalmente para a viagem 20% do seu salário. Em quantos meses Ana conseguirá realizar sua viagem?

- (A) 3 meses.
- (B) 4 meses.
- (C) 5 meses.
- (D) 6 meses.**
- (E) 7 meses.

QUESTÃO 14

Uma empresa procura um terreno em uma cidade para montar um negócio e precisa de um terreno com aproximadamente 100m². Qual dos terrenos abaixo seria o mais apropriado para a empresa se instalar?

- (A) 5m de largura x 8m de profundidade.
- (B) 9m de largura x 11m de profundidade.
- (C) 8m de largura x 10m de profundidade.
- (D) 9m de largura x 15m de profundidade.**
- (E) 7m de largura x 10m de profundidade.

QUESTÃO 15

Um supermercado está realizando uma promoção para os consumidores. A cada R\$ 100,00 em compras o cliente ganha um desconto de R\$ 5,00. Se um cliente fizer uma compra de R\$ 800,00 o desconto total será:

- (A) R\$ 40,00
- (B) R\$ 50,00
- (C) R\$ 60,00
- (D) R\$ 70,00
- (E) R\$ 80,00

ATUALIDADES**QUESTÃO 16**

Ao longo do último ano o governo federal tem criado várias medidas com o objetivo de reduzir os gastos. Um dos ajustes fiscais realizados na educação, no primeiro semestre de 2015, foi o corte de um programa de incentivo que visa ampliar o acesso ao ensino superior através do financiamento dos estudos nas faculdades particulares. Trata-se do programa conhecido como:

- (A) FIES
- (B) ENEM
- (C) FNDE
- (D) PROUNI
- (E) PRONATEC

QUESTÃO 17

Em junho de 2015 foi sancionada lei com as novas regras para ter acesso ao seguro-desemprego. Com essas mudanças nos benefícios trabalhistas, para obter o seguro-desemprego pela primeira vez (benefício concedido em caso de demissão sem justa causa), o trabalhador terá que ficar no emprego por, no mínimo:

- (A) 8 meses.
- (B) 10 meses.
- (C) 12 meses.
- (D) 16 meses.
- (E) 18 meses.

QUESTÃO 18

O ano de 2015 foi palco de diversas manifestações em todo o país contra as denúncias de corrupção do atual governo. Muitos brasileiros foram às ruas pedindo o impeachment da Presidenta Dilma Rousseff. Segundo a Constituição, caso ocorresse um impeachment da atual presidente, quem assumiria o cargo seria o atual vice-presidente, cujo nome é:

- (A) Gilberto Kassab.
- (B) Joaquim Barbosa.
- (C) Eduardo Cunha.
- (D) Michel Temer.
- (E) Joaquim Levy.

QUESTÃO 19

O rompimento da barragem de rejeitos da mineradora Samarco provocou uma destruição sem precedentes no Brasil. A lama tóxica arrastou casas da cidade de Mariana e provocou inúmeros danos ambientais. Os estados afetados por esse desastre ambiental, considerado um dos maiores do país, foram:

- (A) Minas Gerais e Espírito Santo.
- (B) Mato Grosso do Sul e Rio de Janeiro.
- (C) Minas Gerais e Goiás.
- (D) Rio de Janeiro e Espírito Santo.
- (E) São Paulo e Minas Gerais.

QUESTÃO 20

O Ministério da Saúde declarou estado de emergência em saúde pública no país por causa do aumento de casos de microcefalia no Nordeste. Segundo o Ministério da Saúde, a principal causa para o aumento dos casos de microcefalia é o zika vírus. A respeito do assunto, julgue os itens abaixo em verdadeiro (V) ou falso (F):

- () A microcefalia é caracterizada pelo o acúmulo de líquido dentro do crânio.
- () O vírus zika é transmitido por meio da picada do mosquito *Aedes aegypti*, também responsável pela transmissão da dengue.
- () Em dezembro de 2015 foi descoberta a cura para o zika vírus, porém a produção em larga escala da vacina só começará no segundo semestre de 2016.

A alternativa que apresenta a sequência correta é:

- (A) V V V
- (B) V F V
- (C) F V V
- (D) F F V
- (E) F V F

**CONHECIMENTOS GERAIS E
ESPECÍFICOS**

QUESTÃO 21

A imagem abaixo fez parte da Campanha “Faixa Viva” realizada em São Paulo:



Fonte: https://www.urbes.com.br/faixa_viva

Analisando o texto da imagem, pode-se afirmar que o objetivo da campanha era:

- I. Advertir os órgãos reguladores de trânsito quanto a falta de sinalização de faixas de pedestres nas vias.
- II. Conscientizar os condutores da preferência do pedestre numa faixa de travessia.
- III. Comunicar aos pedestres que os mesmos têm direito de atravessar em qualquer ponto da via.

Está(ão) correto(s):

- (A) Apenas I.
- (B) Apenas II.
- (C) Apenas III.
- (D) I e II.
- (E) II e III.

QUESTÃO 22

Julgue os itens abaixo em verdadeiro (V) ou falso (F). São situações em que o motorista deve utilizar o pisca-alerta do veículo:

- () Quando o veículo estiver parado no acostamento de uma rodovia.
 () Quando o carro apresentar defeito mecânico no meio da via.
 () Quando o trânsito estiver parando rapidamente por causa de um acidente.
 () Quando o veículo estiver em movimento com neblina ou chuva.

A sequência correta, de cima para baixo, é:

- (A) F F V V
 (B) F V V F
 (C) V F F V
 (D) V V V F
 (E) V V V V

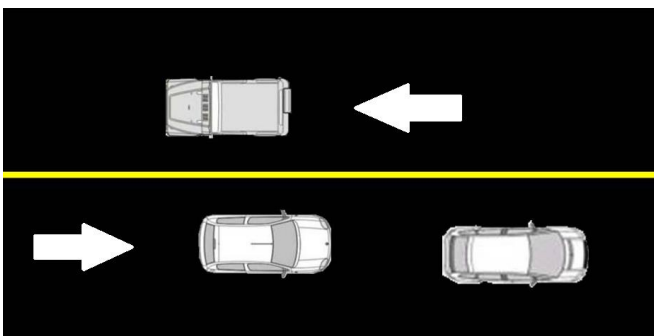
QUESTÃO 23

Para habilitar-se nas categorias D, E ou para conduzir veículo de transporte coletivo de passageiros, de escolares, de emergência ou de produto perigoso, o candidato deverá ser maior de:

- (A) 18 anos.
 (B) 20 anos.
 (C) 21 anos.
 (D) 22 anos.
 (E) 24 anos.

QUESTÃO 24

A imagem abaixo ilustra carros trafegando em sentidos opostos de uma via:



Pode-se afirmar que a linha de divisão do fluxo utilizada na via da figura acima é:

- (A) Faixa simples contínua, na cor branca.
 (B) Faixa simples contínua, na cor amarela.
 (C) Faixa simples seccionada, na cor branca.
 (D) Faixa simples seccionada, na cor amarela.
 (E) Faixa dupla seccionada, na cor amarela.

QUESTÃO 25

Segundo o Código de Trânsito Brasileiro, constitui infração gravíssima:

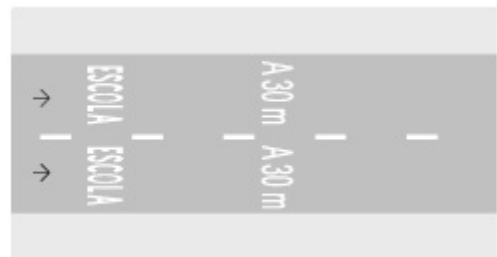
- I. Condutor ou passageiro deixar de usar o cinto de segurança.
- II. Dirigir o veículo sem possuir Carteira Nacional de Habilitação.
- III. Transitar com o veículo em calçadas, passeios, passarelas, ciclovias e acostamentos.

Está(ão) correto(s):

- (A) Apenas I.
 (B) Apenas II.
 (C) Apenas III.
 (D) I e II.
 (E) II e III.

QUESTÃO 26

O Código de Trânsito Brasileiro define sinalização de trânsito como sendo um conjunto de sinais de trânsito e dispositivos de segurança colocados na via pública com o objetivo de garantir sua utilização adequada, possibilitando melhor fluidez no trânsito e maior segurança dos veículos e pedestres que nela circulam. A figura abaixo apresenta um dos sinais de trânsito classificado como:



- (A) Auxiliar.
 (B) Demarcado.
 (C) Vertical.
 (D) Horizontal.
 (E) Fixado.

QUESTÃO 27

Segundo o Código de Trânsito Brasileiro, é proibido o uso da buzina (exceto para fazer advertências a fim de evitar acidentes) no seguinte horário:

- (A) 05h00
 (B) 11h00
 (C) 15h30
 (D) 20h00
 (E) 21h30

QUESTÃO 28

A placa abaixo indica a velocidade máxima permitida na via. Um condutor que transitava pela via não observou as placas de sinalização e passou pelo radar de fiscalização com a velocidade de 68 km/h. Pode-se afirmar que o condutor será multado com infração:



- (A) regular.
- (B) leve.
- (C) média.
- (D) grave.
- (E) gravíssima.

QUESTÃO 29

Analise a imagem abaixo e assinale a alternativa que apresenta o conceito correto de distância de seguimento:



- (A) É aquela que o motorista deve manter entre o seu veículo e o que vai à frente, de forma que possa parar, mesmo numa emergência, sem colidir com a traseira do outro.
- (B) É aquela que o veículo percorre, desde o momento que o perigo é visto, até o momento em que o motorista pisa no freio.
- (C) É aquela que o veículo percorre depois do motorista pisar no freio até o momento total da parada.
- (D) É aquela que o veículo percorre desde o momento em que o motorista vê o perigo e decide parar, até a parada total do veículo, ficando a uma distância segura do outro veículo.
- (E) É aquela que o veículo percorre entre o acionamento do mecanismo de freio até a parada efetiva do veículo.

QUESTÃO 30

A figura abaixo mostra uma placa de sinalização indicando uma passagem de nível sem barreira. Assinale a alternativa que define o conceito de passagem de nível, segundo o Código de Trânsito Brasileiro:



A-39 — Passagem de nível sem barreira

- (A) É o movimento de passagem à frente de outro veículo que se desloca no mesmo sentido, em menor velocidade, mas em faixas distintas da via.
- (B) É uma obra de arte destinada à transposição de vias, em desnível aéreo, e ao uso de pedestres.
- (C) É parte da calçada ou da pista de rolamento destinada à circulação exclusiva de pedestres e, excepcionalmente, de ciclistas.
- (D) É uma obra de arte destinada à transposição de vias, em desnível subterrâneo, e ao uso de pedestres ou veículos.
- (E) É todo cruzamento de nível entre uma via e uma linha férrea ou trilho de bonde com pista própria.

QUESTÃO 31

A placa de advertência A-42b abaixo significa:



- (A) Pista escorregadia.
- (B) Fim de pista dupla.
- (C) Sentido duplo.
- (D) Passagem obrigatória.
- (E) Área com desmoronamento.

QUESTÃO 32

Segundo o Código de Trânsito Brasileiro, a distância mínima, a contar da esquina, para a parada e o estacionamento de veículos é _____ metros. Por outro lado, a distância lateral da guia da calçada ao veículo é de no máximo _____ centímetros. Assinale a alternativa que preenche, correta e respectivamente, as lacunas em branco:

- (A) 3 e 50
- (B) 4 e 50
- (C) 4 e 80
- (D) 5 e 50**
- (E) 5 e 80

QUESTÃO 33

Analise os itens abaixo sobre a correta identificação de veículos:



- I. Os veículos de duas ou três rodas são dispensados da placa dianteira.
- II. É obrigatório a identificação do veículo através de caracteres gravados no chassi ou no monobloco.
- III. É permitido o reaproveitamento da placa de um veículo em alguns casos excepcionais.

Está(ão) correto(s):

- (A) Apenas I.
- (B) Apenas II.
- (C) I e II.**
- (D) II e III.
- (E) I, II e III.

QUESTÃO 34

A placa de regulamentação R-2 (Dê a preferência) determina ao condutor que dê a preferência ao veículo que transita na via em que vai entrar, reduzindo a velocidade ou parando o veículo, quando necessário. A alternativa que apresenta a figura correta dessa placa é:

- (A) 
- (B) 
- (C) 
- (D) 
- (E) 

QUESTÃO 35

Qual das situações abaixo descritas não permite a condução de veículos motorizados com lotação inferior a oito lugares?

- (A) Condutor habilitado na categoria A.**
- (B) Condutor habilitado na categoria B há 2 anos.
- (C) Condutor habilitado na categoria C há 1 ano.
- (D) Condutor habilitado na categoria D.
- (E) Condutor habilitado na categoria E.

QUESTÃO 36

Nas rodovias, onde não existir sinalização regulamentadora, a velocidade máxima permitida para automóveis, camionetas e motocicletas é:

- (A) 80 km/h.
- (B) 90 km/h.
- (C) 100 km/h.
- (D) 110 km/h.**
- (E) 120 km/h.

QUESTÃO 37

Analise os itens abaixo sobre as condições adversas no trânsito:

- I. O ofuscamento pode acontecer devido ao farol alto de um veículo vindo em sentido contrário.
- II. Na aquaplanagem deve-se evitar frear bruscamente e movimentar a direção de forma brusca.
- III. A possibilidade de um veículo mais leve aquaplanar é menor do que em veículos mais pesados.

Está(ão) correto(s):

- (A) Apenas I.
- (B) Apenas II.
- (C) I e II.**
- (D) II e III.
- (E) I, II e III.

QUESTÃO 38

Sobre as ações corretas a serem tomadas em casos de acidentes de trânsito, julgue os itens abaixo em verdadeiro (V) ou falso (F):

- () O capacete do motociclista acidentado deve ser retirado da cabeça imediatamente após o acidente.
- () Se a vítima estiver inconsciente é preciso movimentá-la rapidamente até que recobre a consciência.
- () Em caso de hemorragias externas, pode-se fazer uma compressão no local do ferimento com gaze e pano limpo.
- () Em caso de queimaduras, a atitude correta é cobrir a ferida do acidentado com gaze.

A sequência correta, de cima para baixo, é:

- (A) V V F V
- (B) V V F F
- (C) F V F V
- (D) F F F V
- (E) F F V F**

QUESTÃO 39

Angical do Piauí foi elevado à categoria de município na data de:

- (A) 22 de julho de 1954.
- (B) 22 de julho de 1955.
- (C) 23 de julho de 1956.
- (D) 24 de julho de 1954.**
- (E) 24 de julho de 1955.

QUESTÃO 40

Segundo o IBGE (Instituto Brasileiro de Geografia e Estatística), as maiores produções agrícolas de lavoura temporária no município de Angical do Piauí, as quais possuem quantidade significativa de produção, são:

- (A) Fava e Feijão.
- (B) Milho e Mandioca.**
- (C) Cana-de-açúcar e Soja.
- (D) Arroz e Melancia.
- (E) Batata-doce e Tomate.