

# Caderno de Questões

**UNICAMP** 2002



vestibular nacional

**A Unicamp  
comenta  
suas provas**



**banespa**   
Universidades



**UNICAMP**  
PRÓ-RETORIA DE GRADUAÇÃO  
COMISSÃO PERMANENTE  
PARA OS VESTIBULARES



# Geografia



UNICAMP  
PRÓ-REITORIA DE GRADUAÇÃO  
COMISSÃO PERMANENTE PARA OS VESTIBULARES

banespa   
Universidades

## A prova

Esta prova procurou avaliar os conhecimentos dos candidatos referentes aos conteúdos básicos da Geografia do ensino médio, sem perder de vista que a Geografia permite chegar a uma compreensão do mundo contemporâneo e dos processos relacionados às formas de apropriação do espaço geográfico pelas diferentes sociedades. O espaço geográfico e o território são fundamentais na forma de organização e desenvolvimento das diferentes sociedades. As características específicas de cada lugar dependem de como a sociedade interage com o território e este por sua vez contribui para a vida em sociedade a partir de sua configuração. Assim, esta prova procurou verificar o conhecimento desses processos que interagindo com o espaço geográfico, produzem os lugares habitados pelas diferentes coletividades humanas, tanto em nível mundial como em relação ao Brasil. As atividades agrícolas, o comércio internacional, a chamada globalização econômica, a diversidade mundial no acesso e uso da Internet, os conflitos político-religiosos, a geopolítica, a biodiversidade relacionada ao desenvolvimento e uso da biotecnologia, a dinâmica da natureza, os problemas relacionados à preservação dos recursos naturais e o crescimento urbano foram alguns dos assuntos tratados nesta prova.

## Questão 13

Os versos abaixo são da canção “Sobradinho”, composta por Sá & Guarabira nos anos 70. Leia-os atentamente para responder à próxima questão:

*“O homem chega, já desfaz a natureza  
Tira gente põe represa, diz que tudo vai mudar [...]  
Vai ter barragem no salto do Sobradinho  
o povo vai-se embora com medo de se afogar,  
o sertão vai virar mar, dá no coração  
o medo que algum dia o mar também vire sertão”*

- A que bacia hidrográfica brasileira referem-se os versos dessa canção?
- Após a construção da barragem de Sobradinho, quais foram as atividades agrícolas implementadas nas suas proximidades?
- Qual foi o movimento sociopolítico ocorrido no final do século XIX, no interior da Bahia, a que os versos fazem alusão quando dizem *o sertão vai virar mar [...]*?

## Resposta esperada

- Os versos referem-se à barragem de Sobradinho, situada na bacia do Rio São Francisco. (1 ponto)
- Nas áreas próximas à represa predomina a fruticultura irrigada, caracterizada principalmente pela uva tipo Itália, manga e maracujá. A produção agrícola é quase totalmente exportada para os países europeus, representando importantes divisas para a balança comercial brasileira. (3 pontos)
- Os versos citados referem-se às palavras de Antônio Conselheiro, líder da Revolta de Canudos, ocorrida no sertão da Bahia. (A revolta foi duramente combatida pelo governo militar da primeira república, pois segundo as autoridades da época, fazia a apologia da monarquia.) (1 ponto)

## Comentários

A questão apresentou relativa facilidade, uma vez que contemplou informações presentes muitas vezes na mídia e associou conteúdos históricos a dados disponíveis em poesia musicada. A maioria dos candidatos respondeu corretamente principalmente nos itens a e c.

## Exemplo acima da média

O candidato respondeu a questão corretamente em todos os itens. No item a, nomeou de maneira exata e objetiva a bacia hidrográfica esperada. No item b, apontou com exemplos completos, as atividades agrícolas predominantes na área, destacando inclusive o destino de sua produção (foram poucos os candidatos que apresentaram essa informação). A resposta dada ao item c se caracteriza pela mesma objetividade.

a) Os versos dessa canção referem-se à Bacia do São Francisco.

b) Após a construção da barragem de Sobradinho, foram implementadas as culturas de frutas irrigadas, como uva, melão, espin, dentre outras, destinadas em grande parte para a exportação.

c) Os versos fazem alusão à Guerra de Canudos.

## Exemplo abaixo da média

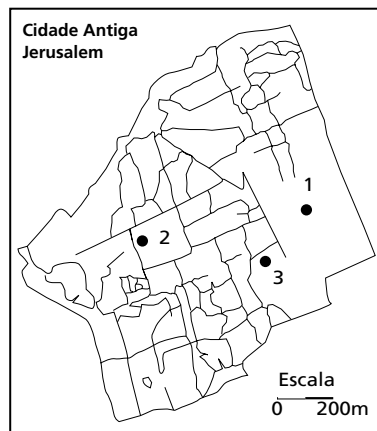
O exemplo demonstra que o candidato, seguindo a tendência da maioria, respondeu corretamente ao item a, citando a bacia do rio São Francisco. No entanto, no item b, citou tipos de agricultura comuns a muitas outras áreas do país, mas que não são as mais importantes em termos econômicos, dentre as que se desenvolveram próximo à barragem do Sobradinho. No item c, o candidato por desconhecer a resposta exata, procurou caracterizar uma situação comum aos processos de construção de barragens, o que não se constitui no fato histórico mais relevante ocorrido naquela região no final do século XIX.

- a) *Bacia do Rio São Francisco*  
 b) *Cultivo de arroz, milho e soja.*  
 c) *A construção da represa no Rio São Francisco, que ocasionou a mudança de local de alguns povoados que situavam-se em regiões que viriam a alagar.*

## Questão 14

Leia atentamente o texto a seguir e analise o mapa apresentado.

Desde meados dos anos 60, o Oriente Médio tem sido palco de inúmeras guerras e dezenas de atentados, resultantes das lutas pela delimitação de territórios israelenses e palestinos. As recentes reuniões de cúpula em Camp David (EUA) têm gerado alguns avanços nas negociações entre esses povos.



- 1-Monte do Templo  
 2-Igreja do Santo Sepulcro  
 3-Muro das Lamentações

- a) **Que território está sendo utilizado atualmente como sede provisória da Autoridade Palestina?**  
 b) **Com base no mapa, responda como está distribuído o espaço religioso na área urbana de Jerusalém**

## Resposta esperada

- a) O território provisório da Autoridade Palestina localiza-se na Faixa de Gaza.  
 ( 1 ponto)  
 b) Na cidade antiga de Jerusalém convivem as 3 grandes religiões monoteístas: cristianismo, judaísmo e islamismo. Para cada uma destas religiões, há um local sagrado:  
 1 - Monte do Templo ( muçulmanos)  
 2 - Igreja do Santo Sepulcro ( cristãos)  
 3 - Muro das Lamentações ( judeus)  
 ( 4 pontos )

## Comentários

Embora relacionada a um problema geopolítico de grande importância atual e extensamente divulgado pelos meios de comunicação, esta questão foi considerada uma das mais difíceis. A dificuldade maior foi a análise do mapa e a identificação dos três locais como ícones religiosos associados com áreas em que predominaram as respectivas religiões na cidade antiga de Jerusalém.

A resposta apresentada pelo candidato contém os elementos necessários exigidos pela questão. No item a, a resposta é objetiva e está correta.. No item b, o candidato mostra desenvoltura na redação e associa corretamente os ícones religiosos às religiões correspondentes, apresentando inclusive dados históricos relevantes.

Exemplo acima da média

a) O território é a Faixa de Gaza que apesar de ter sido anexada por Israel, possui maioria palestina residindo na região.

b) Jerusalém é sagrada para muçulmanos, judeus e cristãos. Os palestinos reivindicam a parte oriental de Jerusalém como capital de seu futuro estado, esse uso não agrada a Israel, pois considera Jerusalém sua "capital" e terra é indivisível.

No mapa podemos observar 3 lugares sagrados: o Monte do Templo (ou Santuário Noble para os árabes) é importante para judeus e muçulmanos; a Igreja do Santo Sepulcro, importante para os cristãos; o Muro das Lamentações, foi o que sobrou após um ataque do Império Romano, e é importante para os judeus.

Adanto, o que há no local são diferenças culturais, étnicas e religiosas que atacam as relações de paz.

Outra boa resposta, diferente da anterior no que se refere ao item b. Aqui, o candidato além de associar corretamente os ícones do mapa às respectivas religiões, informa também sobre a distribuição espacial desses símbolos na cidade, utilizando como referência alguns pontos cardeais.

Exemplo acima da média

a) A Autoridade Palestina tem como sede provisória o território da Faixa de Gaza.

b) As maiores religiões monoteístas do mundo convivem no espaço urbano da cidade antiga de Jerusalém, por considerarem certas locais dela sagradas. Assim, cristãos concentram-se em sua parte central, onde localiza-se o Santo Sepulcro. Judeus estão mais voltados para a porção sudoeste-leste, onde está o Muro das Lamentações e onde ficava o Templo de Jerusalém. Muçulmanos estão mais no leste da cidade antiga.

Aqui, o candidato cometeu erros que o impossibilitaram de atingir a média necessária. No item a, apresenta como resposta a Cisjordânia, incorreta. Este erro foi um dos mais frequentes em toda a prova, pois muitos candidatos confundiram a região da Cisjordânia, situada no centro de Israel, com a Faixa de Gaza, definida politicamente no litoral desse país. No item b, o candidato equivocou-se quando atribuiu o Muro das Lamentações aos muçulmanos e o Monte do Templo aos judeus.

Exemplo abaixo da média

a) O território que está sendo usado provisoriamente é a região de Israel, mais precisamente a região da Cisjordânia.

b) A área urbana de Jerusalém está dividida por três religiões. Esse é um dos principais motivos para a ocorrência de guerras nesse local. O monte do Templo (1) pertence aos judeus, Igreja do Santo Sepulcro (2) aos católicos e o Muro das Lamentações (3) aos árabes.

## Questão 15

As áreas desérticas constituem importantes ecossistemas terrestres. A costa oeste da América do Sul e a costa sudoeste da África apresentam desertos que têm em comum o fato de possuírem climas relacionados às características das correntes marítimas dos litorais situados nas proximidades. Com referência às idéias expostas, responda:

- Quais são os desertos a que se refere o texto ?
- Como as correntes marítimas contribuem para a ocorrência de baixa pluviosidade nesses desertos?

## Resposta esperada

- Na costa oeste da América do Sul, está situado o Deserto de Atacama. Na costa sudoeste da África encontra-se o Deserto da Namíbia ou Kalaari.  
(2 pontos)
- As correntes marítimas de Humboldt, no Oceano Pacífico e de Benguela, no Atlântico, têm em comum o fato de possuírem baixas temperaturas, portanto são correntes frias. Ao atingirem os litorais situados nas proximidades daqueles desertos, provocam um rebaixamento da temperatura das massas de ar úmidas que estão sobre o oceano, fazendo com que as chuvas se concentrem no mar. Estas massas já resfriadas dirigem-se aos continentes com baixíssimo teor de umidade, provocando apenas grandes nevoeiros sobre os desertos.  
(3 pontos)

## Comentários

Esta questão exigiu do candidato conhecimentos dos biomas terrestres ao nível global, relacionando a origem de importantes desertos à dinâmica de oceanos e aos climas regionais.

## Exemplo acima da média

Neste exemplo de resposta, no item **a**, o candidato associou corretamente o nome dos desertos aos respectivos continentes. Este item apresentou facilidade para a elaboração das respostas dos candidatos. No item **b**, o candidato também respondeu corretamente, associando as características térmicas das correntes marítimas às massas de ar e relacionando-as à baixa precipitação que origina tais desertos.

a) OS DESERTOS SÃO: O DESERTO DE ATACAMA NA COSTA OESTE DA AMÉRICA DO SUL, E KALAARI NA ÁFRICA SUDOESTE.

b) AS CORRENTES MARÍTIMAS FRIAS, SÃO FAZEM COM QUE AS MASSAS DE AR VINDAS DO OCEANO EM DIREÇÃO AO CONTINENTE SE RESFRIEM E PRECIPITAM ANTES DE CHEGAR NO CONTINENTE. POR ISSO DIMINUI A PRECIPITAÇÃO NOS DESERTOS, JÁ QUE A MASSA DAS MASSAS ESTÃO SECA.

## Exemplo abaixo da média

O candidato respondeu incorretamente nos dois itens da questão. No item **a** citou duas regiões situadas nos continentes mencionados na questão, mas a primeira não corresponde especificamente a um deserto (Patagônia) e a outra não se situa na porção sudoeste da África (deserto do Saara). No item **b**, o candidato confunde correntes marítimas com massas de ar, ao caracterizá-las como "pouco úmidas e quentes". Também não responde claramente, por que a precipitação diminui nos desertos mencionados na questão.

a) O deserto da Patagônia e o deserto do Saara

b) As correntes marítimas que chegam a essas regiões são pouco úmidas e quentes. A pouca umidade se deve ao fato de elas terem se descarregado junto ao litoral nas chuvas orográficas. As correntes sendo quentes e secas impedem a pluviosidade.

## Questão 16

As migrações populacionais sempre exerceram um importante papel na organização do espaço brasileiro, como ocorreu nas décadas de 70 e 80, quando agricultores do sul do país deixaram pequenas propriedades em busca de novas fronteiras agrícolas para o plantio de grãos, principalmente no Mato Grosso do Sul. Como consequência da ocupação dessa região do país, o cerrado sofreu intensa devastação, a ponto de atualmente estar em vias de extinção.

- Quais foram os principais fatores responsáveis pela migração desses pequenos agricultores?
- Identifique a unidade de relevo em que se instalaram esses pequenos agricultores e aponte uma característica dessa unidade que tenha favorecido a expansão agrícola.
- Analise as consequências do tipo de agricultura aí desenvolvido na dinâmica das águas do Pantanal Matogrossense.

## Resposta esperada

- A necessidade de capital para a modernização da atividade agrícola e a falta de subsídio ao pequeno agricultor do Sul decorrente de uma política agrícola que não favorece a pequena produção, levam ao endividamento o agricultor que se defronta com a política de juros altos, e com as dificuldades da colheita e da comercialização dos produtos. Este processo corresponde ao processo mais geral de concentração na estrutura fundiária. Os grandes proprietários se beneficiam, comprando barato a pequena propriedade, ou simplesmente ficando com ela em troca da dívida. O incentivo governamental dado à região Centro-Oeste (Prodecet e Polocentro) também estimulou esta migração.  
(1 ponto)
- A unidade de relevo regional onde se instalaram os agricultores gaúchos, principalmente no MS, é o Planalto Central do Brasil e uma das principais características deste tipo de planalto são as baixas declividades, com grandes superfícies planas ou suavemente onduladas, que favorecem a agricultura mecanizada.  
(2 pontos)
- A expansão agrícola ocorrida no centro-oeste brasileiro caracterizou-se pela substituição do cerrado por monoculturas de soja, trigo e arroz. Como consequência, iniciou-se um processo erosivo nas altas bacias dos rios Taquari e Coxim, formadoras do Pantanal Matogrossense ocasionando intensa retirada de solo. A erosão dessas áreas provocou um forte assoreamento dos rios, responsável pela diminuição da profundidade dos canais fluviais e pelo aumento na carga de sedimentos transportados por estes rios, o que resultou na elevação do nível das enchentes no Pantanal.  
(2 pontos)

## Comentários

Tratava-se de uma questão relativamente mais difícil que as demais. Exigiu dos candidatos um conhecimento geográfico integrado da região centro-oeste do país, tanto no nível geopolítico como físico-geográfico, uma vez que associava as migrações e a geografia rural ao relevo e à hidrografia dessa parte do país.

## Exemplo acima da média

A resposta apresentada pelo candidato está correta nos três itens da questão. No item a mencionavam-se dois fatores importantes que provocaram o deslocamento dos agricultores do sul, ou seja, a expansão dos latifúndios e os incentivos governamentais para a ocupação do centro-oeste. No item b, o candidato cita o Planalto Central e indica a baixa inclinação do relevo como fator que facilitou a expansão agrícola. O item c traz, na resposta, os impactos que têm comprometido o ecossistema do pantanal, como por exemplo a erosão das áreas agrícolas e o assoreamento dos principais rios da planície pantaneira.

- A) Como Fatores responsáveis por esse deslocamento podemos citar: os pequenos proprietários tiveram suas terras "engolidas" pelos grandes latifundiários o governo deu incentivos a esses colonizadores do Brasil central.
- B) Planalto Central, o desenvolvimento agrícola foi beneficiado por essa região ser extremamente plana e recoberta por gramíneas o que facilitou a expansão do gado.
- C) A agricultura desenvolvida na região que utiliza o método da queimada, uso do solo, busca de nova região, tem causado um grande desmatamento da cobertura vegetal levando a erosão. A erosão causa o assoreamento dos rios que passam a ter uma menor profundidade trazendo consequências para toda a fauna e a flora dependentes do rio.

O candidato confunde conceitos de relevo e não apresenta exemplos de impacto característicos das áreas agrícolas do centro-oeste. No item a, o candidato não apresenta de forma objetiva os fatores responsáveis pela migração, citando razões genéricas e incorretas como resposta. Quanto ao item b, o candidato confunde (como a grande maioria dos vestibulandos) o Planalto Central com a Planície do Pantanal, utilizando como característica que teria favorecido a expansão agrícola a existência de solos férteis de planície, o que também não está correto. No item c, a resposta foge totalmente ao enunciado da questão.

Exemplo abaixo da média

- a) As crises que agravaram a situação econômica no país ~~para~~ <sup>foram</sup> as frentes agrícolas, o que fez com que muitas agriculturas mudassem de regiões; a escassez de produtos agrícolas do sul foi um aspecto fortíssimo
- b) as agriculturas se instalaram em grandes planícies, as planícies possuem solos férteis e abrigam muitos tipos de plantações
- c) os dutos irrigados foram muito favorecidos pelo curso das águas

## Questão 17

Jon Erickson, em *Nosso planeta está morrendo – a extinção das espécies e a biodiversidade*, afirma que a biodiversidade constitui hoje um enorme potencial para que a biotecnologia desenvolva novas espécies alimentícias e industriais, mais resistentes às pragas, doenças e adversidades ambientais. Ainda segundo o autor, a biotecnologia deverá se tornar em futuro próximo uma das grandes bases dos processos produtivos.

- Explique por que a biodiversidade constitui um potencial para o desenvolvimento da biotecnologia.
- Por que o desenvolvimento da biotecnologia faz parte das novas estratégias de poder geopolítico dos Estados nacionais?

Resposta esperada

- Sendo a biotecnologia baseada na manipulação de material genético diferenciado, possui uma grande fonte de recursos em áreas onde é abundante a diversidade de espécies. (2 pontos)
- Tal como ocorreu nos anos 40 e 50 com a pesquisa nuclear, hoje a pesquisa em biotecnologia é aplicável a finalidades industriais e militares. Fala-se em guerra biológica e armas biológicas, baseados em fungos, vírus, bactérias, etc. O DNA recombinante, por exemplo, já constitui opção militar para alguns Estados. Além disso, a biotecnologia pode alterar a necessidade atual por solos agricultáveis, causando grande transformação no mercado mundial de commodities agrícolas. (3 pontos)

Comentários

Os candidatos de maneira geral não apresentaram grande dificuldade em responder ao item a definindo biodiversidade como diversidade de espécies e destacando a sua importância como fonte de recursos para o desenvolvimento da biotecnologia. No item b da questão, os candidatos tiveram maior dificuldade em atingir os objetivos, pois os exemplos de aplicação dos avanços da biotecnologia não foram relacionados com as dependências político-econômicas e científico-tecnológicas criadas a partir dos Estados Nações que detêm esta tecnologia sobre outros, no mundo contemporâneo.

Exemplo acima da média

Neste exemplo, no item a, o candidato destaca a importância da biodiversidade para o desenvolvimento da biotecnologia e (item b) utiliza vários exemplos para justificar o domínio da biotecnologia como sendo parte das novas estratégias de poder entre as nações.



|                                       |   |
|---------------------------------------|---|
| <p><b>Exemplo acima da média</b></p>  | <p>a) Entende-se por biodiversidade o conjunto de espécies vegetais e animais disponíveis em um determinado ecossistema, sendo que muitas delas ainda não foram descobertas. A partir disso, podemos entender o porquê de sua importância. Muitas dessas espécies podem ser fundamentais para a indústria farmacêutica; muitas delas podem conter propriedades farmacológicas até então desconhecidas. Pode haver a descoberta de novos genes e características. A biotecnologia tem para com esse material um cuidado e interesse imensos pois, a partir dele, pode-se obter grandes curas e respostas para os problemas da humanidade.</p> <p>b) O desenvolvimento da biotecnologia pode ser de importância fundamental às grandes potências. Novas drogas podem ser descobertas para que se salve milhões de pessoas. Por outro lado, armas biológicas poderosíssimas podem ser desenvolvidas. Há ainda o desenvolvimento de organismos transgênicos que podem ser a resposta para o problema da fome. Quem detiver a tecnologia da produção de novas sementes pode, em pouco tempo, dominar o mercado, faturar milhões e manter outras nações sob seu domínio. Super pragas também podem ser descobertas e/ou desenvolvidas para acabarem com larvas e fazerem com que a dependência externa aumente.</p> |
| <p><b>Exemplo abaixo da média</b></p> | <p>Nesta resposta o candidato apresenta um exemplo da biotecnologia relacionado à produção de alimentos e à possibilidade de eliminação da fome através da maior produtividade agrícola. Com este raciocínio, o candidato compromete a compreensão das relações de dependência criadas a partir da biotecnologia no mundo contemporâneo, não atingindo os objetivos propostos na questão.</p> <p>2) Que através do estudo de novas sementes, alguma característica destas pode ser usada no combate a pragas de outras espécies constituindo um potencial.</p> <p>3) Que através da biotecnologia, haverá uma maior produção de alimentos que consequentemente diminuirá seus preços acabando com a fome. E o excedente ainda poderia ser exportado, trazendo novos divisões ao país.</p>   |
| <p><b>Questão 18</b></p>              |   |
|                                       | <p>“Apenas quando você tiver cortado a última árvore, pescado o último peixe e poluído o último rio, vai descobrir que não pode comer dinheiro.” (Fala de um ancião americano citada em Vandana Shiva, <i>Ecodesenvolvimento</i>, 1989.)<br/>Esse texto permite-nos refletir sobre a necessidade de revisão do atual modelo de desenvolvimento econômico, mesmo considerando as soluções técnicas que já foram encontradas na tentativa de superar os problemas advindos do esgotamento dos recursos naturais. Com base nessas considerações, responda:</p> <p>a) Por que o desenvolvimento econômico capitalista está em contradição com a concepção de preservação dos recursos naturais?</p> <p>b) Qual é a diferença entre conservação e preservação dos ecossistemas naturais?</p>   |
| <p><b>Resposta esperada</b></p>       | <p>a) O atual modelo de desenvolvimento econômico, centrado na produção, no lucro e na competitividade entre as empresas, conduz a uma utilização indiscriminada dos recursos naturais e à produção de um crescente volume de resíduos inorgânicos. O consumismo, o desperdício e demanda por energia, característico das sociedades modernas (embora de maneira desigual entre os países, e internamente em cada território nacional), completam o quadro de antagonismo entre desenvolvimento capitalista e preservação de recursos naturais.<br/>(3 pontos)</p> <p>b) Conservação: É o uso racional de recursos naturais, realizado de maneira não predatória, de maneira a conservar o ecossistema sadio para futuras gerações.<br/>Preservação: É a manutenção dos ecossistemas tais como estão, sem extração de recursos.<br/>(2 pontos)</p>  |

**Comentários**

No item a desta questão, os candidatos não apresentaram grandes dificuldades em identificar as características do modelo de desenvolvimento econômico capitalista e relacioná-las com o possível esgotamento dos Recursos Naturais, e com a crescente problemática ambiental. No item b a maioria dos candidatos confundiu os conceitos de Conservação e Preservação não atingindo os objetivos propostos.

**Exemplo acima da média**

Nesta resposta o candidato relaciona corretamente a sociedade de consumo com o aumento da exploração dos recursos naturais e a conseqüente degradação ambiental.

a) O desenvolvimento econômico capitalista está em contradição com a concepção de preservação dos recursos naturais porque o mesmo impulsiona as populações a consumirem cada vez mais, gerando uma enorme quantidade de lixo, muitas vezes de tempo prolongado para sua decomposição, buscando mais recursos do que meio tem a oferecer, contrariando um entendimento de recursos escassos, e poluindo degradantemente o meio ambiente.

b) A conservação de um ecossistema natural consiste em conservar os seus recursos explorados, mantendo deste forma um equilíbrio entre o que é estraido e o que é deixado, a preservação de um ecossistema natural é feita pela inibição de qualquer atividade que interfira em seus recursos, havendo desta forma um "isolamento" deste para com os sociedades capitalistas e seus anseios de consumo.

**Exemplo abaixo da média**

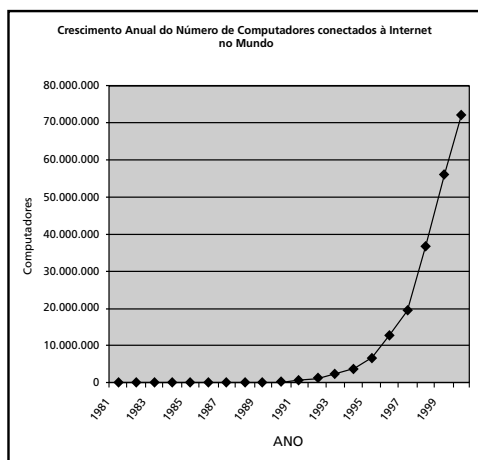
Aqui o candidato não demonstra a lógica do sistema capitalista, restringindo sua análise à destruição da natureza através da obtenção de lucro sem explicitar as relações de produção e consumo. Neste exemplo também pode ser observado o tipo de resposta que não define os conceitos de conservação e preservação.

a) O capitalismo prega a obtenção de lucros, não importa como. Dessa forma, preservar uma floresta, localizada numa região que pode abrigar uma indústria, por exemplo, é contrário às suas ideias.

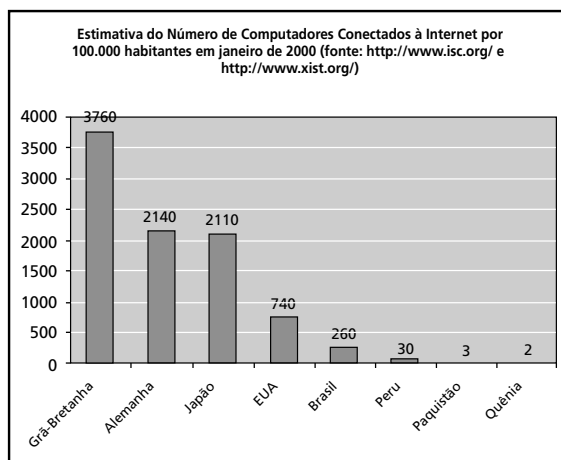
b) Conservar um ecossistema é torná-lo intato. Preservar é tentar recuperá-lo das ações humanas.

**Questão 19**

Considere os dados apresentados nos gráficos a seguir. O gráfico I apresenta a evolução mundial do número de computadores conectados à Internet no período de 1981 a 2000. O gráfico II apresenta a estimativa, para o mês de janeiro de 2000, do número *per capita* de computadores conectados à Internet, relativo a oito países.



**Gráfico I**



**Gráfico II**

- a) Aponte os fatores responsáveis pelo comportamento da curva apresentada no Gráfico I.
- b) Relacione o crescimento de computadores conectados à Internet no mundo com as informações contidas no Gráfico II.
- c) Analise os casos do Brasil e dos EUA em relação aos demais países apresentados no Gráfico II.

## Resposta esperada

- a) O Gráfico I mostra que, nos últimos 20 anos, o número de computadores conectados à Internet em todo o mundo tem crescido em progressão geométrica principalmente após 1990 quando ocorrem o barateamento dos componentes digitais dos microcomputadores e a popularização da informática relacionada aos avanços no uso da telefonia, além das novas exigências colocadas pelo processo de globalização, que cria novas necessidades ligadas ao uso da informação.  
(2 pontos)
- b) Este acelerado crescimento é extremamente mal distribuído entre os países, pois concentrou-se nos países desenvolvidos do hemisfério Norte. Os países do terceiro mundo apresentam uma taxa per capita irrisória de computadores ligados à Internet, se comparados aos países do 1º mundo. Alguns países do primeiro mundo tem maior índice de acesso *per capita* à rede mundial de computadores, como é o caso de Inglaterra, Japão e Alemanha.  
(1 ponto)
- c) Os EUA, devido à sua população elevada e às disparidades econômicas regionais, situam-se em uma posição intermediária com relação aos valores *per capita*. Os números mostram também que, quando comparado a outros países do chamado Terceiro Mundo e mesmo do Primeiro, o Brasil possui uma posição destacada em relação à taxa per capita de microcomputadores ligados à Internet. Essa posição singular do Brasil também se relaciona ao tamanho de sua população e à concentração de renda, o que permite que uma classe média se destaque, desfrutando dos avanços das telecomunicações e da informática.  
(2 pontos)

## Comentários

A questão visava medir a capacidade do candidato para interpretar gráficos, relacionando o fenômeno da informatização seletiva da sociedade às desigualdades territoriais em escala mundial. A questão apresentou um grau médio de dificuldade e baixíssimo índice de discriminação. Os candidatos, de maneira geral, ativeram-se mais às conseqüências e desdobramentos sociais da informatização do que às causas, o que gerou dificuldades para a correção e obrigou a reformular a grade. Impõe-se, portanto, uma maior objetividade com relação àquilo que se solicita ao candidato na interpretação de gráficos desta natureza.

## Exemplo acima da média

O candidato ateu-se às causas que explicam o comportamento do gráfico I, e não às conseqüências, ao contrário do que ocorreu com a maioria. Apesar de não analisar explicitamente o caso do Brasil no item c, cumpre plenamente com o esperado para o caso dos Estados Unidos.

- a) De acordo com o Gráfico I, percebe-se que houve um aumento significativo de computadores conectados à Internet a partir da década de 90 (anos 95 em diante). Isso se deve à recuperação das economias após as crises dos anos anteriores e, sobretudo, às melhorias nos sistemas de comunicação no mundo, além do avanço tecnológico, que barateou o custo do serviço, tornando-o mais acessível à população.
- b) De acordo com o Gráfico II, percebe-se que o crescimento do número de computadores ligados à Internet deveu-se sobretudo aos países desenvolvidos, uma vez que esse número ainda é insignificante nos países mais pobres do globo.
- c) Os EUA apresentam um número relativamente pequeno de computadores e o serviço, apesar de ser a economia mais desenvolvida no momento. Isso se deve sobretudo à grandiosidade da população americana em comparação com os países citados (Grã-Bretanha, Alemanha e Japão), além das grandes desigualdades sociais internas, que impedem que a parte da população tenha acesso aos serviços. O mesmo ocorre no Brasil.

O candidato não foi capaz de agrupar os dados e relacioná-los às regiões geoeconômicas do mundo, reduzindo o conjunto de fatores que poderiam explicar por que a informatização da sociedade aconteceu de forma seletiva ao termo genérico do desenvolvimento.

Exemplo abaixo da média

- a) O gráfico I mostra que ao decorrer dos anos o uso de computadores está crescendo de forma "assustadora", o que nos permite concluir que o desenvolvimento por isso é o desenvolvimento do país.
- b) A relação dos computadores conectados à internet com informações contidas no gráfico II é que o desenvolvimento do país influencia, mas existe muita desigualdade social em muitos países desenvolvidos.
- c) Os EUA é um país mais desenvolvido que o Brasil, mas o custo de vida lá é mais alto, então por isso lá existe pouco acesso à Internet.

## Questão 20

O jornal *O Estado de S. Paulo*, em matéria de 01/09/2000, noticiou que o Plano Colômbia – plano de combate ao narcotráfico – terá suas ações intensificadas a partir de janeiro. Segundo declarações de um governante sul-americano, essa ação militar com a ajuda financeira do governo dos Estados Unidos pode provocar a vietnamização da região setentrional da América do Sul. Com relação ao exposto:

- Cite argumentos históricos, políticos e geográficos que justifiquem a utilização do termo “vietnamização” para a Colômbia.
- Quais as ações estratégicas que o governo brasileiro anunciou para evitar o transbordamento do conflito para o seu território?

Resposta esperada

- A Guerra do Vietnã ocorreu num contexto de bipolarização do mundo, opondo países capitalistas e países socialistas, nos anos 60, a partir da intervenção dos EUA. A longa duração do conflito ocorreu em função das fortes razões ideológicas que sustentaram as estratégias de guerrilha num ambiente natural marcado pelo floresta tropical, provocando grandes desgastes nas forças norte-americanas, que acabaram retirando-se em meio a enormes pressões da população dos Estados Unidos. A Colômbia situa-se em latitudes próximas às do Vietnã e apresenta cobertura vegetal e regime pluviométrico semelhante. A guerrilha de esquerda, controlando parte do território, é outro fator que conduz à comparação dessas situações.  
(3 pontos)
- Como o Brasil faz fronteira com a Colômbia e o governo teme que o território brasileiro sirva de refúgio a guerrilheiros e traficantes, as tropas do exército brasileiro já estão sendo deslocadas para a área e há uma retomada do projeto SIVAM (desdobramento do Calha Norte) visando a uma maior presença brasileira na área.  
(2 pontos)

Comentários

Objetivou-se avaliar o grau de conhecimento do candidato sobre a geopolítica da Amazônia e sobre as políticas intervencionistas dos Estados Unidos no sudeste asiático e na América Latina, correlacionando contextos históricos e aspectos físico-geográficos da Guerra do Vietnã e do Plano Colômbia. A questão apresentou um grau de dificuldade médio e índice de discriminação regular. A grade utilizada para correção foi bastante eficiente.

Exemplo acima da média

O candidato demonstra conhecimento histórico relativo à intervenção norte-americana no Vietnã e consegue estabelecer a relação com a Colômbia a partir de dois aspectos: a guerrilha e a cobertura vegetal. O item b foi tratado a contento, já que, além do deslocamento de tropas brasileiras para a fronteira com a Colômbia, a referência ao Projeto Calha Norte atende às expectativas de resposta, mesmo que o SIVAM não tenha sido mencionado.

|                         |   |
|-------------------------|---|
| Exemplo acima da média  | <p>a) A tática do combate do narcotráfico é a guerrilha, assim como os vietnamitas lutaram contra os EUA na guerra entre os dois países. Os EUA não defendem seus interesses na região, como lutaram no Vietnã, que poderia até ser a ocupação da Amazônia. O problema do narcotráfico é antigo, e no caso os EUA se interessam não por ele, causando sua desconexão de segunda intenção. Geograficamente, o Vietnã e a Amazônia são grandes florestas, e são países que colaboram na destruição ambiental nos Vietnã, pode contribuir com o novo. A utilização de algum elemento químico para destruir as áreas, como no Vietnã, também preocupa. Isso seria usado para enxugar o mercurio das guerrilhas na floresta, mas a dúvida é que é para acabar com as plantações de cocaína.</p> <p>b) O governo brasileiro destacou tropas do Exército para se instalarem na fronteira colombiana, além de aplicar mais verbas no desaquecido projeto Calha Norte.</p> |
| Exemplo abaixo da média | <p>O candidato foi incapaz de levantar argumentos políticos e geográficos pertinentes para a comparação entre a guerra do Vietnã e o Plano Colômbia, revelando desconhecimento de fatos históricos. O item b, por outro lado, revela conhecimentos de fatos veiculados pela mídia.</p> <p>Ⓐ Os Estados Unidos financiaram a Guerra do Vietnã, enviando muito dinheiro mais poucos soldados, algo semelhante ao que ocorreu na Colômbia, onde os países vizinhos são operados pelo dinheiro americano.</p> <p>Ⓑ Manutenção da Amazônia Brasileira e o envio de tropas do Exército para a região norte.</p>   |
| <b>Questão 21</b>       |   |
|                         | <p>“Quando se tornou independente da Inglaterra, em 1960, a Nigéria formou uma federação de três grandes estados. Mas os governos que se sucederam dividiram o país (hoje são 36 estados) ao tentar consolidar o poder central. Hoje, discute-se o retorno ao regime federativo.” (Time, 24/02/2000.)</p> <p>a) Quais são as características de um regime federativo?</p> <p>b) Analise as possibilidades de funcionamento desse regime político em um país com tanta rivalidade étnica como é o caso da Nigéria.</p>   |
| Resposta esperada       | <p>a) O regime federativo consiste na pluralidade de centros de poder distribuídos pelo território. O governo federal tem jurisdição sobre todo o território nacional nas atividades política, econômica, militar e diplomática e representa o país no âmbito internacional. Cada unidade da federação, por sua vez, possui autonomia (fiscal, administrativa, tributária, orçamentaria etc.), sujeita à soberania federal. (3 pontos)</p> <p>b) O regime federalista em um país, como a Nigéria, de grande rivalidade étnica pode fomentar o separatismo, levando a conflitos violentos. Por outro lado, visando a manutenção da integridade do país também pode ser a solução territorial para os conflitos existentes, considerando a autonomia que cada unidade de uma federação possui. (2 pontos)</p>   |
| Comentários             | <p>Questão bastante objetiva, visando verificar o conhecimento do candidato sobre as diferenças entre regime unitário e regime federativo e as consequências sociais, políticas e territoriais da implantação deste último num país de grande rivalidade étnica. A dificuldade da implementação da grade ocorreu pelo fato de que a resposta errada no item a implicava na anulação da resposta no item b, o que provocou uma grande quantidade de notas zero (43,3%). Apesar disso, a questão teve alto índice de discriminação relativamente às demais.</p>   |

O candidato aponta a pluralidade de centros de poder no território como característica fundamental do regime federativo, estabelecendo a hierarquia entre o poder federal e o das unidades federadas. Apesar de subverter um pouco a grade para o item b, a resposta contempla os dois lados do problema: a possibilidade de convívio pacífico e o risco de aprofundar a crise político-territorial advinda da rivalidade étnica.

Exemplo acima da média

- a) O regime federativo consiste na existência de um poder central e de poderes estaduais. É formado (pelo) por unidades federativas (estados) que possuem direito de receber impostos e de implementar leis, porém condicionados e regulamentados por um poder federal.
- b) O funcionamento de um regime federativo na Nigéria seria bastante restrito, pois cada grupo étnico reivindicaria o poder federal, entrando em sérias disputas políticas com os grupos rivais. Esse problema enfraqueceria a atuação do poder federal, levando o Estado nigeriano a uma possível crise político-econômica.

A resposta revela a incapacidade do candidato de distinguir o regime unitário do regime federativo como modelo de política territorial, anulando qualquer possibilidade de um bom desempenho no item b.

Exemplo abaixo da média

- a) Regime Federativo caracteriza-se por ter um poder centralizado nas mãos de um presidente que pode ser limitado pela ação de vários poderes: Executivo, Legislativo, e Judiciário.
- b) Em um país onde há rivalidade étnica como a Nigéria dificilmente haveria a unificação do país para votar em quem é o melhor para governar o país.

## Questão 22

Para enfrentar o chamado “protecionismo internacional”, o governo brasileiro vem defendendo a idéia de uma maior aproximação entre os países do Mercosul e os do Pacto Andino.

- Como se pode entender que, num mundo dito globalizado, esse “protecionismo” permaneça?
- Quais são os principais produtos de exportação brasileiros afetados por esse “protecionismo”?
- Quais os motivos para a restrição à entrada desses produtos no mercado exterior?

Resposta esperada

a e c) Tal como ocorreu com o liberalismo do século XIX, a prática do neoliberalismo (ao contrário de sua ideologia) não se dá sem um certo tipo de protecionismo. Esta contradição do mundo globalizado se traduz em políticas alfandegárias e de controle de qualidade, de condições de trabalho, proteção ambiental, inspeção sanitária etc. dos países do norte sobre os do sul, ou seja dos países mais poderosos sobre os demais.

Isto ocorre para impedir a concorrência e proteger a indústria/interesses nacionais daqueles países, atendendo a fortes pressões corporativistas internss.

(4 pontos)

- b) Produtos agrícolas e industrializados como laranja, carnes, sapatos, aviões.  
(1 ponto)

## Comentários

Esta questão trata de um tema contemporâneo e relevante e ao mesmo tempo aponta para aspectos contraditórios relacionados ao desenvolvimento sócio-econômico atual: em um mundo globalizado, quando se apregoam as vantagens da desregulamentação econômica para a abertura comercial, tornando as economias mais competitivas, livres do chamado protecionismo, produtos importantes na pauta de exportações de alguns países são barrados, sob a alegação de que recebem subsídios considerados ilegais no mercado internacional ou são produzidos de forma mais barata através da super-exploração da força-de-trabalho ou uso de trabalho infantil, ou ainda devido ao não cumprimento de exigências sanitárias. Em geral, são produtos que fariam a concorrência dos produtos nacionais nos países que estabelecem as barreiras alfandegárias.

A banca elaboradora tinha consciência da dificuldade desta questão, mas esperava um bom desempenho dos candidatos pois ela trata de um problema bastante evidenciado pela mídia e que tem afetado de forma importante a agricultura e a indústria no Brasil. Esse bom desempenho não se confirmou.

A maior dificuldade foi interpretar o texto, estabelecendo a contradição entre a prática do protecionismo e o discurso do liberalismo (itens a e c). O item b, mais informativo, foi respondido de forma satisfatória, com relativa facilidade.

## Exemplo acima da média

Nas respostas apresentadas aos itens a e b o candidato demonstrou ter atingido o objetivo da questão, quando estabeleceu que o *protecionismo permanece para proteger a produção(...) interna* e quando apontou a contradição existente nos discursos de um *mundo globalizado*. No item c mostra acertadamente que por trás das alegações de que os *produtos importados não obedecem às exigências fitossanitárias* está, na verdade, a questão concorrencial.

a) O protecionismo permanece porque existe (como sempre existiu) a necessidade de se proteger a produção industrial interna. Não se poderia também que o "mundo globalizado" inverteu-se muito mais no discurso político do que na prática econômica.

b) Sofrem com o protecionismo os produtores, o café e o leite da Alemanha.

c) Em alguns países, sobretudo quando se trata de produtos alimentícios, se diz que os produtos importados não obedecem às exigências fitossanitárias do país que recebeu o produto. Mas, a realidade se dá, especialmente, quando os produtos importados concorrem (em qualidade e preço) com os produtos produzidos internamente.

## Exemplo abaixo da média

No item a, esta resposta não atinge os objetivos da questão. A forma de respondê-la é muito genérica, relacionando o problema à questão de poder, sem especificar o tipo de poder (se político, ou econômico, por exemplo). Além do que, não se trata tanto de uma questão pura e simplesmente de poder (embora haja forte relação), mas de disputa por mercados. Obviamente os países mais poderosos política e economicamente possuem vantagens que não querem perder.

Quanto ao item b, embora haja restrições à qualidade do café brasileiro no mercado internacional, tanto o café como a soja não são os melhores exemplos para o problema apresentado.

a) Simplesmente pelo fato de que os países desenvolvidos temem que os subdesenvolvidos consigam superar o seu poder e se tornarem mais fortes.

b) Os principais produtores de exportação do Brasil afetados são o café e a soja.

Observação

Os candidatos poderiam responder conjuntamente os itens a e c, que são complementares.

## Questão 23

“Recentemente o *shopping center* Rio-Sul – o primeiro a ser construído na cidade do Rio de Janeiro – foi invadido por um grupo de 130 pessoas formado por sem-teto, favelados, estudantes e *punks*. Os manifestantes, com esta invasão pacífica, inauguraram uma forma nova de protesto.” (Adaptado de *Folha de S. Paulo*, 05/08/2000.)

- a) Relacione essa manifestação ao exercício da cidadania e às formas de organização espacial das cidades contemporâneas.  
 b) Além do *shopping center*, cite outro exemplo de segregação sócioespacial no meio urbano. Justifique sua resposta.

## Resposta esperada

a) Na organização espacial das cidades contemporâneas tende –se a segregar os mais pobres. Ou seja, a segregação espacial acompanha a segregação social. Pode ser realizada de forma direta ou indireta, erguendo-se barreiras visíveis ou não, delimitando-se territórios, impedindo-se o acesso aos grupos socialmente excluídos. Selecionam-se espaços privilegiados para a localização das habitações e das atividades consideradas mais sofisticadas. Os Shopping-centers – templos do consumo – são locais emblemáticos relacionados aos apelos da sociedade de consumo. Localizam-se nas áreas mais valorizadas para atender a uma demanda das classes mais abastadas. Na implantação desses *enclaves*, um dos mais elementares direitos dos cidadãos é desrespeitado – o de ir e vir sem constrangimentos – principalmente por serem espaços públicos. Por ali circulam pessoas de alto e médio poder aquisitivo, e a aparência exigida pela sociedade de consumo, que funciona como passaporte para o livre-acesso. Assim, os direitos constitucionais do cidadão são substituídos pela capacidade do poder aquisitivo para o consumo. Este fato fica evidente quando cruzamos a distribuição dos grupos sociais e o zoneamento da infra-estrutura urbana nos territórios da cidade.

A *invasão* ocorrida significa um protesto à organização espacial segregacionista. Reafirma os anseios dos mais pobres por cidadania – ideologicamente confundida com consumismo. O protesto é contra o uso privilegiado do espaço público, uma vez que nos bairros de origem dos pobres há todo tipo de carência de infraestrutura, sendo-lhes negado o acesso às condições mínimas de vida urbana que fundamentam o exercício da cidadania.

( 3 pontos )

b) - A organização de moradias em condomínios fechados: bairros residenciais de classes mais abastadas que proliferam pelas grandes cidades brasileiras e são verdadeiras fortificações contra o mundo exterior (considerado inseguro). Representa a auto-segregação de grupos privilegiados economicamente, sob a alegação de segurança e qualidade de vida.

- As áreas privadas de lazer: com o abandono do espaço público pelo Estado e pelos grupos mais privilegiados, áreas de lazer privadas passaram a representar a opção de restritos grupos sociais com alto poder aquisitivo (privatização de praias, ilhas, margens de represas, e mesmo praças públicas cercadas, com acesso controlado).

( 2 pontos )

## Comentários

Esta questão tinha por objetivo avaliar a capacidade do candidato de identificar a segregação sócio-espacial no espaço urbano além de analisar as formas e possibilidades de resistência a ela.

Não só pela grande repercussão que o fato relatado obteve da mídia, mas também por se tratar de problema que, de uma forma ou de outra, está presente no cotidiano da maioria das pessoas, esperava-se melhor desempenho por parte dos candidatos.

Entretanto, para o item **a**, a maioria das respostas ficaram em um nível de generalidade muito grande, não chegando ao âmago do problema: a existência de barreiras visíveis ou invisíveis, delimitando territórios, isto é a segregação socioespacial, lembrando que esta expressão constava do enunciado perguntado no item **b**. A maior parte dos candidatos conseguiu relacionar o problema às questões de cidadania relacionadas ao direito de ir e vir.

No item **b**, foram encontradas com muita frequência respostas que confundiram os possíveis exemplos de segregação socioespacial com a segregação econômica pura e simplesmente: escolas privadas inacessíveis, clubes, cinemas, teatros, restaurantes...

## Exemplo acima da média

Nesta resposta o candidato relaciona a manifestação ao exercício da cidadania e ao direito de ir e vir. Localiza a segregação socioespacial na organização do espaço das cidades, onde restam as favelas como possibilidade de moradia para os mais pobres.

O item **b** é corretamente respondido relacionando os condomínios fechados às fortalezas para a *proteção face ao mundo desigual*.



Exemplo acima da média

a. A manifestação política em um shopping center representa o exercício do direito de cidadania visto que todo cidadão tem o direito de ir e vir enquanto não invadir propriedade privada. O shopping center é um lugar de livre circulação de pessoas por um grupo de pessoas que tem um nível de consumo no nível da classe média, destacada economicamente do país. A manifestação representa um exercício de cidadania visto que o shopping center é lugar público. A organização espacial da cidade contemporânea visa atender os desejos quando o grande comércio que não se localiza em locais onde se concentram os miseráveis e pobres. Há vilas de adoção e lugares diferenciados para ricos e pobres.

b. Condomínios fechados são outro exemplo de segregação socioespacial. São constituídas espécies de "fortalezas" que visam a proteção face ao mundo desigual. Dentro dos condomínios só entram as pessoas autorizadas incluindo-se a guarda social dentro do quarteirão.

Exemplo abaixo da média

O item a é respondido incorretamente, demonstrando total incompreensão em relação ao texto lido e ao que foi perguntado: o candidato salienta a união entre diferentes classes sociais nesta manifestação.

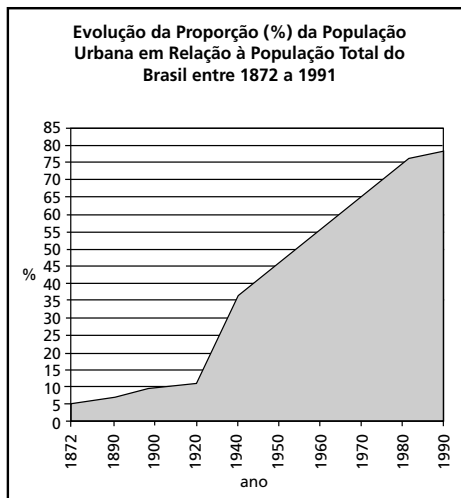
No item b, o mesmo equívoco leva o candidato a exemplificar com os parques públicos, como locais onde as diferentes classes passeiam.

a) A INVASÃO DEMONSTRA A BUSCA DOS DIREITOS QUE CADA CIDADÃO DEVERIA USUFRUIR. A UNIÃO ENTRE SEM-TETOS, FAVELADOS, ESTUDANTES E RUMKS SÃO UMA VITRINE DA SITUAÇÃO DE PROXIMIDADE EM QUE AS CLASSES MÉDIA E BAIXA VIVEM ATUALMENTE.

b) OS PARQUES PÚBLICOS REPRESENTAM UM EXEMPLO DA SEGREGAÇÃO SOCIOESPACIAL DAS GRANDES METRÓPOLES POIS NELES SÃO ENCONTRADAS ÁREAS DE LAZER PARA TODA A POPULAÇÃO E QUE, EM SUA MAIORIA, SÃO OCUPADAS POR TODAS AS CLASSES SOCIAIS.

Questão 24

Observe o gráfico apresentado a seguir e responda:



Fonte: Anuário Estatístico do Brasil, 1994.

- a) Quando a população brasileira passa a ser predominantemente urbana?
- b) Quais são os principais fatores socioeconômicos responsáveis por essa transformação?

|                                       |  |
|---------------------------------------|--|
| <p><b>Resposta esperada</b></p>       | <p>a) A partir da segunda metade / final da década de 1950 / da década de 60.<br/><b>(1 ponto)</b></p> <p>b) Fatores:<br/>- crescimento do mercado de trabalho nas cidade: industrialização, crescimento do setor terciário<br/>- Modernização da atividade agrícola (mecanização, liberando mão-de-obra)<br/>- concentração fundiária<br/>- melhoria das condições de vida<br/><b>(4 pontos)</b></p>  |
| <p><b>Comentários</b></p>             | <p>Esta foi a questão mais fácil da prova. A simples leitura do gráfico já permitia que o candidato atingisse 1 ponto no item a, aceitando-se, de modo bastante flexível, a identificação do fenômeno a partir da segunda metade da década de 50, momento em que a curva do crescimento urbano começa realmente a alavancar.</p> <p>No item b, para a avaliação dos principais fatores sócio-econômicos responsáveis pela transformação observada, a banca corretora tomou o cuidado de não pontuar duas vezes o mesmo fator de atração para a cidade. Por exemplo, quando o candidato referia-se à melhor oferta de empregos nas cidades já obtinha 1 ponto, entretanto se, além disso, mencionava maior oferta de empregos na indústria e/ou no setor de serviços, não obtinha o segundo ou terceiro ponto, já que estava referindo-se ao mesmo fenômeno: mercado de trabalho.</p> |
| <p><b>Exemplo acima da média</b></p>  | <p>Esta pode ser considerada uma resposta correta, pois atinge os objetivos propostos, com uma redação simples e sintética, porém apresentando todos os elementos necessários para ser avaliada como completa.</p> <p>a) A população brasileira passa a ser predominantemente urbana em meados dos anos 50. Aproximadamente após 1955.</p> <p>b) Dentre os principais fatores podemos citar o intenso processo de industrialização, o êxodo rural gerado <del>tanto</del><sup>tanto</sup> pela estagnação da atividade agrícola ou mecanização; pelo crescimento e pela importância do setor de serviços (predominantemente urbano); facilidades geradas pela vida urbana (na saúde, educação, saneamento básico) etc.</p>   |
| <p><b>Exemplo abaixo da média</b></p> | <p>Embora o item a possa ser considerado correto, no item b o nível de generalidade é muito grande e o candidato equivooca-se ao relacionar o crescimento da população urbana a um desejo hipotético de se querer morar na cidade com mais conforto embora se continue a trabalhar no campo. É obvio que, mesmo se isto fosse verdadeiro, seria insuficiente para justificar o processo de urbanização da população.</p> <p>a) A partir de meados da década de 50.</p> <p>b) Os fatores são o mudança do polo econômico brasileiro de rural para urbano, da melhoria das condições de vida <del>em</del> quando nas cidade (muitas vezes ilusório) e da possibilidade de se morar confortavelmente na cidade e trabalhar no campo.</p>   |