



DOMINGO DE MANHÃ

PREFEITURA MUNICIPAL DE SAPUCAIA DO SUL/RS CONCURSO PÚBLICO Nº 04/2023

MOTORISTA

INSTRUÇÕES

Leia atentamente e cumpra rigorosamente as instruções que seguem, pois elas são parte integrante das provas e das normas que regem esse certame.

1. Atente-se aos avisos contidos no quadro da sala.
2. Seus pertences deverão estar armazenados dentro de embalagem específica fornecida pelo fiscal, permanecendo em sua posse somente caneta esferográfica de ponta grossa, de material transparente, com tinta preferencialmente preta, lanche e água, se houver. A utilização de qualquer material não permitido em edital é expressamente proibida, acarretando a sua imediata eliminação do certame.
3. Certifique-se de que este caderno:
 - contém 40 (quarenta) questões;
 - refere-se ao cargo para o qual realizou a inscrição.
4. Cada questão oferece 5 (cinco) alternativas de respostas, representadas pelas letras A, B, C, D e E, sendo apenas 1 (uma) a resposta correta.
5. Será respeitado o tempo para realização da prova conforme previsto em edital, incluindo o preenchimento da grade de respostas.
6. Os três últimos candidatos deverão retirar-se da sala de prova ao mesmo tempo, devendo assinar a Ata de Prova.
7. A responsabilidade referente à interpretação dos conteúdos das questões é exclusiva do candidato.
8. No caderno de prova, você poderá rabiscar, riscar e calcular.
9. Os gabaritos preliminares da prova objetiva serão divulgados na data descrita no Cronograma de Execução desse certame.



V1_17/11/2023 13:12:34



Quem foi Zumbi dos Palmares?*Caio César Pereira*

01 Desde o ano de 2011, o Brasil tem 20 de novembro como o Dia da Consciência Negra. A
02 data foi escolhida em homenagem a Zumbi dos Palmares, uma das maiores lideranças negras
03 durante a escravidão no país.

04 Estabelecer a origem e outros aspectos históricos da vida de Zumbi não é uma tarefa
05 fácil. As evidências históricas não são precisas, de forma que existem várias versões diferentes
06 sobre sua origem.

07 A mais famosa, provavelmente, é a que fala que Zumbi dos Palmares nasceu em 1655,
08 na região da Serra da Barriga, local que hoje é conhecido como o estado de Alagoas, no Nordeste
09 do Brasil. Nascido livre, quando criança foi ca...turado por bandeirantes e, posteriormente,
10 entregue a um padre que lhe ensinou o português e a religião católica.

11 Zumbi escapou e foi encontrar refú...io no Quilombo dos Palmares, comunidade
12 autônoma formada por ex-escravizados e até indígenas. Sucedeu Ganga Zumba (algumas
13 versões contam que ele era seu tio), líder do quilombo na época, tornando-se a principal figura
14 de autoridade na região, e um líder para a resistência da comunidade.

15 Só tem um problema nessa história toda: ela muito provavelmente não é verdade.

16 De acordo com Jean Marcel Carvalho França, historiador, professor na Faculdade de
17 Ciências Humanas e Sociais da Universidade Estadual Paulista, e coautor do livro "Três vezes
18 Zumbi: a construção de um herói brasileiro", são bem escassas quaisquer informações a respeito
19 da vida de Zumbi.

20 "É difícil saber, porque você não tem descrições diretas do Zumbi. Você tem descrições
21 das batalhas. Você tem descrições das organizações do Quilombo. Agora, sobre o Zumbi
22 especificamente, você não tem quase dado nenhum", aponta Jean.

23 Sabe-se que Zumbi de fato sucedeu Ganga Zumba, por exemplo, mas não há qualquer
24 vestígio sobre a relação familiar entre os dois: "Tem a famosa história de que ele sucede o tio,
25 o Ganga Zumba, mas toda essa história é meio mitológica. Deve haver uma suce...ão, porque
26 o quilombo é destruído e reconstruído reiteradas vezes. O que significa que também as lideranças
27 morrem e se alternam. Então, provavelmente, era desse modo que tudo acontecia".

28 Apesar de algumas imprecisões, é fato que a figura de um líder quilombola durante o
29 período realmente existiu. Isso pode ser comprovado através de relatos em cartas, como a
30 menção em uma carta do imperador Dom Pedro II, além de uma espécie de carta de condenação
31 de quando Zumbi foi "morto".

32 Na verdade, a data do dia 20 de novembro de 1695, foi quando seu corpo foi apresentado
33 como troféu de guerra na Bahia, revelando à população que o "conflito" havia sido encerrado.
34 Algumas versões apontam que ele se suicidou, enquanto a própria carta diz que ele foi atocaiado
35 e morreu em combate.

(Disponível em: <https://super.abril.com.br> – texto adaptado especialmente para esta prova).

QUESTÃO 01 – Considerando o exposto no texto, assinale a alternativa que apresenta um fato comprovado sobre a história de Zumbi.

- A) Zumbi era sobrinho de Ganga Zumba.
- B) O corpo de Zumbi foi exposto como troféu de guerra.
- C) Zumbi se suicidou.
- D) Zumbi foi capturado por bandeirantes.
- E) Zumbi foi entregue a um padre português.

QUESTÃO 02 – Assinale a alternativa que indica o grande tema central do texto.

- A) As batalhas de Zumbi.
- B) A vida no Quilombo dos Palmares.
- C) A vida de Zumbi como líder do Quilombo.
- D) Como Zumbi aprendeu a ler e a escrever.
- E) As várias versões sobre a vida de Zumbi.

QUESTÃO 03 – Considerando a correta ortografia das palavras em Língua Portuguesa, assinale a alternativa que preenche, correta e respectivamente, os espaços pontilhados das linhas 09, 11 e 25.

- A) p – g – ss
- B) p – g – ç
- C) p – j – ss
- D) pi – j – ss
- E) pi – g – ç

QUESTÃO 04 – Assinale a alternativa que apresenta um sinônimo para a palavra “autônoma” (l. 12).

- A) Independente.
- B) Externa.
- C) Aprisionada.
- D) Encurralada.
- E) Presa.

QUESTÃO 05 – Assinale a alternativa que apresenta uma expressão com o mesmo sentido de “a história completa é um pouco fantástica”.

- A) “e um líder para a resistência da comunidade” (l. 14).
- B) “Você tem descrições das batalhas” (l. 20-21).
- C) “toda essa história é meio mitológica” (l. 25).
- D) “comprovado através de relatos em cartas” (l. 29).
- E) “foi atocaiado e morreu em combate” (l. 34-35).

QUESTÃO 06 – Assinale a alternativa que indica a classificação correta do pronome sublinhado no trecho a seguir: “algumas versões contam que ele era seu tio”.

- A) Pessoal.
- B) Demonstrativo.
- C) Indefinido.
- D) Possessivo.
- E) Relativo.

QUESTÃO 07 – Assinale a alternativa que indica o número da palavra sublinhada (escrito imediatamente depois dela) que é um adjetivo: “tornando-se (1) a principal (2) figura de autoridade na região (3), e um líder (4) para a resistência (5) da comunidade”.

- A) 1.
- B) 2.
- C) 3.
- D) 4.
- E) 5.

QUESTÃO 08 – Assinale a alternativa que apresenta uma palavra na qual haja encontro vocálico.

- A) Zumbi.
- B) Novembro.
- C) Resistência.
- D) Controverso.
- E) Líder.

QUESTÃO 09 – Analise as assertivas abaixo a respeito da palavra “escravidão” e assinale V, se verdadeiras, ou F, se falsas.

- () A palavra é proparoxítona.
- () A correta divisão silábica é: es-cra-vi-dã-o.
- () Trata-se de um substantivo feminino.

A ordem correta de preenchimento dos parênteses, de cima para baixo, é:

- A) F – V – V.
- B) F – F – V.
- C) F – V – F.
- D) V – F – F.
- E) V – V – F.

QUESTÃO 10 – Assinale a alternativa que indica o sentido correto do advérbio sublinhado no trecho a seguir: “ela muito provavelmente não é verdade”.

- A) Tempo.
- B) Afirmação.
- C) Lugar.
- D) Intensidade.
- E) Negação.

LEGISLAÇÃO

QUESTÃO 11 – Sofia Silva, servidora estável da Prefeitura de Sapucaia do Sul, sofreu um acidente grave e teve sua capacidade física bastante diminuída. Feita a inspeção médica e comprovada sua limitação motora, ela não poderia mais realizar as atribuições de seu cargo. Preocupada com a situação, Sofia comentou com um colega que estava com medo de ser exonerada. Esse colega explicou que Sofia assumiria um cargo com atribuições e responsabilidades mais compatíveis com suas limitações. Ele se referia a qual forma de investidura?

- A) Nomeação.
- B) Readaptação.
- C) Reversão.
- D) Recondução.
- E) Aproveitamento.

QUESTÃO 12 – Isabel Santos, de 31 anos, naturalizada brasileira e domiciliada há 3 anos no Brasil, em uma roda de amigos em que conversava sobre política, salientou com orgulho que tinha o sonho e o objetivo de ser presidente do Brasil. Orlando Diniz, formado em Direito, explicou para sua amiga Isabel que:

- A) Apenas brasileiros naturalizados com mais de 5 anos de domicílio no Brasil podem ser presidente do país.
- B) Apenas brasileiros naturalizados com idade acima de 35 anos podem ser presidente do Brasil.
- C) Apenas brasileiros naturalizados com mais de 5 anos de domicílio e 30 anos de idade podem ser presidente do Brasil.
- D) Apenas brasileiros natos com idade mínima de 30 anos podem ser presidente do Brasil.
- E) Apenas brasileiros natos com idade mínima de 35 anos podem ser presidente do Brasil.

QUESTÃO 13 – Conforme a Lei Municipal nº 3.303/2011, o Fundo Municipal de Aposentadoria e Pensão do Servidor (FAPS) será gerenciado pelo Conselho Geral, que será renovado:

- A) De 2 em 2 anos.
- B) De 3 em 3 anos.
- C) De 4 em 4 anos.
- D) De 5 em 5 anos.
- E) De 6 em 6 anos.

QUESTÃO 14 – Conforme a Lei Municipal nº 3.303/2011, o FAPS deve ser composto por dois segmentos. Quais são eles?

- A) Conselho Jurídico e Conselho Administrativo.
- B) Conselho de Marketing e Conselho de Ética.
- C) Conselho Administrativo e Conselho Fiscal.
- D) Conselho Jurídico e Conselho Fiscal.
- E) Conselho de Recursos Humanos e Conselho de Inovação.

QUESTÃO 15 – Afonso, brasileiro de 74 anos e analfabeto, estava assistindo à propaganda eleitoral quando se encantou pela proposta de um candidato. Decidiu então que irá votar nas próximas eleições. Segundo a Constituição Federal, Afonso poderá votar?

- A) Sim, pois a Constituição prevê o voto facultativo para os cidadãos brasileiros maiores de 70 anos e/ou analfabetos.
- B) Sim, pois a Constituição Federal prevê o voto obrigatório para todos os cidadãos brasileiros, independentemente de idade ou alfabetização.
- C) Não, pois a Constituição Federal prevê a proibição do voto para os analfabetos.
- D) Não, pois a Constituição Federal prevê a proibição do voto para os maiores de 70 anos.
- E) Sim, pois a Constituição Federal prevê o voto facultativo para os maiores de 21 anos.

INFORMÁTICA

QUESTÃO 16 – Rômulo utiliza o Google Chrome como navegador e estava com a janela mostrada na Figura 1 a seguir aberta:




Figura 1 – Janela do Google Chrome

Com base na Figura 1, podemos afirmar que:

- I. Rômulo estava utilizando o modo de Navegação Anônima.
- II. Rômulo não tem nenhuma página salva como marcador/favorito, pois a barra não está sendo exibida.
- III. Somente três separadores/guias estão abertos.

Quais estão corretas?

- A) Apenas I.
- B) Apenas II.
- C) Apenas III.
- D) Apenas I e II.
- E) I, II e III.

QUESTÃO 17 – Considerando o Gmail, analise a Figura 2 a seguir:

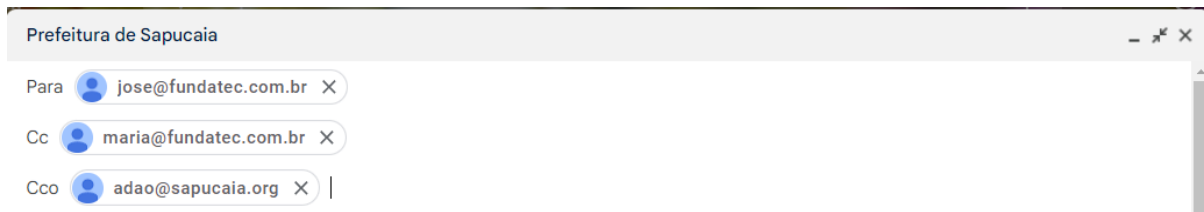



Figura 2 – Gmail

Após analisar a Figura 2, podemos afirmar que:

- A) Não é possível saber o assunto do e-mail.
- B) Maria é quem está enviando o e-mail.
- C) José não saberá que Adão recebeu o e-mail.
- D) Adão não vai receber o e-mail completo, porque está como Cco.
- E) O e-mail é uma resposta ao e-mail enviado por José, por isso ele é o destinatário principal.

QUESTÃO 18 – No Word 2016, a opção  tem como funcionalidade:

- A) Aumentar o tamanho da fonte.
- B) Diminuir o tamanho da fonte.
- C) Adicionar espaçamento entre linhas.
- D) Adicionar letras pequenas acima do texto.
- E) Colocar o texto selecionado em letras minúsculas.

QUESTÃO 19 – As funcionalidades abaixo estão presentes no Word 2016, EXCETO:

- A) Traduzir.
- B) Sumário.
- C) Linha de Assinatura.
- D) Cor da Página.
- E) Escolher Animações.

QUESTÃO 20 – Analise a Figura 3, abaixo, que mostra dados digitados no Excel 2016:

	A	B	C	D
1	30	28	10	
2	25	33	27	
3	45	21	11	
4	12	35	18	
5				

Figura 3 – Excel 2016

Ao digitar a fórmula =SOMA(A1:C4) na célula C5, qual será o resultado apresentado?

- A) 5.
- B) 48.
- C) 178.
- D) 295.
- E) 133.

MATEMÁTICA/RACIOCÍNIO LÓGICO

QUESTÃO 21 – Os números decimais são aqueles que têm uma parte inteira e uma não inteira separadas por uma vírgula. Muitos números decimais podem ser representados por uma fração, por exemplo: $0,5 = \frac{1}{2}$. De posse dessas informações, assinale a alternativa que contém a fração correspondente ao decimal 0,75.

A) $\frac{6}{5}$

B) $\frac{5}{8}$

C) $\frac{7}{5}$

D) $\frac{3}{7}$

E) $\frac{3}{4}$

QUESTÃO 22 – A cada 10 mil quilômetros percorridos, João faz a manutenção preventiva de seu automóvel: troca o óleo, faz geometria e balanceamento e troca os filtros. Ele fez uma pesquisa nas oficinas de seu bairro e os melhores preços encontrados foram:

Troca de óleo	R\$ 298,50
Geometria e balanceamento	R\$ 127,00
Troca dos filtros	R\$ 455,00

Nessa manutenção, João gastará o valor total de:

- A) R\$ 870,50.
- B) R\$ 780,50.
- C) R\$ 880,50.
- D) R\$ 800,50.
- E) R\$ 808,50.

QUESTÃO 23 – Suponha que um ônibus escolar de certa prefeitura tenha a capacidade de transportar, em segurança, 30 alunos sentados por viagem. Sabendo que o ônibus faz 15 paradas fixas para pegar os alunos e que o tempo total de cada viagem é de 1,5 hora, o intervalo médio entre as paradas desse ônibus é de:

- A) 5 minutos.
- B) 6 minutos.
- C) 9 minutos.
- D) 10 minutos.
- E) 15 minutos.

QUESTÃO 24 – Daniela tem três irmãs: Flávia, que nasceu em fevereiro; Sandra, que nasceu em setembro; e Natália, que nasceu em novembro. Em que mês Daniela nasceu?

- A) Abril.
- B) Maio.
- C) Outubro.
- D) Dezembro.
- E) Janeiro.

QUESTÃO 25 – O tanque de combustível do carro de Alfredo tem capacidade para 51 litros de gasolina ou de álcool, pois é um carro flex. Sabendo que o tanque está com 75% de sua capacidade, para completá-lo, Alfredo necessitará colocar quantos litros de combustível?

- A) 12,75.
- B) 25.
- C) 35.
- D) 38,25.
- E) 15.

CONHECIMENTOS ESPECÍFICOS

QUESTÃO 26 – Conforme o Capítulo II do Sistema Nacional de Trânsito, é um objetivo básico:

- A) Extinguir, mediante normas e procedimentos, a padronização de critérios técnicos, financeiros e administrativos para a execução das atividades de trânsito.
- B) Fixar, mediante normas e procedimentos, a padronização de critérios técnicos, financeiros e administrativos para a execução das atividades de trânsito.
- C) Abolir diretrizes da Política Nacional de Trânsito, com vistas à segurança, à fluidez, ao conforto, à defesa ambiental e à educação para o trânsito, e fiscalizar seu cumprimento.
- D) Revogar a sistemática de fluxos permanentes de informações entre os seus diversos órgãos e entidades, a fim de facilitar o processo decisório e a integração do Sistema.
- E) Dissolver, mediante normas e procedimentos, a padronização de critérios técnicos, financeiros e administrativos para a execução das atividades de trânsito.

QUESTÃO 27 – Considerando o Art. 67-C do Código de Trânsito Brasileiro (CTB), é vedado ao motorista profissional dirigir veículos de transporte rodoviário coletivo de passageiros ou de transporte rodoviário de cargas por mais de quantas horas ininterruptas?

- A) 8 (oito) horas.
- B) 7 (sete) horas.
- C) 6 (seis) horas e meia.
- D) 6 (seis) horas.
- E) 5 (cinco) horas e meia.

QUESTÃO 28 – De acordo com o CTB, no Art. 71, o órgão ou entidade com circunscrição sobre a via manterá, _____, as faixas e passagens de pedestres em boas condições de visibilidade, higiene, segurança e sinalização.

Assinale a alternativa que preenche corretamente a lacuna do trecho acima.

- A) prioritariamente
- B) provisoriamente
- C) obrigatoriamente
- D) excessivamente
- E) necessariamente

QUESTÃO 29 – Conforme o CTB, nenhum veículo poderá transitar com equipamento ou acessório proibido, sendo o infrator sujeito:

- A) Apenas às medidas administrativas.
- B) Às penalidades e medidas administrativas.
- C) Apenas às penalidades.
- D) Apenas à advertência.
- E) Apenas à retenção do veículo.

QUESTÃO 30 – Conforme o CTB, Art. 73, os órgãos ou entidades pertencentes ao Sistema Nacional de Trânsito têm o dever de _____ as solicitações e responder, por escrito, dentro de prazos mínimos, sobre a possibilidade ou não de atendimento, esclarecendo ou justificando a análise efetuada, e, se pertinente, informando ao solicitante quando tal evento ocorrerá.

Assinale a alternativa que preenche corretamente a lacuna do trecho acima.

- A) analisar
- B) desconsiderar
- C) digitar
- D) justificar
- E) deletar

QUESTÃO 31 – Referente à educação no trânsito, assinale a alternativa INCORRETA.

- A) Toda peça publicitária destinada à divulgação ou promoção, nos meios de comunicação individual, de produto oriundo da indústria automobilística ou afim, incluirá, eventualmente, mensagem educativa de trânsito a ser conjuntamente veiculada.
- B) No âmbito da educação para o trânsito, caberá ao Ministério da Saúde, mediante proposta do Contran, estabelecer campanha nacional para esclarecer condutas a serem seguidas nos primeiros socorros em caso de sinistros de trânsito.
- C) Os Ministérios da Saúde, da Educação, do Trabalho e Emprego, dos Transportes e da Justiça e Segurança Pública, por intermédio do Contran, desenvolverão e implementarão programas destinados à prevenção de sinistros.
- D) Os órgãos e entidades executivos de trânsito poderão firmar convênio com os órgãos de educação da União, dos Estados, do Distrito Federal e dos Municípios, objetivando o cumprimento das obrigações estabelecidas na Lei.
- E) A educação para o trânsito é direito de todos e constitui dever prioritário para os componentes do Sistema Nacional de Trânsito.

QUESTÃO 32 – Os sinais de trânsito são classificados em:

- I. Verticais; horizontais.
- II. Dispositivos de sinalização auxiliar; gestos do agente de trânsito e do condutor.
- III. Luminosos; sonoros.

Quais estão corretas?

- A) Apenas I.
- B) Apenas II.
- C) Apenas I e III.
- D) Apenas II e III.
- E) I, II e III.

QUESTÃO 33 – Conforme o CTB, somente poderá transitar pelas vias terrestres o veículo cujo peso e dimensões atenderem aos limites estabelecidos pelo:

- A) Cetran.
- B) Detran.
- C) Denatran.
- D) Contradife.
- E) Contran.

QUESTÃO 34 – Consiste na perda de contato entre o pneu de um automóvel e o asfalto em virtude do acúmulo de água sobre o solo:

- A) Derrapagem.
- B) Frenagem.
- C) Aquaplanagem.
- D) Arrefecimento.
- E) Calibragem.

QUESTÃO 35 – O sistema de arrefecimento é um item fundamental para garantir o bom desempenho e a durabilidade do motor. Qual dos componentes abaixo NÃO pertence ao sistema de arrefecimento?

- A) Bomba d'água.
- B) Bomba injetora.
- C) Radiador.
- D) Termostato.
- E) Ventoinha.

QUESTÃO 36 – Todo pneu traz em sua lateral vários números e letras, que são códigos para identificar sua configuração. Assinale a alternativa que corresponde ao número 17, conforme a Figura 4 abaixo:



Figura 4

- A) Índice de carga.
- B) Índice de velocidade.
- C) Diâmetro da roda.
- D) Largura.
- E) Altura/proporção.

QUESTÃO 37 – Em relação ao sistema de embreagem, relacione a Coluna 1 à Coluna 2.

Coluna 1

- 1. Mola.
- 2. Marcha.
- 3. Pedal.

Coluna 2

- () Ao ser acionado(a), um sistema mecânico (por cabo de aço) ou hidráulico (por fluido de embreagem) transfere a pressão colocada pelo pé do motorista para o cilindro auxiliar, chamado(a), por vezes, de servo de embreagem.
- () Afasta o disco de embreagem alguns milímetros do volante do motor, desacoplando-o. Essa peça, ou um conjunto dessas, faz um movimento de alavanca: ao ser pressionada no centro, ergue as extremidades, puxando o disco.
- () Passa de uma para outra, sem que haja o impacto da força do motor nas engrenagens da caixa de câmbio.

A ordem correta de preenchimento dos parênteses, de cima para baixo, é:

- A) 1 – 3 – 2.
- B) 2 – 1 – 3.
- C) 2 – 3 – 1.
- D) 3 – 1 – 2.
- E) 3 – 2 – 1.

QUESTÃO 38 – Em relação à manutenção preventiva, assinale a alternativa INCORRETA.

- A) Manutenção preventiva, ou revisão preventiva, é um combo de ações para monitorar e manter a conservação do carro.
- B) É indicado que a revisão preventiva do carro seja feita a cada seis meses, ou após dez mil quilômetros rodados.
- C) A manutenção do carro deve ser feita de forma periódica, para evitar problemas mecânicos e manter uma direção segura.
- D) Revisão da necessidade de limpeza do sistema de arrefecimento não faz parte do checklist de manutenção preventiva do carro.
- E) Faz parte do checklist de manutenção preventiva do carro: calibragem dos pneus e revisão do funcionamento do sistema de ar-condicionado.

QUESTÃO 39 – Conforme o CTB, em relação ao crime de trânsito, assinale a alternativa correta.

- A) Conduzir veículo com permissão para dirigir ou carteira de habilitação de categoria diferente da do veículo não agrava a penalidade.
- B) Não é considerado crime de trânsito quando a profissão ou atividade do condutor exige cuidados especiais com o transporte de passageiros ou de carga.
- C) A penalidade de suspensão ou de proibição de se obter a permissão ou a habilitação para dirigir veículo automotor tem duração de seis meses a dois anos.
- D) A penalidade de suspensão ou de proibição de se obter a permissão ou a habilitação para dirigir veículo automotor não se inicia enquanto o sentenciado, por efeito de condenação penal, estiver recolhido a estabelecimento prisional.
- E) A suspensão ou a proibição de se obter a permissão ou a habilitação para dirigir veículo automotor não pode ser imposta isolada ou cumulativamente com outras penalidades.

QUESTÃO 40 – De acordo com o CTB, transitar pela contramão de direção em vias com sinalização de regulamentação de sentido único de circulação configura infração de trânsito e sujeita o infrator a penalidades e medidas administrativas. Sobre o tipo de infração configurada e suas respectivas penalidades e medidas nesse caso, analise as assertivas a seguir:

- I. Infração – gravíssima.
- II. Infração – grave.
- III. Penalidade – multa.

Quais estão corretas?

- A) Apenas I.
- B) Apenas II.
- C) Apenas III.
- D) Apenas I e III.
- E) I, II e III.