

CF4 | Motorista

Instruções



Confira o número que você obteve no ato da inscrição com o que está indicado no cartão-resposta.

* A duração da prova inclui o tempo para o preenchimento do cartão-resposta.

Para fazer a prova você usará:

- este **caderno de prova**.
- um **cartão-resposta** que contém o seu nome, número de inscrição e espaço para assinatura.

Verifique, no caderno de prova, se:

- faltam folhas e a sequência de questões está correta.
- há imperfeições gráficas que possam causar dúvidas.

Comunique imediatamente ao fiscal qualquer irregularidade!

Atenção!

- Não é permitido qualquer tipo de consulta durante a realização da prova.
- Para cada questão são apresentadas 5 alternativas diferentes de respostas (a, b, c, d, e). Apenas uma delas constitui a resposta correta em relação ao enunciado da questão.
- A interpretação das questões é parte integrante da prova, não sendo permitidas perguntas aos fiscais.
- Não destaque folhas da prova.

Ao terminar a prova, entregue ao fiscal o caderno de prova completo e o cartão-resposta devidamente preenchido e assinado.



19 de outubro



25 questões



8 às 11h



3h de duração*



Língua Portuguesa

5 questões

1. Assinale a alternativa em que **todas** as palavras foram separadas **corretamente**.

- a. ruí-na • bi-sa-vó • a-mor
 b. e-xi-gen-te • ex-ces-so • mai-o
 c. trans-bor-dar • trans-a-tlân-ti-co • a-lho
 d. ál-co-ol • con-stan-te • ca-chor-ro
 e. a-tri-to • pi-sci-na • bo-li-nha

2. Complete as lacunas do texto abaixo:

..... vários dias que ela sai para andar
 cavalo pelo sítio. Sempre cinco horas da tarde.
 Depois volta casa de seus pais para o café.

Assinale a alternativa que completa **correta** e sequencialmente as lacunas do texto.

- a. À • a • as • a
 b. À • a • às • à
 c. À • à • às • à
 d. Há • a • às • à
 e. Há • à • as • a

3. Complete as frases abaixo:

- O da Orquestra Filarmônica de Campinas será amanhã!
 ■ Era um feliz. Pastoreava ovelhas e vivia no campo.
 ■ Cometeu uma ao ultrapassar o limite de velocidade.

Assinale a alternativa que completa **correta** e sequencialmente as lacunas das frases.

- a. concerto • peão • infração
 b. concerto • pião • infração
 c. conserto • pião • inflação
 d. conserto • peão • infração
 e. conserto • peão • inflação

4. Assinale a alternativa em que **todas** as palavras foram acentuadas corretamente.

- a. anél • anéis
 b. só • sózinho
 c. café • cafézinho
 d. enjão • abenção
 e. gás • gasômetro

5. Assinale a alternativa **correta** segundo a norma-padrão.

- a. Mais de uma aluna veio pedir revisão da prova.
 b. Um por cento não compareceram à aula.
 c. Havia crianças nos campos de batalha!
 d. Fazem dois dias que não como nada.
 e. Existe relatos mal feitos.

Higiene e Segurança no Trabalho 5 questões

6. Zelar pela higiene pessoal é muito importante para manter uma boa imagem profissional e um ambiente agradável para o convívio com os colegas de trabalho.

Em relação às boas práticas de higiene pessoal, recomenda-se:

1. Escovar os dentes.
2. Usar roupas limpas.
3. Evitar lavar as mãos.
4. Tomar banho diariamente.

Assinale a alternativa que indica todas as afirmativas **corretas**.

- a. São corretas apenas as afirmativas 1 e 3.
 b. São corretas apenas as afirmativas 2 e 4.
 c. São corretas apenas as afirmativas 1, 2 e 4.
 d. São corretas apenas as afirmativas 2, 3 e 4.
 e. São corretas as afirmativas 1, 2, 3 e 4.

7. Acidentes causados por choque elétrico podem provocar queimaduras, problemas cardíacos e neurológicos e levar a vítima a óbito. Por isso, saber como agir até a chegada dos paramédicos pode ser determinante.

Analise as afirmativas abaixo com base em seus conhecimentos de primeiros socorros.

1. Desligue a fonte de energia e chame o socorro.
2. Agarre a vítima com força e afaste-a da fonte.
3. Se a vítima estiver consciente, tente acalmá-la.

Assinale a alternativa que indica todas as afirmativas **corretas**.

- a. É correta apenas a afirmativa 1.
 b. São corretas apenas as afirmativas 1 e 2.
 c. São corretas apenas as afirmativas 1 e 3.
 d. São corretas apenas as afirmativas 2 e 3.
 e. São corretas as afirmativas 1, 2 e 3.

8. Ao profissional que realiza serviços de alvenaria, antes de iniciar uma atividade é recomendado verificar quais equipamentos de proteção individual devem ser utilizados, de modo a garantir sua segurança no desempenho das funções.

Assinale a alternativa que indica **corretamente** equipamento de proteção indispensável em locais com altos ruídos provocados por ferramentas e máquinas.

- a. Protetor auditivo
- b. Botas feitas em PVC
- c. Respirador semifacial
- d. Capacete aba frontal
- e. Óculos de proteção

9. Antes de iniciar um trabalho de pintura é preciso verificar algumas questões ambientais e técnicas para garantir a qualidade do serviço, tais como:

1. Características da tinta.
2. Tipo de solvente adequado.
3. Local coberto ou a céu aberto.
4. Tipo de superfície a ser pintada.

Assinale a alternativa que indica todas as afirmativas **corretas**.

- a. São corretas apenas as afirmativas 3 e 4.
- b. São corretas apenas as afirmativas 1, 2 e 4.
- c. São corretas apenas as afirmativas 1, 2 e 3.
- d. São corretas apenas as afirmativas 2, 3 e 4.
- e. São corretas as afirmativas 1, 2, 3 e 4.

10. Por segurança, o profissional operador de máquinas e ferramentas deve evitar o uso de acessórios como relógios, pulseiras e anéis no exercício das atividades. O uso de roupas inadequadas à função também não é recomendado.

Essas medidas são importantes para se evitar:

- a. Falha mecânica.
- b. Furto de pertences.
- c. Descargas elétricas.
- d. Acidentes de trabalho.
- e. Conflitos com os colegas.

Noções de Matemática

5 questões

11. Uma impressora imprime 660 páginas em 6 horas.

Quantas páginas são impressas em 12 minutos?

- a. Menos de 20
- b. Mais de 20 e menos de 23
- c. Mais de 23 e menos de 26
- d. Mais de 26 e menos de 29
- e. Mais de 29

12. Dois amigos trabalham juntos em um projeto e concordam em dividir o lucro de maneira proporcional às suas idades. O mais novo tem 22 anos e a soma das idades deles é 55. O lucro obtido com o projeto é de R\$ 8.000.

Logo, o amigo mais velho irá receber, em reais:

- a. Menos de 4300.
- b. Mais de 4300 e menos de 4500.
- c. Mais de 4500 e menos de 4700.
- d. Mais de 4700 e menos de 4900.
- e. Mais de 4900.

13. Um capital é investido em uma aplicação que rende 1,2% de juros simples mensais. Após 5 meses, o valor obtido em juros é igual a R\$ 258.

Logo, o capital inicial investido, em reais, é:

- a. Menor que 4140.
- b. Maior que 4140 e menor que 4190.
- c. Maior que 4190 e menor que 4240.
- d. Maior que 4240 e menor que 4290.
- e. Maior que 4290.

14. Uma pessoa repartiu o seu dinheiro entre três outras. A primeira recebeu $\frac{1}{4}$, a segunda $\frac{1}{6}$ e a terceira recebeu R\$ 420.

Logo, o valor em reais que a primeira pessoa recebeu é:

- a. Menor que 160.
- b. Maior que 160 e menor que 175.
- c. Maior que 175 e menor que 190.
- d. Maior que 190 e menor que 205.
- e. Maior que 205.

15. Em um zoológico, a razão entre o número de aves e o número de mamíferos é 2:5.

Se o zoológico conta com 42 mamíferos a mais que aves, então o número de mamíferos neste zoológico é:

- a. Menor que 69.
- b. Maior que 69 e menor que 74.
- c. Maior que 74 e menor que 79.
- d. Maior que 79 e menor que 84.
- e. Maior que 84.

Conhecimentos Específicos

10 questões

16. Segundo o Código de Trânsito Brasileiro, antes de iniciar qualquer manobra que implique um deslocamento lateral, o condutor deverá indicar seu propósito de forma clara e com a devida antecedência, por meio de:

- a. luz indicadora de direção de seu veículo, ou fazendo gesto convencional de braço.
- b. uso do pisca-alerta.
- c. uso do farol baixo.
- d. uso do farol alto.
- e. luz de ré.

17. Segundo o Código de Trânsito Brasileiro, nos locais em que houver sinalização semafórica de controle de passagem será dada preferência:

- a. aos ciclistas.
- b. aos motociclistas.
- c. aos veículos do transporte público.
- d. aos veículos elétricos.
- e. aos pedestres que não tenham concluído a travessia, mesmo em caso de mudança do semáforo liberando a passagem dos veículos.






18. Segundo o Código de Trânsito Brasileiro, no caso de transferência de propriedade, o prazo para o proprietário adotar as providências necessárias à efetivação da expedição do novo Certificado de Registro de Veículo é de:

- a. 7 dias.
- b. 10 dias úteis.
- c. 15 dias.
- d. 30 dias.
- e. 45 dias.

19. Segundo o Código de Trânsito Brasileiro (CTB), é considerada uma infração leve:

- a. Transportar crianças em veículo automotor sem observância das normas de segurança especiais estabelecidas no CTB.
- b. Confiar ou entregar a direção de veículo a pessoa que, mesmo habilitada, por seu estado físico ou psíquico, não estiver em condições de dirigi-lo com segurança.
- c. Dirigir sem atenção ou sem os cuidados indispensáveis à segurança.
- d. Dirigir veículo sem possuir Carteira Nacional de Habilitação, Permissão para Dirigir ou Autorização para Conduzir Ciclomotor.
- e. Dirigir veículo sem usar lentes corretoras de visão, aparelho auxiliar de audição, de prótese física ou as adaptações do veículo impostas por ocasião da concessão ou da renovação da licença para conduzir.

20. De acordo com o Código de Trânsito Brasileiro vigente, a placa de sinal de advertência, que significa "Depressão", é:

- a. 
- b. 
- c. 
- d. 
- e. 

21. O tipo de acidente indicado na imagem abaixo é chamado de:

- a. Capotamento.
- b. Tombamento.
- c. Saída da pista.
- d. Abalroamento.
- e. Colisão frontal.



22. A primeira regra a ser seguida no atendimento de um acidente de trânsito é:

- a. Oferecer água às vítimas.
- b. Avaliar a situação.
- c. Retirar as vítimas dos veículos o mais rápido possível.
- d. Ligar para os parentes.
- e. Ir até o posto de atendimento mais próximo.

23. O componente de suspensão automotiva apresentado na figura abaixo é:

- a. um feixe de molas.
- b. uma mola helicoidal.
- c. um amortecedor.
- d. um braço de direção.
- e. um semieixo.



24. Em um motor a diesel sobrealimentado, o componente que é responsável por comprimir o ar de alimentação do motor, para aumentar sua quantidade e pressão na admissão, é conhecido como:

- a. Intercooler.
- b. Bico injetor.
- c. Catalisador.
- d. Válvula de recirculação de ar.
- e. Turbina.

25. No painel de instrumentos de um veículo, o símbolo ilustrado ao lado se refere ao:

- a. Alerta de pressão do fluido de freio.
- b. Indicador de pressão do óleo lubrificante.
- c. Indicador de desembaçador elétrico de vidros ativo.
- d. Alerta de temperatura do líquido de arrefecimento.
- e. Indicador de freio de estacionamento ativo.



Coluna
em Branco.
(rascunho)

Utilize a grade ao lado para anotar as suas respostas.

Não destaque esta folha. Ao entregar sua prova, o fiscal irá destacar e entregar esta grade de respostas que você poderá levar para posterior conferência.



GRADE DE RESPOSTAS

1	
2	
3	
4	
5	
6	
7	
8	
9	
10	
11	
12	
13	
14	
15	

16	
17	
18	
19	
20	
21	
22	
23	
24	
25	

CF4 Motorista



MUNICÍPIO DE
CAXAMBU DO SUL

CONCURSO PÚBLICO





FEPese

FUNDAÇÃO DE ESTUDOS E PESQUISAS SOCIOECONÔMICOS

Campus Universitário • UFSC
88040-900 • Florianópolis • SC
Fone/Fax: (48) 3953-1000
<http://www.fepese.org.br>