



UNIVERSIDADE FEDERAL DE JATAÍ

CONCURSO PÚBLICO

CADERNO DE PROVA – NÍVEL SUPERIOR (TARDE)

Contador

LEIA ATENTAMENTE AS SEGUINTE INSTRUÇÕES:

1. Este caderno de prova contém **55 (cinquenta e cinco) questões objetivas**, numeradas de 1 a 55 e distribuídas da seguinte forma:
 - a) de 1 a 10 – Língua Portuguesa;
 - b) de 11 a 20 – Matemática e Raciocínio Lógico;
 - c) de 21 a 25 – Noções de Informática;
 - d) de 26 a 30 – Legislação;
 - e) de 31 a 55 – Conhecimentos Específicos
2. Confira se a quantidade e a ordem das questões deste caderno de prova estão de acordo com as instruções anteriores. Caso o caderno esteja incompleto, tenha defeito ou apresente qualquer divergência, comunique imediatamente ao fiscal de sala para que ele tome as providências cabíveis.
3. Para cada uma das questões objetivas, são apresentadas **5 (cinco) opções de resposta**. Apenas **1 (uma)** resposta responde corretamente à questão.
4. O tempo disponível para esta prova é de **4 (quatro) horas**.
5. Reserve tempo suficiente para marcar a sua folha de respostas.
6. Os rascunhos e as marcações assinaladas neste caderno **não** serão considerados na avaliação.
7. O candidato somente poderá se retirar do local da aplicação das provas após **60 (sessenta) minutos** de seu início.
8. Quando terminar, chame o fiscal de sala, entregue este **caderno de prova** e a **folha de respostas**.
9. O candidato somente poderá retirar-se do local da aplicação levando consigo o caderno de provas a partir dos últimos **30 (trinta) minutos** para o término da prova.
10. **Boa prova!**

LÍNGUA PORTUGUESA



Leia atentamente o texto a seguir e responda às questões de 1 a 20.

“Detox digital” reduz não só as emoções negativas, mas também as positivas

Dar um tempo das redes sociais – o popular “detox digital” – traz benefícios para a redução de sentimentos negativos que já foram amplamente descritos pelos cientistas. Agora, um novo trabalho mostra que o distanciamento dessas plataformas também pode diminuir, simultaneamente, as emoções positivas dos usuários.

Se por um lado a abstinência dos aplicativos ajuda a reduzir as experiências negativas – como comparação social, comentários depreciativos e até bullying –, por outro, o jejum também minora ações que trazem sensações de recompensa social, como likes, crescimento do número de seguidores e mensagens positivas.

O resultado surpreendeu os próprios cientistas responsáveis pelo estudo, que descreveram a situação como inesperada.

“Acreditamos que isso [diminuição dos sentimentos positivos dos participantes] se deve a uma ‘perda’ de experiências socialmente gratificantes das redes sociais”, explica um dos autores do trabalho, Niklas Ihssen, que é professor do departamento de psicologia da Universidade de Durham, no Reino Unido.

“As nossas descobertas sugerem que as redes oferecem recompensas sociais poderosas, e a abstenção pode, portanto, levar a alguma redução das emoções positivas, porque essas recompensas já não estão disponíveis”, diz o cientista.

O artigo, publicado na última quarta-feira (8) na revista especializada PLoS One, tentou compensar ainda um outro desequilíbrio frequente em pesquisas que avaliam as emoções dos usuários: o recurso exclusivo a questionários em que os próprios participantes mensuram e descrevem seus sentimentos.

Em muitos dos trabalhos dessa área, a autoavaliação dos voluntários é a principal ferramenta para medir os efeitos psicológicos.

Para ultrapassar isso, os cientistas optaram por mesclar esses questionários com diversas abordagens, incluindo experiências em laboratório. O objetivo principal era captar certas consequências implícitas da abstinência das redes.

“Um dos desafios é acompanhar, de uma forma realista, os efeitos da redução do consumo [das redes sociais]. Entre outras técnicas, utilizamos para isso um método denominado ‘avaliação ecológica momentânea’. Nele, os participantes recebem miniquestionários em seus smartphones em vários momentos do dia, permitindo uma avaliação mais naturalista do humor e dos comportamentos”, descreve Niklas Ihssen.

Além das pequenas pesquisas, havia ainda uma avaliação maior. Por volta das 21h30 de cada dia do experimento, o grupo avaliado respondia a um questionário mais abrangente.

Ao longo do trabalho, os voluntários tiveram de fazer visitas também a um laboratório da Universidade de Durham, onde foram realizados testes mais aprofundados

que mensuravam outras componentes, como percepção temporal e de esforço e a reação a estímulos.

Durante todo o estudo, os participantes tiveram uma ferramenta que monitorava o tempo de uso das telas. Embora tenham sido orientados a não entrarem nas redes sociais e a desabilitarem as notificações, eles não precisaram deletar os respectivos aplicativos do celular.

Segundo os autores, manter os apps nos dispositivos contribuiu para evitar que o grupo estudado usasse outros dispositivos para acessar as redes. Essa configuração permitiu ainda que os cientistas identificassem eventuais “recaídas” no uso das ferramentas.

No próprio experimento, aliás, vários participantes não conseguiram manter o detox total. Apenas 7 dos 51 envolvidos conseguiram ficar completamente abster-se durante os sete dias determinados. A maioria, porém, reduziu drasticamente o uso.

A própria ideia de ter de ficar sem redes sociais já foi o suficiente para, de acordo com os cientistas, dificultar o recrutamento para o experimento.

“Os participantes precisavam estar preparados para se absterem das redes sociais durante uma semana, e muitos fatores podem ter inicialmente dissuadido os indivíduos de fazerem isto, incluindo o chamado FOMO [‘fear of missing out’, ou medo de perder algo, na sigla em inglês]”, diz o autor.

Segundo Niklas Ihssen, embora a abstinência total tenha se mostrado difícil, a maioria dos envolvidos pode diminuir consideravelmente o tempo passado nas redes, saindo de uma média de 3 a 4 horas diárias para cerca de 30 minutos durante o experimento.

O estudo mostrou ainda que, de uma maneira geral, os participantes também não tiveram manifestações relevantes de sintomas relacionados à síndrome de abstinência.

“Em última análise, os nossos resultados implicam que é possível reduzir substancialmente o uso das redes sociais sem ter efeitos colaterais significativos no humor e em outros processos psicológicos. Ao mesmo tempo, parece difícil abster-se completamente”, completa o autor.

(Giuliana Miranda.

<https://www1.folha.uol.com.br/ciencia/2023/11/detox-digital-reduz-nao-so-as-emocoes-negativas-mas-as-positivas-tambem.shtml>. 16.nov.2023)

Questão 1

Em relação às ideias do texto, analise as afirmativas a seguir:

- I. A abstinência em relação às redes sociais provoca um duplo efeito: ao mesmo tempo em que protege o indivíduo de sentimentos negativos, pode levá-lo a sofrer pela ausência de recompensas positivas.
- II. Um dos motivos para a não adesão à pesquisa foi a justificativa de não ficar longe das redes sociais, e isso prejudicou largamente os resultados obtidos, pela falta de representatividade.
- III. A permanência dos aplicativos nos celulares possibilitou o monitoramento de recaídas dos participantes, ao mesmo tempo em que não tornava necessário buscar outros aparelhos caso não resistissem ao experimento.

Assinale

- (A) se apenas as afirmativas I e II estiverem corretas.
- (B) se apenas as afirmativas I e III estiverem corretas.
- (C) se apenas as afirmativas II e III estiverem corretas.
- (D) se nenhuma afirmativa estiver correta.
- (E) se todas as afirmativas estiverem corretas.

Questão 2

O texto, em relação ao seu propósito de composição, apresenta natureza

- (A) argumentativa, por apresentar a tese da autora.
- (B) descritiva, por se concentrar nos detalhes constituintes da pesquisa.
- (C) dissertativa embasada por aspecto jornalístico, narrando e comentando o processo do experimento.
- (D) injuntiva, por apresentar, como objetivo maior os objetivos do experimento e o modo de fazê-lo.
- (E) narrativa, por se concentrar nas falas dos personagens envolvidos no experimento, mormente por colher suas impressões com a experiência de vivê-lo.

Questão 3

Dar um tempo das redes sociais – o popular "detox digital" – traz benefícios para a redução de sentimentos negativos que já foram amplamente descritos pelos cientistas. (L.1-4)

O nome popular para "dar um tempo das redes sociais" constitui, como no período acima, exemplo de

- (A) metonímia.
- (B) catacrese.
- (C) sinestesia.
- (D) eufemismo.
- (E) metáfora.

Questão 4

Essa configuração permitiu ainda que os cientistas identificassem eventuais "recaídas" no uso das ferramentas. (L.66-68)

O termo entre aspas no período acima agrega um valor semântico não explícito no texto como um todo.

Nesse sentido, assinale a alternativa em que se indique corretamente o universo de sentido que é evocado pelo termo.

- (A) vício
- (B) decadência
- (C) perda de posição social
- (D) degradação moral
- (E) deliberado aprisionamento

Questão 5

O artigo, publicado na última quarta-feira (8) na revista especializada PLoS One, tentou compensar ainda um outro desequilíbrio frequente em pesquisas que avaliam as emoções dos usuários: o recurso exclusivo a questionários em que os próprios participantes mensuram e descrevem seus sentimentos. (L.28-33)

O segmento sublinhado no período acima, em relação ao que é dito anteriormente, desempenha papel de

- (A) exemplificação.
- (B) explicação.
- (C) especificação.
- (D) enumeração.
- (E) explicitação.

Questão 6

Em "ferramentas" (L.68), há

- (A) sete fonemas.
- (B) oito fonemas.
- (C) nove fonemas.
- (D) dez fonemas.
- (E) onze fonemas.

Questão 7

Dar um tempo das redes sociais – o popular "detox digital" – traz benefícios para a redução de sentimentos negativos que já foram amplamente descritos pelos cientistas. Agora, um novo trabalho mostra que o distanciamento dessas plataformas também pode diminuir, simultaneamente, as emoções positivas dos usuários. (L.1-7)

As duas ocorrências do QUE no período acima se classificam, respectivamente, como

- (A) pronome relativo e pronome relativo.
- (B) conjunção integrante e conjunção integrante.
- (C) conjunção integrante e pronome relativo.
- (D) pronome relativo e conjunção integrante.
- (E) conjunção subordinativa e preposição.

Questão 8

Assinale a alternativa em que o termo indicado exerça função sintática **distinta** da das demais.

- (A) [diminuição dos sentimentos positivos dos participantes] (L.17-18)
- (B) Niklas Ihssen (L.20)
- (C) PLoS One (L.29)
- (D) 'avaliação ecológica momentânea' (L.45)
- (E) ['fear of missing out', ou medo de perder algo, na sigla em inglês] (L.81-82)

Questão 9

Para ultrapassar isso, os cientistas optaram por mesclar esses questionários com diversas abordagens, incluindo experiências em laboratório. (L.37-39)

O termo sublinhado no período acima desempenha papel

- (A) dêitico.
- (B) catafórico.
- (C) exofórico.
- (D) epanafórico.
- (E) anafórico.

Questão 10

Assinale a alternativa em que **não** se encontre exemplo de voz passiva.

- (A) Dar um tempo das redes sociais – o popular "detox digital" – traz benefícios para a redução de sentimentos negativos que já foram amplamente descritos pelos cientistas. (L.1-4)
- (B) O artigo, publicado na última quarta-feira (8) na revista especializada PLoS One, tentou compensar ainda um outro desequilíbrio frequente em pesquisas que avaliam as emoções dos usuários: o recurso exclusivo a questionários em que os próprios participantes mensuram e descrevem seus sentimentos. (L.28-33)
- (C) Ao longo do trabalho, os voluntários tiveram de fazer visitas também a um laboratório da Universidade de Durham, onde foram realizados testes mais aprofundados que mensuravam outras componentes, como percepção temporal e de esforço e a reação a estímulos. (L.54-58)
- (D) Embora tenham sido orientados a não entrarem nas redes sociais e a desabilitarem as notificações, eles não precisaram deletar os respectivos aplicativos do celular. (L.61-63)
- (E) Segundo Niklas Ihssen, embora a abstinência total tenha se mostrado difícil, a maioria dos envolvidos pode diminuir consideravelmente o tempo passado nas redes, saindo de uma média de 3 a 4 horas diárias para cerca de 30 minutos durante o experimento. (L.83-87)

MATEMÁTICA E RACIOCÍNIO LÓGICO

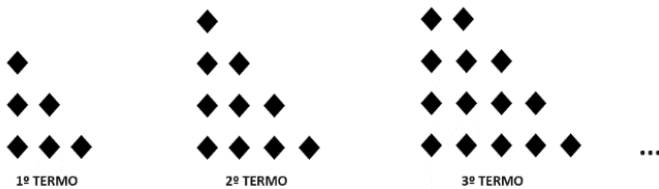
Questão 11

Bruno e Carlos apresentaram, cada um, o orçamento para execução de um serviço. Bruno cobra uma taxa fixa de R\$ 900,00 mais R\$ 150,00 por hora de execução do serviço, já Carlos cobra uma taxa fixa de R\$ 750,00 mais R\$ 200,00 por hora de execução do serviço. Qual o tempo mínimo, em horas, de execução do serviço, que torna o valor do orçamento de Bruno mais barato que de Carlos?

- (A) 1.
- (B) 2.
- (C) 3.
- (D) 4.
- (E) 5.

Questão 12

Observe a sequência de figuras formadas por losangos a seguir. Os termos dessa sequência seguem um padrão constante.



O total de losangos no 11º termo dessa sequência é igual a

- (A) 18.
- (B) 38.
- (C) 40.
- (D) 46.
- (E) 66.

Questão 13

Uma construtora contratou 20 profissionais para realizar uma obra de 800m² a ser concluída em 10 dias. Após o quarto dia, percebeu-se que o tamanho da obra era, na verdade, de 1000m² e que precisaria finalizá-la um dia antes do prazo estabelecido inicialmente. Quantos profissionais, com mesma capacidade, devem ser contratados para que se possa realizar a obra sob as novas condições?

- (A) 6.
- (B) 9.
- (C) 12.
- (D) 14.
- (E) 18.

Questão 14

Sabe-se que o terceiro termo de uma progressão geométrica alternada é igual a 16 e que seu nono termo é igual a 1024. A razão dessa progressão é igual a

- (A) -4.
- (B) -2.
- (C) 0.
- (D) 2.
- (E) 4.

Questão 15

A negação da proposição lógica “Cláudio não é rico e Marcos é inteligente” é a afirmativa

- (A) Cláudio é rico ou Marcos é inteligente.
- (B) Cláudio é rico e Marcos é inteligente.
- (C) Cláudio não é rico ou Marcos não é inteligente.
- (D) Cláudio é rico e Marcos não é inteligente.
- (E) Cláudio é rico ou Marcos não é inteligente.

Questão 16

A publicação de *fakenews* em uma rede social alcançou inicialmente 100 pessoas. Devido a vários compartilhamentos da informação, a quantidade de pessoas alcançadas pela notícia dobrou a cada hora desde a publicação inicial.

A função que relaciona a quantidade Q de pessoas alcançadas pela notícia, t horas após a publicação inicial é

- (A) $Q(t) = 100 + 2^t$
- (B) $Q(t) = 100^t$
- (C) $Q(t) = 100^{2t}$
- (D) $Q(t) = 100 \cdot 2^t$
- (E) $Q(t) = 102^t$

Questão 17

Uma microempresa criou um plano de metas, onde deseja ter um lucro diário de R\$ 700,00. Ela consegue produzir diariamente x caixas contendo, cada uma, 30 unidades de seu produto, e pode vender tudo o que produzir a um preço de R\$ 60,00 por caixa. O custo total, em reais, é dado pela expressão $C(x) = x^2 - 20x + 900$. Portanto, para que a empresa tenha lucro diário desejado, qual deve ser a quantidade de unidades que devem ser produzidas e vendidas por dia?

- (A) 40.
- (B) 200.
- (C) 400.
- (D) 600.
- (E) 800.

Questão 18

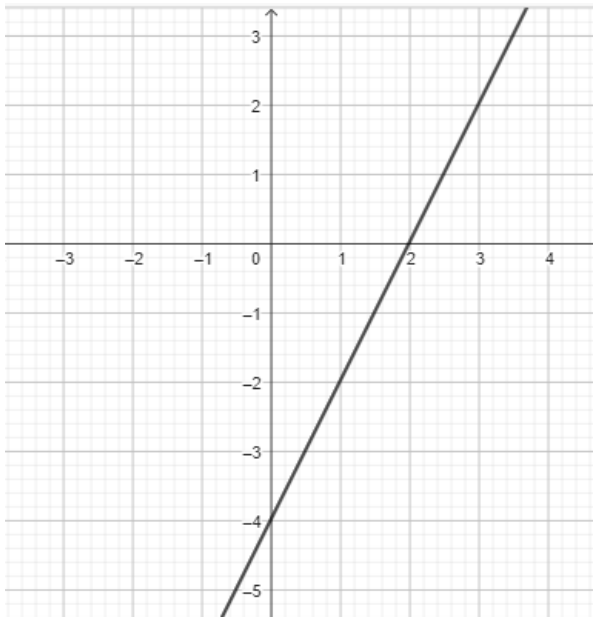
Uma loja possui dezoito funcionários, sendo cinco estoquistas, oito vendedoras, três funcionárias administrativas e dois seguranças. Sabe-se que essa empresa vai contratar vendedoras, aumentando em 50% o número atual de vendedoras.

O número total de funcionários após a contratação das novas vendedoras é igual a

- (A) 19.
- (B) 20.
- (C) 22.
- (D) 24.
- (E) 27.

Questão 19

A seguir temos o gráfico de uma função polinomial do 1º grau $f: \mathbb{R} \rightarrow \mathbb{R}$.



O valor de $f(-3)$ é igual a

- (A) - 6.
- (B) - 8.
- (C) - 10.
- (D) - 12.
- (E) - 14.

Questão 20

Bruno possui 6 cachorros e tem a quantidade de ração para alimentação deles para um período de 40 dias. Entretanto, 2 deles foram doados para seu primo e a ração foi reduzida à metade.

Por qual período de dias os cachorros restantes poderão ser alimentados com a quantidade de ração existente agora?

- (A) 15.
- (B) 30.
- (C) 45.
- (D) 60.
- (E) 65

NOÇÕES DE INFORMÁTICA

Questão 21

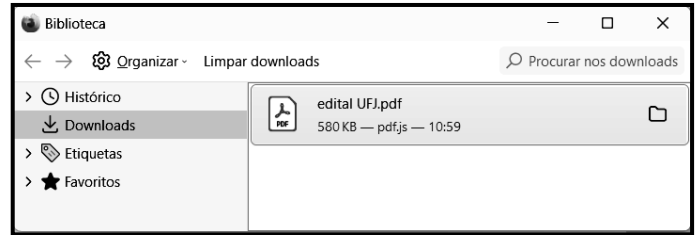
No que diz respeito à internet, um equipamento de interconexão possui importância capital, sendo o dispositivo responsável por distribuir a internet para um ou mais dispositivos, seja via cabo de rede, ou pela rede wifi. Esse equipamento suporta a conexão de computadores de uma rede interna entre si, permitindo que troquem dados internamente, mesmo sem uma conexão à internet pública. Tecnicamente, é um dispositivo de nível 3 da arquitetura OSI/ISO que opera na camada de rede com base no protocolo IP, sendo o grande responsável por encaminhar informações em pacotes de dados, traçando as melhores rotas na hora de conectar dispositivos com a internet sem fio.

Esse equipamento de interconexão é conhecido por

- (A) switch.
- (B) roteador.
- (C) hub.
- (D) repetidor.
- (E) modem.

Questão 22

No uso dos recursos do Firefox Mozilla em um notebook Intel, um funcionário da UFJ executou um atalho de teclado que exibiu a janela de diálogo, ilustrada pela figura abaixo.

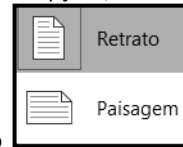


O atalho de teclado foi

- (A) Ctrl + S.
- (B) Ctrl + B.
- (C) Ctrl + D.
- (D) Ctrl + J.
- (E) Ctrl + L.

Questão 23

Durante a digitação de um texto no Word do pacote MSOffice 2019 BR, a guia Layout da Barra de Menu foi pressionada. Nas opções mostradas na Faixa de Opções, um ícone foi acionado,



exibindo a janela de diálogo, que mostra as duas modalidades possíveis de serem utilizadas na configuração do documento.

O ícone é

- (A) Tabela
- (B) Margens
- (C) Colunas
- (D) Tamanho
- (E) Orientação

Questão 24

A planilha da figura foi criada no Excel 2019 BR. Em D2, foi inserida a fórmula =SOMA(A2;A6). Em D4, foi inserida uma fórmula que determina a média aritmética entre todos os valores mostrados nas células A2, A3, A4, A5 e A6. Em D6, foi inserida a fórmula =MOD(D4;2).

	A	B	C	D
	UFJ UNIVERSIDADE FEDERAL DE JATAÍ			
1				
2	21		SOMA =	?
3	13			
4	18		MÉDIA =	16
5	17			
6	11		MOD =	?

Nessas condições, o valor mostrado em D2, a fórmula inserida em D4 e o valor mostrado em D6 são, respectivamente,

- (A) 32, =MÉDIA(A2:A6) e 0.
 (B) 80, =MÉDIA(A2:A6) e 1.
 (C) 32, =MÉDIA(A2:A6) e 1.
 (D) 80, =MED(A2:A6) e 0.
 (E) 32, =MED(A2:A6) e 1.

Questão 25

No contexto da segurança e proteção dos computadores na internet, tem sido comum a implementação de um dispositivo de segurança nas redes, que monitora o tráfego de entrada e saída e decide permitir ou bloquear tráfegos específicos, de acordo com um conjunto definido de regras de segurança.

Esse dispositivo de segurança é conhecido como

- (A) sniffer.
 (B) backup.
 (C) firewall.
 (D) nobreak.
 (E) deadlock.

LEGISLAÇÃO**Questão 26**

No Regimento Geral da UFJ, estão previstas várias Pró-Reitorias, como as listadas nas alternativas a seguir, à exceção de uma. Assinale-a.

- (A) Pesquisa e Inovação
 (B) Administração e Finanças
 (C) Assuntos Estudantis
 (D) Gestão de Pessoas
 (E) Processos Seletivos

Questão 27

De acordo com o que rege a Lei 8.112/90, analise as afirmativas a seguir:

- I. Além do vencimento, poderão ser pagas ao servidor as seguintes vantagens: adicionais; indenizações; gratificações; e remunerações.
- II. As indenizações não se incorporam ao vencimento ou provento para qualquer efeito.
- III. As vantagens pecuniárias não serão computadas, nem acumuladas, para efeito de concessão de quaisquer outros acréscimos pecuniários ulteriores, sob o mesmo título ou idêntico fundamento.

Assinale

- (A) se apenas as afirmativas I e II estiverem corretas.
 (B) se apenas as afirmativas I e III estiverem corretas.
 (C) se apenas as afirmativas II e III estiverem corretas.
 (D) se nenhuma afirmativa estiver correta.
 (E) se todas as afirmativas estiverem corretas.

Questão 28

Com base na Lei 11.091/2005, analise as afirmativas a seguir:

- I. O desenvolvimento do servidor na carreira dar-se-á, exclusivamente, pela mudança de nível de capacitação e de padrão de vencimento mediante, respectivamente, Progressão por Capacitação Profissional ou Progressão por Mérito Profissional.
- II. Progressão por Capacitação Profissional é a mudança de nível de capacitação, no mesmo cargo e nível de classificação, decorrente da obtenção pelo servidor de certificação em Programa de capacitação, compatível com o cargo ocupado, o ambiente organizacional e a carga horária mínima exigida, respeitado o interstício de 18 (dezoito) meses, nos termos da tabela constante dos Anexos da Lei.
- III. Progressão por Mérito Profissional é a mudança para o padrão de vencimento imediatamente subsequente, a cada 3 (três) anos de efetivo exercício, desde que o servidor apresente resultado fixado em programa de avaliação de desempenho, observado o respectivo nível de capacitação.

Assinale

- (A) se apenas as afirmativas I e II estiverem corretas.
 (B) se apenas as afirmativas I e III estiverem corretas.
 (C) se apenas as afirmativas II e III estiverem corretas.
 (D) se nenhuma afirmativa estiver correta.
 (E) se todas as afirmativas estiverem corretas.

Questão 29

A PNSST tem por princípios o listado nas alternativas a seguir, à exceção de uma. Assinale-a.

- (A) universalidade
 (B) prevenção
 (C) precedência das ações de assistência sobre as de prevenção
 (D) diálogo social
 (E) integralidade

Questão 30

Segundo o Estatuto da UFJ, analise as afirmativas a seguir:

- I. A extensão é a atividade acadêmica que articula o ensino e a pesquisa, com a finalidade de promover uma relação transformadora entre universidade e sociedade por meio de metodologias participativas, estimulando e promovendo ações e atividades voltadas ao desenvolvimento cultural, científico, artístico, tecnológico e do esporte, em todas as suas formas de expressão.
- II. A UFJ destinará dotação orçamentária não inferior a 20%, após descontar as despesas básicas da instituição, para o financiamento de projetos relacionados ao ensino, à pesquisa, à extensão e à pós-graduação, em todas as áreas do conhecimento.
- III. Os critérios e a concessão dos recursos mencionados, para cada uma das áreas, serão definidos no Regimento Geral da UFJ.

Assinale

- (A) se apenas as afirmativas I e II estiverem corretas.
- (B) se apenas as afirmativas I e III estiverem corretas.
- (C) se apenas as afirmativas II e III estiverem corretas.
- (D) se nenhuma afirmativa estiver correta.
- (E) se todas as afirmativas estiverem corretas.

CONHECIMENTOS ESPECÍFICOS**Questão 31**

Uma empresa apresentou as seguintes informações:

Discriminação	2021		2022		
Vendas de Mercadorias (líquido)	R\$ 8.000,00		R\$ 12.000,00		
Custo da Mercadoria Vendida - CMV	R\$ 3.600,00	0,45	R\$ 6.240,00	0,52	0,07
Lucro Bruto	R\$ 4.400,00	0,55	R\$ 5.760,00	0,48	(0,07)
Despesas Operacionais	R\$ 2.000,00	0,25	R\$ 3.240,00	0,27	0,02
Lucro Líquido	R\$ 2.400,00	0,30	R\$ 2.520,00	0,21	(0,09)

Considerando somente as informações apresentadas, a análise vertical da Demonstração do Resultado evidenciará que houve

- (A) queda de 9 pontos percentuais no Lucro Líquido em função do aumento do CMV e das Despesas Operacionais em 7 pontos percentuais.
- (B) queda de 7 pontos percentuais no Lucro Bruto em função do aumento das Despesas Operacionais em 2 pontos percentuais.
- (C) queda de 7 pontos percentuais no Lucro Bruto em função do aumento do CMV em 7 pontos percentuais.
- (D) aumento de 7 pontos percentuais no CMV em função da queda de 7 pontos percentuais no Lucro Bruto.
- (E) aumento de 2 pontos percentuais nas Despesas Operacionais em função da queda de 9 pontos percentuais no Lucro Líquido.



Observe as informações a seguir para responder às questões 32 e 33.

Uma empresa apresentou as seguintes informações:

Ativo Total	R\$ 10.000,00
Capital Circulante Líquido	R\$ 400,00
Patrimônio Líquido	R\$ 7.000,00
Passivo não circulante	R\$ 1.200,00

Sabendo-se que o Ativo não Circulante é composto somente pelo grupo de Ativo Realizável a Longo Prazo e o Passivo não Circulante é composto somente pelo grupo de Exigível a Longo Prazo, elabore o Balanço Patrimonial da empresa e responda às questões 32 e 33.

Questão 32

Considerando somente os dados apresentados, os Índices de Liquidez Corrente e de Liquidez Geral correspondem, respectivamente, a

- (A) 0,21 e 0,30.
- (B) 0,95 e 0,60.
- (C) 1,21 e 0,18.
- (D) 1,25 e 0,83.
- (E) 4,72 e 3,33.

Questão 33

Considerando somente os dados apresentados, os Índices de Grau de Endividamento e Composição do Endividamento correspondem, respectivamente, a

- (A) 0,30 e 0,60.
- (B) 1,50 e 0,18.
- (C) 2,33 e 0,42.
- (D) 3,33 e 0,12.
- (E) 3,89 e 5,83.

Questão 34

As características qualitativas da informação contábil-financeira são os atributos que as tornam úteis para os usuários, sendo divididas em informações fundamentais e informações de melhoria. A Representação Fidedigna é uma característica qualitativa fundamental, e, para que as informações apresentem fenômenos econômico-financeiros de forma perfeitamente fidedigna, ela deve ser

- (A) completa, neutra e isenta.
- (B) preditiva, confirmatória e material.
- (C) comparável e verificável.
- (D) tempestiva e compreensível.
- (E) relevante e priorizar a essência sobre a forma.

Questão 35

O Orçamento Público é um instrumento de múltiplas funções que incluem o planejamento e gestão públicas, autoriza a arrecadação de receitas e a execução de despesas, mas de tal complexidade cuja influência na política, economia e na vida dos cidadãos é significativa. Considerando a política orçamentária como resultante de funções interdependentes: Função Alocativa, Função Distributiva e Função Estabilizadora, constitui-se em um exemplo da Função Distributiva

- (A) busca do equilíbrio da balança de pagamentos e taxas de câmbio.
- (B) desenvolvimento de regiões menos favorecidas para redução dos desequilíbrios regionais.
- (C) fornecimento de subsídios para casas de baixo custo.
- (D) investimento em saúde com acesso gratuito à população.
- (E) manutenção de educação gratuita e de qualidade.

Questão 36

Uma empresa apresentou as seguintes contas patrimoniais e seus respectivos valores:

Contas	R\$	Contas	R\$
Caixa	R\$ 200,00	Imóveis	R\$ 800,00
Contas a Pagar	R\$ 200,00	Impostos a Recolher	R\$ 600,00
Duplicatas a Receber	R\$ 400,00	Instalações	R\$ 700,00
Estoques	R\$ 500,00	Móveis e Utensílios	R\$ 400,00
Fornecedores	R\$ 400,00	Títulos a Pagar	R\$ 1.000,00

Considerando somente as informações, assinale o que é apresentado no patrimônio da empresa.

- (A) 5 (cinco) contas de bens cujo somatório corresponde a R\$ 3.000,00
 (B) 3 (três) contas de obrigações cujo somatório corresponde a R\$ 1.800,00
 (C) 2 (duas) contas de direito cujo valor corresponde a R\$ 1.100,00
 (D) Patrimônio Líquido = R\$ 2.600,00 – bens + R\$ 400,00 – direitos – R\$ 2.200,00 – obrigações = R\$ 800,00
 (E) Patrimônio Líquido = R\$ 3.000,00 – bens + R\$ 400,00 – direitos = R\$ 3.400,00



Observe as informações a seguir para responder às questões 37 e 38.

Uma empresa apresentou as seguintes contas e seus respectivos saldos extraídos do seguinte Balancete de Verificação referente ao exercício de 2022:

Bancos	R\$ 9.000,00	Estoques de Mercadorias	R\$ 10.000,00
Caixa	R\$ 6.000,00	Fornecedores	R\$ 8.000,00
Capital a Realizar	R\$ 10.000,00	ICMS sobre Vendas	R\$ 25.000,00
Capital Subscrito	R\$ 50.000,00	Imobilizado	R\$ 30.000,00
CMV	R\$ 42.000,00	Impostos a Pagar	R\$ 6.500,00
Contas a Pagar	R\$ 5.500,00	Investimentos	R\$ 20.000,00
Depreciação Acumulada	R\$ 6.000,00	Receitas Financeiras	R\$ 2.000,00
Despesas Administrativas	R\$ 9.000,00	Reservas de Lucros	R\$ 5.000,00
Despesas com Vendas	R\$ 2.000,00	Salários a Pagar	R\$ 7.000,00
Despesas Financeiras	R\$ 3.000,00	Venda de Mercadorias	R\$ 90.000,00
Duplicatas a Receber	R\$ 8.000,00	Vendas Canceladas	R\$ 6.000,00
Imposto de Renda (IR)e Contribuição Social sobre o Lucro Líquido (CSLL) = 20%			

Questão 37

Considerando as informações apresentadas, após o encerramento das contas de resultado, a Demonstração de Resultado evidenciará um Lucro Bruto de

- (A) R\$ 4.000,00.
 (B) R\$ 5.000,00.
 (C) R\$ 17.000,00.
 (D) R\$ 54.000,00.
 (E) R\$ 59.000,00.

Questão 38

Considerando as informações apresentadas, após o encerramento das contas de resultado e cálculo do Resultado do Exercício, o Balanço Patrimonial evidenciará

- (A) Ativo Circulante de R\$ 43.000,00 e Ativo Não Circulante de R\$ 56.000,00.
 (B) Ativo não Circulante de R\$ 53.000,00 e Passivo Circulante de R\$ 22.000,00.
 (C) Ativo Total de R\$ 83.000,00 e Passivo Total de 87.000,00.
 (D) Passivo Circulante de R\$ 28.000,00 e Patrimônio Líquido de 49.000,00.
 (E) Patrimônio Líquido de R\$ 69.000,00 e Ativo Circulante de R\$ 42.000,00.

Questão 39

A Contabilidade _____ é um processo de identificar, mensurar, reportar e analisar informações sobre eventos econômicos, através de um enfoque especial conferido a várias técnicas e procedimentos contábeis já conhecidos e tratados em outras áreas e técnicas contábeis, colocados numa perspectiva diferente, num grau de detalhe mais analítico ou numa forma de apresentação e classificação diferenciada que fornecem conhecimento e suporte necessário para manutenção dos controles internos e externos em pleno funcionamento e com o mínimo de falhas possíveis, objetivando auxiliar a gestão das entidades em seu processo decisório.

O conceito apresentado refere-se à Contabilidade

- (A) Comercial.
- (B) de Custos.
- (C) Gerencial.
- (D) Pública.
- (E) Fiscal.

Questão 40

Uma empresa aloca seus Custos Indiretos de Fabricação (CIF) pelo Custeio por Absorção com Departamentalização e apresentou as seguintes informações:

Produtos	Volume produzido	Custos Diretos		Custos Indiretos de Fabricação		
		Matéria-Prima (MP)	Mão de Obra Direta (MOD)	Aluguel	Energia Elétrica	Outros
Produto A	400 unid.	R\$ 900,00	R\$ 600,00	R\$ 800,00	R\$ 700,00	R\$ 300,00
Produto B	100 unid.	R\$ 500,00	R\$ 400,00			
Outros dados						
Departamentos	Área (m ²)	Consumo de Energia (kWh)	Horas MOD			
<i>Depto. Serviços</i>						
Administração	40 m ²	100 kWh	200 h			
<i>Depto. Produção</i>						
Confeitaria	80 m ²	300 kWh	700 h			
Embalagem	60 m ²	400 kWh	500 h			

CRITÉRIOS DE RATEIO:

- **Custos Indiretos de Fabricação (CIF) para os Departamentos:** (a) Aluguel: distribuído proporcionalmente às suas respectivas áreas; (b) Energia Elétrica: distribuída proporcionalmente ao consumo em kWh medido; (c) Outros CIF: distribuídos proporcionalmente às Horas/MOD.
- **Custos dos Departamentos de Serviços para os Departamentos de Produção:** (a) Departamento de Administração – 2/3 para Confeitaria e o restante para Embalagem.
- **Custos dos Departamentos de Produção para os Produtos:** (a) Departamentos de Confeitaria e Embalagem: proporcionalmente às unidades produzidas.

Considerando as informações apresentadas, o total de Custos Indiretos de Fabricação (CIF) atribuído (*aproximado*) ao Departamento de Confeitaria após a distribuição dos Departamentos de Serviços aos Departamentos de Produção corresponde a

- (A) R\$ 203,00.
- (B) R\$ 761,00.
- (C) R\$ 833,00.
- (D) R\$ 967,00.
- (E) R\$ 1.070,00.

Questão 41

Os métodos de acumulação têm a finalidade de acumular os custos referentes a objetos de custos, que a organização, em determinado momento, deseja custear, podendo ser efetuada de diferentes formas dependendo das necessidades gerenciais e objetivos de análise dos custos. Basicamente a acumulação de custos é efetuada por dois tipos: por ordem de produção ou por produção contínua. (MARTINS, 2018) Assinale a alternativa correta em relação ao método de alocação de custos por ordem de produção ou encomenda.

- (A) A alocação dos custos é mais precisa, detalhada e associada a cada unidade produzida, pois são atribuídos a cada ordem específica.
- (B) É aplicado em situações de produção personalizada ou sob demanda, em que cada unidade ou lote é único, atendendo a requisitos específicos do cliente.
- (C) É indicado para empresas que fabricam em grande quantidade e voltada para lotes padronizados, sendo os custos distribuídos uniformemente entre os produtos.
- (D) Permite uma análise minuciosa da rentabilidade de cada encomenda por oferecer maior precisão na avaliação dos custos associados a ela.
- (E) Possui maior flexibilidade para lidar com a diversidade e adaptar-se às exigências específicas de cada nova ordem.

Questão 42

O Plano de Contas Aplicado ao Setor Público – PCASP é dividido em 8 classes, sendo as contas contábeis classificadas segundo a natureza das informações que evidenciam. (MCASP, 2021)

Relacione as classes de contas à natureza da informação evidenciadas por elas.

(1) 1. Ativo; 2. Passivo; 3. Variações Patrimoniais Diminutivas; 4. Variações Patrimoniais Aumentativas.

(2) 5. Controles de Aprovação do Planejamento e Orçamento e 6. Controles da Execução do Planejamento e Orçamento.

(3) 7. Controles Devedores e Controles Credores

Natureza de Informação de Controle.

Natureza de Informação Orçamentária.

Natureza de Informação Patrimonial.

A sequência correta, de cima para baixo, é dada por

(A) 1 – 2 – 3.

(B) 1 – 3 – 2.

(C) 2 – 1 – 3.

(D) 3 – 1 – 2.

(E) 3 – 2 – 1.

Questão 43

A Prestação de Contas Anual é um instrumento de gestão pública, estabelecido constitucionalmente, mediante o qual os gestores públicos e, quando necessário, os responsáveis pela governança e atos de gestão de órgãos, entidades ou fundos dos Poderes Públicos, apresentam e divulgam informações, análises quantitativas e qualitativas dos resultados da gestão orçamentária, financeiro, operacional e patrimonial do exercício, com o propósito de assegurar a transparência, a responsabilidade e a prestação de serviços à sociedade de maneira eficiente e eficaz, atendendo aos controles social e institucional, conforme previsto na Constituição Federal. Os procedimentos e regras, os conceitos fundamentais, os princípios básicos e os elementos de conteúdo para elaboração das Prestações de Contas são definidos pelo Tribunal de Contas da União em atos normativos. (BRASIL, 1992; TCU, 2020; TCU, 2021)

Considerando o tema, as Prestações de Contas do setor público devem fornecer informações para avaliar se a entidade pública está corretamente

(A) alocando os recursos disponíveis para gastos futuros necessariamente sem considerar as restrições ou condições para utilização dos recursos.

(B) funcionando um instrumento autocrático, que não promove a comunicação entre o governo e os cidadãos, sendo estes usuários dos bens/serviços públicos e provedores insignificantes.

(C) planejando o aumento da carga tributária e do endividamento futuros até o máximo possível, desconsiderando a capacidade de pagamento dos contribuintes.

(D) prestando serviços à sociedade de maneira eficiente e eficaz e se a capacidade para tal melhorou ou piorou em comparação com exercícios anteriores.

(E) reduzindo sua capacidade futura de gerar valor público a curto, médio e longo prazos além de desconsiderar a preservação do patrimônio público.

Questão 44

Serviço público é todo aquele prestado pela administração ou por seus delegados, sob normas e controles estatais, para satisfazer necessidades essenciais ou secundárias da coletividade ou simples conveniências do Estado. Em relação a sua prestação eles podem ser classificados de acordo com a competência para prestar os serviços; a forma de prestação dos serviços; e o modo de prestação dos serviços. (MEIRELLES, 2012)

Analise as afirmativas a seguir sobre a temática:

I. A competência de prestação dos serviços públicos é privativa do Estado, tendo em vista as características do serviço, sua essencialidade.

II. As formas de prestação dos serviços públicos estes podem ser: centralizados, descentralizados ou desconcentrados.

III. O modo de prestação dos serviços públicos pode ser direta, realizado pelo responsável ou por meio de seus órgãos; ou indireta, o serviços é cometido pelo responsável a terceiros com condições regulamentadas.

IV. Os serviços públicos prestados de forma desconcentrada são aqueles em que o Poder Público repassa sua execução por outorga ou delegação.

V. Os serviços públicos prestados de forma descentralizada é quando são distribuídos entre órgãos da mesma entidade, sendo uma técnica administrativa de simplificação do serviço dentro da mesma entidade.

É correto o que se afirma somente em

(A) I, II e III.

(B) I, IV e V.

(C) II, III e V.

(D) I, III e V.

(E) II, III e IV.

Questão 45

Um determinado ente público efetuou em 2022 os seguintes registros:

- previsão da receita quando da aprovação da Lei Orçamentária Anual (LOA);
- ocorrência do fato gerador de uma determinada receita tributária;
- arrecadação da referida receita tributária.

O registro realizado na ocorrência do fato gerador, sendo a natureza da informação patrimonial é

(A)	D 5.2.1.1.x.xx.xx Previsão Inicial da Receita
	C 6.2.1.1.x.xx.xx Receita a Realizar
(B)	D 1.1.2.1.x.xx.xx Créditos Tributários a Receber
	C 4.1.1.2.x.xx.xx Impostos Sobre o Patrimônio e a Renda
(C)	D 1.1.1.1. x.xx.xx Caixa e Equivalentes de Caixa em Moeda Nacional
	C 1.1.2.1.x.xx.xx Créditos Tributários a Receber
(D)	D 6.2.1.1.x.xx.xx Receita a Realizar
	C 6.2.1.2.x.xx.xx Receita Realizada
(E)	D 7.2.1.1.x.xx.xx Controle da Disponibilidade de Recursos
	C 8.2.1.1.1.xx.xx Disponibilidade por Destinação de Recursos (DDR)

Questão 46

Um ente público possui uma dívida com um particular na forma de precatório no valor de R\$ 10.000,00 cujo pagamento está previsto na Lei Orçamentária Anual; entretanto, este mesmo particular tem uma dívida tributária com o referido ente público no valor de R\$ 2.000,00 inscrita em dívida ativa.

Considerando a baixa da Dívida Ativa por compensação de créditos inscritos com créditos contra a Fazenda Pública, esta deverá

- (A) manter o débito tributário inscrito em dívida ativa pela Fazenda Pública por seu valor total, mesmo quando o valor do precatório for menor que o da dívida ativa.
- (B) manter o valor da diferença a maior entre o valor do precatório e o da dívida ativa retidos nos cofres públicos.
- (C) receber R\$ 8.000,00 do particular, pagar R\$ 2.000,00 ao particular e baixar o crédito inscrito na dívida ativa.
- (D) registrar a despesa orçamentária referente aos valores devidos pela Fazenda Pública pelo valor efetivamente recebido e permanecendo a diferença inscrita em dívida ativa.
- (E) registrar a receita orçamentária referente ao crédito da dívida ativa pelo valor que o particular efetivamente pagou à Fazenda Pública, registrando a diferença em perdas.

Questão 47

O sistema de licitação atual existente no Brasil surgiu com a Constituição Federal de 1988, sendo que a expressão “licitação” refere-se a significados ligados à ideia de oferecer, arrematar, fazer preço sobre a coisa, disputar ou concorrer e, no contexto da legislação brasileira prevaleceu por muito tempo como sinônimo de concorrer para selecionar, entre várias propostas apresentadas por particulares que pretendem oferecer serviços ou bens ao Estado, a que mais atende ao interesse da sociedade como um todo. (MEIRELES, 2007)

Considerando o disposto na Lei 14.133/2021, constitui-se em um dos objetivos do processo licitatório garantir

- (A) a escolha da proposta menos vantajosa para a Administração Pública e desconsiderar o ciclo de vida do objeto.
- (B) tratamento justo e igualdade de condições a todos os concorrentes, promovendo uma competição justa;
- (C) contratos com os preços mais altos e mesmo que apresentem superfaturamento na execução dos contratos.
- (D) a tradição e se necessário o retrocesso de processos que visam desenvolvimento sustentável, inovações e economia verde no âmbito nacional.
- (E) a realização de suas funções administrativas, selecionando de forma restrita os interessados que estejam de acordo com suas condições para apresentarem uma proposta.

Questão 48

O contrato administrativo é o ajuste que a Administração Pública, agindo nessa qualidade, firma com o particular ou outra entidade administrativa para a consecução de objetivos de interesse público, nas condições estabelecidas pela própria Administração Pública. (MEIRELES, 2012)

Em conformidade com o disposto na Lei 14.133/2021 para os Contratos Administrativos, a Administração Pública possui alguns privilégios e constitui-se em uma dessas prerrogativas

- (A) fazer modificações nos contratos desde que haja concordância do contratado.
- (B) encerrar os contratos nos casos previstos nesta lei, desde que a decisão seja conjunta com o contratante.
- (C) fiscalizar a execução dos contratos.
- (D) solicitar que o contratado execute pelo menos parcialmente o contrato em casos de atraso.
- (E) utilizar bens, pessoal e serviços relacionados ao objeto do contrato quando solicitado pelo contratado.

Questão 49

Um ente público extraiu as informações a seguir do Balanço Orçamentário referente ao exercício de 2022:

Receitas Realizadas e Despesas Empenhadas	R\$
Alienação de Ativos	R\$ 3.000,00
Amortização de Empréstimos Realizados	R\$ 3.000,00
Investimentos	R\$ 4.000,00
Juros e Encargos da Dívida	R\$ 1.500,00
Operações de Crédito	R\$ 1.500,00
Pessoal e Encargos Sociais	R\$ 3.500,00
Receita de Serviços	R\$ 2.000,00
Receita Patrimonial	R\$ 3.500,00
Receita Tributária	R\$ 5.000,00
Transferências Correntes	R\$ 1.000,00

Considerando somente as informações apresentadas, o resultado orçamentário do exercício de 2022 evidenciará

- (A) déficit de r\$ 1.500,00.
- (B) déficit de r\$ 500,00.
- (C) superávit de r\$ 3.000,00.
- (D) superávit de r\$ 4.000,00.
- (E) superávit de R\$ 7.000,00.

Questão 50

Um ente público extraiu as informações a seguir das Demonstrações das Variações Patrimoniais referente ao exercício de 2022:

Variações Patrimoniais Aumentativas e Diminutivas	R\$
Benefícios Assistenciais	R\$ 2.000,00
Benefícios Previdenciários	R\$ 3.000,00
Contribuições	R\$ 2.500,00
Exploração da Venda de Bens, Serviços e Direitos	R\$ 8.000,00
Impostos	R\$ 5.000,00
Juros e Encargos de Mora Pagos	R\$ 500,00
Juros e Encargos de Mora Recebidos	R\$ 1.000,00
Remuneração de Pessoal	R\$ 15.000,00
Taxas	R\$ 1.500,00
Transferências Recebidas	R\$ 8.000,00
Uso de Material de Consumo	R\$ 4.500,00
Uso de Serviços de Pessoas Jurídicas	R\$ 6.000,00

Considerando somente as informações apresentadas, o resultado patrimonial referente ao exercício de 2022 evidenciará

- (A) déficit patrimonial de r\$ 13.000,00.
- (B) déficit patrimonial de r\$ 7.500,00.
- (C) déficit patrimonial de r\$ 5.000,00.
- (D) superávit patrimonial de r\$ 5.500,00.
- (E) superávit patrimonial de R\$ 1.000,00.

Questão 51

O Balanço Patrimonial é a demonstração contábil que evidencia, qualitativa e quantitativamente, a situação patrimonial da entidade pública por meio de contas representativas do patrimônio público, bem como os atos potenciais, que são registrados em contas de compensação (natureza de informação de controle). (MCASP, 2021)

Um dos componentes do Balanço Patrimonial das Entidades Públicas é o Quadro Principal, no qual o ativo deve ser classificado como circulante quando se espera que

- (A) seja realizado ou mantido com o propósito de ser vendido ou consumido em período acima do decurso normal do ciclo operacional da entidade.
- (B) sendo mantido essencialmente com o propósito de evitar sua negociação, não exista possibilidade de postergação em sua realização.
- (C) seja realizado depois de decorridos vinte e quatro meses após a data de encerramento das demonstrações contábeis.
- (D) não seja caixa, mesmo que sua troca ou uso para pagamento de passivo se encontre vedada durante mais de doze meses.
- (E) seja vendido, consumido ou realizado como parte do ciclo operacional normal, mesmo que este não corresponda ao período de até doze meses após a data das demonstrações contábeis.

Questão 52

A Prestação de Contas Anual é um instrumento de gestão pública, estabelecido constitucionalmente, mediante o qual os gestores públicos e quando necessário os responsáveis pela governança e atos de gestão de órgãos, entidades ou fundos dos Poderes Públicos, apresentam e divulgam informações, análises quantitativas e qualitativas dos resultados da gestão orçamentária, financeiro, operacional e patrimonial do exercício, com o propósito de assegurar a transparência, a responsabilidade e a prestação de serviços à sociedade de maneira eficiente e eficaz, atendendo aos controles social e institucional, conforme previsto na Constituição Federal. Os procedimentos e regras, os conceitos fundamentais, os princípios básicos e os elementos de conteúdo para elaboração das Prestações de Contas são definidos pelo Tribunal de Contas da União em atos normativos. (BRASIL, 1992; TCU, 2020; TCU, 2021)

Considerando o tema, as Prestações de Contas do setor público devem fornecer informações para avaliar se a entidade pública está corretamente

- (A) alocando os recursos disponíveis para gastos futuros necessariamente sem considerar as restrições ou condições para utilização dos recursos.
- (B) funcionando um instrumento autocrático, que não promove a comunicação entre o governo e os cidadãos, sendo estes usuários dos bens/serviços públicos e provedores insignificantes.
- (C) planejando o aumento da carga tributária e do endividamento futuros até o máximo possível, desconsiderando a capacidade de pagamento dos contribuintes.
- (D) prestando serviços à sociedade de maneira eficiente e eficaz e se a capacidade para tal melhorou ou piorou em comparação com exercícios anteriores.
- (E) reduzindo sua capacidade futura de gerar valor público a curto, médio e longo prazos além de desconsiderar a preservação do patrimônio público.

Questão 53

De acordo com a Resolução CFC 1.222/09 – NBC TA 530 – Amostragem em Auditoria: “O objetivo do auditor, ao usar a amostragem em auditoria, é o de proporcionar uma base razoável para o auditor concluir quanto à população da qual a amostra é selecionada. 5. Para fins das normas de auditoria, [...] Amostragem em auditoria é a aplicação de procedimentos de auditoria em menos de 100% dos itens de população relevante para fins de auditoria, de maneira que todas as unidades de amostragem tenham a mesma chance de serem selecionadas para proporcionar uma base razoável que possibilite o auditor concluir sobre toda a população.” (CFC, 2009)

Considerando que existem diferentes métodos para selecionar amostras, constitui-se em um deles a

- (A) amostragem de itens físicos.
- (B) seleção aleatória.
- (C) seleção assistemática.
- (D) seleção com circunstância definida.
- (E) seleção de uma unidade ou mais unidades.

Questão 54

O Manual de Demonstrativos Fiscais (MDF) válido para o ano de 2023 está na 13ª edição. A respeito delem analise as afirmativas a seguir:

- I. Estabelece regras de harmonização a serem observadas, de forma permanente, pela Administração Pública para elaboração do Anexo de Riscos Fiscais (ARF), do Anexo de Metas Fiscais (AMF), do Relatório Resumido da Execução Orçamentária (RREO) e do Relatório de Gestão Fiscal (RGF).
- II. Define orientações metodológicas em conformidade com as determinações legais e os parâmetros definidos pela Lei Complementar 101, de 04 de maio de 2000, denominada Lei de Responsabilidade Fiscal (LRF).
- III. Dispõe sobre as determinações legais, a definição dos demonstrativos que os compõem, enfatizando sua abrangência e particularidades, os modelos dos demonstrativos e instruções de preenchimento, os prazos para publicação e penalidades.
- IV. Constitui-se na principal fonte para a padronização da apresentação das informações fiscais da União e dos entes subnacionais, tendo se consolidado como publicação de referência na interpretação dos conceitos e regramentos da LRF na regulação das finanças dos entes subnacionais no que se refere aos processos de prestação de contas e responsabilização.

Está correto o que se afirma em

- (A) I, II, III e IV.
- (B) I, II e III, somente.
- (C) I e III, somente.
- (D) II, III e IV, somente.
- (E) II e III, somente.

Questão 55

A Lei Complementar 101 de 04 de maio de 2000 – Lei de Responsabilidade Fiscal (LRF), em seus artigos 15 e 16 apresenta as regras para criação, expansão e aperfeiçoamento da ação governamental que acarrete aumento de despesa, sendo que estas só podem ser instituídas se forem apresentados os requisitos determinados na referida legislação. A respeito deles, julgue as afirmativas a seguir em verdadeiras (V) ou falsas (F).

()	Apresentação da estimativa do respectivo impacto orçamentário-financeiro para o exercício em vigor e para os dois seguintes, quando for o caso, identificando os valores previstos para essas despesas nos orçamentos dos exercícios em que efetivamente for executada a despesa.
()	Apresentação da estimativa do impacto quando o orçamento aprovado não contemplar a ação governamental, visto que, para as ações já incluídas na Lei Orçamentária, o impacto já foi avaliado na aprovação do orçamento.
()	Declaração do ordenador de despesa indicando a existência de dotação orçamentária suficiente, ou seja, quando a despesa se iniciar no orçamento em curso, deverá identificar se há previsão de dotação para tal finalidade.
()	Declaração do ordenador de despesas de que o aumento de despesas está em consonância com a Lei Orçamentária Anual, sendo a compatibilidade caracterizada quando as despesas estiverem em conformidade com as prioridades da alocação de recursos.
()	Premissas e metodologia de cálculo utilizada para estimativas de gastos com cada criação, expansão ou aperfeiçoamento da ação governamental, que evidencie as previsões de custo.

As afirmativas são, respectivamente,

- (A) F, F, F, V e F.
- (B) F, F, V, V e F.
- (C) F, V, F, V e F.
- (D) V, F, V, F e V.
- (E) V, V, V, F e V.

Instituto
ACCESS