



UNIVERSIDADE FEDERAL DE JATAÍ

CONCURSO PÚBLICO

CADERNO DE PROVA – NÍVEL SUPERIOR (TARDE)

Engenheiro de Segurança do Trabalho

LEIA ATENTAMENTE AS SEGUINTE INSTRUÇÕES:

1. Este caderno de prova contém **55 (cinquenta e cinco) questões objetivas**, numeradas de 1 a 55 e distribuídas da seguinte forma:
 - a) de 1 a 10 – Língua Portuguesa;
 - b) de 11 a 20 – Matemática e Raciocínio Lógico;
 - c) de 21 a 25 – Noções de Informática;
 - d) de 26 a 30 – Legislação;
 - e) de 31 a 55 – Conhecimentos Específicos
2. Confira se a quantidade e a ordem das questões deste caderno de prova estão de acordo com as instruções anteriores. Caso o caderno esteja incompleto, tenha defeito ou apresente qualquer divergência, comunique imediatamente ao fiscal de sala para que ele tome as providências cabíveis.
3. Para cada uma das questões objetivas, são apresentadas **5 (cinco) opções de resposta**. Apenas **1 (uma)** resposta responde corretamente à questão.
4. O tempo disponível para esta prova é de **4 (quatro) horas**.
5. Reserve tempo suficiente para marcar a sua folha de respostas.
6. Os rascunhos e as marcações assinaladas neste caderno **não** serão considerados na avaliação.
7. O candidato somente poderá se retirar do local da aplicação das provas após **60 (sessenta) minutos** de seu início.
8. Quando terminar, chame o fiscal de sala, entregue este **caderno de prova** e a **folha de respostas**.
9. O candidato somente poderá retirar-se do local da aplicação levando consigo o caderno de provas a partir dos últimos **30 (trinta) minutos** para o término da prova.
10. **Boa prova!**

LÍNGUA PORTUGUESA



Leia atentamente o texto a seguir e responda às questões de 1 a 20.

“Detox digital” reduz não só as emoções negativas, mas também as positivas

Dar um tempo das redes sociais – o popular “detox digital” – traz benefícios para a redução de sentimentos negativos que já foram amplamente descritos pelos cientistas. Agora, um novo trabalho mostra que o distanciamento dessas plataformas também pode diminuir, simultaneamente, as emoções positivas dos usuários.

Se por um lado a abstinência dos aplicativos ajuda a reduzir as experiências negativas – como comparação social, comentários depreciativos e até bullying –, por outro, o jejum também minora ações que trazem sensações de recompensa social, como likes, crescimento do número de seguidores e mensagens positivas.

O resultado surpreendeu os próprios cientistas responsáveis pelo estudo, que descreveram a situação como inesperada.

“Acreditamos que isso [diminuição dos sentimentos positivos dos participantes] se deve a uma ‘perda’ de experiências socialmente gratificantes das redes sociais”, explica um dos autores do trabalho, Niklas Ihssen, que é professor do departamento de psicologia da Universidade de Durham, no Reino Unido.

“As nossas descobertas sugerem que as redes oferecem recompensas sociais poderosas, e a abstenção pode, portanto, levar a alguma redução das emoções positivas, porque essas recompensas já não estão disponíveis”, diz o cientista.

O artigo, publicado na última quarta-feira (8) na revista especializada PLoS One, tentou compensar ainda um outro desequilíbrio frequente em pesquisas que avaliam as emoções dos usuários: o recurso exclusivo a questionários em que os próprios participantes mensuram e descrevem seus sentimentos.

Em muitos dos trabalhos dessa área, a autoavaliação dos voluntários é a principal ferramenta para medir os efeitos psicológicos.

Para ultrapassar isso, os cientistas optaram por mesclar esses questionários com diversas abordagens, incluindo experiências em laboratório. O objetivo principal era captar certas consequências implícitas da abstinência das redes.

“Um dos desafios é acompanhar, de uma forma realista, os efeitos da redução do consumo [das redes sociais]. Entre outras técnicas, utilizamos para isso um método denominado ‘avaliação ecológica momentânea’. Nele, os participantes recebem miniquestionários em seus smartphones em vários momentos do dia, permitindo uma avaliação mais naturalista do humor e dos comportamentos”, descreve Niklas Ihssen.

Além das pequenas pesquisas, havia ainda uma avaliação maior. Por volta das 21h30 de cada dia do experimento, o grupo avaliado respondia a um questionário mais abrangente.

Ao longo do trabalho, os voluntários tiveram de fazer visitas também a um laboratório da Universidade de Durham, onde foram realizados testes mais aprofundados

que mensuravam outras componentes, como percepção temporal e de esforço e a reação a estímulos.

Durante todo o estudo, os participantes tiveram uma ferramenta que monitorava o tempo de uso das telas. Embora tenham sido orientados a não entrarem nas redes sociais e a desabilitarem as notificações, eles não precisaram deletar os respectivos aplicativos do celular.

Segundo os autores, manter os apps nos dispositivos contribuiu para evitar que o grupo estudado usasse outros dispositivos para acessar as redes. Essa configuração permitiu ainda que os cientistas identificassem eventuais “recaídas” no uso das ferramentas.

No próprio experimento, aliás, vários participantes não conseguiram manter o detox total. Apenas 7 dos 51 envolvidos conseguiram ficar completamente abster-se durante os sete dias determinados. A maioria, porém, reduziu drasticamente o uso.

A própria ideia de ter de ficar sem redes sociais já foi o suficiente para, de acordo com os cientistas, dificultar o recrutamento para o experimento.

“Os participantes precisavam estar preparados para se absterem das redes sociais durante uma semana, e muitos fatores podem ter inicialmente dissuadido os indivíduos de fazerem isto, incluindo o chamado FOMO [‘fear of missing out’, ou medo de perder algo, na sigla em inglês]”, diz o autor.

Segundo Niklas Ihssen, embora a abstinência total tenha se mostrado difícil, a maioria dos envolvidos pode diminuir consideravelmente o tempo passado nas redes, saindo de uma média de 3 a 4 horas diárias para cerca de 30 minutos durante o experimento.

O estudo mostrou ainda que, de uma maneira geral, os participantes também não tiveram manifestações relevantes de sintomas relacionados à síndrome de abstinência.

“Em última análise, os nossos resultados implicam que é possível reduzir substancialmente o uso das redes sociais sem ter efeitos colaterais significativos no humor e em outros processos psicológicos. Ao mesmo tempo, parece difícil abster-se completamente”, completa o autor.

(Giuliana Miranda.

<https://www1.folha.uol.com.br/ciencia/2023/11/detox-digital-reduz-nao-so-as-emocoes-negativas-mas-as-positivas-tambem.shtml>. 16.nov.2023)

Questão 1

Em relação às ideias do texto, analise as afirmativas a seguir:

- I. A abstinência em relação às redes sociais provoca um duplo efeito: ao mesmo tempo em que protege o indivíduo de sentimentos negativos, pode levá-lo a sofrer pela ausência de recompensas positivas.
- II. Um dos motivos para a não adesão à pesquisa foi a justificativa de não ficar longe das redes sociais, e isso prejudicou largamente os resultados obtidos, pela falta de representatividade.
- III. A permanência dos aplicativos nos celulares possibilitou o monitoramento de recaídas dos participantes, ao mesmo tempo em que não tornava necessário buscar outros aparelhos caso não resistissem ao experimento.

Assinale

- (A) se apenas as afirmativas I e II estiverem corretas.
- (B) se apenas as afirmativas I e III estiverem corretas.
- (C) se apenas as afirmativas II e III estiverem corretas.
- (D) se nenhuma afirmativa estiver correta.
- (E) se todas as afirmativas estiverem corretas.

Questão 2

O texto, em relação ao seu propósito de composição, apresenta natureza

- (A) argumentativa, por apresentar a tese da autora.
- (B) descritiva, por se concentrar nos detalhes constituintes da pesquisa.
- (C) dissertativa embasada por aspecto jornalístico, narrando e comentando o processo do experimento.
- (D) injuntiva, por apresentar, como objetivo maior os objetivos do experimento e o modo de fazê-lo.
- (E) narrativa, por se concentrar nas falas dos personagens envolvidos no experimento, mormente por colher suas impressões com a experiência de vivê-lo.

Questão 3

Dar um tempo das redes sociais – o popular "detox digital" – traz benefícios para a redução de sentimentos negativos que já foram amplamente descritos pelos cientistas. (L.1-4)

O nome popular para "dar um tempo das redes sociais" constitui, como no período acima, exemplo de

- (A) metonímia.
- (B) catacrese.
- (C) sinestesia.
- (D) eufemismo.
- (E) metáfora.

Questão 4

Essa configuração permitiu ainda que os cientistas identificassem eventuais "recaídas" no uso das ferramentas. (L.66-68)

O termo entre aspas no período acima agrega um valor semântico não explícito no texto como um todo.

Nesse sentido, assinale a alternativa em que se indique corretamente o universo de sentido que é evocado pelo termo.

- (A) vício
- (B) decadência
- (C) perda de posição social
- (D) degradação moral
- (E) deliberado aprisionamento

Questão 5

O artigo, publicado na última quarta-feira (8) na revista especializada PLoS One, tentou compensar ainda um outro desequilíbrio frequente em pesquisas que avaliam as emoções dos usuários: o recurso exclusivo a questionários em que os próprios participantes mensuram e descrevem seus sentimentos. (L.28-33)

O segmento sublinhado no período acima, em relação ao que é dito anteriormente, desempenha papel de

- (A) exemplificação.
- (B) explicação.
- (C) especificação.
- (D) enumeração.
- (E) explicitação.

Questão 6

Em "ferramentas" (L.68), há

- (A) sete fonemas.
- (B) oito fonemas.
- (C) nove fonemas.
- (D) dez fonemas.
- (E) onze fonemas.

Questão 7

Dar um tempo das redes sociais – o popular "detox digital" – traz benefícios para a redução de sentimentos negativos que já foram amplamente descritos pelos cientistas. Agora, um novo trabalho mostra que o distanciamento dessas plataformas também pode diminuir, simultaneamente, as emoções positivas dos usuários. (L.1-7)

As duas ocorrências do QUE no período acima se classificam, respectivamente, como

- (A) pronome relativo e pronome relativo.
- (B) conjunção integrante e conjunção integrante.
- (C) conjunção integrante e pronome relativo.
- (D) pronome relativo e conjunção integrante.
- (E) conjunção subordinativa e preposição.

Questão 8

Assinale a alternativa em que o termo indicado exerça função sintática **distinta** da das demais.

- (A) [diminuição dos sentimentos positivos dos participantes] (L.17-18)
- (B) Niklas Ihssen (L.20)
- (C) PLoS One (L.29)
- (D) 'avaliação ecológica momentânea' (L.45)
- (E) ['fear of missing out', ou medo de perder algo, na sigla em inglês] (L.81-82)

Questão 9

Para ultrapassar isso, os cientistas optaram por mesclar esses questionários com diversas abordagens, incluindo experiências em laboratório. (L.37-39)

O termo sublinhado no período acima desempenha papel

- (A) dêitico.
- (B) catafórico.
- (C) exofórico.
- (D) epanafórico.
- (E) anafórico.

Questão 10

Assinale a alternativa em que **não** se encontre exemplo de voz passiva.

- (A) Dar um tempo das redes sociais – o popular "detox digital" – traz benefícios para a redução de sentimentos negativos que já foram amplamente descritos pelos cientistas. (L.1-4)
- (B) O artigo, publicado na última quarta-feira (8) na revista especializada PLoS One, tentou compensar ainda um outro desequilíbrio frequente em pesquisas que avaliam as emoções dos usuários: o recurso exclusivo a questionários em que os próprios participantes mensuram e descrevem seus sentimentos. (L.28-33)
- (C) Ao longo do trabalho, os voluntários tiveram de fazer visitas também a um laboratório da Universidade de Durham, onde foram realizados testes mais aprofundados que mensuravam outras componentes, como percepção temporal e de esforço e a reação a estímulos. (L.54-58)
- (D) Embora tenham sido orientados a não entrarem nas redes sociais e a desabilitarem as notificações, eles não precisaram deletar os respectivos aplicativos do celular. (L.61-63)
- (E) Segundo Niklas Ihssen, embora a abstinência total tenha se mostrado difícil, a maioria dos envolvidos pode diminuir consideravelmente o tempo passado nas redes, saindo de uma média de 3 a 4 horas diárias para cerca de 30 minutos durante o experimento. (L.83-87)

MATEMÁTICA E RACIOCÍNIO LÓGICO

Questão 11

Bruno e Carlos apresentaram, cada um, o orçamento para execução de um serviço. Bruno cobra uma taxa fixa de R\$ 900,00 mais R\$ 150,00 por hora de execução do serviço, já Carlos cobra uma taxa fixa de R\$ 750,00 mais R\$ 200,00 por hora de execução do serviço. Qual o tempo mínimo, em horas, de execução do serviço, que torna o valor do orçamento de Bruno mais barato que de Carlos?

- (A) 1.
- (B) 2.
- (C) 3.
- (D) 4.
- (E) 5.

Questão 12

Observe a sequência de figuras formadas por losangos a seguir. Os termos dessa sequência seguem um padrão constante.



O total de losangos no 11º termo dessa sequência é igual a

- (A) 18.
- (B) 38.
- (C) 40.
- (D) 46.
- (E) 66.

Questão 13

Uma construtora contratou 20 profissionais para realizar uma obra de 800m² a ser concluída em 10 dias. Após o quarto dia, percebeu-se que o tamanho da obra era, na verdade, de 1000m² e que precisaria finalizá-la um dia antes do prazo estabelecido inicialmente. Quantos profissionais, com mesma capacidade, devem ser contratados para que se possa realizar a obra sob as novas condições?

- (A) 6.
- (B) 9.
- (C) 12.
- (D) 14.
- (E) 18.

Questão 14

Sabe-se que o terceiro termo de uma progressão geométrica alternada é igual a 16 e que seu nono termo é igual a 1024. A razão dessa progressão é igual a

- (A) -4.
- (B) -2.
- (C) 0.
- (D) 2.
- (E) 4.

Questão 15

A negação da proposição lógica “Cláudio não é rico e Marcos é inteligente” é a afirmativa

- (A) Claudio é rico ou Marcos é inteligente.
- (B) Claudio é rico e Marcos é inteligente.
- (C) Claudio não é rico ou Marcos não é inteligente.
- (D) Claudio é rico e Marcos não é inteligente.
- (E) Claudio é rico ou Marcos não é inteligente.

Questão 16

A publicação de *fakenews* em uma rede social alcançou inicialmente 100 pessoas. Devido a vários compartilhamentos da informação, a quantidade de pessoas alcançadas pela notícia dobrou a cada hora desde a publicação inicial.

A função que relaciona a quantidade Q de pessoas alcançadas pela notícia, t horas após a publicação inicial é

- (A) $Q(t) = 100 + 2^t$
- (B) $Q(t) = 100^t$
- (C) $Q(t) = 100^{2t}$
- (D) $Q(t) = 100 \cdot 2^t$
- (E) $Q(t) = 102^t$

Questão 17

Uma microempresa criou um plano de metas, onde deseja ter um lucro diário de R\$ 700,00. Ela consegue produzir diariamente x caixas contendo, cada uma, 30 unidades de seu produto, e pode vender tudo o que produzir a um preço de R\$ 60,00 por caixa. O custo total, em reais, é dado pela expressão $C(x) = x^2 - 20x + 900$. Portanto, para que a empresa tenha lucro diário desejado, qual deve ser a quantidade de unidades que devem ser produzidas e vendidas por dia?

- (A) 40.
- (B) 200.
- (C) 400.
- (D) 600.
- (E) 800.

Questão 18

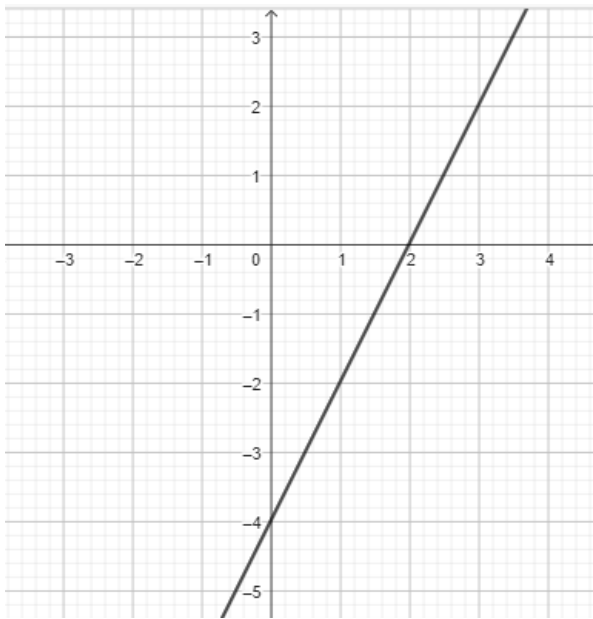
Uma loja possui dezoito funcionários, sendo cinco estoquistas, oito vendedoras, três funcionárias administrativas e dois seguranças. Sabe-se que essa empresa vai contratar vendedoras, aumentando em 50% o número atual de vendedoras.

O número total de funcionários após a contratação das novas vendedoras é igual a

- (A) 19.
- (B) 20.
- (C) 22.
- (D) 24.
- (E) 27.

Questão 19

A seguir temos o gráfico de uma função polinomial do 1º grau $f: \mathbb{R} \rightarrow \mathbb{R}$.



O valor de $f(-3)$ é igual a

- (A) - 6.
- (B) - 8.
- (C) - 10.
- (D) - 12.
- (E) - 14.

Questão 20

Bruno possui 6 cachorros e tem a quantidade de ração para alimentação deles para um período de 40 dias. Entretanto, 2 deles foram doados para seu primo e a ração foi reduzida à metade. Por qual período de dias os cachorros restantes poderão ser alimentados com a quantidade de ração existente agora?

- (A) 15.
- (B) 30.
- (C) 45.
- (D) 60.
- (E) 65

NOÇÕES DE INFORMÁTICA

Questão 21

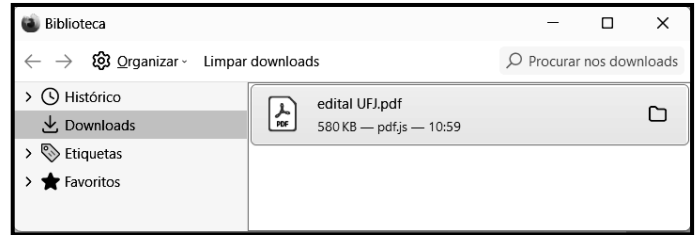
No que diz respeito à internet, um equipamento de interconexão possui importância capital, sendo o dispositivo responsável por distribuir a internet para um ou mais dispositivos, seja via cabo de rede, ou pela rede wifi. Esse equipamento suporta a conexão de computadores de uma rede interna entre si, permitindo que troquem dados internamente, mesmo sem uma conexão à internet pública. Tecnicamente, é um dispositivo de nível 3 da arquitetura OSI/ISO que opera na camada de rede com base no protocolo IP, sendo o grande responsável por encaminhar informações em pacotes de dados, traçando as melhores rotas na hora de conectar dispositivos com a internet sem fio.

Esse equipamento de interconexão é conhecido por

- (A) switch.
- (B) roteador.
- (C) hub.
- (D) repetidor.
- (E) modem.

Questão 22

No uso dos recursos do Firefox Mozilla em um notebook Intel, um funcionário da UFJ executou um atalho de teclado que exibiu a janela de diálogo, ilustrada pela figura abaixo.

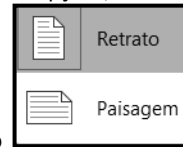


O atalho de teclado foi

- (A) Ctrl + S.
- (B) Ctrl + B.
- (C) Ctrl + D.
- (D) Ctrl + J.
- (E) Ctrl + L.

Questão 23

Durante a digitação de um texto no Word do pacote MSOffice 2019 BR, a guia Layout da Barra de Menu foi pressionada. Nas opções mostradas na Faixa de Opções, um ícone foi acionado,



exibindo a janela de diálogo, que mostra as duas modalidades possíveis de serem utilizadas na configuração do documento.

O ícone é

- (A) Tabela
- (B) Margens
- (C) Colunas
- (D) Tamanho
- (E) Orientação

Questão 24

A planilha da figura foi criada no Excel 2019 BR. Em D2, foi inserida a fórmula =SOMA(A2:A6). Em D4, foi inserida uma fórmula que determina a média aritmética entre todos os valores mostrados nas células A2, A3, A4, A5 e A6. Em D6, foi inserida a fórmula =MOD(D4;2).

| | A | B | C | D |
|---|---|---|---------|----|
| | UFJ UNIVERSIDADE FEDERAL DE JATAÍ | | | |
| 1 | | | | |
| 2 | 21 | | SOMA = | ? |
| 3 | 13 | | | |
| 4 | 18 | | MÉDIA = | 16 |
| 5 | 17 | | | |
| 6 | 11 | | MOD = | ? |

Nessas condições, o valor mostrado em D2, a fórmula inserida em D4 e o valor mostrado em D6 são, respectivamente,

- (A) 32, =MÉDIA(A2:A6) e 0.
 (B) 80, =MÉDIA(A2:A6) e 1.
 (C) 32, =MÉDIA(A2:A6) e 1.
 (D) 80, =MED(A2:A6) e 0.
 (E) 32, =MED(A2:A6) e 1.

Questão 25

No contexto da segurança e proteção dos computadores na internet, tem sido comum a implementação de um dispositivo de segurança nas redes, que monitora o tráfego de entrada e saída e decide permitir ou bloquear tráfegos específicos, de acordo com um conjunto definido de regras de segurança.

Esse dispositivo de segurança é conhecido como

- (A) sniffer.
 (B) backup.
 (C) firewall.
 (D) nobreak.
 (E) deadlock.

LEGISLAÇÃO**Questão 26**

No Regimento Geral da UFJ, estão previstas várias Pró-Reitorias, como as listadas nas alternativas a seguir, à exceção de uma. Assinale-a.

- (A) Pesquisa e Inovação
 (B) Administração e Finanças
 (C) Assuntos Estudantis
 (D) Gestão de Pessoas
 (E) Processos Seletivos

Questão 27

De acordo com o que rege a Lei 8.112/90, analise as afirmativas a seguir:

- I. Além do vencimento, poderão ser pagas ao servidor as seguintes vantagens: adicionais; indenizações; gratificações; e remunerações.
- II. As indenizações não se incorporam ao vencimento ou provento para qualquer efeito.
- III. As vantagens pecuniárias não serão computadas, nem acumuladas, para efeito de concessão de quaisquer outros acréscimos pecuniários ulteriores, sob o mesmo título ou idêntico fundamento.

Assinale

- (A) se apenas as afirmativas I e II estiverem corretas.
 (B) se apenas as afirmativas I e III estiverem corretas.
 (C) se apenas as afirmativas II e III estiverem corretas.
 (D) se nenhuma afirmativa estiver correta.
 (E) se todas as afirmativas estiverem corretas.

Questão 28

Com base na Lei 11.091/2005, analise as afirmativas a seguir:

- I. O desenvolvimento do servidor na carreira dar-se-á, exclusivamente, pela mudança de nível de capacitação e de padrão de vencimento mediante, respectivamente, Progressão por Capacitação Profissional ou Progressão por Mérito Profissional.
- II. Progressão por Capacitação Profissional é a mudança de nível de capacitação, no mesmo cargo e nível de classificação, decorrente da obtenção pelo servidor de certificação em Programa de capacitação, compatível com o cargo ocupado, o ambiente organizacional e a carga horária mínima exigida, respeitado o interstício de 18 (dezoito) meses, nos termos da tabela constante dos Anexos da Lei.
- III. Progressão por Mérito Profissional é a mudança para o padrão de vencimento imediatamente subsequente, a cada 3 (três) anos de efetivo exercício, desde que o servidor apresente resultado fixado em programa de avaliação de desempenho, observado o respectivo nível de capacitação.

Assinale

- (A) se apenas as afirmativas I e II estiverem corretas.
 (B) se apenas as afirmativas I e III estiverem corretas.
 (C) se apenas as afirmativas II e III estiverem corretas.
 (D) se nenhuma afirmativa estiver correta.
 (E) se todas as afirmativas estiverem corretas.

Questão 29

A PNSST tem por princípios o listado nas alternativas a seguir, à exceção de uma. Assinale-a.

- (A) universalidade
 (B) prevenção
 (C) precedência das ações de assistência sobre as de prevenção
 (D) diálogo social
 (E) integralidade

Questão 30

Segundo o Estatuto da UFJ, analise as afirmativas a seguir:

- I. A extensão é a atividade acadêmica que articula o ensino e a pesquisa, com a finalidade de promover uma relação transformadora entre universidade e sociedade por meio de metodologias participativas, estimulando e promovendo ações e atividades voltadas ao desenvolvimento cultural, científico, artístico, tecnológico e do esporte, em todas as suas formas de expressão.
- II. A UFJ destinará dotação orçamentária não inferior a 20%, após descontar as despesas básicas da instituição, para o financiamento de projetos relacionados ao ensino, à pesquisa, à extensão e à pós-graduação, em todas as áreas do conhecimento.
- III. Os critérios e a concessão dos recursos mencionados, para cada uma das áreas, serão definidos no Regimento Geral da UFJ.

Assinale

- (A) se apenas as afirmativas I e II estiverem corretas.
- (B) se apenas as afirmativas I e III estiverem corretas.
- (C) se apenas as afirmativas II e III estiverem corretas.
- (D) se nenhuma afirmativa estiver correta.
- (E) se todas as afirmativas estiverem corretas.

CONHECIMENTOS ESPECÍFICOS

Questão 31

“Documento que traz o histórico laboral do trabalhador e as seguintes informações básicas: dados administrativos da empresa e do trabalhador; registros ambientais; etc. O segurado que possuir períodos trabalhados em atividade especial deve apresentar este documento ao INSS para que esses períodos sejam reconhecidos.” (Instituto Nacional do Seguro Social – INSS, 2023).

O texto acima refere-se

- (A) ao CAT.
- (B) ao PPP.
- (C) ao LTCAT.
- (D) à CTPS.
- (E) à EPI.

Questão 32

A respeito do acidente do trabalho, analise as afirmativas a seguir:

- I. A Comunicação de Acidente de Trabalho refere-se a um documento informativo utilizado para comunicar a ocorrência de um acidente de trabalho ou de trajeto, bem como uma doença ocupacional ao Instituto Nacional do Seguro Social – INSS.

PORQUE

- II. De acordo com o artigo 22 da Lei 8.213, todo acidente de trabalho ocorrido com seu empregado, havendo ou não afastamento do trabalho, deverá ser comunicado pela empresa ao INSS, sob pena de multa em caso de omissão.

A respeito das afirmativas acima, assinale a alternativa correta.

- (A) A assertiva I é verdadeira e a II é falsa.
- (B) As duas assertivas são falsas.
- (C) A assertiva I é falsa e a II é verdadeira.
- (D) As duas assertivas são verdadeiras e a II justifica a I.
- (E) As duas assertivas são verdadeiras e a II não justifica a I.

Questão 33

Analise as afirmativas a seguir:

- I. Um acidente de trabalho é um evento imprevisto que ocorre durante o trabalho ou em função dele, causando danos físicos, psicológicos ou emocionais a um trabalhador. Pode ser um acidente típico ou acidente de trajeto.
- II. O acidente de trabalho é definido como um evento inesperado que ocorre durante o exercício da atividade laboral e que resulta em lesões corporais, doenças ou morte.
- III. O acidente de trabalho pode ocorrer em qualquer ambiente de trabalho, seja ele um escritório, uma fábrica, um canteiro de obras ou em qualquer outro local onde haja atividade laboral.
- IV. De acordo com a legislação trabalhista, os acidentes de trabalho devem ser registrados pela empresa e comunicados às autoridades competentes desde que haja lesões graves.

Assinale

- (A) se apenas a afirmativa I estiver correta.
- (B) se apenas as afirmativas I e II estiverem corretas.
- (C) se apenas a afirmativa III estiver correta.
- (D) se apenas as afirmativas I, II e III estiverem corretas.
- (E) se todas as afirmativas estiverem corretas.

Questão 34

Dois estudiosos no século XX (um na primeira metade do século e o outro na segunda metade) desenvolveram importante trabalho no campo dos acidentes de trabalho e suas causas. Ambos apresentaram significativa relação entre Acidente e Incidente. Os dois representaram os seus resultados em forma de pirâmide.

São eles

- (A) Ramazzini e Frank Bird.
- (B) Taylor e Frank Bird.
- (C) Heinrich e Taylor
- (D) Henry Ford e Heinrich.
- (E) Frank Bird e Heinrich.

Questão 35

Um evento ocorrido no ambiente de trabalho, não planejado, portanto inesperado, que não resulte em nenhum ferimento, nem danos à propriedade e, além disso, que não tenha riscos significativos para ser necessário fazer o seu registro.

O texto acima refere-se ao conceito de

- (A) acidente de trajeto.
- (B) acidente típico.
- (C) insalubridade.
- (D) incidente do trabalho.
- (E) absenteísmo.

Questão 36

Na Indústria da Construção Civil, o Programa de Gerenciamento de Risco (PGR), além de contemplar as exigências previstas na NR-01, deve conter diversos documentos, como o listado nas alternativas a seguir, **à exceção de uma**. Assinale-a.

- (A) projeto da área de vivência do canteiro de obras e de eventual frente de trabalho, em conformidade com o item 18.5 da NR18, elaborado por profissional legalmente habilitado
- (B) projeto elétrico das instalações temporárias, elaborado por profissional legalmente habilitado
- (C) projeto do sistema de alarme contra roubos e furtos, aprovado no órgão de segurança pública
- (D) projetos do SPIQ, quando aplicável, elaborados por profissional legalmente habilitado
- (E) relação dos Equipamentos de Proteção Individual (EPI) e suas respectivas especificações técnicas, de acordo com os riscos ocupacionais existentes

Questão 37

As áreas de vivência devem conter os seguintes aparelhos:

- I. sanitários;
- II. compartimento para troca e guarda de roupas;
- III. refeitório ou local para refeição, além de ser provido de um restaurante self-service;
- IV. alojamento, no caso de trabalhador que se hospede na obra;
- V. mesa de sinuca obrigatória no caso de trabalhadores externos.

Analise os itens acima e assinale

- (A) se apenas o item I estiver correto.
- (B) se apenas o item III estiver correto.
- (C) se apenas os itens I e II estiverem corretos.
- (D) se apenas os itens I, II e III estiverem corretos.
- (E) se apenas os itens I, II e IV estiverem corretos.

Questão 38

Segundo a NR18/2020, no caso de haver demolição, *deve ser elaborado e implementado Plano de Demolição, sob responsabilidade de profissional legalmente habilitado, contemplando os riscos ocupacionais potencialmente existentes em todas as etapas da demolição e as medidas de prevenção a serem adotadas para preservar a segurança e a saúde dos trabalhadores.*

O plano de demolição deverá considerar o listado nas alternativas a seguir, **à exceção de uma**. Assinale-a.

- (A) as construções vizinhas à obra
- (B) a disposição dos materiais retirados
- (C) o tamanho do prédio a ser construído
- (D) a propagação e o controle de poeira
- (E) a remoção de materiais e entulhos

Questão 39

A etapa de escavação de uma obra é muito preocupante e muitos cuidados devem ser tomados além, claro, da necessidade de implementação de medidas mitigadoras de risco. Por exemplo, são dispensadas, atendendo às normas técnicas nacionais, a liberação e a autorização do profissional legalmente habilitado, para se iniciar escavações com profundidade menor ou igual a

- (A) 1,25m.
- (B) 1,50m.
- (C) 1,75m.
- (D) 2,00m.
- (E) 2,25m.

Questão 40

As escavações devem ser protegidas com taludes ou escoramentos, definidos em projeto elaborado por profissional habilitado, além de disporem de escadas ou rampas colocadas próximas aos postos de trabalho, a fim de permitir, em caso de emergência, a saída rápida dos trabalhadores, com profundidades a partir de

- (A) 1,25m.
- (B) 1,50m.
- (C) 1,75m.
- (D) 2,00m.
- (E) 2,25m.

Questão 41

Tubulões escavados manualmente deverão ter diâmetro mínimo de

- (A) 0,60m.
- (B) 0,70m.
- (C) 0,80m.
- (D) 0,90m.
- (E) 1,00m.

Questão 42

A transposição de níveis no canteiro de obra é sempre uma preocupação quando se trata de risco de acidentes. Segundo a NR18/2020, é obrigatória a adoção de escada ou rampa para transposição de pisos com diferença de nível a partir de

- (A) 0,60m.
- (B) 0,40m.
- (C) 0,80m.
- (D) 1,90m.
- (E) 1,00m.

Questão 43

Quanto à utilização de escada fixa vertical, analise as afirmativas a seguir:

- I. Deverá suportar os esforços solicitantes.
- II. Deverá possuir corrimão ou continuação dos montantes da escada ultrapassando a plataforma de descanso ou o piso superior com altura entre 1,1 m (um metro e dez centímetros) a 1,2 m (um metro e vinte centímetros).
- III. Deverá ter largura entre 0,4 m (quarenta centímetros) e 0,6 m (sessenta centímetros).
- IV. Deverá ter altura máxima de 10 m (dez metros), se for de um único lance.
- V. Deverá ser pintada na cor laranja Califórnia.

Assinale

- (A) se apenas as afirmativas I, II e III forem verdadeiras.
- (B) se apenas as afirmativas I, II, III e IV forem verdadeiras.
- (C) se apenas as afirmativas I, III e V forem verdadeiras.
- (D) se apenas a afirmativa III for verdadeira.
- (E) se todas as afirmativas forem verdadeiras.

Questão 44

Os Serviços Especializados em Segurança e Medicina do Trabalho – SESMT, de acordo com a NR-04, tem a finalidade de promover a saúde e proteger a integridade do trabalhador e é obrigatório para empresas com número de empregados a partir de

- (A) 20.
- (B) 30.
- (C) 50.
- (D) 100.
- (E) 500.

Questão 45

Segundo a NR-05/2021, as organizações e os órgãos públicos da administração direta e indireta, bem como os órgãos dos Poderes Legislativo, Judiciário e Ministério Público, que possuam empregados regidos pela Consolidação das Leis do Trabalho - CLT, devem constituir e manter CIPA se tiver no mínimo

- (A) 20 empregados.
- (B) 30 empregados.
- (C) 50 empregados.
- (D) 100 empregados.
- (E) 500 empregados.

Questão 46

A respeito da Cipa, analise as afirmativas a seguir:

- I. O mandato dos membros eleitos da Cipa terá a duração de dois anos, permitida uma reeleição.
- II. A Cipa é composta somente por membros eleitos em escrutínio secreto.
- III. A Cipa será constituída por estabelecimento e composta de representantes da organização e dos empregados.
- IV. Os membros eleitos da Cipa não podem ser demitidos na vigência do mandato, nem por justa causa.

Assinale

- (A) se apenas as afirmativas I, II e III estiverem corretas.
- (B) se apenas as afirmativas I, II, e IV estiverem corretas.
- (C) se apenas as afirmativas I, III e IV estiverem corretas.
- (D) se apenas a afirmativa III estiver correta.
- (E) se todas as afirmativas estiverem corretas.

Questão 47

A respeito dos equipamentos de proteção individual, analise as afirmativas a seguir:

- I. O EPI, de fabricação nacional ou importado, só pode ser posto à venda ou utilizado com a indicação do Certificado de Aprovação – CA, expedido pelo órgão de âmbito nacional competente em matéria de segurança e saúde no trabalho.
- II. A seleção do EPI deve ser realizada pela organização com a participação do Serviço Especializado em Engenharia de Segurança e em Medicina do Trabalho – SESMT, quando houver, após ouvidos empregados usuários e a Comissão Interna de Prevenção de Acidentes – Cipa ou nomeado.
- III. Por se tratar de um equipamento de uso comum, o mesmo EPI poderá ser compartilhado com até três trabalhadores desde que seja previamente imunizado.

Assinale

- (A) se apenas as afirmativas I, II e III estiverem corretas.
- (B) se apenas as afirmativas I, II, e IV estiverem corretas.
- (C) se apenas as afirmativas I, III e IV estiverem corretas.
- (D) se apenas a afirmativa III estiver correta.
- (E) se todas as afirmativas estiverem corretas.

Questão 48

A NR-9 estabelece que “os requisitos para a avaliação das exposições ocupacionais a agentes físicos, químicos e biológicos quando identificados no Programa de Gerenciamento de Riscos – PGR, previsto na NR-1, e subsidiá-lo quanto às medidas de prevenção para os riscos ocupacionais”.

Assinale a alternativa que só contenha agentes químicos.

- (A) poeira, fumo e neblina
- (B) poeira, ácaro e vibração
- (C) vírus, fumo e vapor
- (D) vapor, ácaro e poeira
- (E) ruído, neblina e spray

Questão 49

A tabela a seguir apresenta a parte do corpo a ser protegida e o respectivos EPI.

Relacione a 1ª coluna com a 2ª.

| 1ª COLUNA | 2ª COLUNA |
|-----------------------------------|---|
| 1. EPI PARA PROTEÇÃO DA CABEÇA | A- Protetor auditivo semiauricular para proteção do sistema auditivo contra níveis de pressão sonora superiores ao estabelecido na NR-15, Anexos 1 e 2. |
| 2. EPI PARA PROTEÇÃO DOS OLHOS | B- Peça semifacial filtrante para partículas PFF2 para proteção das vias respiratórias contra poeiras, névoas e fumos. |
| 3. EPI PARA PROTEÇÃO AUDITIVA | C- Capuz ou balaclava. |
| 4. EPI PARA PROTEÇÃO RESPIRATÓRIA | D- Óculos para proteção dos olhos contra impactos de partículas volantes. |

Assinale a alternativa cuja associação entre as colunas esteja correta.

- (A) 1A – 2B – 3C – 4D
- (B) 1D – 2C – 3B – 4A
- (C) 1C – 2D – 3A – 4B
- (D) 1C – 2A – 3B – 4D
- (E) 1A – 2C – 3D – 4B

Questão 50

Existe um tipo de doença ocupacional chamada de “doença do dedo branco” ou síndrome de Raynaud. Essa doença é adquirida no trabalho em razão de uma exposição excessiva

- (A) à poeira de mármore.
- (B) a pressões altas.
- (C) ao calor.
- (D) à vibração.
- (E) ao ruído.

Questão 51

Segundo a NR-15, “o exercício de trabalho em condições de insalubridade, de acordo com os subitens do item anterior, assegura ao trabalhador a percepção de adicional de insalubridade”.

Sobre o adicional de salário, assinale a alternativa correta.

- (A) 20%, sobre o salário mínimo regional, para insalubridade de grau máximo
- (B) 30%, sobre o salário mínimo regional, para insalubridade de grau máximo
- (C) 30%, sobre o salário anotado em carteira, para insalubridade de grau máximo
- (D) 40%, sobre o salário mínimo regional, para insalubridade de grau máximo
- (E) 50%, sobre o salário anotado em carteira, para insalubridade de grau máximo

Questão 52

Segundo a NR-15, “concentração ou intensidade máxima ou mínima, relacionada com a natureza e o tempo de exposição ao agente, que não causará dano à saúde do trabalhador, durante a sua vida laboral”.

O texto refere-se a

- (A) Limite de Dano.
- (B) Insalubridade.
- (C) Periculosidade.
- (D) Limite de Fourier.
- (E) Limite de Tolerância.

Questão 53

O valor máximo de Nível de Ruído contínuo ou intermitente, em decibéis, a que um trabalhador poderá estar exposto numa jornada de 8 horas é de

- (A) 110.
- (B) 85.
- (C) 115.
- (D) 90.
- (E) 50.

Questão 54

Segundo a NR-10 (Segurança em Instalações e Serviços em Eletricidade), devem constituir e manter o Prontuário de Instalações Elétricas

- (A) somente os estabelecimentos com carga instalada superior a 50 kW.
- (B) somente os estabelecimentos com carga instalada superior a 75 kW.
- (C) somente os estabelecimentos com carga instalada superior a 100 kW.
- (D) somente os estabelecimentos com carga instalada superior a 120 kW.
- (E) somente os estabelecimentos com carga instalada superior a 500 kW.

Questão 55

A NR-35 (Trabalho em Altura) estabelece “os requisitos mínimos e as medidas de proteção para o trabalho em altura, envolvendo o planejamento, a organização e a execução, de forma a garantir a segurança e a saúde dos trabalhadores envolvidos direta ou indiretamente com esta atividade”.

Considera-se trabalho em altura toda atividade executada acima de

- (A) 2,00 m (dois metros) do nível inferior, onde haja risco de queda.
- (B) 3,00 m (três metros) do nível inferior, onde haja risco de queda.
- (C) 7,00 m (sete metros) do nível inferior, onde haja risco de queda.
- (D) uma vez e meia a altura do trabalhador.
- (E) duas vezes a altura do trabalhador.

Instituto
ACCESS