



UNIVERSIDADE FEDERAL DE JATAÍ

CONCURSO PÚBLICO

CADERNO DE PROVA – NÍVEL SUPERIOR (TARDE)

Fisioterapeuta

LEIA ATENTAMENTE AS SEGUINTE INSTRUÇÕES:

1. Este caderno de prova contém **55 (cinquenta e cinco) questões objetivas**, numeradas de 1 a 55 e distribuídas da seguinte forma:
 - a) de 1 a 10 – Língua Portuguesa;
 - b) de 11 a 20 – Matemática e Raciocínio Lógico;
 - c) de 21 a 25 – Noções de Informática;
 - d) de 26 a 30 – Legislação;
 - e) de 31 a 55 – Conhecimentos Específicos
2. Confira se a quantidade e a ordem das questões deste caderno de prova estão de acordo com as instruções anteriores. Caso o caderno esteja incompleto, tenha defeito ou apresente qualquer divergência, comunique imediatamente ao fiscal de sala para que ele tome as providências cabíveis.
3. Para cada uma das questões objetivas, são apresentadas **5 (cinco) opções de resposta**. Apenas **1 (uma)** resposta responde corretamente à questão.
4. O tempo disponível para esta prova é de **4 (quatro) horas**.
5. Reserve tempo suficiente para marcar a sua folha de respostas.
6. Os rascunhos e as marcações assinaladas neste caderno **não** serão considerados na avaliação.
7. O candidato somente poderá se retirar do local da aplicação das provas após **60 (sessenta) minutos** de seu início.
8. Quando terminar, chame o fiscal de sala, entregue este **caderno de prova** e a **folha de respostas**.
9. O candidato somente poderá retirar-se do local da aplicação levando consigo o caderno de provas a partir dos últimos **30 (trinta) minutos** para o término da prova.
10. **Boa prova!**

LÍNGUA PORTUGUESA



Leia atentamente o texto a seguir e responda às questões de 1 a 20.

“Detox digital” reduz não só as emoções negativas, mas também as positivas

Dar um tempo das redes sociais – o popular “detox digital” – traz benefícios para a redução de sentimentos negativos que já foram amplamente descritos pelos cientistas. Agora, um novo trabalho mostra que o distanciamento dessas plataformas também pode diminuir, simultaneamente, as emoções positivas dos usuários.

Se por um lado a abstinência dos aplicativos ajuda a reduzir as experiências negativas – como comparação social, comentários depreciativos e até bullying –, por outro, o jejum também minora ações que trazem sensações de recompensa social, como likes, crescimento do número de seguidores e mensagens positivas.

O resultado surpreendeu os próprios cientistas responsáveis pelo estudo, que descreveram a situação como inesperada.

“Acreditamos que isso [diminuição dos sentimentos positivos dos participantes] se deve a uma ‘perda’ de experiências socialmente gratificantes das redes sociais”, explica um dos autores do trabalho, Niklas Ihssen, que é professor do departamento de psicologia da Universidade de Durham, no Reino Unido.

“As nossas descobertas sugerem que as redes oferecem recompensas sociais poderosas, e a abstenção pode, portanto, levar a alguma redução das emoções positivas, porque essas recompensas já não estão disponíveis”, diz o cientista.

O artigo, publicado na última quarta-feira (8) na revista especializada PLoS One, tentou compensar ainda um outro desequilíbrio frequente em pesquisas que avaliam as emoções dos usuários: o recurso exclusivo a questionários em que os próprios participantes mensuram e descrevem seus sentimentos.

Em muitos dos trabalhos dessa área, a autoavaliação dos voluntários é a principal ferramenta para medir os efeitos psicológicos.

Para ultrapassar isso, os cientistas optaram por mesclar esses questionários com diversas abordagens, incluindo experiências em laboratório. O objetivo principal era captar certas consequências implícitas da abstinência das redes.

“Um dos desafios é acompanhar, de uma forma realista, os efeitos da redução do consumo [das redes sociais]. Entre outras técnicas, utilizamos para isso um método denominado ‘avaliação ecológica momentânea’. Nele, os participantes recebem miniquestionários em seus smartphones em vários momentos do dia, permitindo uma avaliação mais naturalista do humor e dos comportamentos”, descreve Niklas Ihssen.

Além das pequenas pesquisas, havia ainda uma avaliação maior. Por volta das 21h30 de cada dia do experimento, o grupo avaliado respondia a um questionário mais abrangente.

Ao longo do trabalho, os voluntários tiveram de fazer visitas também a um laboratório da Universidade de Durham, onde foram realizados testes mais aprofundados

que mensuravam outras componentes, como percepção temporal e de esforço e a reação a estímulos.

Durante todo o estudo, os participantes tiveram uma ferramenta que monitorava o tempo de uso das telas. Embora tenham sido orientados a não entrarem nas redes sociais e a desabilitarem as notificações, eles não precisaram deletar os respectivos aplicativos do celular.

Segundo os autores, manter os apps nos dispositivos contribuiu para evitar que o grupo estudado usasse outros dispositivos para acessar as redes. Essa configuração permitiu ainda que os cientistas identificassem eventuais “recaídas” no uso das ferramentas.

No próprio experimento, aliás, vários participantes não conseguiram manter o detox total. Apenas 7 dos 51 envolvidos conseguiram ficar completamente abster-se durante os sete dias determinados. A maioria, porém, reduziu drasticamente o uso.

A própria ideia de ter de ficar sem redes sociais já foi o suficiente para, de acordo com os cientistas, dificultar o recrutamento para o experimento.

“Os participantes precisavam estar preparados para se absterem das redes sociais durante uma semana, e muitos fatores podem ter inicialmente dissuadido os indivíduos de fazerem isto, incluindo o chamado FOMO [‘fear of missing out’, ou medo de perder algo, na sigla em inglês]”, diz o autor.

Segundo Niklas Ihssen, embora a abstinência total tenha se mostrado difícil, a maioria dos envolvidos pode diminuir consideravelmente o tempo passado nas redes, saindo de uma média de 3 a 4 horas diárias para cerca de 30 minutos durante o experimento.

O estudo mostrou ainda que, de uma maneira geral, os participantes também não tiveram manifestações relevantes de sintomas relacionados à síndrome de abstinência.

“Em última análise, os nossos resultados implicam que é possível reduzir substancialmente o uso das redes sociais sem ter efeitos colaterais significativos no humor e em outros processos psicológicos. Ao mesmo tempo, parece difícil abster-se completamente”, completa o autor.

(Giuliana Miranda.

<https://www1.folha.uol.com.br/ciencia/2023/11/detox-digital-reduz-nao-so-as-emocoes-negativas-mas-as-positivas-tambem.shtml>. 16.nov.2023)

Questão 1

Em relação às ideias do texto, analise as afirmativas a seguir:

- I. A abstinência em relação às redes sociais provoca um duplo efeito: ao mesmo tempo em que protege o indivíduo de sentimentos negativos, pode levá-lo a sofrer pela ausência de recompensas positivas.
- II. Um dos motivos para a não adesão à pesquisa foi a justificativa de não ficar longe das redes sociais, e isso prejudicou largamente os resultados obtidos, pela falta de representatividade.
- III. A permanência dos aplicativos nos celulares possibilitou o monitoramento de recaídas dos participantes, ao mesmo tempo em que não tornava necessário buscar outros aparelhos caso não resistissem ao experimento.

Assinale

- (A) se apenas as afirmativas I e II estiverem corretas.
- (B) se apenas as afirmativas I e III estiverem corretas.
- (C) se apenas as afirmativas II e III estiverem corretas.
- (D) se nenhuma afirmativa estiver correta.
- (E) se todas as afirmativas estiverem corretas.

Questão 2

O texto, em relação ao seu propósito de composição, apresenta natureza

- (A) argumentativa, por apresentar a tese da autora.
- (B) descritiva, por se concentrar nos detalhes constituintes da pesquisa.
- (C) dissertativa embasada por aspecto jornalístico, narrando e comentando o processo do experimento.
- (D) injuntiva, por apresentar, como objetivo maior os objetivos do experimento e o modo de fazê-lo.
- (E) narrativa, por se concentrar nas falas dos personagens envolvidos no experimento, mormente por colher suas impressões com a experiência de vivê-lo.

Questão 3

Dar um tempo das redes sociais – o popular "detox digital" – traz benefícios para a redução de sentimentos negativos que já foram amplamente descritos pelos cientistas. (L.1-4)

O nome popular para "dar um tempo das redes sociais" constitui, como no período acima, exemplo de

- (A) metonímia.
- (B) catacrese.
- (C) sinestesia.
- (D) eufemismo.
- (E) metáfora.

Questão 4

Essa configuração permitiu ainda que os cientistas identificassem eventuais "recaídas" no uso das ferramentas. (L.66-68)

O termo entre aspas no período acima agrega um valor semântico não explícito no texto como um todo.

Nesse sentido, assinale a alternativa em que se indique corretamente o universo de sentido que é evocado pelo termo.

- (A) vício
- (B) decadência
- (C) perda de posição social
- (D) degradação moral
- (E) deliberado aprisionamento

Questão 5

O artigo, publicado na última quarta-feira (8) na revista especializada PLoS One, tentou compensar ainda um outro desequilíbrio frequente em pesquisas que avaliam as emoções dos usuários: o recurso exclusivo a questionários em que os próprios participantes mensuram e descrevem seus sentimentos. (L.28-33)

O segmento sublinhado no período acima, em relação ao que é dito anteriormente, desempenha papel de

- (A) exemplificação.
- (B) explicação.
- (C) especificação.
- (D) enumeração.
- (E) explicitação.

Questão 6

Em "ferramentas" (L.68), há

- (A) sete fonemas.
- (B) oito fonemas.
- (C) nove fonemas.
- (D) dez fonemas.
- (E) onze fonemas.

Questão 7

Dar um tempo das redes sociais – o popular "detox digital" – traz benefícios para a redução de sentimentos negativos que já foram amplamente descritos pelos cientistas. Agora, um novo trabalho mostra que o distanciamento dessas plataformas também pode diminuir, simultaneamente, as emoções positivas dos usuários. (L.1-7)

As duas ocorrências do QUE no período acima se classificam, respectivamente, como

- (A) pronome relativo e pronome relativo.
- (B) conjunção integrante e conjunção integrante.
- (C) conjunção integrante e pronome relativo.
- (D) pronome relativo e conjunção integrante.
- (E) conjunção subordinativa e preposição.

Questão 8

Assinale a alternativa em que o termo indicado exerça função sintática **distinta** da das demais.

- (A) [diminuição dos sentimentos positivos dos participantes] (L.17-18)
- (B) Niklas Ihssen (L.20)
- (C) PLoS One (L.29)
- (D) 'avaliação ecológica momentânea' (L.45)
- (E) ['fear of missing out', ou medo de perder algo, na sigla em inglês] (L.81-82)

Questão 9

Para ultrapassar isso, os cientistas optaram por mesclar esses questionários com diversas abordagens, incluindo experiências em laboratório. (L.37-39)

O termo sublinhado no período acima desempenha papel

- (A) dêitico.
- (B) catafórico.
- (C) exofórico.
- (D) epanafórico.
- (E) anafórico.

Questão 10

Assinale a alternativa em que **não** se encontre exemplo de voz passiva.

- (A) Dar um tempo das redes sociais – o popular "detox digital" – traz benefícios para a redução de sentimentos negativos que já foram amplamente descritos pelos cientistas. (L.1-4)
- (B) O artigo, publicado na última quarta-feira (8) na revista especializada PLoS One, tentou compensar ainda um outro desequilíbrio frequente em pesquisas que avaliam as emoções dos usuários: o recurso exclusivo a questionários em que os próprios participantes mensuram e descrevem seus sentimentos. (L.28-33)
- (C) Ao longo do trabalho, os voluntários tiveram de fazer visitas também a um laboratório da Universidade de Durham, onde foram realizados testes mais aprofundados que mensuravam outras componentes, como percepção temporal e de esforço e a reação a estímulos. (L.54-58)
- (D) Embora tenham sido orientados a não entrarem nas redes sociais e a desabilitarem as notificações, eles não precisaram deletar os respectivos aplicativos do celular. (L.61-63)
- (E) Segundo Niklas Ihssen, embora a abstinência total tenha se mostrado difícil, a maioria dos envolvidos pode diminuir consideravelmente o tempo passado nas redes, saindo de uma média de 3 a 4 horas diárias para cerca de 30 minutos durante o experimento. (L.83-87)

MATEMÁTICA E RACIOCÍNIO LÓGICO

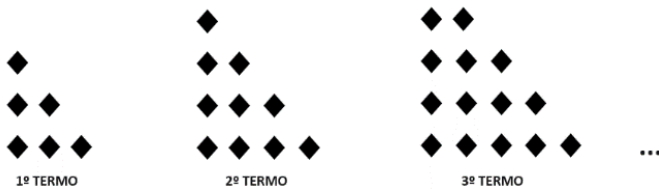
Questão 11

Bruno e Carlos apresentaram, cada um, o orçamento para execução de um serviço. Bruno cobra uma taxa fixa de R\$ 900,00 mais R\$ 150,00 por hora de execução do serviço, já Carlos cobra uma taxa fixa de R\$ 750,00 mais R\$ 200,00 por hora de execução do serviço. Qual o tempo mínimo, em horas, de execução do serviço, que torna o valor do orçamento de Bruno mais barato que de Carlos?

- (A) 1.
- (B) 2.
- (C) 3.
- (D) 4.
- (E) 5.

Questão 12

Observe a sequência de figuras formadas por losangos a seguir. Os termos dessa sequência seguem um padrão constante.



O total de losangos no 11º termo dessa sequência é igual a

- (A) 18.
- (B) 38.
- (C) 40.
- (D) 46.
- (E) 66.

Questão 13

Uma construtora contratou 20 profissionais para realizar uma obra de 800m² a ser concluída em 10 dias. Após o quarto dia, percebeu-se que o tamanho da obra era, na verdade, de 1000m² e que precisaria finalizá-la um dia antes do prazo estabelecido inicialmente. Quantos profissionais, com mesma capacidade, devem ser contratados para que se possa realizar a obra sob as novas condições?

- (A) 6.
- (B) 9.
- (C) 12.
- (D) 14.
- (E) 18.

Questão 14

Sabe-se que o terceiro termo de uma progressão geométrica alternada é igual a 16 e que seu nono termo é igual a 1024. A razão dessa progressão é igual a

- (A) -4.
- (B) -2.
- (C) 0.
- (D) 2.
- (E) 4.

Questão 15

A negação da proposição lógica “Cláudio não é rico e Marcos é inteligente” é a afirmativa

- (A) Claudio é rico ou Marcos é inteligente.
- (B) Claudio é rico e Marcos é inteligente.
- (C) Claudio não é rico ou Marcos não é inteligente.
- (D) Claudio é rico e Marcos não é inteligente.
- (E) Claudio é rico ou Marcos não é inteligente.

Questão 16

A publicação de *fakenews* em uma rede social alcançou inicialmente 100 pessoas. Devido a vários compartilhamentos da informação, a quantidade de pessoas alcançadas pela notícia dobrou a cada hora desde a publicação inicial.

A função que relaciona a quantidade Q de pessoas alcançadas pela notícia, t horas após a publicação inicial é

- (A) $Q(t) = 100 + 2^t$
- (B) $Q(t) = 100^t$
- (C) $Q(t) = 100^{2t}$
- (D) $Q(t) = 100 \cdot 2^t$
- (E) $Q(t) = 102^t$

Questão 17

Uma microempresa criou um plano de metas, onde deseja ter um lucro diário de R\$ 700,00. Ela consegue produzir diariamente x caixas contendo, cada uma, 30 unidades de seu produto, e pode vender tudo o que produzir a um preço de R\$ 60,00 por caixa. O custo total, em reais, é dado pela expressão $C(x) = x^2 - 20x + 900$. Portanto, para que a empresa tenha lucro diário desejado, qual deve ser a quantidade de unidades que devem ser produzidas e vendidas por dia?

- (A) 40.
- (B) 200.
- (C) 400.
- (D) 600.
- (E) 800.

Questão 18

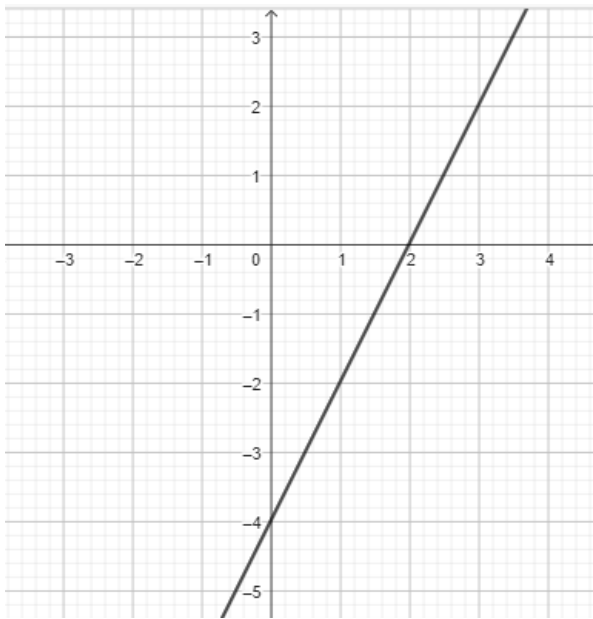
Uma loja possui dezoito funcionários, sendo cinco estoquistas, oito vendedoras, três funcionárias administrativas e dois seguranças. Sabe-se que essa empresa vai contratar vendedoras, aumentando em 50% o número atual de vendedoras.

O número total de funcionários após a contratação das novas vendedoras é igual a

- (A) 19.
- (B) 20.
- (C) 22.
- (D) 24.
- (E) 27.

Questão 19

A seguir temos o gráfico de uma função polinomial do 1º grau $f: \mathbb{R} \rightarrow \mathbb{R}$.



O valor de $f(-3)$ é igual a

- (A) - 6.
- (B) - 8.
- (C) - 10.
- (D) - 12.
- (E) - 14.

Questão 20

Bruno possui 6 cachorros e tem a quantidade de ração para alimentação deles para um período de 40 dias. Entretanto, 2 deles foram doados para seu primo e a ração foi reduzida à metade. Por qual período de dias os cachorros restantes poderão ser alimentados com a quantidade de ração existente agora?

- (A) 15.
- (B) 30.
- (C) 45.
- (D) 60.
- (E) 65

NOÇÕES DE INFORMÁTICA

Questão 21

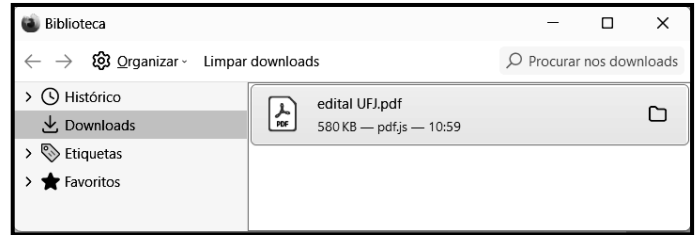
No que diz respeito à internet, um equipamento de interconexão possui importância capital, sendo o dispositivo responsável por distribuir a internet para um ou mais dispositivos, seja via cabo de rede, ou pela rede wifi. Esse equipamento suporta a conexão de computadores de uma rede interna entre si, permitindo que troquem dados internamente, mesmo sem uma conexão à internet pública. Tecnicamente, é um dispositivo de nível 3 da arquitetura OSI/ISO que opera na camada de rede com base no protocolo IP, sendo o grande responsável por encaminhar informações em pacotes de dados, traçando as melhores rotas na hora de conectar dispositivos com a internet sem fio.

Esse equipamento de interconexão é conhecido por

- (A) switch.
- (B) roteador.
- (C) hub.
- (D) repetidor.
- (E) modem.

Questão 22

No uso dos recursos do Firefox Mozilla em um notebook Intel, um funcionário da UFJ executou um atalho de teclado que exibiu a janela de diálogo, ilustrada pela figura abaixo.

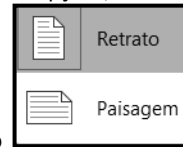


O atalho de teclado foi

- (A) Ctrl + S.
- (B) Ctrl + B.
- (C) Ctrl + D.
- (D) Ctrl + J.
- (E) Ctrl + L.

Questão 23

Durante a digitação de um texto no Word do pacote MSOffice 2019 BR, a guia Layout da Barra de Menu foi pressionada. Nas opções mostradas na Faixa de Opções, um ícone foi acionado,



exibindo a janela de diálogo, que mostra as duas modalidades possíveis de serem utilizadas na configuração do documento.

O ícone é

- (A) Tabela
- (B) Margens
- (C) Colunas
- (D) Tamanho
- (E) Orientação

Questão 24

A planilha da figura foi criada no Excel 2019 BR. Em D2, foi inserida a fórmula =SOMA(A2;A6). Em D4, foi inserida uma fórmula que determina a média aritmética entre todos os valores mostrados nas células A2, A3, A4, A5 e A6. Em D6, foi inserida a fórmula =MOD(D4;2).

	A	B	C	D
	UFJ UNIVERSIDADE FEDERAL DE JATAÍ			
1				
2	21		SOMA =	?
3	13			
4	18		MÉDIA =	16
5	17			
6	11		MOD =	?

Nessas condições, o valor mostrado em D2, a fórmula inserida em D4 e o valor mostrado em D6 são, respectivamente,

- (A) 32, =MÉDIA(A2:A6) e 0.
 (B) 80, =MÉDIA(A2:A6) e 1.
 (C) 32, =MÉDIA(A2:A6) e 1.
 (D) 80, =MED(A2:A6) e 0.
 (E) 32, =MED(A2:A6) e 1.

Questão 25

No contexto da segurança e proteção dos computadores na internet, tem sido comum a implementação de um dispositivo de segurança nas redes, que monitora o tráfego de entrada e saída e decide permitir ou bloquear tráfegos específicos, de acordo com um conjunto definido de regras de segurança.

Esse dispositivo de segurança é conhecido como

- (A) sniffer.
 (B) backup.
 (C) firewall.
 (D) nobreak.
 (E) deadlock.

LEGISLAÇÃO**Questão 26**

No Regimento Geral da UFJ, estão previstas várias Pró-Reitorias, como as listadas nas alternativas a seguir, à exceção de uma. Assinale-a.

- (A) Pesquisa e Inovação
 (B) Administração e Finanças
 (C) Assuntos Estudantis
 (D) Gestão de Pessoas
 (E) Processos Seletivos

Questão 27

De acordo com o que rege a Lei 8.112/90, analise as afirmativas a seguir:

- I. Além do vencimento, poderão ser pagas ao servidor as seguintes vantagens: adicionais; indenizações; gratificações; e remunerações.
- II. As indenizações não se incorporam ao vencimento ou provento para qualquer efeito.
- III. As vantagens pecuniárias não serão computadas, nem acumuladas, para efeito de concessão de quaisquer outros acréscimos pecuniários ulteriores, sob o mesmo título ou idêntico fundamento.

Assinale

- (A) se apenas as afirmativas I e II estiverem corretas.
 (B) se apenas as afirmativas I e III estiverem corretas.
 (C) se apenas as afirmativas II e III estiverem corretas.
 (D) se nenhuma afirmativa estiver correta.
 (E) se todas as afirmativas estiverem corretas.

Questão 28

Com base na Lei 11.091/2005, analise as afirmativas a seguir:

- I. O desenvolvimento do servidor na carreira dar-se-á, exclusivamente, pela mudança de nível de capacitação e de padrão de vencimento mediante, respectivamente, Progressão por Capacitação Profissional ou Progressão por Mérito Profissional.
- II. Progressão por Capacitação Profissional é a mudança de nível de capacitação, no mesmo cargo e nível de classificação, decorrente da obtenção pelo servidor de certificação em Programa de capacitação, compatível com o cargo ocupado, o ambiente organizacional e a carga horária mínima exigida, respeitado o interstício de 18 (dezoito) meses, nos termos da tabela constante dos Anexos da Lei.
- III. Progressão por Mérito Profissional é a mudança para o padrão de vencimento imediatamente subsequente, a cada 3 (três) anos de efetivo exercício, desde que o servidor apresente resultado fixado em programa de avaliação de desempenho, observado o respectivo nível de capacitação.

Assinale

- (A) se apenas as afirmativas I e II estiverem corretas.
 (B) se apenas as afirmativas I e III estiverem corretas.
 (C) se apenas as afirmativas II e III estiverem corretas.
 (D) se nenhuma afirmativa estiver correta.
 (E) se todas as afirmativas estiverem corretas.

Questão 29

A PNSST tem por princípios o listado nas alternativas a seguir, à exceção de uma. Assinale-a.

- (A) universalidade
 (B) prevenção
 (C) precedência das ações de assistência sobre as de prevenção
 (D) diálogo social
 (E) integralidade

Questão 30

Segundo o Estatuto da UFJ, analise as afirmativas a seguir:

- I. A extensão é a atividade acadêmica que articula o ensino e a pesquisa, com a finalidade de promover uma relação transformadora entre universidade e sociedade por meio de metodologias participativas, estimulando e promovendo ações e atividades voltadas ao desenvolvimento cultural, científico, artístico, tecnológico e do esporte, em todas as suas formas de expressão.
- II. A UFJ destinará dotação orçamentária não inferior a 20%, após descontar as despesas básicas da instituição, para o financiamento de projetos relacionados ao ensino, à pesquisa, à extensão e à pós-graduação, em todas as áreas do conhecimento.
- III. Os critérios e a concessão dos recursos mencionados, para cada uma das áreas, serão definidos no Regimento Geral da UFJ.

Assinale

- (A) se apenas as afirmativas I e II estiverem corretas.
- (B) se apenas as afirmativas I e III estiverem corretas.
- (C) se apenas as afirmativas II e III estiverem corretas.
- (D) se nenhuma afirmativa estiver correta.
- (E) se todas as afirmativas estiverem corretas.

CONHECIMENTOS ESPECÍFICOS

Questão 31

No Brasil, a Atenção Básica é desenvolvida com o mais alto grau de descentralização e capilaridade, ocorrendo

- (A) no local mais próximo da vida das pessoas.
- (B) nos locais de trabalho mais remotos.
- (C) nas escolas distantes do domicílio.
- (D) no local mais distante da vida das pessoas.
- (E) nos hospitais gerais mais próximos do domicílio da pessoa.

Questão 32

A atenção básica caracteriza-se por um conjunto de ações de saúde, no âmbito individual e coletivo, que abrange:

- I. a promoção e a proteção da saúde;
- II. a prevenção de agravos;
- III. o diagnóstico e o tratamento cirúrgico;
- IV. reabilitação.

Analise os itens acima. Está correto o que se afirma em

- (A) I e II apenas.
- (B) I, II e III, apenas.
- (C) I, II e IV, apenas.
- (D) I, II, III e IV.
- (E) II, III e IV, apenas.

Questão 33

A Atenção Básica tem como fundamentos e diretrizes:

- I. ter território adstrito sobre o mesmo;
- II. possibilitar o acesso universal;
- III. coordenar a integralidade em seus vários aspectos;
- IV. estimular a participação dos usuários.

Analise os itens acima. Está correto o que se afirma em

- (A) I e II, apenas.
- (B) I, II e III, apenas.
- (C) II e III, apenas.
- (D) III e IV, apenas.
- (E) I, II, III e IV.

Questão 34

A portaria que aprova a Política Nacional de Atenção Básica (Pnab) e se refere ao Nasf é a

- (A) 2.488, de 21 de outubro de 2011.
- (B) 2.488, de 21 de outubro de 2021.
- (C) 2.488, de 21 de janeiro de 2011.
- (D) 3.488, de 21 de outubro de 2020.
- (E) 488, de 21 de outubro de 2011.

Questão 35

Conforme a Pnab, os Núcleos de Apoio à Saúde da Família (Nasf) são equipes

- (A) multiprofissionais.
- (B) de médicos e enfermeiros, apenas.
- (C) de fisioterapeutas, apenas.
- (D) de enfermeiros, apenas.
- (E) agentes comunitários, apenas.

Questão 36

A Resolução Coffito que normatiza a atuação da equipe de Fisioterapia na Atenção Domiciliar/Home Care é a

- (A) 474, de 20 de dezembro de 2016.
- (B) 938, de 20 de dezembro de 2020.
- (C) 353, de 20 de dezembro de 2016.
- (D) 359, de 20 de dezembro de 2020.
- (E) 474, de 20 de dezembro de 2016.

Questão 37

Considerando a regulamentação legal sobre a assistência domiciliar, entende-se por atenção domiciliar / Home Care de Fisioterapia as ações desenvolvidas no domicílio da pessoa quanto a:

- I. promoção de sua saúde;
- II. curativos e prescrição de pomadas reparadoras;
- III. recuperação funcional;
- IV. cuidados paliativos.

Analise os itens acima. Está correto o que se afirma em

- (A) I e II, apenas.
- (B) I, II, e III apenas.
- (C) I e III, apenas.
- (D) I, III e IV, apenas.
- (E) I e IV apenas.

Questão 38

A definição constante na Resolução Coffito que normatiza a atuação da equipe de Fisioterapia na Atenção Domiciliar/Home Care, descrita como “contato pontual da equipe de fisioterapia para avaliação das demandas exigidas pelo usuário e/ou familiar, bem como o ambiente onde vivem, visando estabelecer um plano assistencial, programado com objetivo definido”, refere-se a

- (A) Consulta Domiciliar.
- (B) Atendimento Domiciliar.
- (C) Internação Domiciliar.
- (D) Visita Domiciliar.
- (E) Educação Domiciliar.

Questão 39

Na avaliação fisioterapêutica do idoso, é de extrema importância estabelecer uma comunicação adequada. Para tal, é importante

- (A) usar gírias que facilitem o entendimento.
- (B) falar mais alto.
- (C) usar os termos “deve” ou “pode” fazer algo.
- (D) não infantilizar o idoso.
- (E) usar palavras no diminutivo (perninha, bracinho).

Questão 40

Em lesões de nervos periféricos, o bloqueio da condução nervosa resultante de desmielinização por isquemia é denominado

- (A) neuropraxia.
- (B) axonotmese.
- (C) neurotmeze.
- (D) degeneração walleriana.
- (E) neurofibroma.

Questão 41

Em um caso de neuropatia que afetou o músculo tibial anterior, seguindo os princípios do PNF (facilinação neuromuscular proprioceptiva), o fisioterapeuta deverá realizar

- (A) dorsiflexão com inversão assistidas.
- (B) plantiflexão com inversão resistidas.
- (C) dorsiflexão com eversão assistidas.
- (D) flexão, abdução, rotação medial do quadril com plantiflexão e inversão de tornozelo.
- (E) flexão, adução, rotação lateral do quadril com dorsiflexão e inversão de tornozelo.

Questão 42

Para estimular o desenvolvimento postural da criança, para realizar a mudança de decúbito dorsal (DD) para sentado, realiza-se a seguinte sequência de movimentos:

- (A) DD – DL (decúbito lateral) – sentado de lado – condução braços – sentado simetricamente.
- (B) DD – DL – 04 apoios – sentado simetricamente.
- (C) DD – DV – 04 apoios – joelhos – sentado simetricamente.
- (D) DD – DL – joelhos – semiajoelhado – sentado simetricamente.
- (E) DD – sentado de lado – DV – 04 apoios – sentado simetricamente.

Questão 43

Os testes de reflexos no bebê têm o objetivo de verificar integração de reflexos primitivos para desenvolvimento motor normal, mas não devem persistir de acordo com a faixa etária. No caso do reflexo tônico cervical, esta não pode persistir além dos

- (A) 2 meses.
- (B) 4 meses.
- (C) 6 meses.
- (D) 8 meses.
- (E) 10 meses.

Questão 44

Caso o Reflexo Tônico Cervical se perpetue além do tempo normal, o bebê apresentará limitação para

- (A) trazer as mãos à linha média e para exploração visual.
- (B) trazer as mãos à linha acima da cabeça e para exploração visual.
- (C) sucção e exploração gustativa.
- (D) trazer as mãos à boca e para exploração visual.
- (E) preensão de objetos na lateral e exploração gustativa.

Questão 45

Nos testes para “valgo dinâmico de joelho”, o centro da articulação desloca-se medialmente em relação ao pé devido à(ao)

- (A) fraqueza dos estabilizadores póstero-laterais do quadril e/ou pronação excessiva dos pés.
- (B) rigidez dos estabilizadores póstero-laterais do quadril e/ou pronação excessiva dos pés.
- (C) rigidez músculo reto femoral e dos estabilizadores mediais.
- (D) fraqueza dos estabilizadores póstero-laterais do quadril e/ou supinação excessiva dos pés.
- (E) encurtamento dos estabilizadores póstero-laterais do quadril e/ou supinação excessiva dos pés.

Questão 46

Ao realizar o teste para Estabilidade Lombar, o paciente deverá: “estar em decúbito dorsal e as mãos posicionadas ao longo do corpo; o fisioterapeuta deve passivamente flexionar os quadris do paciente com os joelhos estendidos até atingir 90 graus. Em seguida, pedir que o paciente abaixe os membros inferiores devagar, mantendo a lombar toda apoiada”. Nesse momento, o fisioterapeuta deve acompanhar a descida, observando o ângulo da articulação do quadril e a manutenção do contato da lombar. Considera-se que exista boa estabilidade quando se consegue manter o contato da lombar até alcançar pelo menos

- (A) 15 graus de flexão do quadril.
- (B) 45 graus de flexão do quadril.
- (C) 60 graus de flexão do quadril.
- (D) 90 graus de flexão do quadril.
- (E) 100 graus de flexão do quadril.

Questão 47

A escala que é comumente utilizada para detectar indivíduos com propensão a quedas e/ou que estejam em tratamento para déficits de mobilidade é a escala de

- (A) POMA-Tinetti.
- (B) BERG.
- (C) ASHWORTH.
- (D) BARTHEL.
- (E) ASIA.

Questão 48

Em caso de fratura de cotovelo, para tratar a hipomobilidade articular na fase de movimento controlado, é contraindicado realizar

- (A) mobilização passiva.
- (B) técnicas de inibição muscular.
- (C) alongamento passivo vigoroso.
- (D) exercícios isométricos assistidos.
- (E) massoterapia.

Questão 49

As diretrizes de tratamento após reparo de laceração do manguito rotador com espessura completa preconizam que devem ser realizados exercícios de

- (A) apenas ADM do ombro passivos por 6 a 8 semanas.
- (B) apenas ADM do ombro passivos por 2 semanas.
- (C) ativos assistidos, após 4 semanas de pós-operatório.
- (D) ativos resistidos após 6 a 8 semanas.
- (E) técnicas de contrair e relaxar após 7 a 8 semanas de pós-operatório.

Questão 50

Os comprometimentos e complicações no pós-operatório de mastectomia que o fisioterapeuta deve considerar em um programa de reabilitação são:

- I. fadiga e diminuição da resistência;
- II. dor incisional;
- III. aderências na parede torácica;
- IV. dor cervical posterior.

Está correto o que se afirma em

- (A) I e II, apenas.
- (B) I e IV, apenas.
- (C) I e III, apenas.
- (D) IV apenas.
- (E) I, II, III e IV.

Questão 51

Para remoção de secreção em Vias Aéreas Superiores (VAS), a técnica de Desobstrução Rinofaríngea Retrógrada (DRR) é realizada de forma ativa em crianças, sendo que o posicionamento deve ser:

- (A) decúbito dorsal, com elevação de aproximadamente 30°.
- (B) decúbito dorsal, com elevação de aproximadamente 60°.
- (C) decúbito lateral, com elevação de aproximadamente 30°.
- (D) decúbito lateral, com elevação de aproximadamente 60°.
- (E) sentado.

Questão 52

A ausculta pulmonar é um método semiológico básico no exame pulmonar, onde se pode detectar sons adventícios. Funcionalmente, quando há estreitamento das vias aéreas superiores, de grande intensidade sonora, podendo ser audível a distância, esse ruído é denominado

- (A) roncos.
- (B) sibilos.
- (C) cornagem.
- (D) estertores crepitantes.
- (E) estertores subcrepitantes.

Questão 53

Os parâmetros de PAM (pressão arterial média), variam de acordo com a idade. Para a faixa etária 0 (zero) a 3(três) meses, a média das pressões Sistólica / Diastólica deve ser

- (A) 75/50 mmHg.
- (B) 85/65 mmHg.
- (C) 90/70 mmHg.
- (D) 100/60 mmHg.
- (E) 105/65 mmHg.

Questão 54

A ventilação mecânica substitui total ou parcialmente a ventilação espontânea e está indicada na insuficiência respiratória aguda ou crônica agudizada. Ventilação Não Invasiva utiliza: 1. uma pressão inspiratória para ventilar o paciente através de interface nasofacial, e 2. uma pressão positiva expiratória para manter as vias aéreas e os alvéolos abertos para melhorar a oxigenação, com as seguintes abreviaturas, respectivamente,

- (A) 1.CPAP e ou PSV; 2. EPAP e ou PEEP.
- (B) 1.CPAP e 2. EPAP.
- (C) 1.EPAP e ou PEEP; 2. IPAP e ou PSV.
- (D) 1.IPAP e ou PSV; 2. EPAP e ou PEEP.
- (E) 1.EPAP e ou PEEP; 2. CPAP e ou PSV.

Questão 55

São contraindicações absolutas para uso de VNI (ventilação não invasiva)

- (A) incapacidade de cooperar, proteger as vias aéreas.
- (B) secreções abundantes.
- (C) parada cardíaca ou respiratória.
- (D) falências orgânicas não respiratórias (encefalopatia, arritmias malignas).
- (E) hemorragias digestivas graves com instabilidade hemodinâmica.

Instituto
ACCESS