

AVANÇASP



PREFEITURA MUNICIPAL DA ESTÂNCIA
BALNEÁRIA DE UBATUBA/SP

CONCURSO PÚBLICO
05/2023

TESOUREIRO

Leia atentamente as instruções abaixo

1. PROVA E FOLHA DE RESPOSTAS

Além deste Caderno de Prova, contendo 40 (quarenta) questões objetivas, você receberá do Fiscal de Sala:

- 01 (uma) Folha de Respostas destinada às respostas das questões objetivas. Confira se seus dados estão corretos.

2. TEMPO

- 03 (três) horas é o tempo disponível para realização da prova, já incluído o tempo para marcação da Folha de Respostas da prova objetiva;

- **01 (uma) hora** após o início da prova é possível, retirar-se da sala levando o caderno de prova;

3. INFORMAÇÕES GERAIS

- As questões objetivas têm 05 (cinco) alternativas de resposta (A, B, C, D, E) e somente **uma** delas está correta;
- Verifique se seu caderno está completo, sem repetição de questões ou falhas. Caso contrário, informe imediatamente o Fiscal da Sala, para que sejam tomadas as devidas providências;
- Confira seus dados pessoais na Folha de Respostas, especialmente nome, número de inscrição e documento de identidade e leia atentamente as instruções para preenchimento;
- O preenchimento das respostas da prova objetiva é de sua responsabilidade e não será permitida a troca de Folha de Respostas em caso de erro de marcação pelo candidato;

- Marque, na folha de respostas, com caneta de tinta azul ou preta, a letra correspondente à alternativa que você escolheu.

- Reserve tempo suficiente para o preenchimento de suas respostas. Para fins de avaliação, serão levadas em consideração apenas as marcações realizadas na Folha de Respostas da prova objetiva, não sendo permitido anotar informações relativas às respostas em qualquer outro meio que não seja o caderno de prova;

- Ao se retirar, entregue a Folha de Respostas preenchida e assinada ao Fiscal de Sala.

SERÁ ELIMINADO do presente certame o candidato que:

- a) for surpreendido, durante as provas, em qualquer tipo de comunicação com outro candidato;
- b) portar ou usar, qualquer tipo de aparelho eletrônico (calculadoras, bips/pagers, câmeras fotográficas, filmadoras, telefones celulares, smartphones, tablets, relógios, walkmans, MP3 players, fones de ouvido, agendas eletrônicas, notebooks, palmtops ou qualquer outro tipo de computador portátil, receptores ou gravadores) seja na sala de prova, sanitários, pátios ou qualquer outra dependência do local de prova;
- c) se ausentar da sala em que se realizam as provas levando consigo o Caderno de Questões e/ou a Folha de Respostas;
- d) se recusar a entregar a Folha de Respostas, quando terminar o tempo estabelecido;
- e) não assinar a Lista de Presença e/ou a Folha de Respostas.

LÍNGUA PORTUGUESA

TEXTO

De onde vieram os diamantes rosas? De um continente se quebrando em dois

Essa é a nova hipótese para explicar como esses minerais – muito mais raros que diamantes comuns – se formaram na Austrália.

Levando em consideração todas as minas já descobertas até agora, existem 260 toneladas de diamantes no mundo. Só uma minoria é destinada a joias (até porque nem todos têm as características necessárias para fazê-las): 80% deles vão para a indústria de ferramentas de corte e polimento – devido à forma como seus átomos de carbono são ordenados, ele é o mineral mais duro que existe. A questão é que, para adornar colares e anéis, são usados poucas gramas da pedra. Anéis mais simples, em torno de R\$5 mil, costumam usar 0,2 quilates – ou seja, 0,04 gramas. Daria para produzir 1,3 bilhão deles. O motivo dessas joias serem tão caras não é a raridade, e sim uma mistura de marketing e monopólio na extração. [...] Diamantes rosas, por outro lado, são realmente raros. Dependendo da saturação do rosa, o preço pode flutuar; mas eles são mais caros do que seus equivalentes tradicionais. Cerca de 90% das pedras dessa cor vieram de uma mina na Austrália, fechada desde 2020. Agora, cientistas buscam mais informações sobre a formação desses diamantes – e pistas de onde encontrar mais.

Um estudo, publicado no periódico especializado *Nature Communications*, descreve as pesquisas realizadas na região de Argyle, no oeste da Austrália. Usando lasers para analisar minérios e rochas encontrados em uma mina, os pesquisadores descobriram que um grande depósito de diamantes rosa se formou há 1,3 bilhões de anos, com a separação de um supercontinente em duas partes. Diamantes amarelos e azuis, por exemplo, são formados quando outros elementos, como boro, enxofre e nitrogênio, interagem com o carbono. Um diamante rosa é diferente: ele é puro como um diamante branco, mas fica rosado graças a uma distorção na sua estrutura cristalina. Alguns átomos de carbono organizados de maneira diferente alteram as características da luz

refletida pelo diamante. Para que isso aconteça, ele tem que ser submetido a forças intensas de calor e pressão. Diamantes, por si só, já são formados em condições extremas, mas uma segunda dose distorce a estrutura comum e confere a coloração única. Então, na verdade, as versões rosas são basicamente diamantes brancos “danificados”.

No caso da mina australiana, isso aconteceu quando duas placas tectônicas colidiram, 1,8 bilhões de anos atrás. Após a colisão, as pedrinhas rosas ficaram escondidas centenas de quilômetros abaixo da superfície, longe das mãos dos humanos que surgiriam muito, muito tempo depois. Como elas subiram? É aí que entra a nova pesquisa. Os cientistas supõem, pela idade das rochas em Argyle, que o depósito tenha sido formado a partir da fragmentação de um supercontinente. Conhecido como Nuna ou Columbia, o supercontinente começou a se separar por volta de 1,3 a 1,2 bilhões de anos atrás, o que bate com a datação apontada pelos cientistas. A hipótese deles é de que a fragmentação de Nuna tenha reaberto a fenda deixada na formação dos diamantes rosas. Possibilitando que as joias ficassem mais próximas da superfície terrestre.

“Embora o continente que se tornaria a Austrália não tenha se dividido, a área onde Argyle está situada foi esticada, inclusive ao longo da cicatriz, o que criou lacunas na crosta terrestre para que o magma subisse para a superfície, trazendo consigo diamantes rosa”, afirma Hugo Olierook, um dos autores do estudo. A pesquisa é interessante não só por dar mais pistas sobre a origem dos diamantes rosas, mas também por apontar possíveis condições para a exploração de novas minas. “Acreditamos que, enquanto estes três ingredientes estiverem presentes – carbono profundo, colisão continental e depois estiramento – será possível encontrar a ‘próxima Argyle’, que já foi a maior fonte mundial de diamantes naturais.”

Revista Superinteressante. (Adaptado). Disponível em:

<https://super.abril.com.br/ciencia/de-onde-vieram-os-diamantes-rosas-de-um-continente-se-quebrando-em-dois/>

QUESTÃO 01

De acordo com o texto, a diferença na formação do diamante rosa em comparação com os demais tipos, que o torna um mineral raro, se dá em decorrência da:

- (A) menor intensidade de forças de calor e pressão.
- (B) interação de carbono com boro.
- (C) interação do carbono com enxofre.
- (D) distorção em sua estrutura que altera características da luz refletida pelo diamante.
- (E) interação do carbono com nitrogênio.

QUESTÃO 02

Considere o excerto: “Embora o continente que se tornaria a Austrália não tenha se dividido, a área onde Argyle está situada foi esticada”. No contexto em que ocorre, a oração iniciada pela conjunção “embora” exprime um sentido de:

- (A) adversidade.
- (B) proporcionalidade.
- (C) causalidade.
- (D) condicionalidade.
- (E) concessividade.

QUESTÃO 03

Em relação à coesão, no excerto “A pesquisa é interessante não só por dar mais pistas sobre a origem dos diamantes rosas, mas também por apontar possíveis condições para a exploração de novas minas.”, a expressão “não só... mas também” funciona como:

- (A) operador argumentativo de adição.
- (B) operador argumentativo de oposição.
- (C) operador argumentativo de explicação.
- (D) operador argumentativo de proporção.
- (E) operador argumentativo de conclusão.

QUESTÃO 04

Considere as palavras I. supercontinente, II. pedrinhas e III. cientistas, que ocorrem no texto. Em relação aos processos de formação, aquela(s) que apresenta(m) prefixo derivacional é (são):

- (A) I.
- (B) II.
- (C) III.
- (D) I e II.
- (E) II e III.

QUESTÃO 05

Considere o excerto: “Essa é a nova hipótese para explicar como esses minerais – muito mais raros que diamantes comuns – se formaram na Austrália.” Quanto às classes gramaticais, as palavras “essa”, “hipótese”, “raros” e “se” classificam-se, respectivamente, como:

- (A) pronome relativo, substantivo, adjetivo e pronome reflexivo.
- (B) pronome demonstrativo, adjetivo, adjetivo e pronome reflexivo.
- (C) pronome demonstrativo, substantivo, adjetivo e pronome reflexivo.
- (D) pronome demonstrativo, substantivo, substantivo e pronome reflexivo.
- (E) pronome demonstrativo, substantivo, adjetivo e conjunção integrante.

QUESTÃO 06

Considere as seguintes sentenças, retiradas do texto:

I. “Só uma minoria é destinada a joias (até porque nem todos têm as características necessárias para fazê-las)”

II. “os pesquisadores descobriram que um grande depósito de diamantes rosa se formou há 1,3 bilhões de anos”
Em relação à colocação dos pronomes oblíquos, nas sentenças dadas observa-se, respectivamente:

- (A) ênclise e próclise.
- (B) ênclise e ênclise.
- (C) próclise e ênclise.
- (D) próclise e mesóclise.
- (E) mesóclise e próclise.

QUESTÃO 07

Considere o excerto: “Para que isso aconteça, ele tem que ser submetido a forças intensas de calor e pressão.” No contexto apresentado, ocorre(m) apenas pronomes do(s) tipo(s):

- (A) demonstrativo e pessoal.
- (B) demonstrativo.
- (C) pessoal.
- (D) relativo.
- (E) indefinido.

QUESTÃO 08

Considere a seguinte sentença: “Avistaram alguns homens conduzindo uma cáfila até o lago.” Nesse contexto, a palavra “cáfila” se refere a:

- (A) um grupo de lobos.
- (B) um grupo de porcos.
- (C) um grupo de camelos.
- (D) um grupo de búfalos.
- (E) um grupo de cabras.

QUESTÃO 09

Assinale a alternativa em que a sentença apresenta apenas voz ativa.

- (A) O garoto foi atacado por dois cachorros.
- (B) Encontravam-se cinzas no chão após as festas.
- (C) O homem suicidou-se em sua própria casa.
- (D) Um gato foi resgatado na estrada.
- (E) Pedro e Maria deram uma festa.

QUESTÃO 10

Assinale a alternativa em que, na sentença apresentada, a palavra “que” atua como pronome interrogativo.

- (A) Que desânimo!
- (B) Fiquei feliz que você veio.
- (C) O que você fez ontem?
- (D) Ele deduz que foi traído pela esposa.
- (E) Não há perdão para o que você fez.

MATEMÁTICA E RACIOCÍNIO LÓGICO QUESTÃO 11

Considere a seguinte sequência lógica numérica:

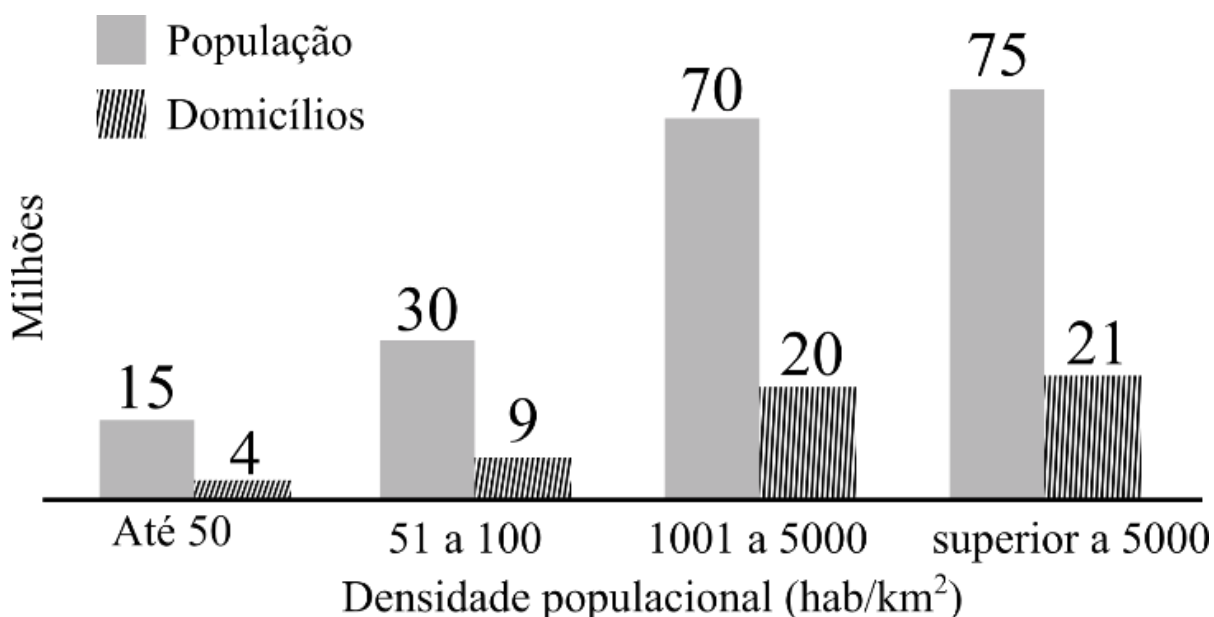
$$\frac{1}{2}, 1, \frac{3}{2}, 2, \frac{5}{2}, 3, \frac{7}{2}, \dots$$

Observando o padrão da sequência, podemos afirmar que o centésimo termo dessa sequência é:

- (A) 101/2.
- (B) 99/2.
- (C) 51/2.
- (D) 100.
- (E) 50.

QUESTÃO 12

O gráfico abaixo mostra a população e o número de domicílios ocupados por classe de densidade populacional



Fonte: Adaptado do Censo Demográfico 2010 - IBGE

Analizando o gráfico, quantos por cento dos domicílios ocupados estão situados em regiões cuja densidade populacional é superior a 5000 habitantes por quilômetro quadrado aproximadamente?

- (A) 21,0%.
- (B) 28,0%.
- (C) 27,5%.
- (D) 26,8%.
- (E) 38,9%.

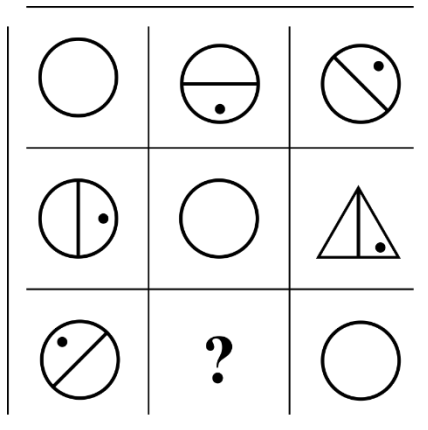
QUESTÃO 13

Um químico misturou uma certa quantidade de cloro em água, mas por descuido esqueceu de anotar as respectivas quantidades das substâncias. Para não perder o seu trabalho, ele fez um experimento para determinar a proporção entre cloro e água, em volume, que encontrou ser 1/5. Além disso, ele sabe que o volume final da mistura é 1,2 litro. Quanto de cloro ele usou nesta mistura?

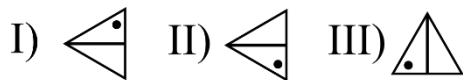
- (A) 200 ml.
- (B) 400 ml.
- (C) 600 ml.
- (D) 800 ml.
- (E) 1000 ml.

QUESTÃO 14

Observe a seguinte sequência lógica figural:



Conforme as correspondências abaixo, indique o elemento faltante (marcado com símbolo de interrogação):



- (A) I.
- (B) II.
- (C) III.
- (D) IV.
- (E) V.

QUESTÃO 15

Um fazendeiro tem 80 hectares de terra onde ele planta milho. Cada hectare ele consegue produzir 6 toneladas de milho, no qual ele ensaca em sacos de 60 kg, e vende a R\$ 60,00 R\$/saco. Qual o valor arrecadado numa colheita completa da sua plantação, em reais?

- (A) 4,8 mil.
- (B) 48 mil.
- (C) 480 mil.
- (D) 4,8 milhões.
- (E) 48 milhões.

NOÇÕES DE INFORMÁTICA
QUESTÃO 16

O Microsoft Outlook 2016 é um cliente de email que permite configurar e gerenciar várias contas de email em um único local. Neste sentido, pode-se afirmar que o Outlook:

I - Oferece uma ampla gama de fórmulas e funções integradas que permitem realizar cálculos complexos automaticamente.

II - Permite armazenar e organizar informações de contato, incluindo nomes, endereços de email, números de telefone e detalhes pessoais.

III - Permite criar gráficos e visualizações de dados para representar informações de maneira mais compreensível.

- (A) Nenhuma das afirmativas estão corretas.
- (B) I e III, apenas.
- (C) II e III, apenas.
- (D) I, apenas.
- (E) II, apenas.

QUESTÃO 17

O Microsoft PowerPoint 2016 é um aplicativo usado para criar apresentações visuais. Ele permite criar slides que contêm texto, imagens, gráficos, vídeos e elementos interativos. Neste sentido, pode-se afirmar que o PowerPoint:

- (A) Permite armazenar e organizar informações de contato, incluindo nomes, endereços de email, números de telefone e detalhes pessoais.
- (B) Oferece uma variedade de modelos de slides e opções de design para criar apresentações.
- (C) O software oferece recursos de elaboração de planilhas, exibindo anotações de slides para auxiliar o orador durante a apresentação.
- (D) Se restringe à configuração e gerenciamento de apenas uma conta de email em um único local.
- (E) Oferece uma ampla gama de fórmulas e funções integradas que permitem realizar cálculos complexos automaticamente.

QUESTÃO 18

O Microsoft Word 2016 é um software de processamento de texto amplamente utilizado para criar, editar e formatar documentos. Ele oferece uma ampla gama de ferramentas para formatar texto de maneira profissional e personalizada. Neste sentido, é **incorreto** afirmar que o Word:

I – Permite inserir imagens, gráficos e outros elementos visuais nos documentos.

II - O Word não oferece opções para criar listas numeradas ou com marcadores em um documento.

III - Para justificar o texto no Word, é preciso imprimir o documento e, em seguida, alinhá-lo manualmente com uma régua.

- (A) Nenhuma das afirmativas estão incorretas.
- (B) I e II, apenas.
- (C) II e III, apenas.
- (D) I, apenas.
- (E) II, apenas.

QUESTÃO 19

Analise a imagem a seguir:



Pode-se afirmar que o programa apresentado possui as seguintes funções, exceto:

- (A) Permite realizar cálculos matemáticos, como adição, subtração, multiplicação e divisão, usando fórmulas.
- (B) Permite organizar dados em planilhas, que são compostas por células dispostas em linhas e colunas.
- (C) Pode classificar dados em ordem alfabética ou numérica e aplicar filtros para exibir apenas os dados que atendem a critérios específicos.
- (D) Possui funções integradas para trabalhar com datas e horas, como calcular diferenças de datas, extrair partes de datas (dia, mês, ano) e realizar cálculos baseados em horários.
- (E) Permite enviar, receber e organizar emails. Sendo possível criar, responder, encaminhar e arquivar mensagens de email de forma eficiente.

QUESTÃO 20

O Microsoft Word 2016 oferece amplas opções de formatação de texto, incluindo formatação de fonte, alinhamento, espaçamento entre linhas, recuos e estilos de parágrafo, permitindo personalizar a aparência do documento. Neste sentido, pode-se afirmar que o Word:

- (A) Permite armazenar e organizar informações de contato, incluindo nomes, endereços de email, números de telefone e detalhes pessoais.
- (B) Oferece uma variedade de modelos de slides e opções de design para criar apresentações.
- (C) Possui recursos de revisão que facilitam a colaboração. Sendo possível adicionar comentários, fazer alterações e usar o controle de alterações para rastrear as edições.
- (D) O software oferece recursos de elaboração de planilhas, exibindo anotações de slides para auxiliar o orador durante a apresentação.
- (E) Oferece uma ampla gama de fórmulas e funções integradas que permitem realizar cálculos complexos automaticamente.

CONHECIMENTOS ESPECÍFICOS

QUESTÃO 21

Na Demonstração dos Fluxos de Caixa de 2022, o fluxo líquido das atividades de investimento será de:

- (A) -R\$ 70.000,00.
- (B) R\$ 95.000,00.
- (C) -R\$ 90.000,00.
- (D) R\$ 85.000,00.
- (E) R\$ 90.000,00.

QUESTÃO 22

Atenção! Considere as informações abaixo como base de resposta das questões 21 a 30.

Imagine que no exercício financeiro de 2022 o Município hipotético de Bom Jesus tenha feito as seguintes transações:

* Lançamento de Taxas municipais, no valor de R\$ 40.000,00, sendo totalmente arrecadadas no exercício.

* Compra de um imóvel destinado à construção de uma escola municipal. Foi empenhado no exercício o valor de R\$ 100.000,00, sendo liquidados e pagos 80% deste valor no exercício.

* Integralização de capital em uma empresa pública do Município, no valor de R\$ 35.000,00, empenhado e integralmente pago no exercício.

* Realização de uma operação de crédito por antecipação de receita orçamentária, no valor de R\$ 40.000,00. A operação foi integralmente liquidada no exercício, com juros de R\$ 5.000,00.

* Empenho da folha de pagamento do funcionalismo municipal, no valor de R\$ 120.000,00, sendo liquidados R\$ 100.000,00 e pagos R\$ 95.000,00 no exercício.

* Venda de veículos inservíveis, arrecadando um total de R\$ 45.000,00.

* Realização de uma operação de crédito junto ao Banco de Desenvolvimento do Estado, no valor de R\$ 120.000,00.

* Lançamento de IPTU, no valor de R\$ 300.000,00, sendo arrecadados R\$ 270.000,00 no exercício.

* Empenho no valor de R\$ 75.000,00 para pagamento de fornecedores de material de consumo, sendo que R\$ 50.000,00 foram liquidados e R\$ 40.000,00 foram pagos no exercício.

* Pagamento de restos a pagar relativos à aquisição de ambulâncias novas, no importe de R\$ 20.000,00.

* Recebimento de Amortização de Empréstimos Concedidos, no valor de R\$ 25.000,00.

Na Demonstração dos Fluxos de Caixa de 2022, o fluxo líquido das atividades operacionais será de:

- (A) R\$ 170.000,00.
- (B) R\$ 165.000,00.
- (C) R\$ 160.000,00.
- (D) R\$ 200.000,00.
- (E) R\$ 175.000,00.

QUESTÃO 23

Na Demonstração dos Fluxos de Caixa de 2022, o fluxo líquido das atividades de financiamento será de:

- (A) R\$ 150.000,00.
- (B) R\$ 140.000,00.
- (C) R\$ 120.000,00.
- (D) R\$ 145.000,00.
- (E) R\$ 190.000,00.

QUESTÃO 24

Sabendo que o saldo de Caixa e Equivalentes de Caixa no início do exercício era de R\$ 15.000,00, qual o valor do saldo de Caixa e Equivalentes de Caixa em 31/12/2022?

- (A) R\$ 180.000,00.
- (B) R\$ 185.000,00.
- (C) R\$ 220.000,00.
- (D) R\$ 230.000,00.
- (E) R\$ 240.000,00.

QUESTÃO 25

O total dos ingressos extraorçamentários a ser evidenciado no Balanço Financeiro de 2022 importa em:

- (A) R\$ 40.000,00.
- (B) R\$ 120.000,00.
- (C) R\$ 80.000,00.
- (D) R\$ 100.000,00.
- (E) R\$ 60.000,00.

QUESTÃO 26

O montante dos Restos a Pagar Não-Processados inscritos no exercício de 2022 é de:

- (A) R\$ 15.000,00.
- (B) R\$ 20.000,00.
- (C) R\$ 25.000,00.
- (D) R\$ 45.000,00.
- (E) R\$ 65.000,00.

QUESTÃO 27

O resultado orçamentário do exercício, a ser evidenciado no Balanço Orçamentário, é:

- (A) um superávit, no valor de R\$ 170.000,00.
- (B) um superávit, no valor de R\$ 165.000,00.
- (C) um déficit, no valor de R\$ 170.000,00.
- (D) um déficit, no valor de R\$ 165.000,00.
- (E) um superávit, no valor de R\$ 175.000,00.

QUESTÃO 28

A Receita Orçamentária Corrente realizada no exercício de 2022 resulta em:

- (A) R\$ 300.000,00.
- (B) R\$ 340.000,00.
- (C) R\$ 290.000,00.
- (D) R\$ 335.000,00.
- (E) R\$ 310.000,00.

QUESTÃO 29

A Despesa Orçamentária de Capital realizada no exercício de 2022 equivale a:

- (A) R\$ 160.000,00.
- (B) R\$ 135.000,00.
- (C) R\$ 120.000,00.
- (D) R\$ 150.000,00.
- (E) R\$ 145.000,00.

QUESTÃO 30

O total dos pagamentos extraorçamentários a ser evidenciado no Balanço Financeiro de 2022 é de:

- (A) R\$ 55.000,00.
- (B) R\$ 50.000,00.
- (C) R\$ 60.000,00.
- (D) R\$ 35.000,00.
- (E) R\$ 45.000,00.

QUESTÃO 31

De acordo com a normatização vigente sobre as demonstrações contábeis do Setor Público, é correto afirmar que, no Balanço Financeiro, as receitas e despesas orçamentárias serão evidenciadas segundo a classificação:

- (A) econômica.
- (B) institucional.
- (C) programática.
- (D) por natureza.
- (E) por fonte/destinação de recursos.

QUESTÃO 32

Informe se é verdadeiro (V) ou falso (F) para o que se afirma sobre os componentes do Balanço Patrimonial, e assinale a alternativa que contenha a sequência correta.

I. Nas contas de compensação serão registrados os bens, valores, obrigações e situações não compreendidas nos parágrafos anteriores e que, mediata ou indiretamente, possam vir a afetar o patrimônio.

II. O Ativo Permanente compreenderá os bens, créditos e valores, cuja mobilização ou alienação independa de autorização legislativa.

III. O Passivo Permanente compreenderá as dívidas fundadas e outras que dependam de autorização legislativa para amortização ou resgate.

- (A) Apenas I e II estão corretas.
- (B) Apenas I e III estão corretas.
- (C) Apenas I está correta.
- (D) Apenas II e III estão corretas.
- (E) Apenas III está correta.

QUESTÃO 33

A apuração do Superávit Financeiro, possível fonte de recursos para abertura de créditos adicionais, é evidenciada:

- (A) na Demonstração das Variações Patrimoniais.
- (B) no Balanço Financeiro.
- (C) na Demonstração das Origens e Aplicações de Recursos.
- (D) no Balanço Patrimonial.
- (E) na Demonstração dos Fluxos de Caixa.

QUESTÃO 34

Nos termos do regramento vigente sobre as Demonstrações Contábeis Aplicadas ao Setor Público, além do Quadro principal, o Balanço Orçamentário será acompanhado pelo:

- (A) Quadro das Transferências Financeiras Concedidas e Recebidas.
- (B) Quadro das Variações Patrimoniais Qualitativas.
- (C) Quadro de Desembolsos de Pessoal e Demais Despesas por Função.
- (D) Quadro de Juros e Encargos da Dívida.
- (E) Quadro da Execução dos Restos a Pagar Processados.

QUESTÃO 35

Sobre o Regime de Adiantamento, indique se as afirmações são verdadeiras (V) ou falsas (F). Posteriormente, marque a alternativa com a sequência correta.

- () Deve ser exclusivamente aplicado em despesas orçamentárias correntes.
 - () Sempre será precedido de empenho em dotação própria.
 - () Não se fará adiantamento a servidor em alcance nem a responsável por dois adiantamentos.
- (A) F – F – V.
 - (B) V – F – V.
 - (C) F – V – F.
 - (D) F – V – V.
 - (E) V – V – F.

QUESTÃO 36

Estágio da despesa orçamentária definido como um ato da autoridade competente que cria uma obrigação de pagamento para a entidade, pendente ou não de implemento de condição. Serve como garantia ao credor de que parte da dotação orçamentária foi reservada para seu eventual pagamento. Trata-se:

- (A) da Fixação.
- (B) da Previsão.
- (C) do Empenho.
- (D) da Liquidação.
- (E) da Homologação.

QUESTÃO 37

Modalidade de licitação inaugurada pela Lei nº 14.133/2021 (Nova Lei de Licitações e Contratos Administrativos), e que tem por intuito selecionar pretendentes aptos a desenvolver uma solução sob medida para demandas específicas da Administração Pública:

- (A) Registro Prévio.
- (B) Diálogo Competitivo.
- (C) Regime Diferenciado de Contratação.
- (D) Credenciamento.
- (E) Convite.

QUESTÃO 38

Nos termos expressos da Lei nº 14.133/2021, é dispensável a licitação para aquisições relacionadas a obras e serviços de engenharia ou de serviços de manutenção de veículos automotores de valor até:

- (A) R\$ 50.000,00.
- (B) R\$ 60.000,00.
- (C) R\$ 70.000,00.
- (D) R\$ 80.000,00.
- (E) R\$ 100.000,00.

QUESTÃO 39

Nos termos da Nova Lei de Licitações e Contratos Administrativos, a modalidade de licitação para alienação de bens imóveis ou de bens móveis inservíveis ou legalmente apreendidos a quem oferecer o maior lance é denominada:

- (A) Leilão.
- (B) Arremate.
- (C) Concorrência.
- (D) Pregão.
- (E) Praça.

QUESTÃO 40

Com base nas regras vigentes, indique se as afirmações são verdadeiras (V) ou falsas (F). Posteriormente, marque a alternativa com a sequência correta.

() A operação de crédito por antecipação de receita não será autorizada se forem cobrados outros encargos que não a taxa de juros da operação, obrigatoriamente prefixada ou indexada à taxa básica financeira, ou à que vier a esta substituir.

() É vedada a contratação de operação de crédito por antecipação de receita enquanto existir operação anterior da mesma natureza não integralmente resgatada.

() É vedada a captação de recursos a título de antecipação de receita de tributo ou contribuição cujo fato gerador ainda não tenha ocorrido.

- (A) F – V – V.
- (B) V – F – V.
- (C) V – V – F.
- (D) V – V – V.
- (E) F – F – V.

