

AVANÇASP



PREFEITURA MUNICIPAL DA ESTÂNCIA  
BALNEÁRIA DE UBATUBA/SP

CONCURSO PÚBLICO  
05/2023

# TÉCNICO DE CONTABILIDADE

## Leia atentamente as instruções abaixo

### 1. PROVA E FOLHA DE RESPOSTAS

Além deste Caderno de Prova, contendo 40 (quarenta) questões objetivas, você receberá do Fiscal de Sala:

- 01 (uma) Folha de Respostas destinada às respostas das questões objetivas. Confira se seus dados estão corretos.

### 2. TEMPO

- 03 (três) horas é o tempo disponível para realização da prova, já incluído o tempo para marcação da Folha de Respostas da prova objetiva;

- **01 (uma) hora** após o início da prova é possível, retirar-se da sala levando o caderno de prova;

### 3. INFORMAÇÕES GERAIS

- As questões objetivas têm 05 (cinco) alternativas de resposta (A, B, C, D, E) e somente **uma** delas está correta;
- Verifique se seu caderno está completo, sem repetição de questões ou falhas. Caso contrário, informe imediatamente o Fiscal da Sala, para que sejam tomadas as devidas providências;
- Confira seus dados pessoais na Folha de Respostas, especialmente nome, número de inscrição e documento de identidade e leia atentamente as instruções para preenchimento;
- O preenchimento das respostas da prova objetiva é de sua responsabilidade e não será permitida a troca de Folha de Respostas em caso de erro de marcação pelo candidato;

- Marque, na folha de respostas, com caneta de tinta azul ou preta, a letra correspondente à alternativa que você escolheu.

- Reserve tempo suficiente para o preenchimento de suas respostas. Para fins de avaliação, serão levadas em consideração apenas as marcações realizadas na Folha de Respostas da prova objetiva, não sendo permitido anotar informações relativas às respostas em qualquer outro meio que não seja o caderno de prova;

- Ao se retirar, entregue a Folha de Respostas preenchida e assinada ao Fiscal de Sala.

#### SERÁ ELIMINADO do presente certame o candidato que:

- a) for surpreendido, durante as provas, em qualquer tipo de comunicação com outro candidato;
- b) portar ou usar, qualquer tipo de aparelho eletrônico (calculadoras, bips/pagers, câmeras fotográficas, filmadoras, telefones celulares, smartphones, tablets, relógios, walkmans, MP3 players, fones de ouvido, agendas eletrônicas, notebooks, palmtops ou qualquer outro tipo de computador portátil, receptores ou gravadores) seja na sala de prova, sanitários, pátios ou qualquer outra dependência do local de prova;
- c) se ausentar da sala em que se realizam as provas levando consigo o Caderno de Questões e/ou a Folha de Respostas;
- d) se recusar a entregar a Folha de Respostas, quando terminar o tempo estabelecido;
- e) não assinar a Lista de Presença e/ou a Folha de Respostas.

CADERNO DE QUESTÕES

PROVA OBJETIVA

## LÍNGUA PORTUGUESA

### TEXTO

#### **De onde vieram os diamantes rosas? De um continente se quebrando em dois**

Essa é a nova hipótese para explicar como esses minerais – muito mais raros que diamantes comuns – se formaram na Austrália.

Levando em consideração todas as minas já descobertas até agora, existem 260 toneladas de diamantes no mundo. Só uma minoria é destinada a joias (até porque nem todos têm as características necessárias para fazê-las): 80% deles vão para a indústria de ferramentas de corte e polimento – devido à forma como seus átomos de carbono são ordenados, ele é o mineral mais duro que existe. A questão é que, para adornar colares e anéis, são usados poucas gramas da pedra. Anéis mais simples, em torno de R\$5 mil, costumam usar 0,2 quilates – ou seja, 0,04 gramas. Daria para produzir 1,3 bilhão deles. O motivo dessas joias serem tão caras não é a raridade, e sim uma mistura de marketing e monopólio na extração. [...] Diamantes rosas, por outro lado, são realmente raros. Dependendo da saturação do rosa, o preço pode flutuar; mas eles são mais caros do que seus equivalentes tradicionais. Cerca de 90% das pedras dessa cor vieram de uma mina na Austrália, fechada desde 2020. Agora, cientistas buscam mais informações sobre a formação desses diamantes – e pistas de onde encontrar mais.

Um estudo, publicado no periódico especializado *Nature Communications*, descreve as pesquisas realizadas na região de Argyle, no oeste da Austrália. Usando lasers para analisar minérios e rochas encontrados em uma mina, os pesquisadores descobriram que um grande depósito de diamantes rosa se formou há 1,3 bilhões de anos, com a separação de um supercontinente em duas partes. Diamantes amarelos e azuis, por exemplo, são formados quando outros elementos, como boro, enxofre e nitrogênio, interagem com o carbono. Um diamante rosa é diferente: ele é puro como um diamante branco, mas fica rosado graças a uma distorção na sua estrutura cristalina. Alguns átomos de carbono organizados de maneira diferente alteram as características da luz

refletida pelo diamante. Para que isso aconteça, ele tem que ser submetido a forças intensas de calor e pressão. Diamantes, por si só, já são formados em condições extremas, mas uma segunda dose distorce a estrutura comum e confere a coloração única. Então, na verdade, as versões rosas são basicamente diamantes brancos “danificados”.

No caso da mina australiana, isso aconteceu quando duas placas tectônicas colidiram, 1,8 bilhões de anos atrás. Após a colisão, as pedrinhas rosas ficaram escondidas centenas de quilômetros abaixo da superfície, longe das mãos dos humanos que surgiriam muito, muito tempo depois. Como elas subiram? É aí que entra a nova pesquisa. Os cientistas supõem, pela idade das rochas em Argyle, que o depósito tenha sido formado a partir da fragmentação de um supercontinente. Conhecido como Nuna ou Columbia, o supercontinente começou a se separar por volta de 1,3 a 1,2 bilhões de anos atrás, o que bate com a datação apontada pelos cientistas. A hipótese deles é de que a fragmentação de Nuna tenha reaberto a fenda deixada na formação dos diamantes rosas. Possibilitando que as joias ficassem mais próximas da superfície terrestre.

“Embora o continente que se tornaria a Austrália não tenha se dividido, a área onde Argyle está situada foi esticada, inclusive ao longo da cicatriz, o que criou lacunas na crosta terrestre para que o magma subisse para a superfície, trazendo consigo diamantes rosa”, afirma Hugo Olierook, um dos autores do estudo. A pesquisa é interessante não só por dar mais pistas sobre a origem dos diamantes rosas, mas também por apontar possíveis condições para a exploração de novas minas. “Acreditamos que, enquanto estes três ingredientes estiverem presentes – carbono profundo, colisão continental e depois estiramento – será possível encontrar a ‘próxima Argyle’, que já foi a maior fonte mundial de diamantes naturais.”

**Revista Superinteressante.** (Adaptado).

Disponível em:

<https://super.abril.com.br/ciencia/de-onde-vieram-os-diamantes-rosas-de-um-continente-se-quebrando-em-dois/>

### QUESTÃO 01

De acordo com o texto, a diferença na formação do diamante rosa em comparação com os demais tipos, que o torna um mineral raro, se dá em decorrência da:

- (A) menor intensidade de forças de calor e pressão.
- (B) interação de carbono com boro.
- (C) interação do carbono com enxofre.
- (D) distorção em sua estrutura que altera características da luz refletida pelo diamante.
- (E) interação do carbono com nitrogênio.

### QUESTÃO 02

Considere o excerto: “Embora o continente que se tornaria a Austrália não tenha se dividido, a área onde Argyle está situada foi esticada”. No contexto em que ocorre, a oração iniciada pela conjunção “embora” exprime um sentido de:

- (A) adversidade.
- (B) proporcionalidade.
- (C) causalidade.
- (D) condicionalidade.
- (E) concessividade.

### QUESTÃO 03

Em relação à coesão, no excerto “A pesquisa é interessante não só por dar mais pistas sobre a origem dos diamantes rosas, mas também por apontar possíveis condições para a exploração de novas minas.”, a expressão “não só... mas também” funciona como:

- (A) operador argumentativo de adição.
- (B) operador argumentativo de oposição.
- (C) operador argumentativo de explicação.
- (D) operador argumentativo de proporção.
- (E) operador argumentativo de conclusão.

### QUESTÃO 04

Considere as palavras I. supercontinente, II. pedrinhas e III. cientistas, que ocorrem no texto. Em relação aos processos de formação, aquela(s) que apresenta(m) prefixo derivacional é (são):

- (A) I.
- (B) II.
- (C) III.
- (D) I e II.
- (E) II e III.

### QUESTÃO 05

Considere o excerto: “Essa é a nova hipótese para explicar como esses minerais – muito mais raros que diamantes comuns – se formaram na Austrália.” Quanto às classes gramaticais, as palavras “essa”, “hipótese”, “raros” e “se” classificam-se, respectivamente, como:

- (A) pronome relativo, substantivo, adjetivo e pronome reflexivo.
- (B) pronome demonstrativo, adjetivo, adjetivo e pronome reflexivo.
- (C) pronome demonstrativo, substantivo, adjetivo e pronome reflexivo.
- (D) pronome demonstrativo, substantivo, substantivo e pronome reflexivo.
- (E) pronome demonstrativo, substantivo, adjetivo e conjunção integrante.

### QUESTÃO 06

Considere as seguintes sentenças, retiradas do texto:

I. “Só uma minoria é destinada a joias (até porque nem todos têm as características necessárias para fazê-las)”

II. “os pesquisadores descobriram que um grande depósito de diamantes rosa se formou há 1,3 bilhões de anos”  
Em relação à colocação dos pronomes oblíquos, nas sentenças dadas observa-se, respectivamente:

- (A) ênclise e próclise.
- (B) ênclise e ênclise.
- (C) próclise e ênclise.
- (D) próclise e mesóclise.
- (E) mesóclise e próclise.

### QUESTÃO 07

Considere o excerto: “Para que isso aconteça, ele tem que ser submetido a forças intensas de calor e pressão.” No contexto apresentado, ocorre(m) apenas pronomes do(s) tipo(s):

- (A) demonstrativo e pessoal.
- (B) demonstrativo.
- (C) pessoal.
- (D) relativo.
- (E) indefinido.

### QUESTÃO 08

Considere a seguinte sentença: “Avistaram alguns homens conduzindo uma cáfila até o lago.” Nesse contexto, a palavra “cáfila” se refere a:

- (A) um grupo de lobos.
- (B) um grupo de porcos.
- (C) um grupo de camelos.
- (D) um grupo de búfalos.
- (E) um grupo de cabras.

### QUESTÃO 09

Assinale a alternativa em que a sentença apresenta apenas voz ativa.

- (A) O garoto foi atacado por dois cachorros.
- (B) Encontravam-se cinzas no chão após as festas.
- (C) O homem suicidou-se em sua própria casa.
- (D) Um gato foi resgatado na estrada.
- (E) Pedro e Maria deram uma festa.

### QUESTÃO 10

Assinale a alternativa em que, na sentença apresentada, a palavra “que” atua como pronome interrogativo.

- (A) Que desânimo!
- (B) Fiquei feliz que você veio.
- (C) O que você fez ontem?
- (D) Ele deduz que foi traído pela esposa.
- (E) Não há perdão para o que você fez.

### MATEMÁTICA E RACIOCÍNIO LÓGICO QUESTÃO 11

Considere a seguinte sequência lógica numérica:

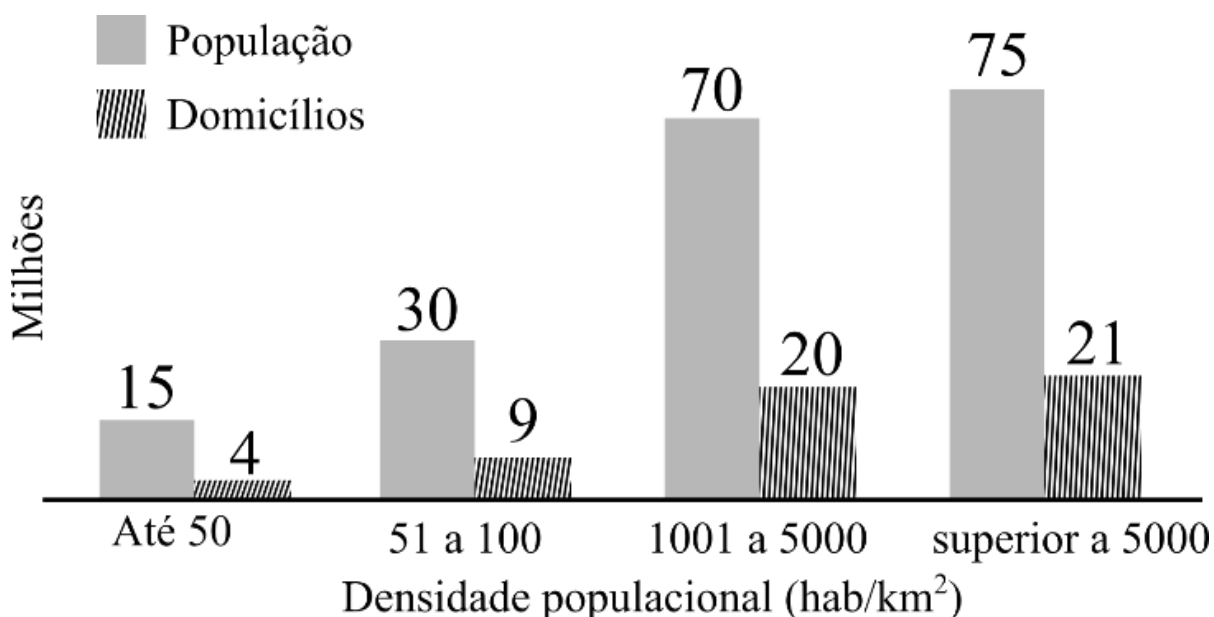
$$\frac{1}{2}, 1, \frac{3}{2}, 2, \frac{5}{2}, 3, \frac{7}{2}, \dots$$

Observando o padrão da sequência, podemos afirmar que o centésimo termo dessa sequência é:

- (A) 101/2.
- (B) 99/2.
- (C) 51/2.
- (D) 100.
- (E) 50.

**QUESTÃO 12**

O gráfico abaixo mostra a população e o número de domicílios ocupados por classe de densidade populacional



Fonte: Adaptado do Censo Demográfico 2010 - IBGE

Analizando o gráfico, quantos por cento dos domicílios ocupados estão situados em regiões cuja densidade populacional é superior a 5000 habitantes por quilômetro quadrado aproximadamente?

- (A) 21,0%.
- (B) 28,0%.
- (C) 27,5%.
- (D) 26,8%.
- (E) 38,9%.

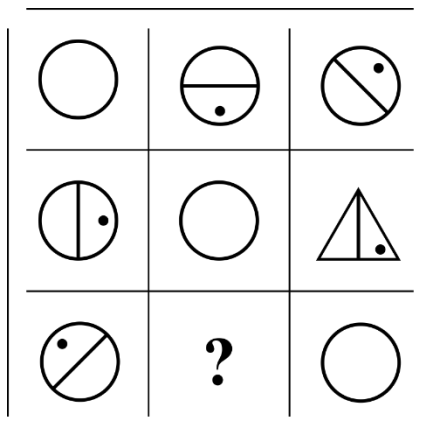
**QUESTÃO 13**

Um químico misturou uma certa quantidade de cloro em água, mas por descuido esqueceu de anotar as respectivas quantidades das substâncias. Para não perder o seu trabalho, ele fez um experimento para determinar a proporção entre cloro e água, em volume, que encontrou ser 1/5. Além disso, ele sabe que o volume final da mistura é 1,2 litro. Quanto de cloro ele usou nesta mistura?

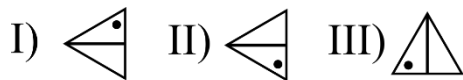
- (A) 200 ml.
- (B) 400 ml.
- (C) 600 ml.
- (D) 800 ml.
- (E) 1000 ml.

**QUESTÃO 14**

Observe a seguinte sequência lógica figural:



Conforme as correspondências abaixo, indique o elemento faltante (marcado com símbolo de interrogação):



- (A) I.
- (B) II.
- (C) III.
- (D) IV.
- (E) V.

**QUESTÃO 15**

Um fazendeiro tem 80 hectares de terra onde ele planta milho. Cada hectare ele consegue produzir 6 toneladas de milho, no qual ele ensaca em sacos de 60 kg, e vende a R\$ 60,00 R\$/saco. Qual o valor arrecadado numa colheita completa da sua plantação, em reais?

- (A) 4,8 mil.
- (B) 48 mil.
- (C) 480 mil.
- (D) 4,8 milhões.
- (E) 48 milhões.

**NOÇÕES DE INFORMÁTICA**  
**QUESTÃO 16**

O Microsoft Outlook 2016 é um cliente de email que permite configurar e gerenciar várias contas de email em um único local. Neste sentido, pode-se afirmar que o Outlook:

I - Oferece uma ampla gama de fórmulas e funções integradas que permitem realizar cálculos complexos automaticamente.

II - Permite armazenar e organizar informações de contato, incluindo nomes, endereços de email, números de telefone e detalhes pessoais.

III - Permite criar gráficos e visualizações de dados para representar informações de maneira mais compreensível.

- (A) Nenhuma das afirmativas estão corretas.
- (B) I e III, apenas.
- (C) II e III, apenas.
- (D) I, apenas.
- (E) II, apenas.

**QUESTÃO 17**

O Microsoft PowerPoint 2016 é um aplicativo usado para criar apresentações visuais. Ele permite criar slides que contêm texto, imagens, gráficos, vídeos e elementos interativos. Neste sentido, pode-se afirmar que o PowerPoint:

- (A) Permite armazenar e organizar informações de contato, incluindo nomes, endereços de email, números de telefone e detalhes pessoais.
- (B) Oferece uma variedade de modelos de slides e opções de design para criar apresentações.
- (C) O software oferece recursos de elaboração de planilhas, exibindo anotações de slides para auxiliar o orador durante a apresentação.
- (D) Se restringe à configuração e gerenciamento de apenas uma conta de email em um único local.
- (E) Oferece uma ampla gama de fórmulas e funções integradas que permitem realizar cálculos complexos automaticamente.

**QUESTÃO 18**

O Microsoft Word 2016 é um software de processamento de texto amplamente utilizado para criar, editar e formatar documentos. Ele oferece uma ampla gama de ferramentas para formatar texto de maneira profissional e personalizada. Neste sentido, é **incorreto** afirmar que o Word:

I – Permite inserir imagens, gráficos e outros elementos visuais nos documentos.

II - O Word não oferece opções para criar listas numeradas ou com marcadores em um documento.

III - Para justificar o texto no Word, é preciso imprimir o documento e, em seguida, alinhá-lo manualmente com uma régua.

- (A) Nenhuma das afirmativas estão incorretas.
- (B) I e II, apenas.
- (C) II e III, apenas.
- (D) I, apenas.
- (E) II, apenas.

### QUESTÃO 19

Analise a imagem a seguir:



Pode-se afirmar que o programa apresentado possui as seguintes funções, exceto:

- (A) Permite realizar cálculos matemáticos, como adição, subtração, multiplicação e divisão, usando fórmulas.
- (B) Permite organizar dados em planilhas, que são compostas por células dispostas em linhas e colunas.
- (C) Pode classificar dados em ordem alfabética ou numérica e aplicar filtros para exibir apenas os dados que atendem a critérios específicos.
- (D) Possui funções integradas para trabalhar com datas e horas, como calcular diferenças de datas, extrair partes de datas (dia, mês, ano) e realizar cálculos baseados em horários.
- (E) Permite enviar, receber e organizar emails. Sendo possível criar, responder, encaminhar e arquivar mensagens de email de forma eficiente.

### QUESTÃO 20

O Microsoft Word 2016 oferece amplas opções de formatação de texto, incluindo formatação de fonte, alinhamento, espaçamento entre linhas, recuos e estilos de parágrafo, permitindo personalizar a aparência do documento. Neste sentido, pode-se afirmar que o Word:

- (A) Permite armazenar e organizar informações de contato, incluindo nomes, endereços de email, números de telefone e detalhes pessoais.
- (B) Oferece uma variedade de modelos de slides e opções de design para criar apresentações.
- (C) Possui recursos de revisão que facilitam a colaboração. Sendo possível adicionar comentários, fazer alterações e usar o controle de alterações para rastrear as edições.
- (D) O software oferece recursos de elaboração de planilhas, exibindo anotações de slides para auxiliar o orador durante a apresentação.
- (E) Oferece uma ampla gama de fórmulas e funções integradas que permitem realizar cálculos complexos automaticamente.

### CONHECIMENTOS ESPECÍFICOS

#### QUESTÃO 21

Para resolução das questões de número 21 a 25, considere os dados a seguir.

A Cia. Cristo Rei é revendedora de peças automotivas, e encerrou o exercício de 2022 com a seguinte composição patrimonial:

Passivo Exigível..... 500.000,00

Ativo Não-Circulante.. 400.000,00

Capitais Próprios ..... 25% do Pass. Exigível

De acordo com os dados apresentados, é correto afirmar que o valor do Ativo Circulante em 31/12/2022 é de:

- (A) 200.000,00.
- (B) 210.000,00.
- (C) 215.000,00.
- (D) 225.000,00.
- (E) 250.000,00.



**QUESTÃO 22**

Sabendo que 40% do Passivo Exigível são referentes a valores exigíveis após o término do exercício social subsequente, qual o valor do Índice de Liquidez Corrente da Cia. Cristo Rei em 31/12/2022?

- (A) 0,75.
- (B) 0,85.
- (C) 0,95.
- (D) 1,05.
- (E) 1,25.

**QUESTÃO 23**

Sabendo que a empresa auferiu um Lucro Líquido de 25.000,00 no exercício de 2022, qual foi o retorno sobre o Patrimônio Líquido?

- (A) 10%.
- (B) 15%.
- (C) 20%.
- (D) 25%.
- (E) 30%.

**QUESTÃO 24**

Assinale a alternativa que indica o valor do Patrimônio Líquido da Cia. Cristo Rei no encerramento do exercício de 2022.

- (A) 100.000,00.
- (B) 105.000,00.
- (C) 110.000,00.
- (D) 115.000,00.
- (E) 125.000,00.

**QUESTÃO 25**

Assinale a alternativa que indica o nível de endividamento geral da Cia. Cristo Rei ao fim do exercício de 2022.

- (A) 60%.
- (B) 80%.
- (C) 100%.
- (D) 110%.
- (E) 70%.

**QUESTÃO 26**

Livro Contábil obrigatório para as entidades em geral, o qual deverá respeitar certas formalidades, tais como evidenciar a conta debitada e a creditada, o valor do lançamento e o histórico, além de apresentar os fatos contábeis em ordem cronológica. Trata-se do:

- (A) Livro Razão.
- (B) Livro Diário.
- (C) Livro Balancete.
- (D) Livro Registro.
- (E) Livro Caixa.

**QUESTÃO 27**

Com fundamento na NBC TSP – Estrutura Conceitual, do Conselho Federal de Contabilidade, assinale a alternativa INCORRETA com relação às definições dos elementos das demonstrações contábeis.

- (A) Ativo é um recurso controlado no presente pela entidade como resultado de evento passado.
- (B) Receita corresponde a aumentos na situação patrimonial líquida da entidade não oriundos de contribuições dos proprietários.
- (C) Passivo é uma obrigação presente, derivada de evento passado, cuja extinção deva resultar na saída de recursos da entidade.
- (D) Para o efetivo exercício de controle sobre os recursos, é necessário que a entidade do Setor Público detenha a propriedade legal integral dos ativos.
- (E) Passivos podem surgir de obrigações não legalmente vinculadas. Estas se diferenciam das obrigações legais, pois as partes a quem as obrigações dizem respeito não podem tomar ações legais para liquidá-las.

**QUESTÃO 28**

As apropriações mensais dos encargos com 13º salário e o terço constitucional de férias são decorrência direta do Princípio de Contabilidade:

- (A) da Continuidade.
- (B) da Entidade.
- (C) da Competência.
- (D) do Conservadorismo.
- (E) do Registro pelo Valor Original.

**QUESTÃO 29**

Atenção! Dados para resolução das questões de número 29 a 31.

Considere que a empresa Luz do Mundo Ltda., que se dedica à produção de artigos em couro, registrou os seguintes custos durante o ano de 2022:

Custos com mão de obra direta 15.000,00

Aquisição de caixas prontas 6.000,00

Aluguel do barracão da fábrica 5.000,00

Matéria-prima direta 18.000,00.

Remuneração do diretor de fábrica 6.000,00

Serviços de manutenção das máquinas de produção 12.000,00

Depreciação dos ativos de produção 8.000,00

Os custos indiretos de fabricação da Luz do Mundo Ltda. em 2022 montam em:

- (A) 26.000,00.
- (B) 31.000,00.
- (C) 35.000,00.
- (D) 20.000,00.
- (E) 44.000,00.

**QUESTÃO 30**

Os custos primários de fabricação da Luz do Mundo Ltda. em 2021 somam:

- (A) 33.000,00.
- (B) 35.000,00.
- (C) 21.000,00.
- (D) 41.000,00.
- (E) 25.000,00.

**QUESTÃO 31**

Os custos de transformação incorridos pela Luz do Mundo Ltda. em 2022 equivalem a:

- (A) 31.000,00.
- (B) 37.000,00.
- (C) 46.000,00.
- (D) 49.000,00.
- (E) 52.000,00.

**QUESTÃO 32**

Atualmente em vigor, a Lei nº 4.320/1964 estabelece normas gerais de Direito Financeiro. De acordo com o documento, informe se é verdadeiro (V) ou falso (F) para o que se afirma e assinale a alternativa com a sequência correta.

( ) A receita orçamentária poderá ser classificada nas seguintes categorias econômicas: Receitas Correntes, Receitas de Capital e Receitas Extraorçamentárias.

( ) Consagrando o Princípio do Orçamento Bruto, a lei prevê que todas as receitas e despesas constarão da Lei de Orçamento pelos seus totais, vedadas quaisquer deduções.

( ) A Lei de Orçamentos compreenderá todas as receitas, inclusive as de operações de crédito autorizadas em lei.

- (A) F – V – F.
- (B) F – V – V.
- (C) V – F – F.
- (D) F – F – V.
- (E) V – V – V.

### QUESTÃO 33

Acerca do Relatório de Gestão Fiscal, informe se é verdadeiro (V) ou falso (F) para o que se afirma, com fundamento na Lei Complementar nº 101/2000, e assinale a alternativa com a sequência correta.

( ) É elaborado e divulgado de forma consolidada, abrangendo todos os Poderes do ente federativo, não sendo aceita a divulgação segregada por Poder.

( ) O descumprimento dos prazos estipulados para divulgação acarretará para o ente a perda do direito ao recebimento de transferências voluntárias e constitucionais.

( ) Em qualquer caso, a divulgação deste relatório deve ser quadrimestral, exceto no caso de municípios que apresentem dívida consolidada acima do limite legal, ocasião em que deverão publicá-lo com periodicidade bimestral.

- (A) V – F – F.
- (B) V – V – F.
- (C) F – V – V.
- (D) F – F – F.
- (E) F – F – V.

### QUESTÃO 34

Consagrado pelo art. 2º da Lei no 4.320/1964, delimita o exercício financeiro orçamentário: período ao qual a previsão das receitas e a fixação das despesas registradas na LOA irão se referir. O enunciado está a se referir ao Princípio orçamentário:

- (A) da Unidade.
- (B) da Anualidade.
- (C) da Totalidade.
- (D) da Exatidão.
- (E) da Transparência.

### QUESTÃO 35

Um dos pilares da Lei de Responsabilidade Fiscal é o estabelecimento de tetos para a Despesa Com Pessoal da União, dos Estados, do Distrito Federal e dos Municípios, baseados em percentuais da Receita Corrente Líquida, subdivididos entre os Poderes de cada esfera. Para os Municípios, os limites são, respectivamente, de \_\_\_ para o Poder Executivo e \_\_\_ para o Poder Legislativo no período de apuração. Indique a opção que completa corretamente os espaços em branco acima.

- (A) 44% / 6%.
- (B) 56% / 4%.
- (C) 52% / 8%.
- (D) 46% / 4%.
- (E) 54% / 6%.

### QUESTÃO 36

Sistema desenvolvido pelo Tesouro Nacional em parceria com o Serviço Federal de Processamento de Dados – SERPRO, cujo objetivo é se tornar o mais importante canal de intercâmbio de informações fiscais, contábeis e financeiras entre a União e os demais entes da Federação. Substituiu o antigo sistema SISTN, propiciando à Federação uma eficiente ferramenta de recebimento de informações geradas pelas unidades federativas, com ganhos significativos de transparência pública. O enunciado se refere ao:

- (A) Sistema Integrado de Administração Financeira e Controle – SIAFIC.
- (B) Sistema de Informações sobre Orçamentos Públicos em Educação – SIOPE.
- (C) Sistema de Análise da Dívida Pública, Operações de Crédito e Garantias da União, Estados e Municípios – SADIPEM.
- (D) Sistema de Informações Contábeis e Fiscais do Setor Público Brasileiro – SICONFI.
- (E) Sistema de Informações sobre Orçamentos Públicos em Saúde – SIOPS.

### QUESTÃO 37

Nos termos da Lei nº 4.320/1964, a despesa orçamentária é considerada realizada no momento:

- (A) da fixação.
- (B) da celebração do contrato.
- (C) do empenho.
- (D) da liquidação.
- (E) da ocorrência do fato gerador.

### QUESTÃO 38

Com fundamento nas regras vigentes sobre o Plano de Contas Aplicado ao Setor Público (PCASP), julgue o que se afirma a seguir e assinale a alternativa correta.

I. Atributos da conta contábil são características próprias que as distinguem de outras contas do plano de contas, seja por determinação legal, seja para fins gerenciais.

II. O PCASP não atende as necessidades de informação específicas das Empresas Estatais Dependentes e dos Regimes Próprios de Previdência Social (RPPS).

III. Ao empregar o PCASP, é imperativo seguir o princípio contábil das partidas dobradas. Consequentemente, ao encerrar o período financeiro, a soma dos débitos registrados nas contas das classes 1 e 3 deve ser igual ao montante dos créditos nas contas das classes 2 e 4.

- (A) Apenas I e III estão corretas.
- (B) Apenas I e II estão corretas.
- (C) Apenas II e III estão corretas.
- (D) Apenas III está correta.
- (E) Apenas I está correta.

### QUESTÃO 39

De acordo com a Lei nº 8.429/1992 (atualizada pela Lei nº 14.230/2021), que dispõe sobre as sanções aplicáveis aos agentes públicos nos casos de enriquecimento ilícito no exercício de mandato, cargo, emprego ou função pública, e dá outras providências, assinale a alternativa correta:

- (A) A Lei nº 8.429/1992 não aborda casos de nepotismo no serviço público.
- (B) O sucessor ou o herdeiro daquele que causar dano ao erário ou que se enriquecer ilicitamente estão sujeitos apenas à obrigação de repará-lo integralmente aos cofres públicos.
- (C) A Lei de Improbidade Administrativa não se aplica a Pessoas Jurídicas de Direito Privado.
- (D) As sanções previstas na Lei de Improbidade Administrativa incluem perda da função pública, suspensão dos direitos políticos e ressarcimento ao erário, entre outras.
- (E) A Lei de Improbidade Administrativa se aplica apenas aos agentes públicos que ocupam cargos eletivos.

### QUESTÃO 40

A classificação por fontes ou destinações de recursos (FR) visa reunir receitas sujeitas a normas legais de aplicação. Este método busca garantir que os montantes alocados por lei para propósitos específicos sejam empregados unicamente em despesas relacionadas a essas finalidades. Sob essa ótica, os recursos podem ser classificados em:

- (A) Regulamentados ou Desvinculados.
- (B) Ordinários ou Atréados.
- (C) Originários ou Derivados.
- (D) Livres ou Vinculados.
- (E) Desvinculados ou Comprometidos.

