



DOMINGO DE TARDE

**PREFEITURA MUNICIPAL DE SÃO FRANCISCO DE PAULA/RS
CONCURSO PÚBLICO Nº 01/2023**

**AGENTE COMUNITÁRIO DE SAÚDE – TODAS AS ÁREAS,
AGENTE DE COMBATE A ENDEMIAS, CUIDADOR, FISCAL E
AUXILIAR DE SAÚDE BUCAL**

INSTRUÇÕES

Leia atentamente e cumpra rigorosamente as instruções que seguem, pois elas são parte integrante das provas e das normas que regem esse certame.

1. Atente-se aos avisos contidos no quadro da sala.
2. Seus pertences deverão estar armazenados dentro de embalagem específica fornecida pelo fiscal, permanecendo em sua posse somente caneta esferográfica de ponta grossa, de material transparente, com tinta preferencialmente preta, lanche e água, se houver. A utilização de qualquer material não permitido em edital é expressamente proibida, acarretando a sua imediata eliminação do certame.
3. Certifique-se de que este caderno:
 - contém 40 (quarenta) questões;
 - refere-se ao cargo para o qual realizou a inscrição.
4. Cada questão oferece 5 (cinco) alternativas de respostas, representadas pelas letras A, B, C, D e E, sendo apenas 1 (uma) a resposta correta.
5. Será respeitado o tempo para realização da prova conforme previsto em edital, incluindo o preenchimento da grade de respostas.
6. Os três últimos candidatos deverão retirar-se da sala de prova ao mesmo tempo, devendo assinar a Ata de Prova.
7. A responsabilidade referente à interpretação dos conteúdos das questões é exclusiva do candidato.
8. No caderno de prova, você poderá rabisar, riscar e calcular.
9. Os gabaritos preliminares da prova objetiva serão divulgados na data descrita no Cronograma de Execução desse certame.



V1_28/11/2023 16:44:31



Resenha: "A morte é um dia que vale a pena viver"

Por Angelo Faleiro

01 Algumas pessoas podem achar estranho o interesse em um livro sobre a morte. A maioria
02 de nós não gosta de pensar nela, embora ela seja uma realidade. Gosto de meditar sobre a vida
03 tendo a morte sob os holofotes. A consciência da finitude é angustiante, mas nos oferece uma
04 perspectiva mais apurada sobre como deveríamos viver esta vida.

05 O livro "A morte é um dia que vale a pena viver", escrito pela médica Ana Claudia Quintana
06 Arantes, é uma mistura bem elegante de conceitos relacionados cuidados paliativos e
07 reflexões sobre a vida diante da perspectiva da morte. Gostaria que mais médicos leem a obra
08 para que procurassem proporcionar a kalotanásia, a bela morte. Meu avô sempre falava sobre
09 isso (sem usar esse termo, é claro). Ele pedia a Deus uma boa morte. Infelizmente, não tenho
10 certeza de que ele a teve. Alguns termos usados por Ana Claudia vão demorar para sair da minha
11 mente. Ela fala sobre "zumbis existenciais", pessoas que vivem sem viver, que estão ausentes
12 de suas próprias vidas, sem conexão consigo e com os outros; para essas pessoas, só falta
13 morrer fisicamente. "Muita gente não está viva de fato, mesmo com o corpo funcionando bem.
14 É uma coisa terrível. Pessoas que enterraram suas dimensões emocional, familiar, social e
15 espiritual", escreve a autora.

16 Ana Claudia também usa a metáfora do muro para falar sobre a morte (imagem emprestada
17 de William Breitbart, psiquiatra). De acordo com ilustração, estamos vivendo, caminhando
18 pelo mundo até que nos deparamos com um muro. Ao chegarmos ali, não há como voltar ou
19 escalar, só podemos olhar para trás: "O que norteia nosso caminho e nos impele a fazer boas
20 escolhas é a certeza de que, quaisquer que sejam nossos caminhos e escolhas, o muro nos
21 aguarda".

22 Ao abordar o aspecto espiritual diante da morte, Ana Claudia é feliz em chamar a atenção
23 para a diferença entre acreditar e ter fé. Quando se acredita, existe um tipo de relação de troca
24 em que a frustração de não receber a cura ou mais vida faz a pessoa desmoronar quando a
25 morte se aproxima. Quando se tem fé, o adoecido se entrega aos cuidados de Deus, "aquele que
26 pode nos levar ao nosso destino".

27 Na parte final do livro, Ana Claudia retoma e comenta os cinco tipos de arrependimento
28 mais comuns entre pacientes no final da vida, originalmente citados pela enfermeira Bronnie
29 Ware. Essa é uma das partes mais propícias reflexão sobre a vida. São cinco capítulos muito
30 enriquecedores.

31 Gostei bastante do livro. Tem uma mistura de poesia em prosa com conhecimento e
32 caminhos para reflexão pessoal. Se alguém quer pensar sobre a vida, deveria começar meditando
33 sobre como ela é um recurso limitado e temporário.

(Disponível em: <https://angelifaleiro.wordpress.com/2018/10/03/resenha-a-morte-e-um-dia-que-vale-a-pena-viver/#> – texto adaptado especialmente para esta prova).

QUESTÃO 01 – Considerando somente o que é expresso no texto, analise as assertivas abaixo:

- I. Conforme o autor do texto, a autora de "A morte é um dia que vale a pena viver" elabora de forma elegante uma narrativa ficcional sobre a finitude da vida.
- II. O autor do texto, apesar de revelar não gostar de pensar sobre a vida e a morte, foi surpreendido ao perceber que se interessou por um livro que abordava essa temática.
- III. Pode-se afirmar que o autor do texto expõe uma avaliação positiva sobre o livro "A morte é um dia que vale a pena viver", escrito por Ana Claudia Quintana Arantes.

Quais estão corretas?

- A) Apenas II.
- B) Apenas III.
- C) Apenas I e II.
- D) Apenas I e III.
- E) I, II e III.

QUESTÃO 02 – Assinale a alternativa que apresenta o sinal de pontuação que substitui corretamente a figura na linha 03.

- A) Ponto-final.
- B) Vírgula.
- C) Ponto de interrogação.
- D) Dois-pontos.
- E) Reticências.

QUESTÃO 03 – Assinale a alternativa que preenche, correta e respectivamente, as lacunas pontilhadas nas linhas 06, 17 e 29.

- A) aos - a - à
- B) aos - à - à
- C) ao - a - a
- D) à - a - à
- E) a - a - ao

QUESTÃO 04 – No trecho a seguir, retirado do texto, “Ele pedia a Deus uma boa morte. Infelizmente, não tenho certeza de que ele **a** teve”, a palavra em destaque é um pronome:

- A) Pessoal reto.
- B) Possessivo.
- C) Oblíquo átono.
- D) Demonstrativo.
- E) Indefinido.

QUESTÃO 05 – Considerando a correta ortografia das palavras em Língua Portuguesa, assinale a alternativa que preenche, correta e respectivamente, as lacunas tracejadas das linhas 07, 14 e 24.

- A) sc - s - ç
- B) s - s - ss
- C) c - ç - s
- D) ss - ss - ç
- E) ss - s - ç

QUESTÃO 06 – Qual das palavras a seguir substitui, sem prejudicar o sentido do texto, a palavra “embora” (l. 02)?

- A) Depois.
- B) Por isso.
- C) Todavia.
- D) Ainda que.
- E) Porque.

QUESTÃO 07 – No seguinte trecho, retirado do texto, “Se alguém quer pensar sobre a vida, deveria começar meditando sobre como **ela** é um recurso limitado e temporário”, a palavra em destaque refere-se a:

- A) Pensar.
- B) Meditando.
- C) Recurso.
- D) Alguém.
- E) Vida.

QUESTÃO 08 – Assinale a alternativa que apresenta palavra paroxítona acentuada pela mesma regra que “terrível”.

- A) Açúcar.
 - B) Fácil.
 - C) Bênção.
 - D) Grátis.
 - E) Pólen.
-

QUESTÃO 09 – No trecho “O que norteia nosso caminho e nos impele a fazer boas escolhas”, a conjunção “e” une as orações estabelecendo uma relação de:

- A) Adversidade.
 - B) Explicação.
 - C) Adição.
 - D) Conclusão.
 - E) Consequência.
-

QUESTÃO 10 – Na linha 04, o verbo “deveríamos” está conjugado no:

- A) Futuro do pretérito.
- B) Presente.
- C) Futuro do presente.
- D) Pretérito perfeito.
- E) Pretérito imperfeito.

QUESTÃO 11 – No trecho a seguir, retirado do texto, “Na parte final do livro, Ana Claudia retoma e comenta os cinco tipos de arrependimento mais comuns entre pacientes no final da vida”, os termos sublinhados são, respectivamente:

- A) Preposição – substantivo próprio – numeral ordinal.
- B) Preposição – substantivo abstrato – numeral cardinal.
- C) Artigo – substantivo próprio – numeral cardinal.
- D) Preposição – substantivo próprio – numeral cardinal.
- E) Conjunção – substantivo composto – numeral cardinal.

QUESTÃO 12 – Assinale a alternativa que apresenta palavra formada por derivação prefixal.

- A) Meditar.
- B) Perspectiva.
- C) Enriquecedores.
- D) Limitado.
- E) Enfermeira.

QUESTÃO 13 – Assinale a alternativa cuja palavra apresenta o mesmo número de letras e fonemas.

- A) Adoecido.
- B) Escolhas.
- C) Pessoas.
- D) Morrer.
- E) Atenção.

QUESTÃO 14 – No trecho “O livro ‘A morte é um dia que vale a pena viver’, escrito pela médica Ana Claudia Quintana Arantes, é uma mistura **bem** elegante de conceitos”, retirado do texto, a palavra em destaque é advérbio de:

- A) Tempo.
- B) Lugar.
- C) Afirmação.
- D) Modo.
- E) Intensidade.

QUESTÃO 15 – No trecho “Algumas **pessoas** podem achar estranho o interesse em um livro sobre a morte”, retirado do texto, ao substituir a palavra em destaque pelo seu singular, “pessoa”, quantas outras modificações seriam necessárias para manter a concordância?

- A) 1.
- B) 2.
- C) 3.
- D) 4.
- E) 5.

LEGISLAÇÃO

QUESTÃO 16 – Com base na Constituição Federal, é vedada a aplicação de penas, EXCETO:

- A) De trabalhos forçados.
- B) Cruéis.
- C) De banimento.
- D) De multa.
- E) De caráter perpétuo.

QUESTÃO 17 – Conforme a Constituição Federal, são reconhecidos aos índios sua organização social, costumes, línguas, crenças e tradições, e os direitos originários sobre as terras que tradicionalmente ocupam, competindo à _____ demarcá-las, proteger e fazer respeitar todos os seus bens.

Assinale a alternativa que preenche corretamente a lacuna do trecho acima.

- A) Presidência da República
- B) FUNAI
- C) União
- D) polícia indígena
- E) população

QUESTÃO 18 – Segundo a Constituição Estadual do Rio Grande do Sul, compete privativamente ao Governador do Estado:

- A) Expedir Decretos.
- B) Escolher os candidatos ao Senado Federal.
- C) Nomear o Ministro do Supremo Tribunal Federal.
- D) Nomear o Ministro do Superior Tribunal de Justiça.
- E) Exonerar policial federal que foi condenado por corrupção.

QUESTÃO 19 – Segundo a Constituição Estadual do Rio Grande do Sul, à Polícia _____, dirigida pelo Chefe de Polícia, delegado de carreira da mais elevada classe, de livre escolha, nomeação e exoneração pelo Governador do Estado, incumbem, ressalvada a competência da União, as funções de polícia judiciária e a apuração das infrações penais, exceto as militares.

Assinale a alternativa que preenche corretamente a lacuna do trecho acima.

- A) Civil
- B) Militar
- C) Federal
- D) Municipal
- E) Administrativa

QUESTÃO 20 – Segundo a Lei de Improbidade Administrativa, constitui ato de improbidade administrativa que atenta contra os princípios da Administração Pública:

- A) Ação culposa, apenas.
- B) Ação ou omissão dolosa.
- C) Ação dolosa, apenas.
- D) Ação ou omissão dolosa e culposa.
- E) Omissão culposa, apenas.

QUESTÃO 21 – Segundo a Lei Orgânica do Município de São Francisco de Paula, são servidores do município todos os que ocupam cargos, funções ou empregos da administração direta, das autarquias e fundações públicas, bem como os admitidos por contrato para atender às necessidades temporárias de excepcional interesse do município, definidos:

- A) Pelo Prefeito.
- B) Em lei local.
- C) Pelo Governador.
- D) Através de Decreto Administrativo.
- E) Pela Câmara de Deputados.

QUESTÃO 22 – Conforme o Código de Posturas de São Francisco de Paula, o empreendedor que pretende desenvolver atividade econômica no município de São Francisco de Paula deverá fazer uma _____ para obter orientação acerca da possibilidade de instalação da atividade no local pretendido, de acordo com as previsões legais relativas ao zoneamento urbano.

Assinale a alternativa que preenche corretamente a lacuna do trecho acima.

- A) denúncia
- B) emenda constitucional
- C) lei complementar
- D) greve
- E) consulta prévia

QUESTÃO 23 – Segundo o Plano Diretor do Município de São Francisco de Paula, o desenvolvimento humano no âmbito do município se dará por políticas específicas, considerando as áreas de atuação listadas abaixo, EXCETO a Política de:

- A) Cultura.
- B) Educação.
- C) Distribuição de Internet.
- D) Ação Social.
- E) Mobilidade Urbana.

QUESTÃO 24 – Segundo o Regime Jurídico dos Servidores Públicos do Município de São Francisco de Paula, para a concessão do(a) _____, será indispensável que conste da nova certidão de nascimento da criança ou do termo de guarda o nome do servidor ou servidora adotante ou guardião/guardiã, bem como deste último, que se trata de guarda para fins de adoção, não sendo devido o benefício se contiver no documento apenas o nome do cônjuge ou companheiro.

Assinale a alternativa que preenche corretamente a lacuna do trecho acima.

- A) adicional de periculosidade
- B) salário-maternidade
- C) licença médica
- D) aposentadoria especial
- E) aposentadoria rural

QUESTÃO 25 – Conforme o Regime Jurídico dos Servidores Públicos do Município de São Francisco de Paula, será necessária a elaboração de um laudo pericial realizado por médico ou engenheiro do trabalho para a concessão de adicional:

- A) De cargo em comissão.
- B) Por tempo de serviço.
- C) Noturno.
- D) De insalubridade ou periculosidade.
- E) De hora extra.

CONHECIMENTOS GERAIS

QUESTÃO 26 – De acordo com o site da Prefeitura de São Francisco de Paula e o do IBGE, quem foram os primeiros habitantes da região onde está localizado o município?

- A) Indígenas Caáguas.
- B) Italianos.
- C) Alemães.
- D) Chineses.
- E) Poloneses.

QUESTÃO 27 – Como são chamados os habitantes do município de São Francisco de Paula?

- A) São Francisco Paulenses.
- B) Franciscanos.
- C) Franciscoenses.
- D) Serranos.
- E) Paulenses.

QUESTÃO 28 – No dia 07 de outubro de 2023, Israel sofreu um bombardeio, deixando milhares de mortos e feridos. O ataque fomentou ainda mais um conflito histórico entre Israel e Palestina. Qual o nome do grupo que promoveu o bombardeio, que desencadeou uma guerra?

- A) Al-Qaeda.
- B) Hezbollah.
- C) Farc.
- D) Jihad Islâmica.
- E) Hamas.

QUESTÃO 29 – Fontes de energia são opções energéticas com origens diversas. As fontes de energia se dividem em renováveis e não renováveis. As renováveis são consideradas inesgotáveis, tendo em vista que se renovam constantemente. São exemplos de energias renováveis, EXCETO:

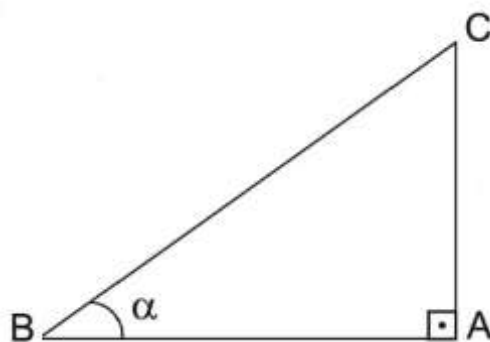
- A) Eólica.
- B) Solar.
- C) Hidrelétrica.
- D) Petróleo.
- E) Biomassa.

QUESTÃO 30 – São fatos que ocorreram em 2023, EXCETO:

- A) O apresentador Fausto Silva, conhecido como Faustão, passou por uma cirurgia de transplante de coração.
- B) Aos 75 anos, faleceu a Rainha do Rock, Rita Lee.
- C) O Brasil foi eliminado da Copa do Mundo de Futebol Feminino após o empate contra a Jamaica.
- D) Aos 83 anos, faleceu a cantora e dançarina Tina Turner.
- E) Pelé, futebolista brasileiro e único jogador tricampeão da Copa do Mundo FIFA, morreu aos 82 anos.

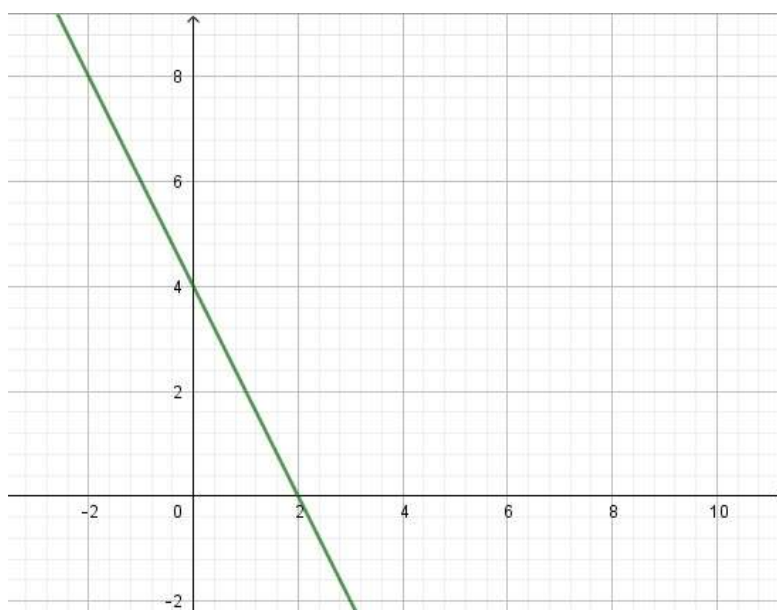
MATEMÁTICA/RACIOCÍNIO LÓGICO

QUESTÃO 31 – O triângulo da Figura 1 abaixo é retângulo em A. Sabendo que $\cos \alpha = 0,6$ e que $BC = 10$ cm, a medida do segmento AC, em centímetros, é:

**Figura 1**

- A) 5.
- B) 6.
- C) 7.
- D) 8.
- E) 9.

QUESTÃO 32 – Analise o gráfico da Figura 2 abaixo:

**Figura 2**

Qual lei da função gera tal gráfico?

- A) $f(x) = 2x + 4$
- B) $f(x) = 2x - 4$
- C) $f(x) = -2x + 4$
- D) $f(x) = -x + 2$
- E) $f(x) = -2x - 4$

QUESTÃO 33 – A Tabela 1 a seguir mostra as notas de Matemática dos alunos dos três anos do Ensino Médio:

Aluno	Nota – 1º Ano	Nota – 2º Ano	Nota – 3º Ano
João	80	100	60
Maria	90	50	80
José	50	100	100
Joana	90	80	75
Felipe	60	100	70

Tabela 1

Um investidor deseja dar duas bolsas de estudos aos alunos listados na tabela. Para isso, quer calcular a média de notas dos três anos e escolher os dois alunos com maior média anual. Os alunos que esse investidor irá escolher são:

- A) João e José.
- B) Joana e José.
- C) Felipe e João.
- D) Maria e Joana.
- E) Maria e Felipe.

QUESTÃO 34 – Relacione a Coluna 1 à Coluna 2, associando a operação ao seu resultado.

Coluna 1

- 1. $(x + 3)^2$
- 2. $(x - 5)(x + 5)$
- 3. $(x - 4)^2$
- 4. $(x + 3)(x - 3)$

Coluna 2

- () $x^2 - 8x + 16$
- () $x^2 + 6x + 9$
- () $x^2 - 25$
- () $x^2 - 9$

A ordem correta de preenchimento dos parênteses, de cima para baixo, é:

- A) 2 – 1 – 4 – 3.
- B) 3 – 4 – 2 – 1.
- C) 4 – 3 – 1 – 2.
- D) 3 – 1 – 4 – 2.
- E) 3 – 1 – 2 – 4.

QUESTÃO 35 – Thalia vai trocar o tapete que cobre toda a sua sala retangular de 6 m por 8 m por um tapete circular de 6 m de diâmetro. Quantos metros quadrados da sala de Thalia NÃO ficarão cobertos pelo tapete? Considere $\pi = 3$.

- A) 21 m².
- B) 27 m².
- C) 48 m².
- D) 60 m².
- E) 108 m².

QUESTÃO 36 – Analise as assertivas abaixo:

- I. $\sqrt{32}$ é um número racional.
- II. A solução da equação $5x - 13 = 2x + 4$ é um número inteiro.
- III. A equação $2x^2 + 2x - 4 = 0$ tem duas raízes reais.

Quais estão corretas?

- A) Apenas I.
- B) Apenas II.
- C) Apenas III.
- D) Apenas I e II.
- E) Apenas II e III.

QUESTÃO 37 – Sabe-se que as retas a , b e c da Figura 1 abaixo são paralelas e que $AC = 30$ cm, $DE = 10$ cm e $EF = 15$ cm. Sendo assim, a medida de AB em centímetros será de:

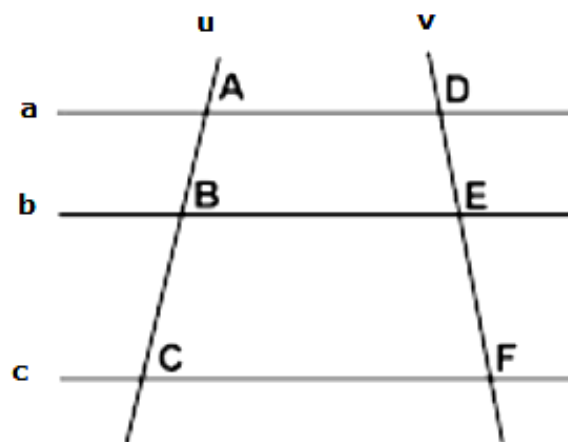


Figura 1

- A) 10.
- B) 12.
- C) 13.
- D) 14.
- E) 15.

QUESTÃO 38 – Um construtor necessita preencher com concreto um cano no formato cilíndrico, como ilustra a Figura 2 abaixo. Sabendo que o cilindro tem 8 m de comprimento e 7 m de diâmetro, quantos metros cúbicos de concreto serão necessários para preencher esse cano? Considere $\pi = 3$.

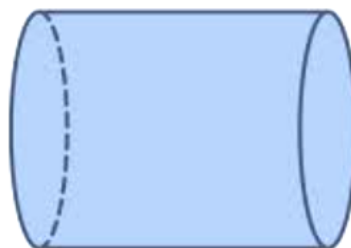


Figura 2

- A) 294 m^3 .
- B) 336 m^3 .
- C) 972 m^3 .
- D) 1.176 m^3 .
- E) 1.344 m^3 .

QUESTÃO 39 – Um carro faz o trajeto da cidade A até a cidade B em 2 horas com velocidade média de 40 km/h. Para fazer esse mesmo trajeto em 1h20min, ele precisa manter velocidade média de:

- A) 26,6 km/h.
- B) 45 km/h.
- C) 50 km/h.
- D) 60 km/h.
- E) 70 km/h.

QUESTÃO 40 – A solução do sistema de equação de 1º grau abaixo é:

$$\begin{cases} 2x + y = 4 \\ -3x - 3y = 9 \end{cases}$$

- A) (2, -5)
- B) (-10, 7)
- C) (-5, 2)
- D) (8, -9)
- E) (7, -10)