



DOMINGO DE TARDE

## CÂMARA MUNICIPAL DE CACHOEIRINHA/RS CONCURSO PÚBLICO Nº 01/2023

### TÉCNICO LEGISLATIVO

#### INSTRUÇÕES

Leia atentamente e cumpra rigorosamente as instruções que seguem, pois elas são parte integrante das provas e das normas que regem esse certame.

1. Atente-se aos avisos contidos no quadro da sala.
2. Seus pertences deverão estar armazenados dentro de embalagem específica fornecida pelo fiscal, permanecendo em sua posse somente caneta esferográfica de ponta grossa, de material transparente, com tinta preferencialmente preta, lanche e água, se houver. A utilização de qualquer material não permitido em edital é expressamente proibida, acarretando a sua imediata eliminação do certame.
3. Certifique-se de que este caderno:
  - contém 50 (cinquenta) questões;
  - refere-se ao cargo para o qual realizou a inscrição.
4. Cada questão oferece 5 (cinco) alternativas de respostas, representadas pelas letras A, B, C, D e E, sendo apenas 1 (uma) a resposta correta.
5. Será respeitado o tempo para realização da prova conforme previsto em edital, incluindo o preenchimento da grade de respostas.
6. Os três últimos candidatos deverão retirar-se da sala de prova ao mesmo tempo, devendo assinar a Ata de Prova.
7. A responsabilidade referente à interpretação dos conteúdos das questões é exclusiva do candidato.
8. No caderno de prova, você poderá rabiscar, riscar e calcular.
9. Os gabaritos preliminares da prova objetiva serão divulgados na data descrita no Cronograma de Execução desse certame.



**A cidade como mundo, ou o mundo como cidade**

*Por Fabrício Carpinejar*

01 Minha infância não foi globalizada. Não havia internet, redes sociais, celular. Eu mal saía do  
02 meu bairro. Minha experiência pode parecer tacanha \_\_\_ nova geração que se desloca para longe  
03 desde o berço, que fala com gente de qualquer parte, que tem o inglês como um segundo idioma  
04 básico.

05 Mas eu ainda prefiro ter a cidade como meu mundo a ter o mundo como cidade,  
06 diferentemente de quem nasceu depois dos anos 2000.

07 Hoje você tem mais facilidades de adaptação, de comunicação, de locomoção. Só que não  
08 sossega num lugar fixo. Não tem um lugar sagrado, uma residência definitiva. Não conhece sua  
09 cidade "como quem examinasse a anatomia de um corpo", para lembrar verso emblemático de  
10 Mario Quintana.

11 Você é de todos os lugares, e um turista do seu berço natal. Não se apegou \_\_\_ atmosfera  
12 de um parque ou de uma praça. Não treinou a falta. Não gritou "cheguei" abrindo a porta de  
13 casa. Não sofreu picos de nostalg...ia com uma mudança. Não chorou por um amor perdido. Não  
14 suspirou pela primavera das árvores mudando a cor da calçada e dos passos com suas folhas  
15 alaranjadas. Não namorou no drive-in da orla, com o sol descendo na tela do Guaiíba.

16 Troca de endereço com desembara...o, aceita empregos distantes sem crise de consciência,  
17 realiza intercâmbios com \_\_\_ adrenalina do desafio. Suas relações são do momento, para o  
18 momento, absolutamente circunstanciais. O presente tem a dinâmica de Stories, durando 24h.  
19 Termina romance apartado da fossa e do medo ... jamais ver a pessoa. O passado não pesa. O  
20 guarda-roupa mora nas malas.

21 Não vou cometer o crime da vaidade e da velhice de dizer que no meu tempo era melhor.  
22 Balbucio na hora de explicar para a linhagem digital a minha época de formação, até meu  
23 vocabulário é arcaico.

24 Posso garantir que ela era sentimental e exclusivamente presencial. Não se faziam contatos  
25 na distância. O amor platônico acontecia pelo vizinho ou vizinha, ali na janela paralela do mesmo  
26 prédio, jamais por alguém de outro país.

27 Quando sou obrigado a viajar, eu quero sempre voltar. A saudade é maior do que a  
28 aventura. Talvez a saudade seja a minha mais fremente aventura.

29 Não consigo ficar longe da minha churrasqueira, da minha varanda, da minha biblioteca,  
30 das minhas plantas, do fardamento das manhãs, da minha cama, dos afetos que frequentam o  
31 meu lar desde criança. Tenho uma posse...ividade provinciana. Minha alma é incuravelmente  
32 bairrista.

(Disponível em: <https://gauchazh.clicrbs.com.br/colunistas/carpinejar/noticia/2023/11/a-cidade-como-mundo-ou-o-mundo-como-cidade> – texto adaptado especialmente para esta prova).

**QUESTÃO 01** – Considerando o exposto pelo texto, analise as assertivas a seguir:

- I. O autor inveja o fato de que quem nasceu depois dos anos 2000 é um cidadão do mundo.
- II. O autor enumera uma série de sentimentos que julga que os "turistas de seu berço" não tiveram.
- III. O autor afirma categoricamente que a época atual é pior que a sua e o faz com vocabulário moderno.

Quais estão corretas?

- A) Apenas I.
- B) Apenas II.
- C) Apenas I e II.
- D) Apenas I e III.
- E) Apenas II e III.

**QUESTÃO 02** – Assinale a alternativa que NÃO indica uma característica da nova geração, segundo o autor do texto.

- A) Enraizado.
- B) Comunicativa.
- C) Bilíngue.
- D) Viajante.
- E) Adaptáveis.

**QUESTÃO 03** – Considerando o emprego do acento indicativo de crase, assinale a alternativa que preenche, correta e respectivamente, as lacunas tracejadas das linhas 02, 11 e 17.

- A) à - a - a
- B) à - a - à
- C) a - à - a
- D) a - à - à
- E) à - à - a

**QUESTÃO 04** – Considerando a correta ortografia das palavras em Língua Portuguesa, assinale a alternativa que preenche, correta e respectivamente, as lacunas pontilhadas das linhas 13, 16 e 31.

- A) j - ç - c
- B) j - ç - ss
- C) g - ç - ss
- D) g - ss - c
- E) g - ss - ss

**QUESTÃO 05** – Assinale a alternativa que apresenta palavra que possa substituir corretamente o vocábulo "locomoção" (l. 07) sem causar alterações significativas ao texto.

- A) Emoção.
- B) Deslocamento.
- C) Loucura.
- D) Localização.
- E) Sentimento.

**QUESTÃO 06** – Analise as assertivas a seguir a respeito da palavra "natal" (l. 11):

- I. Trata-se de um substantivo.
- II. A palavra é oxítone quanto à posição da sílaba tônica.
- III. Um sinônimo dela seria a palavra "festivo".

Quais estão corretas?

- A) Apenas I.
- B) Apenas II.
- C) Apenas I e II.
- D) Apenas I e III.
- E) Apenas II e III.

**QUESTÃO 07** – Assinale a alternativa que preenche a lacuna pontilhada da linha 19 com a preposição correta.

- A) para
- B) por
- C) com
- D) pela
- E) de

**QUESTÃO 08** – Assinale a alternativa que apresenta palavra formada somente pelo processo de sufixação, assim como o vocábulo “emblemático”.

- A) Queixa.
- B) Imóvel.
- C) Acéfalo.
- D) Arvoredo.
- E) Imutável.

**QUESTÃO 09** – Assinale a alternativa que indica o significado correto atribuído pelo emprego da conjunção “como” (l. 09).

- A) Causa.
- B) Consequência.
- C) Comparação.
- D) Condição.
- E) Concessão.

**QUESTÃO 10** – Assinale a alternativa que indica o significado correto do advérbio sublinhado no trecho “O amor platônico acontecia pelo vizinho ou vizinha, ali na janela paralela do mesmo prédio”.

- A) Lugar.
- B) Tempo.
- C) Afirmação.
- D) Intensidade.
- E) Modo.

**QUESTÃO 11** – Assinale a alternativa que indica a correta função sintática do termo sublinhado na oração “até meu vocabulário é arcaico”.

- A) Sujeito.
- B) Predicativo do sujeito.
- C) Objeto direto.
- D) Aposto.
- E) Agente da passiva.

**QUESTÃO 12** – Assinale a alternativa na qual NÃO tenha sido empregada linguagem figurada.

- A) “Não havia internet, redes sociais, celular” (l. 01).
- B) “a ter o mundo como cidade” (l. 05).
- C) “Você é de todos os lugares” (l. 11).
- D) “O guarda-roupa mora nas malas” (l. 19-20).
- E) “Minha alma é incuravelmente bairrista” (l. 31-32).

**QUESTÃO 13** – Assinale a alternativa que apresenta trecho no qual esteja presente a voz passiva.

- A) “Eu mal saía do meu bairro”.
- B) “Hoje você tem mais facilidades de adaptação”.
- C) “Não treinou a falta”.
- D) “aceita empregos distantes sem crise de consciência”.
- E) “Quando sou obrigado a viajar”.

**QUESTÃO 14** – Assinale a alternativa que indica quantas outras alterações seriam necessárias caso substituíssemos o pronome “ela” por sua forma plural no trecho “Posso garantir que ela era sentimental e exclusivamente presencial”.

- A) 1.
- B) 2.
- C) 3.
- D) 4.
- E) 5.

**QUESTÃO 15** – Assinale a alternativa que apresenta palavra paroxítona.

- A) Digital.
- B) Época.
- C) Formação.
- D) Arcaico.
- E) Até.

### LEGISLAÇÃO

**QUESTÃO 16** – O Art. 2º da Constituição da República Federativa do Brasil estabelece expressamente que são Poderes da União, independentes e harmônicos entre si:

- A) O Executivo, o Judiciário e o Exército Brasileiro.
- B) O Legislativo, o Executivo e o Judiciário.
- C) O Legislativo, o Executivo, o Judiciário e o Ministério Público.
- D) O Legislativo, o Executivo, o Judiciário e o Tribunal de Contas.
- E) O Legislativo, o Executivo, o Judiciário e as Forças Armadas.

**QUESTÃO 17** – Conforme o Art. 5º da Constituição Federal, inciso XVII, é plena a liberdade de associação para fins lícitos, vedada a de caráter:

- A) Paramilitar.
- B) Livre.
- C) Subversivo.
- D) Irregular.
- E) Provisório.

**QUESTÃO 18** – A Lei Geral de Proteção de Dados (LGPD – Lei nº 13.709/2018) visa proteger dados pessoais e, principalmente, dados considerados sensíveis. O uso compartilhado de dados está previsto nessa Lei, e a recomendação é de que, sempre que possível, sejam utilizados meios técnicos razoáveis e disponíveis no momento do tratamento, por meio dos quais um dado perde a possibilidade de associação, direta ou indireta, a um indivíduo. Esse processo de perda de associação é definido na Lei como:

- A) Mascaramento de dados.
- B) Anonimização de dados.
- C) Repartição de dados.
- D) Extração de dados.
- E) Reclassificação de dados.

**QUESTÃO 19** – Segundo a Lei Orgânica do Município de Cachoeirinha, o processo legislativo compreende a elaboração de, EXCETO:

- A) Emendas à Lei Orgânica.
- B) Leis complementares.
- C) Leis ordinárias.
- D) Portarias.
- E) Resoluções.

**QUESTÃO 20** – Com base na Lei nº 8.429/1992, Lei de Improbidade Administrativa, analise as assertivas abaixo, assinalando V, se verdadeiras, ou F, se falsas.

- ( ) Apenas o órgão prejudicado poderá representar à autoridade destinada a apurar ato de improbidade.
- ( ) Configura ato de improbidade administrativa a conduta de gestor público de alienar bem público por preço inferior ao seu valor contábil líquido.
- ( ) A autoridade que conhecer de fatos que indiquem indícios de ato da improbidade administrativa deve representar ao Ministério Público competente, para as providências necessárias.

A ordem correta de preenchimento dos parênteses, de cima para baixo, é:

- A) F – F – V.
- B) V – F – V.
- C) F – V – F.
- D) F – F – F.
- E) V – V – F.

**QUESTÃO 21** – De acordo com a Constituição Estadual do Rio Grande do Sul, constituem direitos culturais garantidos pelo Estado:

- A) O custeio de espaços abertos ao público.
- B) A dificuldade de acesso a expressões populares.
- C) O amplo acesso a todas as formas de expressão cultural, das populares às eruditas e das regionais às universais.
- D) Os danos e as ameaças ao patrimônio cultural.
- E) O esquecimento dos diferentes grupos formadores da sociedade rio-grandense.

**QUESTÃO 22** – Conforme a Lei Estadual nº 13.694/2011 – Estatuto Estadual da Igualdade Racial –, a participação dos negros em igualdade de condições na vida social, econômica e cultural do estado do Rio Grande do Sul será promovida através de medidas que assegurem:

- I. As políticas públicas, os programas e as medidas de ação afirmativa, combatendo especificamente as desigualdades raciais que atingem as mulheres negras.
- II. O resgate, a preservação e a manutenção da memória histórica legada à sociedade gaúcha pelas tradições e práticas socioculturais negras.
- III. O adequado enfrentamento e superação das desigualdades raciais pelas estruturas institucionais do estado, com a implementação de programas especiais de ação afirmativa na esfera pública, visando ao enfrentamento emergencial das desigualdades raciais.
- IV. A promoção de ajustes normativos para aperfeiçoar o combate ao racismo em todas as suas manifestações individuais, estruturais e institucionais.

Quais estão corretas?

- A) Apenas I e II.
- B) Apenas I e IV.
- C) Apenas II e III.
- D) Apenas III e IV.
- E) I, II, III e IV.

**QUESTÃO 23** – De acordo com o Estatuto da Igualdade Racial, o estudo da história geral da África e da história da população negra do Brasil é obrigatório nos estabelecimentos de ensino:

- A) Infantil e fundamental.
- B) Fundamental e médio.
- C) Médio, apenas.
- D) Infantil, fundamental e médio.
- E) Superior.

**QUESTÃO 24** – De acordo com o Art. 33 do Estatuto e Regime Jurídico dos Servidores Municipais de Cachoeirinha, a vacância do cargo público decorrerá de, EXCETO:

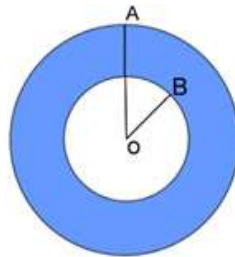
- A) Demissão.
- B) Aposentadoria.
- C) Promoção.
- D) Invalidez.
- E) Falecimento.

**QUESTÃO 25** – Com base na Constituição da República Federativa do Brasil, o objetivo da organização da seguridade social é:

- A) A irredutibilidade do valor dos encargos sobre a folha de pagamentos.
- B) A regressividade na forma de participação no custeio.
- C) O caráter centralizado da administração na União.
- D) A seletividade e a distributividade na prestação dos benefícios e serviços.
- E) A parcialidade da cobertura e do atendimento.

### MATEMÁTICA/RACIOCÍNIO LÓGICO

**QUESTÃO 26** – Determine a área da coroa circular abaixo, com  $OA = 9$  cm e  $OB = 5$  cm. Utilize  $\pi = 3,14$ .



- A) 25,12 cm<sup>2</sup>.
- B) 31,4 cm<sup>2</sup>.
- C) 78,5 cm<sup>2</sup>.
- D) 175,84 cm<sup>2</sup>.
- E) 254,34 cm<sup>2</sup>.

**QUESTÃO 27** – Considere as seguintes assertivas sobre conjuntos numéricos:

- I. Todo número inteiro é um número natural.
- II. Todo número irracional é um número real.
- III. O número 0,666... é um número irracional.
- IV. Todo número racional é um número inteiro.
- V. Todo número racional pode ser representado como uma fração entre números inteiros, com o denominador diferente de zero.

Quais estão corretas?

- A) Apenas I e IV.
- B) Apenas II e III.
- C) Apenas II e V.
- D) Apenas I, III e IV.
- E) Apenas II, III e V.

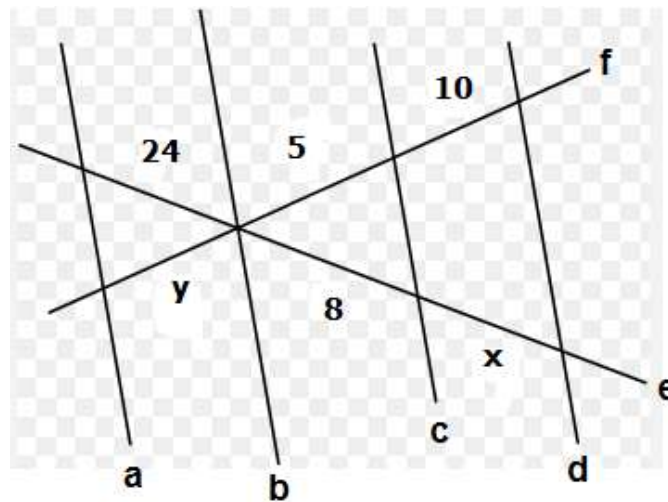
**QUESTÃO 28** – Se  $a = -4$  e  $b = 2$ , então o valor numérico da expressão  $-2ab + a^3$  é:

- A) -48.
- B) -28.
- C) 4.
- D) 20.
- E) 80.

**QUESTÃO 29** – O triplo de um número mais 15 é igual a esse número subtraído de 3. Qual é o valor desse número?

- A) 6.
- B) 3.
- C) 1.
- D) -6.
- E) -9.

**QUESTÃO 30** – Considerando que  $a \parallel b \parallel c \parallel d$  na imagem abaixo, determine o valor de  $x + y$ .



- A) 15.
- B) 16.
- C) 31.
- D) 38,4.
- E) 53,4.

**QUESTÃO 31** – Um paralelepípedo reto de base quadrangular de lado 6 cm tem volume de  $432 \text{ cm}^3$ . Qual é a altura desse paralelepípedo?

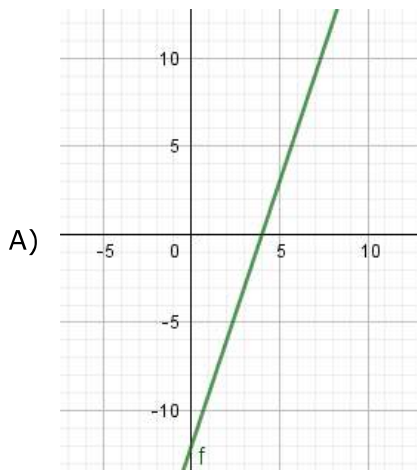
- A) 10 cm.
- B) 12 cm.
- C) 18 cm.
- D) 20 cm.
- E) 72 cm.

**QUESTÃO 32** – Uma roda de carro, a uma velocidade constante, dá 80 voltas em 5 minutos. Mantendo a mesma velocidade, quantas voltas essa mesma roda dará em 28 minutos?

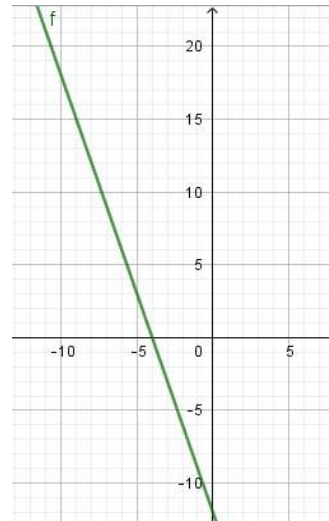
- A) 448 voltas.
- B) 632 voltas.
- C) 896 voltas.
- D) 1.792 voltas.
- E) 2.240 voltas.



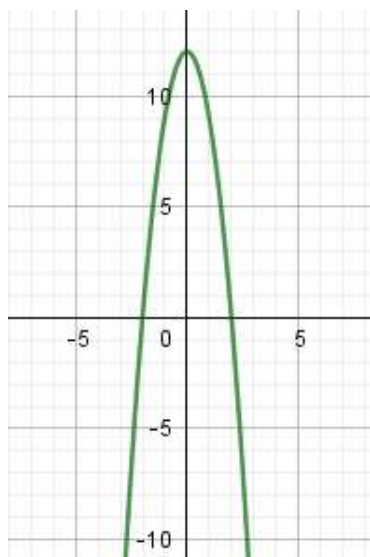
**QUESTÃO 33** – Qual das alternativas corresponde ao gráfico da função  $f(x) = -3x + 12$ ?



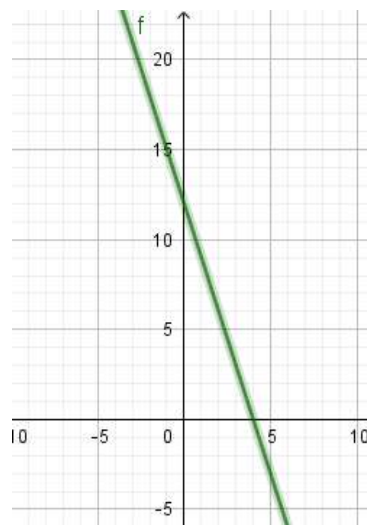
D)



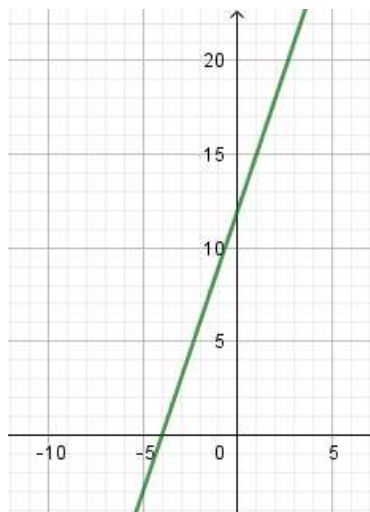
B)



E)



C)



**QUESTÃO 34** – Assinale a alternativa que é uma proposição simples.

- A) Cachoeirinha não é a capital do Rio Grande do Sul.
- B) Cachoeirinha é uma cidade agradável e com boa qualidade de vida.
- C) Cachoeirinha tem 20 mil habitantes.
- D) A cidade de Cachoeirinha fica no estado do Rio Grande do Sul ou de Santa Catarina.
- E) A bandeira de Cachoeirinha possui formas geométricas e as cores azul, branca, vermelho e amarelo.

**QUESTÃO 35** – Analise as assertivas a seguir sobre a fração  $\frac{23}{7}$  e assinale V, se verdadeiras, ou F, se falsas.

- ( ) É uma fração própria.
- ( ) É uma fração irredutível.
- ( ) Equivale a um valor maior do que 3.
- ( ) Pode ser simplificada por 7.
- ( ) A fração é equivalente a  $\frac{46}{14}$ .

A ordem correta de preenchimento dos parênteses, de cima para baixo, é:

- A) F – F – V – V – V.
- B) V – F – F – V – F.
- C) F – V – V – F – V.
- D) V – V – V – F – V.
- E) F – V – F – V – F.

### CONHECIMENTOS ESPECÍFICOS

**QUESTÃO 36** – “A Vereadora que o presente subscreve, na condição de membro deste Poder Legislativo Municipal, no uso de sua função fiscalizadora, consoante lhe faculta a Lei Orgânica e o Regimento Interno deste Poder Legislativo, requer se digne a mesa Diretora, \_\_\_\_\_ do plenário desta Câmara, a enviar ofício ao Senhor Prefeito Municipal para que envie a este Poder Legislativo, no prazo de (...)”.

Assinale a alternativa que preenche corretamente a lacuna do trecho acima e que, de acordo com Kaspary (2017), apresenta o que se diz do ato pendente de aprovação ou ratificação de outrem.

- A) *ab initio*
- B) *ab origine*
- C) *ad iudicia*
- D) *ad referendum*
- E) *ad valorem*

**QUESTÃO 37** – Segundo Kaspary (2017), determinado documento tem as seguintes características:

- É o instrumento por meio do qual o interessado requer a uma autoridade administrativa um direito do qual se julga detentor.
- É um veículo de solicitação sob amparo da lei, portanto só pode ser dirigido a autoridades públicas.
- Por respeito e deferência à autoridade a quem é dirigido, convém que se elabore esse documento na terceira pessoa.
- Contém as seguintes partes: vocativo, preâmbulo, texto, fecho, local, data e assinatura.

As características acima definem o documento que se chama:

- A) Memorando.
- B) Ofício.
- C) Requerimento.
- D) Portaria.
- E) Relatório.

**QUESTÃO 38** – Com base nas definições de Meirelles (2018), que agrupou os atos administrativos em determinadas espécies, relacione a Coluna 1 à Coluna 2, associando as espécies de atos administrativos aos respectivos exemplos.

**Coluna 1**

1. Atos normativos.
2. Atos ordinatórios.
3. Atos negociais.
4. Atos enunciativos.

**Coluna 2**

- ( ) Certidão Negativa de Débitos junto à Fazenda Municipal.
- ( ) Autorização de uso especial de bem público municipal.
- ( ) Decreto do Prefeito Municipal regulamentando o serviço de protocolo de expedientes administrativos no Poder Executivo Municipal.
- ( ) Regimento Interno do Conselho Municipal de Educação.
- ( ) Ofício do Diretor-Geral da Câmara Municipal.

A ordem correta de preenchimento dos parênteses, de cima para baixo, é:

- A) 4 – 3 – 1 – 1 – 2.
- B) 4 – 2 – 2 – 1 – 3.
- C) 2 – 3 – 3 – 4 – 1.
- D) 1 – 4 – 3 – 2 – 2.
- E) 2 – 3 – 1 – 4 – 4.

**QUESTÃO 39** – Para Mazulo e Liendo (2010), familiarizar-se com os termos técnicos e os códigos utilizados por companhias aéreas e hotéis, que aparecem em toda a documentação comumente exigida em viagens, pode facilitar a comunicação com agências de viagens, companhias aéreas e hotéis. Nesse sentido, analise os seguintes termos técnicos utilizados na área de turismo, com suas respectivas definições, assinalando C, se corretas, ou I, se incorretas.

- ( ) *Conexão*: termo associado principalmente aos voos, designa a necessidade de troca de aeronave em determinado aeroporto para o prosseguimento da viagem até o destino final.
- ( ) *No show*: não comparecimento do passageiro a um embarque ou não entrada de um hóspede no hotel.
- ( ) *Overbooking*: transferência de uma classe para outra superior sem pagamento de taxa adicional.

A ordem correta de preenchimento dos parênteses, de cima para baixo, é:

- A) C – I – I.
- B) C – C – I.
- C) C – I – C.
- D) I – C – I.
- E) I – C – C.

**QUESTÃO 40** – Segundo Castiglioni (2013), a operação de realizar o deslocamento de mercadorias entre a origem e o destino final, utilizando diversos modais de transporte, sob a responsabilidade legal e contratual de um único operador, chama-se:

- A) Unimodalidade.
- B) Multimodalidade.
- C) Intermodalidade.
- D) Segmentada.
- E) Sucessiva.

**QUESTÃO 41** – Para Chiavenato (2022), dá-se o nome de “inventário de materiais” à verificação ou confirmação da existência dos materiais ou bens patrimoniais da empresa. Segundo o autor, para que possa ser executado dentro do menor tempo e da melhor maneira possível, o inventário deve ser bem planejado, e o planejamento do inventário deve incluir as seguintes etapas:

1. Convocação das equipes de inventariantes.
2. Arrumação física.
3. Cartão de inventário.
4. Atualização dos registros de estoque.
5. Contagem do estoque, reconciliações e ajustes.

O resultado da somatória dos números correspondentes às etapas corretas é:

- A) 09.
- B) 10.
- C) 12.
- D) 14.
- E) 15.

**QUESTÃO 42** – De acordo com o “Dicionário brasileiro de terminologia arquivística” (2005), a anotação oficial em documento que o altera ou complementa se chama:

- A) Averbação.
- B) Certificação.
- C) Anexação.
- D) Autenticação.
- E) Apensação.

**QUESTÃO 43** – Segundo Chiavenato (2022), uma das técnicas quantitativas utilizadas para calcular a previsão de consumo de materiais é o método da média móvel. Analise a tabela abaixo e, utilizando o método da média móvel (dos últimos quatro anos), calcule a previsão de consumo do item Z do estoque para o ano de 2024.

Ano	Consumo em unidades do item X	Apuração
2020	400.000	
2021	650.000	
2022	800.000	
2023	950.000	
<b>Média móvel</b>		

Pelo método da média móvel, quantas são as unidades previstas de consumo do item Z do estoque para 2024?

- A) 600.000.
- B) 650.000.
- C) 700.000.
- D) 730.000.
- E) 950.000.

**QUESTÃO 44** – Analise a Figura 1, abaixo:



**Figura 1** – “A grande onda de Kanagawa”

Fonte: Wikimedia.

A gravura acima foi criada há 190 anos e continua sendo replicada por toda parte. Ela se chama “A grande onda de Kanagawa” e foi produzida por Katsushika Hokusai. Segundo Paes (2012), essa gravura é um dos exemplos da categoria dos documentos classificados como:

- A) Filmográficos.
- B) Micrográficos.
- C) Iconográficos.
- D) Informáticos.
- E) Textuais.

**QUESTÃO 45** – São atos administrativos expedidos pelos presidentes de tribunais, de corporações legislativas e de órgãos colegiados, ou pelas altas autoridades do Poder Executivo (mas não pelos chefes), sobre matéria de sua competência e referentes a deliberações realizadas. Segundo Rossi (2020), trata-se de um documento da espécie dos atos administrativos normativos. A que esse trecho se refere?

- A) Atas.
- B) Circulares.
- C) Pareceres.
- D) Apostilas.
- E) Resoluções.

**QUESTÃO 46** – Segundo Bond (2011), não existe uma forma de se comunicar melhor do que outra. Todas são válidas e importantes. O essencial é que façamos bom uso delas e possamos realmente transmitir o que desejamos. Sendo assim, analise as assertivas a seguir, relativas a exemplos da comunicação verbal oral e da comunicação verbal escrita, assinalando C, se corretas, ou I, se incorretas.

- ( ) Comunicação verbal oral: o polegar estendido para cima significando que está tudo bem.
- ( ) Comunicação verbal escrita: elaboração de ata.
- ( ) Comunicação verbal oral: atendimento ao público.
- ( ) Comunicação verbal escrita: recados recebidos por telefone.

A ordem correta de preenchimento dos parênteses, de cima para baixo, é:

- A) I – I – C – C.
- B) C – C – I – I.
- C) C – I – C – I.
- D) I – C – C – C.
- E) C – C – I – C.

**QUESTÃO 47** – O “Manual de Redação da Presidência da República” (2018) define que os documentos do padrão ofício devem obedecer a determinada formatação. Nesse sentido, analise as afirmações que seguem, relativas à referida formatação:

1. Tamanho do papel: A5 (14,8 cm x 21 cm).
2. Margem lateral esquerda: no mínimo, 3 cm de largura.
3. Margem lateral direita: 1,5 cm.
4. Margem superior e inferior: 2 cm.

O resultado da somatória dos números correspondentes às afirmações corretas é:

- A) 06.
- B) 07.
- C) 08.
- D) 09.
- E) 10.

**QUESTÃO 48** – De acordo com as disposições do inciso XLV do Art. 6º da Lei Federal nº 14.133/2021 (Nova Lei de Licitações), considera-se sistema de registro de preços o(a):

- A) Processo administrativo de chamamento público em que a Administração Pública convoca interessados em prestar serviços ou fornecer bens para que, preenchidos os requisitos necessários, se credenciem no órgão ou na entidade para executar o objeto quando convocados.
- B) Conjunto de procedimentos para realização, mediante contratação direta ou licitação nas modalidades pregão ou concorrência, de registro formal de preços relativos à prestação de serviços, a obras e à aquisição e à locação de bens para contratações futuras.
- C) Procedimento seletivo prévio à licitação, convocado por meio de edital, destinado à análise das condições de habilitação, total ou parcial, dos interessados ou do objeto.
- D) Documento vinculativo e obrigacional, com característica de compromisso para futura contratação, no qual são registrados o objeto, os preços, os fornecedores, os órgãos participantes e as condições a serem praticadas, conforme as disposições contidas no edital da licitação, no aviso ou instrumento de contratação direta e nas propostas apresentadas.
- E) Modalidade de licitação para contratação de obras, serviços e compras em que a Administração Pública realiza diálogos com licitantes previamente selecionados mediante critérios objetivos, com o intuito de desenvolver uma ou mais alternativas capazes de atender às suas necessidades, devendo os licitantes apresentar proposta final após o encerramento dos diálogos.

**QUESTÃO 49** – De acordo com o “Manual de Contabilidade Aplicada ao Setor Público” do Ministério da Fazenda (2021), a execução da despesa orçamentária se dá nos seguintes estágios:

- I. Empenho.
- II. Liquidação.
- III. Pagamento.

Quais estão corretos?

- A) Apenas I.
- B) Apenas III.
- C) Apenas I e II.
- D) Apenas II e III.
- E) I, II e III.

**QUESTÃO 50** – Paes (2012) define que um dos métodos de arquivamento é o mais simples, desde que o elemento principal a ser considerado seja o nome. É um método direto, porque a pesquisa é feita diretamente, não sendo necessário recorrer a um índice auxiliar para localizar qualquer documento. Qual é o nome desse método de arquivamento?

- A) Método alfabético.
- B) Método geográfico.
- C) Método numérico simples.
- D) Método duplex.
- E) Método numérico cronológico.