

# CONCURSO PARA PROVIMENTO DE CARGOS DA PREFEITURA MUNICIPAL DE CAMPANHA-MG

## FUNDAMENTAL INCOMPLETO

Códigos: 100 e 101

### ABRA APENAS QUANDO AUTORIZADO.

Leia com atenção as seguintes instruções:

- Este caderno contém as **25 questões** da Prova Objetiva, composta por: 10 questões de Língua Portuguesa, 10 questões de Matemática e 5 questões de Conhecimentos Gerais.  
Caso haja algum problema em seu caderno de provas, informe ao aplicador.
- As informações / instruções dadas no dia da prova complementam o edital.
- Durante as provas, não é permitido o uso de dispositivos eletrônicos de qualquer tipo e celulares, assim como relógios e materiais de consulta.
- Será permitido ao candidato levar o rascunho da Prova Objetiva (versão do candidato), reproduzido no final do caderno de provas, contendo somente as marcações de respostas (A, B, C ou D). Esse rascunho deverá ser destacado pelo aplicador.
- Na Folha de Respostas:**
  - Confira seu nome, número de inscrição e cargo.
  - Assine, A TINTA, no espaço próprio indicado.
  - Transcreva a seguinte frase, com sua caligrafia usual, mantendo as letras maiúsculas e minúsculas, desconsiderando aspas e autoria:  

**“A sabedoria começa na reflexão.”**  
Sócrates
- A Folha de Respostas deve ser assinada e não deve ser dobrada, amassada ou rasurada.
- Sua prova e Folha de Respostas poderão ser entregues somente após o término do período de sigilo: 1 hora.
- Sua resposta **NÃO** será computada se houver marcação de mais de uma alternativa, questões não assinaladas ou rasuradas.
- Ao transferir as respostas para a Folha de Respostas:
  - Use somente caneta AZUL ou PRETA, preenchendo toda a área reservada à letra correspondente à resposta solicitada em cada questão, conforme o modelo:  

	A	B	C	D
01	<input checked="" type="checkbox"/>	<input type="checkbox"/>	<input type="checkbox"/>	<input type="checkbox"/>
  - Assinale somente uma alternativa em cada questão e não deixe nenhuma questão sem resposta.
- Não é permitido levar o caderno de provas. Ao entregar sua prova, recolha seus objetos, deixe a sala de provas e, em seguida, o prédio. Até deixar as dependências do local de prova, continuam válidas as proibições do uso de aparelhos eletrônicos e celulares, bem como não lhe é mais permitido o uso dos sanitários.
- Os três últimos candidatos deverão permanecer na sala até que o último candidato termine sua prova, devendo todos assinar a Ata de Sala, atestando a idoneidade da fiscalização destas, retirando-se da sala de prova de uma só vez. Nas salas que, por atendimento a condição especial para realização das provas, houver apenas um candidato, ao término da prova, a Ata de Sala será assinada pelo candidato, pelo aplicador e por um fiscal para atestar a idoneidade da fiscalização.
- O Caderno de Questões da Prova Objetiva e os gabaritos serão divulgados no endereço eletrônico [www.gestaodeconcursos.com.br](http://www.gestaodeconcursos.com.br), no dia subsequente à data da prova.

**DURAÇÃO TOTAL DAS PROVAS, INCLUINDO  
ASSINATURA E A TRANSCRIÇÃO  
DA FOLHA DE RESPOSTAS:**

**TRÊS HORAS**

Escreva seu nome completo de forma legível.

**NOME:** \_\_\_\_\_

## LÍNGUA PORTUGUESA

**INSTRUÇÃO:** Leia o texto I a seguir para responder às questões de 1 a 4.

### TEXTO I

#### Assistência Social nos Bairros esteve no Mandu

A Prefeitura marcou presença no Mandu, nesse sábado (21/10), com o Projeto Assistência Social nos Bairros! A criançada se divertiu muito e os adultos receberam informações valiosas sobre os benefícios de assistência social disponíveis para a comunidade.

Além da equipe da Secretaria de Desenvolvimento Social, a turma da UEMG e da Sala Mineira do Empreendedor também estiveram por lá, juntamente com diversos colaboradores. O prefeito Roberto Silva e o vice-prefeito Nei Maia também marcaram presença no Bairro durante as atividades.

Próxima parada do Projeto: 11/11 (sábado) no Bairro Canadá - Espaço Cidadão Ricardo Müller, das 8h às 12h!

Não perca! Venha participar e aproveitar todas essas atividades incríveis!

Disponível em: <https://acesse.one/xDWP3>.  
Acesso em: 11 nov. 2023 (adaptado).

### QUESTÃO 1

Com relação ao texto I, assinale a alternativa correta.

- A) O Projeto Assistência Social nos Bairros é uma iniciativa do Governo Estadual na cidade de Campanha.
- B) O objetivo do evento é o de atender ao público adulto da região.
- C) Além da equipe da prefeitura, outras entidades também participaram do evento.
- D) O evento aconteceu durante todo o final de semana.

### QUESTÃO 2

Releia este trecho.

“A Prefeitura marcou presença no Mandu, nesse sábado (21/10), com o Projeto Assistência Social nos Bairros!”

Esse trecho é formado por uma frase

- A) interrogativa.
- B) exclamativa.
- C) declarativa.
- D) imperativa.

### QUESTÃO 3

Assinale a alternativa que não contém palavras no plural.

- A) bairros – adultos – informações
- B) atividades – diversos – benefícios
- C) incríveis – valiosas – colaboradores
- D) turma – criançada – equipe

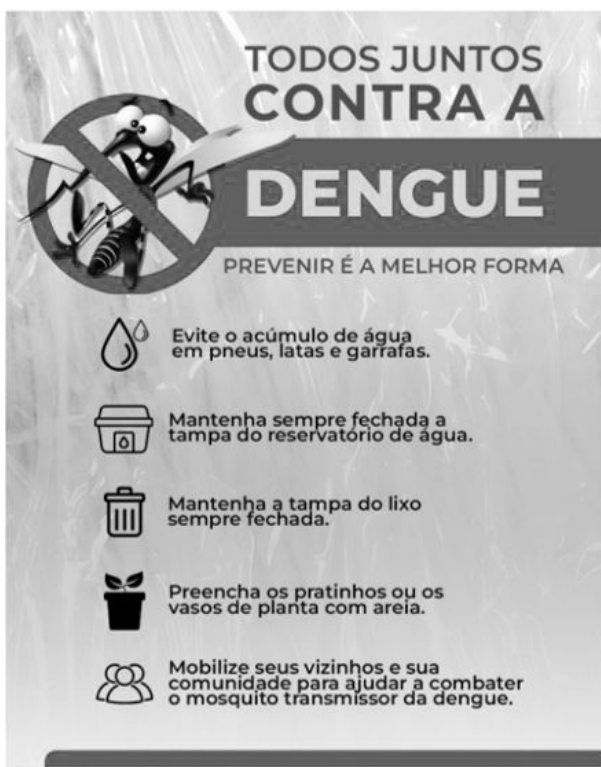
### QUESTÃO 4

Com relação ao texto I, assinale a alternativa correta.

- A) Houve, também, jogos esportivos no dia do evento.
- B) Da prefeitura, apenas o prefeito compareceu ao evento.
- C) Há previsão de mais eventos desse tipo em outra localidade.
- D) O texto não incentiva as pessoas a fazerem parte das atividades.

**INSTRUÇÃO:** Leia o texto II a seguir para responder às questões de 5 a 10.

### TEXTO II



Disponível em: <https://1nk.dev/Zi1u3>.  
Acesso em: 11 nov. 2023.

### QUESTÃO 5

De acordo com o texto, assinale a alternativa que indica um hábito saudável que ajuda a combater o mosquito da dengue.

- A) Preencher os pratinhos dos vasos de planta.
- B) Escovar os dentes sempre após as refeições.
- C) Beber ao menos dois litros de água por dia.
- D) Seguir uma dieta nutritiva e balanceada.

### QUESTÃO 6

Assinale a alternativa que indica modos de interação desse texto com o leitor.

- A) Imagens estáticas e imagens em movimento.
- B) Fala e imagens em movimento.
- C) Texto e fala.
- D) Imagens estáticas e texto.

### QUESTÃO 7

Releia este trecho.

“Mobilize seus vizinhos e sua comunidade para ajudar a combater o mosquito transmissor da dengue.”

Essa frase solicita que o leitor

- A) convoque pessoas próximas para o combate à proliferação do mosquito.
- B) fiscalize seus vizinhos para evitar a reprodução do mosquito.
- C) denuncie seus vizinhos por irregularidades que favorecem o mosquito.
- D) cuide de seu terreno para que o mosquito não encontre ambiente favorável.

### QUESTÃO 8

Leia a charge a seguir.



Disponível em: <https://encr.pw/NmyAk>.  
Acesso em: 11 nov. 2023.

Assinale a alternativa que indica a recomendação expressa do texto II que pode evitar o que acontece nessa charge.

- A) Evite o acúmulo de água em pneus, latas e garrafas.
- B) Mantenha sempre fechada a tampa da caixa d'água.
- C) Mantenha a tampa do lixo sempre fechada.
- D) Mobilize seus vizinhos e sua comunidade para ajudar a combater o mosquito transmissor da dengue.

### QUESTÃO 9

Assinale a alternativa em que a divisão silábica está correta.

- A) á-gu-a
- B) pre-en-cha
- C) p-neu
- D) trans-mi-ssor

### QUESTÃO 10


Assinale a alternativa que contém apenas substantivos.

- A) água – fechada
- B) tampa – ajudar
- C) areia – mosquito
- D) transmissor – comunidade

## MATEMÁTICA

### QUESTÃO 11

Observe a figura a seguir.



O perímetro dessa figura é:

- A) 43,3 m.
- B) 68,6 m.
- C) 70,4 m.
- D) 73,0 m.

### QUESTÃO 12

Rafaela, que possuía uma nota de R\$ 50,00, foi ao mercado fazer algumas compras. Ao pagar as compras, ela recebeu a seguinte nota fiscal.

Mini Mercado Snaples	Rua das Flores 555 – Tel: 33334545		Bairro Glória		
<b>NOTA FISCAL DE VENDA AO CONSUMIDOR</b>					
SÉRIE D – 1			Nº 000541		
1ª Via do Consumidor					
Data de emissão: 02/09/2023					
Nome: Rafaela Rodrigues					
Caixa: Pedro					
Unid.	Quant.	Ref.	Descrição	Preço	Total
1	1	113	Arroz	8,50	8,50
2	1	459	Feijão	4,30	4,30
3	2	098	Macarrão	5,10	10,20
4	3	842	Molho de Tomate	4,45	13,35

Qual foi o troco recebido por Rafaela por essas compras?

- A) R\$ 13,65.
- B) R\$ 15,00.
- C) R\$ 27,65.
- D) R\$ 36,35.

### QUESTÃO 13

Suponha que uma pessoa utiliza seu celular em média 10 horas por dia. Dessas 10 horas, ela gasta 30% do tempo em mídias sociais, e o restante em jogos e aplicativos de mensagens.

Quanto tempo, em horas, essa pessoa gasta em mídias sociais?

- A) 2 horas.
- B) 3 horas.
- C) 4 horas.
- D) 5 horas.

### QUESTÃO 14

A tabela a seguir mostra os gastos de uma determinada família com despesas no mês de janeiro no ano de 2023.

DESPESAS	VALOR
Conta de água	R\$ 100,00
Conta de luz	R\$ 127,30
Compras de supermercado	R\$ 985,00
Lazer	R\$ 560,90

A partir dessas informações, pode-se afirmar que as despesas de maior e menor valor são, respectivamente,

- A) conta de água e conta de luz.
- B) compras de supermercado e conta de água.
- C) lazer e conta de luz.
- D) compras de supermercado e lazer.

### QUESTÃO 15

Sueli é dona de uma confecção e possui uma equipe de costureiros. Ela precisa entregar 225 peças de roupas para um desfile de moda que acontecerá em sua cidade em 15 dias.

Produzindo a mesma quantidade de peças por dia, quantas peças Sueli e sua equipe precisarão confeccionar?

- A) 15 peças por dia.
- B) 17 peças por dia.
- C) 19 peças por dia.
- D) 21 peças por dia.

### QUESTÃO 16

A prefeitura de uma cidade organizou um grande evento num ginásio de esportes. A capacidade máxima desse ginásio é de 1 200 ingressos e  $\frac{3}{4}$  desses ingressos foram vendidos.

Quantos ingressos não foram vendidos?

- A) 260.
- B) 300.
- C) 340.
- D) 380.

### QUESTÃO 17

João comprou um celular que custa R\$ 2 700,00. Ele pagou, de entrada, R\$ 700,00. O restante do valor ele pagará em prestações mensais de R\$ 400,00.

Quantas prestações ele irá pagar?

- A) Duas prestações.
- B) Três prestações.
- C) Quatro prestações.
- D) Cinco prestações.

### QUESTÃO 18

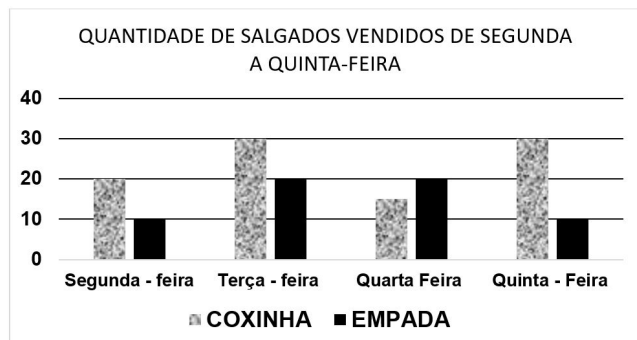
Carla está fazendo uma receita de biscoitos. Ela utiliza algumas xícaras para medir os ingredientes. Para medir a quantidade de farinha, Carla utiliza uma xícara que tem capacidade para 250 g; para medir a quantidade de açúcar, ela utiliza uma xícara com capacidade para 350 g. Para fazer essa receita são necessários 750 g de farinha e 1 kg e 400 g de açúcar.

Quantas xícaras ela precisará para fazer seus biscoitos?

- A) Duas xícaras de farinha e duas xícaras de açúcar.
- B) Três xícaras de farinha e três xícaras de açúcar.
- C) Três xícaras de farinha e quatro xícaras de açúcar.
- D) Quatro xícaras de farinha e quatro xícaras de açúcar.

### QUESTÃO 19

O gráfico a seguir mostra a quantidade de salgados que dona Joana vendeu em sua lanchonete, de segunda-feira a quinta-feira de uma semana.



De acordo com o gráfico, em que dia da semana dona Joana vendeu mais salgados?


- A) Segunda-feira.
- B) Terça-feira.
- C) Quarta-feira.
- D) Quinta-feira.

### QUESTÃO 20

A cantina da escola de Júlia está com uma promoção, conforme o cartaz a seguir.

**PROMOÇÃO !**

**COXINHA R\$ 6,30**  
**REFRESCO R\$ 2,00**



Júlia aproveitou a promoção e comprou 4 coxinhas e 4 refrescos para dividir com seus amigos.

Quanto Júlia pagou no total?

- A) R\$ 14,30.
- B) R\$ 16,60.
- C) R\$ 20,60.
- D) R\$ 33,20.

## CONHECIMENTOS GERAIS

### QUESTÃO 21

A origem da cidade de Campanha está relacionada

- A) à agricultura.
- B) à mineração.
- C) ao turismo.
- D) às águas.

### QUESTÃO 22

O criador do soro antiofídico contra o veneno de cobras, nascido em Campanha, foi

- A) Carlos Chagas.
- B) Emílio Ribas.
- C) Osvaldo Cruz.
- D) Vital Brazil.

### QUESTÃO 23

As eleições de 2024 indicarão, para ocupar e exercer o Poder Executivo Municipal,

- A) os deputados.
- B) o governador.
- C) o prefeito.
- D) os vereadores.

### QUESTÃO 24

A Lei Maria da Penha tem por objetivo combater

- A) a injúria racial.
- B) a violência doméstica contra a mulher.
- C) os ataques ideológicos.
- D) os crimes praticados pela internet.

### QUESTÃO 25

O imposto que deve ser pago pelos proprietários de imóveis urbanos é o

- A) ICMS.
- B) IRPF.
- C) IPTU.
- D) IPVA.



# FOLHA DE RESPOSTAS

(VERSÃO DO CANDIDATO)

1	A	B	C	D	14	A	B	C	D
	<input type="checkbox"/>	<input type="checkbox"/>	<input type="checkbox"/>	<input type="checkbox"/>		<input type="checkbox"/>	<input type="checkbox"/>	<input type="checkbox"/>	<input type="checkbox"/>
2	A	B	C	D	15	A	B	C	D
	<input type="checkbox"/>	<input type="checkbox"/>	<input type="checkbox"/>	<input type="checkbox"/>		<input type="checkbox"/>	<input type="checkbox"/>	<input type="checkbox"/>	<input type="checkbox"/>
3	A	B	C	D	16	A	B	C	D
	<input type="checkbox"/>	<input type="checkbox"/>	<input type="checkbox"/>	<input type="checkbox"/>		<input type="checkbox"/>	<input type="checkbox"/>	<input type="checkbox"/>	<input type="checkbox"/>
4	A	B	C	D	17	A	B	C	D
	<input type="checkbox"/>	<input type="checkbox"/>	<input type="checkbox"/>	<input type="checkbox"/>		<input type="checkbox"/>	<input type="checkbox"/>	<input type="checkbox"/>	<input type="checkbox"/>
5	A	B	C	D	18	A	B	C	D
	<input type="checkbox"/>	<input type="checkbox"/>	<input type="checkbox"/>	<input type="checkbox"/>		<input type="checkbox"/>	<input type="checkbox"/>	<input type="checkbox"/>	<input type="checkbox"/>
6	A	B	C	D	19	A	B	C	D
	<input type="checkbox"/>	<input type="checkbox"/>	<input type="checkbox"/>	<input type="checkbox"/>		<input type="checkbox"/>	<input type="checkbox"/>	<input type="checkbox"/>	<input type="checkbox"/>
7	A	B	C	D	20	A	B	C	D
	<input type="checkbox"/>	<input type="checkbox"/>	<input type="checkbox"/>	<input type="checkbox"/>		<input type="checkbox"/>	<input type="checkbox"/>	<input type="checkbox"/>	<input type="checkbox"/>
8	A	B	C	D	21	A	B	C	D
	<input type="checkbox"/>	<input type="checkbox"/>	<input type="checkbox"/>	<input type="checkbox"/>		<input type="checkbox"/>	<input type="checkbox"/>	<input type="checkbox"/>	<input type="checkbox"/>
9	A	B	C	D	22	A	B	C	D
	<input type="checkbox"/>	<input type="checkbox"/>	<input type="checkbox"/>	<input type="checkbox"/>		<input type="checkbox"/>	<input type="checkbox"/>	<input type="checkbox"/>	<input type="checkbox"/>
10	A	B	C	D	23	A	B	C	D
	<input type="checkbox"/>	<input type="checkbox"/>	<input type="checkbox"/>	<input type="checkbox"/>		<input type="checkbox"/>	<input type="checkbox"/>	<input type="checkbox"/>	<input type="checkbox"/>
11	A	B	C	D	24	A	B	C	D
	<input type="checkbox"/>	<input type="checkbox"/>	<input type="checkbox"/>	<input type="checkbox"/>		<input type="checkbox"/>	<input type="checkbox"/>	<input type="checkbox"/>	<input type="checkbox"/>
12	A	B	C	D	25	A	B	C	D
	<input type="checkbox"/>	<input type="checkbox"/>	<input type="checkbox"/>	<input type="checkbox"/>		<input type="checkbox"/>	<input type="checkbox"/>	<input type="checkbox"/>	<input type="checkbox"/>
13	A	B	C	D					
	<input type="checkbox"/>	<input type="checkbox"/>	<input type="checkbox"/>	<input type="checkbox"/>					

Ao transferir essas marcações para a folha de respostas, observe as instruções específicas dadas na capa da prova.

**Use caneta esferográfica azul ou preta.**



---

Segundo a Lei nº 9.610/1998, reproduções de natureza não pedagógicas das questões desta prova estão proibidas.