



CONCURSO PARA PROVIMENTO DE CARGOS DO MUNICÍPIO DE CURVELO

NÍVEL FUNDAMENTAL COMPLETO

Códigos: 201 a 204

ABRA APENAS QUANDO AUTORIZADO.

Leia com atenção as seguintes instruções:

- Este caderno contém as **30 questões** da Prova Objetiva, composta por: 10 questões de Língua Portuguesa, 10 questões de Matemática e 10 questões de Conhecimentos Gerais.
Caso haja algum problema em seu caderno de provas, informe ao aplicador.
- As informações / instruções dadas no dia da prova complementam o edital.
- Durante as provas, não é permitido o uso de dispositivos eletrônicos de qualquer tipo e celulares, assim como relógios e materiais de consulta.
- Será permitido ao candidato levar o rascunho contendo somente as marcações das respostas da Prova Objetiva. Use a Folha de Respostas (versão do candidato) reproduzida no final do Caderno de Provas apenas para marcar seu Gabarito. Esse rascunho deverá ser destacado pelo aplicador.
- Na Folha de Respostas:**
 - Confira seu nome, número de inscrição e cargo.
 - Assine, A TINTA, no espaço próprio indicado.
 - Transcreva a seguinte frase, com sua caligrafia usual, mantendo as letras maiúsculas e minúsculas, desconsiderando aspas e autoria:

“A sabedoria começa na reflexão.”

Sócrates
- A Folha de Respostas deve ser assinada e não deve ser dobrada, amassada ou rasurada.
- Sua resposta **NÃO** será computada se houver marcação de mais de uma alternativa, questões não assinaladas ou rasuradas.
- Ao transferir as respostas para a Folha de Respostas:
 - Use somente caneta AZUL ou PRETA, preenchendo toda a área reservada à letra correspondente à resposta solicitada em cada questão, conforme o modelo:

	A	B	C	D
1	<input checked="" type="checkbox"/>	<input type="checkbox"/>	<input type="checkbox"/>	<input type="checkbox"/>
 - Assinale somente uma alternativa em cada questão e não deixe nenhuma questão sem resposta.
- Sua prova e Folha de Respostas poderão ser entregues somente após o término do período de sigilo: 1 hora.
- Não é permitido levar o caderno de prova. Ao entregar sua prova, recolha seus objetos, deixe a sala de provas e, em seguida, o prédio. Até deixar as dependências do local de prova, continuam válidas as proibições do uso de aparelhos eletrônicos e celulares, bem como não lhe é mais permitido o uso dos sanitários.
- Os três últimos candidatos deverão permanecer na sala até que o último candidato termine sua Prova, devendo todos assinar a Ata de Sala, atestando a idoneidade da fiscalização das provas, retirando-se da sala de prova de uma só vez. Nas salas que por atendimento a condição especial para realização das provas tiver apenas um candidato, ao término da prova a Ata de sala será assinada pelo candidato, pelo aplicador e por um fiscal para atestar a idoneidade da fiscalização.
- O Caderno de Questões e os gabaritos das Provas Objetivas serão divulgados no endereço eletrônico www.gestaodeconcursos.com.br, no dia subsequente à data de realização da Prova.

DURAÇÃO TOTAL DAS PROVAS, INCLUINDO TRANSCRIÇÃO DAS RESPOSTAS PARA A FOLHA DE RESPOSTAS E A ASSINATURA:

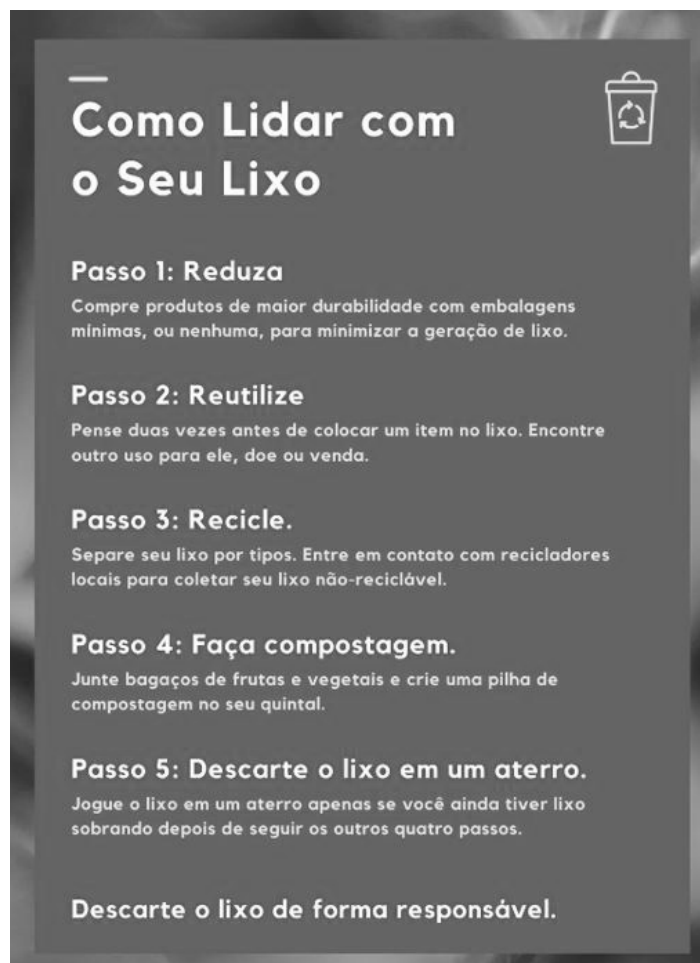
QUATRO HORAS

Escreva seu nome completo de forma legível.

NOME: _____

INSTRUÇÃO: Leia o texto I para responder às questões de 1 a 3.

TEXTO I



Como Lidar com o Seu Lixo

Passo 1: Reduza
Compre produtos de maior durabilidade com embalagens mínimas, ou nenhuma, para minimizar a geração de lixo.

Passo 2: Reutilize
Pense duas vezes antes de colocar um item no lixo. Encontre outro uso para ele, doe ou venda.

Passo 3: Recicle.
Separe seu lixo por tipos. Entre em contato com recicladores locais para coletar seu lixo não-reciclável.

Passo 4: Faça compostagem.
Junte bagaços de frutas e vegetais e crie uma pilha de compostagem no seu quintal.

Passo 5: Descarte o lixo em um aterro.
Jogue o lixo em um aterro apenas se você ainda tiver lixo sobrando depois de seguir os outros quatro passos.

Descarte o lixo de forma responsável.

Disponível em: https://www.canva.com/pt_br/modelos/EAEY31485VI-verde-fotocentrico-passo-a-passo-para-descarte-de-lixo-reciclagem-cartaz/. Acesso em: 19 jul. 2023.

QUESTÃO 1

O texto I é um cartaz publicitário que tem o objetivo de

- A) divulgar produtos que minimizam a geração de lixo.
- B) orientar as pessoas sobre o tratamento do seu lixo.
- C) mostrar às pessoas como consumir menos produtos.
- D) alertar sobre hábitos de consumo e produção de lixo.

QUESTÃO 2

Em relação à sua forma de constituição, o texto I traz sequências de enunciados que

- A) fazem uma explicação minuciosa sobre o lixo para o leitor.
- B) informam, expondo e esclarecendo qualquer dúvida em relação ao lixo.
- C) narram acontecimentos que se sucedem no processo de coleta do lixo.
- D) dão instruções ao leitor sobre o modo de lidar com o seu lixo.

QUESTÃO 3

Nos cinco passos do texto I, os verbos estão no

- A) presente do indicativo.
- B) imperativo afirmativo.
- C) imperativo negativo.
- D) presente do subjuntivo.

INSTRUÇÃO: Leia o texto II para responder às questões de 4 a 6.

TEXTO II

ONG reforma bicicletas quebradas e faz doação para crianças carentes

Presentear crianças com a paixão pela bicicleta é o objetivo da ONG Reciclismo, criada por um grupo de amigos de São Paulo em 2009. Com a mesma dinâmica de outros projetos parecidos, a ideia é arrecadar bicicletas que estejam fora de uso ou danificadas, recuperá-las e doar para crianças carentes.

Com atuação mais forte na região da cidade de Osasco, na grande São Paulo, a ONG vai além da simples doação de bikes. Em eventos para entregas das magrelas, os organizadores também têm como foco instruir as crianças sobre temas como reciclagem, meio ambiente e cidadania. A filosofia que rege as ações do grupo é de “mostrar o valor daquilo que é doado e ensinar que todo e qualquer objetivo só é alcançado com esforço e dedicação”.

Disponível em: <https://jornaldeboasnoticias.com.br/ong-reforma-bikes-quebradas-e-doa/>. Acesso em: 18 jul. 2023 (adaptado).

QUESTÃO 4

Assinale a alternativa que contém uma afirmativa verdadeira em relação à ONG Reciclismo, de acordo com o texto II.

- A) A ONG Reciclismo é uma organização governamental criada em São Paulo.
- B) O objetivo da ONG Reciclismo é doar bicicletas quebradas a crianças carentes.
- C) A atuação da ONG Reciclismo vai além da simples doação de bicicletas.
- D) O grupo que criou a ONG Reciclismo foi movido por sua paixão por bicicletas.

QUESTÃO 5

Assinale a alternativa em que a expressão em destaque não se refere a “bicicletas”.

- A) [...] recuperá-**las** e doar para crianças carentes.
- B) a ONG vai além da simples doação de **bikes** [...]
- C) Em eventos para entregas das **magrelas**, [...]
- D) A filosofia que rege as **ações** do grupo [...]

QUESTÃO 6

De acordo com o texto II, os organizadores da ONG Reciclismo

- A) realizam eventos para entregas das bicicletas às crianças.
- B) atuam mais em Osasco, na grande São Paulo, onde moram.
- C) arrecadam bicicletas quebradas pelas crianças carentes.
- D) oferecem cursos sobre reciclagem, meio ambiente e cidadania.

INSTRUÇÃO: Leia o texto III para responder às questões de 7 a 10.

TEXTO III

O que é uma alimentação saudável?

Alimentação saudável é uma dieta bem equilibrada, que fornece os nutrientes, vitaminas e minerais nas proporções adequadas para o bom funcionamento do organismo.

Para que uma alimentação seja saudável, é importante ter variedade, equilíbrio, controle de quantidade (comer o que lhe é adequado) e qualidade dos alimentos. Ou seja: conhecer a procedência dos ingredientes é uma das formas de conseguir uma alimentação saudável.

Alimentos industrializados contêm muitos aditivos, conservantes e gorduras, além de ultraprocessar os alimentos, fazendo-os perder grande parte dos seus nutrientes.

Não é à toa que a busca por uma alimentação saudável e o combate contra a obesidade têm trazido à tona discussões favoráveis aos alimentos orgânicos e ao consumo de alimentos locais, de acordo com a estação.

Disponível em: <https://www.unimed.coop.br/viver-bem/alimentacao/dez-dicas-para-uma-alimentacao-saudavel>. Acesso em: 20 jul. 2023.

QUESTÃO 7

Leia o título do texto III.

O que é uma alimentação saudável?

O uso de uma interrogação nesse título é uma estratégia para

- A) mostrar que não se sabe sobre o que o texto vai tratar.
- B) chamar a atenção do leitor e conseguir seu engajamento.
- C) apresentar ao leitor um ponto de vista em forma de pergunta.
- D) expor uma dificuldade quanto à interpelação do leitor.

QUESTÃO 8

Releia este trecho do texto III.

“Alimentação **saudável** é **uma** dieta **bem** equilibrada, que **fornece** os nutrientes, vitaminas **e** minerais nas proporções adequadas **para** o bom **funcionamento** do organismo.”

Assinale a alternativa que apresenta as classes das palavras em destaque, na ordem em que estas aparecem no trecho.

- A) Adjetivo; artigo; adjetivo; verbo; preposição; conjunção; substantivo.
- B) Substantivo; numeral; advérbio; adjetivo; preposição; conjunção; adjetivo.
- C) Advérbio; numeral; adjetivo; verbo; conjunção; preposição; substantivo.
- D) Adjetivo; artigo; advérbio; verbo; conjunção; preposição; substantivo.

QUESTÃO 9

Releia este trecho do texto III.

“Ou seja: conhecer a procedência dos ingredientes é uma das formas de conseguir uma alimentação saudável.”

Os dois pontos são usados nesse trecho para indicar

- A) uma pergunta indireta sem entonação ascendente.
- B) uma suspensão da frase ou do pensamento.
- C) um esclarecimento ou resultado do que se disse.
- D) um chamamento ou interpelação do leitor.

QUESTÃO 10

Releia este trecho do texto III.

“Para que uma alimentação seja saudável, é importante ter variedade, equilíbrio, controle de quantidade (comer o que lhe é adequado) e qualidade dos alimentos.”

Em relação ao pensamento contido na oração principal, a primeira oração desse período expressa

- A) causa.
- B) finalidade.
- C) consequência.
- D) condição.

MATEMÁTICA

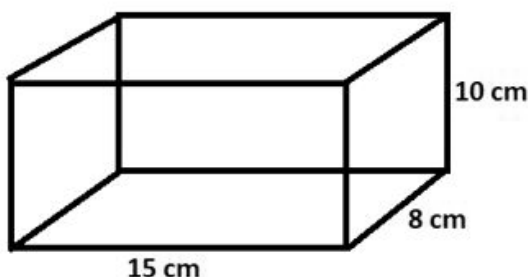
QUESTÃO 11

Um ônibus de viagem gastou três horas para percorrer 100 km. Quantas horas ele gastará para percorrer 900 km com essa mesma velocidade?

- A) 20 horas.
- B) 25 horas.
- C) 27 horas.
- D) 30 horas.

QUESTÃO 12

Observe, a seguir, as dimensões de uma caixa em forma de paralelepípedo retângulo.

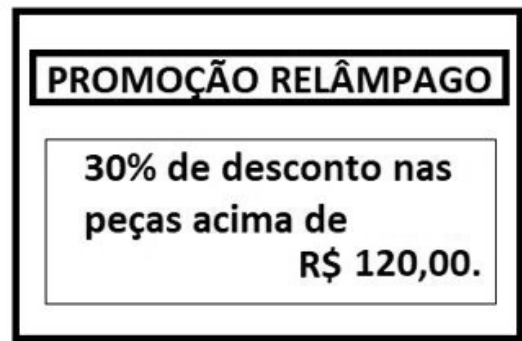


O volume dessa caixa, em cm^3 , é

- A) 1.000 cm^3 .
- B) 1.200 cm^3 .
- C) 1.400 cm^3 .
- D) 1.600 cm^3 .

QUESTÃO 13

Certa loja de roupas divulgou a seguinte promoção:



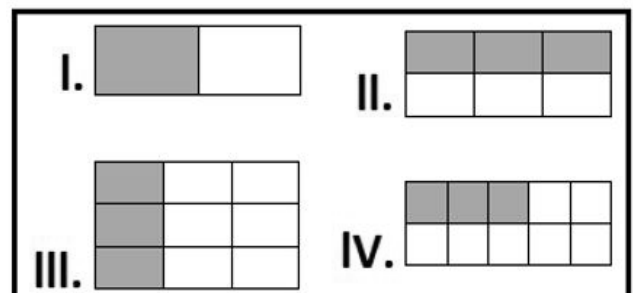
Lúcia comprou uma peça de roupa por R\$ 130,00 e recebeu o desconto.

Quanto ela pagou pela peça de roupa?

- A) R\$ 89,00.
- B) R\$ 91,00.
- C) R\$ 95,00.
- D) R\$ 99,00.

QUESTÃO 14

Cada uma das figuras desenhadas a seguir está dividida em partes iguais, e as partes pintadas de preto representam uma fração de cada uma das figuras.



Assim, é correto afirmar que

- A) I e II são equivalentes.
- B) II e IV são equivalentes.
- C) III e IV são equivalentes.
- D) I e IV são equivalentes.

QUESTÃO 15

Miguel tinha em sua conta bancária R\$ 4.700,00. Ele debitou dessa conta R\$ 600,00 para pagar alguns boletos.

Além disso, durante sete dias, ele retirou, ao dia, R\$ 10,00 para lanchar.

Quanto Miguel possui agora em sua conta?

- A) R\$ 4.000,00.
- B) R\$ 4.030,00.
- C) R\$ 4.050,00.
- D) R\$ 4.100,00.

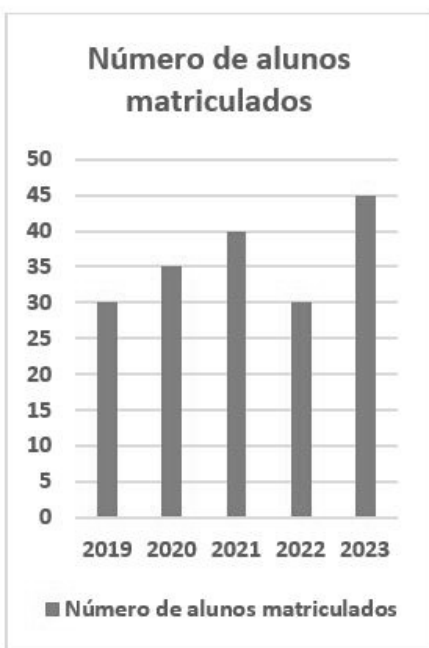
QUESTÃO 16

A tabela a seguir mostra o número de alunos matriculados na turma de quinto ano de uma escola, de 2019 a 2023.

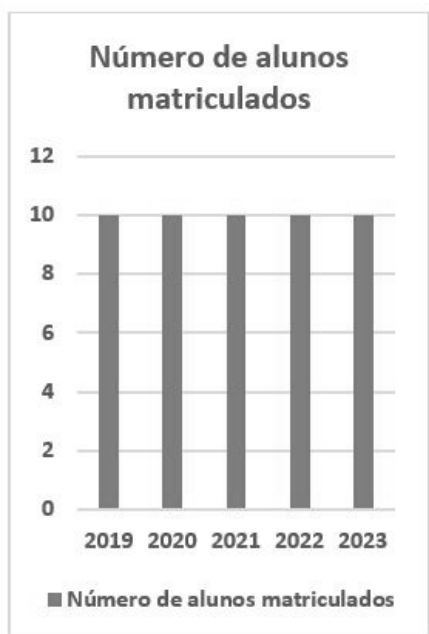
ANO	NÚMERO DE ALUNOS
2019	30
2020	35
2021	40
2022	30
2023	45

Qual gráfico representa essa tabela?

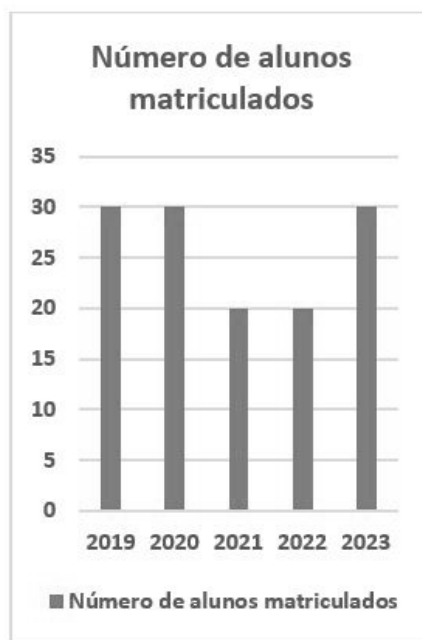
A)



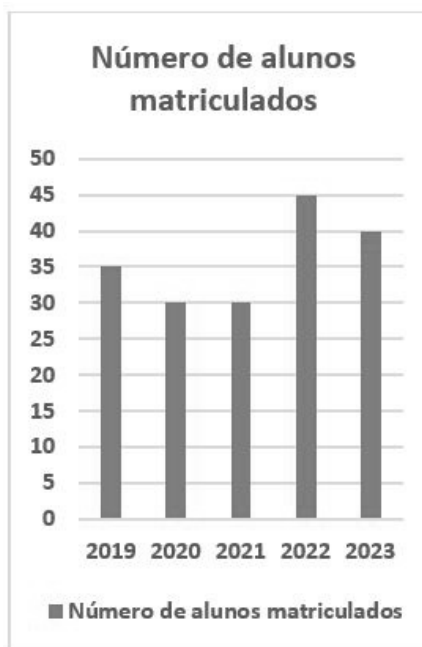
B)



C)



D)



QUESTÃO 17

Paulo é confeitiro e está tentando criar uma nova receita de bolo. Para isso, ele precisará utilizar 1 litro de leite.

Sabendo que Paulo utiliza uma xícara com capacidade para 250 mL para medir a quantidade de leite, quantas xícaras ele utilizará nessa nova receita?

- A) 2.
- B) 4.
- C) 6.
- D) 8.

QUESTÃO 18

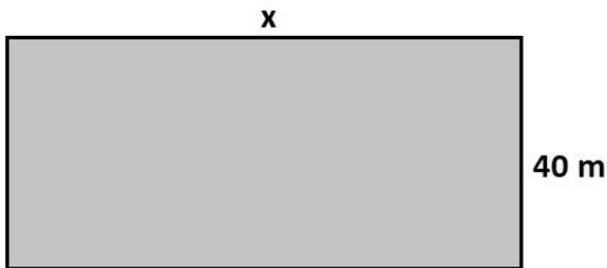
Clara é costureira e tem que dividir uma peça de tecido em cinco partes iguais. Sabe-se que, para cortar cada uma das partes, ela gasta 7 minutos.

Assim sendo, para dividir a peça inteira, Clara gastará um total de

- A) 14 minutos.
- B) 21 minutos.
- C) 28 minutos.
- D) 35 minutos.

QUESTÃO 19

Vitor pretende construir uma nova horta em sua fazenda. A figura a seguir mostra as dimensões da horta.

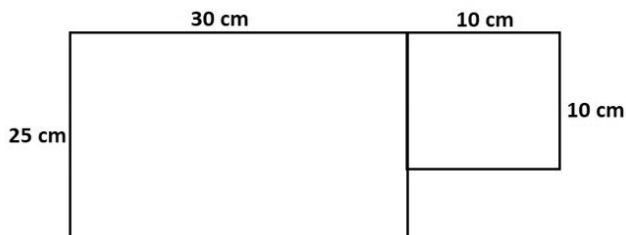


Sabendo que a área da horta é 3.000 m^2 , quanto mede o lado x dessa horta?

- A) 70 metros.
- B) 75 metros.
- C) 80 metros.
- D) 85 metros.

QUESTÃO 20

Observe a figura a seguir.



O perímetro dessa figura, em centímetros, é

- A) 100 centímetros.
- B) 130 centímetros.
- C) 140 centímetros.
- D) 160 centímetros.

CONHECIMENTOS GERAIS

QUESTÃO 21

A Chaminé da Antiga Fábrica de Óleo foi tombada pela Prefeitura Municipal de Curvelo-MG por sua importância cultural para a cidade.

Disponível em: <https://www.ipatrimonio.org/curvelo-chamine-da-antiga-fabrica-de-oleo/#/map=38329&loc=-18.766415000000027,-44.430236,17>. Acesso em: 28 ago. 2023.

O óleo vegetal produzido pela antiga fábrica, da qual restou a chaminé, tombada pela Prefeitura Municipal, era originado

- A) do algodão.
- B) da mamona.
- C) do milho.
- D) da soja.

QUESTÃO 22

O Conselho Municipal dos Direitos da Criança e do Adolescente (CMDCA) do Município de Curvelo [...] é composto de cinco conselheiros [...]

Disponível em: <https://curvelo.mg.gov.br/conselhotelar>. Acesso em: 24 jul. 2023.

Os cinco conselheiros do CMDCA são definidos por meio de

- A) eleição pelos cidadãos.
- B) escolha do prefeito.
- C) indicação de líderes religiosos.
- D) nomeação da Câmara Municipal.

QUESTÃO 23

Completando 41 anos em 2023, o Forró de Curvelo deve atrair mais de 280 mil pessoas entre os dias 7 e 16 de julho. Organizado pela Prefeitura, o evento terá uma programação com mais de 30 atrações regionais e nacionais.

Disponível em: <https://g1.globo.com/mg/grande-minas/noticia/2023/06/21/forro-de-curvelo-deve-atrair-mais-de-280-mil-pessoas-veja-programacao.ghtml>. Acesso em: 15 ago. 2023.

A Prefeitura organiza o Forró de Curvelo com foco

- A) na ajuda a entidades beneficentes.
- B) na divulgação da imagem da cidade.
- C) na promoção local do estilo forró.
- D) no encontro com o curvelano ausente.

QUESTÃO 24

Qual é o nome do(a) estilista de renome internacional, com reconhecimento pela luta para identificar o paradeiro de seu filho, desaparecido em 1971, natural de Curvelo?

- A) Alceu Penna.
- B) Ângela Diniz.
- C) Ângelo Antônio.
- D) Zuzu Angel.

QUESTÃO 25

A Lei nº 13.460/17 “dispõe sobre participação, proteção e defesa dos direitos do usuário dos serviços públicos da administração pública.”

Disponível em: https://www.planalto.gov.br/ccivil_03/_ato2015-2018/2017/lei/l13460.htm. Acesso em: 24 jul. 2023.

A Prefeitura de Curvelo orienta seus cidadãos por meio

- A) da Cartilha do cidadão.
- B) do Portal da Transparência.
- C) de atendimento presencial na sede da Prefeitura.
- D) do vereador do distrito do eleitor.

QUESTÃO 26

Nessa segunda-feira (7 de agosto), a Lei Maria da Penha completou 17 anos. [...] A lei 11.340 foi sancionada em 2006 [...] e foi construída [...] com a participação de diversas organizações feministas.

Disponível em: <https://www.brasildefatog.com.br/2023/08/10/radio-lei-maria-da-penha-completa-17-anos-saiba-quais-foram-os-avancos-e-o-que-mudou-desde-a-sua-criacao>. Acesso em: 10 ago. 2023.

A Lei Maria da Penha foi criada para

- A) assegurar direitos trabalhistas às trabalhadoras domésticas.
- B) coibir a violência doméstica e familiar.
- C) garantir direitos civis às mulheres.
- D) regulamentar a licença maternidade.

QUESTÃO 27

Mudanças na CNH: nova lei pode aliviar para quem teve habilitação suspensa

Disponível em: <https://www.uol.com.br/carros/colunas/doutor-multas/2023/08/23/pontuacao-na-cnh-e-suspensao---projeto-pode-beneficiar-motoristas.htm>. Acesso em: 23 ago. 2023.

A CNH é o documento

- A) com categoria única e de emissão nacional.
- B) de porte obrigatório para todos os cidadãos.
- C) que identifica o contribuinte de impostos.
- D) para conduzir veículos automotores de rodas.

QUESTÃO 28

Em média, 265 brasileiros são internados diariamente no Sistema Único de Saúde (SUS) por complicações graves relacionadas ao câncer de intestino, também conhecido como câncer colorretal.

Disponível em: <https://agenciabrasil.ebc.com.br/saude/noticia/2023-03/marco-azul-internacoes-por-cancer-de-intestino-batem-recorde-no-pais>. Acesso em: 15 ago. 2023.

Com o objetivo de conscientizar a população quanto ao câncer de intestino, instituições de saúde promovem a campanha

- A) Fevereiro verde.
- B) Março azul.
- C) Julho amarelo.
- D) Novembro azul.

QUESTÃO 29

O Centro Cultural de Curvelo realmente pode ser chamado como tal. [...] abriga o museu, a biblioteca, salas multimídia e galerias de arte.

Disponível em: <https://portalaventuras.com.br/curvelo/>. Acesso em: 27 jul. 2023.

O prédio onde está localizado o Centro Cultural serviu de abrigo anteriormente para a

- A) Antiga Estação Ferroviária.
- B) Casa do escritor Guimarães Rosa.
- C) Escola de Primeiras Letras.
- D) Sede da Agência dos Correios.

QUESTÃO 30

A Expô Curvelo é uma exposição anual com o objetivo de festejar

- A) a agropecuária e a indústria de Curvelo.
- B) a música produzida pelos sertões de Minas Gerais.
- C) a tecnologia desenvolvida no interior de Minas.
- D) o artesanato barranqueiro (Rio São Francisco e Rio das Velhas).

FOLHA DE RESPOSTAS

(VERSÃO DO CANDIDATO)

1	A	B	C	D	16	A	B	C	D
	<input type="checkbox"/>	<input type="checkbox"/>	<input type="checkbox"/>	<input type="checkbox"/>		<input type="checkbox"/>	<input type="checkbox"/>	<input type="checkbox"/>	<input type="checkbox"/>
2	A	B	C	D	17	A	B	C	D
	<input type="checkbox"/>	<input type="checkbox"/>	<input type="checkbox"/>	<input type="checkbox"/>		<input type="checkbox"/>	<input type="checkbox"/>	<input type="checkbox"/>	<input type="checkbox"/>
3	A	B	C	D	18	A	B	C	D
	<input type="checkbox"/>	<input type="checkbox"/>	<input type="checkbox"/>	<input type="checkbox"/>		<input type="checkbox"/>	<input type="checkbox"/>	<input type="checkbox"/>	<input type="checkbox"/>
4	A	B	C	D	19	A	B	C	D
	<input type="checkbox"/>	<input type="checkbox"/>	<input type="checkbox"/>	<input type="checkbox"/>		<input type="checkbox"/>	<input type="checkbox"/>	<input type="checkbox"/>	<input type="checkbox"/>
5	A	B	C	D	20	A	B	C	D
	<input type="checkbox"/>	<input type="checkbox"/>	<input type="checkbox"/>	<input type="checkbox"/>		<input type="checkbox"/>	<input type="checkbox"/>	<input type="checkbox"/>	<input type="checkbox"/>
6	A	B	C	D	21	A	B	C	D
	<input type="checkbox"/>	<input type="checkbox"/>	<input type="checkbox"/>	<input type="checkbox"/>		<input type="checkbox"/>	<input type="checkbox"/>	<input type="checkbox"/>	<input type="checkbox"/>
7	A	B	C	D	22	A	B	C	D
	<input type="checkbox"/>	<input type="checkbox"/>	<input type="checkbox"/>	<input type="checkbox"/>		<input type="checkbox"/>	<input type="checkbox"/>	<input type="checkbox"/>	<input type="checkbox"/>
8	A	B	C	D	23	A	B	C	D
	<input type="checkbox"/>	<input type="checkbox"/>	<input type="checkbox"/>	<input type="checkbox"/>		<input type="checkbox"/>	<input type="checkbox"/>	<input type="checkbox"/>	<input type="checkbox"/>
9	A	B	C	D	24	A	B	C	D
	<input type="checkbox"/>	<input type="checkbox"/>	<input type="checkbox"/>	<input type="checkbox"/>		<input type="checkbox"/>	<input type="checkbox"/>	<input type="checkbox"/>	<input type="checkbox"/>
10	A	B	C	D	25	A	B	C	D
	<input type="checkbox"/>	<input type="checkbox"/>	<input type="checkbox"/>	<input type="checkbox"/>		<input type="checkbox"/>	<input type="checkbox"/>	<input type="checkbox"/>	<input type="checkbox"/>
11	A	B	C	D	26	A	B	C	D
	<input type="checkbox"/>	<input type="checkbox"/>	<input type="checkbox"/>	<input type="checkbox"/>		<input type="checkbox"/>	<input type="checkbox"/>	<input type="checkbox"/>	<input type="checkbox"/>
12	A	B	C	D	27	A	B	C	D
	<input type="checkbox"/>	<input type="checkbox"/>	<input type="checkbox"/>	<input type="checkbox"/>		<input type="checkbox"/>	<input type="checkbox"/>	<input type="checkbox"/>	<input type="checkbox"/>
13	A	B	C	D	28	A	B	C	D
	<input type="checkbox"/>	<input type="checkbox"/>	<input type="checkbox"/>	<input type="checkbox"/>		<input type="checkbox"/>	<input type="checkbox"/>	<input type="checkbox"/>	<input type="checkbox"/>
14	A	B	C	D	29	A	B	C	D
	<input type="checkbox"/>	<input type="checkbox"/>	<input type="checkbox"/>	<input type="checkbox"/>		<input type="checkbox"/>	<input type="checkbox"/>	<input type="checkbox"/>	<input type="checkbox"/>
15	A	B	C	D	30	A	B	C	D
	<input type="checkbox"/>	<input type="checkbox"/>	<input type="checkbox"/>	<input type="checkbox"/>		<input type="checkbox"/>	<input type="checkbox"/>	<input type="checkbox"/>	<input type="checkbox"/>

Ao transferir essas marcações para a folha de respostas, observe as instruções específicas dadas na capa da prova.

Use caneta esferográfica azul ou preta.



Segundo a Lei nº 9.610/1998, reproduções de natureza não pedagógicas das questões desta prova estão proibidas.