

- Nas questões a seguir, marque, para cada uma, a única opção correta, de acordo com o respectivo comando. Para as devidas marcações, use a **Folha de Respostas**, único documento válido para a correção das suas respostas.
- Nas questões que avaliarem **conhecimentos de informática** e(ou) **tecnologia da informação**, a menos que seja explicitamente informado o contrário, considere que todos os programas mencionados estão em configuração-padrão e que não há restrições de proteção, de funcionamento e de uso em relação aos programas, arquivos, diretórios, recursos e equipamentos mencionados.
- Eventuais espaços livres — identificados ou não pela expressão “**Espaço livre**” — que constarem deste caderno de provas poderão ser utilizados para rascunho.

-- PROVAS OBJETIVAS --

-- CONHECIMENTOS GERAIS --

Texto CG1A1

A Pesquisa Saúde e Trabalho, feita pelo Serviço Social da Indústria (SESI), concluiu que 52% dos brasileiros raramente ou nunca praticam atividades físicas. Entre os que fazem atividades físicas, 22% se exercitam diariamente, 13%, pelo menos três vezes por semana, e 8%, pelo menos duas vezes semanais.

Além da frequência da prática de atividades físicas, o estudo fez a associação entre a prática delas e o adoecimento. Segundo o levantamento, 72% das pessoas que praticam exercícios com frequência não tiveram problemas de saúde nos últimos doze meses. Porém, entre os que nunca praticam atividades físicas, 42% sofreram problemas de saúde em 2022.

A relação entre trabalho e qualidade de vida também foi abordada na pesquisa. Nesse aspecto, 94% concordaram que um profissional com a saúde física e mental em dia é mais produtivo no seu trabalho. A pesquisa também apontou que 12% dos entrevistados têm hábito de realizar consultas regulares com psicólogo.

A respeito de ambientes saudáveis para o trabalho, 66% dos trabalhadores disseram que as empresas em que trabalham estabelecem limites de horas de trabalho ou número de turnos, e 55% afirmaram que seus empregadores permitem flexibilidade e pausas para descanso ou prática de exercícios. E mais: 49% das empresas têm estrutura para prevenir violência, assédio e discriminação, além de dispor de ambiente livre do fumo e política de jornada de trabalho flexível, como *home office*.

Para a grande maioria dos entrevistados, saúde não é somente a ausência de doenças ou enfermidades. Segundo 88% deles, a saúde é um estado completo de bem-estar físico, mental e social.

Internet: <agenciabrasil.ebc.com.br> (com adaptações).

Questão 1

Quanto ao gênero, o texto CG1A1 pode ser corretamente classificado como

- A notícia.
- B conto.
- C nota explicativa.
- D crônica.
- E texto de opinião.

Questão 2

De acordo com as ideias do texto CG1A1,

- A a prática de atividades físicas faz parte da rotina da maioria da população brasileira.
- B a produtividade no trabalho está relacionada principalmente com o ambiente de trabalho.
- C a redução no número de mortes no Brasil está relacionada à prática de atividades físicas.
- D a pesquisa citada abordou a frequência da prática de atividades físicas, a relação entre essa prática e saúde, bem como entre saúde e trabalho.
- E a maioria dos entrevistados considera que saúde é a ausência de doença.

Questão 3

O emprego do hífen na palavra “bem-estar”, no final do texto CG1A1, justifica-se pela mesma regra que determina o emprego do hífen em

- A mal-humorado.
- B super-ricos.
- C sem-teto.
- D auto-organização.
- E cana-de-açúcar.

Questão 4

A correção gramatical e os sentidos do texto CG1A1 seriam preservados se a conjunção “Porém” (último período do segundo parágrafo) fosse substituída por

- A Todavia.
- B Conquanto.
- C Porquanto.
- D Por isso.
- E Assim.

Questão 5

No que diz respeito à coesão do texto CG1A1, julgue os seguintes itens.

- I No segundo parágrafo, os termos “estudo” e “levantamento” referem-se à Pesquisa Saúde e Trabalho, mencionada no início do primeiro parágrafo.
- II No terceiro parágrafo, a expressão “Nesse aspecto” faz referência à relação entre trabalho e qualidade de vida.
- III No trecho “em que trabalham” (primeiro período do quarto parágrafo), o vocábulo “que” refere-se a “horas de trabalho ou número de turnos”.

Assinale a opção correta.

- A Nenhum dos itens está certo.
- B Apenas os itens I e II estão certos.
- C Apenas os itens II e III estão certos.
- D Apenas os itens I e III estão certos.
- E Todos os itens estão certos.

Questão 6

Estariam mantidas a correção gramatical do texto CG1A1, sua coesão e a coerência das suas ideias caso se substituisse

- A “Além da” (início do segundo parágrafo) por **Salvo a**.
- B “Segundo” (segundo período do segundo parágrafo) por **Conforme**.
- C “Para a” (início do último parágrafo) por **Na**.
- D “em que” (primeiro período do quarto parágrafo) por **aonde**.
- E “E mais” (último período do quarto parágrafo) por **Ainda assim**.

Questão 7

No primeiro período do quarto parágrafo do texto CG1A1, a flexão da forma verbal “estabelecem” na terceira pessoa do plural justifica-se pela sua concordância com

- A “limites”.
- B “ambientes”.
- C “66%”.
- D “trabalhadores”.
- E “empresas”.

Questão 8

Em relação à significação das palavras no texto CG1A1, julgue os itens a seguir.

- I Em “consultas regulares” (último período do terceiro parágrafo), o adjetivo “regulares” está empregado com o mesmo sentido de **frequentes**.
- II Em “trabalho flexível” (último período do quarto parágrafo), o adjetivo “flexível” está empregado com o mesmo sentido de **adaptável**.
- III No último parágrafo, os termos “doenças” e “enfermidades” estão empregados como sinônimos.

Assinale a opção correta.

- A Nenhum dos itens está certo.
- B Apenas os itens I e II estão certos.
- C Apenas os itens II e III estão certos.
- D Apenas os itens I e III estão certos.
- E Todos os itens estão certos.

Questão 9

Com relação a tecnologias, ferramentas, aplicativos e procedimentos associados à Internet e à *intranet*, assinale a opção correta.

- A Na Internet, que é uma rede privada, os dados estão mais seguros e menos suscetíveis a ameaças externas que na *intranet*.
- B Plataformas de redes sociais permitem a conexão e a comunicação entre pessoas e organizações.
- C Gmail, Outlook e Yahoo Mail são aplicativos que permitem aos usuários acessar sítios, fazer pesquisa e interagir com serviços *on-line*.
- D O serviço de *webmail* da Google permite encontrar informações na Internet, por meio de palavras-chave.
- E O uso de senhas fortes deve ser uma preocupação dos usuários da Internet, mas não dos usuários da *intranet*, por ser esta uma rede privada.

Questão 10

No ambiente Windows,

- A a área de trabalho possui aparência fixa, por isso não é possível alterar as suas características.
- B é possível criar atalhos para programas e arquivos na área de trabalho, o que facilita o acesso rápido.
- C o Windows Explorer tem a função de personalizar configurações como rede, resolução de tela e som.
- D o *menu Iniciar* permite copiar, colar e renomear arquivos.
- E a barra de transferência exibe ícones de atalho para aplicativos e permite alternar entre janelas abertas.

Questão 11

No que se refere aos procedimentos *backupe*, identificação e manipulação de arquivos, assinale a opção correta.

- A Um arquivo é movido para a lixeira quando é recortado.
- B A ação de recortar arquivo cria uma cópia de *backupe* do arquivo.
- C Arquivos de *backupe* possuem extensão do tipo PDF.
- D Os arquivos excluídos podem ser restaurados da lixeira.
- E O sistema Windows não possui ferramenta nativa de *backupe*.

Questão 12

Em um computador, ao se criar um documento no Microsoft Word e uma planilha no LibreOffice Calc, os respectivos arquivos poderão ser armazenados

- A na placa-mãe.
- B na placa de vídeo.
- C na RAM (*Random Access Memory*).
- D no processador (CPU).
- E no HD (*hard disk*).

Questão 13

Ana, Pablo, Telma e Pedro, servidores públicos municipais, foram eleitos para os seguintes mandatos eletivos, respectivamente: senadora federal; deputado federal; prefeita do próprio município; e deputado estadual do próprio estado.

Nessa situação hipotética, à luz da Constituição Federal de 1988, todos esses servidores serão afastados dos respectivos cargos públicos, sendo facultado optar pela remuneração somente a

- A Pedro.
- B Ana e Pablo.
- C Ana.
- D Pablo.
- E Telma.

Questão 14

De acordo com a Lei Orgânica do Município de Camaçari, a criação de novos distritos no município de Camaçari dar-se-á por

- A decreto municipal.
- B lei municipal.
- C portaria municipal.
- D referendo.
- E plebiscito.

Questão 15

De acordo com o Estatuto dos Servidores Públicos do Município de Camaçari, assinale a opção que indica o ato pelo qual a pessoa é investida em cargo público, aceitando expressamente as atribuições, os deveres e as responsabilidades inerentes ao cargo, com o compromisso de bem servir.

- A nomeação
- B promoção
- C reversão
- D posse
- E readaptação

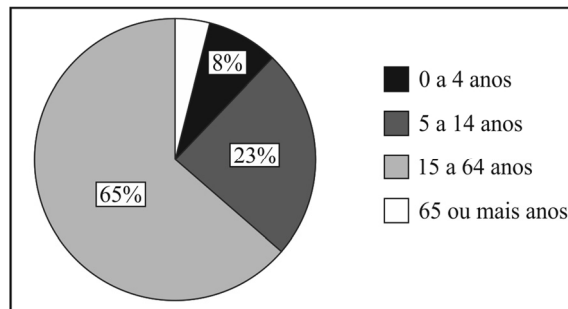
Questão 16

Se um servidor público da Prefeitura Municipal de Camaçari for demitido a bem do serviço público, de acordo com o Estatuto dos Servidores Públicos do Município de Camaçari, o seu reingresso no serviço público desse município

- A poderá ocorrer após cinco anos.
- B poderá ocorrer após três anos.
- C não poderá ocorrer em tempo algum.
- D poderá ocorrer após um ano.
- E poderá ocorrer após seis meses.

Questão 17

Distribuição da população de Camaçari – BA
por faixa etária em 2022



Considere que, em 2022, a cidade de Camaçari tinha 300 mil habitantes, distribuídos por faixa etária conforme o gráfico precedente. Nesse caso, o número de habitantes de Camaçari com 65 anos ou mais anos de idade em 2022

- A** era inferior a 7 mil.
- B** era superior a 7 mil e inferior a 9 mil.
- C** era superior a 9 mil e inferior a 11 mil.
- D** era superior a 11 mil e inferior a 13 mil.
- E** era superior a 13 mil.

Questão 18

Considere que a população de Camaçari ao longo dos anos seja dada pela função $P(t) = 5t + 250$, em milhares de habitantes, em que $t = 0$ corresponde ao ano de 2010, $t = 1$ ao ano de 2011 e assim sucessivamente. Nesse caso, o número de habitantes de Camaçari em 2036 será

- A** inferior a 364 mil.
- B** superior a 364 mil e inferior a 374 mil.
- C** superior a 374 mil e inferior a 385 mil.
- D** superior a 385 mil e inferior a 396 mil.
- E** superior a 396 mil.

Questão 19

Entre as praias existentes na região de Camaçari, oito delas se destacam: Arembepe, Barra do Jacuípe, Itacimirim, Jauá, Guarajuba, Busca-Vida, da Espera e do Forte. Deseja-se elaborar um roteiro de visita a essas oito praias, tal que: não haja repetição de visita a nenhuma delas; a terceira praia a ser visitada seja sempre a do Jauá; a última praia a ser visitada seja sempre a da Espera. Nessas condições, o número de maneiras de se elaborar o referido roteiro

- A** é inferior a 700.
- B** está entre 700 e 730.
- C** está entre 731 e 760.
- D** está entre 761 e 790.
- E** é superior a 790.

Questão 20

Em 2022, para determinada prefeitura de um município, as despesas relativas à infraestrutura, saúde e educação foram de R\$ 880 milhões, e a despesa com educação somada a R\$ 30 milhões foi igual a soma das despesas com saúde e infraestrutura. Nessa situação hipotética, em 2022, a despesa do município com educação foi

- A** inferior a R\$ 320 milhões.
- B** superior a R\$ 320 milhões e inferior a R\$ 360 milhões.
- C** superior a R\$ 360 milhões e inferior a R\$ 400 milhões.
- D** superior a R\$ 400 milhões e inferior a R\$ 440 milhões.
- E** superior a 440 milhões de reais.

Espaço livre

-- CONHECIMENTOS ESPECÍFICOS --**Questão 21**

Assinale a opção que apresenta o documento usado para relatar eventos, acontecimentos, deliberações e decisões.

- A estatuto
- B requerimento
- C atestado
- D certificado
- E ata

Questão 22

Requerimento é o documento apropriado para

- A relatar acontecimentos.
- B solicitar providência a uma autoridade pública.
- C candidatar-se a um posto de trabalho.
- D confirmar a ocorrência de um fato.
- E estabelecer os direitos e obrigações das partes.

Questão 23

O pronomine de tratamento a ser utilizado em documentos dirigidos a reitores universitários é

- A Vossa Eminência.
- B Vossa Reverendíssima.
- C Vossa Magnificência.
- D Vossa Senhoria.
- E Vossa Excelência.

Questão 24

Determinado princípio da arquivística estabelece que os documentos devem ser organizados com base na identidade de seu elaborador, seja ele individual ou institucional. Trata-se do princípio da

- A proveniência.
- B integridade.
- C organicidade.
- D cumulatividade.
- E unicidade.

Questão 25

Documentos que contêm representações arquitetônicas ou de engenharia são classificados como

- A iconográficos.
- B micrográficos.
- C cartográficos.
- D filmográficos.
- E textuais.

Questão 26

O documento que deve ser utilizado por um órgão público para dar instruções sobre a execução de um serviço é

- A o regulamento.
- B a portaria.
- C o requerimento.
- D o ofício.
- E a lei.

Questão 27

É um exemplo de veículo de comunicação de massa audiovisual

- A o *teaser*.
- B o quadro de avisos.
- C as emissoras de televisão.
- D os jornais impressos.
- E as emissoras de rádio.

Questão 28

Para apresentar ao público as ações de responsabilidade social de uma organização, o veículo de comunicação que deve ser utilizado é

- A o jornal mural.
- B o livro de empresa.
- C o *press release*.
- D a mala direta.
- E o relatório social.

Questão 29

Em uma organização, o nível tático é responsável por

- A supervisionar e coordenar tarefas.
- B determinar objetivos organizacionais de longo prazo.
- C executar tarefas operacionais.
- D decidir sobre a oferta de produtos e serviços.
- E determinar as políticas organizacionais.

Questão 30

Os bons princípios de gestão indicam que se deve buscar a máxima eficácia e eficiência no uso de recursos, o que significa

- A atingir a efetividade.
- B alcançar o objetivo inicial.
- C usar o mínimo possível de recursos na tarefa.
- D dar ênfase ao alcance da meta, que é o princípio da eficácia.
- E dar ênfase aos resultados, que é o princípio da eficiência.

Questão 31

Uma fila será formada por 4 homens e 4 mulheres. Assinale a opção que apresenta o número de maneiras possíveis de se organizar essa fila tal que as pessoas de sexo oposto fiquem intercaladas.

- A 70
- B 576
- C 1.152
- D 1.680
- E 40.320

Questão 32

Quando chegam ao posto de saúde, os pacientes recebem senha de atendimento, de forma aleatória, consistindo de um número que varia de 1 a 50. Nessa situação, a probabilidade de o primeiro paciente a receber uma senha com número múltiplo de 3 ou de 7 é igual a

- A 23/50.
- B 21/50.
- C 16/50.
- D 7/50.
- E 2/50.

Questão 33

O setor de comunicação da prefeitura publicou um vídeo na Internet que, no primeiro dia, teve 4.096 visualizações e, em cada dia subsequente, o número de visualizações registradas era sempre a metade do número do dia anterior. Nesse caso, ao final do 10.º dia, a quantidade total de visualizações que o vídeo obteve foi igual a

- A 4.
- B 8.
- C 8.176.
- D 8.184.
- E 8.188.

Questão 34

Uma empresa verificou que só haverá lucro na venda de 100 unidades de determinado produto se o seu preço p satisfizer à desigualdade $-10p^2 + 480p - 4.320 > 0$. Nesse caso, para que a empresa registre lucro na venda do produto, é necessário que

- A R\$ 12,00 < p < R\$ 36,00.
- B $p =$ R\$ 1.440,00.
- C $p > 0$.
- D $p >$ R\$ 36,00.
- E $0 < p <$ R\$ 12,00.

Questão 35

Uma empresa de hotelaria irá construir bangalôs em forma de hexágonos regulares com lados de tamanho igual a 4 metros. Desse modo, a área de cada um desses bangalôs será de

- A $6\sqrt{3}$ m².
- B $8\sqrt{3}$ m².
- C $96\sqrt{3}$ m².
- D $24\sqrt{3}$ m².
- E $48\sqrt{3}$ m².

Questão 36

Se, durante horários de fluxo intenso em um hospital, 16 médicos são capazes de realizar o atendimento de 96 pacientes em 2 horas, então o tempo necessário para que 10 médicos sejam capazes de atender 270 pacientes é de

- A $\frac{4}{9}$ h.
- B 27 h.
- C $\frac{225}{64}$ h.
- D 6 h.
- E 9 h.

Questão 37

Em um restaurante, os amigos Carlos, Mariana e Marcelo pediram um peixe assado para o jantar. Carlos comeu $\frac{7}{20}$ do peixe, Mariana comeu $\frac{3}{10}$ do peixe, e Marcelo comeu 15% do peixe. Apesar de todos terem comido, ainda sobraram 315 g do peixe. Nessa situação, o peixe servido aos amigos tinha

- A 567 g.
- B 2.100 g.
- C 1.575 g.
- D 1.050 g.
- E 900 g.

Questão 38

Um vendedor na praia vende o que ele chama de guloseima gelada matematicamente perfeita: uma casquinha de biscoito de chocolate, recheada de sorvete de creme e acrescida de uma semibola de sorvete de morango. Conforme ilustra a figura a seguir, a casquinha de biscoito tem o formato de um cone circular reto, com raio de 3 cm e altura de 11 cm, e o sorvete de morango tem a forma de uma semiesfera com raio de 3 cm sobre a base do cone.



A partir das informações precedentes, é correto afirmar que a área superficial total dessa guloseima é igual a

- A $(18\pi + 3\pi\sqrt{130})$ cm².
- B $(27\pi + 3\pi\sqrt{130})$ cm².
- C 18π cm².
- D 69π cm².
- E 33π cm².

Questão 39

$$\begin{cases} 2x - 3y + z = 1 \\ x + 2y - z = 0 \\ 4x + y - z = 1 \end{cases}$$

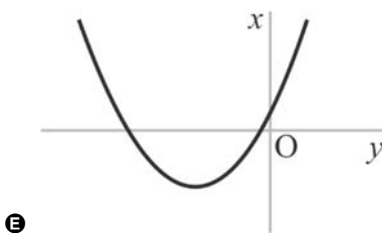
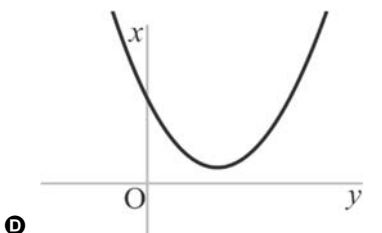
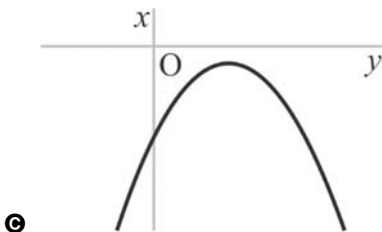
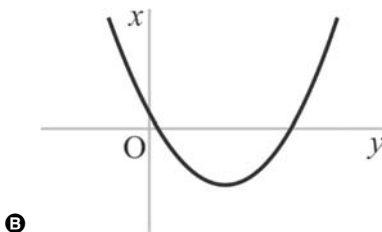
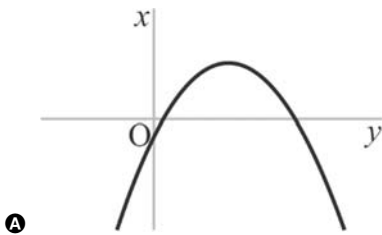
A solução do sistema linear apresentado acima é dada por

- A $x = 2, y = 1$ e $z = 0$.
- B $x = 1, y = \frac{3}{2}$ e $z = 1$.
- C $x = 1, y = 1$ e $z = 3$.
- D $x = \frac{1}{4}, y = 1$ e $z = 2$.
- E $x = 1, y = 2$ e $z = 5$.

Espaço livre

Questão 40

Assinale a opção que corresponde ao gráfico da função $f(x) = -12x + 3x^2 + 3$, no plano xOy .

**Questão 41**

O exercício da cidadania, como posto na Constituição Federal, garante o direito à

- I vida.
- II liberdade.
- III igualdade.
- IV segurança.
- V propriedade.

Assinale a opção correta.

- A** Apenas os itens I, II e IV estão certos.
- B** Apenas os itens I, II e V estão certos.
- C** Apenas os itens II, III e IV estão certos.
- D** Apenas os itens I, III, IV e V estão certos.
- E** Todos os itens estão certos.

Questão 42

Compete à União, aos estados e ao Distrito Federal legislar concorrentemente sobre

- A** desapropriação.
- B** procedimentos em matéria processual.
- C** radiodifusão.
- D** trânsito.
- E** transporte.

Questão 43

Conforme a Constituição Federal, é crime inafiançável

- A** a lesão corporal dolosa.
- B** a extorsão.
- C** o homicídio.
- D** o roubo.
- E** o tráfico ilícito de entorpecentes.

Questão 44

Em caso de limitação da liberdade de locomoção por ato ilegal de autoridade pública, cabe, para proteger o direito de locomoção,

- A** tutela de urgência.
- B** medida protetiva.
- C** mandado de segurança individual.
- D** *habeas corpus*.
- E** *habeas data*.

Questão 45

O indivíduo autuado em flagrante pela prática de um crime não poderá ser considerado culpado até o trânsito em julgado de sentença penal condenatória, em razão do princípio

- A** da legalidade estrita.
- B** do devido processo legal.
- C** da presunção de inocência.
- D** da ampla defesa.
- E** da anterioridade penal.

Questão 46

A remuneração dos servidores públicos poderá ser alterada por

- A** portaria.
- B** resolução.
- C** lei específica.
- D** regulamento.
- E** ato administrativo da autoridade competente.

Questão 47

De acordo com a Constituição Federal, se um servidor público praticar ato de improbidade administrativa, ele estará sujeito a

- A** demissão.
- B** suspensão.
- C** advertência.
- D** perda dos direitos políticos.
- E** perda da função pública.

Questão 48

Segundo a Constituição Federal, o servidor público ocupante de cargo extinto, até o seu aproveitamento em outro cargo, será

- A** colocado em disponibilidade.
- B** readaptado.
- C** reconduzido ao cargo anteriormente ocupado.
- D** reintegrado em cargo anteriormente ocupado.
- E** transferido para outro órgão do mesmo Poder.

Questão 49

Os recursos minerais encontrados no subsolo de um terreno localizado em Camaçari serão considerados bens

- A** da União.
- B** do estado da Bahia.
- C** do município de Camaçari.
- D** da União, do estado da Bahia e do município de Camaçari, conjuntamente.
- E** da União e do estado da Bahia, conjuntamente.

Questão 50

Decretar o estado de calamidade pública de âmbito nacional compete

- A** ao Congresso Nacional.
- B** à Câmara dos Deputados.
- C** ao Senado Federal.
- D** ao presidente da República.
- E** ao ministro da Justiça.

Espaço livre