

PREFEITURA MUNICIPAL DE SANTA MARIA DE JETIBÁ/ES

CONCURSO PÚBLICO EDITAL Nº 01/2023



ENGENHEIRO CIVIL

Tarde

Tipo 1 - BRANCA

Organizadora:



CONHECIMENTOS BÁSICOS

LÍNGUA PORTUGUESAEntenda o que realmente é a Síndrome de *Burnout*

Herbert J. Freudenberger nasceu em 1926, em *Frankfurt*, Alemanha. Quando os nazistas ascenderam ao poder, em 1933, sua família conseguiu enviá-lo aos Estados Unidos com um passaporte falso. Por um tempo, o garoto teve que se virar sozinho, nas ruas de *Nova York*, até encontrar abrigo na casa de um primo mais velho. Suas ótimas notas na escola lhe garantiram uma vaga na Faculdade do *Brooklyn*, onde cursou psicologia.

Fascinado pelo conceito, e relembando a época em que ele mesmo dormia na rua, o psicólogo abriu sua própria *free clinic* em *Nova York*, com foco em atender dependentes químicos. *Freudenberger* conciliava o trabalho voluntário com os atendimentos em seu consultório, que lhe tomavam 10 horas por dia. Mesmo assim, fazia a dupla jornada todas as noites, de segunda a sexta.

Não demorou para ficar claro que essa rotina não era nada saudável. “Os outros voluntários da clínica apresentavam os mesmos problemas. Os próprios funcionários procuravam *Freudenberger* com quadros de “depressão, apatia e agitação”. Quem era cuidador acabava virando paciente.

Nos anos seguintes, *Freudenberger* se dedicou a estudar o fenômeno. Mas, antes de tudo, precisava de um nome para esse padrão de sintomas. A solução foi emprestar uma gíria que era usada por seus próprios pacientes para descrever a sensação devastadora que o abuso de drogas deixa: “*burnout*”, do verbo *to burn*, “queimar”. Em português, significa “esgotamento”. Assim como um fósforo que queimou até o final, os dependentes químicos se sentiam exauridos, sem energia alguma, na ressaca dos narcóticos. Como era mais ou menos assim que os profissionais exaustos se descreviam, o psicólogo importou a gíria de rua para o meio acadêmico.

Freudenberger então começou a procurar pelo que chamava de “*burnout* ocupacional”. E onde olhava, encontrava. Médicos, enfermeiros, policiais, professores, bibliotecários – o *burnout* parecia absolutamente generalizado. Há 40 anos, o termo ainda era acadêmico. E permaneceu assim por décadas. Falava-se o tempo todo em “estresse”, mas não em algo tão específico quanto o *burnout*, o esgotamento causado exclusivamente pelo trabalho.

O termo cunhado por ele está na ponta da língua de todo mundo. Uma pesquisa da *Deloitte* descobriu que 77% dos trabalhadores americanos afirmam já ter passado por um quadro de *burnout*, considerando apenas o emprego atual. No começo do ano, a Organização Mundial da Saúde incluiu oficialmente a Síndrome de *Burnout* na Classificação Internacional de Doenças (CID-11), chamando atenção global para o tema.

Se em 1980 o incêndio parecia “estar se espalhando”, hoje, pelo jeito, já tomou a floresta inteira. Mesmo assim, a pergunta que *Freudenberger* fez sobre o porquê do fenômeno segue sem respostas claras.

A ideia de que trabalhar demais causa esgotamento não tem nada de nova. Muito antes de *Freudenberger* teorizar o *burnout*, a medicina já tinha o termo “neurastenia” para descrever quadros de exaustão emocional, muitas vezes ligados a jornadas de trabalho excessivas. Acontece que a neurastenia era um termo guarda-chuva, usado para diagnosticar qualquer quadro de cansaço ou tristeza, independentemente da origem do problema.

Mas o que sabemos hoje sobre o assunto é em grande parte fruto do trabalho de outra profissional, a psicóloga *Christina Maslach*, da Universidade da Califórnia. “*Burnout* é uma síndrome conceituada como resultante do estresse crônico no local de trabalho que não foi gerenciado com sucesso”, define a CID-11. A descrição é curta e grossa, mas só dela já dá para tirar conclusões importantes.

A primeira: *burnout* não é uma doença ou condição médica. É diferente, por exemplo, de um quadro de depressão, que pode ser tratado via medicação e terapia. Trata-se de uma “síndrome”, ou seja, de um conjunto de sintomas.

A segunda: o *burnout* é um “fenômeno ocupacional”. Significa que o termo só se aplica a cenários ligados ao trabalho. Não existe *burnout*, ao menos com essa denominação, em outras áreas da vida. Ele está sempre ligado ao ambiente de trabalho. É uma condição ambiental. Para solucioná-la, não basta terapia e medicação.

A terceira: o *burnout* nada mais é do que um quadro de estresse, que, sem resolução por um longo período de tempo, tornou-se crônico. Para entender o que é *burnout*, então, é preciso compreender primeiro o que é estresse.

“O estresse é qualquer situação que requer uma adaptação, seja ela positiva ou negativa. Uma promoção no trabalho ou o nascimento de um filho são situações que causam estresse, mas, em geral, são positivas. Uma demissão requer adaptação, e é negativa”, explica Ana Maria Rossi, presidente da *International Stress Management Association* no Brasil (ISMA-BR). Ou seja: o estresse requer esforço para nos adaptarmos a novas condições do ambiente, sejam elas boas ou ruins.

Por isso o *burnout* não pode ser considerado uma doença. Trata-se de um quadro de estresse permanente. Se o ambiente sempre exige que tenhamos que abrir mão de algo ou gastar energia para resolver algum impasse, ficamos inevitavelmente esgotados. Repita isso diariamente por seis meses, mais ou menos, e você terá um quadro crônico – o *burnout*.

(Disponível em: <https://vocesa.abril.com.br/carreira/>. Fragmento.)

Questão 01

Considerando os dois parágrafos iniciais, é correto afirmar que:

- A) Trata-se de uma breve narrativa sobre a vida de *Herbert J. Freudenberger*.
- B) É um trecho argumentativo, visto que se trata de um texto dissertativo-argumentativo.
- C) O trecho é expositivo em que o autor sintetiza informações sobre de *Herbert J. Freudenberger*.
- D) Trata-se de um trecho predominantemente descritivo com o objetivo apresentar fatos da vida de *Herbert J. Freudenberger*.

Questão 02

Assinale a alternativa cujo valor semântico atribuído à palavra sublinhada está correto.

- A) “O termo cunhado por ele está na ponta da língua de todo mundo.” (6º§) – marcado
- B) “Assim como um fósforo que queimou até o final, os dependentes químicos se sentiam exauridos, sem energia alguma, [...]” (4º§) – realizados
- C) “Quando os nazistas ascenderam ao poder, em 1933, sua família conseguiu enviá-lo aos Estados Unidos com um passaporte falso.” (1º§) – descenderam
- D) “Fascinado pelo conceito, e relembrando a época em que ele mesmo dormia na rua, o psicólogo abriu sua própria free clinic em Nova York, com foco em atender dependentes químicos.” (2º§) – desencorajado

Questão 03

Assinale a alternativa cuja palavra sublinhada, quanto à morfologia, está corretamente classificada.

- A) “Há 40 anos, o termo ainda era acadêmico.” (5º§) – preposição
- B) “Por um tempo, o garoto teve que se virar sozinho, [...]” (1º§) – numeral
- C) “[...] até encontrar abrigo na casa de um primo mais velho.” (1º§) – conjunção
- D) “Freudenberger então começou a procurar pelo que chamava de ‘burnout ocupacional’.” (5º§) – advérbio

Questão 04

A ligação harmoniosa entre as partes do texto é fundamental para a compreensão do que está escrito. A coesão anafórica é um dos recursos que contribuem para essa ligação harmoniosa. Todos os segundos termos sublinhados a seguir são exemplos de coesão anafórica dos anteriormente sublinhados, EXCETO:

- A) “[...] o burnout parecia absolutamente generalizado. Há 40 anos, o termo ainda era acadêmico.” (5º§)
- B) “Freudenberger conciliava o trabalho voluntário com os atendimentos em seu consultório, que lhe tomavam 10 horas por dia.” (2º§)
- C) “‘Burnout é uma síndrome conceituada como resultante do estresse crônico no local de trabalho que não foi gerenciado com sucesso’ [...]” (9º§)
- D) “A solução foi emprestar uma gíria que era usada por seus próprios pacientes para descrever a sensação devastadora que o abuso de drogas deixa: ‘burnout’ [...]” (4º§)

Questão 05

O uso do vocábulo “onde” em: “Suas ótimas notas na escola lhe garantiram uma vaga na Faculdade do Brooklyn, onde cursou psicologia.” (1º§) se justifica por ser:

- A) Pronome relativo.
- B) Advérbio de lugar.
- C) Advérbio de modo.
- D) Advérbio interrogativo.

Questão 06

O uso das vírgulas em “[...] o garoto teve que se virar sozinho, nas ruas de Nova York, até encontrar abrigo na casa de um primo mais velho” (1º§), se justifica pelo mesmo motivo que em:

- A) “Trata-se de uma ‘síndrome’, ou seja, de um conjunto de sintomas.” (10º§)
- B) “Os próprios funcionários procuravam Freudenberger com quadros de ‘depressão, apatia e agitação.’” (3º§)
- C) “[...] explica Ana Maria Rossi, presidente da International Stress Management Association no Brasil (ISMA-BR) [...]” (13º§)
- D) “Quando os nazistas ascenderam ao poder, em 1933, sua família conseguiu enviá-lo aos Estados Unidos com um passaporte falso.” (1º§)

Questão 07

Em relação à regência dos verbos “dedicar” e “estudar” em “*Nos anos seguintes, Freudenberger se dedicou a estudar o fenômeno.*” (4º§), assinale a afirmativa correta.

- A) Os dois verbos são intransitivos.
- B) “Dedicar” é transitivo indireto e “estudar” é transitivo direto.
- C) O primeiro é transitivo direto e o segundo é transitivo indireto.
- D) Os dois verbos recebem a mesma classificação: transitivo direto.

Questão 08

Em “*Assim como um fósforo que queimou até o final, os dependentes químicos se sentiam exauridos, sem energia alguma, na ressaca dos narcóticos.*” (4º§), a expressão “assim como” dá ao trecho uma ideia de

- A) Conclusão.
- B) Contradição.
- C) Comparação.
- D) Causa e consequência.

Questão 09

O termo sublinhado no trecho “[...] o psicólogo importou a gíria de rua para o meio acadêmico.” (4º§), exerce a mesma função sintática em:

- A) “A descrição é curta e grossa, mas só dela já dá para tirar conclusões importantes.” (9º§)
- B) “Suas ótimas notas na escola lhe garantiram uma vaga na Faculdade do Brooklyn, onde cursou psicologia.” (1º§)
- C) “Quando os nazistas ascenderam ao poder, em 1933, sua família conseguiu enviá-lo aos Estados Unidos com um passaporte falso.” (1º§)
- D) “Fascinado pelo conceito, e lembrando a época em que ele mesmo dormia na rua, o psicólogo abriu sua própria free clinic em Nova York [...]” (2º§)

Questão 10

Os conectivos são importantes para determinar a coesão e a coerência textual. O emprego adequado deles garante ao texto a correta relação entre as palavras e as partes do texto. Assim, o conectivo “mas” em “*Mas o que sabemos hoje sobre o assunto é em grande parte fruto do trabalho de outra profissional, a psicóloga Christina Maslach, da Universidade da Califórnia.*” (9º§) estabelece uma relação de oposição com o parágrafo anterior, podendo ser substituído, sem alteração de sentido, por:

- A) Assim.
- B) Contudo.
- C) Dessa forma.
- D) Por conseguinte.

RACIOCÍNIO LÓGICO-MATEMÁTICO

Questão 11

Os 214 alunos do curso de matemática de determinada universidade foram questionados a respeito da aprovação em três disciplinas do ciclo básico: cálculo I; iniciação à matemática; e, solução de problemas. Alguns resultados desta pesquisa são descritos a seguir:

- 96 alunos aprovaram em cálculo I;
- 38 alunos aprovaram em cálculo I e iniciação à matemática;
- 122 alunos aprovaram em iniciação à matemática;
- 28 alunos aprovaram em cálculo I e solução de problemas;
- 84 alunos aprovaram em solução de problemas; e,
- 32 alunos aprovaram em iniciação à matemática e solução de problemas.

Considerando que os alunos aprovaram em, pelo menos, uma das disciplinas citadas, é correto afirmar que:

- A) 12 alunos aprovaram nas três disciplinas.
- B) 140 pessoas aprovaram em apenas uma disciplina.
- C) 68 pessoas aprovaram em apenas duas disciplinas.
- D) 64 pessoas aprovaram em iniciação à matemática, mas não aprovaram em cálculo I e nem em solução de problemas.

Questão 12

Na páscoa de 2022, 6 amigas se juntaram para fazer ovos de páscoa. Trabalhando em ritmo constante, elas produziam 60 ovos de páscoa em 6 horas diariamente. No ano que vem, elas desejam convidar novas pessoas que possuam o mesmo ritmo de produção para ajudá-las na produção de ovos de páscoa. Além disso, elas pretendem aumentar a carga horária de trabalho diariamente em 25% e a produção diária para 100 ovos de páscoa. Para atender a essas demandas no próximo ano, elas precisarão convidar quantas pessoas?

- A) 2.
- B) 3.
- C) 4.
- D) 5.

Questão 13

Gabriel possui 4 livros de estatística e 3 livros de linguagens de programação herdados de sua graduação em ciência de dados. Seu irmão Pedro pretende pegar emprestado, no máximo, 3 desses livros para desenvolver seu projeto de pesquisa, de modo que tenha, pelo menos, um livro de cada área. Considerando que todos os livros de Gabriel são distintos, de quantas formas diferentes Pedro pode pegar os livros emprestado?

- A) 12.
- B) 30.
- C) 42.
- D) 54.

Questão 14

Considere que as seguintes premissas são verdadeiras:

- I. Se Celso não é autor de livros, então Miranda não é psicólogo.
- II. Se Miranda não é psicólogo, então Priscila é jogadora de futebol.
- III. Se Priscila não é jogadora de futebol, então Igor é professor.
- IV. Igor não é professor.

Com base nestas premissas, é possível afirmar que:

- A) Miranda é psicólogo.
- B) Celso é autor de livros.
- C) Miranda não é psicólogo.
- D) Priscila é jogadora de futebol.

Questão 15

Na primeira rodada da seleção brasileira masculina na Liga Mundial de Vôlei em 2006, o Brasil estreou com uma vitória fora de casa sobre a Argentina com um placar de 3 a 0. Neste jogo, o Brasil fez 7 pontos de ataque a mais que a Argentina e, se tivesse feito o dobro de pontos de ataque que de fato fez, a Argentina teria feito 20 pontos de ataque a mais que o Brasil. Considerando estas informações, qual o valor da multiplicação dos pontos de ataque efetuados pelas duas seleções neste jogo?

- A) 469.
- B) 688.
- C) 756.
- D) 918.

INFORMÁTICA

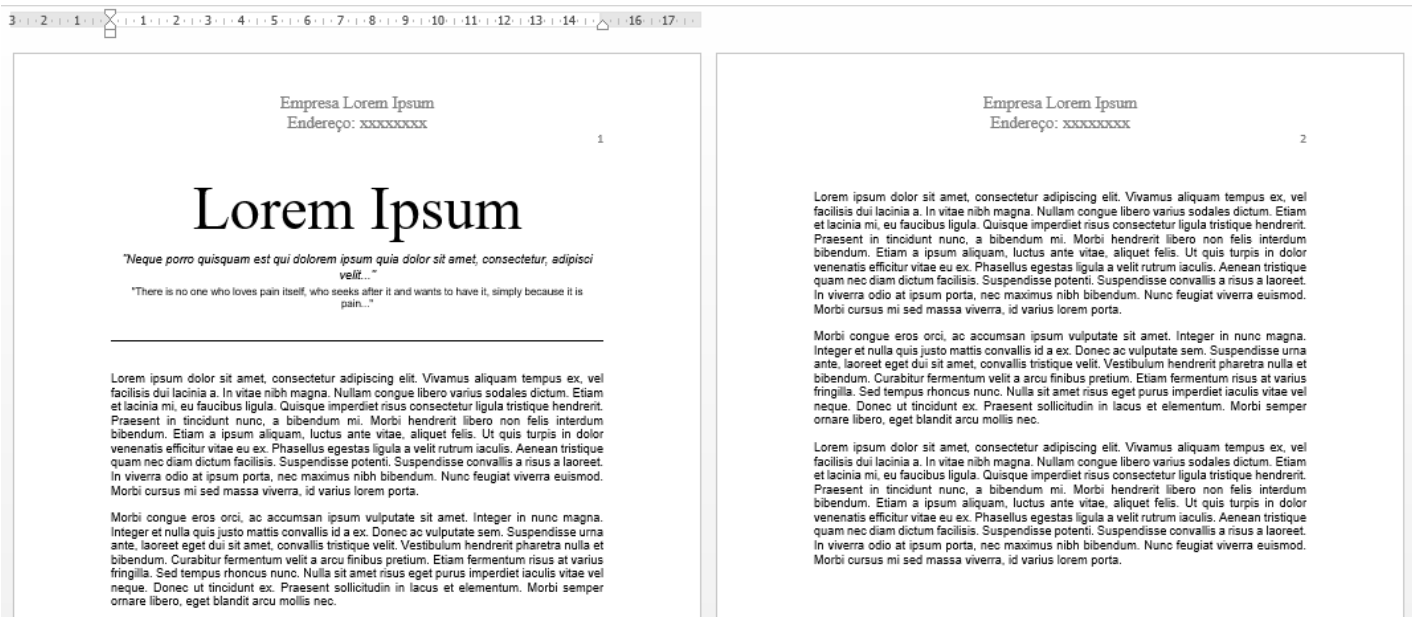
Questão 16

As memórias em um computador desempenham papéis cruciais no funcionamento e desempenho do sistema. Existem diferentes tipos de memória, cada uma projetada para finalidades específicas. A memória de armazenamento temporária onde os dados frequentemente acessados são armazenados para acesso mais rápido trata-se da:

- A) RAM.
- B) ROM.
- C) Cache.
- D) Virtual.

Questão 17

Analise o seguinte documento produzido no *Word 2013*. Na parte superior do arquivo, foi criado um cabeçalho para o documento para colocar o nome da empresa, o endereço e o número da página.



Quais são os passos para inserir um cabeçalho em um documento no *Word 2013*?

- A) Acessar a guia “*Layout da Página*”; clicar em “*Configurar Página*”; e, em seguida, escolher a opção “*Inserir Cabeçalho*”.
- B) Ir para a guia “*Inserir*”; selecionar a opção “*Cabeçalho*”; escolher um formato de cabeçalho; e, editar conforme necessário.
- C) Selecionar a guia “*Revisão*”; clicar em “*Inserir*”; e, em seguida, escolher a opção “*Cabeçalho*” para adicionar um cabeçalho ao documento.
- D) Não existe esta opção no *Word*. Para inserir um cabeçalho, basta inserir o nome da empresa, endereço e número da página em cada página.

Questão 18

Na tabela a seguir, feita no *Excel 2013*, ao selecionar uma célula, o retângulo que a envolve, no seu canto direito inferior aparece um pequeno “quadrado” como apresentado na imagem:

	A	B	C	D
1	Aluno	Nota1	Nota2	Total
2	João	85	90	175
3	Maria	78	88	
4	José	92	95	

A finalidade deste item é:

- A) Exibir ou editar a fórmula da célula em uma planilha.
- B) Aplicar ou remover bordas de célula em uma planilha.
- C) Copiar dados, fórmulas ou para preencher células adjacentes com uma série de dados.
- D) Aplicar a mesma formatação, como cor, tamanho e estilo do tipo de letra ou estilo de limite a múltiplas partes de texto ou gráficos.

Questão 19

Qual é a função principal de um *modem* em uma configuração de rede residencial?

- A) Conectar diferentes redes locais.
- B) Gerenciar o tráfego de dados dentro de uma rede local.
- C) Fornecer energia elétrica para os dispositivos conectados à rede.
- D) Converter os sinais digitais do computador em sinais analógicos para transmissão via linha telefônica ou cabo.

Questão 20

A *internet*, uma rede global de comunicação eletrônica que conecta milhões de computadores em todo o mundo, possui termos específicos que descrevem suas características e funcionalidades. Entre esses termos está a *World Wide Web* (*www* ou, simplesmente, *web*), cujo significado é “teia de amplitude mundial”. Embora seja apenas um dos elementos nessa vasta rede, a *web* destaca-se como a fonte mais significativa para divulgação e consulta de informações disponíveis pela *internet*. Além desse termo, há outros vocabulários específicos utilizados neste contexto digital. Sobre conceitos da *internet*, analise as afirmativas a seguir.

- I. Um *link* é um ponto de conexão entre partes de um *site* ou de um *site* para outro.
- II. A *hashtag* é qualquer conjunto formado por palavra-chave (frase ou palavra relevante) juntamente ao sinal tipográfico da “Arroba” (@) com o que se identificam conteúdos (informações, tópicos, discussões) relacionados com determinado tema ou assunto específico.
- III. Um provedor é uma empresa que provê o acesso dos interessados à *internet*.
- IV. Os *sites* utilizam extensões de domínio para identificar o propósito, a natureza, ou a origem de um *site*. Por exemplo: a extensão “.gov” é usada para identificar *sites* e recursos *on-line* pertencentes aos governos.

Está correto o que se afirma apenas em

- A) I e IV.
- B) II e III.
- C) I, II e IV.
- D) I, III e IV.

CONHECIMENTOS ESPECÍFICOS

CONHECIMENTOS DE DIREITO ADMINISTRATIVO E CONSTITUCIONAL

Questão 21

Silvana, presidente da Associação de Moradores do Bairro X, pretende realizar reunião, em determinada praça pública de seu município, visando reivindicar melhorias de infraestrutura, de lazer e segurança. Para isso, convoca os integrantes da referida associação mediante a publicação de diversos *posts* em redes sociais, inclusive nos canais da Prefeitura e do Batalhão de Polícia Militar do município, os quais ganharam grande visibilidade. Ocorre que a Associação de Moradores do Bairro Y agendou previamente uma reunião para o mesmo local, data e horário, também com grande engajamento e visibilidade nas redes sociais, pelos mesmos meios. Sobre o caso hipotético em apreço, de acordo com a Constituição Federal de 1988 e o entendimento do Supremo Tribunal Federal, assinale a afirmativa correta.

- A) Ambas as reuniões não atendem aos requisitos necessários, pois não foi realizado aviso formal à autoridade competente.
- B) As associações, previamente à realização das reuniões, deverão buscar autorização das autoridades competentes, mediante obtenção do respectivo alvará.
- C) Por se tratar de local público, as associações deverão compartilhar o local para a realização das reuniões, tendo em vista o direito de reunião constitucionalmente assegurado.
- D) A ampla divulgação dada supre a necessidade de prévio aviso formal à autoridade competente, mas a reunião da Associação do Bairro X poderá ser impedida, pois não pode frustrar reunião anteriormente convocada para o mesmo local, data e horário.

Questão 22

A Constituição Federal de 1988 delimita, em seu Título IV (Organização dos Poderes), as diretrizes gerais de atuação das principais instituições e autoridades. Tais normas acabam servindo de parâmetro para atuação dos Poderes concebidos no âmbito dos municípios, de modo que é imprescindível ao futuro servidor público conhecer o papel desempenhado por cada instituição e sua relevância prática no cotidiano da sociedade. Sobre o tema, assinale a afirmativa correta.

- A) A divisão dos Poderes em todos os entes federativos é tripartite, compondo suas estruturas os Poderes Executivo, Legislativo e Judiciário.
- B) Embora participe da discussão e tramitação das leis, o chefe do Poder Executivo não possui a prerrogativa de elaborar projetos de lei, sob pena de usurpar as funções do Poder Legislativo.
- C) O Poder Legislativo adota sistema bicameral, de inspiração estadunidense, e poderá formar Comissões Parlamentares de Inquérito que, atipicamente, poderão investigar, julgar e condenar autoridades que tenham incorrido em irregularidade no desempenho da função pública.
- D) O Tribunal de Contas tem como uma de suas funções julgar as contas dos administradores e demais responsáveis por dinheiros, bens e valores públicos da administração direta e indireta, incluídas as fundações e sociedades instituídas e mantidas pelo Poder Público federal, e as contas daqueles que derem causa a perda, extravio ou outra irregularidade de que resulte prejuízo ao erário público.

Questão 23

A Ordem Social, tal qual concebida pela Carta Magna de 1988, visa a conceber mecanismos de organização e efetivação dos direitos sociais, com o objetivo de atingir o bem-estar coletivo e a justiça social. Tendo em vista o tema delineado, analise as afirmativas a seguir.

- I. Uma das formas de financiamento da seguridade social são as contribuições sociais do trabalhador, podendo ser adotadas alíquotas progressivas de acordo com o valor do salário de contribuição.
- II. As instituições privadas poderão participar de forma complementar do Sistema Único de Saúde, segundo diretrizes deste, mediante contrato de direito público ou convênio, tendo preferência as entidades filantrópicas e as sem fins lucrativos.
- III. Deverá o Estado do Espírito Santo atuar, prioritariamente, no ensino fundamental e médio.

Está correto o que se afirma em

- A) I, II e III.
- B) I, apenas.
- C) III, apenas.
- D) I e II, apenas.

Questão 24

Carlos, servidor municipal de Santa Maria de Jetibá, recebe em seu departamento quatro processos administrativos de licitações e contratos promovidos pela municipalidade, de acordo com a Lei Federal nº 14.133/2021. Tendo em vista as orientações contidas nos referidos processos descritos a seguir, assinale a afirmativa correta.

- A) É nulo e de nenhum efeito o contrato verbal com a Administração, em qualquer hipótese.
- B) Um processo de contratação direta mediante dispensa de licitação prescinde de justificativa de preço, uma vez que é inviável a competição.
- C) Para a contratação de determinado serviço, a Administração poderá optar, dentre outras modalidades, pela concorrência, carta convite ou tomada de preços.
- D) Caso haja dispensa de licitação indevida ocorrida com dolo, fraude ou erro grosseiro, o contratado e o agente público responsável responderão solidariamente pelo dano causado ao erário, sem prejuízo de outras sanções legais cabíveis.

Questão 25

Marque **V** para as afirmativas verdadeiras e **F** para as falsas.

- () O mero exercício da função ou desempenho de competências públicas, sem comprovação de ato doloso com fim ilícito, afasta a responsabilidade por ato de improbidade administrativa.
- () De acordo com a Lei que regula o Processo Administrativo na Administração Federal (Lei nº 9.784/1999), a Administração Pública obedecerá, dentre outros, aos princípios da legalidade, finalidade, motivação, razoabilidade, proporcionalidade, moralidade, ampla defesa, contraditório, segurança jurídica, interesse público e eficiência.
- () As normas gerais contidas na Lei Geral de Proteção de Dados são de interesse nacional e devem ser observadas pela União, Estados, Distrito Federal e Municípios.
- () O pedido de informações, com base na Lei de Acesso à Informação, deverá conter, dentre outros dados, a identificação do requerente e os motivos determinantes da solicitação de informações.

A sequência está correta em

- A) F, F, F, V.
- B) V, V, V, F.
- C) V, F, F, V.
- D) F, V, V, F.

LEGISLAÇÃO ESPECÍFICA

Questão 26

Tendo em vista as regulamentações dispostas na Lei Complementar nº 331/1997, a licença para tratamento de saúde será a pedido ou *ex-officio*; desse modo, sobre a licença para tratamento de saúde, assinale a afirmativa correta.

- A) Se recusar à inspeção médica ensejará na perda total do vencimento e abertura de inquérito administrativo.
- B) No curso de licença, o servidor poderá exercer atividade laboral remunerada, desde que fora das dependências da Administração Pública.
- C) O atestado médico e o laudo da junta deverão referenciar o nome ou a natureza da doença de que sofra o servidor, salvo quando se tratar de lesões produzidas por acidentes em serviço.
- D) A licença para tratamento de saúde de quinze dias dependerá tão somente de atestado médico e, se nova licença médica for requerida, no prazo de trinta dias após o término da licença, por qualquer número de dias, o servidor deverá se submeter à perícia médica do IPS/SMJ.

Questão 27

Tendo em vista que vencimento é a retribuição pelo efetivo exercício do cargo correspondente ao padrão fixado em Lei, de acordo com a Lei Complementar nº 331/1997, NÃO perderá o vencimento do cargo efetivo o servidor:

- A) Quando no exercício de mandato eletivo federal ou estadual.
- B) Nomeado para cargo em comissão, salvo o direito de optar, e o de acumulação legal.
- C) Quando no exercício do mandato de vereador, desde que não haja compatibilidade de horários com o cargo efetivo.
- D) Quando for reaproveitado dos Governos da União, Estado e de outros Municípios, ressalvada a hipótese de convênio de servidor com ônus.

Questão 28

São tributos municipais os impostos, as taxas e as contribuições de melhoria, decorrentes de obras públicas, instituídos por lei municipal, atendidos os princípios estabelecidos nas Constituições Federal e Estadual e nas normas gerais de direito tributário. Considerando, exclusivamente, a Lei Orgânica Municipal, compete ao Município instituir impostos sobre

- A) importação de produtos estrangeiros.
- B) propriedade predial e territorial urbana.
- C) serviços de qualquer natureza, definidos em lei complementar.
- D) transmissão intervivos a qualquer título, por ato oneroso, de bens imóveis, por natureza ou acessão física e de direitos reais sobre imóveis, exceto os de garantia, bem como cessão de direitos a sua aquisição.

Questão 29

De acordo com a Lei Orgânica do Município, marque V para as afirmativas verdadeiras e F para as falsas.

- () A intervenção do Município, no domínio econômico, terá por objetivo estimular e orientar a produção, assegurando aos munícipes uma existência digna, com a valorização do trabalho humano, conforme ditames da justiça social.
- () O Município assistirá os trabalhadores rurais, os agricultores familiares e os produtores rurais e suas organizações, objetivando proporcionar-lhes, dentre outros benefícios, meios de produção, saúde e bem-estar social.
- () O Município dispensará à microempresa e à empresa de pequeno porte, assim definidas em lei federal, tratamento jurídico diferenciado, visando incentivá-las pela simplificação de suas obrigações administrativas, tributárias, previdenciárias e creditícias ou pela eliminação ou redução destas, por meio de lei.
- () É vedada a acumulação de mais de uma pensão por morte deixada por cônjuge ou companheiro, no âmbito do mesmo Regime de Previdência Social, ressalvadas as pensões do mesmo instituidor decorrentes do exercício de cargos acumuláveis na forma do Art. 37 da Constituição Federal.

A sequência está correta em

- A) V, V, V, V.
- B) F, V, F, V.
- C) V, F, V, F.
- D) F, F, F, V.

Questão 30

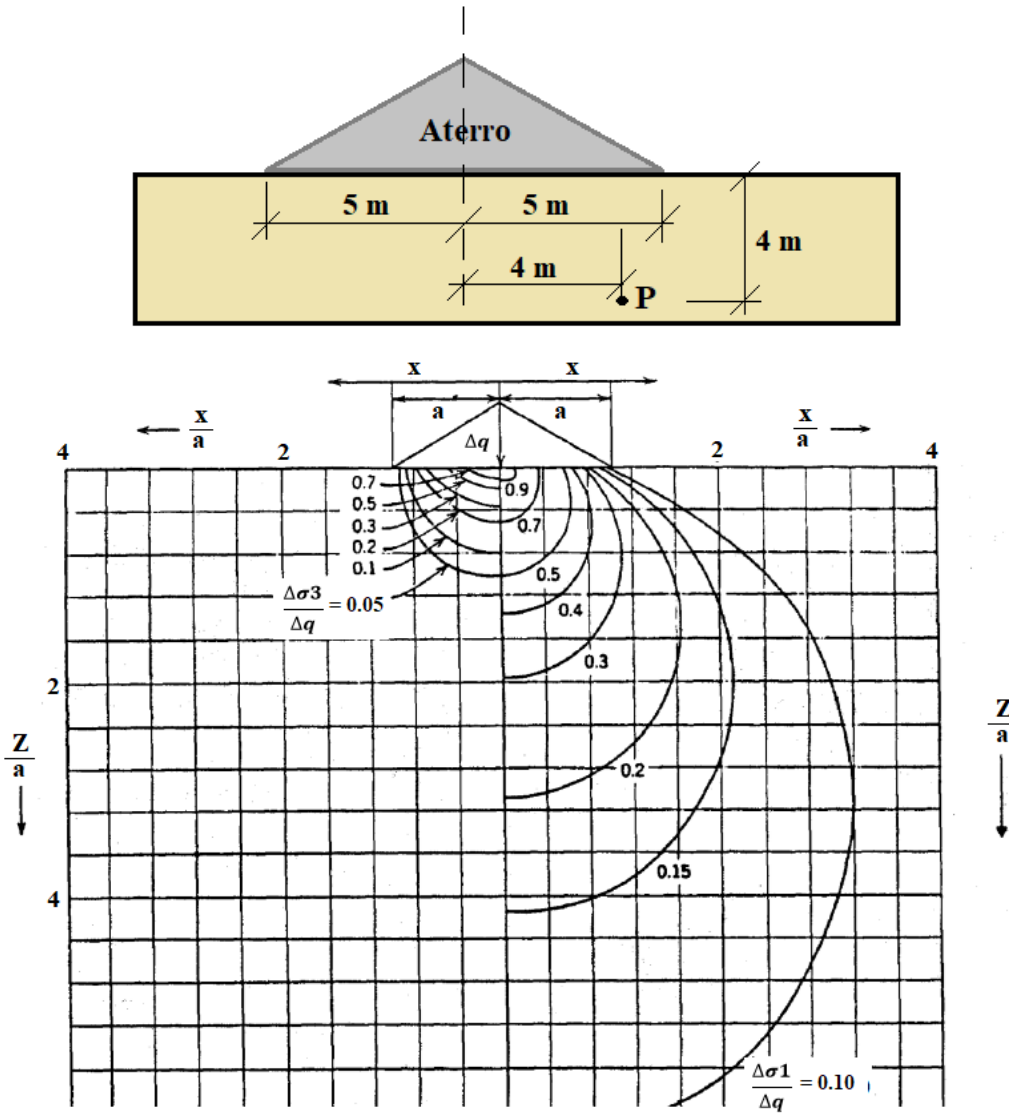
Considerando, exclusivamente, a Lei Orgânica do Município, é competência administrativa comum do Município, da União e do Estado, observadas as Leis Complementares Federais e Estaduais, o exercício das medidas a seguir:

- A) Registrar, acompanhar, fiscalizar e controlar as concessões de direitos de pesquisa e exploração de recursos hídricos, minerais e outros, em seu território, inclusive com direito de participar de seus resultados econômicos e financeiros.
- B) Estabelecer cultos religiosos ou igrejas, subvencioná-los, embaraçar-lhes o funcionamento ou manter com eles ou seus representantes, relações de dependência ou aliança, ressalvada a colaboração de interesse público, mediante autorização legislativa.
- C) Subvencionar ou auxiliar, de qualquer modo, com recursos pertencentes aos cofres públicos, quer pela imprensa, rádio, televisão, *internet*, serviço de auto-falante ou qualquer outro meio de comunicação, propaganda político-partidária e da Administração Pública.
- D) Manter a publicidade de atos, programas, obras, serviços e campanhas de órgãos públicos que não tenham caráter educativo, informativo ou de orientação social, assim como a publicidade da qual constem nomes, símbolos ou imagens que caracterizem promoção pessoal de autoridades ou servidores públicos.

CONHECIMENTOS DO CARGO

Questão 31

Considere um aterro de seção transversal triangular, conforme a figura, gerando uma carga distribuída em forma de triângulo isósceles de comprimento infinito:



Considerando o ábaco, determine a tensão vertical induzida (σ_1) no ponto P utilizando a Solução de *Carothers* para uma tensão na base do aterro de 50 KN/m².

- A) 3 KPa.
- B) 8 KPa.
- C) 15 KPa.
- D) 20 KPa.

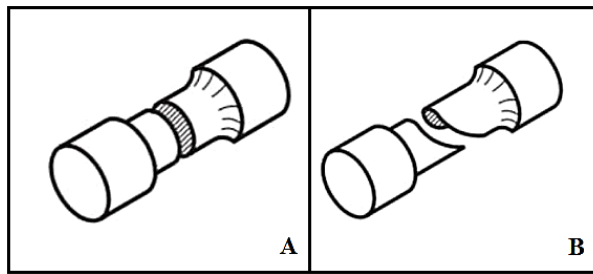
Questão 32

“A NBR 14653 aborda quatro métodos para identificar o valor de um bem, de seus frutos e direitos. O método _____ identifica o valor do bem, alicerçado no seu aproveitamento eficiente, baseado em modelo de estudo de viabilidade técnico-econômica, mediante hipotético empreendimento compatível com as características do bem e com as condições do mercado no qual está inserido, considerando-se cenários viáveis para execução e comercialização do produto.” Assinale a alternativa que completa corretamente a afirmativa anterior.

- A) evolutivo
- B) involutivo
- C) dedutivo indireto
- D) comparativo direto de dados de mercado

Questão 33

Conforme o tipo do material (dúctil ou frágil), as rupturas ocorridas no ensaio de torção variam em forma. As imagens a seguir apresentam dois tipos de fraturas típicas de um ensaio de torção:



Com base nas imagens anteriores, analise as afirmativas a seguir.

- I. Os materiais dúcteis apresentam fratura segundo um plano paralelo à seção transversal do comprimento útil do corpo de prova, conforme ilustração A.
- II. Para materiais de comportamento frágil na torção, a ruptura ocorre de forma não plana (fratura helicoidal), contando o eixo longitudinal, em um ângulo aproximado de 45° se projetar uma linha num plano paralelo ao eixo, conforme ilustração B.
- III. Os materiais frágeis apresentam fratura segundo um plano paralelo à seção transversal do comprimento útil do corpo de prova, conforme ilustração A.
- IV. A ilustração B representa uma fratura de material dúctil gerando deformações elásticas no instante inicial do ensaio, e, após seu limite de escoamento atingido, as deformações tornam-se plásticas, do tipo permanente até a ruptura.

Está correto o que se afirma apenas em

- A) III.
- B) I e II.
- C) I e IV.
- D) III e IV.

Questão 34

Ao contrário do cimento, apesar de ocupar de 60 a 80% do volume do concreto, o agregado costuma ser visto como um material de enchimento inerte e, por isso, não se dá muita importância aos seus possíveis efeitos sobre as propriedades do concreto. Tanto a areia quanto a brita podem exercer uma grande influência sobre a resistência, estabilidade dimensional e durabilidade do concreto, assim como estes possuem papéis relevantes na determinação do custo e trabalhabilidade das misturas de concreto. Assim, não se deve tratar os agregados com menos respeito do que o cimento.

(Mehta P. K. e Monteiro, P. J. M. *Concreto: Microestrutura, Propriedades e Materiais*. São Paulo/SP: IBRACON, 2008; p. 260. Adaptado.)

Sobre os agregados e suas propriedades, analise as afirmativas a seguir.

- I. A resistência à compressão, a resistência à abrasão e o módulo de elasticidade do agregado são propriedades inter-relacionadas que são muito influenciadas pela porosidade. Agregados de origem natural, por exemplo, comumente utilizados para a produção de concreto de densidade normal geralmente são densos e resistentes; portanto, raramente, são fator limitante da resistência e das propriedades elásticas do concreto.
- II. Uma mudança na dimensão máxima de um agregado gráudo com boa distribuição granulométrica de uma dada mineralogia pode ter dois efeitos na resistência do concreto. Com o mesmo consumo de cimento e consistência, dosagens de concreto contendo partículas maiores de agregado requerem maior quantidade de água de amassamento do que as que contêm agregados menores. Dessa forma, agregados menores tendem a formar uma zona de transição na interface mais fraca, contendo mais microfissuras. O efeito resultante variará com a relação água/cimento do concreto e o tipo de tensão aplicada.
- III. A granulometria é uma propriedade que reflete a distribuição dos tamanhos dos grãos de um agregado, tendo efeito considerável sobre a necessidade de pasta de cimento em uma mistura de concreto. A composição granulométrica também evidencia as impurezas físico-químicas do agregado, que é considerado um material deletério a parcela de finos, que passa através da peneira 75 µm por lavagem.

Está correto o que se afirma em

- A) I, II e III.
- B) I, apenas.
- C) I e II, apenas.
- D) II e III, apenas.

Questão 35

Uma laje será concretada com o concreto produzido por betoneira no próprio canteiro e o seu traço em massa deverá ser 1: 3: 4,2 com a/c de 0,6. Quanto aos dados recebidos dos insumos a serem utilizados tem-se que:

Material	Massa específica (g/cm ³)	Massa unitária (Kg/L)
Cimento	3,12	1,42
Areia	2,63	1,50
Brita	2,90	1,40

Com base nesses dados, considerando que a areia armazenada no canteiro tenha uma umidade de 4% com um inchamento médio de 30%, analise as asserções a seguir e a relação proposta entre elas.

I. “Calculando o quantitativo de volume dos agregados para cada saco de cimento para execução concreto em betoneira e, ainda, levando em consideração a umidade e o inchamento do agregado miúdo, serão necessários 130 litros de areia e 150 litros de brita para cada 50 quilos de cimento, além da relação a/c descontando a umidade presente na areia armazenada em canteiro.”

PORQUE

II. “Como há 8 kg de água em cada 130 litros de areia úmida, o que representa, aproximadamente, 8 litros de água, deve-se descontar esse valor da quantidade necessária conforme o traço em massa combinado com volume. Assim, a quantidade de água necessária será os 30 litros da relação a/c menos os 8 litros presentes na areia, dando um total de 22 litros para cada saco de cimento.”

Assinale a alternativa correta.

- A) As asserções I e II são proposições falsas.
- B) A asserção I é uma proposição verdadeira; a II é uma proposição falsa.
- C) A asserção I é uma proposição falsa; a II é uma proposição verdadeira.
- D) As asserções I e II são proposições verdadeiras; a II é uma justificativa correta da I.

Questão 36

Considere um caminhão prestador de serviços de uma prefeitura carregado com areia úmida (cujas propriedades são apresentadas a seguir), percorrendo apenas vias urbanas pavimentadas, passando por uma balança rodoviária, que indica seu peso total como 16,5 toneladas, sendo somente o peso do caminhão igual a 4.500 Kg. Este caminhão faz 8 viagens ao dia totalizando uma média de 20 Km por viagem.

- Massa específica real = 2,60 kg/L;
- Massa unitária seca = 1,40 kg/L;
- Massa unitária úmida = 1,20 kg/L.

O engenheiro civil da prefeitura deverá orçar o serviço usando como base a planilha de custo de composições da SINAPI do seu estado encontrando para cada (m³ x Km) um custo que varia de acordo com o tipo de via e capacidade do caminhão, conforme os itens a seguir:

Código	Descrição	Unidade	Custo unitário (R\$) sem BDI
93590	TRANSPORTE COM CAMINHÃO BASCULANTE DE 10 M ³ , EM VIA URBANA EM LEITO NATURAL	M3XKM	3,15
93588	TRANSPORTE COM CAMINHÃO BASCULANTE DE 10 M ³ , EM VIA URBANA PAVIMENTADA	M3XKM	0,98
93593	TRANSPORTE COM CAMINHÃO BASCULANTE DE 14 M ³ , EM VIA URBANA PAVIMENTADA	M3XKM	0,86

Quanto sairá para a prefeitura o custo deste serviço por dia, utilizando as informações do quadro e, ainda, desconsiderando o BDI e os demais encargos financeiros do serviço?

- A) R\$ 980,00.
- B) R\$ 1.568,00.
- C) R\$ 2.682,00.
- D) R\$ 5.140,00.

Questão 37

A compactação do solo para implantação da pavimentação deve seguir diversas leis e diretrizes impostas pelo DNIT, juntamente com as normativas da ABNT e de execução de cada estado, sendo necessária a realização de ensaios prévios de caracterização do solo e adequação das formas de compactação das camadas a seguir do revestimento asfáltico. Caso essa compactação seja efetuada de maneira incorreta, diversas manifestações patológicas podem surgir como, por exemplo, fissuras no revestimento, recalques (afundamento plástico) em trechos da via e as famosas “painéis”, cavidades formadas no revestimento asfáltico. Sobre a compactação do solo e o método proposto por Proctor e suas derivações, assinale a afirmativa INCORRETA.

- A) No ensaio de Proctor normal, o solo é compactado em três camadas, com 25 golpes em cada uma, distribuídos na área da seção circular do cilindro com dimensões pré-fixadas e soquete em três tamanhos.
- B) Em uma curva de compactação, o solo de material granular, quando está no “ramo seco”, tem, na maioria das vezes, uma estrutura floculada. Com o aumento da umidade a compactação tende a tornar o solo com uma estrutura dispersa, isto é, com uma certa orientação nas partículas.
- C) Os rolos pés de carneiro, recomendados para solos silto-arenosos, têm como característica fundamental a compactação do solo de baixo para cima, exercendo um efeito de amassamento. O uso deste equipamento produz uma superfície irregular ao final da compactação de cada camada, o que permite ótima aderência com a camada subsequente.
- D) Na compactação, o ponto de máximo peso específico seco depende do tipo de solo submetido ao processo de compactação. Solos argilosos apresentam baixos valores de pesos específicos secos máximos e elevadas umidades ótimas. À medida que os grãos ficam maiores, há uma tendência de se encontrar pesos específicos máximos mais elevados e umidades ótimas mais baixas.

Questão 38

O prefeito municipal solicitou ao secretário de planejamento o projeto de uma rede coletora de esgoto sanitário de uma rua residencial. Diante do exposto, o engenheiro contratado iniciou o projeto adotando os seguintes critérios:

- I. O diâmetro mínimo adotado na rede coletora foi de 150 mm e o seu recobrimento mínimo da rede assentada no passeio foi de 70 cm.
- II. Todos os postos de visita (PVs) possuirão tampa de ferro fundido com diâmetro de 60 cm e câmara com dimensão mínima de 80 cm.
- III. A tensão trativa mínima para autolimpeza dos coletores de esgoto será igual a 0,8 Pa sendo a máxima declividade admissível igual 4%.

Foi (foram) utilizado(s) de forma equivocada pelo engenheiro não adotando os padrões técnico-normativos apenas o(s) critério(s)

- A) I.
- B) II.
- C) III.
- D) I e III.

Questão 39

Em uma concretagem de laje, o estagiário ficou responsável por fazer os ensaios de controle de recebimento e aceitação do concreto vindo de caminhões betoneira. Os ensaios realizados foram o da determinação de consistência pelo abatimento de tronco de cone (ensaio 1) e o de resistência à compressão (ensaio 2).

- Ensaio 1: sendo o concreto preparado por empresa de serviços de concretagem, o ensaio de consistência foi realizado pelo estagiário a cada betonada; para isso, o mesmo utilizou o molde tronco de cone preenchendo-o com três camadas de concreto com compactação de vinte e cinco golpes por camada com uso de uma barra com 16 mm de diâmetro.
- Ensaio 2: adotando um controle estatístico por amostragem total, para determinar a resistência à compressão do concreto aos 28 dias, o estagiário definiu que todas as betonadas seriam amostradas e representadas por um exemplar que define a resistência à compressão daquele concreto naquela betonada. Foram adotados no ensaio moldes cilíndricos com dimensões 15 cm x 30 cm, aplicando-se desmoldante para o concreto não aderir as paredes dos moldes. O lançamento e o adensamento dos CPs foram manuais realizados em duas camadas, aplicando-se 25 golpes por camada.

Sobre os ensaios realizados, assinale a afirmativa correta.

- A) Os ensaios 1 e 2 foram programados e realizados corretamente.
- B) O ensaio 1 foi programado e realizado corretamente enquanto que o ensaio 2 foi executado de forma incorreta.
- C) As programações de ambos os ensaios foram realizadas corretamente; porém, suas execuções foram insatisfatórias, não adotando os padrões normativos.
- D) O ensaio 2 foi programado e realizado corretamente enquanto que o ensaio 1 foi planejado corretamente; porém, executado com o número de camadas erradas.

Questão 40

A NBR 13752 trata das perícias de engenharia na construção civil; fixa as diretrizes básicas, conceitos, critérios e procedimentos na realização de perícias de engenharia. Todas as definições estão de acordo com a norma supracitada, EXCETO:

- A) Perícia é atividade que envolve apuração das causas que motivaram determinado evento ou da asserção de direitos.
- B) Decrepitude é a depreciação de um bem pela idade, no decorrer de sua vida útil, em consequência de sua utilização, desgaste e manutenção normais.
- C) Adjudicação é a atividade que envolve a tomada de decisão ou posição entre as alternativas tecnicamente controversas ou que decorrem de aspectos subjetivos.
- D) Vícios redibitórios são vícios ocultos que diminuem o valor da coisa ou a tornam imprópria ao uso a que se destina, e que, se fossem do conhecimento prévio do adquirente, ensejariam pedido de abatimento do preço pago, ou inviabilizariam a compra.

Questão 41

O Tribunal de Contas da União fornece uma série de recomendações básicas para a contratação e fiscalização de obras públicas, que devem ser acompanhadas por profissionais competentes e qualificados em todas as suas etapas. Concluída a licitação, a Administração convocará o licitante vencedor para assinar o contrato, o que deve ocorrer dentro do prazo e das condições estabelecidas. Assim, em relação à etapa de assinatura de contrato para obras públicas pode-se afirmar que:

- A) O prazo para assinatura poderá ser prorrogado uma vez, por qualquer período necessário, desde que por motivo justificado e aceito pela Administração.
- B) No caso de se passarem trinta dias da entrega da proposta e não haver convocação para contratação, os participantes da licitação ficam liberados dos compromissos assumidos.
- C) Caso o vencedor do certame não atenda à convocação para assinatura do contrato, a Lei das Licitações faculta à Administração convocar os licitantes remanescentes, na ordem de classificação.
- D) Caso seja chamado o licitante remanescente após não atendimento do vencedor do certame, este poderá alterar o preço de sua proposta, atualizando seus custos gerais, desde que justificados.

Questão 42

Os *layers* desempenham fundamental importância para organizar o desenho e determinar, por meio de sua cor, a espessura de impressão das linhas. Os comandos que gerenciam os *layers* estão no painel *Layers* do *AUTOCAD*. Em relação às *layers* e seus comandos correlacionados, marque **V** para as afirmativas verdadeiras e **F** para as falsas.

- () *Lock/Unlock*: refere-se à trava de uma *layer*, pois não é possível editar suas entidades.
- () *Lineweight*: possibilita selecionar uma espessura para as linhas desse *layer*.
- () *Transparency*: é uma propriedade que permite tornar os *layers* transparentes.

A sequência está correta em

- A) V, V, V.
- B) V, F, V.
- C) V, F, F.
- D) F, V, V.

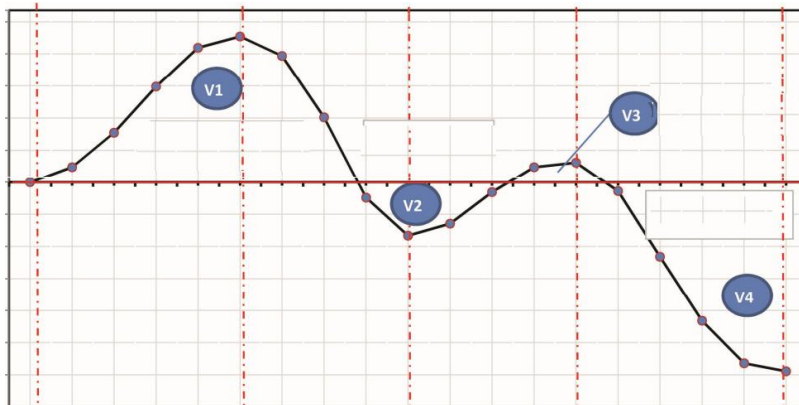
Questão 43

De acordo com o Art. 131 da Lei Municipal nº 922, de 23 de novembro de 2006, o território do Município de Santa Maria de Jetibá está dividido em três macrozonas complementares, sendo elas: macrozona de interesse turístico e uso sustentável; macrozona rural e de restrição urbana; e, macrozona urbana sede. Em relação à macrozona urbana sede, assinale a afirmativa correta.

- A) Apresenta diferentes graus de consolidação e qualificação, sendo subdividida em três macroáreas (central; de urbanização em consolidação; de estruturação urbana), para orientar o desenvolvimento urbano da sede do município e dirigir a aplicação dos instrumentos urbanísticos e jurídicos.
- B) A macroárea de estruturação urbana é formada por áreas que têm sofrido um forte processo de verticalização e adensamento construtivo; são áreas centrais, pró-vivas de equipamentos e infraestrutura, comércio e serviços e que contam com excepcionais condições de urbanização e alta taxa de emprego.
- C) A macroárea de urbanização em consolidação é uma área ocupada majoritariamente pela população de baixa renda; caracteriza-se por apresentar infraestrutura básica incompleta, deficiência de equipamentos sociais e culturais, comércio e serviços, forte concentração de favelas e loteamentos irregulares, baixas taxas de emprego e uma reduzida oportunidade de desenvolvimento humano para os moradores.
- D) A macroárea de urbanização prioritária, área estrategicamente importante para o desenvolvimento da sede do município, caracteriza-se por ser área bem localizada e por apresentar infraestrutura básica completa, equipamentos sociais e culturais, comércio e serviços, com grandes lotes vagos com o objetivo de realizar a função social da propriedade urbana. Faz com que o proprietário de um imóvel urbano promova o seu adequado aproveitamento.

Questão 44

Para a execução de determinada obra, foram necessárias a realização de obras de terraplanagem, considerando etapas de corte e aterro, conforme figura:



Os volumes calculados (sem empolamento) são apresentados na tabela:

V1	4524,51 m ³
V2	1002,27 m ³
V3	618,39 m ³
V4	3825,33 m ³

Considerando que o solo retirado nos cortes apresenta um fator de empolamento igual a 25% e, ainda, desconsiderando a compactação nos aterros, assinale a afirmativa correta.

- A) Sobrarão cerca de 1.600 m³ de solo.
- B) Faltarão em torno de 315 m³ de solo.
- C) Sobrarão, aproximadamente, 394 m³ de solo.
- D) Sobrarão, aproximadamente, 315 m³ de solo.

Questão 45

Áreas urbanas ao longo das rodovias são inevitáveis e problemáticas, sendo necessário que a drenagem seja tratada de forma mais específica e detalhada, não se aplicando a sistemática adotada em trechos rurais, uma vez que não está envolvida somente a segurança do veículo e do seu usuário, mas também de toda a população urbana que vive às margens da rodovia. O sistema de drenagem de transposição urbana de águas pluviais é composto pelos seguintes dispositivos: sarjetas; bocas de lobo; poços de visita; galerias; e, estruturas especiais. Diante do exposto, analise as definições a seguir.

- I. Sarjetas em trecho urbano: têm como objetivo conduzir as águas que se precipitam sobre a plataforma da rodovia e áreas adjacentes ao ponto de captação que, normalmente, é uma boca de lobo.
- II. Bocas de lobo: são dispositivos especiais que têm a finalidade de captar as águas pluviais que escoam pelas sarjetas para, em seguida, conduzi-las às galerias subterrâneas.
- III. Boca de lobo com grelha: apresenta abertura no meio-fio, utilizado quando a caixa coletora fica situada sob o passeio.
- IV. Boca de lobo simples: é utilizada quando a caixa coletora fica situada sob a faixa da sarjeta.
- V. Poços de visita: são dispositivos especiais que têm a finalidade de permitir mudanças ou das dimensões das galerias ou de sua declividade e direção.
- VI. Sarjetas: são dispositivos previstos quando, para um mesmo local, concorrem mais de um coletor. Têm, ainda, o objetivo de permitir a limpeza nas galerias e a verificação de seu funcionamento e eficiência.

Está correto o que se afirma apenas em

- A) I, II e V.
- B) I, II, V e VI.
- C) I, II, III, IV e V.
- D) II, III, IV, V e VI.

ATENÇÃO



NÃO É PERMITIDA a anotação das respostas da prova em NENHUM MEIO. O candidato flagrado nesta conduta poderá ser ELIMINADO do processo.

INSTRUÇÕES

1. Somente será permitida a utilização de caneta esferográfica de tinta azul ou preta, feita de material transparente e de ponta grossa.
2. É proibida, durante a realização das provas, a comunicação entre os candidatos e a utilização de máquinas calculadoras e/ou similares, livros, anotações, impressos ou qualquer outro material de consulta, protetor auricular, lápis, borracha ou corretivo. Especificamente, não será permitido ao candidato ingressar na sala de provas sem o devido recolhimento, com respectiva identificação, dos seguintes equipamentos: *bip*, telefone celular, *walkman*, agenda eletrônica, *notebook*, *palmtop*, *ipod*, *ipad*, *tablet*, *smartphone*, mp3, mp4, receptor, gravador, máquina de calcular, máquina fotográfica, controle de alarme de veículo, relógio de qualquer modelo, pulseiras magnéticas e similares etc., o que não acarreta em qualquer responsabilidade do Instituto Consulplan sobre tais equipamentos.
3. Com vistas à garantia da segurança e da integridade do certame, no dia da realização das provas escritas, os candidatos serão submetidos ao sistema de detecção de metais na entrada e na saída dos sanitários. Excepcionalmente, poderão ser realizados, a qualquer tempo durante a realização das provas, outros procedimentos de vistoria além do descrito.
4. O caderno de provas consta de 40 (quarenta) questões de múltipla escolha para os cargos de nível fundamental incompleto e completo, nível médio e nível técnico; 45 (quarenta e cinco) questões de múltipla escolha para os cargos de nível superior; e, uma Prova Discursiva para os cargos de Auditor Fiscal de Tributos Municipais e Auditor Público Interno – todas as especialidades).
5. Ao receber o material de realização das provas, o candidato deverá conferir atentamente se o caderno de provas contém o número de questões previsto, se corresponde ao cargo a que está concorrendo, bem como se os dados constantes no Cartão de Respostas (Gabarito) e na Folha de Textos Definitivos (Prova Discursiva – Auditor Fiscal de Tributos Municipais e Auditor Público Interno – todas as especialidades) estão corretos. Caso os dados estejam incorretos, ou o material esteja incompleto ou, ainda, detenha qualquer imperfeição, o candidato deverá informar tal ocorrência ao Fiscal de Aplicação, não cabendo reclamações posteriores neste sentido.
6. A prova terá duração de 3 (três) horas para todos os cargos, exceto para os cargos de Auditor Fiscal de Tributos Municipais e Auditor Público Interno (todas as especialidades), cuja prova terá duração de 4 (quatro) horas. Este período abrange a assinatura, assim como a transcrição das respostas para o Cartão de Respostas (Gabarito) e a Folha de Textos Definitivos (Prova Discursiva – Auditor Fiscal de Tributos Municipais e Auditor Público Interno – todas as especialidades).
7. As questões das provas objetivas são do tipo múltipla escolha, com 4 (quatro) opções (A a D) e uma única resposta correta. Ao terminar a prova, o candidato, obrigatoriamente, deverá devolver ao Fiscal de Aplicação o Cartão de Respostas (Gabarito) e a Folha de Textos Definitivos (Prova Discursiva – Auditor Fiscal de Tributos Municipais e Auditor Público Interno – todas as especialidades) devidamente assinados em local indicado.
8. Os Fiscais de Aplicação não estão autorizados a emitir opinião nem prestar esclarecimentos sobre o conteúdo das provas. Cabe única e exclusivamente ao candidato interpretar e decidir.
9. Não é permitida a anotação de informações relativas às suas respostas (cópia de gabarito) no comprovante de inscrição ou em nenhum outro meio.
10. O candidato somente poderá se retirar do local de realização das provas escritas levando o caderno de provas no decurso dos últimos 30 (trinta) minutos anteriores ao horário previsto para o seu término. O candidato poderá se retirar do local de realização das provas somente a partir dos 90 (noventa) minutos após o início de sua realização; contudo, não poderá levar o seu caderno de provas.
11. Os 3 (três) últimos candidatos de cada sala só poderão sair juntos. Caso algum insista em sair do local de aplicação antes de autorizado pelo Fiscal de Aplicação, deverá assinar termo desistindo do Concurso Público e, caso se negue, será lavrado Termo de Ocorrência, testemunhado pelos 2 (dois) outros candidatos, pelo Fiscal de Aplicação da sala e pelo Coordenador da Unidade de Provas.

RESULTADOS E RECURSOS

- Os gabaritos oficiais preliminares das provas objetivas serão divulgados na *Internet*, no endereço eletrônico www.institutoconsulplan.org.br, a partir das 16h00min da segunda-feira subsequente à realização das provas escritas objetivas de múltipla escolha.
- O candidato que desejar interpor recursos contra os gabaritos oficiais preliminares das provas objetivas disporá de 2 (dois) dias úteis, a partir do dia subsequente ao da divulgação (terça-feira), em requerimento próprio disponibilizado no *link* correlato ao Concurso Público no endereço eletrônico www.institutoconsulplan.org.br.
- A interposição de recursos poderá ser feita via *Internet*, através do Sistema Eletrônico de Interposição de Recursos, com acesso pelo candidato com o fornecimento de dados referente à sua inscrição apenas no prazo recursal, ao Instituto Consulplan, conforme disposições contidas no endereço eletrônico www.institutoconsulplan.org.br, no *link* correspondente ao Concurso Público.