

# CÂMARA MUNICIPAL DE MIRACEMA/RJ

## CONCURSO PÚBLICO EDITAL Nº 1/2023



## FARMACÊUTICO

Tarde

Tipo 1 - BRANCA

Organizadora:



**INSTITUTO**  
CONSULPLAN

**CONHECIMENTOS BÁSICOS****LÍNGUA PORTUGUESA****Recordar é viver; dar e receber é uma troca virtuosa. Por que os idosos não podem falar?**

Ela foi condecorada na Bélgica como heroína na guerra contra o nazismo. Lutou em todas as frentes, desde a espionagem até em combates armados, sempre destacando-se entre os seus pares. Presa pelos nazistas, saltou do segundo andar da prisão para alcançar a liberdade. Na queda quebrou uma perna, o que não impediu a sua fuga.

A sra. Glaz tinha a motivação dos judeus, era judia, na luta contra o nazismo. Ela era uma figura marcante. Nas reuniões dominava a conversação com os detalhes da sua vida heroica. Tornou-se uma personalidade. Onde quer que estivesse terminava como o centro das atenções e da admiração.

Evidentemente, a sua história, de tão repetida, foi perdendo interessados. Ela sentiu a perda da posição de destaque. Já que não tinha outra história, senão aquela, para ter ouvintes deveria mudar de ambiente. Foi o que fez. Descobriu nos cruzeiros marítimos um novo público. Cada nova troca de passageiros a colocava novamente em evidência. Era o que na sua idade avançada dava-lhe motivação para viver. Mantinha viva a sua história de heroína trocando os ouvintes. Assim passou a viver de cruzeiro em cruzeiro ganhando a admiração com o seu desempenho na guerra.

A nossa heroína não diverge da totalidade das pessoas. Todos, jovens e idosos, têm narrativas que desejam partilhar. Os jovens têm no celular o seu instrumento de contatos. Eles se satisfazem com o uso da *internet* e pelo fato de estarem construindo histórias de novas descobertas e conquistas. Nunca estão isolados do mundo. Já os idosos só têm uma história e a repetem a cada oportunidade. É o que eles têm. Acontece que os seus circundantes demonstram, com frequência, desinteresse pelo caso repetido, o que afeta o seu ânimo.

O ser humano certamente desenvolveu a capacidade de comunicar-se para suprir uma carência. Somos seres gregários. A nossa sobrevivência depende das trocas que fazemos com nossos semelhantes. A solidão é mortal. Recordar é viver. Dar e receber é uma troca virtuosa. E é contando e recontando as nossas experiências que damos significado ao nosso viver.

Não basta estar na multidão se não houver o que ouvir ou que falar. O isolamento é um sentimento que vem da ausência de comunicação. Sentimento que atinge fortemente aqueles poucos que atingem uma idade avançada. Como nem todos têm condições de viver de cruzeiro em cruzeiro para desbravar novos ouvintes só resta a repetição. Porém esperar pela boa vontade e paciência dos outros é uma aposta perdida.

Ninguém demonstra prazer em ouvir o mesmo pela segunda vez. E as reações são as mesmas, dizem: “Contam as mesmas histórias a cada novo contato”. A razão é que isto é o que elas têm e é o que preenche as suas necessidades de colocar em comum o que é seu. Poucos realizam esse ímpeto de comunicação, esse “dar de si” embute uma dose de generosidade.

(Jorge Wilson Simeira Jacob. Disponível em: <https://www.jornalopcao.com.br/>. Acesso em: 06/12/2023.)

**Questão 01**

**Em relação à tipologia textual predominante no texto, assinale a alternativa correta.**

- A) Os parágrafos iniciais relatam sobre a vida da sra. Glaz, o que caracteriza o texto como narrativo.
- B) Devido à sequência de fatos expostos sobre a vida da sra. Glaz, o texto se caracteriza como expositivo.
- C) O enunciador descreve fatos que aconteceram com a sra. Glaz; portanto, a predominância do texto é tipologia narrativa e descritiva.
- D) Apesar do texto apresentar uma sucessão de eventos alinhados numa linha temporal nos parágrafos iniciais, é possível identificar uma sequência argumentativa na maior parte do texto, o que o caracteriza com predominância argumentativa.

**Questão 02**

**Sobre o fragmento “*Todos, jovens e idosos, têm narrativas que desejam partilhar.*” (4º§), assinale a afirmativa INCORRETA.**

- A) Os verbos “ter” e “desejar” têm o mesmo sujeito.
- B) “Jovens e idosos” são termos acessórios na oração.
- C) “Todos” é um pronome indefinido que desempenha a função de sujeito na oração.
- D) As vírgulas estão corretamente empregadas, pois separam o sujeito composto “todos, jovens e idosos”.

**Questão 03**

**A preposição traduz uma noção semântica específica somente no contexto em que é empregada. Identifique as relações de sentido das preposições sublinhadas em: “*Presa pelos nazistas, saltou do segundo andar da prisão para alcançar a liberdade.*” (1º§)**

- A) Lugar e objetivo.
- B) Assunto e causa.
- C) Origem e objetivo.
- D) Pertencimento e companhia.

**Questão 04**

Em relação ao fragmento *“Onde quer que estivesse terminava como o centro das atenções e da admiração.”* (2º§), assinale a alternativa correta.

- A) O advérbio “onde” indica movimento.
- B) O advérbio “como” introduz circunstância de modo.
- C) O verbo “terminava” indica uma ação no passado e totalmente concluída.
- D) O tempo e o modo verbal “estar”, no contexto, indica uma ação anterior ao presente que ainda não foi concluída.

**Questão 05**

A palavra “senão”, no contexto *“Já que não tinha outra história, senão aquela, para ter ouvintes deveria mudar de ambiente.”* (3º§), possui significado e escrita diferentes da expressão “se não”, apesar de terem fonética igual. A partir dessa consideração, assinale a alternativa cujo par de palavras são homófonas.

- A) soar / suar
- B) seção / sessão
- C) são (saudável) / são (do verbo ser)
- D) choro (pranto) / choro (verbo chorar)

**Questão 06**

Os significados das palavras são determinados pelo contexto em que estão inseridas. A partir dessa consideração, assinale a alternativa que apresenta o significado adequado referente ao vocábulo sublinhado.

- A) “Somos seres gregários.” (5º§) – solitários.
- B) “A nossa heroína não diverge da totalidade das pessoas.” (4º§) – é diferente.
- C) “Poucos realizam esse ímpeto de comunicação, esse ‘dar de si’ embute uma dose de generosidade.” (7º§) – acovardamento.
- D) “Acontece que os seus circundantes demonstram, com frequência, desinteresse pelo caso repetido, o que afeta o seu ânimo.” (4º§) – próximos.

**Questão 07**

No título do texto há a seguinte pergunta: “[...] *Por que os idosos não podem falar?*”; assinale o trecho do texto a seguir que responde à referida pergunta.

- A) “Não basta estar na multidão se não houver o que ouvir ou que falar.” (6º§)
- B) “Nas reuniões dominava a conversação com os detalhes da sua vida heroica.” (2º§)
- C) “Porém esperar pela boa vontade e paciência dos outros é uma aposta perdida.” (6º§)
- D) “Ninguém demonstra prazer em ouvir o mesmo pela segunda vez. E as reações são as mesmas, dizem: ‘Contam as mesmas histórias a cada novo contato’.” (7º§)

**Questão 08**

A coesão textual é responsável pela harmonia entre as ideias de modo que haja uma conexão entre elas. Um dos elementos linguísticos responsáveis por essa conexão são os pronomes. Assinale a alternativa cujo pronome retoma o nome indicado.

- A) “Era o que na sua idade avançada dava-lhe motivação para viver.” (3º§) – idoso
- B) “O ser humano certamente desenvolveu a capacidade de comunicar-se para suprir uma carência.” (5º§) – jovens
- C) “A razão é que isto é o que elas têm e é o que preenche as suas necessidades de colocar em comum o que é seu.” (7º§) – as mesmas histórias
- D) “Descobriu nos cruzeiros marítimos um novo público. Cada nova troca de passageiros a colocava novamente em evidência.” (3º§) – troca de passageiros

**Questão 09**

Sem alterar o sentido da relação entre as orações *“Como nem todos têm condições de viver de cruzeiro em cruzeiro para desbravar novos ouvintes só resta a repetição. Porém esperar pela boa vontade e paciência dos outros é uma aposta perdida.”* (6º§) A conjunção “porém” pode ser substituída pela locução:

- A) Além disso.
- B) Depois que.
- C) Apesar disso.
- D) À medida que.

**Questão 10**

Observe as palavras sublinhadas em: “Ninguém demonstra prazer em ouvir o mesmo pela segunda vez.” (7<sup>º</sup>§). As palavras sublinhadas são classificadas gramaticalmente como

- A) artigo indefinido; verbo; adjetivo.
- B) pronome indefinido; substantivo; adjetivo.
- C) artigo indefinido; substantivo; substantivo.
- D) pronome indefinido; substantivo; substantivo.

**RACIOCÍNIO LÓGICO-MATEMÁTICO**

**Questão 11**

Em determinada indústria de peças automotivas, 40 profissionais com igual ritmo de produção fabricam 96 peças em 120 dias, trabalhando 9,5 horas diariamente. Para cumprir uma nova demanda de 282 peças, o administrador da indústria contratou mais 17 funcionários com mesmo ritmo da produção dos anteriores e aumentou o regime diário de trabalho em 2,25 horas. Desta forma, em quantos dias a nova demanda será atendida?

- A) 160.
- B) 200.
- C) 256.
- D) 348.

**Questão 12**

Sobre as alturas distintas dos irmãos Josemar, Frederico e Leandro são feitas as seguintes afirmações:

- Josemar é o mais alto ou Frederico é o mais baixo.
- Ou Frederico é o mais alto ou Leandro é o mais alto.

Tendo em vista que essas duas afirmações são verdadeiras, o mais alto e mais baixo dos irmãos são, respectivamente:

- A) Leandro e Josemar.
- B) Josemar e Leandro.
- C) Leandro e Frederico.
- D) Frederico e Josemar.

**Questão 13**

A síndica de certo condomínio na última reunião com os condôminos propôs duas novas medidas (A e B), que podem ser implantadas nos próximos dias no local. Após as considerações da síndica, os condôminos votaram e 88 deles foram favoráveis a, pelo menos, uma das medidas. Além disso, 25% dos condôminos que são favoráveis à medida A também são favoráveis à medida B e 20% dos condôminos, que são favoráveis à medida B também são favoráveis à medida A. Considerando a situação hipotética, quantos condôminos foram favoráveis às duas medidas?

- A) 11.
- B) 15.
- C) 19.
- D) 24.

**Questão 14**

No setor de processos de uma repartição pública, trabalham 3 assistentes administrativos. A chefe do setor distribuiu para eles um total de 730 documentos que precisam ser digitalizados. A divisão dos documentos entre eles foi feita da seguinte forma:

Assistente administrativo	Quantidade de documentos
1	124
2	238
3	368

Por razões pessoais, o assistente administrativo 3 ficou com 100 documentos para serem digitalizados e os seus demais documentos foram transferidos para os demais. Após a transferência, os profissionais 1 e 2 ficaram com a mesma quantidade de documentos. Considerando as informações dispostas, quantos documentos foram transferidos do assistente administrativo 3 para o 1?

- A) 77.
- B) 114.
- C) 156.
- D) 191.

**Questão 15**

Para realizar uma limpeza pesada em sua residência, Marcela colocou em um balde vazio a mistura de 30 litros contendo somente água e um solvente, de forma que 60% de qualquer volume desse líquido é composto por água. Ela retirou 10 litros da quantidade presente no balde e substituiu por 3 litros de álcool e 7 litros de solvente. Considerando a nova mistura, a quantidade de solvente representa:

- A) 40%.
- B) 45%.
- C) 50%.
- D) 55%.

**LEGISLAÇÃO ESPECÍFICA**

**Questão 16**

De acordo com a Lei Orgânica do Município de Miracema, analise as afirmativas a seguir.

- I. A matéria constante de projeto de lei rejeitado somente poderá ser objeto de novo projeto, na mesma sessão legislativa, mediante proposta da maioria absoluta dos membros da Câmara.
- II. A fiscalização contábil, financeira, orçamentária, operacional e patrimonial do Município e das entidades da administração direta e indireta, quanto à legalidade, legitimidade e economicidade, será exercida pela Câmara Municipal, mediante controle externo, e pelo sistema de controle interno do Executivo, instituídos em lei.
- III. O Município atuará prioritariamente no ensino fundamental e na educação infantil.

**Está correto o que se afirma em**

- A) I, II e III.
- B) I, apenas.
- C) III, apenas.
- D) I e II, apenas.

**Questão 17**

Determinado projeto de lei foi aprovado no âmbito da Câmara de Vereadores de Miracema e seguiu para o gabinete do prefeito para fins de apreciação. Dentre as disposições a seguir, assinale a INCORRETA de acordo com o que dispõe a Lei Orgânica Municipal.

- A) O prefeito pode exercer veto ao projeto por entendê-lo inconstitucional ou contrário ao interesse público.
- B) Se houver veto do prefeito, este não será definitivo, de modo que poderá ser rejeitado pelo Poder Legislativo.
- C) O silêncio do prefeito no prazo de quinze dias úteis importará sanção, assim compreendida como a discordância com relação ao teor do projeto.
- D) Caso o prefeito decida pelo veto parcial ao projeto, este somente poderá abranger texto integral de artigo, de parágrafo, de inciso ou de alínea.

**Questão 18**

Hércules, servidor público do município de Miracema, procurou determinado escritório de advocacia estabelecido naquela cidade, a fim de consultar os advogados Anderson e Cristian a respeito de revisão de processo administrativo disciplinar contra sua pessoa, com penalidade já aplicada. Na consulta, Anderson primeiramente informou a Hércules que a revisão é uma espécie de recurso administrativo prevista na Lei Complementar nº 796/1999, de modo que eles poderiam usar como fundamento para o pedido a injustiça da penalidade. Cristian discordou, informando que seriam necessários fatos novos ou circunstâncias suscetíveis de justificar a inocência de Hércules ou a inadequação da penalidade aplicada. Tendo em vista o caso hipotético apresentado, assinale a afirmativa correta.

- A) Somente o advogado Cristian está correto.
- B) Somente o advogado Anderson está correto.
- C) Tanto Anderson quanto Cristian estão equivocados em suas orientações, pelo motivo de que a revisão não tem previsão na legislação municipal.
- D) Tanto Anderson quanto Cristian estão equivocados em suas orientações, pelo motivo de que a revisão somente se aplica a processos de aposentadoria.

**Questão 19**

Maria é servidora da Prefeitura de Miracema e acumula dois cargos públicos, sendo um de professor e outro de técnico. Considerando o caso hipotético apresentado e as disposições da Lei Complementar nº 796/1999, assinale a afirmativa correta.

- A) Maria encontra-se em situação irregular, vez que não pode acumular os cargos citados.
- B) É possível a acumulação dos cargos citados, desde que haja compatibilidade de horários.
- C) Por previsão expressa na legislação, é desnecessária a comprovação de compatibilidade de horários.
- D) No caso de Maria é permitido, além da acumulação citada, que ela seja investida em cargo de provimento em comissão, sem necessidade de afastamento de quaisquer dos cargos acumulados.

**Questão 20**

De acordo com o que dispõe o Regime Jurídico dos Servidores Públicos Civis do Município de Miracema – Lei Complementar nº 796/1999, marque V para as afirmativas verdadeiras e F para as falsas.

- ( ) É vedada a licença para o exercício de mandato eletivo em diretoria de entidade sindical ou representação.
- ( ) As vantagens pecuniárias não serão computadas, nem acumuladas, para efeito de concessão de quaisquer outros acréscimos pecuniários ulteriores, sob o mesmo título ou idêntico fundamento.
- ( ) O servidor responde civil, penal e administrativamente pelo exercício irregular de suas atribuições, sendo que a responsabilidade civil decorre de ato omissivo ou comissivo, doloso ou culposo, que resulte em prejuízo ao erário ou a terceiros.

A sequência está correta em

- A) F, V, V.
- B) V, V, V.
- C) V, F, F.
- D) F, V, F.

**CONHECIMENTOS ESPECÍFICOS**

**SAÚDE PÚBLICA**

**Questão 21**

O documento das Diretrizes do Pacto pela Saúde em 2006 – Consolidação do Sistema Único de Saúde, publicado na Portaria/GM nº 399, de 22 de fevereiro de 2006, contempla o Pacto firmado entre os gestores do SUS, em suas três dimensões: pela vida, em defesa do SUS e de gestão; marque V para as afirmativas verdadeiras e F para as falsas.

- ( ) Esse Pacto apresenta mudanças significativas para a execução do SUS, dentre as quais ressaltamos: a substituição do atual processo de habilitação pela adesão solidária aos Termos de Compromisso de Gestão.
- ( ) Regionalização solidária e cooperativa como eixo estruturante do processo de descentralização.
- ( ) Integração das várias formas de repasse dos recursos federais e unificação dos vários pactos hoje existentes.

A sequência está correta em

- A) V, V, V.
- B) V, V, F.
- C) V, F, V.
- D) F, V, V.

**Questão 22**

Sabe-se que o Pacto pela Vida é o compromisso entre os gestores do SUS em torno de prioridades que apresentam impacto sobre a situação de saúde da população brasileira. A definição de prioridades deve ser estabelecida por meio de metas nacionais, estaduais, regionais ou municipais. NÃO corresponde a uma das prioridades pactuadas:

- A) Fortalecimento da Atenção Básica.
- B) Saúde da criança e do adolescente.
- C) Redução da mortalidade infantil e materna.
- D) Controle do câncer do colo do útero e da mama.

**Questão 23**

Tendo em vista que as regiões de saúde são recortes territoriais inseridos em um espaço geográfico contínuo, identificadas pelos gestores municipais e estaduais a partir de identidades culturais, econômicas e sociais; de redes de comunicação; e, infraestrutura de transportes compartilhados no território, assinale a afirmativa INCORRETA.

- A) A organização da região de saúde deve favorecer a ação cooperativa e solidária entre os gestores e o fortalecimento do controle social.
- B) Nos casos de regiões fronteiriças, o Ministério da Defesa deve envidar esforços no sentido de promover articulação entre os países e órgãos envolvidos.
- C) O planejamento regional deve considerar os parâmetros de incorporação tecnológica que compatibilizem economia de escala com equidade no acesso.
- D) A região de saúde deve organizar a rede de ações e serviços de saúde, a fim de assegurar o cumprimento dos princípios constitucionais de universalidade do acesso, equidade e integralidade.

**Questão 24**

Considerando que o dia a dia da Equipe de Saúde da Família (ESF) envolve geralmente a atenção aos principais problemas de saúde-doença da população de sua área de abrangência, incluindo a atenção aos agravos endêmicos e o enfrentamento de epidemias em sua área de abrangência, marque **V** para as afirmativas verdadeiras e **F** para as falsas.

- ( ) Endemia pode ser conceituada como a ocorrência de um agravo dentro de um número esperado de casos para aquela região, naquele período de tempo, baseado na sua ocorrência em anos anteriores não epidêmicos.
- ( ) Epidemia representa a ocorrência de um agravo acima da média (ou mediana) histórica de sua ocorrência.
- ( ) O agravo causador de uma epidemia tem, geralmente, aparecimento gradual e progressivo e se propaga por determinado período de tempo em determinada área geográfica, acometendo frequentemente elevado número de pessoas.

A sequência está correta em

- A) V, V, V.
- B) V, V, F.
- C) V, F, F.
- D) F, V, F.

**Questão 25**

Considere a taxa de mortalidade perinatal e o número de óbitos ocorridos no período perinatal por mil nascimentos totais, na população residente em determinado espaço geográfico no ano considerado. O período perinatal começa em 22 semanas completas (ou 154 dias) de gestação e termina aos sete dias completos após o nascimento, ou seja, de 0 a 6 dias de vida (período neonatal precoce). Os nascimentos totais incluem os nascidos vivos e os óbitos fetais. Sobre a mortalidade perinatal, assinale a afirmativa **INCORRETA**.

- A) Estima o risco de morte de um feto nascer sem qualquer sinal de vida ou, nascendo vivo, morrer na primeira semana.
- B) Exige aplicação precisa da definição de período perinatal, sem a necessidade do preenchimento do tempo de gestação na declaração de óbito.
- C) Serve para analisar variações populacionais, geográficas e temporais da mortalidade perinatal, identificando situações de desigualdade e tendências que demandem ações e estudos específicos.
- D) De maneira geral, reflete a ocorrência de fatores vinculados à gestação e ao parto, entre eles o peso ao nascer, bem como as condições de acesso a serviços de saúde e a qualidade da assistência pré-natal, ao parto e ao recém-nascido.

**Questão 26**

A vigilância sanitária tem como missão a proteção e promoção à saúde da população e defesa da vida. Para cumpri-la, deve ter uma interação muito grande na sociedade. Por este motivo, a Vigilância Sanitária deve procurar uma participação efetiva na rede de controle social do SUS, contando com a colaboração dos Conselhos de Saúde para as suas ações. Acerca da vigilância sanitária no Brasil, assinale a alternativa **INCORRETA**.

- A) A Agência Nacional de Vigilância Sanitária (Anvisa) faz a gestão de todo serviço de Vigilância Sanitária, que compete ao nível federal.
- B) Para cumprir com seu objetivo de proteger a saúde da população é necessário que a vigilância sanitária desenvolva um amplo conjunto de ações, utilizando diferentes instrumentos.
- C) O objetivo das ações de vigilância sanitária sobre estabelecimentos de interesse da saúde é controlar as condições de segurança sanitária e promover a adesão às normas vigentes, em especial às de biossegurança.
- D) Os produtos sob vigilância sanitária só podem ser fabricados e comercializados após obtenção do registro na Agência Nacional de Vigilância Sanitária (Anvisa). Existem alguns produtos que são dispensados de registro mas carecem do pronunciamento oficial sobre a dispensa ou não de registro; entretanto, sua colocação no mercado não necessita ser notificada.

**Questão 27**

Conceitua-se a história natural da doença como a descrição da sequência de eventos que propiciam o contato e a interação agente-hospedeiro, e toda a patogênese, incluindo a manifestação clínica de sinais e sintomas, até um desfecho (cura, morte ou incapacidade). Sobre o processo de história natural da doença, assinale a afirmativa **INCORRETA**.

- A) No caso de doenças provocadas por agentes biológicos, a cadeia do processo infeccioso estabelece elementos-chave e a relação entre eles.
- B) A patogenidade é relativa à produção de casos graves, manifestos por alta letalidade ou proporção de indivíduos com incapacidades decorrentes da doença.
- C) O comportamento dos indivíduos e a interação entre infectados e susceptíveis na população influenciam diretamente a dinâmica de transmissão da doença.
- D) A infectividade implica a capacidade de o agente etiológico se alojar e multiplicar no organismo do hospedeiro, incluindo a transmissão para um novo hospedeiro.

**Questão 28**

“A(O) \_\_\_\_\_ é composta(o), paritariamente, por representação do Ministério da Saúde, do Conselho Nacional de Secretários de Saúde (Conass) e do Conselho Nacional de Secretários Municipais de Saúde (Conasems), sendo um espaço para a elaboração de propostas para a implantação e operacionalização do SUS.” Assinale a alternativa que completa corretamente a afirmativa anterior.

- A) Conselho Estadual Bipartide
- B) Conselho Estadual Tripartide
- C) Comissão Intergestores Bipartide
- D) Comissão Intergestores Tripartite

**Questão 29**

Sabe-se que a taxa de mortalidade por causas externas e o número de óbitos por causas externas (acidentes e violência), por 100 mil habitantes, na população residente em determinado espaço geográfico, no ano considerado, estima o risco de morte por causas externas e dimensiona a sua magnitude como problema de saúde pública. São consideradas as principais causas de mortalidade por causas externas no Brasil:

- A) Acidente de trânsito; homicídio; e, suicídio.
- B) Acidente de trabalho; homicídio; e, suicídio.
- C) Acidente de trabalho; suicídio; e, afogamento.
- D) Acidente de trânsito; acidente de trabalho; e, suicídio.

**Questão 30**

“A \_\_\_\_\_ expressa a proporção de indivíduos afetados por determinada doença ou que apresenta determinada característica numa população e período. Os casos prevalentes, portanto, incluem casos novos e preexistentes. Geralmente, é expressa de forma pontual, representada pelo total de casos de uma doença existente numa população em determinado instante. Esse dado é obtido pela pergunta: ‘Você está doente?’.” Assinale a alternativa que completa corretamente a afirmativa anterior.

- A) incidência
- B) densidade
- C) prevalência
- D) taxa de infectividade

**CONHECIMENTOS DO CARGO**

As fórmulas farmacêuticas de veículos dadas a seguir devem ser utilizadas para responder às questões de 31 a 34.

A	
Componentes	Quantidade (% p/p)
Sacarose	85,0
Flavorizante	QS
Água purificada	QSP 100,0

B	
Componentes	Quantidade (% p/p)
Estabilizante	0,15
Flavorizante	QS
Óleo de amendoim	QSP 100,0

C	
Componentes	Quantidade (% p/p)
Cânfora	0,5
Conservante	0,15
Flavorizante	QS
Álcool etílico	45,0
Água purificada	QSP 100,0

**Questão 31**

As fórmulas farmacêuticas A, B e C descrevem os veículos para preparar as seguintes formas farmacêuticas, respectivamente:

- A) Tintura; gotas; e, elixir.
- B) Xarope; solução; e, elixir.
- C) Xarope; suspensão; e, *linctus*.
- D) Solução; xarope; e, suspensão.

**Questão 32**

A quantidade de morfina que o paciente irá ingerir ao tomar duas gotas de uma formulação preparada com veículo C, sabendo que cada 1 mL da formulação final dispensa 20 gotas; cada 1 mL da formulação contém 0,05 mL da tintura de *Papaver somniferum* L.; e, a concentração da morfina na tintura de *Papaver somniferum* L. é 1% p/v, trata-se de:

- A) 25 mg.
- B) 50 mg.
- C) 50 µg.
- D) 100 µg.



**Questão 33**

Tendo em vista que a vitamina D (colecalfiferol) é um Insumo Farmacêutico Ativo (IFA) de natureza lipofílica e suscetível à degradação química por ação do oxigênio, o veículo a ser escolhido e o nome do excipiente a ser incorporado no veículo para estabilizar o IFA, são, respectivamente:

- A) A; EDTA.
- B) B; metilparabeno.
- C) C; ácido ascórbico.
- D) B; butil-hidroxitolueno.

**Questão 34**

À luz da Resolução da Diretoria Colegiada (RDC), nº 67 de 8 de outubro de 2007, assinale a afirmativa correta sobre o controle de qualidade de produtos magistrais que se apresentam como formas farmacêuticas líquidas, manipuladas a partir dos veículos A, B e C.

- A) O pH deve ser determinado nas preparações magistrais manipuladas a partir do veículo B.
- B) A densidade por picnometria deve ser medida nas preparações magistrais manipuladas a partir dos veículos A e C.
- C) O peso ou volume antes do envase deve ser determinado nas preparações magistrais manipuladas a partir dos veículos A, B e C.
- D) A contagem de micro-organismos totais, fungos e leveduras e a esterilidade devem ser determinadas nas preparações magistrais manipuladas a partir dos veículos B e C.

**Questão 35**

Seguir sobre a profilaxia e o tratamento de infecções pelo papilomavírus humano (HPV), marque V para as afirmativas verdadeiras e F para as falsas.

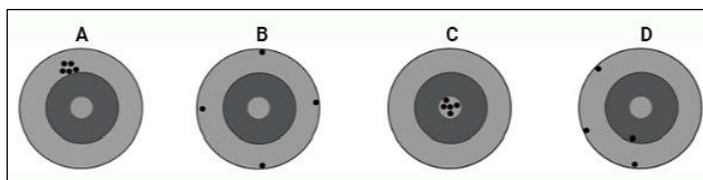
- ( ) Segundo o Plano Nacional de Imunização, meninos e meninas devem receber três doses da vacina HPV até os 15 anos de idade.
- ( ) A vacina HPV quadrivalente pode ser obtida pela tecnologia do DNA recombinante e, por isso, pode causar a doença, não devendo ser usada em adultos.
- ( ) Segundo o Plano Nacional de Imunização, somente os meninos com idade entre 11 e 14 anos devem receber a vacina, dado o predomínio da infecção na população masculina.
- ( ) Um dos IFAs utilizados no tratamento do HPV é o aciclovir, um derivado da guanossina que atua inibindo a DNA polimerase e interrompendo a cadeia nucleotídica.
- ( ) O aciclovir é um pró-fármaco do valaciclovir, com biodisponibilidade superior à deste e ambos são convertidos em metabólitos ativos dentro das células infectadas pelo vírus.

A sequência está correta em

- A) V, V, V, F, V.
- B) V, V, F, F, F.
- C) F, F, F, V, F.
- D) F, F, F, F, V.

**Questão 36**

Analisar a imagem a seguir:



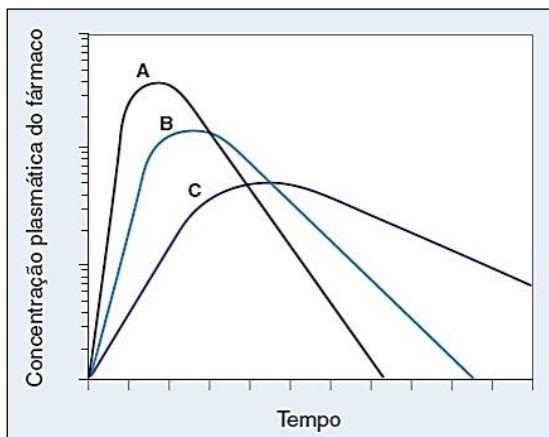
(Imagem produzida no Biorender – <https://www.biorender.com/>).

A imagem que representa, hipoteticamente, a inexistência de erros aleatórios, sem comprometimento da precisão e, a ocorrência de muitos erros sistemáticos, com comprometimento da exatidão, é dada pela letra:

- A) A.
- B) B.
- C) C.
- D) D.

**Questão 37**

Analise a imagem a seguir:



(Gráfico hipotético da concentração plasmática em função do tempo. Fonte: Golan, D. E. et al. *Princípios de farmacologia: a base fisiopatológica da farmacoterapia*. 3ª ed. Rio de Janeiro: Guanabara Koogan, 2014.)

Considerando o gráfico anterior, analise as afirmativas a seguir.

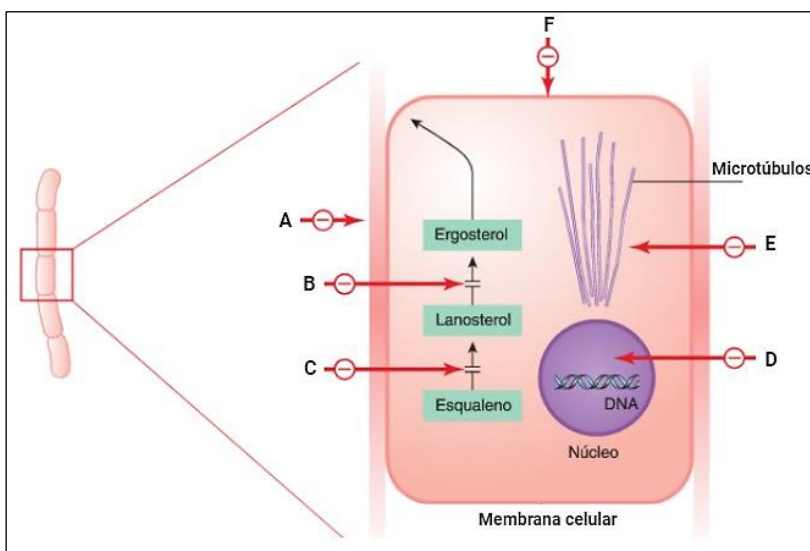
- I. O tamanho das partículas dos IFAs não exerce efeito sobre as curvas A, B e C.
- II. As curvas podem representar três IFAs (A, B e C), administrados na mesma dose, pela mesma via.
- III. O IFA A apresenta menor velocidade de absorção e maior taxa de depuração quando comparado a B e C.
- IV. As curvas A, B e C podem ser de um mesmo IFA, administrado na mesma dose, por diferentes vias de administração.
- V. A biodisponibilidade referente às áreas sob a curva A, B e C é a mesma e todas indicam uma fração (F) igual a 1 (100%).

Está correto o que se afirma apenas em

- A) I e V.
- B) II e IV.
- C) II, III e IV.
- D) III, IV e V.

**Questão 38**

Analise a imagem a seguir:



(Locais de ação dos fármacos antifúngicos comuns. Adaptado de: RANG, H.P et al. *Rang & Dale: farmacologia*. 8ª ed. Rio de Janeiro: Elsevier, 2016.)

São exemplos de antifúngicos que atuam nos locais indicados pelas letras B, D, E e F, respectivamente:

- A) Terbinafina; griseofulvina; amorolfina; e, cetoconazol.
- B) Itraconazol; flucitosina; griseofulvina; e, anfotericina B.
- C) Equinocandina B; anfotericina B; cetoconazol; e, flucitosina.
- D) Equinocandina B; griseofulvina; anfotericina; B e, terbinafina.

**Questão 39**

“O estudo \_\_\_\_\_ tem por objetivo determinar a distribuição de doenças ou condições de agravo à saúde, segundo o tempo, o lugar e as características dos indivíduos, a partir de dados primários e secundários, determinando a incidência ou a prevalência de doenças ou agravos à saúde. O estudo \_\_\_\_\_ tem por objetivo estabelecer a correlação entre a ocorrência de doenças ou condições de agravo à saúde, à exposição de indivíduos de países, regiões ou municípios, a fim de verificar se é possível estabelecer uma associação entre estes.” Assinale a alternativa que completa correta e sequencialmente a afirmativa anterior.

- A) descritivo / analítico
- B) seccional / ecológico
- C) amostral / transversal
- D) caso-controle / coorte

**Questão 40**

Sobre os tipos de medicamentos, relacione adequadamente os itens às suas respectivas características.

1. Genérico.
  2. Similar.
  3. Inovador.
  4. Bioisento.
- ( ) Medicamento registrado na Anvisa e comercializado após comprovação da eficácia, segurança e qualidade por ocasião do registro, não sendo obrigada a comprovação da bioequivalência ou bioisenção.
  - ( ) Medicamento que contém o mesmo IFA, na mesma concentração e forma farmacêutica, administrado pela mesma via que outro, devendo ter eficácia, segurança e qualidade comprovadas, designado por nome comercial ou marca, para o qual deve ser protocolado estudo de bioequivalência ou teste de bioisenção para registro.
  - ( ) Medicamento designado pelo nome do IFA segundo a denominação comum brasileira, intercambiável com um produto referência ou inovador, desde que comprovada a eficácia, a segurança e a qualidade, para o qual deve ser protocolado estudo de bioequivalência ou teste de bioisenção para registro.
  - ( ) Medicamento oral de liberação imediata, contendo um IFA listado pela Anvisa com base no Sistema de Classificação Biofarmacêutica (SCB), cujo registro é concedido a partir de resultados de ensaios *in vitro*.

A sequência está correta em

- A) 3, 2, 1, 4.
- B) 3, 4, 2, 1.
- C) 4, 2, 3, 1.
- D) 2, 1, 4, 3.

**ATENÇÃO**



**NÃO É PERMITIDA a anotação das respostas da prova em NENHUM MEIO. O candidato flagrado nesta conduta poderá ser ELIMINADO do processo.**

## INSTRUÇÕES

1. Somente será permitida a utilização de caneta esferográfica de tinta azul ou preta, feita de material transparente e de ponta grossa.
2. É proibida, durante a realização das provas, a comunicação entre os candidatos e a utilização de máquinas calculadoras e/ou similares, livros, anotações, impressos ou qualquer outro material de consulta, protetor auricular, lápis, borracha ou corretivo. Especificamente, não será permitido ao candidato ingressar na sala de provas sem o devido recolhimento, com respectiva identificação, dos seguintes equipamentos: *bip*, telefone celular, *walkman*, agenda eletrônica, *notebook*, *palmtop*, *ipod*, *ipad*, *tablet*, *smartphone*, mp3, mp4, receptor, gravador, máquina de calcular, máquina fotográfica, controle de alarme de veículo, relógio de qualquer modelo, pulseiras magnéticas e similares etc., o que não acarreta em qualquer responsabilidade do Instituto Consulplan sobre tais equipamentos. No caso do candidato, durante a realização das provas, ser surpreendido portando os aparelhos eletrônicos citados, será automaticamente lavrado no Termo de Ocorrência o fato ocorrido e ELIMINADO automaticamente do Concurso Público.
3. Com vistas à garantia da segurança e da integridade do certame, no dia da realização das provas escritas, os candidatos serão submetidos ao sistema de detecção de metais na entrada e na saída dos sanitários. Excepcionalmente, poderão ser realizados, a qualquer tempo durante a realização das provas, outros procedimentos de vistoria além do descrito.
4. O caderno de provas consta de 40 (quarenta) questões de múltipla escolha para os cargos de nível superior; médio com habilitação em magistério; médio técnico; e, médio; e, ainda, 30 (trinta) questões de múltipla escolha para os cargos de nível fundamental completo e incompleto.
5. Ao receber o material de realização das provas, o candidato deverá conferir atentamente se o caderno de provas contém o número de questões previsto, se corresponde ao cargo a que está concorrendo, bem como se os dados constantes no Cartão de Respostas (Gabarito) estão corretos. Caso os dados estejam incorretos, ou o material esteja incompleto ou, ainda, detenha qualquer imperfeição, o candidato deverá informar tal ocorrência ao Fiscal de Aplicação, não cabendo reclamações posteriores neste sentido.
6. A prova terá duração de 3 (três) horas para todos os cargos. Este período abrange a assinatura, assim como a transcrição das respostas para o Cartão de Respostas (Gabarito) às orientações e avisos fornecidos pelos fiscais durante a aplicação, bem como o tempo necessário aos procedimentos de identificação civil e/ou segurança que forem adotados pela organização do certame.
7. As questões das provas objetivas são do tipo múltipla escolha, com 4 (quatro) opções (A a D) e uma única resposta correta. Ao terminar a prova, o candidato, obrigatoriamente, deverá devolver ao Fiscal de Aplicação o Cartão de Respostas (Gabarito) devidamente assinado em local indicado.
8. Os Fiscais de Aplicação não estão autorizados a emitir opinião nem prestar esclarecimentos sobre o conteúdo das provas. Cabe única e exclusivamente ao candidato interpretar e decidir.
9. Não é permitida a anotação de informações relativas às suas respostas (cópia de gabarito) no comprovante de inscrição ou em nenhum outro meio.
10. O candidato somente poderá se retirar do local de realização das provas escritas levando o caderno de provas no decurso dos últimos 30 (trinta) minutos anteriores ao horário previsto para o seu término. O candidato poderá se retirar do local de realização das provas somente a partir dos 90 (noventa) minutos após o início de sua realização; contudo, não poderá levar o seu caderno de provas.
11. Os 3 (três) últimos candidatos de cada sala só poderão sair juntos. Caso algum insista em sair do local de aplicação antes de autorizado pelo Fiscal de Aplicação, será lavrado Termo de Ocorrência, assinado pelo candidato e testemunhado pelos 2 (dois) outros candidatos, pelo Fiscal de Aplicação da Sala e pelo Coordenador da Unidade de Provas, para posterior análise pela Comissão de Acompanhamento do Concurso.

## RESULTADOS E RECURSOS

- Os gabaritos oficiais preliminares das provas objetivas serão divulgados na *Internet*, no endereço eletrônico [www.institutoconsulplan.org.br](http://www.institutoconsulplan.org.br), a partir das 16h00min da segunda-feira subsequente à realização das provas escritas objetivas de múltipla escolha.
- O candidato que desejar interpor recursos contra o gabarito oficial preliminar da prova escrita objetiva de múltipla escolha disporá de 2 (dois) dias úteis para fazê-lo, a contar do dia subsequente ao da divulgação desses gabaritos, por meio do endereço eletrônico [www.institutoconsulplan.org.br](http://www.institutoconsulplan.org.br). É responsabilidade do candidato acompanhar todos os atos inerentes ao concurso público, não cabendo reclamações, caso não exerça seu direito de recurso no prazo estipulado.