

# CONCURSO PARA PROVIMENTO DE CARGOS DA PREFEITURA MUNICIPAL DE CORDISBURGO

## AUXILIAR DE SERVIÇOS DA EDUCAÇÃO BÁSICA

Código: 201

### ABRA APENAS QUANDO AUTORIZADO.

Leia com atenção as seguintes instruções:

- Este caderno contém as **25 questões** da Prova Objetiva, composta por: 10 questões de Língua Portuguesa, 10 questões de Matemática e 5 questões de Conhecimentos Gerais.  
Caso haja algum problema em seu caderno de provas, informe ao aplicador.
- As informações / instruções dadas no dia da prova complementam o edital.
- Durante as provas, não é permitido o uso de dispositivos eletrônicos de qualquer tipo e celulares, assim como relógios e materiais de consulta.
- Será permitido ao candidato levar o rascunho da Prova Objetiva (versão do candidato), reproduzido no final do caderno de provas, contendo somente as marcações de respostas (A, B, C ou D). Esse rascunho deverá ser destacado pelo aplicador.
- Na Folha de Respostas:**
  - Confira seu nome, número de inscrição e cargo.
  - Assine, A TINTA, no espaço próprio indicado.
  - Transcreva a seguinte frase, com sua caligrafia usual, mantendo as letras maiúsculas e minúsculas, desconsiderando aspas e autoria:  

**“Tenho em mim todos os sonhos do mundo.”**

Fernando Pessoa
- A Folha de Respostas deve ser assinada e não deve ser dobrada, amassada ou rasurada.
- Sua prova e Folha de Respostas poderão ser entregues somente após o término do período de sigilo: 2 horas.
- Sua resposta **NÃO** será computada se houver marcação de mais de uma alternativa, questões não assinaladas ou rasuradas.
- Ao transferir as respostas para a Folha de Respostas:
  - Use somente caneta AZUL ou PRETA, preenchendo toda a área reservada à letra correspondente à resposta solicitada em cada questão, conforme o modelo:  

01    A    B    C    D  
      ■    □    □    □
  - Assinale somente uma alternativa em cada questão e não deixe nenhuma questão sem resposta.
- Não é permitido levar o caderno de provas. Ao entregar sua prova, recolha seus objetos, deixe a sala de provas e, em seguida, o prédio. Até deixar as dependências do local de prova, continuam válidas as proibições do uso de aparelhos eletrônicos e celulares, bem como não lhe é mais permitido o uso dos sanitários.
- Os três últimos candidatos deverão permanecer na sala até que o último candidato termine sua prova, devendo todos assinar a Ata de Sala, atestando a idoneidade da fiscalização destas, retirando-se da sala de prova de uma só vez. Nas salas que, por atendimento a condição especial para realização das provas, houver apenas um candidato, ao término da prova, a Ata de Sala será assinada pelo candidato, pelo aplicador e por um fiscal para atestar a idoneidade da fiscalização.
- O Caderno de Questões da Prova Objetiva e os gabaritos serão divulgados no endereço eletrônico [www.gestaodeconcursos.com.br](http://www.gestaodeconcursos.com.br), no dia subsequente à data da prova.

**DURAÇÃO TOTAL DAS PROVAS, INCLUINDO  
ASSINATURA E A TRANSCRIÇÃO  
DA FOLHA DE RESPOSTAS:**

**TRÊS HORAS**

Escreva seu nome completo de forma legível.

**NOME:** \_\_\_\_\_

## LÍNGUA PORTUGUESA

**INSTRUÇÃO:** Leia o texto I para responder às questões de 1 a 10.

### TEXTO I

#### Minha cachorra não sabe o que fizemos com o planeta

Giovana Madalosso

Eu e a minha cachorra costumamos sair para o nosso passeio noturno. Eu sei de quais canteiros ela mais gosta, que plantas prefere cheirar, por qual portão do prédio prefere voltar. Ela também me conhece. Caramba! A gente sabe que possivelmente esquecerei o controle remoto, que teremos que voltar pra pegar, que nessa hora direi algum palavrão em voz alta e, em algum momento, darei uma olhada no celular.

Ontem foi uma dessas noites em que saímos juntas. Quente demais para o mês de junho, eu usando uma blusa fina quando deveria estar de casaco. O que me fez pensar na crise climática. Segundo a ONU, os próximos cinco anos serão os mais quentes já registrados, com 98% de chance de que as temperaturas globais atinjam níveis recordes – e não, isso não é só devido ao El Niño.

Enquanto penso nisso, minha cachorra cheira o mato que cresce entre os paralelepípedos ao nosso redor, retardando ao máximo a sua volta para o apartamento. Puxo suavemente a sua coleira. É hora de ir.

Caminhamos em direção ao portão pelo qual ela prefere passar. Apalpo os meus diversos bolsos em busca do controle remoto. Trocamos um olhar, quem sabe até um sorriso maroto, o meu em forma de dentes, o dela em forma de rabo que abana, marcando uma possível consciência mútua do quanto sou atrapalhada, do quanto sempre demoramos para sair e para entrar.

De repente, me ocorre que ela sabe muito mais do que imagino. Talvez até perceba que o planeta está mudando, que há algo de estranho no ar mais quente e poluído.

Finalmente encontro o controle e entramos pelo portão, costuradas pelos nossos passos e pela certeza de que, conscientes ou não das mudanças ambientais, seguiremos juntas, seguiremos todos juntos, dividindo o mesmo presente, o mesmo futuro e o mesmo espaço – este planeta chamado Terra, para o qual ainda não descobriram um substituto.

FOLHA DE S.PAULO, 25 jun. 2023 (adaptado).

### QUESTÃO 1

Com o título, a jornalista parece antecipar, para o leitor, os principais assuntos que abordará no seu texto. Quais são esses assuntos?

- A) Um passeio matinal rotineiro com a sua cachorra e um dia quente de verão.
- B) Uma questão climática sob controle e os desafios para humanidade mantê-la.
- C) Um relato sobre seu animal de estimação e uma situação global preocupante.
- D) Uma conscientização das pessoas e ações emergentes para salvar o planeta.

### QUESTÃO 2

Sobre o gênero a que pertence o texto “Minha cachorra não sabe o que fizemos com o planeta”, assinale com V as afirmativas verdadeiras e com F as falsas.

- ( ) Assemelha-se a um diário pessoal porque a autora descreve suas experiências em forma de desabafo.
- ( ) Exemplifica uma narrativa fantasiosa, por combinar acontecimentos reais com fatos apenas imaginados.
- ( ) Trata-se de uma crônica jornalística, pois mistura um relato do dia a dia para promover breves reflexões.

Assinale a sequência correta.

- A) F F V
- B) V F V
- C) F V F
- D) V V F

### QUESTÃO 3

Segundo o texto I, o sentimento que resume a relação entre a autora e sua cachorra é o de

- A) surpresa.
- B) nostalgia.
- C) resignação.
- D) cumplicidade.

### QUESTÃO 4

Na frase “[...] marcando uma possível consciência **mútua** do quanto sou atrapalhada...”, a palavra em destaque, sem prejuízo para o sentido, pode ser substituída por

- A) fingida.
- B) maldosa.
- C) unilateral.
- D) recíproca.

### QUESTÃO 5

Leia o trecho do texto I a seguir.

“Segundo a ONU, os próximos cinco anos serão os mais quentes já registrados...”

Quanto à nova pontuação, a reescrita dessa frase está correta em:

- A) Os próximos cinco anos segundo a ONU serão, os mais quentes já registrados.
- B) Os próximos cinco anos, segundo a ONU, serão os mais quentes já registrados.
- C) Os próximos cinco anos, segundo a ONU serão os mais quentes, já registrados.
- D) Os próximos cinco anos, serão os mais quentes já registrados, segundo a ONU.

**INSTRUÇÃO:** Leia, a seguir, o trecho do texto I e o texto II para responder à questão 6.

"[...] este planeta chamado Terra, para o qual ainda não descobriram um substituto."

## TEXTO II



Disponível em: <https://aluatristonha.wordpress.com/2021/11/12/urano-e-netuno/>. Acesso em: 3 set. 2023.

## QUESTÃO 6

A palavra "Terra", no texto I, assim como outras palavras presentes no corpo do texto II, estão escritas com inicial maiúscula porque se referem a nomes próprios de

- A) planetas misteriosos.
- B) astros do sistema solar.
- C) regiões distantes entre si.
- D) personagens do universo.

## QUESTÃO 7

"Caminhamos em direção ao portão pelo qual ela prefere passar. Apalpo os meus diversos bolsos em busca do controle remoto. Trocamos um olhar, quem sabe até um sorriso maroto, o meu em forma de dentes, o dela em forma de rabo que abana..."

Com relação às classes de palavras e às flexões presentes no fragmento transcrito, assinale com V as afirmativas verdadeiras e com F as falsas.

- ( ) Em "quem sabe até um sorriso maroto", a palavra "maroto" expressa uma característica do substantivo "sorriso".
- ( ) No trecho "o dela em forma de rabo que abana...", está correta a seguinte flexão para o plural: "em forma de rabos que abana..."
- ( ) Nas frases "Caminhamos **em** direção ao portão" e "Trocamos **um** olhar...", os termos destacados pertencem à mesma classe gramatical.

Assinale a sequência correta.

- A) V V F
- B) F F V
- C) V F F
- D) F V V

## QUESTÃO 8

Leia o trecho do texto I a seguir.

"[...] nessa hora direi algum palavrão em voz alta e, em algum momento, darei uma olhada no celular."

Sobre o período, as expressões citadas e a função sintática transcritos no trecho, analise as afirmativas a seguir.

- I. "em algum momento" indica uma circunstância de finalidade.
- II. O período é composto por subordinação e possui três orações.
- III. O sujeito da primeira oração está subentendido na pessoa do verbo.
- IV. "algum palavrão" é o objeto direto, pois não está regido de preposição.

Estão corretas as afirmativas

- A) I e II, apenas.
- B) I e IV, apenas.
- C) II e III, apenas.
- D) III e IV, apenas.

## QUESTÃO 9

Leia o trecho do texto I a seguir.

"De repente, me ocorre que ela sabe muito mais do que imagino. Talvez até perceba que o planeta está mudando, que há algo de estranho no ar mais quente e poluído."

Considere a passagem transcrita do texto e complete corretamente as lacunas.

Os itens "planeta", "repente" e "mudando" possuem o mesmo número de sílabas que a palavra \_\_\_\_\_. Quanto à acentuação, o vocábulo \_\_\_\_\_ é uma oxítona terminada em vogal. Já o termo "estranho" apresenta na sua grafia um encontro consonantal e um \_\_\_\_\_, ou seja, o conjunto de duas letras representando um único fonema.

Assinale a sequência que preenche correta e respectivamente as lacunas do texto.

- A) ocorre / está / dígrafo
- B) quente / poluído / dígrafo
- C) mais / está / encontro vocálico
- D) algo / poluído / encontro vocálico

**INSTRUÇÃO:** Leia, a seguir, um trecho do texto I e o texto III para responder à questão 10.

“Caramba! A gente sabe que possivelmente esquecerei o controle remoto, que teremos que voltar pra pegar...”

### TEXTO III



Disponível em: <https://arquivosturmadamonica.blogspot.com/2020/02/hq-chico-bento-e-o-velho-cao.html>. Acesso em: 4 set. 2023.

### QUESTÃO 10

Sobre a variação linguística, analise as afirmativas a seguir.

- I. No texto III, predomina a linguagem regional na fala do personagem.
- II. No texto I, a palavra “pra” caracteriza o uso mais formal da linguagem.
- III. No texto I, os termos “Caramba” e “a gente” exemplificam o registro informal.

Está(ão) correta(s) a(s) afirmativa(s)

- A) I, apenas.
- B) II, apenas.
- C) I e III, apenas.
- D) II e III, apenas.

## MATEMÁTICA

### QUESTÃO 11

Caio comprou um álbum de figurinhas e agora precisa completá-lo. O álbum tem 22 páginas e, em cada página, devem ser coladas 15 figurinhas. Sabe-se que cada figurinha custa R\$ 2,00 e que elas podem ser compradas individualmente.

Para completar o álbum, Caio precisará gastar, no mínimo,

- A) R\$ 30,00.
- B) R\$ 44,00.
- C) R\$ 330,00.
- D) R\$ 660,00.

### QUESTÃO 12

Um dos pedidos mais populares de uma sorveteira é o açaí no pote. Para acompanhar o açaí, os clientes devem escolher uma opção de fruta, uma opção de cobertura e uma opção de confeito. As opções de fruta fornecidas são banana e morango, já as opções de cobertura são leite condensado e creme de avelã, enquanto as opções de confeito são chocolate granulado e paçoca.

O número de pedidos distintos que um cliente pode fazer escolhendo uma fruta, uma opção de cobertura e um confeito é igual a

- A) 1.
- B) 3.
- C) 6.
- D) 8.

### QUESTÃO 13

Diariamente, uma pessoa se exercita por meio de diferentes atividades físicas. Utilizando um relógio esportivo, ela foi capaz de registrar o tempo empenhado em suas atividades durante cinco dias da última semana.

A tabela a seguir apresenta essas informações.

Dia da semana	Tempo de atividade física
Segunda-feira	30 minutos
Terça-feira	25 minutos
Quarta-feira	33 minutos
Quinta-feira	30 minutos
Sexta-feira	42 minutos

No período apresentado, o tempo médio que essa pessoa gastou em atividades físicas foi igual a

- A) 25 minutos.
- B) 30 minutos.
- C) 32 minutos.
- D) 42 minutos.

### QUESTÃO 14

Semana passada, Paulo fez uma viagem de Cordisburgo a Belo Horizonte em, aproximadamente, 100 minutos, percorrendo esse trajeto com uma velocidade média de 70 km/h. Hoje ele precisou fazer o mesmo percurso, mas, por condições adversas de trânsito, a velocidade média do veículo de Paulo durante a viagem foi de 50 km/h.

O tempo que Paulo levou para realizar sua viagem hoje foi de, aproximadamente,

- A) 70 minutos.
- B) 80 minutos.
- C) 120 minutos.
- D) 140 minutos.

### QUESTÃO 15

Apesar dos índices de obesidade terem dobrado nas últimas duas décadas, estamos ganhando cada vez mais consciência alimentar. [...] E, no centro dessa onda saudável, está a proteína – os supermercados não deixam mentir. As prateleiras estão repletas de shakes, barrinhas e versões de produtos básicos, como cereais e sopas, enriquecidos com o nutriente. [...] Mas alguns especialistas argumentam que alimentos ricos em proteína (e inflacionados) são um desperdício de dinheiro. Para adultos que não são muito ativos, o recomendado é ingerir diariamente cerca de 0,75 g de proteína por quilo de peso corporal.

BROWN, Jessica. Qual é de fato a quantidade de proteína de que nosso corpo precisa?. **BBC News Brasil**. Disponível em: <https://www.bbc.com/portuguese/vert-fut-44378545>. Acesso em: 23 set. 2023.

De acordo com a recomendação apresentada, um adulto não muito ativo e pesando 60 kg deve ingerir diariamente cerca de

- A) 45 g de proteína.
- B) 60 g de proteína.
- C) 75 g de proteína.
- D) 80 g de proteína.

### QUESTÃO 16

Se você está pensando em comprar um novo smartphone, já deve ter notado em suas pesquisas que vivemos um momento de alta nos preços. Segundo dados da IDC, só no primeiro trimestre de 2020 o preço oficial dos aparelhos no Brasil subiu cerca de 15% [...].

Antes desse aumento, um smartphone no Brasil custava cerca de R\$ 1 280,00.

VANI, Samir. O “novo normal” no preço dos smartphones. **Canal Tech**. Disponível em: <https://canaltech.com.br/colunas/o-novo-normal-no-preco-dos-smartphones/>. Acesso em: 23 set. 2023.

Com a alta, o valor médio de um aparelho no Brasil, no primeiro trimestre de 2020, passou a ser de, aproximadamente,

- A) R\$ 1 088,00.
- B) R\$ 1 295,00.
- C) R\$ 1 430,00.
- D) R\$ 1 472,00.

### QUESTÃO 17

Um mapa do Brasil foi construído de modo que 1 cm no mapa representa uma distância real de 250 km. Sabe-se que a distância linear entre as capitais São Paulo e Rio de Janeiro é de, aproximadamente, 350 km.

No mapa, a distância entre essas duas capitais pode ser representada por um segmento de medida de

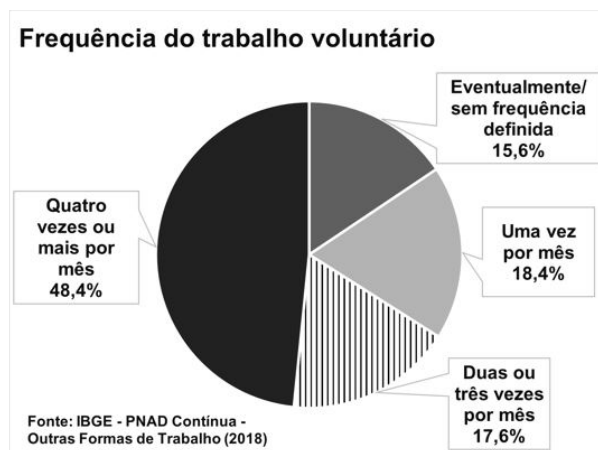
- A) 1,0 cm.
- B) 1,4 cm.
- C) 2,0 cm.
- D) 3,5 cm.

### QUESTÃO 18

O voluntariado foi praticado por 7,2 milhões de pessoas no país em 2018, segundo o suplemento Outras Formas de Trabalho, da Pesquisa Nacional de Amostra por Domicílios Contínua, divulgado pelo IBGE. Segundo a pesquisa, o trabalho voluntário no país era realizado de forma consistente. A duração média das atividades era de 6,5 horas por semana e a maior parte dos voluntários, 48,4%, se dedicavam quatro ou mais vezes por mês.

NETO, João. País tem 7,2 milhões de pessoas que fazem trabalho voluntário. **Agência de Notícias IBGE**. Disponível em: <https://agenciadenoticias.ibge.gov.br/agencia-noticias/2012-agencia-de-noticias/noticias/24268-pais-tem-7-2-milhoes-de-pessoas-que-fazem-trabalho-voluntario>. Acesso em: 23 set. 2023 (adaptado).

O gráfico a seguir apresenta a frequência dos praticantes no trabalho voluntário, segundo a pesquisa.

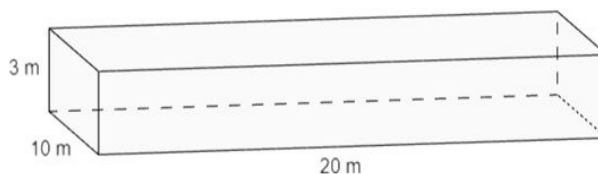


De acordo com os dados do gráfico, o percentual de pessoas que realizam trabalho voluntário de uma a três vezes por mês é igual a

- A) 17,6%.
- B) 18,4%.
- C) 36,0%.
- D) 48,4%.

### QUESTÃO 19

Camila está reformando sua casa e construirá uma piscina. A imagem a seguir apresenta o projeto da piscina, que tem forma de bloco retangular, com as seguintes medidas:

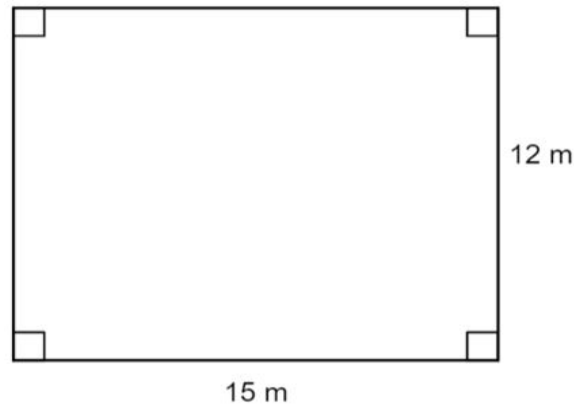


Quando pronta, a capacidade da piscina de Camila será igual a

- A) 33 m<sup>3</sup>.
- B) 66 m<sup>3</sup>.
- C) 600 m<sup>3</sup>.
- D) 1 200 m<sup>3</sup>.

### QUESTÃO 20

Carlos está analisando um terreno que deseja comprar. O terreno tem forma retangular, cujas dimensões são apresentadas a seguir.



A área do terreno que Carlos deseja comprar é de

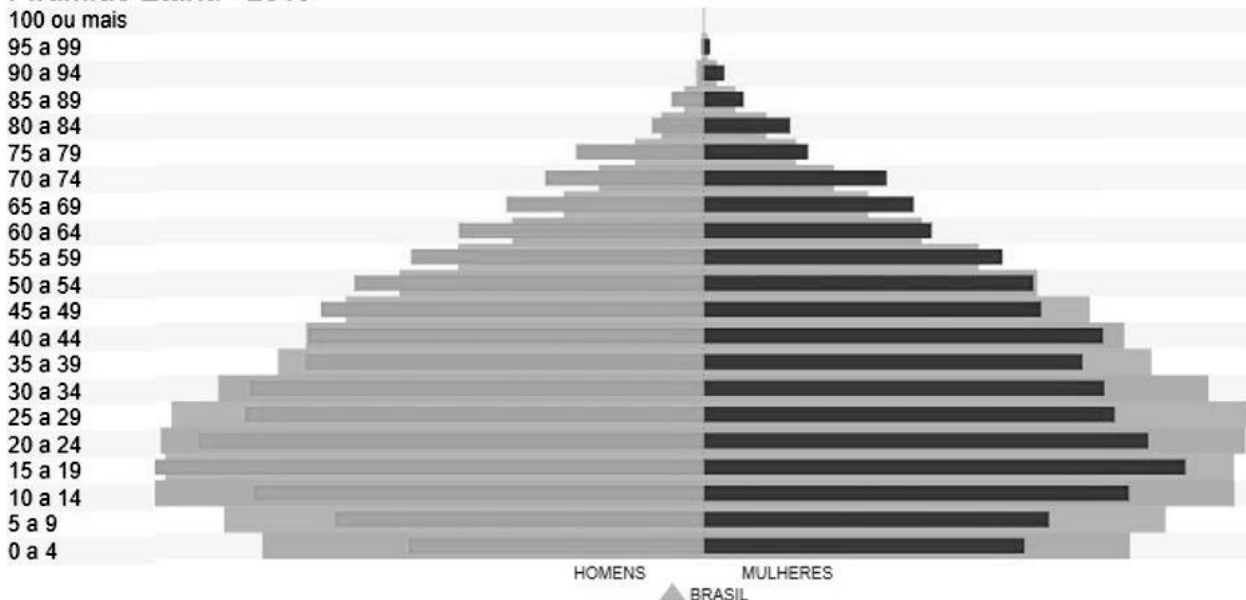
- A) 27 m<sup>2</sup>.
- B) 54 m<sup>2</sup>.
- C) 180 m<sup>2</sup>.
- D) 360 m<sup>2</sup>.

## CONHECIMENTOS GERAIS

### QUESTÃO 21

Analise a imagem a seguir, que apresenta a distribuição da população de Cordisburgo por faixa etária.

#### Pirâmide Etária - 2010



Disponível em: <https://cidades.ibge.gov.br/brasil/mg/cordisburgo/panorama>. Acesso em: 18 ago. 2023.

Com base na análise da imagem apresentada, assinale a alternativa correta.

- A) Em todas as faixas etárias há mais mulheres do que homens.
- B) Há maior concentração populacional na faixa etária entre 10 e 44 anos de idade.
- C) A proporção de crianças abaixo de 9 anos de idade é menor que a proporção de idosos acima de 85 anos de idade.
- D) Cordisburgo segue a mesma tendência populacional que o Brasil em todos os intervalos de idade.

## QUESTÃO 22

Leia o quadrinho a seguir, que apresenta um trecho adaptado da obra de Guimarães Rosa, “Grande Sertão Veredas”.



GUZZELLI, 2016, p. 15.

Na expressão “que se jogava no São Francisco, a fim de ir, Bahia abaixo...” o autor faz referência ao

- A) Rio São Francisco, que nasce na Bahia e deságua entre Alagoas e Sergipe.
- B) Rio São Francisco, que nasce em Minas Gerais e atravessa a Bahia até desaguar entre Alagoas e Sergipe.
- C) Morro São Francisco, forma de relevo que ocupa Minas Gerais, com menores altitudes, e Bahia, com maiores altitudes.
- D) Morro São Francisco, forma de relevo que ocupa Minas Gerais, com maiores altitudes, e Bahia, com menores altitudes.

## QUESTÃO 23

A ocupação territorial do estado de Minas Gerais, desde o período colonial, bem como a ocupação do município de Cordisburgo, deu-se inicialmente a partir da atuação de

- A) naturalistas.
- B) mineradoras.
- C) bandeirantes.
- D) multinacionais.

## QUESTÃO 24

Leia a conceituação a seguir, produzida pelo Instituto do Patrimônio Histórico e Artístico Nacional – IPHAN.

Patrimônio cultural é composto por monumentos, conjuntos de construções e sítios arqueológicos, de fundamental importância para a memória, a identidade e a criatividade dos povos e a riqueza das culturas. Esta composição está definida na Convenção para a Proteção do Patrimônio Mundial, Cultural e Natural, elaborada na Conferência Geral da ONU em 1972.

Disponível em: <http://portal.iphan.gov.br/pagina/detalhes/29>.  
Acesso em: 20 set. 2023.

Considerando a definição anterior, assinale a alternativa que não corresponde a um elemento notável de patrimônio cultural do município de Cordisburgo.

- A) Rodovia MG-231.
- B) Gruta do Maquiné.
- C) Igreja Matriz de Santo Antônio.
- D) Museu Casa Guimarães Rosa.

## QUESTÃO 25

Cursos d'água como os ribeirões da Onça e do Barreiro ou os córregos Quininha e Tamboril são elementos naturais da paisagem, que compõem uma territorialidade regional a partir de conexões com outros canais de maior porte, como o Rio das Velhas.

A unidade territorial formada a partir dessa rede é denominada

- A) bacia sedimentar.
- B) bacia de rejeitos.
- C) bacia hidrográfica.
- D) bacia de contenção.



# FOLHA DE RESPOSTAS (VERSÃO DO CANDIDATO)

1	A	B	C	D	14	A	B	C	D
	<input type="checkbox"/>	<input type="checkbox"/>	<input type="checkbox"/>	<input type="checkbox"/>		<input type="checkbox"/>	<input type="checkbox"/>	<input type="checkbox"/>	<input type="checkbox"/>
2	A	B	C	D	15	A	B	C	D
	<input type="checkbox"/>	<input type="checkbox"/>	<input type="checkbox"/>	<input type="checkbox"/>		<input type="checkbox"/>	<input type="checkbox"/>	<input type="checkbox"/>	<input type="checkbox"/>
3	A	B	C	D	16	A	B	C	D
	<input type="checkbox"/>	<input type="checkbox"/>	<input type="checkbox"/>	<input type="checkbox"/>		<input type="checkbox"/>	<input type="checkbox"/>	<input type="checkbox"/>	<input type="checkbox"/>
4	A	B	C	D	17	A	B	C	D
	<input type="checkbox"/>	<input type="checkbox"/>	<input type="checkbox"/>	<input type="checkbox"/>		<input type="checkbox"/>	<input type="checkbox"/>	<input type="checkbox"/>	<input type="checkbox"/>
5	A	B	C	D	18	A	B	C	D
	<input type="checkbox"/>	<input type="checkbox"/>	<input type="checkbox"/>	<input type="checkbox"/>		<input type="checkbox"/>	<input type="checkbox"/>	<input type="checkbox"/>	<input type="checkbox"/>
6	A	B	C	D	19	A	B	C	D
	<input type="checkbox"/>	<input type="checkbox"/>	<input type="checkbox"/>	<input type="checkbox"/>		<input type="checkbox"/>	<input type="checkbox"/>	<input type="checkbox"/>	<input type="checkbox"/>
7	A	B	C	D	20	A	B	C	D
	<input type="checkbox"/>	<input type="checkbox"/>	<input type="checkbox"/>	<input type="checkbox"/>		<input type="checkbox"/>	<input type="checkbox"/>	<input type="checkbox"/>	<input type="checkbox"/>
8	A	B	C	D	21	A	B	C	D
	<input type="checkbox"/>	<input type="checkbox"/>	<input type="checkbox"/>	<input type="checkbox"/>		<input type="checkbox"/>	<input type="checkbox"/>	<input type="checkbox"/>	<input type="checkbox"/>
9	A	B	C	D	22	A	B	C	D
	<input type="checkbox"/>	<input type="checkbox"/>	<input type="checkbox"/>	<input type="checkbox"/>		<input type="checkbox"/>	<input type="checkbox"/>	<input type="checkbox"/>	<input type="checkbox"/>
10	A	B	C	D	23	A	B	C	D
	<input type="checkbox"/>	<input type="checkbox"/>	<input type="checkbox"/>	<input type="checkbox"/>		<input type="checkbox"/>	<input type="checkbox"/>	<input type="checkbox"/>	<input type="checkbox"/>
11	A	B	C	D	24	A	B	C	D
	<input type="checkbox"/>	<input type="checkbox"/>	<input type="checkbox"/>	<input type="checkbox"/>		<input type="checkbox"/>	<input type="checkbox"/>	<input type="checkbox"/>	<input type="checkbox"/>
12	A	B	C	D	25	A	B	C	D
	<input type="checkbox"/>	<input type="checkbox"/>	<input type="checkbox"/>	<input type="checkbox"/>		<input type="checkbox"/>	<input type="checkbox"/>	<input type="checkbox"/>	<input type="checkbox"/>
13	A	B	C	D					
	<input type="checkbox"/>	<input type="checkbox"/>	<input type="checkbox"/>	<input type="checkbox"/>					

AO TRANSFERIR ESSAS MARCAÇÕES PARA A FOLHA DE RESPOSTAS,  
OBSERVE AS INSTRUÇÕES ESPECÍFICAS DADAS NA CAPA DA PROVA.

**USE CANETA ESFEROGRÁFICA AZUL OU PRETA.**



---

Segundo a Lei nº 9.610/1998, reproduções de natureza não pedagógicas das questões desta prova estão proibidas.