



## CONCURSO PÚBLICO PARA PREENCHIMENTO DE CARGOS EFETIVOS

# CONDUTOR DE URGÊNCIA E EMERGÊNCIA

### CADERNO DE PROVA 27

Data de aplicação: **18/02/2024**

1. Ao receber este Caderno, aguarde a autorização do Fiscal de Sala e em seguida confira se ele contém 30 (trinta) questões objetivas numeradas sequencialmente de 1 a 30, cada uma com 5 (cinco) alternativas indicadas pelas letras 'A' a 'E', das quais, somente uma corresponderá à resposta certa para a questão.
2. **ATENÇÃO!** A Folha de Respostas será entregue oportunamente pelos Fiscais de Sala. Ao recebê-lo, assine-o.
3. Na Folha de Respostas marque a letra correspondente à resposta correta para a questão conforme o seu julgamento, utilizando **caneta esferográfica de tinta azul ou preta**, conforme exemplo abaixo:



**ATENÇÃO!** A marcação de mais de uma alternativa anula a questão, mesmo que uma das respostas esteja correta.

4. O tempo total para a resolução da prova e preenchimento da Folha de Respostas é de 3 (três) horas. Ao terminar as provas, entregue ao Fiscal de Sala a Folha de Respostas, e assine a Lista de Presença.
5. As provas, os gabaritos, os resultados e as demais informações referentes ao Concurso Público, serão divulgados no site oficial da FACAPE: [www.facape.br](http://www.facape.br), conforme previsto no Edital N° 01/2023.
6. O candidato só poderá sair da Sala com o Caderno de Prova após 2 (duas) horas e 30 (trinta) minutos do início da aplicação da prova.

**Boa prova!**

## LÍNGUA PORTUGUESA – NM100

### QUESTÃO 01



<https://www.pensador.com>

Na frase, acima, ocorre um desvio linguístico referente à:

- A) grafia de uma palavra.
- B) regência nominal.
- C) concordância verbal.
- D) regência verbal.
- E) acentuação gráfica.

### QUESTÃO 02



<https://aloalobahia.com>

Na campanha publicitária, está explícito no texto verbal e não verbal que predomina uma função da linguagem que:

- A) utiliza, através de linguagem conotativa, uma combinação de palavras para esclarecer a importância do meio ambiente.
- B) apela, através da conscientização das pessoas, pela preservação da vida marinha.
- C) transmite emoções e sentimentos sobre a preservação do polvo.
- D) valoriza o caráter informativo da linguagem, visto que foi baseada em fatos reais.
- E) usa uma mensagem implícita como uma forma sutil de incentivar o comportamento das pessoas em relação à preservação dos mares.

### QUESTÃO 03

“Em tempos em que quase ninguém se olha nos olhos, em que a maioria das pessoas pouco se interessa pelo que não lhe diz respeito, só mesmo agradecendo àqueles que percebem nossas descrenças, indecisões, suspeitas, tudo o que nos paralisa, e gastam um pouco da sua energia conosco, insistindo.”

Martha Medeiros

“Faça o que for necessário para ser feliz. Mas não se esqueça de que a felicidade é um sentimento simples, você pode encontrá-la e deixá-la ir embora por não perceber sua simplicidade.”

Martha Medeiros

Sobre os aspectos linguísticos dos textos, acima, assinale a alternativa INCORRETA.

- A) Na frase “Em tempos em que quase ninguém se olha nos olhos...” a palavra “ninguém” está acentuada porque é oxítona, possui mais de uma sílaba e termina com o ditongo nasal “em”.
- B) Na passagem “...àqueles que percebem nossas descrenças, indecisões, suspeitas...”, o emprego do “que” inicia uma oração com valor semântico de restrição.
- C) Em “...tudo o que nos paralisa...”, o vocábulo “paralisa” deveria estar grafado com “z” e não com “s”.

- D) A passagem “Mas não se esqueça de que a felicidade é um sentimento simples...” contradiz a expectativa da oração anterior.
- E) As formas verbais “encontrá-la” e “deixá-la” retomam a palavra “felicidade”.

#### QUESTÃO 04

“O reservatório de Sobradinho tem cerca de 320 km de extensão, com uma superfície de espelho d’água de 4.214 km<sup>2</sup> e uma capacidade de armazenamento de 34,1 bilhões de metros cúbicos em sua cota nominal de 392,50 m, constituindo-se no maior lago artificial do mundo, garantindo assim, através de uma depleção de até 12 m, juntamente com o reservatório de Três Marias/CEMIG, uma vazão regularizada de 2.060 m<sup>3</sup>/s nos períodos de estiagem, permitindo a operação de todas as usinas da CHESF situadas ao longo do Rio São Francisco.”

<https://www.chesf.com.br>

Sobre o texto, pode-se afirmar que:

- A) a palavra “reservatório”, no contexto, é vazia de significação.
- B) no trecho “...com uma superfície de espelho d’água de 4.214 km<sup>2</sup> e uma capacidade de armazenamento de 34,1 bilhões de metros cúbicos em sua cota nominal...”, a palavra sublinhada completa a significação do termo “capacidade”. Esse processo é denominado regência verbal.
- C) as palavras “através” e “situadas” têm valor subordinativo de causa.
- D) na passagem “...constituindo-se no maior lago artificial do mundo...”, o adjetivo “artificial” é um determinante do substantivo “lago”, portanto ocorre o processo de construção denominado concordância nominal.
- E) o autor empregou a expressão “períodos de estiagem” com o propósito de demonstrar para o leitor a dificuldade de manter o funcionamento da usina.

#### QUESTÃO 05



Na campanha da Secretaria Municipal da Assistência Social de Sobradinho “É Tempo de Cuidar! Aqueça Seus Corações Com Amor e Empatia”, predomina a seguinte função da linguagem:

- A) referencial.  
B) metalinguística.  
C) fática.  
D) conativa.  
E) emotiva.

#### QUESTÃO 06

Todas as alternativas abaixo estão corretas quanto à concordância verbal, EXCETO:

- A) A gratidão é horizontal, lado a lado. Nunca foi, não é, nem será alguma coisa de baixo para cima ou de cima para baixo.
- B) Preencha a ausência da presença com a lembrança dos momentos compartilhados nas horas alegres, e confie no reencontro feliz.
- C) Há um quê de nobreza, de olho no olho, de igualdade e reconhecimento da alma, do espírito e do pensamento daquele a quem devemos ou de quem somos alvos de gratidão.
- D) O dicionário responde a todas as curiosidades e tem caminhos para todas as filosofias. Vemos as famílias de palavras, longas, acomodadas na sua semelhança, e de repente, os vizinhos tão diversos! Nem sempre elegantes, nem sempre decentes, mas obedecendo à lei das letras.

E) O sol da manhã estimula a produção de Serotonina, que acalmam e equilibram os sentimentos. O resultado desta combinação é um a aparência mais saudável e bonita.

### QUESTÃO 07

“Esquenta-me com a tua .....de mim, compreende-me porque eu não estou me compreendendo. Estou somente amando a barata. E é um amor infernal.”

Clarice Lispector

Assinale a alternativa que preenche CORRETAMENTE a lacuna do trecho transcrito acima.

- A) adivinhação
- B) adivinhassão
- C) adivinção
- D) adivinção
- E) adivinhassão

### QUESTÃO 08

TEMPERATURAS ALTAS AMEÇAM A SAFRA DA TAINHA



<https://ndmais.com.br>

Nessa charge, o autor faz uso da figura de linguagem conhecida como:

- A) hipérbole.
- B) pleonismo.
- C) eufemismo.

- D) prosopopeia.
- E) aliteração.

### QUESTÃO 09

“O município foi idealizado inicialmente para servir de acampamento aos trabalhadores, para que eles pudessem construir a barragem. Porém, após a construção, muitas famílias decidiram adotar o lugar como moradia e assim fixaram habitação na cidade em uma das suas vilas. Depois foram povoados os municípios de São Joaquim, São Francisco, Santana e depois o município de Sobradinho.”

<https://www.guiadoturismobrasil.com>

Na oração “...para que eles pudessem construir a barragem.”, o coesivo sublinhado traduz valor semântico de:

- A) finalidade.
- B) condição.
- C) adversidade.
- D) conclusão.
- E) causa.

### QUESTÃO 10

Assinale a alternativa em que a frase foi construída na voz passiva.

- A) “O lago de Sobradinho é o segundo maior lago artificial do mundo e o primeiro da América Latina...”.
- B) “Devemos manter a nossa certeza de que depois dos dias ruins, os bons virão novamente.”.
- C) “Os resultados são obtidos através da exploração de oportunidades, não pela solução de problemas.”.
- D) “Se você quer construir um negócio, construa primeiro as pessoas.”.
- E) “O acusado foi denunciado pela prática de um crime de estelionato...”.



### MATEMÁTICA – NM200

#### QUESTÃO 11

Quatro amigos realizaram o sonho de ganhar um grande prêmio em uma loteria. Para isso, eles reuniram a quantia necessária para fazer a aposta da seguinte forma: um deles contribuiu com R\$ 30,00, dois deles contribuíram com R\$ 50,00 cada um, e o quarto amigo contribuiu com R\$ 70,00. Combinaram que o prêmio seria dividido entre eles, em partes diretamente proporcionais à quantia que cada um contribuiu. Se o grande prêmio que eles ganharam foi R\$ 24.800.000,00, então o apostador que ganhará a maior quantia receberá:

- A) R\$ R\$ 3.720.000,00
- B) R\$ R\$ 4.680.000,00
- C) R\$ R\$ 6.200.000,00
- D) R\$ R\$ 6.720.000,00
- E) R\$ R\$ 8.680.000,00

#### QUESTÃO 12

Observe o sistema de equações a seguir que possui “x” e “y” como as soluções:

$$\begin{cases} 3x - y = 13 \\ 2x + y = 12 \end{cases}$$

Assim, o valor de  $x + y$  será igual a:

- A) 2
- B) 3
- C) 5
- D) 6
- E) 7

#### QUESTÃO 13

Sabe-se que uma equação do 2º grau  $x^2 + x - 30 = 0$ , possui duas raízes reais e distintas. A maior dessas raízes é igual a:

- A) 5
- B) -6
- C) -4
- D) 3
- E) 1

#### QUESTÃO 14

A capitalização simples de juros se diferencia da capitalização composta pelo fato de que os juros simples são proporcionais ao tempo de aplicação, de acordo com a taxa empregada. Nesse caso, em uma operação a juros simples tem-se o capital de R\$ 1.400,00 produzindo juros durante 5 meses, a uma taxa mensal de 2,5%. O valor do montante ao final desse período será:

- A) R\$ 1.175,00
- B) R\$ 1.180,00
- C) R\$ 1.575,00
- D) R\$ 1.720,00
- E) R\$ 1.725,00

#### QUESTÃO 15

O senhor João instalou um reservatório de água em sua residência. De acordo com as informações contidas na descrição do reservatório, o seu volume é de  $2,00 \text{ m}^3$ . Se em determinado dia esse reservatório estava completamente cheio e foram consumidos  $0,65 \text{ m}^3$  de água sem haver reposição, então a quantidade de litros de água que ainda restam no reservatório é:

- A) 6.500
- B) 2.650
- C) 1.650
- D) 1.350
- E) 135

## INFORMÁTICA BÁSICA – NM500

### QUESTÃO 16

Em relação ao Windows 10, um dos recursos é o Explorador de Arquivos. Qual das afirmações abaixo NÃO diz respeito ao recurso:

- A) Exibir arquivos ocultos.
- B) Pode exibir espaço de disco total e livre.
- C) Localizar arquivos na memória RAM.
- D) Pode exibir informações sobre o computador como memória instalada e velocidade do processador.
- E) Pode ser acessado através de teclas de atalho.

### QUESTÃO 17

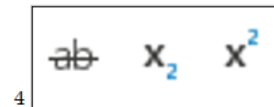
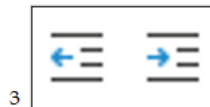

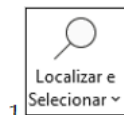
Sobre Mala Direta no Microsoft Office, julgue as afirmações abaixo e em seguida marque a alternativa CORRETA.

- I. Para a criação de mala direta é preciso de um documento modelo (carta, e-mail, etiqueta, por exemplo) e uma fonte de dados, onde esta última pode ser criada no próprio Microsoft Word ou Microsoft Excel.
- II. Depois que você tiver uma fonte de dados conectada ao seu documento, adicionar campos de mesclagem é uma maneira de personalizar um documento com as informações da fonte de dados. Os campos de mesclagem vêm dos títulos de coluna na fonte de dados.
- III. Mala direta é um recurso do Microsoft Office que permite criação de documentos personalizados a partir de uma fonte de dados criando uma carta modelo no Microsoft Word ou Excel.

- A) Apenas a afirmação II é verdadeira.
- B) São verdadeiras as afirmações I e II.
- C) Somente a afirmação I é falsa.
- D) Todas as afirmações são falsas.
- E) Todas as afirmações são verdadeiras.

### QUESTÃO 18

Sobre alguns botões do Microsoft Word e Excel no Microsoft Office, conforme imagens abaixo, julgue as afirmações e em seguida marque a alternativa CORRETA.



- I. O botão (1), no Microsoft Excel, permite acionar ações como Localizar, Substituir, Localizar fórmula, gráficos e outros.
- II. O botão (2), no Microsoft Word, permite fazer a quebra de texto dentro de uma tabela, organizando melhor esteticamente.
- III. Os botões da imagem (3), no Microsoft Excel, são os botões de diminuir e aumentar recuo, possibilitando ajuste do texto deslocando-o na vertical.
- IV. Os botões (4), no Microsoft Word, são, respectivamente: Riscado, Subscrito e Sobreescrito. Com eles podemos fazer uma marcação tachada no texto, colocar o texto mais abaixo e colocar o texto mais acima.

- A) As afirmações I e II são verdadeiras.
- B) São verdadeiras as afirmações III e IV.
- C) Apenas a afirmação II é falsa.
- D) São falsas as afirmações I, II e IV.
- E) Todas são falsas.

### QUESTÃO 19

Em navegadores web existe uma funcionalidade capaz de memorizar informações mais detalhadas sobre você, como seus interesses e hábitos de navegação na web. Significa que um site pode te fornecer conteúdo mais direcionado geralmente na forma de anúncios.

O texto acima refere-se a:

- A) protocolos.
- B) links.
- C) html.
- D) cookies.
- E) memória RAM.



### QUESTÃO 20

Sabemos que a compactação de arquivos hoje é um meio bastante utilizado para unir vários arquivos em um só, e também reduzi-lo para que seja mais fácil de transferir e realizar backup. Um arquivo compactado pode ser reconhecido através de sua extensão.

Qual das extensões abaixo trata-se de um tipo de arquivo compactado?

- A) .doc
- B) .zip
- C) .pdf
- D) .xml
- E) .xls



### CONHECIMENTOS ESPECÍFICOS – NM307

#### QUESTÃO 21

As normas gerais de circulação e conduta descritas no Código de Trânsito Brasileiro estabelecem que os usuários das vias terrestres devem:

- A) abster-se de todo ato que possa constituir perigo ou obstáculo para o trânsito de veículos, de pessoas ou de animais, ou ainda causar danos a propriedades públicas ou privada.
- B) obstruir o trânsito ou torná-lo perigoso, atirando, depositando ou abandonando na via objetos ou substâncias, ou nela criando qualquer outro obstáculo.
- C) abster-se de construir nas margens das vias de modo a tornar o trânsito perigoso, e depositar ou abandonar na via resíduos da construção para criar obstáculo à circulação.
- D) a todo momento ter atenção e domínio sobre o veículo que está conduzindo e sobre os demais veículos que circulam nas vias.
- E) abster-se de todo ato que possa constituir perigo ou obstáculo para o trânsito de veículos, de pessoas ou de animais, ou ainda de guardar distância de segurança lateral e frontal entre o seu e os demais veículos, bem como em relação ao bordo da pista.

#### QUESTÃO 22

O Código de Trânsito Brasileiro define as formas como o condutor de veículo poderá fazer uso de buzina. De acordo com o art. 41 do CTB, o condutor só poderá fazer uso de buzina, desde que em toque breve, nas seguintes situações:

- A) nas áreas urbanas ou rurais, quando for conveniente advertir a um condutor que se tem o propósito de ultrapassá-lo.
- B) no centro comercial das cidades, desde que fora do horário de funcionamento dos estabelecimentos.
- C) somente no horário diurno, no intervalo compreendido entre às 8h e às 18h.
- D) longe das áreas hospitalares.
- E) para fazer as advertências necessárias a fim de evitar sinistros.

#### QUESTÃO 23

A lei 9.503/97 estabelece que são veículos que, além de prioridade no trânsito, gozam de livre circulação, estacionamento e parada, quando da prestação dos respectivos serviços a que se destinam:

- A) os veículos prestadores de serviços de utilidade pública, os de socorro de incêndio e salvamento e as ambulâncias.
- B) socorro de incêndio e salvamento, os de polícia, os de fiscalização e operação de trânsito e as ambulâncias.
- C) socorro de incêndio e salvamento, os de polícia, os de fiscalização e operação de trânsito, as ambulâncias e os veículos prestadores de serviços de utilidade pública
- D) os veículos especiais destinados ao transporte de valores, os de polícia e as ambulâncias.
- E) os veículos destinados ao serviço de escolta de cargas superdimensionadas os de polícia e as ambulâncias.

#### QUESTÃO 24

Para que se estabeleça um comportamento seguro entre todos os tipos de veículos que circulam nas vias, o Código de Trânsito Brasileiro estabelece que, respeitadas as normas de circulação e conduta, em ordem decrescente:

- A) os veículos de transporte de individual de passageiros serão sempre responsáveis pela segurança dos veículos de transporte coletivo de passageiros, os motorizados pelos não motorizados e, juntos, pela incolumidade dos pedestres.
- B) os veículos menores serão sempre responsáveis pela segurança dos maiores, os não motorizados pelos motorizados, e, juntos, pela incolumidade dos pedestres.
- C) os veículos de transporte de coletivo de passageiros serão sempre responsáveis pela segurança dos veículos de transporte individual de passageiros, os não motorizados pelos motorizados e, juntos, pela incolumidade dos pedestres.





- D) os veículos de maior porte serão sempre responsáveis pela segurança dos menores, os motorizados pelos não motorizados e, juntos, pela incolumidade dos pedestres.
- E) os pedestres e ciclistas são sempre responsáveis pela sua própria segurança.

#### QUESTÃO 25

Considere os itens a seguir com as informações relativas ao uso das luzes nos veículos.

- I. O condutor manterá acesos os faróis do veículo, por meio da utilização da luz baixa mesmo durante o dia, em túneis e sob chuva, neblina ou cerração.
- II. nas vias iluminadas e não iluminadas o condutor deve usar luz alta, exceto ao cruzar com outro veículo ou ao segui-lo.
- III. O condutor utilizará o pisca-alerta nas imobilizações ou situações de emergência.

As normas que estão na conformidade da Lei 9.503/97, são apenas as listadas nos itens:

- A) I.
- B) II.
- C) III.
- D) I e II.
- E) I e III.

#### QUESTÃO 26

O comportamento correto e seguro de um pedestre, diante da aproximação de uma ambulância que se encontra em deslocamento realizando serviço de urgência, e está com os dispositivos regulamentares de alarme sonoro e iluminação intermitente acionados, na conformidade com o Código de Trânsito Brasileiro, deve ser:

- A) todos os pedestres deverão deixar livre a passagem pela faixa da esquerda da via, indo para a direita da via e parando, se necessário.
- B) ao ouvirem o alarme sonoro ou avistarem a luz intermitente, deverão atravessar as ruas com a máxima brevidade possível.
- C) ao ouvirem o alarme sonoro ou avistarem a luz intermitente, deverão aguardar no passeio e somente atravessar a via quando o veículo já tiver passado pelo local.

- D) todos os pedestres deverão deixar livre a passagem pela faixa da direita, indo para a esquerda da via e parando, se necessário.
- E) ao ouvirem o alarme sonoro ou avistarem a luz intermitente, deverão parar imediatamente no local em que estiverem e somente atravessa a via quando o veículo já estiver passado.

#### QUESTÃO 27

A direção defensiva é um conjunto de procedimentos adotados pelos condutores dos veículos com a finalidade principal de evitar sinistros no trânsito. Nesse sentido, um motorista experiente, porém, que deixa de fazer a manutenção preventiva no seu veículo e, por conta disso, durante uma viagem, ocorre uma pane mecânica em uma via muito movimentada que resulta em um sinistro. Pode-se afirmar que o motorista contribuiu para o acontecimento do sinistro uma vez que, ao não fazer a manutenção preventiva antes da viagem, ele agiu com:

- A) Imprudência.
- B) Imperícia.
- C) Negligência
- D) Inaptidão.
- E) Incorreção.

#### QUESTÃO 28

Em um local em que acabou de acontecer um sinistro de trânsito verificou-se que um dos envolvidos feriu o braço e apresentava hemorragia. Nesse caso, para conter a hemorragia, um procedimento é:

- A) fazer a compressão direta sobre o ferimento usando um pano limpo ou curativo.
- B) o abaixamento do membro, ou seja, manter o membro afetado abaixo do nível do tórax até que a coagulação ocorra.
- C) colocar a vítima sentada em um local ventilado e afrouxar suas roupas para facilitar a oxigenação das vias aéreas.
- D) fazer massagem cardíaca na vítima.
- E) providenciar imediatamente algum tipo de alimento com alto índice de açúcar para aumentar a glicose da vítima.

### QUESTÃO 29

As placas de regulamentação representadas nas figuras a seguir, quando atendem aos padrões estabelecidos na legislação vigente, significam, respectivamente:



- A) Proibido usar o som do veículo; proibido parar e estacionar; mão única de direção.
- B) Proibido acionar buzina ou sinal sonoro; proibido parar e estacionar; sentido proibido.
- C) Proibido barulho em área hospitalar; proibido estacionar; sentido proibido.
- D) Proibido acionar buzina ou sinal sonoro; proibido parar; mão única de direção.
- E) Proibido acionar buzina ou sinal sonoro; proibido estacionar; mão única de direção.

### QUESTÃO 30

As placas de advertência representadas nas figuras a seguir, quando atendem aos padrões estabelecidos na legislação vigente, significam, respectivamente:



- A) Cruzamento de vias; saliência ou lombada; projeção de cascalho.
- B) Área hospitalar; saliência ou lombada; projeção de cascalho.
- C) Área hospitalar; pista irregular; projeção de cascalho.
- D) Cruzamento de vias; pista irregular; área com desmoronamento.
- E) Área hospitalar; pista irregular; área com desmoronamento.