

Agente de Manutenção e Reparos I

Antes de iniciar a prova, leia as instruções:

1. Para fazer a prova, você recebeu:

- este caderno de prova;
- um cartão de respostas.

2. Confira:

- **no cartão de respostas:** nome, número e cargo, emprego ou função da sua inscrição.
- **no caderno de prova:** cargo, emprego ou função da sua inscrição e quantidade de questões

Este caderno contém: **30 questões**

Duração da prova: **3 horas**

- Incluído o tempo para o preenchimento do cartão de respostas.

3. Verifique, no caderno de prova, se:

- faltam folhas e se a sequência e a quantidade de questões estão corretas.
- há imperfeições gráficas que possam causar dúvidas.

4. **Comunique imediatamente ao fiscal qualquer irregularidade! Não serão admitidas reclamações posteriores.**

5. A interpretação das questões é parte integrante da prova, não sendo permitidas perguntas relacionadas ao conteúdo aos fiscais.

6. Não é permitido qualquer tipo de consulta durante a realização da prova, tampouco empréstimo de materiais e comunicação entre os candidatos.

7. **O cartão de respostas é o único documento válido e utilizado para a correção da prova objetiva.** Preencha-o com cuidado, marcando apenas uma alternativa para cada questão.

8. Não rabisque, rasure, amasse ou dobre o cartão de respostas. É vedada a substituição do cartão de respostas decorrente de erro do candidato.

9. Ao terminar a prova, **devolva ao fiscal da sala, o cartão de respostas e o caderno de questões**, devidamente preenchido e assinado, sendo-lhe permitido copiar suas respostas em meio apropriado e disponibilizado.

10. Ao concluir a prova, permaneça em seu lugar e comunique ao fiscal de sala, aguardando autorização para entregar o material.

11. Os três últimos candidatos devem permanecer em sala a fim de acompanhar o fechamento do material.

Fraudar ou tentar fraudar concursos públicos é crime previsto no art. 311-A do Código Penal.

Nome do Candidato:

Nº de Inscrição:

Transcreva suas respostas neste canhoto e, na presença do fiscal, destaque-o, levando-o consigo para sua conferência.



01	02	03	04	05	06	07	08	09	10
11	12	13	14	15	16	17	18	19	20
21	22	23	24	25	26	27	28	29	30

PORTUGUÊS | 8 QUESTÕES

1) Observar a charge abaixo:



Os elementos da ilustração sugerem que o objetivo da charge é:

- a) Elogiar o trabalho árduo do lenhador.
- b) Ironizar sobre a busca por sombra após destruir a floresta.
- c) Incentivar a atividade de derrubada de árvores.
- d) Desvalorizar a importância das árvores no meio ambiente.

2) Em qual alternativa a palavra está escrita INCORRETAMENTE?

- a) Lembrança.
- b) Enpada.
- c) Ambulância.
- d) Computador.

3) Analisar os nomes abaixo e assinalar a alternativa em que eles estão em ordem alfabética:

- a) Jonas | Fábio | Roberto.
- b) Beatriz | Amanda | Fernanda.
- c) Rafael | Leonardo | Afonso.
- d) Caetana | Juliete | Manuela.

4) Sobre substantivos, assinalar a alternativa em que TODOS são do gênero feminino:

- a) Padre | pai | padrasto.
- b) Atriz | imperatriz | rainha.
- c) Dama | cavalheiro | príncipe.
- d) Coroa | trono | condessa.

5) Analisar o texto manuscrito abaixo:

Cruzei a linha de chegada em penúltimo lugar.

A separação silábica da palavra “penúltimo” está:

- a) Correta.
- b) Incorreta, deveria ser “penú-ltimo”.
- c) Incorreta, deveria ser “penúlt-imo”.
- d) Incorreta, deveria ser “pen-último”.

6) Assinalar a alternativa que apresenta CORRETAMENTE o número de sílabas da palavra “concurso”:

- a) 2
- b) 3
- c) 5
- d) 7

7) Na frase “Evite filas no acesso ao evento.”, a palavra “filas”, sublinhada, é um:

- a) Pronome.
- b) Numeral.
- c) Verbo.
- d) Substantivo.

8) Está CORRETO o plural em:

- a) Bagagem — bagagens.
- b) Mão — mãos.
- c) Animal — animais.
- d) Azul — azuls.

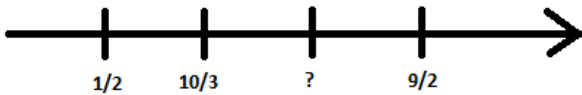
MATEMÁTICA | 8 QUESTÕES

9) Assinalar a alternativa que corresponde à forma geométrica da figura abaixo:



- a) Triângulo.
- b) Quadrado.
- c) Pentágono.
- d) Hexágono.

10) Considerando-se a reta numérica abaixo, assinalar a alternativa que apresenta o número que completa a reta CORRETAMENTE:




- a) $5/2$
- b) $19/5$
- c) $11/2$
- d) $11/4$

11) Tiago comprou um produto que custou R\$ 84,50 e utilizou cinco cédulas de R\$ 20,00 para pagar essa compra. Sendo assim, qual o valor total do troco recebido por Tiago?

- a) R\$ 14,50
- b) R\$ 15,25
- c) R\$ 15,50
- d) R\$ 16,50

12) A Loja New Carros realizou um estudo sobre o valor de venda que cada vendedor alcançou em determinado período de 2023:



É CORRETO afirmar que o vendedor que mais aumentou em valor de vendas de outubro para novembro foi:

- a) Alberto.
- b) Bruno.
- c) Carlos.
- d) Daniel.

13) João deseja medir a distância entre duas cidades em uma estrada. No entanto, ele só tem uma régua que mede centímetros. A distância real entre as cidades é de 180 quilômetros. Como João converteria essa distância em centímetros para medi-la com a régua?

- a) 18.000.000cm
- b) 180.000cm
- c) 1.8000cm
- d) 1.800cm

14) Uma urna contém 3 bolas verdes, 4 bolas azuis e 5 bolas vermelhas. Em um sorteio aleatório, qual a probabilidade de se tirar uma bola que não seja azul?

- a) 7/12
- b) 2/7
- c) 3/7
- d) 8/12

15) Considerando-se a sequência de imagens abaixo, assinalar a alternativa que corresponde ao número de quadrados brancos que terá a imagem 5:

Imagem 1



Imagem 2

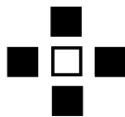
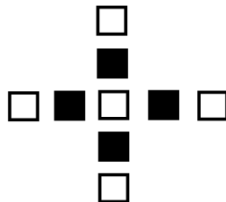


Imagem 3



- a) 8
- b) 9
- c) 12
- d) 13

16) Certa loja está fazendo uma promoção em que as camisas estão com 15% de desconto e as calças com 20% de desconto. Sabendo-se que o preço original de cada camisa é R\$ 40,00 e o de cada calça é R\$ 120,00, se uma pessoa comprar 3 calças e 5 camisas nessa promoção, qual deve ser o valor total pago por ela?

- a) R\$ 458,00
- b) R\$ 462,00
- c) R\$ 466,00
- d) R\$ 472,00

LEGISLAÇÃO E CONHECIMENTOS GERAIS | 6 QUESTÕES

17) De acordo com a Lei Orgânica do Município, a data magna do município é dia:

- a) 7 de setembro.
- b) 30 de novembro.
- c) 23 de abril.
- d) 8 de março.

18) Sobre o Poder Legislativo, conforme a Lei Orgânica do Município, assinalar a alternativa que preenche a lacuna abaixo CORRETAMENTE:

O Poder Legislativo é exercido pela _____.

- a) Prefeitura Municipal
- b) Secretaria Municipal da Administração
- c) Procuradoria Geral do Município
- d) Câmara Municipal de Vereadores

19) Conforme a Lei Municipal nº 831/2006 – Regime Jurídico dos Servidores Públicos do Município, são requisitos básicos para ingresso no serviço público municipal:

- I. Ter idade mínima de 21 anos.
- II. Ser brasileiro, nato ou naturalizado, ou estrangeiro, na forma da lei.

- a) Os itens I e II estão corretos.
- b) Somente o item I está correto.
- c) Somente o item II está correto.
- d) Os itens I e II estão incorretos.

20) Sobre a validade do concurso público, segundo a Lei Municipal nº 831/2006 – Regime Jurídico dos Servidores Públicos do Município, assinalar a alternativa que preenche a lacuna abaixo CORRETAMENTE:

O prazo de validade do concurso será de até _____ anos, prorrogável, uma vez, por igual prazo.

- a) três
- b) dois
- c) cinco
- d) seis

21) Qual é a principal medida preventiva para a propagação de doenças infecciosas?

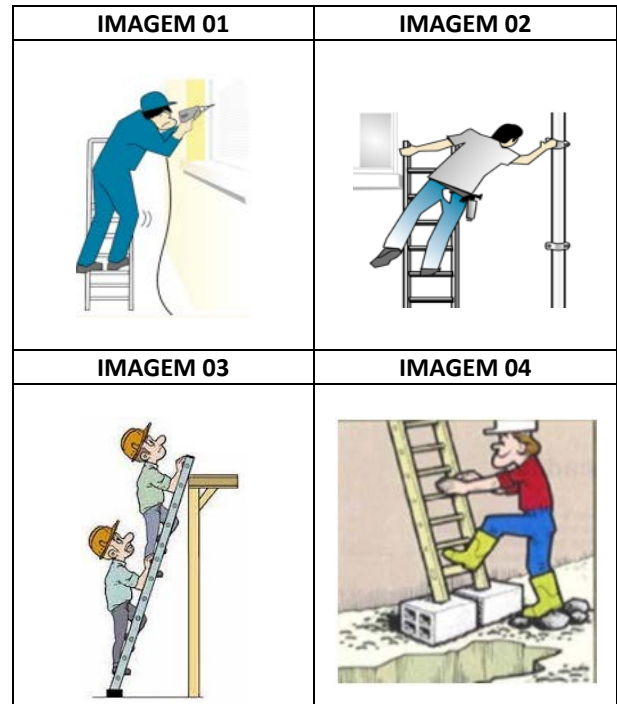
- a) Uso excessivo de antibióticos.
- b) Tratamento sintomático.
- c) Ignorar sintomas iniciais.
- d) Vacinação.

22) Qual é a principal função do ENEM (Exame Nacional do Ensino Médio) no Brasil?

- a) Seleção para o serviço militar.
- b) Avaliação do sistema de saúde.
- c) Ingresso no ensino superior.
- d) Medição do PIB educacional.

CONHECIMENTOS ESPECÍFICOS | 8 QUESTÕES

23) As imagens abaixo ilustram diferentes formas de uso de uma escada manual:



Considerando-se as boas práticas de segurança no uso de escadas manuais, quantas das imagens representam situação de risco à segurança?

- a) Somente uma.
- b) Somente duas.
- c) Somente três.
- d) Todas.

24) A demonstração do desejo de servir, valorizando prontamente a solicitação do usuário, e a manifestação de respeito ao usuário e de cordialidade estão relacionados, respectivamente, à:

- a) Presteza e cortesia.
- b) Cortesia e flexibilidade.
- c) Segurança e credibilidade.
- d) Comunicação e competência.

25) Assinalar a alternativa que preenche as lacunas abaixo CORRETAMENTE:

O corte de mato em terrenos baldios envolve várias etapas para ser realizado de forma eficaz e segura. Nesse sentido, as boas práticas recomendam que o corte inicie a partir _____ do terreno e vá avançando em _____.

- a) de uma borda | linhas contínuas
- b) do centro | degraus
- c) do fundo | linhas diagonais alternadas
- d) das margens | contorno rumo ao centro

26) Os resíduos sólidos da construção civil são aqueles provenientes de construções, reparos, reformas e demolições de obras, bem como os resultantes da preparação e da escavação de terrenos. São considerados resíduos sólidos, EXCETO:

- a) Argamassa.
- b) Grama.
- c) Blocos cerâmicos.
- d) Metais.

27) Assinalar a alternativa que preenche a lacuna abaixo CORRETAMENTE:

Desinfetantes são produtos químicos projetados especificamente para _____ de germes e bactérias.

- a) distribuição
- b) propagação
- c) eliminação
- d) recomposição

28) Durante uma atividade de trabalho sob o sol forte, um colega está bem pálido e relata sentir-se tonto, indicando que pode desmaiar. Entre as seguintes, a ação de primeiros socorros mais apropriada, nesse caso, é:

- a) Dar tapas no rosto da pessoa para tentar reanimá-la.
- b) Jogar bastante água gelada no rosto da pessoa.
- c) Colocar a pessoa deitada de costas e elevar suas pernas.
- d) Sentar a pessoa, mantendo-a com a cabeça erguida e os pés no chão.


29) Capinar o mato é uma das atividades mais comuns de quem vive em ambientes rurais, mas também em urbanos. Quem possui uma chácara, fazenda ou terreno precisa ficar atento para que o mato não cresça tanto. Para isso, são materiais utilizados para esse tipo de finalidade:

- I. Enxada.
- II. Roçadeira.
- III. Aparador de grama.

Está(ão) CORRETO(S):

- a) Somente o item I.
- b) Somente os itens I e II.
- c) Somente os itens II e III.
- d) Todos os itens.

30) Com base nas formas de colocação dos tijolos/blocos em uma alvenaria, analisar a figura a seguir:



É CORRETO afirmar que se trata de um assentamento do tipo:

- a) Meio tijolo.
- b) Cutelo.
- c) Um tijolo.
- d) Um tijolo e meio.