

AVANÇASP



PREFEITURA MUNICIPAL DE BOM  
SUCESSO DE ITARARÉ

PROCESSO SELETIVO  
01/2024

# AGENTE COMUNITÁRIO DE SAÚDE

## Leia atentamente as instruções abaixo

### 1. PROVA E FOLHA DE RESPOSTAS

Além deste Caderno de Prova, contendo 40 (quarenta) questões objetivas, você receberá do Fiscal de Sala:

- 01 (uma) Folha de Respostas destinada às respostas das questões objetivas. Confira se seus dados estão corretos.

### 2. TEMPO

- 03 (três) horas é o tempo disponível para realização da prova, já incluído o tempo para marcação da Folha de Respostas da prova objetiva;

- **01 (uma) hora** após o início da prova é possível, retirar-se da sala levando o caderno de prova;

### 3. INFORMAÇÕES GERAIS

- As questões objetivas têm 05 (cinco) alternativas de resposta (A, B, C, D, E) e somente **uma** delas está correta;
- Verifique se seu caderno está completo, sem repetição de questões ou falhas. Caso contrário, informe imediatamente o Fiscal da Sala, para que sejam tomadas as devidas providências;
- Confira seus dados pessoais na Folha de Respostas, especialmente nome, número de inscrição e documento de identidade e leia atentamente as instruções para preenchimento;
- O preenchimento das respostas da prova objetiva é de sua responsabilidade e não será permitida a troca de Folha de Respostas em caso de erro de marcação pelo candidato;

- Marque, na folha de respostas, com caneta de tinta azul ou preta, a letra correspondente à alternativa que você escolheu.

- Reserve tempo suficiente para o preenchimento de suas respostas. Para fins de avaliação, serão levadas em consideração apenas as marcações realizadas na Folha de Respostas da prova objetiva, não sendo permitido anotar informações relativas às respostas em qualquer outro meio que não seja o caderno de prova;

- Ao se retirar, entregue a Folha de Respostas preenchida e assinada ao Fiscal de Sala.

#### SERÁ ELIMINADO do presente certame o candidato que:

- a) for surpreendido, durante as provas, em qualquer tipo de comunicação com outro candidato;
- b) portar ou usar, qualquer tipo de aparelho eletrônico (calculadoras, bips/pagers, câmeras fotográficas, filmadoras, telefones celulares, smartphones, tablets, relógios, walkmans, MP3 players, fones de ouvido, agendas eletrônicas, notebooks, palmtops ou qualquer outro tipo de computador portátil, receptores ou gravadores) seja na sala de prova, sanitários, pátios ou qualquer outra dependência do local de prova;
- c) se ausentar da sala em que se realizam as provas levando consigo o Caderno de Questões e/ou a Folha de Respostas;
- d) se recusar a entregar a Folha de Respostas, quando terminar o tempo estabelecido;
- e) não assinar a Lista de Presença e/ou a Folha de Respostas.

---

**LÍNGUA PORTUGUESA**

---

**TEXTO**

---

Leia o texto para responder às questões de 1 a 7.

**Tardígrados brilham no escuro para sobreviver à radiação**

Espécie recém-descoberta do animal, considerado o mais resistente do mundo, possui um “escudo” fluorescente capaz de proteger contra raios UV.

Os tardígrados – ou ursos d’água, para os íntimos – são provavelmente os organismos mais resistentes da Terra. Parentes dos artrópodes, esses seres microscópicos conseguem sobreviver a secas prolongadas, temperaturas congelantes ou muito quentes, falta de oxigênio, pressões altíssimas e outras condições extremas. Como se não bastasse tudo isso, cientistas descobriram uma nova espécie de tardígrado com um mecanismo de defesa inusitado: um escudo contra radiação ultravioleta que brilha no escuro.

A descoberta foi feita por acaso. Pesquisadores do Instituto Indiano de Ciência, em Bangalore, coletaram diversos tardígrados em musgos e ambientes aquáticos pelo campus, a fim de estudá-los. Uma das placas contendo as amostras foi deixada embaixo de uma lâmpada de ultravioleta usada para esterilização de materiais. Uma espécie de nematelminto chamada *Caenorhabditis elegans*, que estava na amostra, morreu em 15 minutos de exposição à radiação. Os tardígrados da espécie *Hypsibius exemplaris* também pereceram em até 24 horas. Mas, para a surpresa dos pesquisadores, alguns tardígrados com coloração avermelhada sobreviveram vários dias expostos aos raios mortais de ultravioleta. Mesmo quando a equipe aumentou a dose de radiação em quatro vezes, 60% desses tardígrados continuaram vivendo por até 30 dias.

Estudando mais de perto esses exemplares, os pesquisadores constataram que provavelmente se trata de uma espécie ainda não identificada do gênero *Paramacrobiotus*. O que mais chamou atenção na descoberta foi o fato de que, sob luz

ultravioleta, os tardígrados até então avermelhados brilhavam em um forte tom de azul escuro. Segundo a pesquisa publicada na revista *Biology Letters*, trata-se de um curioso mecanismo de defesa dessa espécie: em seu corpo há pigmentos especiais capazes de transformar a radiação ultravioleta nociva em uma luz azulada que não causa danos, funcionando como um tipo de escudo antirradiação.

A equipe observou que os tardígrados que apresentavam menor quantidade desse pigmento morriam mais rapidamente do que os que brilhavam mais. Ao mesmo tempo, quando os cientistas extraíam a substância desses seres e cobriam outras espécies de tardígrados que não possuem o escudo, como a *Hypsibius exemplaris*, esses também aguentavam mais tempo sob os raios ultravioletas.

Os pesquisadores esperam entender melhor a nova espécie em pesquisas posteriores. É possível, especulam os cientistas, que aquela espécie desenvolveu o mecanismo em um processo de adaptação aos verões quentes e secos da Índia.

**Revista Superinteressante.** (Adaptado). Disponível em: <https://super.abril.com.br/ciencia/tardigrados-brilham-no-escuro-para-sobreviver-a-radiacao/>

---

**QUESTÃO 01**

---

De acordo com o texto, a respeito dos tardígrados é correto afirmar que:

- (A) apenas tardígrados que apresentam pigmentos especiais sobrevivem naturalmente à radiação.
- (B) todas as espécies de tardígrados são igualmente resistentes a quaisquer variações de ambiente.
- (C) os tardígrados sem pigmento especial morrem em poucos minutos quando expostos à radiação.
- (D) a variação de pigmento de espécie para espécie está relacionada à contaminação por nematelmintos.
- (E) os pigmentos especiais dos tardígrados do gênero *Paramacrobiotus* são um mecanismo utilizado em contextos de fuga.

**Considere o excerto a seguir para responder às questões de 2 a 5:**

Uma espécie de nematelminto chamada *Caenorhabditis elegans*, que estava na amostra, morreu em 15 minutos de exposição à radiação. Os tardígrados da espécie *Hypsibius exemplaris* também pereceram em até 24 horas. Mas, para a surpresa dos pesquisadores, alguns tardígrados com coloração avermelhada sobreviveram vários dias expostos aos raios mortais de ultravioleta.

### QUESTÃO 02

No contexto em que ocorre, o emprego do advérbio *também* denota:

- (A) afirmação.
- (B) contraste.
- (C) inclusão.
- (D) exclusão.
- (E) ênfase.

### QUESTÃO 03

O vocábulo “que”, que ocorre no excerto apresentado, classifica-se gramaticalmente como:

- (A) pronome interrogativo.
- (B) pronome relativo.
- (C) pronome indefinido.
- (D) pronome pessoal.
- (E) pronome demonstrativo.

### QUESTÃO 04

No contexto em que ocorre, a regência dos verbos “morreu” e “pereceram” são, respectivamente:

- (A) intransitiva e intransitiva
- (B) transitiva indireta e transitiva indireta.
- (C) transitiva direta e transitiva direta.
- (D) intransitiva e transitiva indireta.
- (E) transitiva indireta e intransitiva.

### QUESTÃO 05

Analise as palavras apresentadas a seguir e assinale a alternativa em que todas permitem flexão de gênero.

- (A) uma; amostra; exposição.
- (B) espécie; tardígrados; expostos.
- (C) chamada; radiação; os.
- (D) pesquisadores; alguns; avermelhada.
- (E) surpresa; vários; ultravioleta.

### QUESTÃO 06

Considere o excerto: “Uma das placas contendo as amostras foi deixada embaixo de uma lâmpada de ultravioleta usada para esterilização de materiais.” A voz verbal que ocorre no contexto apresentado é:

- (A) média.
- (B) passiva sintética.
- (C) passiva analítica.
- (D) reflexiva.
- (E) ativa.

### QUESTÃO 07

Considere o excerto: “A equipe observou **que** os tardígrados que apresentavam **menor** quantidade desse pigmento morriam **mais** rapidamente do que **os** que brilhavam mais.” Em relação às categorias gramaticais, as palavras em destaque no excerto apresentado são classificadas, respectivamente, em:

- (A) pronome relativo, advérbio, advérbio, pronome demonstrativo.
- (B) conjunção integrante, adjetivo, adjetivo, artigo.
- (C) preposição, adjetivo, advérbio, artigo.
- (D) conjunção integrante, adjetivo, advérbio, pronome demonstrativo.
- (E) pronome relativo, advérbio, preposição, pronome pessoal.

**QUESTÃO 08**

Assinale a palavra que apresenta desvio ortográfico em relação ao emprego do hífen.

- (A) porto-alegrense.
- (B) anti-inflamatório.
- (C) macro-ambiente.
- (D) infra-hepático.
- (E) pré-eleitoral.

**QUESTÃO 09**

Considere as seguintes sentenças:

Todas \_ vezes que vamos \_ cidade, chove durante o trajeto. O que é impressionante é que, quando estamos prestes \_ chegar, o céu se transforma, e não deixa qualquer vestígio da chuva.

Assinale a alternativa em que as opções apresentadas preenchem corretamente as lacunas do excerto.

- (A) as; a; a.
- (B) as; à; à.
- (C) às; à; a.
- (D) as; à; a.
- (E) às; a; à.

**QUESTÃO 10**

Analise as sentenças a seguir e assinale aquela em que a palavra *um* atua como pronome indefinido.

- (A) Comprei *um* quilo de batatas para preparar no domingo.
- (B) A poltrona *um* está reservada para o palestrante.
- (C) Encontrei *um* amigo da época da faculdade lá no mercado.
- (D) Esse é *um* que não gosta de trabalhar.
- (E) Procuo *um* bom mecânico para fazer a revisão do carro.

**MATEMÁTICA E RACIOCÍNIO LÓGICO****QUESTÃO 11**

Uma certa competição há duas modalidades. Na primeira modalidade competem 5 pessoas, já na segunda modalidade competem 10 pessoas. Cada pessoa pode obter uma pontuação de 0 a 5. Suponha que na primeira modalidade, a média dos 4 primeiros competidores foi 3,0, e que na segunda modalidade, a média dos 9 primeiros competidores também foi 3,0. Se o 5º competidor da primeira modalidade e o 10º competidor da segunda modalidade obtiverem ambos uma pontuação 5,0, qual a diferença entre a média dos 5 competidores da primeira modalidade, e os 10 competidores da segunda?

- (A) 0.
- (B) 1/5.
- (C) 2/5.
- (D) 2.
- (E) 1/2.

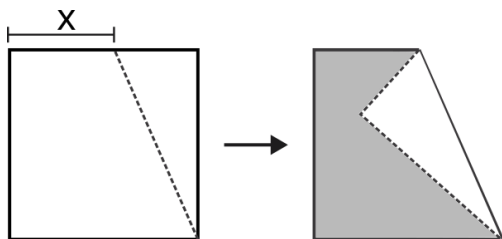
**QUESTÃO 12**

Uma empresa fornece aos seus usuários dois tipos de serviço, chamados de A e B. A equipe de marketing fez uma pesquisa para entender por qual serviço a marca da empresa é conhecida no mercado. A pesquisa resultou que 65% da população conhece o serviço A da marca, 45% conhecem o serviço B da marca, e 10 % não conhecem nenhum serviço da marca. Com base nessas informações, indique a porcentagem da população que conhece os dois serviços simultaneamente:

- (A) 20%.
- (B) 10%.
- (C) 15%.
- (D) 30%.
- (E) 5%.

**QUESTÃO 13**

A figura abaixo mostra uma folha inicialmente quadrada de lado 5 cm que foi dobrada ao longo de um ponto arbitrário do seu lado, juntamente com um de seus vértices, como mostra a figura:



Sabendo que a distância X é 5/9 do lado do quadrado, indique a área da região sombreada, em cm<sup>2</sup>:

- (A) 50/9.
- (B) 100/81.
- (C) 125/9.
- (D) 175/9.
- (E) 50/81.

**QUESTÃO 14**

A duração da bateria de um celular também depende da exigência de processamento que um determinado aplicativo demanda. A tabela abaixo mostra o consumo de bateria por hora de alguns aplicativos.

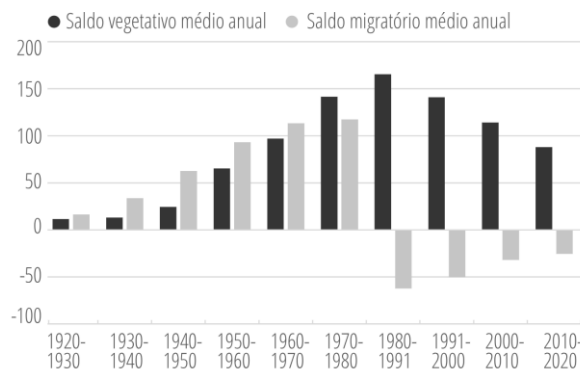
| Uso                    | Consumo de bateria (% da carga total por hora) |
|------------------------|------------------------------------------------|
| Aplicativo de mensagem | 5%                                             |
| Rede social            | 20%                                            |
| Reprodutor de música   | 7%                                             |
| Reprodutor de vídeo    | 15%                                            |

Suponha que uma pessoa, inicialmente com carga total (100% de bateria), passou 2 horas na rede social, 3 horas no aplicativo de mensagem e 40 minutos reproduzindo um vídeo. Essa pessoa deseja usar o restante da carga que sobrou para ouvir música. Por quantas horas ela conseguirá usar o reprodutor de música até que a bateria descarregue completamente?

- (A) 4.
- (B) 5.
- (C) 6.
- (D) 7.
- (E) 8.

**QUESTÃO 15**

A figura abaixo mostra o saldo vegetativo e o saldo migratório do município de São Paulo nos últimos 100 anos:



Fonte: Governo do Estado de São Paulo. SEADE Informa. Acesso em 24/01/2024.

O saldo vegetativo representa o número de nascimentos menos o número de óbitos. Já o saldo migratório representa o número de imigrantes menos o número de emigrantes. Com base no gráfico, é INCORRETO afirmar que:

- (A) No período analisado, sempre houve mais nascimentos que óbitos.
- (B) A partir da década de 1980, mais pessoas emigravam do que imigravam.
- (C) Os imigrantes foram um fator importante no crescimento da população até o final da década de 1970.
- (D) Na década de 1980, o município atingiu sua população máxima, passando a decair nos períodos posteriores.
- (E) A década de 1980 teve o menor saldo migratório da série histórica.

## NOÇÕES DE INFORMÁTICA

### QUESTÃO 16

Considere que utilizando o MS-Windows 7, você tenha optado por excluir um arquivo de uma pasta localizado em seus documentos pessoais. Com essa informação como princípio, é correto afirmar que:

- (A) O arquivo excluído não pode ser recuperado.
- (B) O arquivo excluído só pode ser recuperado por meio da desfragmentação de disco.
- (C) O arquivo excluído só por ser recuperado acessando a pasta “Meus Documentos”.
- (D) O arquivo excluído pode ser restaurado acessando a Lixeira do Windows.
- (E) O arquivo excluído fica temporariamente armazenado no diretório C:\TMP do computador, para que seja possível uma última visualização se necessário.


### QUESTÃO 17

O Windows 7 pode ser definido como um:

- (A) Periférico dos computadores de trabalho.
- (B) Sistema Operacional de computadores.
- (C) Navegador padrão da Microsoft.
- (D) Aplicativo para envio e recepção de e-mails.
- (E) Roteador de internet.

### QUESTÃO 18

A imagem a seguir ilustra uma pasta existente na área de trabalho do MS-Windows 7:



Fonte: 1 Manual Windows-7

A pasta com a sobreposição do símbolo com a seta, indica que:

- (A) A pasta está vazia.
- (B) A pasta foi criada por intermédio de ferramenta de captura de tela.
- (C) A pasta só permite em sua composição arquivos texto.
- (D) A pasta só permite em sua composição arquivos executáveis.
- (E) A pasta refere-se a um atalho de outra existente.

### QUESTÃO 19

Utilizando o MS-Windows 7, se o usuário acionar o comando de atalho Ctrl + Esc, o resultado obtido será:

- (A) A abertura do menu iniciar.
- (B) O fechamento do programa em uso.
- (C) A atualização da janela de navegação ativa.
- (D) O cancelamento da tarefa atual.
- (E) Apagar o item selecionado sem movê-lo para a lixeira.

### QUESTÃO 20

O Microsoft Word é um processador de texto desenvolvido em meados de 1983 e até hoje é usado como um dos principais programas na confecção de redações.

Para salvar de forma automática os textos digitados no programa, pode-se usar as teclas de atalhos:

- (A) Ctrl + A
- (B) Ctrl + B
- (C) Shift + F2
- (D) Shift + 9
- (E) Shift + 8

## CONHECIMENTOS ESPECÍFICOS

### QUESTÃO 21

O Sistema Único de Saúde (SUS), atua em diversos campos, portanto, marque a alternativa que **NÃO** corresponde a um desses campos:

- (A) A execução de ações de vigilância sanitária.
- (B) A execução de ações de saúde bucal.
- (C) A execução de ações de proteção ambiental.
- (D) A execução de ações de saúde do trabalhador.
- (E) A execução de ações de vigilância epidemiológica.



**QUESTÃO 22**

Na Unidade Básica de Saúde (UBS) do bairro Capim branco, a equipe de saúde da família atende Joana, de 35 anos, que busca ajuda para controlar sua pressão arterial elevada. Durante a consulta, Joana revela que enfrenta dificuldades para lidar com o estresse no trabalho. Como a equipe de saúde deve ajudar ao caso em tela ?

- (A) Explorar estratégias para controle do emocional e monitorar regularmente a pressão arterial com acompanhamento médico.
- (B) Ignorar o controle da pressão arterial e focar apenas no estresse de Joana.
- (C) Prescrever medicamentos para pressão arterial sem abordar o estresse.
- (D) Encaminhar Joana para um especialista em cardiologia sem considerar o estresse.
- (E) Desconsiderar as queixas de Joana, já que pressão arterial elevada é comum em dias de estresse.

**QUESTÃO 23**

Qual das afirmações sobre o acolhimento prestado pelo Agente Comunitário de Saúde está **INCORRETA**?

- (A) O acolhimento proporciona espaços de trocas, escuta e compartilhamento de necessidades, possibilitando a manifestação de desejos e angústias.
- (B) Consiste na forma de escuta humanizada.
- (C) O acolhimento não está restrito a um espaço ou local específico.
- (D) A escuta no acolhimento deve estar direcionada estritamente para a demanda apresentada pelo usuário.
- (E) Os serviços devem desenvolver estratégias de acolhimento em todas as fases do processo de cuidado.

**QUESTÃO 24**

Qual é o termo específico que designa as ações de saúde como por exemplo aquelas relacionadas à prevenção de doenças, acompanhamento da saúde das pessoas e famílias, verificação de vacinas regularmente, pesagem de crianças e identificação de sintomas fora do habitual?

- (A) Assistência Secundária.
- (B) Atenção Terciária.
- (C) Assistência Terciária.
- (D) Atenção Secundária.
- (E) Assistência Primária.

**QUESTÃO 25**

Qual dessas opções abaixo representa corretamente o principal modo de transmissão da malária?

- (A) Causada por um parasito do gênero Plasmodium, que é transmitido para humanos pela picada de fêmeas.
- (B) É frequentemente transmitida aos seres humanos por ingestão de alimentos contaminados.
- (C) É transmitida principalmente por objetos cortantes contaminados.
- (D) Causada por transmissão aérea, via gotículas da saliva.
- (E) Transmitida principalmente pelo contato sexual.

**QUESTÃO 26**

No que tange a assistência à saúde, indique se as seguintes afirmativas são Verdadeiras (V) ou Falsas (F):

I - Os serviços privados de assistência à saúde, podem ser conduzidos apenas por pessoas jurídicas de direito privado na promoção.

II - Os serviços privados de assistência à saúde caracterizam-se pela atuação, por iniciativa própria, de profissionais liberais, legalmente habilitados, e de pessoas jurídicas de direito privado na promoção, proteção e recuperação da saúde.

III - A assistência à saúde é livre à iniciativa privada.

- (A) F, V, F.
- (B) V, F, F.
- (C) F, V, V.
- (D) V, V, F.
- (E) Nenhuma das alternativas.

**QUESTÃO 27**

Complete a lacuna a seguir com a palavra que atende corretamente ao seu descritivo:

A(o) \_\_\_\_\_ em saúde tem sido definida como uma coordenação entre setores, ou como uma intervenção coordenada de instituições, visando integrar ações e políticas de diferentes áreas.

- (A) Segmentação.
- (B) Unilateralidade.
- (C) Intersetorialidade.
- (D) Isolamento do caso.
- (E) Individualidade.

**QUESTÃO 28**

Qual é o papel do Agente Comunitário de Saúde em relação ao enfrentamento de surtos e epidemias, de acordo com as diretrizes estabelecidas pela Portaria nº 2.488/2011?

- (A) Descadastrar todas as pessoas de sua microárea quando não estiverem em risco e manter os demais cadastros atualizados.
- (B) Realizar atividades de promoção da saúde apenas em situações de risco extremo.
- (C) Priorizar uma maior quantidade de visitas domiciliares a famílias com menor vulnerabilidade.
- (D) Executar em conjunto com o agente de endemias ações de controle de doenças.
- (E) Realizar atividades programadas e de atenção à demanda obrigatória.

**QUESTÃO 29**

Qual é o principal propósito da microárea ser considerado como unidade operacional?

- (A) Facilitar a implementação de programas de saúde.
- (B) Garantir a administração de recursos financeiros locais.
- (C) Monitorar a situação econômica da região.
- (D) Atender emergências médicas na comunidade.
- (E) Estabelecer políticas ambientais na área designada.

**QUESTÃO 30**

Analise as seguintes afirmativas sobre as atribuições do Agente Comunitário de Saúde (ACS) no controle da dengue. E assinale a alternativa que atende corretamente a sequência de Verdadeiro (V) ou Falso (F):

( ) O ACS não tem responsabilidade direta em informar moradores sobre a dengue, seus sintomas e medidas de prevenção, cabendo a ele apenas a prevenção da proliferação;

( ) A aplicação de larvicida em pontos estratégicos não faz parte das responsabilidades do ACS, mesmo quando necessário;

( ) O ACS deve orientar sempre a população sobre a forma de evitar locais que possam oferecer risco para a formação de criadouros do *Aedes aegypti*.

- (A) F, V, F.
- (B) V, F, V.
- (C) F, F, V.
- (D) V, V, F.
- (E) Nenhuma das alternativas.

**QUESTÃO 31**

Entre as múltiplas obrigações e interações na comunidade, é incumbência do Agente Comunitário de Saúde reconhecer gestantes em sua região de atuação, com o intuito de orientá-las sobre a relevância da realização do:

- (A) Pré-natal, durante toda a gestação.
- (B) Exame sanguíneo.
- (C) Ultrassom.
- (D) Coleta urinária, para identificação de infecções.
- (E) Exame exigido apenas no início da gestação.



**QUESTÃO 32**

Com base no Art. 1º da Lei nº 8.142/1990, que institui o Sistema Único de Saúde (SUS), avalie as seguintes afirmativas e assinale a alternativa correta, sobre as preposições como Verdadeiro (V) ou Falso (F).

( ) O Conselho Nacional de Secretários de Saúde (Conass) e o Conselho Nacional de Secretários Municipais de Saúde (Conasems) têm representação no Conselho Estadual de Saúde;

( ) A Conferência de Saúde se reúne a cada quatro anos para avaliar a situação de saúde e propor as diretrizes para a formulação da política de saúde, sendo convocada exclusivamente pelo Poder Executivo ou extraordinariamente, pelo Conselho de Saúde.

( ) O Conselho de Saúde, em caráter permanente e deliberativo, atua na formulação de estratégias e no controle da execução da política de saúde na instância correspondente.

(A) F, V, F.

(B) V, V, V.

(C) F, V, V.

(D) V, F, V.

(E) Nenhuma das alternativas.

**QUESTÃO 33**

Quais são as principais fichas utilizadas pelo Agente Comunitário de Saúde (ACS) para registrar informações sobre a comunidade, contribuindo para a organização do seu trabalho?

(A) Cadastro Social, Cadastro Familiar, Ficha de Procedimentos e Ficha de Visita Domiciliar.

(B) Cadastro Domiciliar, Cadastro Individual, Ficha de Procedimentos e Ficha de Visita Domiciliar.

(C) Cadastro Coletivo, Cadastro Individual, Ficha de Procedimentos e Ficha de Visita ao posto de saúde.

(D) Cadastro da Região, Cadastro Individual, Ficha de nível de saúde e Ficha de Visita Domiciliar.

(E) Cadastro do bairro, Cadastro Familiar, Ficha de Procedimentos e Ficha de Visita Domiciliar.

**QUESTÃO 34**

\_\_\_\_\_ são programas criados pelo Ministério da Saúde, e vem sendo desenvolvido em parceria com as Secretarias Estaduais e as Secretarias Municipais de Saúde. O objetivo é fazer com que as pessoas da comunidade se previnam de doenças, a partir de informações sobre cuidados de saúde, e tenham sua saúde acompanhada, de forma permanente, pelos Agentes Comunitários.

Leia o enunciado em epígrafe, e assinale a alternativa que preenche a lacuna corretamente:

(A) PACS - Programa de Agentes Comunitários de Saúde.

(B) PACS - Programa de Atenção à Comunidade e Saúde.

(C) PACS - Plano de Assistência à Comunidade e Saúde.

(D) Plano de Acompanhamento de Cuidados e Saúde.

(E) PACS - Projeto de Acompanhamento Comunitário e Saúde.

**QUESTÃO 35**

De acordo com o artigo 4º da Lei nº 8.080/1990, o conjunto de ações e serviços de saúde, são prestados por órgãos e instituições públicas nos âmbitos:

(A) Estaduais e Municipais.

(B) Federais, Estaduais e Municipais.

(C) Municipais apenas.

(D) Federais e Municipais.

(E) Federais e Estaduais.

**QUESTÃO 36**

O conceito de saúde pode ser definido como um estado completo de bem estar:

(A) Físico e Social.

(B) Social.

(C) Mental, pois este é o responsável por todos os outros.

(D) Físico, Mental e Social.

(E) Social e Mental.

---

**QUESTÃO 37**

---

Analise o trecho abaixo, e assinale a alternativa que indica corretamente a lacuna.

Podemos destacar como indicadores de saúde pública o indicador demográfico, socioeconômico, morbidade, fatores de risco, cobertura, recursos e \_\_\_\_\_.

- (A) Índice de distribuição populacional.
- (B) Renda per capita.
- (C) Mortalidade.
- (D) Taxas de contaminação ambiental.
- (E) Nível de urbanização.

---

**QUESTÃO 38**

---

Assinale a alternativa que aponta corretamente o que é abrangido pela Promoção da Saúde:

- (A) Unicamente a ação e responsabilidade governamental.
- (B) Ação individual, Ação da Comunidade e Ação e compromisso Governamental.
- (C) Exclusivamente a intervenção individual e Governamental.
- (D) Prevenção de enfermidades, Ação da Comunidade e Ação e compromisso Governamental.
- (E) Somente a participação comunitária.

---

**QUESTÃO 39**

---

Qual das seguintes opções descreve corretamente a construção do diagnóstico de saúde da comunidade?

- (A) Análise do índice de morbidade apenas, para concluir o diagnóstico.
- (B) Diagnóstico prévio, apenas do ACS, sem a participação da comunidade nesta etapa.
- (C) Coleta exclusiva de dados demográficos.
- (D) Realização de exames laboratoriais em toda a comunidade.
- (E) Análise da situação de saúde mais prevalentes com a participação da comunidade, identificando problemas, recursos e potencialidades.

---

**QUESTÃO 40**

---

Durante suas atribuições, o Agente Comunitário de Saúde (ACS) poderá/deverá no decorrer do atendimento à criança?

- (A) Realizar procedimentos minimamente cirúrgicos durante as visitas domiciliares.
- (B) Dispensar a conservação do cartão de vacinação.
- (C) Estimular os responsáveis pela criança a concluírem seu esquema vacinal.
- (D) Coletar exames laboratoriais para avaliação da saúde infantil.
- (E) Prescrever medicamentos para crianças com doenças comuns.

