

AVANÇASP



PREFEITURA MUNICIPAL DE BOM
SUCESSO DE ITARARÉ

PROCESSO SELETIVO
01/2024

AUXILIAR TÉCNICO EDUCACIONAL

Leia atentamente as instruções abaixo

1. PROVA E FOLHA DE RESPOSTAS

Além deste Caderno de Prova, contendo 40 (quarenta) questões objetivas, você receberá do Fiscal de Sala:

- 01 (uma) Folha de Respostas destinada às respostas das questões objetivas. Confira se seus dados estão corretos.

2. TEMPO

- 03 (três) horas é o tempo disponível para realização da prova, já incluído o tempo para marcação da Folha de Respostas da prova objetiva;

- **01 (uma) hora** após o início da prova é possível, retirar-se da sala levando o caderno de prova;

3. INFORMAÇÕES GERAIS

- As questões objetivas têm 05 (cinco) alternativas de resposta (A, B, C, D, E) e somente **uma** delas está correta;

- Verifique se seu caderno está completo, sem repetição de questões ou falhas. Caso contrário, informe imediatamente o Fiscal da Sala, para que sejam tomadas as devidas providências;

- Confira seus dados pessoais na Folha de Respostas, especialmente nome, número de inscrição e documento de identidade e leia atentamente as instruções para preenchimento;

- O preenchimento das respostas da prova objetiva é de sua responsabilidade e não será permitida a troca de Folha de Respostas em caso de erro de marcação pelo candidato;

- Marque, na folha de respostas, com caneta de tinta azul ou preta, a letra correspondente à alternativa que você escolheu.

- Reserve tempo suficiente para o preenchimento de suas respostas. Para fins de avaliação, serão levadas em consideração apenas as marcações realizadas na Folha de Respostas da prova objetiva, não sendo permitido anotar informações relativas às respostas em qualquer outro meio que não seja o caderno de prova;

- Ao se retirar, entregue a Folha de Respostas preenchida e assinada ao Fiscal de Sala.

SERÁ ELIMINADO do presente certame o candidato que:

- a) for surpreendido, durante as provas, em qualquer tipo de comunicação com outro candidato;

- b) portar ou usar, qualquer tipo de aparelho eletrônico (calculadoras, bips/pagers, câmeras fotográficas, filmadoras, telefones celulares, smartphones, tablets, relógios, walkmans, MP3 players, fones de ouvido, agendas eletrônicas, notebooks, palmtops ou qualquer outro tipo de computador portátil, receptores ou gravadores) seja na sala de prova, sanitários, pátios ou qualquer outra dependência do local de prova;

- c) se ausentar da sala em que se realizam as provas levando consigo o Caderno de Questões e/ou a Folha de Respostas;

- d) se recusar a entregar a Folha de Respostas, quando terminar o tempo estabelecido;

- e) não assinar a Lista de Presença e/ou a Folha de Respostas.

CADERNO DE QUESTÕES

PROVA OBJETIVA

LÍNGUA PORTUGUESA

TEXTO

Leia o texto para responder às questões de 1 a 7.

Tardígrados brilham no escuro para sobreviver à radiação

Espécie recém-descoberta do animal, considerado o mais resistente do mundo, possui um “escudo” fluorescente capaz de proteger contra raios UV.

Os tardígrados – ou ursos d’água, para os íntimos – são provavelmente os organismos mais resistentes da Terra. Parentes dos artrópodes, esses seres microscópicos conseguem sobreviver a secas prolongadas, temperaturas congelantes ou muito quentes, falta de oxigênio, pressões altíssimas e outras condições extremas. Como se não bastasse tudo isso, cientistas descobriram uma nova espécie de tardígrado com um mecanismo de defesa inusitado: um escudo contra radiação ultravioleta que brilha no escuro.

A descoberta foi feita por acaso. Pesquisadores do Instituto Indiano de Ciência, em Bangalore, coletaram diversos tardígrados em musgos e ambientes aquáticos pelo campus, a fim de estudá-los. Uma das placas contendo as amostras foi deixada embaixo de uma lâmpada de ultravioleta usada para esterilização de materiais. Uma espécie de nematelminto chamada *Caenorhabditis elegans*, que estava na amostra, morreu em 15 minutos de exposição à radiação. Os tardígrados da espécie *Hypsibius exemplaris* também pereceram em até 24 horas. Mas, para a surpresa dos pesquisadores, alguns tardígrados com coloração avermelhada sobreviveram vários dias expostos aos raios mortais de ultravioleta. Mesmo quando a equipe aumentou a dose de radiação em quatro vezes, 60% desses tardígrados continuaram vivendo por até 30 dias.

Estudando mais de perto esses exemplares, os pesquisadores constataram que provavelmente se trata de uma espécie ainda não identificada do gênero *Paramacrobotus*. O que mais chamou atenção na descoberta foi o fato de que, sob luz

ultravioleta, os tardígrados até então avermelhados brilhavam em um forte tom de azul escuro. Segundo a pesquisa publicada na revista *Biology Letters*, trata-se de um curioso mecanismo de defesa dessa espécie: em seu corpo há pigmentos especiais capazes de transformar a radiação ultravioleta nociva em uma luz azulada que não causa danos, funcionando como um tipo de escudo antirradiação.

A equipe observou que os tardígrados que apresentavam menor quantidade desse pigmento morriam mais rapidamente do que os que brilhavam mais. Ao mesmo tempo, quando os cientistas extraíam a substância desses seres e cobriam outras espécies de tardígrados que não possuem o escudo, como a *Hypsibius exemplaris*, esses também aguentavam mais tempo sob os raios ultravioletas.

Os pesquisadores esperam entender melhor a nova espécie em pesquisas posteriores. É possível, especulam os cientistas, que aquela espécie desenvolveu o mecanismo em um processo de adaptação aos verões quentes e secos da Índia.

Revista Superinteressante. (Adaptado). Disponível em: <https://super.abril.com.br/ciencia/tardigrados-brilham-no-escuro-para-sobreviver-a-radiacao/>

QUESTÃO 01

De acordo com o texto, a respeito dos tardígrados é correto afirmar que:

- (A) apenas tardígrados que apresentam pigmentos especiais sobrevivem naturalmente à radiação.
- (B) todas as espécies de tardígrados são igualmente resistentes a quaisquer variações de ambiente.
- (C) os tardígrados sem pigmento especial morrem em poucos minutos quando expostos à radiação.
- (D) a variação de pigmento de espécie para espécie está relacionada à contaminação por nematelmintos.
- (E) os pigmentos especiais dos tardígrados do gênero *Paramacrobotus* são um mecanismo utilizado em contextos de fuga.

Considere o excerto a seguir para responder às questões de 2 a 5:

Uma espécie de nematelminto chamada *Caenorhabditis elegans*, que estava na amostra, morreu em 15 minutos de exposição à radiação. Os tardígrados da espécie *Hypsibius exemplaris* também pereceram em até 24 horas. Mas, para a surpresa dos pesquisadores, alguns tardígrados com coloração avermelhada sobreviveram vários dias expostos aos raios mortais de ultravioleta.

QUESTÃO 02

No contexto em que ocorre, o emprego do advérbio *também* denota:

- (A) afirmação.
- (B) contraste.
- (C) inclusão.
- (D) exclusão.
- (E) ênfase.

QUESTÃO 03

O vocábulo “que”, que ocorre no excerto apresentado, classifica-se gramaticalmente como:

- (A) pronome interrogativo.
- (B) pronome relativo.
- (C) pronome indefinido.
- (D) pronome pessoal.
- (E) pronome demonstrativo.

QUESTÃO 04

No contexto em que ocorre, a regência dos verbos “morreu” e “pereceram” são, respectivamente:

- (A) intransitiva e intransitiva
- (B) transitiva indireta e transitiva indireta.
- (C) transitiva direta e transitiva direta.
- (D) intransitiva e transitiva indireta.
- (E) transitiva indireta e intransitiva.

QUESTÃO 05

Analise as palavras apresentadas a seguir e assinale a alternativa em que todas permitem flexão de gênero.

- (A) uma; amostra; exposição.
- (B) espécie; tardígrados; expostos.
- (C) chamada; radiação; os.
- (D) pesquisadores; alguns; avermelhada.
- (E) surpresa; vários; ultravioleta.

QUESTÃO 06

Considere o excerto: “Uma das placas contendo as amostras foi deixada embaixo de uma lâmpada de ultravioleta usada para esterilização de materiais.” A voz verbal que ocorre no contexto apresentado é:

- (A) média.
- (B) passiva sintética.
- (C) passiva analítica.
- (D) reflexiva.
- (E) ativa.

QUESTÃO 07

Considere o excerto: “A equipe observou **que** os tardígrados que apresentavam **menor** quantidade desse pigmento morriam **mais** rapidamente do que **os** que brilhavam mais.” Em relação às categorias gramaticais, as palavras em destaque no excerto apresentado são classificadas, respectivamente, em:

- (A) pronome relativo, advérbio, advérbio, pronome demonstrativo.
- (B) conjunção integrante, adjetivo, adjetivo, artigo.
- (C) preposição, adjetivo, advérbio, artigo.
- (D) conjunção integrante, adjetivo, advérbio, pronome demonstrativo.
- (E) pronome relativo, advérbio, preposição, pronome pessoal.

QUESTÃO 08

Assinale a palavra que apresenta desvio ortográfico em relação ao emprego do hífen.

- (A) porto-alegrense.
- (B) anti-inflamatório.
- (C) macro-ambiente.
- (D) infra-hepático.
- (E) pré-eleitoral.

QUESTÃO 09

Considere as seguintes sentenças:

Todas _ vezes que vamos _ cidade, chove durante o trajeto. O que é impressionante é que, quando estamos prestes _ chegar, o céu se transforma, e não deixa qualquer vestígio da chuva.

Assinale a alternativa em que as opções apresentadas preenchem corretamente as lacunas do excerto.

- (A) as; a; a.
- (B) as; à; à.
- (C) às; à; a.
- (D) as; à; a.
- (E) às; a; à.

QUESTÃO 10

Analise as sentenças a seguir e assinale aquela em que a palavra *um* atua como pronome indefinido.

- (A) Comprei *um* quilo de batatas para preparar no domingo.
- (B) A poltrona *um* está reservada para o palestrante.
- (C) Encontrei *um* amigo da época da faculdade lá no mercado.
- (D) Esse é *um* que não gosta de trabalhar.
- (E) Procuo *um* bom mecânico para fazer a revisão do carro.

MATEMÁTICA E RACIOCÍNIO LÓGICO**QUESTÃO 11**

Uma certa competição há duas modalidades. Na primeira modalidade competem 5 pessoas, já na segunda modalidade competem 10 pessoas. Cada pessoa pode obter uma pontuação de 0 a 5. Suponha que na primeira modalidade, a média dos 4 primeiros competidores foi 3,0, e que na segunda modalidade, a média dos 9 primeiros competidores também foi 3,0. Se o 5º competidor da primeira modalidade e o 10º competidor da segunda modalidade obtiverem ambos uma pontuação 5,0, qual a diferença entre a média dos 5 competidores da primeira modalidade, e os 10 competidores da segunda?

- (A) 0.
- (B) 1/5.
- (C) 2/5.
- (D) 2.
- (E) 1/2.

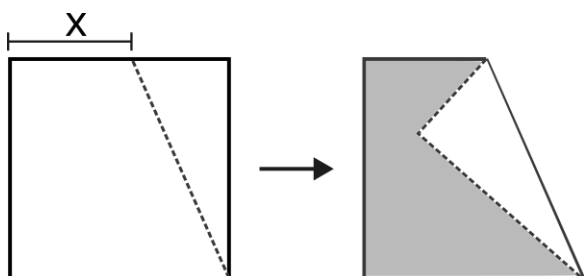
QUESTÃO 12

Uma empresa fornece aos seus usuários dois tipos de serviço, chamados de A e B. A equipe de marketing fez uma pesquisa para entender por qual serviço a marca da empresa é conhecida no mercado. A pesquisa resultou que 65% da população conhece o serviço A da marca, 45% conhecem o serviço B da marca, e 10 % não conhecem nenhum serviço da marca. Com base nessas informações, indique a porcentagem da população que conhece os dois serviços simultaneamente:

- (A) 20%.
- (B) 10%.
- (C) 15%.
- (D) 30%.
- (E) 5%.

QUESTÃO 13

A figura abaixo mostra uma folha inicialmente quadrada de lado 5 cm que foi dobrada ao longo de um ponto arbitrário do seu lado, juntamente com um de seus vértices, como mostra a figura:



Sabendo que a distância X é 5/9 do lado do quadrado, indique a área da região sombreada, em cm²:

- (A) 50/9.
- (B) 100/81.
- (C) 125/9.
- (D) 175/9.
- (E) 50/81.

QUESTÃO 14

A duração da bateria de um celular também depende da exigência de processamento que um determinado aplicativo demanda. A tabela abaixo mostra o consumo de bateria por hora de alguns aplicativos.

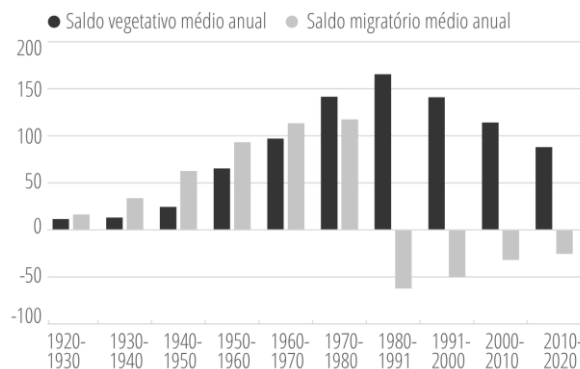
| Uso | Consumo de bateria (% da carga total por hora) |
|------------------------|--|
| Aplicativo de mensagem | 5% |
| Rede social | 20% |
| Reprodutor de música | 7% |
| Reprodutor de vídeo | 15% |

Suponha que uma pessoa, inicialmente com carga total (100% de bateria), passou 2 horas na rede social, 3 horas no aplicativo de mensagem e 40 minutos reproduzindo um vídeo. Essa pessoa deseja usar o restante da carga que sobrou para ouvir música. Por quantas horas ela conseguirá usar o reprodutor de música até que a bateria descarregue completamente?

- (A) 4.
- (B) 5.
- (C) 6.
- (D) 7.
- (E) 8.

QUESTÃO 15

A figura abaixo mostra o saldo vegetativo e o saldo migratório do município de São Paulo nos últimos 100 anos:



Fonte: Governo do Estado de São Paulo. SEADE Informa. Acesso em 24/01/2024.

O saldo vegetativo representa o número de nascimentos menos o número de óbitos. Já o saldo migratório representa o número de imigrantes menos o número de emigrantes. Com base no gráfico, é INCORRETO afirmar que:

- (A) No período analisado, sempre houve mais nascimentos que óbitos.
- (B) A partir da década de 1980, mais pessoas emigravam do que imigravam.
- (C) Os imigrantes foram um fator importante no crescimento da população até o final da década de 1970.
- (D) Na década de 1980, o município atingiu sua população máxima, passando a decair nos períodos posteriores.
- (E) A década de 1980 teve o menor saldo migratório da série histórica.

NOÇÕES DE INFORMÁTICA
QUESTÃO 16

Considere que utilizando o MS-Windows 7, você tenha optado por excluir um arquivo de uma pasta localizado em seus documentos pessoais. Com essa informação como princípio, é correto afirmar que:

- (A) O arquivo excluído não pode ser recuperado.
- (B) O arquivo excluído só pode ser recuperado por meio da desfragmentação de disco.
- (C) O arquivo excluído só por ser recuperado acessando a pasta “Meus Documentos”.
- (D) O arquivo excluído pode ser restaurado acessando a Lixeira do Windows.
- (E) O arquivo excluído fica temporariamente armazenado no diretório C:\TMP do computador, para que seja possível uma última visualização se necessário.


QUESTÃO 17

O Windows 7 pode ser definido como um:

- (A) Periférico dos computadores de trabalho.
- (B) Sistema Operacional de computadores.
- (C) Navegador padrão da Microsoft.
- (D) Aplicativo para envio e recepção de e-mails.
- (E) Roteador de internet.

QUESTÃO 18

A imagem a seguir ilustra uma pasta existente na área de trabalho do MS-Windows 7:



Fonte: 1 Manual Windows-7

A pasta com a sobreposição do símbolo com a seta, indica que:

- (A) A pasta está vazia.
- (B) A pasta foi criada por intermédio de ferramenta de captura de tela.
- (C) A pasta só permite em sua composição arquivos texto.
- (D) A pasta só permite em sua composição arquivos executáveis.
- (E) A pasta refere-se a um atalho de outra existente.

QUESTÃO 19

Utilizando o MS-Windows 7, se o usuário acionar o comando de atalho Ctrl + Esc, o resultado obtido será:

- (A) A abertura do menu iniciar.
- (B) O fechamento do programa em uso.
- (C) A atualização da janela de navegação ativa.
- (D) O cancelamento da tarefa atual.
- (E) Apagar o item selecionado sem movê-lo para a lixeira.

QUESTÃO 20

O Microsoft Word é um processador de texto desenvolvido em meados de 1983 e até hoje é usado como um dos principais programas na confecção de redações.

Para salvar de forma automática os textos digitados no programa, pode-se usar as teclas de atalhos:

- (A) Ctrl + A
- (B) Ctrl + B
- (C) Shift + F2
- (D) Shift + 9
- (E) Shift + 8

CONHECIMENTOS ESPECÍFICOS

QUESTÃO 21

Em observância ao artigo 1º da LDB, a educação abrange os processos formativos que se desenvolvem nos âmbitos destacados a seguir. Assinale a alternativa que não é apontada pelo referido artigo da LDB.

- (A) Movimentos sociais.
- (B) Organizações da sociedade civil.
- (C) Manifestações culturais.
- (D) Instituições de ensino e pesquisa.
- (E) Movimentos políticos.

QUESTÃO 22

Para assegurar o atendimento ao educando, em todas as etapas da Educação Básica, de acordo com o 4º artigo da LDB, são destacadas algumas ações nesse intuito. Nesse sentido, qual estratégia descrita a seguir não é mencionada como uma das propostas legais de atendimento ao educando?

- (A) Programas suplementares de material didático-escolar.
- (B) Transporte.
- (C) Suporte didático-pedagógico.
- (D) Alimentação.
- (E) Assistência à saúde.

QUESTÃO 23

O acesso à Educação Básica obrigatória, amparado pela LDB, constitui um direito público, por meio do qual é possível a qualquer cidadão, grupo de cidadãos, associação comunitária, organização sindical, entidade de classe ou outra legalmente constituída e, ainda, o Ministério Público, acionar o poder público para exigi-lo. Como é definido esse tipo de direito público?

- (A) Subjetivo
- (B) Amplo
- (C) Democrático
- (D) Objetivo
- (E) Igualitário

QUESTÃO 24

De acordo com a Constituição Federal do Brasil, são destinos possíveis para a aplicação de recursos públicos, exceto:

- (A) Escolas públicas.
- (B) Escolas comunitárias.
- (C) Escolas filantrópicas.
- (D) Escolas rurais.
- (E) Escolas filantrópicas.

QUESTÃO 25

Em relação ao Censo Escolar, são atribuições dos gestores dos sistemas estaduais e municipais da educação, exceto:

- (A) Estabelecer mecanismos de controle de qualidade da informação.
- (B) Treinar os agentes que coordenarão o processo censitário nas respectivas escolas vinculadas.
- (C) Acompanhar e controlar toda a execução do processo censitário no seu território.
- (D) Zelar pelo cumprimento dos prazos e normas estabelecidas.
- (E) Responsabilizar-se solidariamente pela veracidade dos dados declarados nos seus respectivos sistemas de ensino.

QUESTÃO 26

Sobre o Censo Escolar, é impropriedade a seguinte afirmação:

- (A) Realizado anualmente pelo Ministério da Educação e coordenado pelo INEP.
- (B) As informações coletadas têm como intuito específico o embasamento para as políticas de Educação Básica.
- (C) A coleta dos dados ocorre em duas etapas específicas: preenchimento da matrícula inicial e preenchimento das informações referentes à situação do aluno.
- (D) Normalmente, o início da coleta de dados ocorre na última quarta-feira do mês de maio.
- (E) O sistema utilizado é o Educacenso.

QUESTÃO 27

Destaque a alternativa a seguir que corresponde a um documento de caráter obrigatório, preenchido anualmente, que possui as seguintes informações: ano civil, nome do aluno, série, ciclo, nível, turma e ano que está cursando, nota, conceito ou resultado da avaliação diagnóstica e apuração anual da frequência do aluno.

- (A) Declaração anual do aluno.
- (B) Ficha individual do aluno.
- (C) Histórico escolar do aluno.
- (D) Guia anual do aluno.
- (E) Registro escolar do aluno.

QUESTÃO 28

A redação de correspondências oficiais deve obedecer certos critérios e aspectos norteadores e/ou normalizadores. Um desses critérios afirma a importância da clareza e precisão do texto, sendo ratificado por meio de qual alternativa?

- (A) Uniformidade do tempo verbal em cada parágrafo.
- (B) Emprego de regionalismos para correspondências inter-regionais.
- (C) Emprego de palavras e expressões em outra língua para conferir credibilidade ao texto.
- (D) Emprego de palavras e expressões rebuscadas, a fim de conferir certo grau de entendimento sobre o assunto descrito.
- (E) Emprego de frases curtas. Emprego da ordem inversa da oração, em alguns casos, no intuito de evitar a ambiguidade.

QUESTÃO 29

Sobre as especificidades da matrícula e transferência, é impropriedade a seguinte afirmativa:

- (A) Antes de efetuar uma matrícula, é importante verificar a situação de guarda da criança, direito de visita e aproximação do menor.
- (B) Caso não haja responsável legal, a matrícula não poderá ser feita enquanto não for regularizada a situação.
- (C) A cópia da certidão de nascimento é um documento obrigatório para ser efetuada a matrícula e deverá ser anexada ao prontuário do aluno.
- (D) A declaração de transferência é obrigatória para eventuais casos de transferência de alunos.
- (E) Comprovado o impedimento específico do responsável pela criança, outra pessoa poderá assinar e efetuar a matrícula mediante procuração simples feita e assinada pelo responsável legal.

QUESTÃO 30

As relações interpessoais construídas dentro da esfera do serviço público, dentre outras coisas, dependem da postura ética dos envolvidos. A ética possui diferentes concepções teóricas que dependem do tipo de abordagem. Nessa sistemática, qual a alternativa que traz um erro interpretativo?

- (A) A ética tem como cerne o bem comum.
- (B) De forma ampla, a ética objetiva conciliar os interesses individuais e sociais.
- (C) A ética propõe princípios para a práxis nos mais diferentes campos da ação humana.
- (D) Por sua característica universal, é possível observar a existência de um único enquadramento ético geral.
- (E) As relações interpessoais em âmbito educacional envolvem a questão da distribuição do poder e do saber.

QUESTÃO 31

Qual o gênero oficial da esfera pública que possui a seguinte estrutura: cabeçalho, identificação do expediente, local e data, endereçamento, assunto, vocativo, corpo do texto, fecho e assinatura?

- (A) Requerimento
- (B) Ofício
- (C) Ata
- (D) Circular
- (E) Declaração

QUESTÃO 32

Não existe apenas um método de arquivamento. Dessa forma, sua escolha dependerá do nível de detalhamento que se pretende ter em relação a um dado arquivo. Observe o exemplo de arquivamento descrito no exemplo a seguir e assinale posteriormente o nome do método exemplificado.

| | |
|----|------------------------|
| S | SECRETARIA DE ASSUNTOS |
| | PEDAGÓGICOS |
| SI | Seção Interna |
| SP | Seção Pedagógica |
| SD | Seção Didática |
| SE | Seção Externa |

- (A) Notação binária
- (B) Sistema alfabético
- (C) Sistema orgânico
- (D) Sistema inorgânico
- (E) Sistema numérico

QUESTÃO 33

Sobre a temporalidade de arquivamento dos documentos escolares, são documentos de tempo de guarda temporária, exceto:

- (A) Regimento
- (B) Atas em geral
- (C) Diário de classe
- (D) Plano escolar
- (E) Calendário escolar

QUESTÃO 34

De acordo com o artigo 211 da Constituição Federal do Brasil, a “União organizará o sistema federal de ensino e o dos Territórios, financiará as instituições de ensino públicas federais e exercerá, em matéria educacional, função redistributiva e supletiva, de forma a garantir equalização de oportunidades educacionais e padrão mínimo de qualidade do ensino mediante assistência técnica e financeira aos Estados, ao Distrito Federal e aos Municípios”. Ainda conforme o mesmo artigo, qual a referência que será empregada para mensurar o padrão mínimo de qualidade anteriormente descrito?

- (A) Custo Aluno Qualidade.
- (B) Padrão Qualidade Educacional.
- (C) Nível Básico Qualidade.
- (D) Padrão Assistência Técnico-Financeira.
- (E) Qualidade Educação Dispendio

QUESTÃO 35

De acordo com o artigo 211, parágrafo 5º da Constituição Federal do Brasil, qual a fonte adicional de financiamento para a Educação Básica pública?

- (A) Imposto de Renda Pessoa Jurídica.
- (B) Imposto sobre operações financeiras.
- (C) Contribuição social do salário-educação.
- (D) Contribuição de financiamento da seguridade social.
- (E) Contribuição social sobre lucro líquido.

QUESTÃO 36

Algumas atitudes oportunizam um ambiente de trabalho mais sadio e, por conseguinte, tornam as relações mais efetivas e harmoniosas. Nesse intuito, alguns princípios devem ser observados, como os destacados a seguir, afora:

- (A) Valor
- (B) Virtude
- (C) Impassibilidade
- (D) Altruísmo
- (E) Justiça

QUESTÃO 37

Inúmeras diretrizes e orientações oportunizam um ambiente mais adequado em relação às práticas voltadas para a saúde dos alunos. No caso específico da Educação Infantil, são medidas corretas a serem implementadas, exceto:

- (A) Para minimizar a ocorrência de piolhos no ambiente escolar, é possível passar pente fino todos os dias, para que, caso um piolho esteja na cabeça, ele já saia e não se prolifere. As UBS fornecem medicação gratuita, se necessário, além de ter receitas caseiras que podem ser utilizadas, como vinagre, óleo e água.
- (B) Não é recomendável o uso de luvas descartáveis para a troca de fraldas nas creches.
- (C) Envolver toda a equipe, a fim de tornar o momento de alimentação algo que contribua para uma visão cultural positiva do ato de alimentar-se.
- (D) Ao perceber alguma mudança no comportamento da criança sugestiva a problemas de ordem de saúde, deve-se notificar à equipe gestora da escola para que os pais ou responsáveis sejam comunicados.
- (E) Nos casos de situações que sinalizem a suspeita de doença infectocontagiosa, a equipe gestora deve entrar em contato com os pais para que busquem imediatamente a criança e para que não retorne à escola a ter estar curada.

QUESTÃO 38

Como é chamado o programa que tem como objetivo contribuir para a formação integral dos estudantes por meio de ações de promoção da saúde, de prevenção de doenças e agravos à saúde e de atenção à saúde, com vistas ao enfrentamento das vulnerabilidades que comprometem o pleno desenvolvimento de crianças e jovens da rede pública de ensino?

- (A) Programa Saúde na Escola.
- (B) Programa Cuidado Saúde.
- (C) Programa de Desenvolvimento Integral.
- (D) Programa Cuidado Espaço Escolar
- (E) Programa Saúde Unidades Escolares.

QUESTÃO 39

Como é denominado o conjunto de documentos em tramitação ou não, que, pelo seu valor primário, é objeto de consultas frequentes pela entidade que o produziu, a quem compete sua administração?

- (A) Arquivo administrativo.
- (B) Arquivo central.
- (C) Arquivo corrente.
- (D) Arquivo intermediário.
- (E) Arquivo permanente.

QUESTÃO 40

A importância da ética no serviço público é algo que todos têm ciência. Porém a compreensão sobre o que a caracteriza gera dúvidas. Nesse sentido, das alternativas a seguir, assinale a única que condiz corretamente com as características e especificidades referentes à ética.

- (A) A ética é parte da vida concreta.
- (B) A ética é manifestada por meio de costumes, hábitos e valores culturalmente estabelecidos.
- (C) Uma pessoa é ética quando age em conformidade com os costumes e valores consagrados.
- (D) Toda pessoa moral é automaticamente ética.
- (E) Uma pessoa ética obedece a convicções e princípios.

