

Concurso Público para provimento dos cargos efetivos da Câmara
Municipal de Caldas Novas – GO

COPEIRA

CADERNO DE QUESTÕES

03/03/2024

DISCIPLINA	QUESTÕES
Língua Portuguesa	01 a 20
Matemática	21 a 40
Atualidades e História, Geografia e Conhecimentos Gerais de Goiás e de Caldas Novas	41 a 60

SOMENTE ABRA ESTE CADERNO QUANDO AUTORIZADO

LEIA ATENTAMENTE AS INSTRUÇÕES

Atenção: Transcreva no espaço designado da sua FICHA DE IDENTIFICAÇÃO, com sua caligrafia usual, considerando as letras maiúsculas e minúsculas, a seguinte frase:

O silêncio é a virtude dos sábios.

1. Quando for autorizado abrir o caderno de questões, verifique se ele está completo ou se apresenta imperfeições gráficas que possam gerar dúvidas. Se isso ocorrer, solicite outro exemplar ao(a) fiscal de sala.
2. Este caderno é composto por questões de múltipla escolha. Cada questão apresenta cinco alternativas de respostas, das quais apenas uma é a correta.
3. O cartão-resposta é personalizado e não será substituído em caso de erro no preenchimento. Ao recebê-lo, confira se seus dados estão impressos corretamente. Se houver erro de impressão, notifique o(a) fiscal de sala.
4. Preencha, integralmente, um alvéolo por questão, utilizando caneta de tinta AZUL ou PRETA, fabricada em material transparente. A questão deixada em branco, com rasura ou com marcação dupla terá pontuação ZERO.

CONCURSO PÚBLICO

Leia o texto 1 a seguir para responder às questões de 01 a 04.

Texto 1

A Casa Porto Seguro seria mais um abrigo comum da capital paulista não fosse um diferencial: o local possui uma horta comunitária, que é cuidada pelas próprias pessoas em situação de rua.

Lá, elas cultivam os mais variados tipos de legumes e verduras, além de ervas para chás, e tudo 100% livre de agrotóxicos. Depois de colhidos, os alimentos têm destino certo: a cozinha da Casa, onde são preparados, diariamente, mais de 130 almoços – além de café da manhã.

Com os legumes e verduras cultivados na horta comunitária, a equipe do abrigo – ou centro de convivência, como gostam de chamá-lo – já garante cinco dias de salada, por mês para os frequentadores, o que rende uma economia de R\$ 200,00 no orçamento.

Já as pessoas em situação de rua ganham muito mais do que um prato de comida cultivada por elas mesmas. Ocupam-se, sentem-se úteis, aprendem um ofício e fazem, de graça, umas das mais eficazes terapias do mundo: mexer na terra.

Disponível em: <https://super.abril.com.br/coluna/planeta/moradores-em-situacao-de-rua-cultivam-horta-comunitaria-em-abrigo>. Acesso em: 12 dez. 2023. [Adaptado].

QUESTÃO 01

O objetivo principal do texto é

- (A) promover o cultivo de alimentos livres de agrotóxicos.
- (B) dar conselhos sobre como fazer economia doméstica.
- (C) expor fatos sobre benefícios da horticultura comunitária.
- (D) criticar a existência de abrigos na cidade de São Paulo.
- (E) relatar histórias pessoais de frequentadores de abrigos.

QUESTÃO 02

De acordo com o texto, a Casa Porto Seguro é utilizada como

- (A) abrigo de pessoas em situação de rua.
- (B) esconderijo de transgressores da lei.
- (C) pousada para pernoite de viajantes.
- (D) habitação clandestina de desabrigados.
- (E) lar permanente de menores abandonados.

QUESTÃO 03

No primeiro e no segundo parágrafos, a palavra “Casa” foi escrita com letra inicial maiúscula porque é um

- (A) substantivo abstrato.
- (B) adjetivo pátrio.
- (C) substantivo próprio.
- (D) pronome de tratamento.
- (E) substantivo derivado.

QUESTÃO 04

No texto, a palavra “ofício” é sinônimo de

- (A) favor.
- (B) certificado.
- (C) prece.
- (D) correspondência.
- (E) profissão.

Leia o texto 2 a seguir para responder às questões de 05 a 08.

Texto 2**Furto de flor**

Furtei uma flor daquele jardim. O porteiro do edifício cochilava e eu furtei a flor.

Trouxe-a para casa e coloquei-a no copo com água. Logo senti que ela não estava feliz. O copo destina-se a beber, e flor não é para ser bebida.

Passei-a para o vaso, e notei que ela me agradecia, revelando melhor sua delicada composição. Quantas novidades há numa flor, se a contemplarmos bem.

Sendo autor do furto, eu assumira a obrigação de conservá-la. Renovei a água do vaso, mas a flor empalidecia. Temi por sua vida. Não adiantava restituí-la ao jardim. Nem apelar para o médico das flores. Eu a furtara, eu a via morrer.

Já murcha e com a cor particular da morte, peguei-a docemente e fui depositá-la no jardim onde desabrochara. O porteiro estava atento e repreendeu-me:

- Que ideia a sua, vir jogar lixo de sua casa neste jardim!

ANDRADE, Carlos Drummond. *Contos plausíveis*. Rio de Janeiro: José Olympio, 1985. p.80.

QUESTÃO 05

O acontecimento que dá início à crônica é

- (A) a flor sendo colocada em um copo de água.
- (B) o furto da flor de um jardim alheio.
- (C) o sonho de enganar um porteiro desatento.
- (D) a distração do porteiro do edifício.
- (E) a tristeza da flor ao ser tirada do jardim.

QUESTÃO 06

No trecho “peguei-a docemente e fui depositá-la no jardim onde desabrochara”, as ações do narrador-personagem indicam que ele estava sentindo

- (A) tédio e cansaço.
- (B) desprezo e indiferença.
- (C) desilusão e desleixo.
- (D) ternura e respeito.
- (E) ansiedade e pânico.

QUESTÃO 07

No trecho “Já **murcha** e **com a cor particular da morte**”, a função dos termos destacados é a de

- (A) nomear a flor como um elemento abstrato.
- (B) substituir o nome da flor para evitar sua repetição.
- (C) indicar alterações visuais no aspecto físico da flor.
- (D) estabelecer relação de posse entre a flor e o narrador.
- (E) expor ações ocorridas na vida da flor.

QUESTÃO 08

No quarto parágrafo, o verbo “furtara” e a locução verbal “via morrer”, respectivamente, foram empregados nos tempos

- (A) pretérito mais-que-perfeito e pretérito imperfeito.
- (B) futuro do presente e pretérito mais-que-perfeito.
- (C) futuro do pretérito e pretérito perfeito.
- (D) presente e pretérito mais-que-perfeito.
- (E) presente e futuro do pretérito.

Leia o texto 3 a seguir para responder às questões de **09** a **12**.

Texto 3

Disponível em:
<https://www.facebook.com/adea.educacaoambiental/photos/a.1186622884681048/3862483163761660/?type=3>. Acesso em: 13 dez. 2023.

QUESTÃO 09

O objetivo do texto é

- (A) divulgar marcas de ferramentas para jardinagem.
- (B) celebrar o dia do profissional da jardinagem.
- (C) criticar quem não aprecia o labor do jardineiro.
- (D) incentivar a criação de um curso de jardineiro.
- (E) fazer um convite para um evento de jardinagem.

QUESTÃO 10

O trecho do texto que apresenta sentido figurado das palavras é

- (A) “Antes que qualquer árvore seja plantada...”.
- (B) “Antes que (...) qualquer lago seja construído...”.
- (C) “Quem não planta jardins...”.
- (D) “... os lagos tenham nascido dentro da alma.”.
- (E) “... nem passeia por eles...”.

QUESTÃO 11

A relação de sentido existente entre o trecho “antes que qualquer árvore seja plantada ou qualquer lago seja construído, é preciso que as árvores e os lagos tenham nascido dentro da alma” e a primeira oração da mensagem escrita é de

- (A) oposição.
- (B) explicação.
- (C) concessão.
- (D) alternância.
- (E) condição.

QUESTÃO 12

Na propaganda, as aspas servem para iniciar e encerrar

- (A) um trecho de texto que contém linguagem informal.
- (B) a descrição da fotografia exposta no texto publicitário.
- (C) um diálogo, substituindo o uso de travessões.
- (D) o recorte de uma ideia oposta à do autor da propaganda.
- (E) a citação direta do trecho de um outro texto.

Leia o texto 4 a seguir para responder às questões 13 a 16.

Texto 4**Jardinagem e Alzheimer**

A jardinagem tem uma característica incrível: torna-nos capazes de manter a atenção, sem esforço!

Segundo um estudo realizado no Reino Unido, a jardinagem reduz o estresse e ajuda a estabelecer vínculos emocionais entre a pessoa e o ambiente, e isso ajuda a evitar demências como o Alzheimer e Parkinson.

A jardinagem promove o relaxamento, estimula a atividade e reduz a agitação. Ao mesmo tempo, cuidar do jardim trabalha a capacidade da realização de tarefas que requerem habilidades cognitivas e o controle de muitas variáveis: clima, terra, água, solo, iluminação, entre outros.

Além disso, imagens, cores, cheiros e ruídos que existem na natureza contribuem para o relaxamento do doente.

ALZHEIMER360. Disponível em: <https://alzheimer360.com/beneficios-jardinagem-alzheimer/>. Acesso em: 13 dez. 2023. [Adaptado].

QUESTÃO 13

As informações contidas no texto reforçam a ideia de que a jardinagem

- (A) funciona como terapia preventiva de doenças.
- (B) é uma atividade que exige muito empenho.
- (C) torna as pessoas mais relaxadas e desatentas.
- (D) provoca estresse em pacientes com demências.
- (E) irrita aqueles que odeiam manusear a terra.

QUESTÃO 14

Para convencer o leitor sobre o ponto de vista defendido no texto, o segundo parágrafo

- (A) apresenta a origem de males como Alzheimer e Parkinson.
- (B) fornece dicas técnicas sobre cuidados com um jardim.
- (C) cita estudo sobre a relação entre jardinagem e saúde mental.
- (D) descreve sintomas de pacientes diagnosticados com estresse.
- (E) expõe uma listagem de exemplos de doenças mentais.

QUESTÃO 15

No terceiro parágrafo, o sinal de dois-pontos é usado para

- (A) indicar a fala de uma personagem.
- (B) introduzir uma exemplificação de itens.
- (C) apresentar a explicação de uma ideia.
- (D) resumir vários argumentos.
- (E) separar um vocativo do restante do texto.

QUESTÃO 16

No terceiro parágrafo, “habilidades cognitivas” pode ser um sinônimo de capacidades de aprendizado. Uma ideia contrária a essa expressão é

- (A) aptidão de raciocínio.
- (B) facilidade de percepção.
- (C) dificuldade de compreensão.
- (D) assimilação de conhecimento.
- (E) apropriação de inteligência.

Leia o texto 5 a seguir para responder às questões de 17 a 20.

Texto 5

BECK, Alexandre. *Armandinho*. Disponível em: <https://cantinholiterariososriosdobrasil.wordpress.com/2015/05/05/armandinho-protetendo-as-arvores-tirinha-de-alexandre-beck/>. Acesso em: 14 dez. 2023.

QUESTÃO 17

O tema principal abordado na tirinha é

- (A) indisciplina infantil.
- (B) amizade entre sapos e crianças.
- (C) autoritarismo de adultos.
- (D) segurança e uso de motosserra.
- (E) desrespeito ao meio ambiente.

QUESTÃO 18

No primeiro quadrinho, o modo verbal em “Sai da frente, moleque!” exprime

- (A) uma ordem.
- (B) um conselho.
- (C) uma indireta.
- (D) um pedido.
- (E) uma súplica.

QUESTÃO 19

No segundo quadrinho, a entonação indicada pelo uso do ponto de exclamação na fala da criança é de

- (A) felicidade.
- (B) alívio.
- (C) medo.
- (D) ironia.
- (E) covardia.

QUESTÃO 20

Na linguagem dos personagens da tirinha, predomina o uso de

- (A) jargões religiosos.
- (B) linguagem coloquial.
- (C) termos técnicos.
- (D) linguagem erudita.
- (E) estrangeirismos.

RASCUNHO**RASCUNHO**

QUESTÃO 21

Quando se abastece um carro com gasolina, na verdade, paga-se por uma mistura de gasolina e etanol. Segundo a Agência Nacional de Petróleo, Gás Natural e Biocombustíveis (ANP), a porcentagem obrigatória de etanol anidro combustível que deve ser adicionado na gasolina é de 27%. De acordo com essas informações, qual é a quantidade de etanol esperada em 50 litros de gasolina?

- (A) 12,0 litros.
- (B) 12,5 litros.
- (C) 13,0 litros.
- (D) 13,5 litros.
- (E) 14,0 litros.

QUESTÃO 22

É comum ouvir que o chuveiro é o vilão da conta de energia elétrica. Para saber qual será o gasto com o chuveiro, basta dividir sua potência em watts por 1.000 e multiplicar o resultado pelo total de horas de uso. Suponha que um chuveiro de potência 5.500 watts foi utilizado durante uma hora diária, durante 30 dias. Qual foi o gasto com esse chuveiro no período citado?

- (A) R\$ 165,00.
- (B) R\$ 167,00.
- (C) R\$ 169,00.
- (D) R\$ 171,00.
- (E) R\$ 173,00.

QUESTÃO 23

O Parque Estadual da Serra de Caldas é uma área protegida do cerrado localizada no estado de Goiás. Sua área é de 121,59 km². Sabendo que 1 km² vale 10⁶ m², sua área em metros quadrados é igual a

- (A) 12.159x10³.
- (B) 12.159x10⁴.
- (C) 12.159x10⁵.
- (D) 12.159x10⁶.
- (E) 12.159x10⁷.

QUESTÃO 24

De acordo com o levantamento feito pela Confederação Nacional do Comércio de Bens, Serviços e Turismo (CNC), realizado entre junho de 2020 e fevereiro de 2022, a cidade de Caldas Novas registrou um aumento aproximado de 24% na taxa de expansão do mercado de trabalho formal em 20 meses, gerando 3.922 novos empregos. Qual era o número aproximado de empregos antes desse período de expansão?

- (A) 15.084.
- (B) 16.008.
- (C) 16.342.
- (D) 17.052.
- (E) 17.827.

QUESTÃO 25

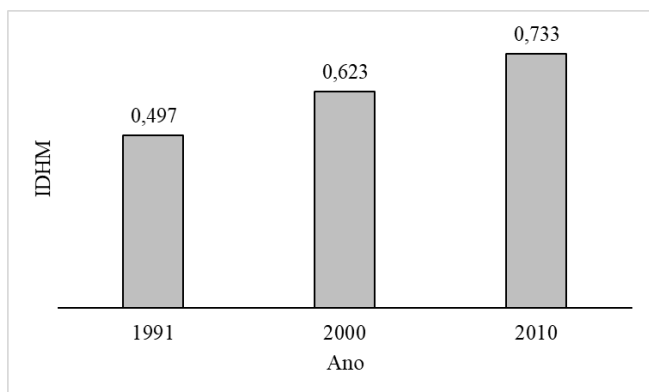
A Goiás Turismo através do Observatório do Turismo do Estado de Goiás revelou em março de 2023 o perfil e a satisfação do turista que visitou o município de Caldas Novas durante o carnaval de 2023. Na pesquisa foram entrevistadas 200 pessoas, das quais 37,5% eram turistas. Quantos entrevistados eram moradores da cidade?

- (A) 65.
- (B) 70.
- (C) 75.
- (D) 115.
- (E) 125.

RASCUNHO

QUESTÃO 26

Observe o gráfico a seguir.



Os dados do gráfico acima foram retirados do Instituto Brasileiro de Geografia e Estatística (IBGE) e representam o Índice de Desenvolvimento Humano Municipal (IDHM) de Caldas Novas, de 1991 a 2010. A partir da análise do gráfico, a maior variação percentual ocorrida de 1991 a 2010 no IDHM foi de aproximadamente

- (A) 23,1%.
- (B) 24,2%.
- (C) 25,3%.
- (D) 26,4%.
- (E) 27,5%.

QUESTÃO 27

Uma pesquisa com os moradores de um condomínio sobre prática de exercícios revelou que 60% dos entrevistados praticam corrida, 20% praticam natação e 15% praticam corrida e natação. Qual é a porcentagem de entrevistados que não praticam corrida ou natação?

- (A) 20%.
- (B) 25%.
- (C) 30%.
- (D) 35%.
- (E) 40%.

RASCUNHO**QUESTÃO 28**

Ao multiplicarmos dois números naturais, o resultado sempre é um número natural. Essa propriedade é chamada de

- (A) reflexiva.
- (B) distributiva.
- (C) fechamento.
- (D) existência do elemento neutro.
- (E) existência do elemento oposto.

QUESTÃO 29

Segundo o Instituto Brasileiro de Geografia e Estatística (IBGE), a razão entre o número de homens e mulheres no estado de Goiás é de, aproximadamente, 49/51. Sabendo que a população feminina no estado corresponde a 3.598.166 habitantes, quantos homens, aproximadamente, habitam Goiás?

- (A) 3.037.041.
- (B) 3.137.371.
- (C) 3.247.111.
- (D) 3.357.051.
- (E) 3.457.061.

QUESTÃO 30

Para fazer uma massa de quibe utilizando 5 kg de trigo, uma salgadeira utiliza 3 kg de carne moída. Quantos quilos de carne moída ela precisará se utilizar 1 kg de trigo?

- (A) 0,60 kg.
- (B) 0,63 kg.
- (C) 0,65 kg.
- (D) 0,67 kg.
- (E) 0,70 kg.

RASCUNHO

QUESTÃO 31

Em uma caixa de brinquedos, há três vezes mais carrinhos do que bonecas. Sabendo que a quantidade de carrinhos e bonecas é igual a 20, qual a diferença entre o número de bonecas e carrinhos?

- (A) 9.
- (B) 10.
- (C) 12.
- (D) 13.
- (E) 15.

QUESTÃO 32

Um produto estava sendo vendido por R\$ 400,00 e, durante uma promoção, passou a ser vendido por R\$ 384,00. Qual o valor do desconto dado ao cliente?

- (A) 4,0%.
- (B) 4,1%.
- (C) 4,2%.
- (D) 4,3%.
- (E) 4,4%.

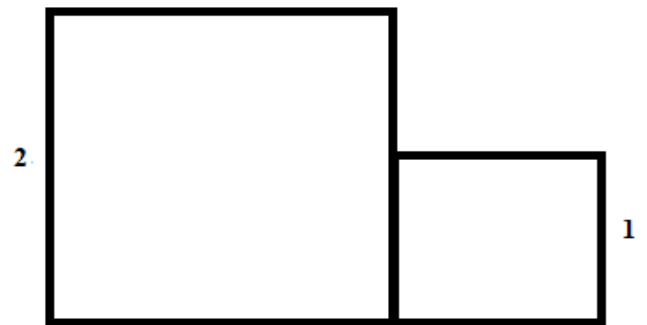
QUESTÃO 33

A Caixa Econômica Federal, até 19 de dezembro, estava estimando que a Mega-Sena da Virada pagaria uma premiação de 540 milhões. O valor posicional do algarismo quatro é uma

- (A) dezena de milhar.
- (B) centena de milhar.
- (C) unidade de milhão.
- (D) dezena de milhão.
- (E) centena de milhão.

RASCUNHO**QUESTÃO 34**

Observe a imagem a seguir.



O perímetro de um quadrado é a soma das medidas de seus lados. Quanto vale a soma dos perímetros dos quadrados representados na imagem?

- (A) 11.
- (B) 12.
- (C) 13.
- (D) 14.
- (E) 15.

QUESTÃO 35

Um triângulo retângulo é tal que seus catetos medem 3 cm e 4 cm. Considerando que o perímetro de um triângulo é a soma das medidas de seus lados, quanto vale o perímetro do triângulo em questão?

- (A) 11 cm.
- (B) $11\sqrt{2}$ cm.
- (C) 12 cm.
- (D) 13 cm.
- (E) $13\sqrt{2}$ cm.

RASCUNHO

QUESTÃO 36

Se o número real A for diferente de zero, existe um número real B tal que o produto entre esses dois números é igual a 1. Se A for diferente de 1, qual o valor de B ?

- (A) 1
- (B) $\frac{1}{A}$
- (C) \sqrt{A}
- (D) A
- (E) $A+1$

QUESTÃO 37

Número palíndromo é aquele que permanece o mesmo quando lemos os seus dígitos de “frente para trás” ou de “trás para frente”. São exemplos de números palíndromos: 12321 e 555. Quanto vale a soma entre o menor e o maior palíndromo de quatro dígitos?

- (A) 10.010.
- (B) 10.889.
- (C) 10.890.
- (D) 10.999.
- (E) 11.000.

QUESTÃO 38

A população da cidade A é o quádruplo da população da cidade B . Se as duas cidades juntas têm uma população de 250.000 habitantes, quantos habitantes têm a cidade B ?

- (A) 50.000.
- (B) 55.000.
- (C) 60.000.
- (D) 65.000.
- (E) 70.000.

QUESTÃO 39

Qual deve ser o maior valor de k para que a equação $x^2+x+k=0$ possua soluções reais?

- (A) -1
- (B) $-1/4$
- (C) 0
- (D) $1/4$
- (E) 1

QUESTÃO 40

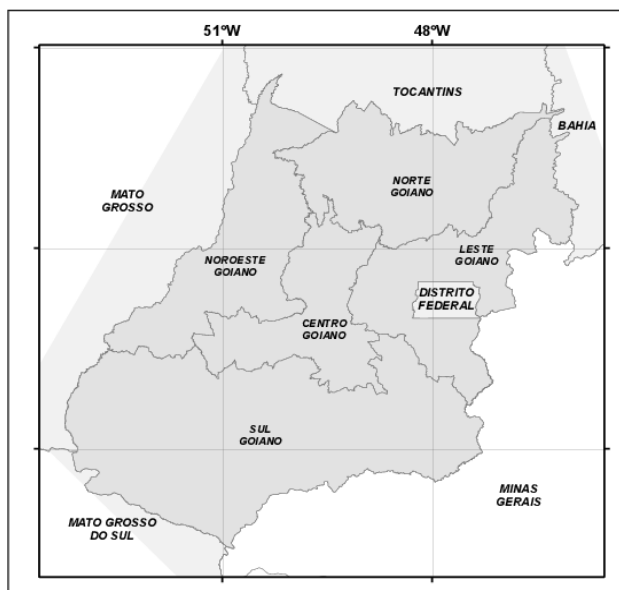
No maior número de quatro algarismos, qual algarismo ocupa o valor posicional das centenas?

- (A) 0.
- (B) 1.
- (C) 5.
- (D) 8.
- (E) 9.

RASCUNHO

QUESTÃO 41

Observe o mapa a seguir.



Disponível em: <https://www.researchgate.net/figure/Figura-2-Composicao-das-mesorregioes-geograficas-do-estado-de-Goiás_fig2_285566252>. Acesso em: 20 de dez. 2023.

Desde 05 de junho de 1990, Goiás é dividido em cinco mesorregiões, que são definidas com base nas questões socioeconômicas, no quadro natural e na rede de comunicação dos municípios do entorno. Considerando esses fatores, a cidade de Caldas Novas se localiza no

- (A) centro goiano.
- (B) sul goiano.
- (C) norte goiano.
- (D) leste goiano.
- (E) noroeste goiano.

QUESTÃO 42

Leia o trecho a seguir.

Janeiro, mês que as matas ficam bem crescidas [...]. As plantas crescidas na roça ficam em ponto de colher [...] Março os homens começam a preparar as foices e machados para dar início à roçada [...] agosto é o mês de plantar roça [...] novembro, mês que as plantas já estão brotando [...].

SUYÁ, Thiayu. *Geografia Indígena: Parque Nacional do Xingu*. Brasília: Instituto Socioambiental, 1988. p. 57. [Adaptado].

Há diferentes modos de produzir em um espaço geográfico. O depoimento do indígena acima reflete

- (A) as técnicas de defumação ligadas à cultura.
- (B) a mudança da paisagem provocada pela modernização.
- (C) o tempo da produção conectado ao tempo da natureza.
- (D) a produção da terra vinculada à tecnologia de ponta.
- (E) a rotação de culturas associada à agroecologia.

QUESTÃO 43

Leia o texto a seguir.

Caldas Novas foi (re)descoberta por Martinho Coelho de Siqueira em 16 de fevereiro de 1777. Esse sítio recebeu o nome de Caldas Novas em oposição à já descoberta Caldas Velhas, lugar onde existiam outras insurgências de águas termais. Atraídos pela fama das águas, muitos doentes, dirigiam-se ao povoado na ânsia de se verem curados.

TEIXEIRA Neto, A. *Complexo Termal de Caldas Novas*. Goiânia: Ed. UFG, 1986.

O autor fala de uma mudança do nome da cidade. O antigo nome, Caldas Velhas, foi dado

- (A) pelos indígenas caiapós e xavantes que habitavam a região.
- (B) por Sebastião Marinho, que esteve na região em 1545.
- (C) por Martinho Coelho, que adquiriu sesmarias junto à Serra de Caldas.
- (D) pelo farmacêutico Palmerston, que construiu o primeiro balneário público para atender os doentes.
- (E) pelos bandeirantes que estavam à procura do ouro nos anos de 1722.

QUESTÃO 44

Estudos geológicos mais recentes, ao trazerem uma explicação científica para a origem das águas quentes da região de Caldas Novas, asseguram que as águas termais da região têm origem

- (A) no processo de geotermia.
- (B) na existência de um vulcão desativado.
- (C) no movimento de placas tectônicas da região.
- (D) na presença de minerais provenientes do interior do solo.
- (E) na presença de uma fonte de calor na região da serra de Caldas.

QUESTÃO 45

A população de Goiás em 2000 era de 5.003.228 pessoas, correspondente a 42,99% da população do Centro-Oeste. O crescimento populacional foi maior nos últimos anos. Os fatores que atuam no aumento da população são

- (A) a fecundidade e a expectativa de vida.
- (B) o desemprego e a oferta de trabalho.
- (C) a conurbação e a metropolização.
- (D) a relação entre natalidade e mortalidade.
- (E) a fertilidade e a desigualdade social.

QUESTÃO 46

Segundo os dados do Censo de 2022, a Região Metropolitana de Goiânia está entre as que mais crescem no Brasil. A importância da definição dos municípios que compõem uma região metropolitana é

- (A) fortalecer a metrópole com migrações pendulares de mão de obra.
- (B) regular as relações de dependência entre os municípios menores para não sobrecarregar a sede.
- (C) distribuir as funções de cada município que dela faz parte e descentralizar os serviços.
- (D) favorecer o desenvolvimento socioeconômico e financeiro por meio da influência da metrópole.
- (E) constituir um plano diretor integrado regulando o sistema de tributação.

QUESTÃO 47

A rede hidrográfica brasileira se caracteriza por um denso conjunto de rios e seu regime pluvial tem diferentes extensões. A hidrografia do Estado de Goiás é composta pelas bacias do

- (A) Paraná, Paraguai e Uruguai.
- (B) Atlântico Leste, Paranaíba e Nordeste Ocidental.
- (C) Rio da Prata, Paraná e Uruguai.
- (D) Amazonas, Tocantins-Araguaia e Platina.
- (E) Paranaíba, Tocantins e São Francisco.

QUESTÃO 48

O Estado de Goiás tem diversas variações de relevo com características físicas de contrastes marcantes. A Cidade de Goiás, primeira capital do Estado, destaca-se pela presença da

- (A) Serra Dourada, com 1080 metros.
- (B) Serra dos Cristais, com 1250 metros.
- (C) Serra dos Pireneus, com 1395 metros.
- (D) Serra das Traíras, com 1340 metros.
- (E) Serra da Bodoquena, com 132 metros.

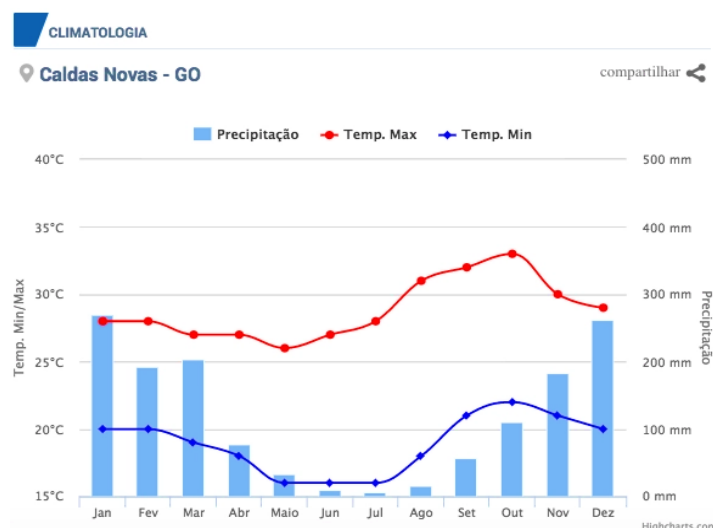
QUESTÃO 49

A formação do território goiano é marcada por inúmeros fatores. As mudanças econômicas ocorridas no sul goiano ao longo da segunda metade do século XX são marcadas

- (A) pelo desenvolvimento da mineração e da criação de gado, formando expressivos núcleos urbanos.
- (B) pelo fortalecimento da navegação e do comércio através dos rios Araguaia e Tocantins.
- (C) pela eclosão de movimentos camponeses e assentamentos rurais, dinamizando a produção de alimentos.
- (D) pela expansão do agronegócio canavieiro e aumento das usinas de cana-de-açúcar.
- (E) pelo aumento dos incentivos fiscais para construção de aeroportos e ferrovias.

QUESTÃO 50

Observe o climograma a seguir.



Disponível em: <<https://guia.melhoresdestinos.com.br/quando-ir-a-caldas-novas-214-2739-p.html>>. Acesso em: 21 de dez. 2023.

A partir da análise do climograma da cidade de Caldas Novas, percebe-se a presença de estações que se caracterizam por

- (A) um verão chuvoso e quente e um inverno seco e quente.
- (B) um verão seco e quente e um inverno chuvoso e quente.
- (C) um outono e uma primavera chuvosos, com temperaturas amenas.
- (D) um outono seco e quente e um inverno chuvoso e ameno.
- (E) uma primavera e um outono com temperaturas amenas e pouca chuva.

QUESTÃO 51

A cultura goiana é marcada por um intenso calendário de festas. Desde 1876 ocorre, no mês de outubro, em louvor a Nossa Senhora do Rosário, uma festa que mistura aspectos religiosos de matriz africana e cristã, resultando em uma tradição plural do sincretismo, com riqueza de instrumentos e indumentárias. Trata-se

- (A) das Cavalhadas de Pirenópolis.
- (B) da Congada de Catalão.
- (C) da Festa do Divino de Trindade.
- (D) da Procissão do Fogaréu na Cidade de Goiás.
- (E) da Folia de Reis em Itapuranga.

QUESTÃO 52

Os biomas brasileiros são constituídos por um conjunto de ecossistemas, apresentando características semelhantes como vegetação, fauna, solo e clima. Tais características variam conforme a localização geográfica. A cidade de Caldas Novas está dentro do bioma

- (A) mata atlântica.
- (B) cerrado.
- (C) pampa.
- (D) caatinga.
- (E) pantanal.

QUESTÃO 53

Leia o texto a seguir.

De acordo com a tradição oral [...] em 1859 Dona Ana das Dores de Almeida partiu de Jaraguá para Bonfim (Silvânia) numa viagem com tropa de burros. Um dos animais levava a imagem de Sant'Anna, de quem era muito devota. Pararam para descansar nas proximidades do Ribeirão das Antas, quando, por motivo desconhecido, o animal com a imagem da santa sai em desabalada carreira pelas matas da região. Como já anoitecia, na manhã seguinte, dona Ana determina aos peões a busca pelo animal, que, encontrado, estava com sua carga espalhada pelo chão. Ao tentar recolocar a mala com a imagem no lombo do burro, os peões não conseguiram retirá-la do chão, levando Dona Ana a interpretar o fato como o sinal de que a santa desejava permanecer no local.

Disponível em: <<https://portalcontexto.com/de-santana-de-parnaiba-a-santana-das-antas/>>. Acesso em: 21 de dez. 2023. [Adaptado].

O trecho conta o modo como a tradição local constrói o mito fundador de uma importante cidade de Goiás em 1871. Trata-se de

- (A) Trindade.
- (B) Ceres.
- (C) Anápolis.
- (D) Piracanjuba.
- (E) Catalão.

QUESTÃO 54

A população indígena, segundo o último censo, dobrou nos últimos 12 anos, representando um crescimento de 127% desde a última contagem em 2010. Considerando as etnias existente e aldeadas em Goiás, temos os

- (A) tapuias, karajás e avá canoeiros.
- (B) tupinambás, krenak e timbiras.
- (C) terenas, guaranis e kaiowás.
- (D) ianomamins, gajajaras e kaiapós.
- (E) xavantes, ticunas e potiguaras.

QUESTÃO 55

Leia o texto a seguir.

É a mesorregião mais populosa do Estado. É onde se localiza a capital do Estado. Representa mais de 50% do PIB do Estado.

A mesorregião de Goiás que compreende esse conjunto de características é denominada de

- (A) noroeste goiano.
- (B) norte goiano.
- (C) centro goiano.
- (D) leste goiano.
- (E) sul goiano.

QUESTÃO 56

O Estado de Goiás recebe pessoas oriundas de todas as regiões do Brasil. Esta característica permanece atualmente e torna indispensável uma melhor compreensão das condições de vida e interação social dos imigrantes em território goiano. Atualmente é comum perceber a presença de refugiados latino-americanos, devido

- (A) à expansão da fronteira agrícola.
- (B) às oportunidades de vida e trabalho.
- (C) à exploração mineral.
- (D) aos investimentos em infraestrutura.
- (E) às doações de terra para agricultura.

QUESTÃO 57

Os Kalunga são um povo que ocupa um dos maiores territórios quilombolas do país, abrangendo os municípios de Cavalcante, Monte Alegre e Teresina de Goiás. Essa comunidade não tinha garantias em relação às suas terras e manutenção dos seus modos de vida. Após muito anos de luta e resistência, a legislação que modificou essa situação foi

- (A) a Constituição Federal de 1988, que é a lei suprema nacional.
- (B) a Lei de Terras de 1888, que define a política de terras no Brasil.
- (C) o PL 490, que é conhecido como Marco Temporal.
- (D) a Lei nº 6.938/81, que dispõe pelo equilíbrio ecológico.
- (E) a Lei nº 13.465/17, que permite a regulamentação fundiária.

QUESTÃO 58

O processo de desenvolvimento do Estado de Goiás pode ser interpretado, a partir do século XVII, por ciclos econômicos, sendo eles, em ordem cronológica,

- (A) o extrativismo vegetal, a cana-de-açúcar e o agronegócio.
- (B) o industrial, o pós-industrial e o tecnológico.
- (C) a mineração, a indústria e o agronegócio.
- (D) a cana-de-açúcar, a pecuária e a indústria.
- (E) a mineração, a agropecuária e a indústria.

QUESTÃO 59

A rede urbana constitui uma interligação hierárquica entre cidades que estabelecem relações entre si, fluxo de pessoas, mercadorias, capitais e informações. Nesse contexto, Brasília representa

- (A) um centro regional.
- (B) uma metrópole nacional.
- (C) uma metrópole regional.
- (D) uma cidade média.
- (E) uma metrópole global.

QUESTÃO 60

Caldas Novas se destaca pelo turismo hidrotermal, com a presença de inúmeros parques aquáticos. Essa atividade compõe o setor econômico

- (A) primário.
- (B) secundário.
- (C) terciário.
- (D) quaternário.
- (E) quinquário.

RASCUNHO