

AVANÇASP



PREFEITURA MUNICIPAL DE LORENA

CONCURSO PÚBLICO
01/2023

TERAPEUTA OCUPACIONAL

Leia atentamente as instruções abaixo

1. PROVA E FOLHA DE RESPOSTAS

Além deste Caderno de Prova, contendo 50 (cinquenta) questões objetivas, você receberá do Fiscal de Sala:

- 01 (uma) Folha de Respostas destinada às respostas das questões objetivas. Confira se seus dados estão corretos.

2. TEMPO

- 03 (três) horas é o tempo disponível para realização da prova, já incluído o tempo para marcação da Folha de Respostas da prova objetiva;

- **01 (uma) hora** após o início da prova é possível, retirar-se da sala levando o caderno de prova;

3. INFORMAÇÕES GERAIS

- As questões objetivas têm 05 (cinco) alternativas de resposta (A, B, C, D, E) e somente **uma** delas está correta;

- Verifique se seu caderno está completo, sem repetição de questões ou falhas. Caso contrário, informe imediatamente o Fiscal da Sala, para que sejam tomadas as devidas providências;

- Confira seus dados pessoais na Folha de Respostas, especialmente nome, número de inscrição e documento de identidade e leia atentamente as instruções para preenchimento;

- O preenchimento das respostas da prova objetiva é de sua responsabilidade e não será permitida a troca de Folha de Respostas em caso de erro de marcação pelo candidato;

- Marque, na folha de respostas, com caneta de tinta azul ou preta, a letra correspondente à alternativa que você escolheu.

- Reserve tempo suficiente para o preenchimento de suas respostas. Para fins de avaliação, serão levadas em consideração apenas as marcações realizadas na Folha de Respostas da prova objetiva, não sendo permitido anotar informações relativas às respostas em qualquer outro meio que não seja o caderno de prova;

- Ao se retirar, entregue a Folha de Respostas preenchida e assinada ao Fiscal de Sala.

SERÁ ELIMINADO do presente certame o candidato que:

- a) for surpreendido, durante as provas, em qualquer tipo de comunicação com outro candidato;

- b) portar ou usar, qualquer tipo de aparelho eletrônico (calculadoras, bips/pagers, câmeras fotográficas, filmadoras, telefones celulares, smartphones, tablets, relógios, walkmans, MP3 players, fones de ouvido, agendas eletrônicas, notebooks, palmtops ou qualquer outro tipo de computador portátil, receptores ou gravadores) seja na sala de prova, sanitários, pátios ou qualquer outra dependência do local de prova;

- c) se ausentar da sala em que se realizam as provas levando consigo o Caderno de Questões e/ou a Folha de Respostas;

- d) se recusar a entregar a Folha de Respostas, quando terminar o tempo estabelecido;

- e) não assinar a Lista de Presença e/ou a Folha de Respostas.

LÍNGUA PORTUGUESA
TEXTO

Leia o texto para responder às questões de 1 a 7.

Omelete

Pior foi Jacinta, que perdeu o marido para uma omelete. Quando alguém — desinformado ou desalmado — perguntava perto da Jacinta se “omelete” era masculino ou feminino, ela respondia “feminino, feminino”. Depois suspirava e dizia: “Eu é que sei”. As amigas tentaram convencer Jacinta de que o Luiz Augusto não merecia um suspiro. O que se poderia dizer de um homem que tinha abandonado a mulher de dez anos de casamento, para não falar em cotas num condomínio horizontal da zona Sul, por uma omelete bem-feita? Mas Jacinta não se conformava. Foi procurar um curso de culinária. Pediu aulas particulares e específicas. Queria aprender a fazer omelete. A professora começou com um histórico da omelete e sua força metafórica. Uma omelete justificava a violência feita aos ovos. Uma omelete... Mas Jacinta não queria saber da história da omelete. Queria aprender a fazer.

— Bem — disse a professora —, a omelete perfeita...

— Eu sei, eu sei — interrompeu Jacinta.

Sabia como era a omelete perfeita. Durante todos os seus anos de casada tinha ouvido a descrição da omelete perfeita. Luiz Augusto não se cansava de repetir que a omelete perfeita devia ser tostada por fora e úmida por dentro. Que seu interior devia se desmanchar, e espalhar-se pelo prato como baba. “*Baveuse*, entende? *Baveuse*.”

Durante dez anos, Jacinta ouvira críticas à sua omelete. Quando Luiz Augusto anunciara que encontrara uma mulher que fazia omeletes perfeitas — melhores, inclusive, que as do Caio Ribeiro — e que iria morar com ela, acrescentou: — Você não pode dizer que não lhe dei todas as chances, Cintinha.

Jacinta sabia a teoria da omelete perfeita. Queria a prática. Precisava aprender. O curso intensivo durou duas semanas. No fim do curso, a professora recomendou que Jacinta comprasse uma frigideira especial, de ferro, para garantir a omelete perfeita. Não havia como errar. Jacinta

telefonou para a casa de Beatriz e pediu para falar com Luiz Augusto.

— Precisamos conversar.

— Está bem.

— Aqui.

— Certo.

— Outra coisa.

— O quê?

— Não coma nada antes.

Quando Luiz Augusto chegou, Jacinta não disse uma palavra. Apontou para a mesa, onde estava posto um lugar. Luiz Augusto sentou-se. Jacinta desapareceu na cozinha. Reapareceu quinze minutos depois com uma omelete dentro de uma frigideira nova. Serviu a omelete e ficou esperando, de pé, enquanto Luiz Augusto dava a primeira garfada. Luiz Augusto disse: — Você chama isto de *baveuse*?

— Não — disse Jacinta —, eu chamo isto de *baveuse*.

E acertou com a frigideira a cabeça de Luiz Augusto, que caiu morto com a cara na omelete.

VERISSIMO, L. F. (Adaptado). *Verissimo antológico — meio século de crônicas, ou coisa parecida*. São Paulo: Objetiva, 2020.

QUESTÃO 01

De acordo com o texto, conclui-se que:
(A) Luiz Augusto deixou Beatriz para ficar com Jacinta por conta da omelete perfeita.

(B) Jacinta não aprendeu a omelete perfeita porque fez apenas a parte teórica do curso de culinária.

(C) Jacinta contava com o apoio de suas amigas para recuperar Luiz Augusto.

(D) Luiz Augusto deu uma segunda chance, mas não aprovou a nova versão da omelete de Jacinta.

(E) Jacinta não atingiu a omelete perfeita porque tinha um entendimento distinto de *baveuse*.

QUESTÃO 02

O pronome demonstrativo em “— Não — disse Jacinta —, eu chamo *isto* de *baveuse*.” funciona como um recurso de coesão textual de:

- (A) anáfora.
- (B) catáfora.
- (C) elipse.
- (D) substituição.
- (E) sinonímia.

QUESTÃO 03

Das associações sobre as personagens propostas nas alternativas a seguir, aquela que pode ser depreendida corretamente do texto é:

- (A) Caio Ribeiro – referência de bom preparo de omeletes, segundo o gosto de Luiz Augusto.
- (B) Jacinta – atingiu, por fim, o preparo da omelete perfeita, ao gosto de Luiz Augusto, após o curso de culinária, mas perdeu o interesse por ele.
- (C) Luiz Augusto – apreciador exigente de omeletes, demandava que sua companheira preparasse omeletes tão bem quanto ele.
- (D) Beatriz – pessoa com quem Luiz Augusto foi morar após se separar de Jacinta, fazia omeletes quase tão boas quanto as de Caio Ribeiro.
- (E) Professora do curso de culinária – sugeriu a Jacinta usar uma frigideira de ferro, para o caso de a omelete não ficar perfeita.

QUESTÃO 04

Analise as sentenças retiradas do texto e assinale aquela em que o vocábulo “se” é um pronome expletivo.

- (A) “Mas Jacinta não *se* conformava.”
- (B) “Quando alguém — desinformado ou desalmado — perguntava perto da Jacinta *se* “omelete” era masculino ou feminino”.
- (C) “Luiz Augusto sentou-*se*.”
- (D) “O que *se* poderia dizer de um homem que tinha abandonado a mulher de dez anos de casamento, para não falar em cotas num condomínio horizontal da zona Sul, por uma omelete bem-feita?”
- (E) “Luiz Augusto não *se* cansava de repetir que a omelete perfeita devia ser tostada por fora e úmida por dentro.”

Considere o excerto a seguir para responder às questões 5, 6 e 7:

Durante dez anos, Jacinta ouvira críticas à sua omelete. Quando Luiz Augusto anunciara **que** encontrara uma mulher **que** fazia omeletes perfeitas — melhores, inclusive, **que** as do Caio Ribeiro — e que iria morar com ela, acrescentou: — Você não pode dizer que não lhe dei todas as chances, Cintinha.

QUESTÃO 05

No contexto apresentado, em relação à classe gramatical, os vocábulos “que” em destaque atuam, respectivamente, como:

- (A) conjunção integrante, pronome relativo e conjunção comparativa.
- (B) conjunção integrante, pronome relativo e conjunção integrante.
- (C) preposição, pronome relativo e preposição.
- (D) conjunção causal, conjunção integrante e conjunção integrante.
- (E) conjunção causal, pronome interrogativo e conjunção comparativa.

QUESTÃO 06

Dentre todas as palavras que ocorrem no excerto apresentado, pertencem à classe gramatical das preposições:

- (A) à, do.
- (B) durante, com.
- (C) a, quando, de, com.
- (D) durante, à, inclusive, do.
- (E) durante, a, de, com.

QUESTÃO 07

Os verbos “ouvira”, “anunciara” e “encontrara”, que ocorrem no excerto apresentado, estão conjugados no tempo:

- (A) pretérito imperfeito do modo indicativo.
- (B) pretérito perfeito do modo indicativo.
- (C) pretérito mais-que-perfeito do modo indicativo.
- (D) futuro do pretérito do modo indicativo.
- (E) pretérito imperfeito do modo subjuntivo.

QUESTÃO 08

De acordo com a gramática normativa, a ênclise está vetada se:

- I. O verbo está flexionado em uma oração subordinada.
 - II. A oração é iniciada por palavra interrogativa.
 - III. Em uma locução verbal, o verbo auxiliar está flexionado no presente do indicativo.
- É (são) verdadeira(s) apenas a(s) afirmativa(s) em:
- (A) I.
 - (B) II.
 - (C) III.
 - (D) I e II.
 - (E) II e III.

QUESTÃO 09

Assinale a alternativa em que, na sentença apresentada, a qualidade expressa pelo adjetivo é comparativa.

- (A) Maria é tão caprichosa quanto sua irmã.
- (B) Estou extremamente cansada.
- (C) A atriz estava elegantíssima no desfile de moda.
- (D) Daniel é o mais engajado dentre os participantes do programa.
- (E) Quando percebeu minha tristeza, passou a ser gentil.

QUESTÃO 10

Analise as sentenças a seguir e assinale aquela em que ocorre desvio ortográfico.

- (A) O casal se separou recentemente, razão por que não foram juntos ao evento.
- (B) Isto é só mais um empecilho para dificultar as coisas.
- (C) Os funcionários estão reivindicando melhores condições de trabalho.
- (D) Que coincidência nos encontrarmos aqui!
- (E) Espetáculos teatrais são ótimas formas de entretenimento.

MATEMÁTICA E RACIOCÍNIO LÓGICO**QUESTÃO 11**

Em uma certa loja, o preço das camisas era o mesmo para todas as camisas e o preço das calças era o mesmo para todas as calças. Leandro comprou nessa loja 2 camisas e 3 calças e pagou R\$ 510,00. Ele também comprou 1 camisa e 2 calças para seu filho e pagou R\$ 320,00. Podemos afirmar que o preço de cada camisa nessa loja é:

- (A) R\$ 60,00.
- (B) R\$ 65,00.
- (C) R\$ 58,00.
- (D) R\$ 72,00.
- (E) R\$ 55,00.


QUESTÃO 12

Segundo dados do IBGE de 2021, o município de Ararendá, no Ceará, possui o maior IDEB (Índice de Desenvolvimento da Educação Básica) nos anos iniciais do ensino fundamental. No ano de 2019 o IDEB foi de 8,3 e no ano de 2021 o IDEB foi de 9,5. Podemos afirmar que o crescimento percentual do IDEB de 2019 para 2021 foi aproximadamente de:

- (A) 10%.
- (B) 14%.
- (C) 25%.
- (D) 22%.
- (E) 20%.

QUESTÃO 13

Um marceneiro recebe um pedido para fazer uma mesa em forma de um coração, composta por dois semicírculos e um quadrado, conforme a figura abaixo.



Sabendo que os gastos com a figura mostrada são de R\$ 120,00 por metro quadrado, qual é o gasto total se o quadrado possui lado de 1m? Considere $\pi \approx 3$.

- (A) R\$ 175,00.
- (B) R\$ 180,00.
- (C) R\$ 190,00.
- (D) R\$ 200,00.
- (E) R\$ 210,00.

QUESTÃO 14

Considere verdadeira a seguinte proposição condicional:

“Se Paulo sabe fazer bolo, então ele sabe fazer biscoitos.”

A partir dessa proposição, também é verdade que:

- (A) Se Paulo não sabe fazer biscoitos, então ele não sabe fazer bolo.
- (B) Provavelmente Paulo sabe fazer bolo e sabe fazer biscoitos.
- (C) Ou Paulo sabe fazer bolo ou Paulo sabe fazer biscoitos.
- (D) Se Paulo souber fazer bolo, também saberá fazer biscoitos.
- (E) Paulo não sabe fazer bolo, nem sabe fazer biscoitos.

QUESTÃO 15

O dono de um brechó decidiu fazer uma promoção para as camisas que ele vende. Ele observou que as vendas das camisas durante o mês anterior ocorreram segundo a tabela:

Marca da camisa	Preço da camisa	Número de camisas vendidas
Marca A	R\$ 20,00	20
Marca B	R\$ 18,00	22
Marca C	R\$ 25,00	20

Ele decidiu que no mês atual as camisas de todas as marcas possuirão o mesmo preço. O dono do brechó definiu o novo preço da camisa como sendo o preço médio de todas as camisas vendidas independentemente de sua marca. Assim, no mês atual, o preço da camisa é aproximadamente:

- (A) R\$ 18,90.
- (B) R\$ 20,90.
- (C) R\$ 21,70.
- (D) R\$ 22,80.
- (E) R\$ 24,60.

QUESTÃO 16

A sequência abaixo mostra os 4 primeiros números primos:

2,3,5,7 ...

Os números primos são números que somente são divisíveis por 1 e por eles mesmos. Qual é o sétimo termo dessa sequência?

- (A) 12.
- (B) 13.
- (C) 15.
- (D) 17.
- (E) 19.

QUESTÃO 17

Carlos fez uma aplicação de R\$ 12.000,00 a uma taxa de 5% ao mês durante 3 anos em regime de juros simples. Ao final dessa aplicação qual é o montante que Carlos possuirá?

- (A) R\$ 26.800,00.
- (B) R\$ 30.600,00.
- (C) R\$ 33.600,00.
- (D) R\$ 34.000,00.
- (E) R\$ 36.700,00.

QUESTÃO 18

Suponha que no ano de 2023, 8% de todas as despesas do governo de um determinado país foram com Educação. Já dentre as despesas com a Educação, as despesas com educação profissionalizante representaram 10%. Se o valor de todas as despesas do governo foi de R\$ 4 trilhões, então qual o valor as despesas com educação profissionalizante?

- (A) R\$ 3,2 bilhões.
- (B) R\$ 320 bilhões.
- (C) R\$ 32 bilhões.
- (D) R\$ 400 bilhões.
- (E) R\$ 40 bilhões.

QUESTÃO 19

Queremos construir duas figuras geométricas, um quadrado de lado a e um triângulo equilátero de lado d , de modo que os dois tenham o mesmo perímetro. Qual é a razão entre a área e o perímetro do quadrado em termos de d ?

- (A) $\frac{2}{7}d$.
- (B) $\frac{3}{8}d$.
- (C) $\frac{3}{32}d$.
- (D) $\frac{3}{16}d$.
- (E) $\frac{1}{2}d$.

QUESTÃO 20

Um projetista recomenda que para fazer o concreto utilize-se, para cada porção de cimento, 2 porções de areia e 3 porções de pedra brita, em massa. Sendo assim, na mistura final que o projetista recomenda a quantidade de areia representa qual porcentagem da massa total?

- (A) 19%.
- (B) 20%.
- (C) 25%.
- (D) 30%.
- (E) 33%.

NOÇÕES DE INFORMÁTICA**QUESTÃO 21**

Sobre a função “responder” no MS-Outlook 2016, é incorreto o que se afirma em:

- I - O anexo será mantido na mensagem.
 - II - O campo “Para” deverá ser preenchido.
 - III - A mensagem de resposta será enviada apenas para o remetente original.
 - IV - O campo “Assunto” não será preenchido automaticamente.
 - V - O texto original do remetente não será mantido.
- (A) I e III, apenas.
 - (B) I, II e V, apenas.
 - (C) I, II, IV e V, apenas.
 - (D) I, II, III e V, apenas.
 - (E) Nenhuma das afirmativas estão incorretas.

QUESTÃO 22

O MS-Word 2016 possui diversas ferramentas de edição e formatação texto, sendo algumas delas:



Assinale a alternativa que não contenha um dos elementos de formatação dentre os representados.

- (A) Tachado.
- (B) Sublinhado.
- (C) Subscrito.
- (D) Itálico.
- (E) Negrito.

QUESTÃO 23

Analise as imagens a seguir:

I:



II:



- (A) A imagem I representa um gerenciador de e-mails da suíte Microsoft Office.
- (B) A imagem II representa um gerenciador de e-mails desenvolvido e mantido pela Google.
- (C) Ambas as imagens representam softwares de desenvolvimento de planilhas eletrônicas.
- (D) Nenhuma das imagens representam gerenciadores de e-mails.
- (E) Ambas as imagens representam gerenciadores de e-mails.

QUESTÃO 24

Uma URL é um endereço que é usado para identificar recursos na internet e fornecer um meio fácil de acessar esses recursos. Nesse contexto, são palavras que integram o significado de URL:

- () Uniform.
- () Resource
- () Lover.
- () User.
- () Locator.

Indique “V” para verdadeiro e “F” para falso.

- (A) V, F, V, F, V.
- (B) F, F, V, V, F.
- (C) V, V, F, F, V.
- (D) V, V, F, V, V.
- (E) F, F, V, F, F.

QUESTÃO 25

Leia atentamente os trechos a seguir:

Trecho 1: As configurações de impressão permitem escolher entre as opções de orientação retrato (vertical) e paisagem (horizontal) para determinar a direção da impressão na página.

Trecho 2: É possível selecionar o tamanho do papel a ser utilizado na impressão, como A4, carta, ofício, entre outros, para corresponder ao formato desejado.

Trecho 3: Não é possível ajustar as margens da página, determinando a quantidade de espaço em branco ao redor do conteúdo impresso, personalizando a formatação da página.

Diante da análise, assinale a alternativa correta.

- (A) Todos os trechos apresentados fazem afirmações corretas acerca da digitalização de um documento.
- (B) Todos os trechos apresentados fazem afirmações incorretas acerca da impressão de um documento.
- (C) O trecho 1 está correto ao afirmar que é possível selecionar o tamanho do papel a ser utilizado na impressão .
- (D) O trecho 3 se equivoca ao mencionar que não possível ajustar as margens da página.
- (E) O trecho 2 está correto ao afirmar que as configurações de impressão permitem escolher entre as opções de orientação retrato.

CONHECIMENTOS ESPECÍFICOS
QUESTÃO 26

As afirmações a seguir referem-se à proteção e aos direitos das pessoas com transtornos mentais, bem como o redirecionamento do modelo assistencial em saúde mental (Lei nº 10.216/2001):

I. A internação, em qualquer uma das suas modalidades, só será recomendada quando os recursos extra-hospitalares se mostrarem suficientes.

II. O tratamento em regime de internação será estruturado de forma a oferecer assistência integral à pessoa portadora de transtornos mentais, incluindo serviços médicos, de assistência social, psicológicos, ocupacionais, de lazer, e outros

III. O tratamento visará, como finalidade permanente, a reinserção social do paciente em seu meio

É correto o que se afirmar em:

- (A) I, apenas.
- (B) II, apenas.
- (C) I e III, apenas.
- (D) II e III, apenas.
- (E) I, II e III.

QUESTÃO 27

O término da _____ do paciente com transtornos mentais ocorrerá por meio de uma solicitação escrita pelo familiar, ou responsável legal, ou quando estabelecido pelo especialista responsável pelo tratamento (LEI nº 10.216/2001).

Assinale a alternativa que preenche, corretamente, a lacuna do texto:

- (A) internação compulsória.
- (B) internação voluntária.
- (C) internação involuntária.
- (D) internação progressiva.
- (E) internação regressiva.

QUESTÃO 28

Pesquisas científicas para fins diagnósticos ou terapêuticos com pacientes com transtornos mentais não podem ser realizadas sem:

- I. O consentimento explícito do paciente, ou de seu representante legal.
- II. A aprovação do serviço de assistência social.
- III. A comunicação prévia aos conselhos profissionais competentes e ao Conselho Nacional de Saúde.

É correto o que se afirmar em:

- (A) I, apenas.
- (B) II, apenas.
- (C) I e III, apenas.
- (D) II e III, apenas.
- (E) I, II e III.

QUESTÃO 29

Leia às afirmações a seguir sobre o processo de Reforma psiquiátrica no Brasil:

- I. Reforma psiquiátrica foi um movimento popular organizado que questionou a função social da psiquiatria, dos hospitais psiquiátricos e dos trabalhadores em saúde mental.
- II. O movimento de reforma psiquiátrica defendeu os direitos das pessoas com transtornos mentais.
- III. A desinstitucionalização não é só a transição dos serviços hospitalares para os comunitários, mas também reconhecer as necessidades das pessoas para uma abordagem integral.

É correto o que se afirmar em:

- (A) I, apenas.
- (B) II, apenas.
- (C) I e III, apenas.
- (D) II e III, apenas.
- (E) I, II e III.

QUESTÃO 30

Leia as afirmações a seguir, sobre o Transtorno Global do Desenvolvimento (TGD):

I. É um conjunto de condições que resultam em dificuldades de comunicação e comportamento.

II. As dificuldades experienciado no TGD afetam positivamente a relação do indivíduo com outras pessoas.

III. Pessoas com TGD não apresentam dificuldades para lidar com situações cotidianas.

É correto o que se afirmar em:

- (A) I, apenas.
- (B) II, apenas.
- (C) I e III, apenas.
- (D) II e III, apenas.
- (E) I, II e III.

QUESTÃO 31

São objetivos do atendimento educacional especializado (Decreto n. ° 6.571, 2008), com exceção:

- (A) Proporcionar às estudantes condições de acesso, participação e aprendizagem no ensino regular.
- (B) Garantir a transversalidade das ações que dizem respeito à educação especial no ensino regular.
- (C) Incentivar o desenvolvimento de recursos didáticos e pedagógicos que reduzam as barreiras existentes no processo de ensino e aprendizagem.
- (D) Proporcionar condições para a continuidade dos estudos nos outros níveis de ensino.
- (E) Limitar o acesso a todo o sistema educacional.

QUESTÃO 32

Considera-se atendimento educacional especializado o conjunto de _____, _____ e pedagógicos organizados institucionalmente, prestado de forma complementar ou suplementar à formação dos alunos no ensino regular (Decreto n. ° 6.571, 2008).

Assinale a alternativa que preenche, corretamente, a lacuna do texto:

- (A) atividades; recursos de acessibilidade.
- (B) atividades; recursos inacessíveis.
- (C) atividades regulares; recursos indisponíveis.
- (D) informações; recursos de acessibilidade.
- (E) informações acadêmicas; recursos de acessibilidade.

QUESTÃO 33

Em relação à Reforma Psiquiátrica no Brasil, leia as afirmações a seguir:

- I. A Reforma Psiquiátrica possibilitou que o processo de saúde/doença mental fosse descontextualizado.
- II. A Reforma Psiquiátrica permitiu o processo de criação de uma nova perspectiva em relação às pessoas com transtorno mental.
- III. O movimento de Reforma Psiquiátrica visou desconectar o conceito de saúde do exercício da cidadania.

É correto o que se afirmar em:

- (A) I, apenas.
- (B) II, apenas.
- (C) I e III, apenas.
- (D) II e III, apenas.
- (E) III, apenas.

QUESTÃO 34

Em relação à desinstitucionalização proposta na Reforma Psiquiátrica no Brasil, leia as seguintes afirmações:

- I. A desinstitucionalização, não se limita à desospitalização, mas à superação de um modelo centrado exclusivamente na doença.
- II. O processo de desinstitucionalização, permite que os indivíduos com transtornos mentais permaneçam desprotegidos dos seus direitos e da cidadania.
- III. A desinstitucionalização, reconhece o direito das pessoas com transtornos mentais ao tratamento em um sistema de reclusão social.

É correto o que se afirmar em:

- (A) I, apenas.
- (B) II, apenas.
- (C) I e III, apenas.
- (D) II e III, apenas.
- (E) I, II e III.

QUESTÃO 35

São serviços de saúde que integram a Rede de Atenção Psicossocial:

- (A) Consultório de rua, Núcleo de Apoio à Saúde da Família, Comunidade terapêutica, Unidade de Acolhimento Terapêutico Transitório e Centro de Atenção Psicossocial.
- (B) Ambulatório de rua, Comunidade terapêutica, Unidade de Acolhimento Terapêutico Transitório e Albergue.
- (C) Apenas Consultório de rua e Comunidade terapêutica.
- (D) Apenas Comunidade terapêutica e Unidade de Acolhimento Terapêutico Transitório.
- (E) Comunidade terapêutica, Unidade de Acolhimento Terapêutico Transitório e Hostel.

QUESTÃO 36

Sobre os principais impactos da implementação de Redes de Atenção nos Sistemas de Saúde (BRASIL, 2022), assinale a alternativa incorreta:

- (A) A melhoria da eficiência global do sistema.
- (B) Redução do número de hospitalizações desnecessárias.
- (C) Ampliação do tempo de permanência no ambiente hospitalar.
- (D) Continuidade da atenção, resultando em maior efetividade clínica.
- (E) Melhora da eficácia do autocuidado.

QUESTÃO 37

Sobre a Atenção Integral à Saúde da Pessoa Idosa e à garantia do envelhecimento ativo e saudável, analise as afirmativas abaixo:

- I. Política Nacional de Saúde da Pessoa Idosa no Brasil visa promover o envelhecimento saudável, por meio do desenvolvimento de hábitos saudáveis de vida.
- II. A prática regular de exercícios físico melhora o equilíbrio, elasticidade e força muscular, elevando assim os riscos de queda.
- III. A população idosa está sujeita a alterações nutricionais devido a fatores fisiológicos e sociais.

É correto o que se afirmar em:

- (A) I, apenas.
- (B) II, apenas.
- (C) I e III, apenas.
- (D) II e III, apenas.
- (E) I, II e III.

QUESTÃO 38

A população idosa deve ser orientada a adotar medidas para prevenir quedas. Com relação a essas medidas, assinale a alternativa incorreta:

- (A) Ter uma iluminação adequada em domicílio.
- (B) Usar piso antiderrapante.
- (C) Manter os objetos guardados em locais acessíveis.
- (D) Manter animais, entulho e lixo em locais adequados.
- (E) Utilizar tapetes pequenos e capachos em superfícies lisas.

QUESTÃO 39

Em relação às atividades educativas em saúde com grupos de idosos, assinale a alternativa correta:

- (A) O trabalho em grupo, por si só, pode trazer novas perspectivas para a pessoa idosa, além de reduzir a probabilidade de sua aceitação na sociedade.
- (B) Um dos grandes desafios da promoção da saúde para pessoas idosas é a aceitação do envelhecimento e da cronicidade de algumas doenças.
- (C) A integração efetiva do grupo ocorre quando as pessoas demonstram ansiedade e insegurança para transmitir suas intimidades em uma rede de confiança mútua.
- (D) O importante é transmitir um conteúdo específicos, independente das experiências do idoso.
- (E) A postura dos profissionais não afeta o sucesso do grupo.

QUESTÃO 40

O Terapeuta Ocupacional participa de programas de prevenção de doenças e manutenção da saúde, preparando o idoso para:

- I. Ser totalmente dependente de familiares ou seu cuidador.
- II. Os eventos relacionados ao processo de envelhecimento (menopausa, perdas e aposentadoria).
- III. O seu convívio social e familiar.

É correto o que se afirmar em:

- (A) I, apenas.
- (B) II, apenas.
- (C) I e III, apenas.
- (D) II e III, apenas.
- (E) I, II e III.

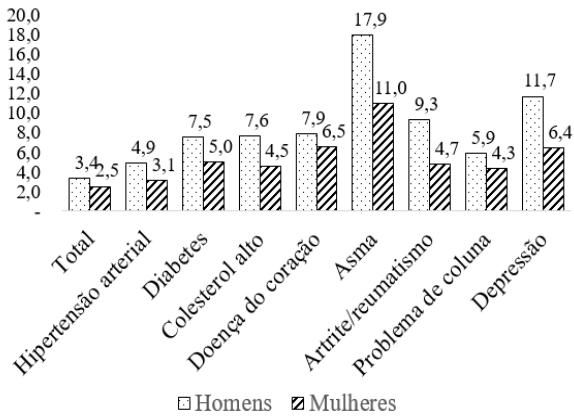
QUESTÃO 41

Os principais objetivos da Terapia Ocupacional em Gerontologia são:

- (A) Isolar o idoso da comunidade, do convívio social, promovendo a reclusão social.
- (B) Desencorajar o idoso a fazer planos, ter ambições e aspirações.
- (C) Reabilitação do idoso com limitações física e/ou mental.
- (D) Destacar os efeitos negativos do envelhecimento e da realização de atividades de promoção da saúde.
- (E) Estimular a instabilidade psicoemocional do idoso durante a sua inserção social.

QUESTÃO 42

O gráfico a seguir, mostra pessoas de 60 anos ou mais, com pelo menos um diagnóstico de doenças crônicas, por tipo de doença e deficiência em 2019:



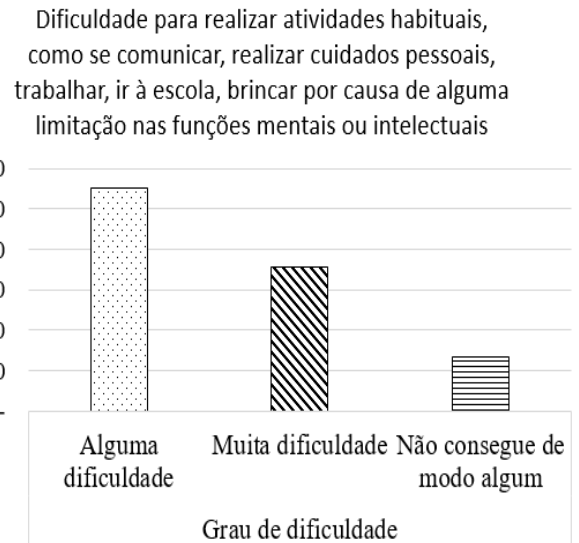
Fontes: Instituto Brasileiro de Geografia e Estatística. Censo, 2019.

Considerando o gráfico apresentado, assinale a alternativa correta:

- (A) Em 2019, o número de homens com diabetes era menor do que em mulheres.
- (B) Há mais mulheres com nível elevado de colesterol, do que homens em 2019.
- (C) No ano de 2019, houve uma prevalência significativa de homens com, pelo menos, uma doença crônica em comparação com as mulheres.
- (D) Em 2019, o número de homens com depressão foi maior do que em mulheres.
- (E) No ano de 2019, há mais mulheres com asma, do que homens.

QUESTÃO 43

O gráfico a seguir, mostra pessoas de dois anos ou mais, por grau de dificuldade, para realizar as atividades habituais:



Fontes: Instituto Brasileiro de Geografia e Estatística. Censo, 2019.

Considerando o gráfico apresentado, assinale a alternativa correta:

- (A) Maioria das pessoas não conseguem realizar de modo algum as suas atividades habituais.
- (B) A minoria das pessoas tem alguma dificuldade para realizar as atividades habituais.
- (C) Aproximadamente 2.500 indivíduos não conseguem realizar de modo algum as suas atividades habituais.
- (D) Aproximadamente 3.000 pessoas têm alguma dificuldade para realizar suas atividades habituais.
- (E) Aproximadamente 500 pessoas têm muita dificuldade para realizar suas atividades habituais.

QUESTÃO 44

Para se tornar um especialista de Terapeuta Ocupacional em Gerontologia, é imprescindível possuir conhecimentos nas seguintes áreas de competência:

I. Realizar consulta, avaliação, solicitar interconsulta, exames complementares e pareceres.

II. Realizar atividades educativas apenas para os responsáveis da pessoa idosa.

III. Desenvolver estratégias de promoção, prevenção, manutenção e/ou reabilitação das funções cognitivas, sensoriais e motoras no âmbito do desempenho ocupacional.

É correto o que se afirmar em:

- (A) I, apenas.
- (B) II, apenas.
- (C) I e III, apenas.
- (D) II e III, apenas.
- (E) I, II e III.

QUESTÃO 45

Leias as afirmativas a seguir sobre à Tecnologia Assistiva:

I. A utilização da Tecnologia Assistiva na educação tornas as pessoas com deficiência dependentes de terceiros para realizar as atividades escolares.

II. Utilização Tecnologia Assistiva é uma das estratégias fundamentais para a remoção de barreiras existentes na vida da pessoa com deficiência.

III. A inclusão de alunos com deficiência na rede regular de ensino requer que a escola prepare alguns funcionários que fazem parte da instituição escolar.

É correto o que se afirmar em:

- (A) I, apenas.
- (B) II, apenas.
- (C) I e III, apenas.
- (D) II e III, apenas.
- (E) I, II e III.

QUESTÃO 46

Em relação ao direito à educação assegurado a pessoa com deficiência (LEI n. ° 13.146/2015), leia as afirmativas a seguir:

I. É dever do poder público garantir um sistema educacional inclusivo para todos os níveis e modalidades.

II. O poder público deve garantir o desenvolvimento de um plano de atendimento educacional especializado, a seleção de recursos e serviços de acessibilidade e a disponibilização de recursos de tecnologia assistiva.

III. As pessoas com deficiência, devem ter acesso a jogos e atividades recreativas, esportivas e de lazer na escola.

É correto o que se afirmar em:

- (A) I, apenas.
- (B) II, apenas.
- (C) I e III, apenas.
- (D) II e III, apenas.
- (E) I, II e III.

QUESTÃO 47

A seguir, leia as afirmações a respeito da inserção competitiva da pessoa com deficiência no mercado de trabalho (LEI n. ° 13.146/2015):

I. Deve-se dar prioridade no atendimento às pessoas com deficiência que apresentam menor dificuldade para se inserir no mercado de trabalho.

II. É importante respeitar o perfil vocacional e o interesse da pessoa com deficiência apoiada.

III. É necessário inibir o uso de recursos de tecnologia assistiva, agentes facilitadores e apoio no ambiente de trabalho.

É correto o que se afirmar em:

- (A) I, apenas.
- (B) II, apenas.
- (C) I e III, apenas.
- (D) II e III, apenas.
- (E) I, II e III.

QUESTÃO 48

Compreender as principais razões das deficiências é crucial, uma vez que, com esse conhecimento, é possível elaborar planos de prevenção e direcionar políticas públicas (BRASIL, 2009). Em relação aos principais fatores que contribuem para a deficiência, assinale a alternativa incorreta:

- (A) Doenças transmissíveis como a rubéola, toxoplasmose, meningite, sífilis, dentre outras.
- (B) Os acidentes de trabalho e trânsito.
- (C) As más condições de vida nas áreas periféricas das cidades nas áreas rurais.
- (D) A nutrição adequada durante a infância.
- (E) A violência doméstica, na comunidade e no trânsito associada ao consumo excessivo de álcool e drogas.

QUESTÃO 49

O Ministério da Saúde tem incentivado a criação de Centros de Referência para reabilitação física, auditiva, visual e intelectual no Brasil (BRASIL, 2009). Leia as afirmações a seguir em relação à reabilitação:

- I. A assistência à saúde possibilita a aquisição e adaptação de órteses, próteses e meios auxiliares de locomoção.
- II. As atividades de reabilitação estimulam a dependência e reduzem a participação social das pessoas com deficiência na sua comunidade.
- III. Qualquer pessoa que apresente uma redução funcional perde o direito de ser diagnóstica e avaliada por uma equipe multiprofissional.

É correto o que se afirmar em:

- (A) I, apenas.
- (B) II, apenas.
- (C) I e III, apenas.
- (D) II e III, apenas.
- (E) I, II e III.

QUESTÃO 50

A Rede de Cuidados à Pessoa com Deficiência, no Brasil, tem como objetivos:

- I. Reduzir o acesso de indivíduo com deficiência temporária ou permanente; progressiva, regressiva ou estável; intermitente ou contínua ao Sistema Único de Saúde.
- II. Promover a integração das pessoas com deficiência auditiva, física, intelectual, ostomia e múltiplas deficiências e seus familiares aos Centros de Atenção.
- III. Qualificar o cuidado através do acolhimento e da classificação de risco.

É correto o que se afirmar em:

- (A) I, apenas.
- (B) II, apenas.
- (C) I e III, apenas.
- (D) II e III, apenas.
- (E) I, II e III

