


AGENTE DE OBRAS**INSTRUÇÕES AO CANDIDATO**

- **Durante a realização da prova não será permitido ao candidato, sob pena de exclusão do Concurso Público:**
 - a) Qualquer espécie de consulta bibliográfica, utilização de livros, manuais ou anotações;
 - b) Comunicação entre candidatos;**
 - c) Uso de máquina calculadora;
 - d) Uso de relógio de qualquer tipo;
 - e) Agendas eletrônicas, telefones celulares, smartphones, MP3, notebook, palmtop, tablet, BIP, walkman, gravador ou qualquer outro receptor ou transmissor;
 - f) Uso de óculos escuros, bonés, protetores auriculares e outros acessórios similares;
 - g) Perturbar de qualquer modo a execução dos trabalhos;
- Todas as respostas do Caderno de Prova deverão ser transportadas para o Cartão Resposta;
- Não serão computadas as questões não assinaladas ou que contenham mais de uma resposta, ementa ou rasura;
- O gabarito da letra escolhida deve ser pintado de forma a completar todo o círculo. Exemplo:

- Para a realização da Prova Escrita, o candidato deverá utilizar caneta esferográfica de tubo transparente nas cores azul ou preta;
- Após a realização da prova, o candidato deverá afastar-se do local;
- Ao terminar a prova, o candidato entregará ao fiscal o Caderno de Prova e o Cartão Resposta devidamente **preenchido e assinado**;
- Os 03 últimos candidatos permanecerão até o último concluir, os quais assinarão a ata de encerramento, juntamente com os fiscais, efetuarão a conferência dos Cartões-Resposta, cujas irregularidades serão apontadas na referida ata, e assinarão o lacre dos envelopes em que forem guardados os Cartões-Resposta;
- A Prova escrita terá início às 08h30min com término às 11h30min. A duração mínima para realização da prova é de 01 (uma) hora, com tempo máximo de 03h (três) horas. A Prova será composta por questões de múltipla escolha, sendo cada questão composta de 05 alternativas (a, b, c, d, e), possuindo somente uma alternativa correta;

- O Caderno de Provas será composto:

CONTEÚDO	Nº DE QUESTÕES
Língua Portuguesa	05 (cinco)
Raciocínio Lógico	05 (cinco)
Conhecimentos Gerais	05 (cinco)
Conhecimentos Específicos	25 (vinte e cinco)
Total de Questões	40 (quarenta)

- Verifique se o Caderno de Provas está completo, sem falhas de impressão e se a quantidade de questões está correta;
- Você deverá transcrever as respostas das questões para o Cartão-Resposta, que será o **único documento válido para a correção das provas.**
- **O preenchimento do Cartão Resposta é de inteira responsabilidade do candidato e não será substituído em caso de erro do candidato.**

BOA PROVA!

Língua Portuguesa

O texto seguinte servirá de base para responder às questões de 1 a 5.

O uso de melatonina por crianças

Em agosto do ano passado, a Anvisa proibiu a comercialização, distribuição, propaganda e o uso de um suplemento alimentar com melatonina que era destinado a crianças no Brasil.

O medicamento foi retirado de circulação, segundo a Anvisa, porque a melatonina não é autorizada para uso em suplementos alimentares destinados a crianças e adolescentes, e não há segurança de uso comprovada na Anvisa para essas faixas etárias. A melatonina também não possui autorização para lactantes, e só é aprovada em suplementos destinados a adultos acima de 19 anos.

A proibição da Anvisa foi aplicada em relação ao suplemento alimentar Soninho Perfeito Melatonina Kids. A agência disse que na internet havia a divulgação irregular do produto, com alegações terapêuticas relacionadas a sono, ansiedade, compulsão alimentar, irritabilidade noturna, inflamação, suplementação para transtorno do espectro autista, câncer etc.

"Nenhuma dessas alegações é aprovada pela Anvisa, tratando-se, portanto, de propaganda irregular", informou a agência, alertando que não há aprovação de qualquer indicação para sono, humor, concentração, entre outras, para suplementos alimentares à base de melatonina. "Qualquer propaganda ou rótulo que traga esse tipo de alegação está irregular, de acordo com a legislação sanitária brasileira", acrescentou a agência.

Ainda neste ano, o órgão publicou um alerta sobre os riscos associados ao consumo de suplementos com melatonina, no qual apontou que esses produtos precisam apresentar a advertência de que não devem ser consumidos por gestantes, lactantes, crianças e pessoas envolvidas em atividades que requeiram atenção constante.

<https://www.bbc.com/portuguese/articles/cl4pr8m022xo>. Adaptado.

Questão 01

O medicamento foi retirado de circulação, segundo a Anvisa, porque a melatonina não é autorizada para uso em suplementos alimentares destinados a crianças e adolescentes, e não há segurança de uso comprovada na Anvisa para essas faixas etárias.

Assinale a opção que contenha apenas substantivos.

- (A) suplementos – comprovada – adolescentes.
- (B) alimentares – etárias – retirado.
- (C) melatonina – adolescentes – faixas.
- (D) uso – medicamento – autorizada.
- (E) segurança – uso – comprovada.

Questão 02

A proibição da Anvisa foi aplicada em relação ao suplemento alimentar Soninho Perfeito Melatonina Kids. A agência disse que na internet havia a divulgação irregular do produto, com alegações terapêuticas relacionadas a sono, ansiedade, compulsão alimentar, irritabilidade noturna, inflamação, suplementação para transtorno do espectro autista, câncer etc.

Assinale a opção que contenha apenas adjetivos.

- (A) noturna – inflamação – suplementação.
- (B) autista – transtorno – espectro.
- (C) alegações – compulsão – suplementação.
- (D) terapêuticas – relacionadas – ansiedade.
- (E) aplicada – alimentar – irregular.

Questão 03

Ainda neste ano, o órgão 'publicou' um alerta sobre os riscos associados ao consumo de suplementos com melatonina.

O verbo destacado encontra-se conjugado no:

- (A) Pretérito perfeito do indicativo.
- (B) Infinitivo regular.
- (C) Pretérito imperfeito do indicativo.
- (D) Imperfeito do subjuntivo.
- (E) Particípio regular.

Questão 04

A melatonina também não possui autorização para lactantes, e só é aprovada em suplementos destinados a adultos acima de 19 anos.

De acordo com as regras de acentuação, é correto afirmar que:

- (A) há dois vocábulos acentuados por serem oxítonos terminados em 'o'.
- (B) 'também' é acentuado pela mesma regra de 'abdômen'.
- (C) os vocábulos 'só – é' são acentuados por serem acentos diferenciais.
- (D) 'não' recebe acento por ser um monossílabo tônico terminado em 'o'.
- (E) há dois vocábulos acentuados por serem monossílabos tônicos.

Questão 05

Anvisa proibiu circulação de remédio com melatonina para ajudar crianças a dormirem no Brasil.

Com base no texto, é correto afirmar que a Anvisa:

- (A) Proibiu a comercialização do suplemento alimentar Soninho Perfeito Melatonina Kids devido a alegações terapêuticas regulares ou não, como sono, ansiedade, compulsão alimentar, irritabilidade noturna, inflamação e câncer.
- (B) Publicou um alerta sobre os riscos associados ao consumo de melatonina, destacando que esses produtos podem ser consumidos apenas por gestantes, lactantes, crianças e pessoas envolvidas em atividades que requeiram atenção constante.
- (C) Retirou o suplemento alimentar Soninho Perfeito Melatonina Kids de circulação devido a alegações terapêuticas aprovadas para sono, humor, concentração, entre outras, em suplementos alimentares à base de melatonina.
- (D) Retirou de circulação o suplemento alimentar Soninho Perfeito Melatonina Kids por conter melatonina, a qual é permitida apenas para adolescentes, segundo a Anvisa.
- (E) Proibiu o suplemento alimentar Soninho Perfeito Melatonina Kids devido à melatonina, que não é autorizada para uso em suplementos destinados a crianças e adolescentes, além de não possuir aprovação para lactantes.

Raciocínio Lógico

Questão 06

Juliana comprou 140 pães para fazer cachorro-quente no aniversário do seu filho Luan, mas quando foi preparar descobriu que ele tinha comido 5 % dos pães. Quantos pães Luan comeu?

- (A) Luan comeu 7 pães.
- (B) Luan comeu 10 pães.
- (C) Luan comeu 2 pães.
- (D) Luan comeu 13 pães.
- (E) Luan comeu 5 pães.

Questão 07

A prefeitura de Saborlândia está construindo uma Quadra poliesportiva na única escola da cidade. Se esta quadra terá 45 m de comprimento e 23 m de largura, qual será a sua área?

- (A) A área da quadra será de 1.562 m².
- (B) A área da quadra será de 1.412 m².
- (C) A área da quadra será de 1.035 m².
- (D) A área da quadra será de 2.090 m².
- (E) A área da quadra será de 978 m².

Questão 08

Um supermercado tem uma estante com 3 prateleiras onde serão arrumados os pacotes de 5 kg de açúcar. Se há 144 sacos de 5 kg para colocar na estante, quantos quilos de açúcar terá em cada prateleira quando estiver completamente cheia?

- (A) Terá 298 kg.
- (B) Terá 355 kg.
- (C) Terá 222 kg.
- (D) Terá 310 kg.
- (E) Terá 240 kg.

Questão 09

Yan, Yuri e Yago são irmãos e a diferença de idade de um para o outro é de 3 anos, sendo Yan o mais novo, Yuri o do meio e Yago o mais velho. Se a soma das idades dos três é 24, quantos anos tem Yan?

- (A) Yan tem 4 anos.
- (B) Yan tem 12 anos.
- (C) Yan tem 5 anos.
- (D) Yan tem 2 anos.
- (E) Yan tem 7 anos.

Questão 10

Em 5 dias Margarete preparou 10 tortas para vender na festa da igreja e lhe pediram mais 18. De quantos dias ela precisa para fazer as 18 tortas?

- (A) Ela precisa de 12 dias.
- (B) Ela precisa de 20 dias.
- (C) Ela precisa de 15 dias.
- (D) Ela precisa de 8 dias.
- (E) Ela precisa de 9 dias.

Conhecimentos Gerais

Questão 11

O Rio Engano é um curso de água do Estado de Santa Catarina, no Brasil. Ele corre em direção ao oeste, banhando as cidades de Lindóia do Sul, Ipumirim e Arabutã, desaguando no rio Uruguai. Com base nisso, é correto afirmar que o Rio Engano nasce na cidade de:

- (A) Ipumirim.
- (B) Itapema.
- (C) Arabutã.
- (D) Irani.
- (E) Brusque.

Questão 12

Considere o texto abaixo:

"Um estudo do Tribunal de Contas do Estado de Santa Catarina (TCE/SC) mostrou que 52% dos 295 municípios catarinenses não têm um sistema público de esgotamento sanitário. Os dados são referentes a um processo que leve o esgoto das casas até um local de tratamento adequado. O levantamento demonstra que 138 municípios alegaram possuir sistemas descentralizados de esgotamento sanitário. Desses, 127 (92%) informaram que a principal forma alternativa é a

fossa séptica, o que é considerado adequado. Porém, os demais modelos são considerados precários."

(Fonte: G1 (Adaptado). Disponível em: <<https://g1.globo.com/sc/santa-catarina/noticia/2024/01/25/em-sc-52percent-dos-municipios-nao-te-m-sistema-publico-de-esgotamento-sanitario-aponta-tce.ghtml>> Acesso em: 25 de janeiro de 2024.)

Com base no texto, é correto afirmar:

- (A) O estudo do TCE/SC mostrou que apenas 48% dos municípios catarinenses não têm um sistema público de esgotamento sanitário.
- (B) O estudo do TCE/SC mostrou que 52% dos 295 municípios catarinenses não têm um sistema público de esgotamento sanitário.
- (C) Dos 127 municípios que alegaram possuir sistemas descentralizados, todos afirmaram que utilizam fossas sépticas, o que indica que neles não há problemas de saneamento.
- (D) O TCE/SC concluiu que todos os modelos de esgotamento sanitário, incluindo os precários, são considerados adequados.
- (E) A falta de um sistema público de esgotamento sanitário em 52% dos municípios não é um problema, pois a maioria utiliza fossas sépticas, o que é considerado adequado.

Questão 13

Considere o texto abaixo:

"No Brasil, o final do ano de 2023, início de 2024, está, assim como em anos anteriores, sendo palco de tragédias climáticas que colocam a vida dos cidadãos em risco, em especial os mais vulneráveis. Enchentes, alagamentos e ondas de calor são alguns desses eventos extremos que estão impactando as cidades brasileiras e acendendo o alerta dos políticos. De acordo com o especialista, a humanidade irá conviver por tempo indeterminado com esses eventos climáticos extremos, uma vez que não estão sendo tomadas providências necessárias. Basta ver o que aconteceu na última COP, onde eles tiveram um ótimo exercício de retórica, mas sem que metas precisas fossem compactuadas."

(Fonte: Jornal da USP (Adaptado). Disponível em: <<https://jornal.usp.br/radio-usp/falta-de-medidas-governamentais-potencializa-as-consequencias-dos-eventos-climaticos-extremos/>> Acesso em: 25 de janeiro de 2024.)

Com base no texto, é correto afirmar:

- (A) Na última COP, não foram estabelecidas e acordadas metas precisas para lidar com as mudanças climáticas.
- (B) Os eventos climáticos extremos no Brasil são apenas ocorrências esporádicas e não representam uma ameaça persistente à população.

- (C) O especialista afirma que a humanidade logo deixará de conviver com eventos climáticos extremos, pois medidas adequadas já estão sendo implementadas.
- (D) Políticos brasileiros estão tomando todas as medidas necessárias para lidar de forma eficaz com as enchentes, alagamentos e ondas de calor.
- (E) O Brasil não enfrenta problemas climáticos significativos no final de 2023 e início de 2024.

Questão 14

Considere o texto abaixo:

"Em 2023, ocorreram 11 ataques a escolas no Brasil. O problema tem origens muito antigas, mas começou a se agravar recentemente. Eles estão se tornando mais frequentes no Brasil, especialmente a partir de 2017. A partir de 2017, o Brasil não teve nenhum ano, fora 2020, que foi o ano da pandemia, sem ataques às escolas. Os fatores são diversos, mas muito relacionados com as redes sociais e com o discurso de ódio. O professor explica que antes a articulação era feita por comunidades irrestritas, como as da deep web, mas hoje elas são bem melhor articuladas e estão presentes nas maiores redes: desde o Discord até o WhatsApp."

(Fonte: Jornal da USP (Adaptado). Disponível em: <<https://jornal.usp.br/radio-usp/a-partir-de-2017-o-brasil-nao-teve-nenhum-ano-fora-2020-sem-ataques-as-escolas/>> Acesso em: 25 de janeiro de 2024.)

Com base no texto, é correto afirmar:

- (A) As redes sociais não têm contribuído para o aumento dos ataques às escolas; pelo contrário, têm sido benéficas para a segurança escolar.
- (B) Os ataques a escolas no Brasil não estão relacionados a problemas recentes, mas sim a questões antigas que persistem ao longo do tempo.
- (C) Desde 2017, o Brasil tem experimentado anos sem ataques às escolas, excluindo 2020, que foi o ano da pandemia.
- (D) O discurso de ódio tem desempenhado um papel significativo nos ataques às escolas no Brasil.
- (E) Em 2023, houve apenas 11 ataques a escolas no Brasil, o que indica uma redução significativa em comparação com anos anteriores.

Questão 15

Atualmente, Lindóia do Sul é uma região de grande produção de Suínos e Aves. Na região, além da produção de leite, também há indústrias de beneficiamento de madeira, fábricas de móveis, uma ervateira e um moinho industrial. Na época da colonização da região, a base econômica de Lindóia do Sul foi a agricultura, com destaque para o cultivo de:

- (A) Cacau.
- (B) Milho.
- (C) Cana-de-açúcar.
- (D) Café.

(E) Arroz.

Conhecimentos Específicos

Questão 16

As vergas e contra-vergas devem exceder a largura do vão de pelo menos X metros de cada lado e devem ter altura mínima de 10 cm. Assinale a alternativa que contém o correto valor de X.

- (A) 0,6.
- (B) 0,1.
- (C) 0,5.
- (D) 0,05.
- (E) 0,2.

Questão 17

Julgue as seguintes afirmações como verdadeiras (V) ou falsas (F), com relação aos serviços relacionados a assentamento de pisos cerâmicos:

() O revestimento deve ser submetido à limpeza final logo após o rejuntamento dos pisos cerâmicos.

() No caso de não se empregar nenhum processo de cura, o assentamento deve ocorrer 14 dias após a execução do contrapiso.

() Deve-se executar juntas de assentamento tanto menores forem possíveis, a fim de melhorar a estética.

Assinale a alternativa cuja respectiva ordem de julgamento esteja correta:

- (A) V – F – F.
- (B) V – V – V.
- (C) F – V – F.
- (D) F – V – V.
- (E) F – F – F.

Questão 18

Assinale a alternativa que contém a espessura máxima admissível para revestimento em argamassa em paredes internas.

- (A) 5 cm.
- (B) 2 cm.
- (C) 4 cm.
- (D) 3 cm.
- (E) Não há limites para a espessura.

Questão 19

Considere as afirmativas relacionadas aos emboços em argamassa, apresentadas a seguir. Registre V, para verdadeiras, e F, para falsas:

() Emboço pode ser executado sarrafeados, no caso de aplicação posterior de reboco.

() Emboço pode ser executado desempenado ou

sarrafeado, no caso de revestimento posterior com placas cerâmicas.

() Emboço pode ser desempenado, camurçado ou chapiscado, no caso de o emboço constituir-se em única camada de revestimento.

Assinale a alternativa com a sequência, de cima para baixo, correta:

- (A) V – V – F.
- (B) F – V – V.
- (C) F – F – F.
- (D) V – F – F.
- (E) V – V – V.

Questão 20

O _____ é a camada de argamassa sobre a qual são assentados os revestimentos cerâmicos com argamassa colante. Assinale a alternativa que preenche corretamente a lacuna do texto acima.

- (A) piso flutuante
- (B) contrapiso
- (C) tardez
- (D) lastro
- (E) enchimento

Questão 21

A verticalidade (alinhamento vertical) deve ser verificada periodicamente durante o levantamento da alvenaria. Assinale a alternativa que contém uma ferramenta que pode ser utilizada para verificar a verticalidade da parede.

- (A) Régua de alumínio.
- (B) Prumo de face.
- (C) Prumo de centro.
- (D) Trena.
- (E) Mangueira de nível.

Questão 22

Considere as afirmativas relacionadas à execução de alvenarias sem função estrutural, apresentadas a seguir. Registre V, para verdadeiras, e F, para falsas:

() Recomenda-se não deixar panos soltos de alvenaria por longos períodos e nem os executar muito alto de uma só vez.

() As alvenarias apoiadas em alicerces devem, preferencialmente, ser executadas imediatamente após a impermeabilização destes.

() A contra-verga é um componente estrutural localizado sob os vãos de alvenaria.

Após análise, assinale a alternativa que apresenta a sequência CORRETA dos itens acima, de cima para baixo:

- (A) V – V – F.
- (B) V – F – F.
- (C) V – V – V.
- (D) F – V – V.
- (E) V – F – V.

Questão 23

Avalie as proposições acerca dos serviços de assentamento de pisos cerâmicos e seus serviços relacionados:

I.A camada de enchimento o tipo de camada intermediária cuja função é encher o desnível das lajes rebaixadas ou

elevar o nível do piso, ou embutir canalizações e/ou atuar como isolamento térmica.

II.A junta de assentamento consiste no espaço regular entre duas placas cerâmicas adjacentes.

III.A argamassa de rejuntamento consiste na argamassa introduzida nas juntas de assentamento, com o fim de preenchê-las

Assinale a alternativa correta:

- (A) Apenas as proposições II e III estão corretas.
- (B) Apenas as proposições I, II e III estão corretas.
- (C) Apenas as proposições I e II estão corretas.
- (D) Apenas a proposição III está correta.
- (E) Apenas as proposições I e III estão corretas.

Questão 24

Uma técnica para garantir o ângulo de 90 graus entre duas paredes é comumente chamado de esquadro. Uma possibilidade de verificar o esquadro de uma parede é criar, a partir de um vértice da parede, um ponto a 0,8 metros do vértice em uma parede e outro ponto a 0,6 metros do vértice, porém na outra parede. Ambos os pontos devem ser marcados afastando do vértice horizontalmente. A parede estará no "esquadro", isto é, com ângulo de 90º graus, somente se a distância entre os dois pontos for igual a:

- (A) 1,0 metro.
- (B) 0,95 metros.
- (C) 1,2 metros.
- (D) 0,9 metros.
- (E) 1,5 metros.

Questão 25

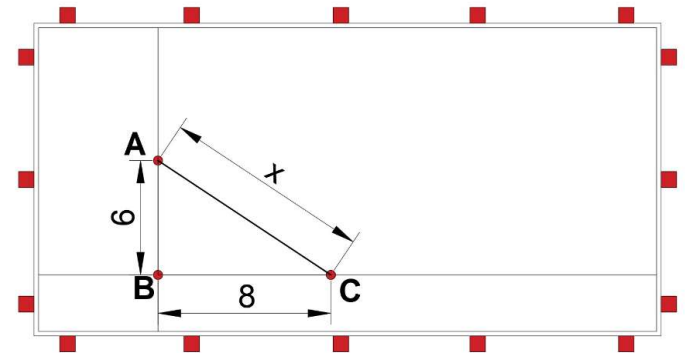
Roberto, pedreiro, irá executar uma parede de 50,0 m² com blocos cerâmicos, o bloco utilizado possui as seguintes dimensões: 14x19x19cm. Sabendo que a espessura da parede, apenas considerando o bloco, será de 14cm e que a junta de assentamento é de 1,0 cm, então o total de blocos que Roberto precisará para executar esta parede será de:

OBS: Desconsiderar perdas.

- (A) 1250.
- (B) 1000.
- (C) 900.
- (D) 950.
- (E) 975.

Questão 26

Observe o desenho do gabarito da obra, para garantir o esquadro entre as linhas formadas pelo segmento AB e BC o valor da distância entre os pontos AC deve ser de:



- (A) 9 metros.
- (B) 15 metros
- (C) 10 metros
- (D) 11 metros.
- (E) 12 metros.

Questão 27

Considere o seguinte traço de concreto em volume 1:2:3:0,5. Assim, avalie as proposições:

I.Para cada padiola de cimento deve ser utilizado três padiolas de areia.

II.Para cada quatro padiolas de areia devem ser utilizadas seis padiolas de brita.

III.Para cada padiola de água devem ser utilizadas quatro padiolas de areia.

Assinale a alternativa correta:

- (A) Apenas as proposições I e III estão corretas.
- (B) Apenas a proposição III está correta.
- (C) Apenas a proposição I está correta.
- (D) Apenas as proposições II e III estão corretas.
- (E) Apenas as proposições I e II estão corretas.

Questão 28

Durante o preparo de uma argamassa de contrapiso de traço 1:5 em volume, o pedreiro solicitou ao seu ajudante 2 latas cheias de cimento e X latas cheias de areia. Para que o pedreiro tenha dado o comando correto a seu ajudante o valor de X deve ser:

- (A) 4.
- (B) 10.
- (C) 5.
- (D) 2.
- (E) 8.

Questão 29

Considere as afirmativas relacionadas aos equipamentos de segurança, apresentadas a seguir. Registre V, para verdadeiras, e F, para falsas:

(__)Capacete é um item muito importante, ele protege contra quedas de objetos em cima da cabeça do profissional.

(__)Luvas de segurança protege as mãos contra elementos perfurantes, cortantes e corrosivos da obra, tais como pregos e produtos químicos.

(__)Óculos de segurança é um equipamento que protege os olhos do profissional contra partículas e resíduos líquidos e sólidos que podem ser prejudiciais, sobretudo no uso de soldas e tintas.

Assinale a alternativa com a sequência correta:

- (A) V – F – F.
- (B) V – V – V.
- (C) F – F – F.
- (D) F – V – V.
- (E) V – V – F.

Questão 30

Assinale a alternativa que contém a espessura máxima admissível para revestimento em argamassa em tetos internos ou externos.

- (A) 4 cm.
- (B) 3 cm.
- (C) 2 cm.
- (D) 6 cm.
- (E) 5 cm.

Questão 31

Ao aplicar aditivos hidrofugantes na argamassa de revestimento de parede, podemos conferir a ela propriedades de:

- (A) Aplicar coloração para fins decorativos.
- (B) Reduzir o tempo de cura do revestimento.
- (C) Trabalhabilidade da argamassa.
- (D) Dificultar a passagem de água.
- (E) Resistência a compressão.

Questão 32

Trinchas e broxas são utilizados para serviços de:

- (A) Concretagem.

- (B) Demolição.
- (C) Locação de obra.
- (D) Elevação de alvenaria.
- (E) Pintura.

Questão 33

João está assentando blocos cerâmicos para construção de uma parede de vedação. A espessura máxima da junta de assentamento em argamassa deve ser de:

- (A) 0,5 cm
- (B) 1,0 cm
- (C) 2,0 cm
- (D) 2,5 cm
- (E) Quanto maior a espessura, melhor.

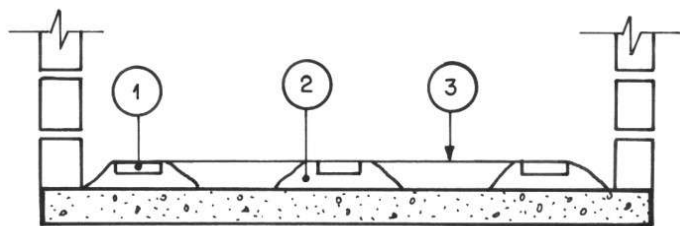
Questão 34

No contexto da segurança do trabalho, assinale a alternativa que contém um elemento intimamente ligado às linhas de vida, na prevenção contra quedas.

- (A) Óculos de proteção.
- (B) Capacete.
- (C) Talabarte.
- (D) Máscara PF2
- (E) Luvas de raspa.

Questão 35

No tocante às etapas necessárias para o assentamento de pisos cerâmicos pode-se dizer que a camada de regularização é a camada intermediária cuja função é eliminar irregularidades da base e/ou corrigir o caimento do piso. A figura abaixo apresenta uma etapa da regularização. Assinale a alternativa que contém o nome do elemento "1" da figura abaixo.



- (A) Talisca.
- (B) Forma.
- (C) Guia.
- (D) Segmento.
- (E) Linha.

Questão 36

A argamassa de _____ deve ser aplicada com uma consistência fluida, assegurando maior facilidade de penetração da pasta de cimento na base a ser revestida

e melhorando a aderência na interface revestimento-base. Assinale a alternativa que preenche corretamente a lacuna do texto acima.

- (A) Reboco.
- (B) Emboço.
- (C) Gesso.
- (D) Chapisco.
- (E) Lastro.

Questão 37

Assinale a alternativa que contém os principais EPI's na realização de serviços de pintura em ambientes internos (lixamento de massa corrida e aplicação de demãos de tinta).

- (A) Protetor auricular e máscara.
- (B) Máscara e talabarte.
- (C) Luvas e protetor auricular.
- (D) Máscara, óculos e luvas.
- (E) Botina com bico de aço e luvas.

Questão 38

Julgue as seguintes afirmações como verdadeiras (V) ou falsas (F), com relação aos serviços relacionados a assentamento de azulejos:

(__)O assentamento de azulejos com adesivo à base de cimento deve ser efetuado de baixo para cima.

(__)Para a aplicação da argamassa sobre a superfície a ser revestida, deve ser utilizada desempenadeira metálica que possua uma das arestas lisa e outra com dentes.

(__)O azulejo, seco e limpo, deve ser aplicado sobre a camada de argamassa, fazendo-o deslizar um pouco até alcançar a posição de assentamento.

Assinale a alternativa cuja respectiva ordem de julgamento esteja correta:

- (A) V – F – F.
- (B) V – V – V.
- (C) F – V – V.
- (D) V – F – V.
- (E) V – V – F.

Questão 39

A construção civil envolve uma gama de materiais e equipamentos para cada tipo de serviço. Sobre o assunto, julgue as seguintes afirmações como verdadeiras (V) ou falsas (F):

(__)A desempenadeira pode revestir paredes e pisos com massas e concreto para proporcionar um acabamento liso.

(__)Prumo de centro serve para verificar a verticalidade dos elementos de construção, como alvenarias, por exemplo.

(__)A Torques é muito utilizada por armadores para manipular as ferragens, principalmente cortando arames.

Assinale a alternativa cuja respectiva ordem de julgamento está correta:

- (A) F – F – F.
- (B) V – V – V.
- (C) F – V – V.
- (D) V – F – V.
- (E) V – F – F.

Questão 40

Considere as afirmativas relacionadas à execução de alvenarias sem função estrutural, apresentadas a seguir. Registre V, para verdadeiras, e F, para falsas:

(__)O nível deve verificado periodicamente durante o levantamento da alvenaria e comprovado após a alvenaria erguida. Esta verificação pode ser feita com mangueira plástica transparente.

(__)Para se evitar a perda da plasticidade e consistência da argamassa, a mesma deve ser preparada em quantidade adequada a sua utilização.

(__)A execução da alvenaria deve ser iniciada pelos cantos principais ou pelas ligações com quaisquer outros componentes e elementos da edificação.

Assinale a alternativa com a sequência correta:

- (A) V – V – F.
- (B) V – V – V.
- (C) V – F – F.
- (D) F – V – V.
- (E) F – F – F.