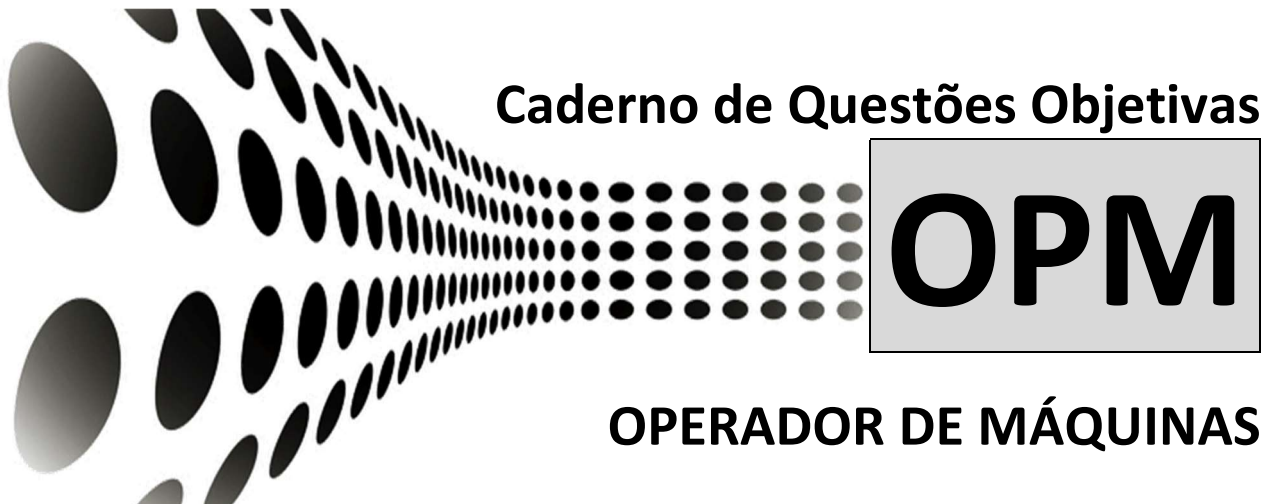




PREFEITURA MUNICIPAL DE IVAÍ  
Estado do Paraná



CONCURSO PÚBLICO 003/2023 - EDITAL 001/2024  
DATA DA PROVA: 10/03/2024 - PERÍODO: TARDE



\_\_\_\_\_  
*Seu nome completo*



**INSTRUÇÕES:**

As páginas deste caderno estão numeradas e contêm 40 (quarenta) questões com 05 (cinco) alternativas (a,b,c,d,e) cada questão.

O candidato não poderá levar o Caderno de Provas de Múltipla Escolha, devendo ao final da prova devolver o mesmo ao fiscal de sala juntamente com a **FOLHA DE RESPOSTAS** (Gabarito).

O candidato poderá levar a folha de rascunho com as marcações da **FOLHA DE RESPOSTAS**, conforme especificado abaixo.

**ATENÇÃO:**

1. Verifique se as páginas deste caderno estão corretas.
2. Verifique na **FOLHA DE RESPOSTAS** se o seu nome, nº do documento e o cargo para o qual concorre estão corretos.
3. Observe as recomendações impressas na **FOLHA DE RESPOSTAS**.
4. Leia atentamente cada questão e assinale na **FOLHA DE RESPOSTAS** a opção que a responde corretamente.
5. Se você precisar de algum esclarecimento consulte o fiscal.
6. Você dispõe de 3 (três) horas para fazer a prova, inclusive o preenchimento da **FOLHA DE RESPOSTAS**. Faça-a com tranquilidade, mas **CONTROLE O TEMPO**.

Candidato(a), anote as suas respostas abaixo e destaque na linha pontilhada.

01	02	03	04	05	06	07	08	09	10	11	12	13	14	15	16	17	18	19	20
21	22	23	24	25	26	27	28	29	30	31	32	33	34	35	36	37	38	39	40

## Questões de Língua Portuguesa

01) 01) Leia o texto abaixo:



GOMES, Sarah. Vida no Mundo Virtual: Foco. *Bichinhos de jardim*, 23 de fevereiro de 2024. Disponível em: <http://bichinhosdejardim.com/vmv-foco/>. Acesso em: 27 fev. 2024.

O comportamento da joaninha nessa tirinha indica que ela é:

- a) medrosa.
- b) triste.
- c) briguenta.
- d) distraída.
- e) generosa.

02) Qual das palavras grifadas no trecho abaixo apresenta uma forma masculina que tem escrita diferente da feminina?

“A **edição** deste ano da Mostra Internacional de Cinema em São Paulo dará um enfoque especial a **produções** cinematográficas da Índia. Um compromisso foi firmado entre a **diretora** do evento, Renata de Almeida, e **representantes** do audiovisual indiano durante o Festival de Berlim, encerrado na última **semana**.”

BERGAMO, Mônica. Mostra de Cinema em SP dará enfoque especial para o cinema indiano em 2024. *Folha de São Paulo*, 27 de fevereiro de 2024. Disponível em: <https://www1.folha.uol.com.br/colunas/monicabergamo/2024/02/mostra-de-cinema-em-sp-dara-enfoque-especial-para-o-cinema-indiano-em-2024.shtml>. Acesso em: 27 fev. 2024.

- a) “edição”.
- b) “produções”.

- c) “diretora”.
- d) “representantes”.
- e) “semana”.

03) Somente UMA das palavras abaixo deve ser acentuada. Identifique-a:

- a) RELAMPAGO.
- b) CANSAÇO.
- c) SEBOSÓ.
- d) TELEVISÃO.
- e) CANECA.

04) Qual dos pares de palavras abaixo está corretamente separado em sílabas?

- a) co-nde-nsa-do | ca-bo-cl-o
- b) sam-ba-qui | jor-na-lei-ro
- c) lu-cid-ez | ex-pe-c-ta-ti-va
- d) moc-hi-la | pis-to-le-iro
- e) en-ca-de-rna-ção | cu-rva

05) Qual das palavras abaixo está escrita corretamente?

- a) IORGUTE.
- b) CAMIZA.
- c) FAMILHA.
- d) PÊCEGO.
- e) MISTO.

06) São palavras escritas com “s” com som de “z”:

- I - acaso / asilo / blusa.
- II - desenhar / desigual / empresa.
- III - caso / crise / desejo.
- IV - pesado / pose / visita.

Estão corretas:

- a) I e II, apenas.
- b) I, II e III, apenas.
- c) II e III, apenas.
- d) III e IV, apenas.
- e) I, II, III e IV.

07) Quanto a divisão silábica, assinale a alternativa correta:

- a) cui-da-do, ba-nhei-ra, ca-í-do.
- b) prefi-xo, alcoo-lis-mo, carro-ssel.
- c) e-n-xa-guai, que-re-r, cebo-la.
- d) histó-ria, mate-má-ti-ca, po-r-tu-guês.
- e) ma-ré, pé-ssi-mo, já-u-la.

08) Quais das palavras abaixo estão acentuadas corretamente?

- a) Albúm / crácha / líquido.
- b) Cipó / vírus / parabéns.
- c) Dómino / plástico / estádio.
- d) Umído / último / fácil.
- e) Assémbleia / jóboia / oticá.

#### Questões de Matemática

09) Em uma gincana escolar, a equipe de Joana marcou o triplo de pontos que a equipe de Miguel, e ainda ganhou um bônus de 132 pontos, alcançando um total de 396 pontos. Quantos pontos a equipe de Miguel marcou?

- a) 85 pontos.
- b) 88 pontos.
- c) 92 pontos.
- d) 80 pontos.
- e) 95 pontos.

10) Um agricultor está planejando o plantio em um terreno retangular que mede 15 metros de comprimento por 10 metros de largura. Quantos metros quadrados de área ele tem para plantar?

- a) 140.
- b) 165.
- c) 160.
- d) 130.
- e) 150.

11) Durante uma caminhada, Mayara leva uma garrafa com 1,5 litros de água. Se ela consumir 0,75 litros durante o percurso, quantos mililitros de água Mayara ainda terá para o restante da caminhada?

- a) 720.
- b) 750.
- c) 780.
- d) 700.
- e) 760.

12) Se um carro consome 5 litros de combustível para percorrer 100 quilômetros, quantos litros serão necessários para realizar uma viagem de 600 quilômetros?"

- a) 30 litros.
- b) 28 litros.
- c) 32 litros.
- d) 34 litros.

e) 26 litros.

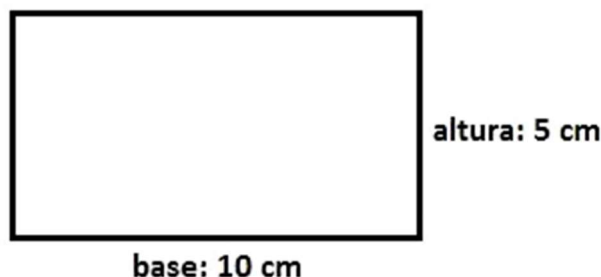
13) Laura aplicou R\$ 1.000,00 em uma conta de poupança que rende juros simples de 2% ao mês. Após cinco meses, qual será o montante que Laura terá acumulado na conta?

- a) R\$ 1.100,00.
- b) R\$ 1.090,00.
- c) R\$ 1.060,00.
- d) R\$ 1.130,00.
- e) R\$ 1.075,00.

14) Marcelo comprou um notebook pelo valor de R\$ 2.600,00 reais, parcelado em 10x sem juros no cartão. A loja oferecia um desconto de 10% para o pagamento à vista. Qual seria o valor pago se Marcelo comprasse o produto à vista?

- a) R\$ 2.310,00.
- b) R\$ 2.315,00.
- c) R\$ 2.330,00.
- d) R\$ 2.335,00.
- e) R\$ 2.340,00.

15) Determine a área do retângulo abaixo em  $\text{cm}^2$ :



- a)  $15\text{cm}^2$ .
- b)  $30\text{cm}^2$ .
- c)  $50\text{cm}^2$ .
- d)  $70\text{cm}^2$ .
- e)  $90\text{cm}^2$ .

#### Questões de Conhecimentos Gerais

16) Segundo do IBGE, quem nasce no Município de Ivaí é:

- a) Ivaicense.
- b) Ivaiano.
- c) Iviano.
- d) Ivaniano.
- e) Ivatubense.

17) O Município de Ivaí está localizado na microrregião de:

- a) Guarapuava.
- b) Prudentópolis.
- c) Guamiranga.
- d) Castro.
- e) Curitiba.

18) Segundo o IBGE, a economia do Município de Ivaí tem como atividade predominante:

- a) Comércio.
- b) Indústria.
- c) Serviços.
- d) Agropecuária.
- e) Exploração de Petróleo.

19) O Estado do Paraná faz fronteira com:

- a) Rio Grande do Sul e Santa Catarina.
- b) Rio Grande do Sul e São Paulo.
- c) São Paulo e Santa Catarina.
- d) São Paulo e Rio de Janeiro.
- e) Rio de Janeiro e Mato Grosso.


20) O planejamento de centros urbanos tem dado importância a vegetação existente nas cidades, conhecida como arborização urbana, mas que também pode ser chamada de floresta urbana, um conceito mais amplo que engloba toda a cobertura vegetal situada dentro do perímetro urbano.

A afirmação acima está:

- a) Totalmente incorreta.
- b) Parcialmente correta porque nos grandes centros urbanos não se encontra áreas verdes.
- c) Correta, pois existem leis que incentivam o uso de áreas verdes urbanas para esporte, lazer e educação.
- d) Parcialmente correta, já que não viabilidade para floresta urbana nas cidades.
- e) Correta, mas no Brasil não existe arborização urbana.

#### Questões de Conhecimento Específico

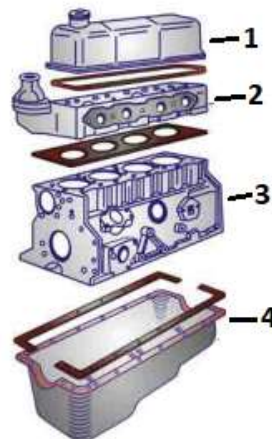
21) Em tratores/máquinas o seguinte símbolo:



Indica:

- a) Pressão do óleo do óleo lubrificante do sistema de transmissão.
- b) As rotações por minuto desenvolvida pelo motor.
- c) O nível de combustível dentro do tanque.
- d) A pressão do óleo do motor.
- e) Se a bateria está sendo carregada, ou não pelo alternador.

22) A seguinte figura ilustra um motor:



O que representa a figura número 3?

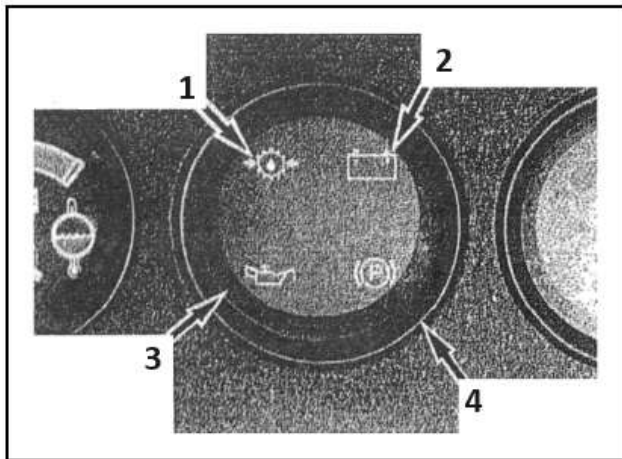
- a) Tampa da válvula.
- b) Cabeçote.
- c) Cáster.
- d) Tordam.
- e) Bloco.

23) O painel de instrumentos é projetado de modo a informar ao operador, as principais condições de uso e funcionamento do veículo; neste mesmo painel o Medidor de combustível:

- a) Indica a velocidade que o veículo está desenvolvendo.
- b) Indica quantos quilômetros o veículo percorreu desde a fabricação.
- c) Indica a distância percorrida desde a última vez em que foi zerado.
- d) Indica a quantidade aproximada de combustível.

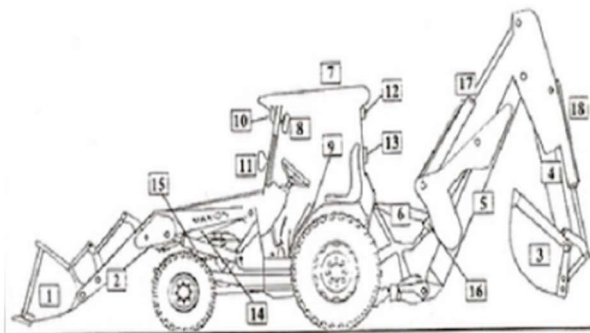
e) Indica a temperatura na água de arrefecimento do motor, em faixas (frio, normal ou muito quente).

24) Na figura a seguir, que número indica a Luz alerta de pressão do óleo do motor?



- a) 1.
- b) 2.
- c) 3.
- d) 4.
- e) Nenhum das anteriores.

25) A seguinte figura representa uma retroscavadeira:



O que se refere a figura número 14?

- a) Cilindro da lança de profundidade.
- b) Cilindro de basculamento da caçamba traseira.
- c) Lança de levante ou coluna.
- d) Lança de profundidade.
- e) Cilindro de basculamento da caçamba dianteira.

26) Por que é importante a um operador de máquinas ter conhecimentos básicos de mecânica?

I - Pelo Código de Trânsito Brasileiro, ele é obrigado a conservar o veículo em perfeitas condições de uso.

II - Devido a infrações e penalidades previstas para veículos em mau está de funcionamento e conservação.

III - Como qualquer máquina, o veículo está sujeito à falha e panes. É sempre bom saber o que está acontecendo.

IV - Porque veículos bem conservados são mais econômicos, consomem, quebram e depreciam menos.

Estão corretas:

- a) I, II e III, apenas.
- b) II, III e IV, apenas.
- c) III e IV, apenas.
- d) I, II, III e IV.
- e) I, II e IV, apenas.

27) O lubrificante cria uma película protetora com a finalidade principal de reduzir o atrito e o desgaste entre as peças móveis do motor. Se faltar óleo ou se ele estiver em más condições, o motor poderá danificar-se rapidamente. São recomendações:

I - Cada tipo de motor exige um tipo de lubrificante diferente. Utilizar os tipos de lubrificantes recomendados.

II - Fazer as trocas dentro da quilometragem prevista pelo fabricante. Em condições severas, a troca deve ser antecipada.

III - Observar periodicamente o nível do óleo.

Estão corretas:

- a) I e II, apenas.
- b) II e III, apenas.
- c) I e III, apenas.
- d) I, II e III.
- e) II, apenas.






28) É necessário ao operador de máquinas portar CNH – Carteira Nacional de Habilitação enquanto opera uma máquina por vias rurais?

- a) Não.
- b) Sim, no mínimo na Categoria B.
- c) Sim, no mínimo na Categoria C.
- d) Sim, no mínimo na Categoria D.
- e) Sim, no mínimo na Categoria E.

29) O condutor deverá, a todo momento, ter domínio de seu veículo, dirigindo-o com atenção e cuidados indispensáveis à:




- a) Densidade geográfica.
- b) Segurança do trânsito.
- c) Intercunscrição democrática.
- d) Genuinidade única.
- e) Fluidez íngreme.

30) Qual dos seguintes símbolos indica haverá uma curva à esquerda?

- a) 
- b) 
- c) 
- d) 
- e) 

31) Qual dos seguintes símbolos indica "Circulação exclusiva de bicicletas"?

- a) 
- b) 

- c) 
- d) 
- e) 

32) CTB – Código de Trânsito Brasileiro; Art. 27. Antes de colocar o veículo em circulação nas vias públicas, o condutor deverá verificar a existência e as boas condições de funcionamento dos equipamentos de uso obrigatório, bem como assegurar-se da existência de \_\_\_\_\_ suficiente para chegar ao local de destino.

Escolha a opção que preenche a lacuna:

- a) Força.
- b) Combustível.
- c) Drenagem.
- d) Cambagem.
- e) Fluxo.

33) O trânsito de veículos nas vias terrestres abertas à circulação obedecerá à seguinte norma, exceto:

- a) A circulação far-se-á pelo lado esquerdo da via, admitindo-se as exceções devidamente sinalizadas.
- b) O condutor deverá guardar distância de segurança lateral e frontal entre o seu e os demais veículos, bem como em relação ao bordo da pista, considerando-se, no momento, a velocidade e as condições do local, da circulação, do veículo e as condições climáticas.
- c) Quando veículos, transitando por fluxos que se cruzem, se aproximarem de local não sinalizado, terá preferência de passagem no caso de apenas um fluxo ser proveniente de rodovia, aquele que estiver circulando por ela.
- d) Quando veículos, transitando por fluxos que se cruzem, se aproximarem de local não sinalizado, terá preferência de passagem no caso de rotatória, aquele que estiver circulando por ela.

e) Quando veículos, transitando por fluxos que se cruzem, se aproximarem de local não sinalizado, terá preferência de passagem aquele que vier pela direita do condutor.

**34) Quando uma pista de rolamento comportar várias faixas de circulação no mesmo sentido, são as da \_\_\_\_\_ destinadas ao deslocamento dos veículos mais lentos e de maior porte, quando não houver faixa especial a eles destinada, e as da \_\_\_\_\_, destinadas à ultrapassagem e ao deslocamento dos veículos de maior velocidade.**

**Escolha a opção que preenche corretamente e respectivamente as lacunas deixadas no texto:**

- a) Direita, esquerda.
- b) Esquerda, direita.
- c) Esquerda, esquerda.
- d) Direita, direita.
- e) Esquerda, central.

**35) O exame de aptidão física e mental para condutores com idade inferior a 50 (cinquenta) anos, a ser realizado no local de residência ou domicílio do examinado, será preliminar e renovável:**

- a) A cada 03 (três) anos.
- b) A cada 04 (quatro) anos.
- c) A cada 05 (cinco) anos.
- d) A cada 10 (dez) anos.
- e) A cada 20 (vinte) anos.

**36) Exame toxicológico; os condutores das categorias C, D e E com idade inferior a 70 (setenta) anos serão submetidos a novo exame a cada período de \_\_\_\_\_, a partir da obtenção ou renovação da Carteira Nacional de Habilitação, independentemente da validade dos demais exames.**

**Escolha a opção que preenche a lacuna:**

- a) 2 (dois) anos.
- b) 2 (dois) anos e 6 (seis) meses.
- c) 4 (quatro) anos.
- d) 4 (quatro) anos e 6 (seis) meses.
- e) 5 (cinco) anos.

**37) A aquele condutor das Categorias "C", "D", e/ou "D" que for flagrado dirigindo com o exame Toxicológico vencido,**

**acarretará a suspensão do direito de dirigir pelo período de:**

- a) 2 meses.
- b) 3 meses.
- c) 6 meses.
- d) 12 meses.
- e) 24 meses.

**38) Terá a sua CNH – Carteira Nacional de Habilitação suspensa, o infrator que atingir, no período de 12 (doze) meses, a seguinte contagem de pontos:**

- a) 10 (dez) pontos, caso conste 1 (uma) infração gravíssima na pontuação.
- b) 20 (vinte) pontos, caso conste 1 (uma) infração gravíssima na pontuação.
- c) 30 (trinta) pontos, caso conste 1 (uma) infração gravíssima na pontuação.
- d) 40 (quarenta) pontos, caso conste 1 (uma) infração gravíssima na pontuação.
- e) 50 (cinquenta) pontos, caso conste 1 (uma) infração gravíssima na pontuação.

**39) CTB – Código de Trânsito Brasileiro; qual a definição Área de espera?**

- a) São áreas municipais com elevado adensamento populacional e formação de habitações muito próximas. Enquanto, Zona Rural corresponde a um conjunto de atividades primárias (agricultura, pesca, etc.), praticadas em áreas não ocupadas por cidades ou grandes adensamentos populacionais.
- b) Área delimitada por 2 (duas) linhas de retenção, destinada exclusivamente à espera de motocicletas, motonetas e ciclomotores, junto à aproximação semaforizada, imediatamente à frente da linha de retenção dos demais veículos.
- c) É simplesmente um espaço de contenção instalado nas rodovias e estradas pelo Brasil. Com isso, é criada uma área isolada que irá auxiliar na frenagem de veículos desgovernados ou que estão com problemas no equipamento de freio.
- d) É a área interna total do imóvel, excluindo as áreas ocupadas pelas paredes. Garagens e varandas não entram nesse somatório. A área útil é a área realmente aproveitada para móveis e utilização. Em inglês a área útil é useful floor area, e um sinônimo não muito utilizado por aqui é área de vassoura.
- e) É a área em que acontecem as atividades primárias. Agricultura, pecuária, extrativismo e caça são alguns dos exemplos

de práticas que caracterizam e dão forma a esses espaços.

**40) O trânsito de veículos sobre passeios, calçadas e nos acostamentos, só poderá ocorrer para que se:**

- a) Obtenha mais agilidade em seu deslocamento.
- b) Tire o atraso ocasional acontecido.
- c) Adentre ou se saia dos imóveis ou áreas especiais de estacionamento.
- d) Possa interagir com conhecidos na calçada.
- e) Possa chegar com mais facilidade a seu destino.