

AVANÇASP



CÂMARA MUNICIPAL DE ITAPEVERICA
DA SERRA

CONCURSO PÚBLICO
01/2024

ANALISTA DE CONTROLE INTERNO

Leia atentamente as instruções abaixo

1. PROVA E FOLHA DE RESPOSTAS

Além deste Caderno de Prova, contendo 50 (cinquenta) questões objetivas, você receberá do Fiscal de Sala:

- 01 (uma) Folha de Respostas destinada às respostas das questões objetivas. Confira se seus dados estão corretos.

2. TEMPO

- 03 (três) horas é o tempo disponível para realização da prova, já incluído o tempo para marcação da Folha de Respostas da prova objetiva;

- **01 (uma) hora** após o início da prova é possível, retirar-se da sala levando o caderno de prova;

3. INFORMAÇÕES GERAIS

- As questões objetivas têm 05 (cinco) alternativas de resposta (A, B, C, D, E) e somente **uma** delas está correta;

- Verifique se seu caderno está completo, sem repetição de questões ou falhas. Caso contrário, informe imediatamente o Fiscal da Sala, para que sejam tomadas as devidas providências;

- Confira seus dados pessoais na Folha de Respostas, especialmente nome, número de inscrição e documento de identidade e leia atentamente as instruções para preenchimento;

- O preenchimento das respostas da prova objetiva é de sua responsabilidade e não será permitida a troca de Folha de Respostas em caso de erro de marcação pelo candidato;

- Marque, na folha de respostas, com caneta de tinta azul ou preta, a letra correspondente à alternativa que você escolheu.

- Reserve tempo suficiente para o preenchimento de suas respostas. Para fins de avaliação, serão levadas em consideração apenas as marcações realizadas na Folha de Respostas da prova objetiva, não sendo permitido anotar informações relativas às respostas em qualquer outro meio que não seja o caderno de prova;

- Ao se retirar, entregue a Folha de Respostas preenchida e assinada ao Fiscal de Sala.

SERÁ ELIMINADO do presente certame o candidato que:

- a) for surpreendido, durante as provas, em qualquer tipo de comunicação com outro candidato;

- b) portar ou usar, qualquer tipo de aparelho eletrônico (calculadoras, bips/pagers, câmeras fotográficas, filmadoras, telefones celulares, smartphones, tablets, relógios, walkmans, MP3 players, fones de ouvido, agendas eletrônicas, notebooks, palmtops ou qualquer outro tipo de computador portátil, receptores ou gravadores) seja na sala de prova, sanitários, pátios ou qualquer outra dependência do local de prova;

- c) se ausentar da sala em que se realizam as provas levando consigo o Caderno de Questões e/ou a Folha de Respostas;

- d) se recusar a entregar a Folha de Respostas, quando terminar o tempo estabelecido;

- e) não assinar a Lista de Presença e/ou a Folha de Respostas.

LÍNGUA PORTUGUESA
TEXTO

Leia o texto para responder às questões de 1 a 05.

Possível caso de altruísmo é observado entre elefantes-marinhos

Em registro raro feito nos Estados Unidos, pesquisadores acompanharam um macho da espécie *Mirounga angustirostris* salvando um filhote com poucas semanas de vida

Em artigo publicado em janeiro na revista *Marine Mammal Science*, pesquisadores relatam um possível episódio de altruísmo entre elefantes-marinhos da espécie *Mirounga angustirostris*. O caso ocorreu na Califórnia, em 27 de janeiro de 2022, e é considerado raro, especialmente por envolver um mamífero marinho macho.

Os autores do estudo caracterizam o altruísmo como um comportamento de assistência voltado para um indivíduo necessitado. O altruísta seria responsável por uma ação que reduz sua própria chance de sobrevivência e reprodução, mas que beneficia a sobrevivência do outro.

O episódio observado pelos cientistas durou cerca de 20 minutos e envolveu um filhote com menos de duas semanas de vida, uma fêmea que cuidava dele e um macho que fazia parte do grupo de elefantes-marinhos da região. O filhote e a fêmea estavam juntos, mas foram separados pela maré e pelas ondas. Distante cerca de 15 metros, a fêmea atingiu águas mais rasas e começou a vocalizar, chamando o filhote. Ele, por sua vez, não conseguia nadar e era puxado para mais longe pelas ondas. Então, um macho, identificado como o alfa do grupo, se aproximou da fêmea e, logo depois, seguiu em direção ao filhote – que já estava a aproximadamente 40 metros da fêmea. Ao alcançar o filhote, o empurrou gentilmente com a cabeça para retornar à costa. O mais velho ajudou o mais novo até que eles estivessem a quatro metros da fêmea e finalmente o filhote estivesse junto da mãe.

O caso chama atenção porque elefantes-marinhos machos geralmente não participam do cuidado com os filhotes. “O comportamento de perseguir o filhote e empurrá-lo em direção à

costa poderia ser interpretado como comportamento sexual mal direcionado, em que machos dominantes frequentemente conduzem e escoltam fêmeas para a costa para evitar assédio por outros machos. No entanto, propomos que as ações foram intencionais”, escrevem os pesquisadores no artigo.

Eles ressaltam que a condução do filhote foi feita de forma gentil e que, depois, o macho não se aproximou da fêmea, apenas emitiu um som na direção dela. Além disso, os cientistas defendem ter sido um episódio de altruísmo, já que o macho gastou uma energia que poderia ter sido usada para acasalar, defender sua posição contra outros machos ou se manter vivo durante o período de jejum típico dessa espécie.

Revista Galileu. Disponível em <<https://revistagalileu.globo.com/ciencia/biologia/noticia/2024/02/possivel-caso-de-altruismo-e-observado-entre-elefantes-marinhos.ghtml>>

QUESTÃO 01

Segundo a reportagem apresentada, conclui-se que:

- (A) o elefante-marinho mais velho ofereceu assistência ao filhote por considerá-lo uma presa.
- (B) a assistência do elefante-marinho mais velho se trata de um comportamento sexual mal direcionado em relação à mãe do filhote.
- (C) o cuidado com os filhotes dessa espécie costuma ser de responsabilidade das fêmeas, e não dos machos.
- (D) o resgate do filhote foi feito pelo elefante-marinho mais velho em troca de acasalamento.
- (E) os elefantes-marinhos machos não participam do cuidado com os filhotes porque focam em sua própria sobrevivência.

QUESTÃO 02

Os pesquisadores consideraram o resgate do filhote como um episódio de altruísmo pois:

- (A) o elefante-marinho sofreu risco de vida para salvar o filhote.
- (B) o elefante-marinho sacrificou outro animal para salvar o filhote.
- (C) o elefante-marinho gastou sua energia no resgate do filhote, e não em outras atividades.
- (D) elefantes-marinhos machos costumam ser bastante agressivos com filhotes, e não compassivos.
- (E) elefantes-marinhos machos costumam dominar fêmeas e filhotes para competir com outros animais.

QUESTÃO 03

Analise o excerto a seguir quanto aos mecanismos de coesão textual: “Ele, por sua vez, não conseguia nadar e era puxado para mais longe pelas ondas.” Assinale a alternativa que classifica corretamente o tipo de coesão textual verificada no excerto apresentado, com base no emprego do pronome pessoal, bem como indica o elemento a que o pronome se refere no texto.

- (A) coesão referencial anafórica, que retoma o referente “o filhote” anteriormente enunciado.
- (B) coesão referencial catafórica, que introduz o referente “o filhote” no texto.
- (C) coesão referencial anafórica, que retoma o referente “um macho” anteriormente enunciado.
- (D) coesão por substituição, que retoma e atualiza com uma nova característica o referente “o filhote” anteriormente enunciado.
- (E) coesão lexical, que retoma por meio de um hiperônimo o referente “o filhote” anteriormente enunciado.

Considere o excerto a seguir para responder às questões 4 e 5:

Então, um macho, identificado como o alfa do grupo, se aproximou da fêmea e, logo depois, seguiu em direção ao filhote – que já estava a aproximadamente 40 metros da fêmea.

QUESTÃO 04

Em termos de papel sintático, o elemento colocado entre vírgulas “identificado como o alfa do grupo”, no contexto apresentado, constitui:

- (A) aposto do sujeito.
- (B) complemento nominal.
- (C) adjunto adnominal.
- (D) vocativo do sujeito.
- (E) adjunto adverbial.

QUESTÃO 05

Quanto à classificação gramatical, a oração introduzida pelo sinal de travessão (–), no excerto apresentado, corresponde a uma:

- (A) oração coordenada explicativa.
- (B) oração subordinada adjetiva explicativa.
- (C) oração subordinada adjetiva restritiva.
- (D) oração coordenada aditiva.
- (E) oração subordinada substantiva objetiva direta.

QUESTÃO 06

Analise as sentenças a seguir e assinale aquela em que ocorre uma oração subordinada substantiva subjetiva.

- (A) A expectativa é de que o professor cancele a prova.
- (B) Ela se esqueceu de anotar os compromissos naquele dia.
- (C) Não é segredo que eles já não se toleram no ambiente de trabalho.
- (D) Não demore muito, que estou com pressa.
- (E) Os meninos foram suspensos porque só faziam bagunça na sala de aula.

QUESTÃO 07

Considere o excerto a seguir, retirado de uma reportagem publicada na Revista Galileu, acerca de uma descoberta arqueológica:

“A parte mais incrível [da descoberta] é o quanto tudo está bem preservado e que agora sabemos onde havia árvores em ambientes que não as têm mais”, diz Basil Stow, guarda florestal do National Trust, em entrevista ao jornal The Guardian.”

O excerto dado se apresenta em discurso direto. Assinale a alternativa que o reescreve corretamente em discurso indireto.

(A) Basil Stow, guarda florestal do National Trust, disse, em entrevista ao jornal The Guardian, que a parte mais incrível [da descoberta] é o quanto tudo está bem preservado e que agora sabem onde há árvores em ambientes que não as teriam mais.

(B) Basil Stow, guarda florestal do National Trust, diz, em entrevista ao jornal The Guardian, que a parte mais incrível [da descoberta] é o quanto tudo está bem preservado e que agora sabem onde há árvores em ambientes que não as tinham mais.

(C) Basil Stow, guarda florestal do National Trust, disse, em entrevista ao jornal The Guardian, que a parte mais incrível [da descoberta] foi o quanto tudo estava bem preservado e que agora sabem onde havia árvores em ambientes que não as tinham mais.

(D) Basil Stow, guarda florestal do National Trust, disse, em entrevista ao jornal The Guardian, que a parte mais incrível [da descoberta] era o quanto tudo estava bem preservado e que agora sabiam onde havia árvores em ambientes que não as tinham mais.

(E) Basil Stow, guarda florestal do National Trust, diz, em entrevista ao jornal The Guardian, que a parte mais incrível [da descoberta] é o quanto tudo estava bem preservado e que agora sabem onde havia árvores em ambientes que não as têm mais.

QUESTÃO 08

Analise as sentenças a seguir e assinale a alternativa em que se verifica a ocorrência de um vocativo.

(A) Ana, que já não aguentava o calor, desmaiou em meio ao espetáculo.

(B) A garota, filha mais velha do romancista, também passou a escrever nas horas vagas.

(C) Já te disse, meu amigo, que a vida não pausa para que possamos resolver as coisas.

(D) Foi ensinada desde pequena a ser fiel aos deuses.

(E) Nessa época do ano, as folhas amanhecem sempre umedecidas pelo orvalho.

QUESTÃO 09

Considere as sentenças:

I. Os frascos do laboratório _____ amostras do vírus, que serão analisadas para o desenvolvimento da vacina.

II. A garota não espera que _____ com ela para a feira de ciências.

III. Gostaria de saber quantos litros de gás _____ este botijão.

Assinale as alternativas que indicam os verbos que preenchem corretamente as lacunas das sentenças dadas.

(A) contém; contem; contêm.

(B) contêm; contem; contém.

(C) contem; contém; contêm.

(D) contêm; contém; contem.

(E) contém; contem; contêm.

QUESTÃO 10

Assinale a alternativa em que todas as palavras indicadas flexionam em gênero.

(A) pastor; credo; oráculo.

(B) amplitude; amazona; inimigo.

(C) cidadão; piloto; fantástico.

(D) qual; muito; atacante.

(E) jogador; esquerda; titular.

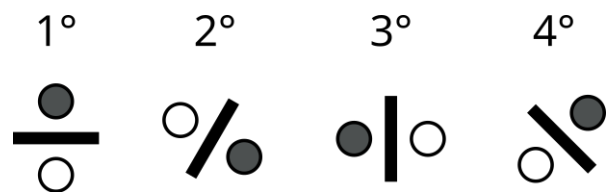
MATEMÁTICA E RACIOCÍNIO LÓGICO
QUESTÃO 11

Dois irmãos recebem uma mesada. Um deles, o mais velho, recebe R\$ 80,00, e o mais novo recebe R\$ 55,00. Insatisfeito com o constante aumento de preços na cantina da escola, o irmão mais velho pediu um aumento da sua mesada para que ele receba o valor de R\$ 100,00, que lhe foi concedido. A mesada do irmão mais novo também será aumentada na mesma proporção. Qual será o novo valor recebido pelo irmão mais novo?

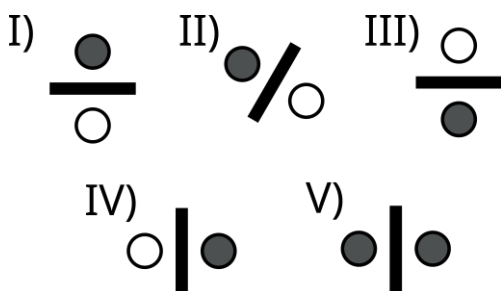
- (A) R\$ 75,00.
- (B) R\$ 68,75.
- (C) R\$ 60,00.
- (D) R\$ 72,15.
- (E) R\$ 69,25.

QUESTÃO 12

Observe a sequência lógica figural abaixo:



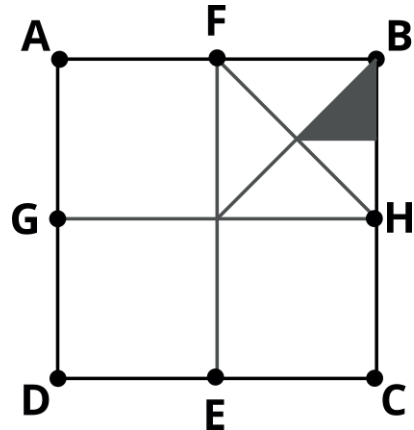
Dentre as correspondências, indique o próximo elemento desta sequência:



- (A) I.
- (B) II.
- (C) III.
- (D) IV.
- (E) V.

QUESTÃO 13

A figura abaixo mostra um quadrado ABCD de lado 1 cm. Os segmentos EF e GH passam exatamente pelo centro do quadrado, e são paralelos aos lados, conforme a figura:

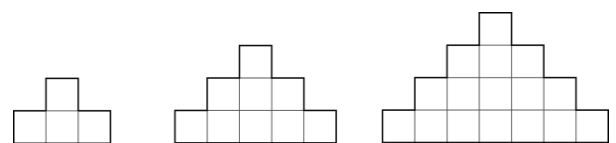


Indique a área da região sombreada, em cm^2 :

- (A) $1/4$.
- (B) $1/8$.
- (C) $1/16$.
- (D) $1/32$.
- (E) $1/64$.

QUESTÃO 14

Observe a sequência abaixo feita com quadrados de lado a :



O primeiro elemento é feito com quatro quadrados, e seu perímetro é $10a$. Indique o perímetro do 10° elemento:

- (A) $23a$.
- (B) $32a$.
- (C) $40a$.
- (D) $56a$.
- (E) $64a$.

QUESTÃO 15

João está fazendo um experimento para a feira de ciências da sua escola. Ele pretende medir uma grandeza física cujo valor correto é 10,0, mas nos seus cálculos ele obtém o valor de 12,0. Em quantos por cento a medida de João difere em relação ao valor correto?

- (A) 16,7%.
- (B) 18,4%.
- (C) 25,0%.
- (D) 20,0%.
- (E) 19,5%.

QUESTÃO 16

Numa escola, cada aluno tem um armário para guardar seus pertences. Os armários são enfileirados e enumerados. Os armários enumerados de 1 a 5 pertencem aos estudantes Matilde, Jéssica, Ana, Gabriel e Carlos, não necessariamente nesta ordem. No primeiro dia de Gabriel, ele não sabia qual seria o seu armário, e perguntou para os demais colegas. Eles responderam:

- O número do armário de Matilde é maior que o seu;
- O número do armário de Carlos é maior que o de Matilde;
- Os dois últimos armários pertencem a Jéssica ou a Ana;

Com essas informações, qual o número do armário de Gabriel?

- (A) 1.
- (B) 2.
- (C) 3.
- (D) 4.
- (E) 5.

QUESTÃO 17

Dois reservatórios A e B, de 1000 litros cada, serão cheios por torneiras que têm vazões diferentes. Antes de começar o enchimento, o reservatório A está inicialmente vazio e o reservatório B já está com $\frac{1}{8}$ do seu volume preenchido. A torneira que encherá o reservatório A despejará 6 litros de água a cada segundo. Já a torneira que encherá o reservatório B despejará 2 litros de água a cada segundo. Sabendo-se que as duas torneiras serão ligadas simultaneamente, em quanto tempo após o ligamento os reservatórios terão o mesmo volume?

- (A) 31,25 segundos.
- (B) 15,12 segundos.
- (C) 19,65 segundos.
- (D) 18,15 segundos.
- (E) 42,25 segundos.

QUESTÃO 18

Uma pessoa está fazendo uma pesquisa de satisfação com os clientes de uma determinada marca. A pesquisa consiste em o cliente dar uma nota de 0 a 100 para o serviço desta marca. No ano passado, a média da nota dada pelos clientes foi 68. Esse ano, a meta é que a nota aumente em 25%. Se a pesquisa for feita com 100 clientes, qual deve ser a soma das suas respectivas notas para que se atinja a meta?

- (A) 8500.
- (B) 850.
- (C) 170.
- (D) 1700.
- (E) 17000.

QUESTÃO 19

Observe as seguintes afirmativas sobre ângulos positivos:

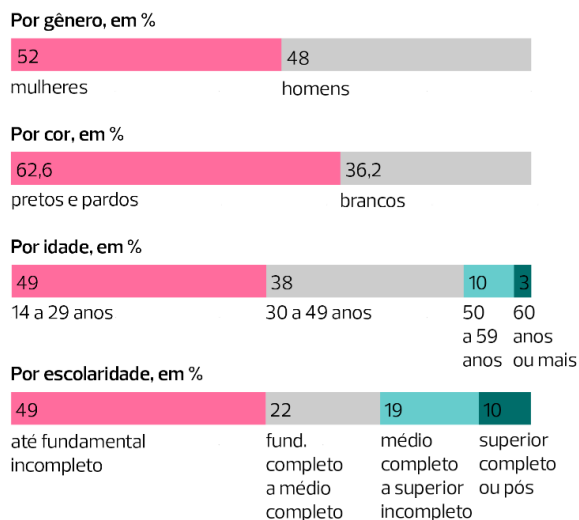
- I – Um ângulo reto é sempre igual a 90° ;
- II – Ângulos agudos são menores que 90° ;
- III – Ângulos obtusos então entre 90° e 180° .

Estão corretos:

- (A) Somente I.
- (B) I e II.
- (C) I e III.
- (D) II e III.
- (E) I, II e III.

QUESTÃO 20

De acordo com o Instituto Brasileiro de Geografia e Estatística (IBGE), em 2020 o número de pessoas desempregadas no Brasil foi de 14 milhões. O gráfico abaixo mostra algumas estratificações desse número:



Adaptado de: Pnad Covid 19, IBGE.

Analisando o gráfico, é possível afirmar que o número de pessoas desempregadas com 50 anos ou mais é, em milhões:

- (A) 1,40.
- (B) 1,82.
- (C) 13,0.
- (D) 10,0.
- (E) 0,42.

NOÇÕES DE INFORMÁTICA**QUESTÃO 21**

Com base nos conhecimentos relacionados ao Windows 7, analisar as afirmações a seguir:

- I. O Windows 7 permite o compartilhamento de arquivos entre computadores conectados a uma mesma rede doméstica.
- II. O Windows 7 permite o compartilhamento de impressoras entre computadores conectados a uma mesma rede doméstica.
- III. Quando você abre arquivos e programas no Windows 7, os ícones aparecem no menu de configurações para que você possa alternar entre eles.

Está(ão) Correto(s):

- (A) Somente o item I.
- (B) Somente o item II.
- (C) Somente os itens I e II.
- (D) Somente os itens II e III.
- (E) Todos os itens.

QUESTÃO 22

Sobre as funcionalidades presentes na barra de tarefas do Windows 7, marcar C para as afirmativas Certas, E para as Erradas e, após, assinalar a alternativa que apresenta a sequência CORRETA:

- () É possível visualizar os programas que estão abertos no Windows 7 utilizando a barra de tarefas.
 - () A barra de tarefas apresenta ao usuário a opção de desinstalar rapidamente um programa em uso.
 - () É possível fixar os programas mais utilizados na barra de tarefas, para facilitar o trabalho no dia a dia.
- (A) C – C – C.
 - (B) C – E – E.
 - (C) C – E – C.
 - (D) E – E – C.
 - (E) E – C – C.

QUESTÃO 23

É um dos programas nativos do Windows 7, presente ao instalar a versão do Sistema Operacional:

- (A) Calculadora.
- (B) 7-zip.
- (C) Winzip.
- (D) Dropbox.
- (E) Steam.

QUESTÃO 24

Quanto mais você usa seu computador, mais aumenta o número de arquivos que precisam ser gerenciados. O meio indicado para abrir pastas e navegar entre os diretórios existentes no Windows 7 é utilizando o:

- (A) Google Chrome.
- (B) Windows Explorer.
- (C) Bloco de notas.
- (D) Adobe 7.0.
- (E) Google Maps.

QUESTÃO 25

Entre as teclas de atalho presentes no Windows 7, qual das funções abaixo é acionada ao utilizar o comando de teclado **Windows + T**:

- (A) Trocar de usuário do computador.
- (B) Bloquear o computador.
- (C) Maximizar a janela.
- (D) Maximiza a janela.
- (E) Percorrer aplicativos na barra de tarefas.

CONHECIMENTOS ESPECÍFICOS

QUESTÃO 26

O tipo de orçamento é um conceito determinado com base na participação dos Poderes no ciclo orçamentário. Com base nesse conhecimento, é possível afirmar que o Orçamento no Brasil é do tipo:

- (A) executivo.
- (B) concomitante.
- (C) compartilhado.
- (D) misto.
- (E) clássico.

QUESTÃO 27

Instrumento de planejamento governamental que imprime os anseios do governante eleito, consubstanciados em programas e ações orçamentárias, para um período de 04 anos, não necessariamente coincidentes com seu mandato. Trata-se do:

- (A) Lei de Meios.
- (B) Plano Gerencial.
- (C) Quadro de Aplicações.
- (D) Plano de Realizações.
- (E) Plano Plurianual.

QUESTÃO 28

Classificação orçamentária que tem por finalidade vincular receitas cuja destinação é atrelada a determinados objetos de despesa, por força de mandamento constitucional ou legal. Trata-se da classificação:

- (A) por natureza.
- (B) por fonte de recursos.
- (C) originária.
- (D) quanto ao impacto no patrimônio líquido.
- (E) por categoria.

QUESTÃO 29

Classificação da despesa orçamentária que agrega dados e estatísticas sobre os gastos públicos nos principais segmentos em que atua o Estado, como Educação, Saúde, Assistência Social e Segurança Pública. É padronizada em nível nacional para todos os entes da Federação. O enunciado se refere à:

- (A) Classificação Funcional.
- (B) Classificação Contábil.
- (C) Classificação de Resultado Fiscal.
- (D) Classificação Econômica.
- (E) Classificação Institucional.

QUESTÃO 30

Assinale a alternativa que NÃO representa uma receita extraorçamentária de um ente público:

- (A) Cauções para garantia de cláusulas contratuais.
- (B) Consignações de parcelas de empréstimos em folha de pagamento.
- (C) Operações de Crédito por antecipação de receita orçamentária.
- (D) Depósitos em recursos administrativos.
- (E) Doações espontâneas recebidas, não constantes da Lei Orçamentária.

QUESTÃO 31

Dispositivo de cunho constitucional consagra que é vedada a inclusão, na Lei Orçamentária Anual, de dispositivos estranhos à previsão da receita e à fixação da despesa, exceto:

- (A) por alterações nas alíquotas e base de cálculo de tributos considerados extrasfiscais.
- (B) para criação de cargos públicos nas áreas de saúde, educação e assistência social.
- (C) pela autorização para abertura de créditos suplementares e contratação de operações de crédito, ainda que por antecipação de receita, nos termos da lei.
- (D) para determinação de áreas de interesse público destinadas a desapropriação.
- (E) para promover alterações na legislação orçamentária quanto aos prazos de tramitação dos projetos de orçamento.

QUESTÃO 32

À luz da vigente normatização, assinale a alternativa que contenha uma das Demonstrações Contábeis de elaboração e publicação obrigatórias no âmbito do Setor Público brasileiro:

- (A) Demonstração das Origens e Aplicações de Recursos.
- (B) Demonstração do Resultado Econômico.
- (C) Demonstração das Receitas Originárias e Derivadas.
- (D) Demonstração dos Resultados Abrangentes.
- (E) Demonstração das Variações Patrimoniais.

QUESTÃO 33

Sobre a Demonstração dos Fluxos de Caixa no âmbito do Setor Público brasileiro, é correto afirmar que deverá ser elaborada através do método _____, segregando os fluxos de caixa nas seguintes categorias: _____. Assinale a alternativa que correta e sequencialmente preenche as lacunas.

- (A) indireto / orçamentários e extraorçamentários
- (B) direto / operacionais, de investimento e de financiamento
- (C) indireto / operacionais, de investimento e de financiamento
- (D) indireto / fiscais e extrasfiscais
- (E) direto / correntes e de capital

QUESTÃO 34

De acordo com a Lei Complementar nº 101/2000 (LRF), os recursos obtidos com a alienação de bens pertencentes ao patrimônio público não poderão ser aplicados em despesas correntes, salvo:

- (A) para pagamento de salários e encargos relativos aos serviços de saúde.
- (B) se destinada por lei a serviços de manutenção do patrimônio já existente.
- (C) para pagamento de restos a pagar decorrentes de contratos inscritos há mais de três anos.
- (D) se destinada por lei aos regimes de previdência social, geral e próprio dos servidores públicos.
- (E) se destinada por lei ao pagamento de juros e encargos da dívida, como condição para refinanciamento da dívida pública.

QUESTÃO 35

Considerando a atual estrutura do Plano de Contas Aplicado ao Setor Público (PCASP), as contas representativas dos bens, direitos e obrigações patrimoniais dos entes da Federação serão registradas nas classes:

- (A) 2 e 4.
- (B) 1 e 2.
- (C) 2 e 3.
- (D) 1, 2 e 3.
- (E) 3 e 4.

QUESTÃO 36

Suponha que o diretor da Divisão de Orçamento e Finanças edita ato administrativo tendente a extinguir cargos vagos naquele órgão. Contudo a legislação municipal determina que esta tarefa é privativa do Chefe do Poder Executivo. No caso em tela, é correto afirmar que houve vício no seguinte elemento do Ato Administrativo:

- (A) Finalidade.
- (B) Forma.
- (C) Objeto.
- (D) Competência.
- (E) Motivo.

QUESTÃO 37

Considere os enunciados a seguir:

1. A atuação do servidor público deve estar sempre pautada pela Lei, diploma geral e abstrato, e não em costumes ou convicções pessoais.
2. Em sua atuação profissional, o servidor público deve agir em respeito aos preceitos éticos, evitando condutas desonestas ou injustas.

Os enunciados 1 e 2 se referem, respectivamente, a concepções dos Princípios Administrativos:

- (A) da legitimidade e da ombridade.
- (B) da conformidade e da moralidade.
- (C) da legalidade e da honestidade.
- (D) da legitimidade e da honestidade.
- (E) da legalidade e da moralidade.

QUESTÃO 38

Esse princípio preconiza que todas as receitas e despesas devem ser discriminadas de forma integral e transparente na Lei Orçamentária Anual, sem qualquer tipo de dedução ou compensação entre elas. O enunciado está a se referir ao Princípio:

- (A) da Unidade.
- (B) do Orçamento Bruto.
- (C) da Totalidade.
- (D) da Universalidade.
- (E) da Clareza.

QUESTÃO 39

Considerando a estrutura de uma administração Pública Municipal aleatória, assinale a alternativa que evidencia um órgão integrante da Administração Direta.

- (A) Secretaria Municipal de Educação.
- (B) Fundação Municipal de Previdência dos Servidores.
- (C) Autarquia de Águas e Esgoto.
- (D) Empresa Municipal de Urbanismo.
- (E) Sociedade Municipal de Administração Aeroportuária.

QUESTÃO 40

Imagine que, durante inspeção in loco em supermercado localizado no Município de Itapecerica da Serra, um agente sanitário constata a exposição à venda de produtos vencidos, lavrando de imediato o auto de infração e determinando a apreensão das mercadorias, conforme determina a lei municipal. No caso descrito, o agente está a exercer o Poder:

- (A) discricionário.
- (B) de polícia.
- (C) hierárquico.
- (D) normativo.
- (E) regulamentar.

QUESTÃO 41

Os créditos adicionais são ferramentas à disposição do gestor público para efetuar alterações necessárias na Lei Orçamentária Anual (LOA). Sobre estes instrumentos, avalie as afirmativas a seguir.

- I. Os créditos suplementares e especiais serão autorizados por lei e abertos por decreto executivo.
- II. Créditos suplementares são aqueles destinados a reforço de dotações já existentes na LOA.
- III. Os créditos especiais abertos nos dois últimos quadrimestres do exercício financeiro poderão ser reconduzidos para o exercício posterior, no limite de seus saldos.

Está correto o que se afirma em:

- (A) I, apenas.
- (B) I e III, apenas.
- (C) I e II, apenas.
- (D) I, II e III.
- (E) II e III, apenas.

QUESTÃO 42

Dispõe a Lei nº 4.320/1964 que a abertura a abertura dos créditos suplementares e especiais depende da existência de recursos disponíveis para ocorrer à despesa. Desta feita, são fontes de recursos previstos na referida lei os elencados a seguir, EXCETO:

- (A) o produto de operações de crédito autorizadas, em forma que juridicamente possibilite ao Poder Executivo realizá-las.
- (B) os provenientes de excesso de arrecadação.
- (C) os recursos que, em decorrência de veto, emenda ou rejeição do projeto de lei orçamentária anual, ficarem sem despesas correspondente.
- (D) os resultantes de anulação parcial ou total de dotações orçamentárias ou de créditos adicionais, autorizados em Lei.
- (E) o superavit financeiro apurado em balanço patrimonial do exercício anterior.

QUESTÃO 43

À luz da Lei Orgânica do Município de Itapecerica da Serra/SP, avalie as afirmativas adiante.

- I. A concessão administrativa de bem imóvel municipal dependerá de autorização legislativa e licitação, formalizando-se mediante contrato, observadas as prescrições estabelecidas na legislação federal sobre a matéria.
- II. Salvo disposição em contrário, as deliberações da Câmara Municipal são tomadas por maioria simples de votos.
- III. É da competência do Município em comum com a União e o Estado cuidar da saúde e assistência pública, da proteção e garantia das pessoas portadoras de deficiências.

Está correto o que se afirma em:

- (A) I, II e III.
- (B) II e III, apenas.
- (C) I e III, apenas.
- (D) II, apenas.
- (E) I e II, apenas.

QUESTÃO 44

Nos termos do Regimento Interno da Câmara Municipal de Itapecerica da Serra/SP, os projetos de lei do plano plurianual e diretrizes orçamentárias serão encaminhados à Câmara até _____ e devolvidos para Sanção do Executivo até _____. Assinale a alternativa que preenche correta e sequencialmente as lacunas.

- (A) 15 de abril / o encerramento do primeiro período da Sessão Legislativa
- (B) 30 de abril / o encerramento do primeiro período da Sessão Legislativa
- (C) 30 de junho / o encerramento da Sessão Legislativa
- (D) 30 de abril / o encerramento da Sessão Legislativa
- (E) 30 de maio / 31 de agosto

QUESTÃO 45

Preconiza Lei Complementar nº 101/2000 (LRF) que a forma de utilização e o montante da reserva de contingência da Lei Orçamentária Anual serão definidos:

- (A) no Quadro de Detalhamento das Despesas.
- (B) no Decreto de Contingenciamento Orçamentário.
- (C) pela própria Lei Orçamentária Anual.
- (D) pela Lei de Diretrizes Orçamentárias.
- (E) no Decreto de Programação Financeira.

QUESTÃO 46

Assinale a alternativa que NÃO encontra respaldo na Lei Orgânica do Município de Itapecerica da Serra/SP.

- (A) Os Vereadores não são obrigados a testemunhar sobre informações recebidas ou prestadas em razão do exercício do mandato, nem sobre as pessoas que lhe confiaram ou delas receberam informações.
- (B) Na hipótese de infração disciplinar ou falta de decoro parlamentar, após processo em que se garanta ampla defesa do acusado, a perda do mandato será deliberada pela maioria qualificada dos membros da Câmara.
- (C) A renúncia de parlamentar submetido a processo que vise ou possa levar à perda do mandato terá seus efeitos suspensos até deliberações finais de que tratam o Código de Ética e Decoro Parlamentar da Câmara Municipal de Itapecerica da Serra.
- (D) É expressamente vedado ao Vereador, desde a expedição do diploma, ser proprietário ou diretor de empresa que goze de favor decorrente de contrato com pessoa jurídica de direito público do Município de Itapecerica da Serra ou que nela exerça função remunerada.
- (E) Os Vereadores são invioláveis pelas suas opiniões, palavras e votos, desde que estejam no exercício do mandato e na jurisdição do Município.

QUESTÃO 47

Avalie as proposições a seguir.

1. Concessão a terceiros de serviços de competência do Poder Público.
2. Locação de imóveis.
3. Contratação de serviços de tecnologia da informação.

São objetos contratuais regulamentados pela Nova Lei de Licitações e Contratos Administrativos - Lei nº 14.133/2021 -, os itens constantes de:

- (A) 2, apenas.
- (B) 2 e 3, apenas.
- (C) 1 e 3, apenas.
- (D) 1 e 2, apenas.
- (E) 3, apenas.

QUESTÃO 48

Sobre a iniciativa popular no processo legislativo, avalie as afirmativas a seguir à luz do Regimento Interno da Câmara Municipal de Itapecerica da Serra/SP.

I. A iniciativa popular pode ser exercida pela apresentação à Câmara Municipal de projetos de lei de interesse do Município, através de manifestação de, pelo menos, 10% do eleitorado local.

II. O projeto de lei de iniciativa popular terá tramitação sumária, diferenciada dos demais projetos.

III. Não se rejeitará, liminarmente, projeto de lei de iniciativa popular por vícios de linguagem, lapsos ou imperfeições de técnica legislativa, incumbindo à Comissão de Justiça e Redação escoimá-los dos vícios formais para sua regular tramitação.

Está correto o que se afirma em:

- (A) I e II, apenas.
- (B) II e III, apenas.
- (C) I e III, apenas.
- (D) III, apenas.
- (E) II, apenas.

QUESTÃO 49

À luz das disposições da Lei nº 14.133/2021, avalie a veracidade (V) ou falsidade (F) das afirmações a seguir. Em seguida, assinale a alternativa que contém a sequência correta.

() A administração de cada ente poderá criar modalidades de licitação específicas às suas necessidades peculiares.

() Introduzido pela nova legislação de 2021, o Diálogo Competitivo é uma modalidade de licitação inovadora e permite a participação de licitantes previamente selecionados em fase de diálogo com a administração para desenvolver propostas.

() Os contratos administrativos assinados sob a égide da Lei nº 8.666/1993 serão por ela regidos até o fim de sua vigência.

- (A) F – V – F.
- (B) V – F – V.
- (C) F – V – V.
- (D) F – F – V.
- (E) V – V – F.

QUESTÃO 50

Modalidade de licitação específica voltada para aquisição de bens e serviços comuns, caracterizados por sua natureza padronizada e ampla disponibilidade no mercado. Deve ser levado a efeito preferencialmente via eletrônica, mas, justificadamente, pode ser feito de forma presencial. Trata-se da/do:

- (A) Cadastro de Preços.
- (B) Registro de Preços.
- (C) Pregão.
- (D) Concorrência.
- (E) Tomada de Preços.

