

AVANÇASP



CÂMARA MUNICIPAL DE ITAPEVERICA  
DA SERRA

CONCURSO PÚBLICO  
01/2024

# ASSISTENTE DE SERVIÇOS ADMINISTRATIVOS

## Leia atentamente as instruções abaixo

### 1. PROVA E FOLHA DE RESPOSTAS

Além deste Caderno de Prova, contendo 50 (cinquenta) questões objetivas, você receberá do Fiscal de Sala:

- 01 (uma) Folha de Respostas destinada às respostas das questões objetivas. Confira se seus dados estão corretos.

### 2. TEMPO

- 03 (três) horas é o tempo disponível para realização da prova, já incluído o tempo para marcação da Folha de Respostas da prova objetiva;

- **01 (uma) hora** após o início da prova é possível, retirar-se da sala levando o caderno de prova;

### 3. INFORMAÇÕES GERAIS

- As questões objetivas têm 05 (cinco) alternativas de resposta (A, B, C, D, E) e somente **uma** delas está correta;

- Verifique se seu caderno está completo, sem repetição de questões ou falhas. Caso contrário, informe imediatamente o Fiscal da Sala, para que sejam tomadas as devidas providências;

- Confira seus dados pessoais na Folha de Respostas, especialmente nome, número de inscrição e documento de identidade e leia atentamente as instruções para preenchimento;

- O preenchimento das respostas da prova objetiva é de sua responsabilidade e não será permitida a troca de Folha de Respostas em caso de erro de marcação pelo candidato;

- Marque, na folha de respostas, com caneta de tinta azul ou preta, a letra correspondente à alternativa que você escolheu.

- Reserve tempo suficiente para o preenchimento de suas respostas. Para fins de avaliação, serão levadas em consideração apenas as marcações realizadas na Folha de Respostas da prova objetiva, não sendo permitido anotar informações relativas às respostas em qualquer outro meio que não seja o caderno de prova;

- Ao se retirar, entregue a Folha de Respostas preenchida e assinada ao Fiscal de Sala.

#### SERÁ ELIMINADO do presente certame o candidato que:

- a) for surpreendido, durante as provas, em qualquer tipo de comunicação com outro candidato;

- b) portar ou usar, qualquer tipo de aparelho eletrônico (calculadoras, bips/pagers, câmeras fotográficas, filmadoras, telefones celulares, smartphones, tablets, relógios, walkmans, MP3 players, fones de ouvido, agendas eletrônicas, notebooks, palmtops ou qualquer outro tipo de computador portátil, receptores ou gravadores) seja na sala de prova, sanitários, pátios ou qualquer outra dependência do local de prova;

- c) se ausentar da sala em que se realizam as provas levando consigo o Caderno de Questões e/ou a Folha de Respostas;

- d) se recusar a entregar a Folha de Respostas, quando terminar o tempo estabelecido;

- e) não assinar a Lista de Presença e/ou a Folha de Respostas.

---

**LÍNGUA PORTUGUESA**  
**TEXTO**

---

**Leia o texto para responder às questões de 1 a 05.**

**Possível caso de altruísmo é observado entre elefantes-marinhos**

Em registro raro feito nos Estados Unidos, pesquisadores acompanharam um macho da espécie *Mirounga angustirostris* salvando um filhote com poucas semanas de vida

Em artigo publicado em janeiro na revista *Marine Mammal Science*, pesquisadores relatam um possível episódio de altruísmo entre elefantes-marinhos da espécie *Mirounga angustirostris*. O caso ocorreu na Califórnia, em 27 de janeiro de 2022, e é considerado raro, especialmente por envolver um mamífero marinho macho.

Os autores do estudo caracterizam o altruísmo como um comportamento de assistência voltado para um indivíduo necessitado. O altruísta seria responsável por uma ação que reduz sua própria chance de sobrevivência e reprodução, mas que beneficia a sobrevivência do outro.

O episódio observado pelos cientistas durou cerca de 20 minutos e envolveu um filhote com menos de duas semanas de vida, uma fêmea que cuidava dele e um macho que fazia parte do grupo de elefantes-marinhos da região. O filhote e a fêmea estavam juntos, mas foram separados pela maré e pelas ondas. Distante cerca de 15 metros, a fêmea atingiu águas mais rasas e começou a vocalizar, chamando o filhote. Ele, por sua vez, não conseguia nadar e era puxado para mais longe pelas ondas. Então, um macho, identificado como o alfa do grupo, se aproximou da fêmea e, logo depois, seguiu em direção ao filhote – que já estava a aproximadamente 40 metros da fêmea. Ao alcançar o filhote, o empurrou gentilmente com a cabeça para retornar à costa. O mais velho ajudou o mais novo até que eles estivessem a quatro metros da fêmea e finalmente o filhote estivesse junto da mãe.

O caso chama atenção porque elefantes-marinhos machos geralmente não participam do cuidado com os filhotes. “O comportamento de perseguir o filhote e empurrá-lo em direção à

costa poderia ser interpretado como comportamento sexual mal direcionado, em que machos dominantes frequentemente conduzem e escoltam fêmeas para a costa para evitar assédio por outros machos. No entanto, propomos que as ações foram intencionais”, escrevem os pesquisadores no artigo.

Eles ressaltam que a condução do filhote foi feita de forma gentil e que, depois, o macho não se aproximou da fêmea, apenas emitiu um som na direção dela. Além disso, os cientistas defendem ter sido um episódio de altruísmo, já que o macho gastou uma energia que poderia ter sido usada para acasalar, defender sua posição contra outros machos ou se manter vivo durante o período de jejum típico dessa espécie.

**Revista Galileu.** Disponível em <https://revistagalileu.globo.com/ciencia/biologia/noticia/2024/02/possivel-caso-de-altruismo-e-observado-entre-elefantes-marinhos.ghtml>

---

**QUESTÃO 01**

---

Segundo a reportagem apresentada, conclui-se que:

- (A) o elefante-marinho mais velho ofereceu assistência ao filhote por considerá-lo uma presa.
- (B) a assistência do elefante-marinho mais velho se trata de um comportamento sexual mal direcionado em relação à mãe do filhote.
- (C) o cuidado com os filhotes dessa espécie costuma ser de responsabilidade das fêmeas, e não dos machos.
- (D) o resgate do filhote foi feito pelo elefante-marinho mais velho em troca de acasalamento.
- (E) os elefantes-marinhos machos não participam do cuidado com os filhotes porque focam em sua própria sobrevivência.

---

**QUESTÃO 02**

---

Os pesquisadores consideraram o resgate do filhote como um episódio de altruísmo pois:

- (A) o elefante-marinho sofreu risco de vida para salvar o filhote.
- (B) o elefante-marinho sacrificou outro animal para salvar o filhote.
- (C) o elefante-marinho gastou sua energia no resgate do filhote, e não em outras atividades.
- (D) elefantes-marinhos machos costumam ser bastante agressivos com filhotes, e não compassivos.
- (E) elefantes-marinhos machos costumam dominar fêmeas e filhotes para competir com outros animais.

---

**QUESTÃO 03**

---

Analise o excerto a seguir quanto aos mecanismos de coesão textual: “Ele, por sua vez, não conseguia nadar e era puxado para mais longe pelas ondas.” Assinale a alternativa que classifica corretamente o tipo de coesão textual verificada no excerto apresentado, com base no emprego do pronome pessoal, bem como indica o elemento a que o pronome se refere no texto.

- (A) coesão referencial anafórica, que retoma o referente “o filhote” anteriormente enunciado.
- (B) coesão referencial catafórica, que introduz o referente “o filhote” no texto.
- (C) coesão referencial anafórica, que retoma o referente “um macho” anteriormente enunciado.
- (D) coesão por substituição, que retoma e atualiza com uma nova característica o referente “o filhote” anteriormente enunciado.
- (E) coesão lexical, que retoma por meio de um hiperônimo o referente “o filhote” anteriormente enunciado.

---

**Considere o excerto a seguir para responder às questões 4 e 5:**

---

Então, um macho, identificado como o alfa do grupo, se aproximou da fêmea e, logo depois, seguiu em direção ao filhote – que já estava a aproximadamente 40 metros da fêmea.

---

**QUESTÃO 04**

---

Em termos de papel sintático, o elemento colocado entre vírgulas “identificado como o alfa do grupo”, no contexto apresentado, constitui:

- (A) aposto do sujeito.
- (B) complemento nominal.
- (C) adjunto adnominal.
- (D) vocativo do sujeito.
- (E) adjunto adverbial.

---

**QUESTÃO 05**

---

Quanto à classificação gramatical, a oração introduzida pelo sinal de travessão (–), no excerto apresentado, corresponde a uma:

- (A) oração coordenada explicativa.
- (B) oração subordinada adjetiva explicativa.
- (C) oração subordinada adjetiva restritiva.
- (D) oração coordenada aditiva.
- (E) oração subordinada substantiva objetiva direta.

---

**QUESTÃO 06**

---

Analise as sentenças a seguir e assinale aquela em que ocorre uma oração subordinada substantiva subjetiva.

- (A) A expectativa é de que o professor cancele a prova.
- (B) Ela se esqueceu de anotar os compromissos naquele dia.
- (C) Não é segredo que eles já não se toleram no ambiente de trabalho.
- (D) Não demore muito, que estou com pressa.
- (E) Os meninos foram suspensos porque só faziam bagunça na sala de aula.

---

**QUESTÃO 07**

---

Considere o excerto a seguir, retirado de uma reportagem publicada na Revista Galileu, acerca de uma descoberta arqueológica:

“A parte mais incrível [da descoberta] é o quanto tudo está bem preservado e que agora sabemos onde havia árvores em ambientes que não as têm mais”, diz Basil Stow, guarda florestal do National Trust, em entrevista ao jornal The Guardian.”

O excerto dado se apresenta em discurso direto. Assinale a alternativa que o reescreve corretamente em discurso indireto.

(A) Basil Stow, guarda florestal do National Trust, disse, em entrevista ao jornal The Guardian, que a parte mais incrível [da descoberta] é o quanto tudo está bem preservado e que agora sabem onde há árvores em ambientes que não as teriam mais.

(B) Basil Stow, guarda florestal do National Trust, diz, em entrevista ao jornal The Guardian, que a parte mais incrível [da descoberta] é o quanto tudo está bem preservado e que agora sabem onde há árvores em ambientes que não as tinham mais.

(C) Basil Stow, guarda florestal do National Trust, disse, em entrevista ao jornal The Guardian, que a parte mais incrível [da descoberta] foi o quanto tudo estava bem preservado e que agora sabem onde havia árvores em ambientes que não as tinham mais.

(D) Basil Stow, guarda florestal do National Trust, disse, em entrevista ao jornal The Guardian, que a parte mais incrível [da descoberta] era o quanto tudo estava bem preservado e que agora sabiam onde havia árvores em ambientes que não as tinham mais.

(E) Basil Stow, guarda florestal do National Trust, diz, em entrevista ao jornal The Guardian, que a parte mais incrível [da descoberta] é o quanto tudo estava bem preservado e que agora sabem onde havia árvores em ambientes que não as têm mais.

---

**QUESTÃO 08**

---

Analise as sentenças a seguir e assinale a alternativa em que se verifica a ocorrência de um vocativo.

(A) Ana, que já não aguentava o calor, desmaiou em meio ao espetáculo.

(B) A garota, filha mais velha do romancista, também passou a escrever nas horas vagas.

(C) Já te disse, meu amigo, que a vida não pausa para que possamos resolver as coisas.

(D) Foi ensinada desde pequena a ser fiel aos deuses.

(E) Nessa época do ano, as folhas amanhecem sempre umedecidas pelo orvalho.

---

**QUESTÃO 09**

---

Considere as sentenças:

I. Os frascos do laboratório \_\_\_\_\_ amostras do vírus, que serão analisadas para o desenvolvimento da vacina.

II. A garota não espera que \_\_\_\_\_ com ela para a feira de ciências.

III. Gostaria de saber quantos litros de gás \_\_\_\_\_ este botijão.

Assinale as alternativas que indicam os verbos que preenchem corretamente as lacunas das sentenças dadas.

(A) contém; contem; contêm.

(B) contêm; contem; contém.

(C) contem; contém; contêm.

(D) contêm; contém; contem.

(E) contém; contem; contêm.

---

**QUESTÃO 10**

---

Assinale a alternativa em que todas as palavras indicadas flexionam em gênero.

(A) pastor; credo; oráculo.

(B) amplitude; amazona; inimigo.

(C) cidadão; piloto; fantástico.

(D) qual; muito; atacante.

(E) jogador; esquerda; titular.

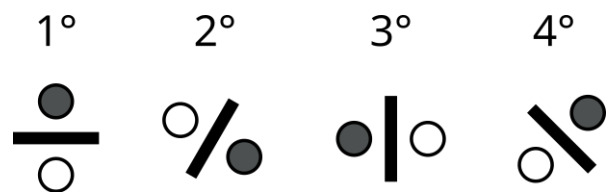
**MATEMÁTICA E RACIOCÍNIO LÓGICO**  
**QUESTÃO 11**

Dois irmãos recebem uma mesada. Um deles, o mais velho, recebe R\$ 80,00, e o mais novo recebe R\$ 55,00. Insatisfeito com o constante aumento de preços na cantina da escola, o irmão mais velho pediu um aumento da sua mesada para que ele receba o valor de R\$ 100,00, que lhe foi concedido. A mesada do irmão mais novo também será aumentada na mesma proporção. Qual será o novo valor recebido pelo irmão mais novo?

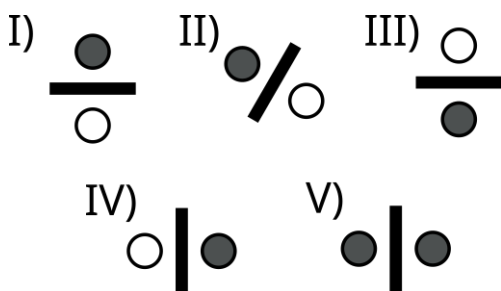
- (A) R\$ 75,00.
- (B) R\$ 68,75.
- (C) R\$ 60,00.
- (D) R\$ 72,15.
- (E) R\$ 69,25.

**QUESTÃO 12**

Observe a sequência lógica figural abaixo:



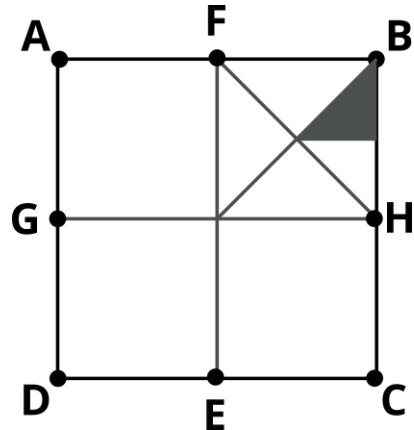
Dentre as correspondências, indique o próximo elemento desta sequência:



- (A) I.
- (B) II.
- (C) III.
- (D) IV.
- (E) V.

**QUESTÃO 13**

A figura abaixo mostra um quadrado ABCD de lado 1 cm. Os segmentos EF e GH passam exatamente pelo centro do quadrado, e são paralelos aos lados, conforme a figura:

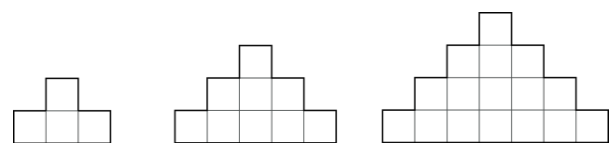


Indique a área da região sombreada, em  $cm^2$ :

- (A)  $1/4$ .
- (B)  $1/8$ .
- (C)  $1/16$ .
- (D)  $1/32$ .
- (E)  $1/64$ .

**QUESTÃO 14**

Observe a sequência abaixo feita com quadrados de lado  $a$ :



O primeiro elemento é feito com quatro quadrados, e seu perímetro é  $10a$ . Indique o perímetro do  $10^\circ$  elemento:

- (A)  $23a$ .
- (B)  $32a$ .
- (C)  $40a$ .
- (D)  $56a$ .
- (E)  $64a$ .

**QUESTÃO 15**

João está fazendo um experimento para a feira de ciências da sua escola. Ele pretende medir uma grandeza física cujo valor correto é 10,0, mas nos seus cálculos ele obtém o valor de 12,0. Em quantos por cento a medida de João difere em relação ao valor correto?

- (A) 16,7%.
- (B) 18,4%.
- (C) 25,0%.
- (D) 20,0%.
- (E) 19,5%.

**QUESTÃO 16**

Numa escola, cada aluno tem um armário para guardar seus pertences. Os armários são enfileirados e enumerados. Os armários enumerados de 1 a 5 pertencem aos estudantes Matilde, Jéssica, Ana, Gabriel e Carlos, não necessariamente nesta ordem. No primeiro dia de Gabriel, ele não sabia qual seria o seu armário, e perguntou para os demais colegas. Eles responderam:

- O número do armário de Matilde é maior que o seu;
- O número do armário de Carlos é maior que o de Matilde;
- Os dois últimos armários pertencem a Jéssica ou a Ana;

Com essas informações, qual o número do armário de Gabriel?

- (A) 1.
- (B) 2.
- (C) 3.
- (D) 4.
- (E) 5.

**QUESTÃO 17**

Dois reservatórios A e B, de 1000 litros cada, serão cheios por torneiras que têm vazões diferentes. Antes de começar o enchimento, o reservatório A está inicialmente vazio e o reservatório B já está com  $\frac{1}{8}$  do seu volume preenchido. A torneira que encherá o reservatório A despejará 6 litros de água a cada segundo. Já a torneira que encherá o reservatório B despejará 2 litros de água a cada segundo. Sabendo-se que as duas torneiras serão ligadas simultaneamente, em quanto tempo após o ligamento os reservatórios terão o mesmo volume?

- (A) 31,25 segundos.
- (B) 15,12 segundos.
- (C) 19,65 segundos.
- (D) 18,15 segundos.
- (E) 42,25 segundos.

**QUESTÃO 18**

Uma pessoa está fazendo uma pesquisa de satisfação com os clientes de uma determinada marca. A pesquisa consiste em o cliente dar uma nota de 0 a 100 para o serviço desta marca. No ano passado, a média da nota dada pelos clientes foi 68. Esse ano, a meta é que a nota aumente em 25%. Se a pesquisa for feita com 100 clientes, qual deve ser a soma das suas respectivas notas para que se atinja a meta?

- (A) 8500.
- (B) 850.
- (C) 170.
- (D) 1700.
- (E) 17000.



**QUESTÃO 19**

Observe as seguintes afirmativas sobre ângulos positivos:

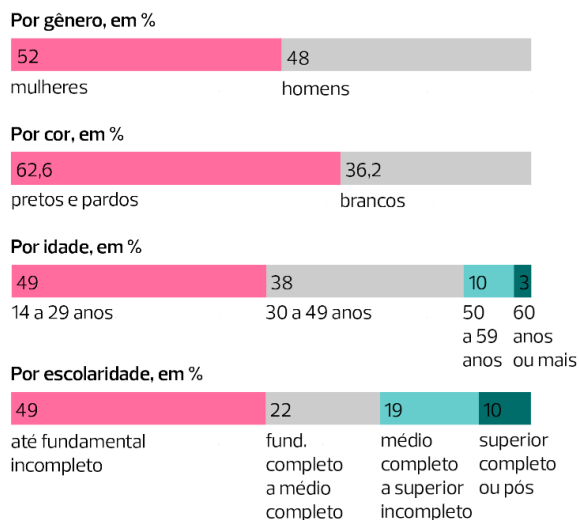
- I – Um ângulo reto é sempre igual a  $90^\circ$ ;  
 II – Ângulos agudos são menores que  $90^\circ$ ;  
 III – Ângulos obtusos então entre  $90^\circ$  e  $180^\circ$ .

Estão corretos:

- (A) Somente I.  
 (B) I e II.  
 (C) I e III.  
 (D) II e III.  
 (E) I, II e III.

**QUESTÃO 20**

De acordo com o Instituto Brasileiro de Geografia e Estatística (IBGE), em 2020 o número de pessoas desempregadas no Brasil foi de 14 milhões. O gráfico abaixo mostra algumas estratificações desse número:



Adaptado de: Pnad Covid 19, IBGE.

Analisando o gráfico, é possível afirmar que o número de pessoas desempregadas com 50 anos ou mais é, em milhões:

- (A) 1,40.  
 (B) 1,82.  
 (C) 13,0.  
 (D) 10,0.  
 (E) 0,42.

**NOÇÕES DE INFORMÁTICA****QUESTÃO 21**

Com base nos conhecimentos relacionados ao Windows 7, analisar as afirmações a seguir:

- I. O Windows 7 permite o compartilhamento de arquivos entre computadores conectados a uma mesma rede doméstica.  
 II. O Windows 7 permite o compartilhamento de impressoras entre computadores conectados a uma mesma rede doméstica.  
 III. Quando você abre arquivos e programas no Windows 7, os ícones aparecem no menu de configurações para que você possa alternar entre eles.

Está(ão) Correto(s):

- (A) Somente o item I.  
 (B) Somente o item II.  
 (C) Somente os itens I e II.  
 (D) Somente os itens II e III.  
 (E) Todos os itens.

**QUESTÃO 22**

Sobre as funcionalidades presentes na barra de tarefas do Windows 7, marcar C para as afirmativas Certas, E para as Erradas e, após, assinalar a alternativa que apresenta a sequência CORRETA:

- ( ) É possível visualizar os programas que estão abertos no Windows 7 utilizando a barra de tarefas.  
 ( ) A barra de tarefas apresenta ao usuário a opção de desinstalar rapidamente um programa em uso.  
 ( ) É possível fixar os programas mais utilizados na barra de tarefas, para facilitar o trabalho no dia a dia.  
 (A) C – C – C.  
 (B) C – E – E.  
 (C) C – E – C.  
 (D) E – E – C.  
 (E) E – C – C.

---

**QUESTÃO 23**

---

É um dos programas nativos do Windows 7, presente ao instalar a versão do Sistema Operacional:

- (A) Calculadora.
- (B) 7-zip.
- (C) Winzip.
- (D) Dropbox.
- (E) Steam.

---

**QUESTÃO 24**

---

Quanto mais você usa seu computador, mais aumenta o número de arquivos que precisam ser gerenciados. O meio indicado para abrir pastas e navegar entre os diretórios existentes no Windows 7 é utilizando o:

- (A) Google Chrome.
- (B) Windows Explorer.
- (C) Bloco de notas.
- (D) Adobe 7.0.
- (E) Google Maps.

---

**QUESTÃO 25**

---

Entre as teclas de atalho presentes no Windows 7, qual das funções abaixo é acionada ao utilizar o comando de teclado **Windows + T**:

- (A) Trocar de usuário do computador.
- (B) Bloquear o computador.
- (C) Maximizar a janela.
- (D) Maximiza a janela.
- (E) Percorrer aplicativos na barra de tarefas.

---

**CONHECIMENTOS ESPECÍFICOS**

---

---

**QUESTÃO 26**

---

Assinale a alternativa que corresponde à correta definição de 'ato administrativo'.

- (A) declaração bilateral de vontade da Administração Pública ou de agentes particulares, de caráter de direito interno.
- (B) declaração bilateral de vontade da Administração Pública ou de quem lhe substitua, de caráter de direito privado.
- (C) afirmação unilateral de desejo da Administração Pública ou de alguém em sua representação, de índole de direito civil.
- (D) expressão multilateral de vontade da Administração Pública ou de agentes particulares, de caráter de direito penal.
- (E) manifestação unilateral de vontade por parte da Administração Pública ou de quem a represente, caracterizada por sua natureza de direito público.

---

**QUESTÃO 27**

---

Uma categoria de atos administrativos que tem todos seus atributos definidos em lei, não cabendo ao gestor nenhuma margem de liberdade de escolha acerca deles. São os chamados:

- (A) atos vinculados.
- (B) atos coercitivos.
- (C) atos compulsórios.
- (D) atos de império.
- (E) atos prescritivos.

---

**QUESTÃO 28**

---

A responsabilidade civil do Estado, pelos danos causados por seus agentes, nessa qualidade, a terceiros, é atualmente entendida como sendo:

- (A) subjetiva, passível de regresso.
- (B) subjetiva, insuscetível de regresso.
- (C) objetiva, passível de regresso.
- (D) objetiva, insuscetível de regresso.
- (E) passiva, insuscetível de regresso.



**QUESTÃO 29**

Nos termos do atual regramento constitucional, o prazo de validade do concurso público será:

- (A) de dois anos, prorrogável uma vez, por igual período.
- (B) de até dois anos, prorrogável uma vez, por igual período.
- (C) de três anos improrrogáveis.
- (D) de dois anos improrrogáveis.
- (E) de até três anos, prorrogável uma vez, por igual período.

**QUESTÃO 30**

De acordo com a Constituição da República de 1988 (CRFB/1988), os servidores nomeados para cargo de provimento efetivo em virtude de concurso público são estáveis após:

- (A) três anos após a assinatura do termo de posse.
- (B) três anos após a publicação do ato de nomeação.
- (C) dois anos de efetivo exercício.
- (D) três anos de efetivo exercício.
- (E) dois anos após a assinatura do termo de posse.

**QUESTÃO 31**

À luz da CRFB/1988, poderá haver acúmulo remunerado de cargos públicos nas seguintes hipóteses, desde que haja compatibilidade de horários, EXCETO:

- (A) de um cargo de Juiz de Direito com outro de professor.
- (B) de um cargo de Delegado com outro de Deputado Federal.
- (C) de dois cargos de professor.
- (D) de um cargo de professor com outro técnico ou científico.
- (E) de dois cargos ou empregos privativos de profissionais de saúde, com profissões regulamentadas.

**QUESTÃO 32**

À luz das disposições constitucionais, informe se é verdadeiro (V) ou falso (F) para o que se afirma a seguir acerca dos servidores públicos.

( ) A proibição de acumular cargos públicos remunerados estende-se a empregos e funções e abrange autarquias, fundações, empresas públicas, sociedades de economia mista, suas subsidiárias, e sociedades controladas, direta ou indiretamente, pelo poder público.

( ) Os acréscimos pecuniários percebidos por servidor público não serão computados nem acumulados para fins de concessão de acréscimos ulteriores.

( ) Na esfera municipal, determinados cargos definidos em lei poderão ter sua remuneração estipulada em forma de percentual da remuneração do Prefeito.

A sequência está correta em:

- (A) V – V – V.
- (B) F – F – V.
- (C) F – V – F.
- (D) V – V – F.
- (E) F – V – F.

**QUESTÃO 33**

Instituto expressamente previsto na Constituição, cuja finalidade é permitir que um servidor que tenha sofrido limitações físicas ou mentais continue contribuindo para a administração pública de acordo com suas capacidades adaptadas, mantendo sua estabilidade financeira e preservando seus direitos como servidor público. Trata-se:

- (A) da readaptação.
- (B) do remanejamento.
- (C) da reutilização.
- (D) da redistribuição.
- (E) da recondução.

---

**QUESTÃO 34**

---

Nos termos da Constituição Federal da República de 1988, em âmbito municipal, o servidor público estável só perderá o cargo:

- (A) por decisão fundamentada da chefia imediata.
- (B) por decisão fundamentada do Chefe do Poder Executivo.
- (C) em virtude de decisão de dois terços dos vereadores da Câmara Municipal.
- (D) em virtude de sentença judicial transitada em julgado.
- (E) mediante procedimento sumário de julgamento administrativo, com ou sem direito de contraditório.

---

**QUESTÃO 35**

---

Com fundamento no texto constitucional, avalie as afirmativas a seguir no que tange à administração pública.

- I. Nos Municípios, os vencimentos dos cargos do Poder Legislativo não poderão ser superiores aos pagos pelo Poder Executivo.
- II. A Constituição veda de forma expressa a contratação temporária de agentes públicos.
- III. É garantido ao servidor público civil o direito à livre associação sindical.

Está correto o que se afirma em:

- (A) I e II, apenas.
- (B) I e III, apenas.
- (C) III, apenas.
- (D) I, apenas.
- (E) II e III, apenas.

---

**QUESTÃO 36**

---

Atributos dos atos administrativos são suas qualidades, podendo ser entendidos como as características inerentes a tais atos. Desta feita, são atributos do ato administrativo, EXCETO:

- (A) a tipicidade.
- (B) a presunção de legitimidade.
- (C) a informalidade irrestrita.
- (D) a autoexecutoriedade.
- (E) a imperatividade.

---

**QUESTÃO 37**

---

Nos termos do atual regramento, os entes da Federação (União, Estados, Distrito Federal e Municípios) respondem pelos danos que seus servidores, nessa qualidade, causarem a terceiros:

- (A) apenas se houver dolo do agente.
- (B) independentemente de haver culpa ou dolo do agente.
- (C) independentemente de haver culpa ou dolo do paciente.
- (D) apenas se houver culpa do paciente.
- (E) apenas se houver culpa do agente.

---

**QUESTÃO 38**

---

Requisito do ato administrativo que se consubstancia no pressuposto fático e jurídico (ou normativo) que justifica sua prática:

- (A) competência.
- (B) conteúdo.
- (C) forma.
- (D) finalidade.
- (E) motivo.

---

**QUESTÃO 39**

---

Dentre as opções a seguir, assinale aquela que se refere a uma modalidade de licitação expressamente prevista na Lei nº 14.133/2021 – Lei de Licitações e Contratos Administrativos.

- (A) Convite.
- (B) Outorga.
- (C) Concessão.
- (D) Tomada de Preços.
- (E) Leilão.

---

**QUESTÃO 40**

---

Suponha que a Câmara de Paraty pretende adquirir um grande lote de materiais de escritório, como canetas, papel para impressão, ou seja, produtos de natureza idêntica com várias marcas disponíveis no mercado. Para a situação descrita, qual a modalidade de licitação exigida pela Lei nº 14.133/2021?

- (A) a Concorrência.
- (B) o Chamamento Público.
- (C) o Pregão.
- (D) o Credenciamento.
- (E) o Diálogo Competitivo.

---

**QUESTÃO 41**

---

A Lei nº 14.133/2021 expressamente admite a dispensa de licitação para contratação de bens e serviços não relacionados a obras e serviços de engenharia ou a serviços de manutenção de veículos automotores, que envolva valores inferiores a:

- (A) R\$ 50.000,00.
- (B) R\$ 55.000,00.
- (C) R\$ 60.000,00.
- (D) R\$ 65.000,00.
- (E) R\$ 70.000,00.

---

**QUESTÃO 42**

---

Dispõe a Lei nº 14.133/2021 que o processo de contratação direta, que compreende os casos de inexigibilidade e de dispensa de licitação, deverá ser instruído com os seguintes documentos, EXCETO:

- (A) justificativa de preço.
- (B) razão da escolha do contratado.
- (C) demonstração da compatibilidade da previsão de recursos orçamentários com o compromisso a ser assumido.
- (D) parecer jurídico e pareceres técnicos, se for o caso, que demonstrem o atendimento dos requisitos exigidos.
- (E) comprovação da capacidade econômica do fornecedor escolhido para cumprimento do objeto contratual.

---

**QUESTÃO 43**

---

Prevê a Lei 14.133/2021 que os contratos por ela tratados regular-se-ão pelas suas cláusulas e pelos preceitos \_\_\_\_\_, e a eles serão aplicados, supletivamente, os princípios da teoria geral dos contratos e as disposições \_\_\_\_\_. Assinale a alternativa que correta e sequencialmente preenche as lacunas.

- (A) de direito privado / de direito internacional
- (B) de direito privado / de direito público
- (C) de direito internacional / de direito público
- (D) de direito público / de direito privado
- (E) de direito público / de direito administrativo

---

**QUESTÃO 44**

---

Recentemente houve uma alteração na Lei Orgânica do Município de Itapecerica da Serra/SP, dispondo que, a partir da legislatura de 2025 o número de vereadores que comporá a Câmara Municipal será de:

- (A) 13.
- (B) 14.
- (C) 15.
- (D) 16.
- (E) 17.

**QUESTÃO 45**

Nos termos da Lei Orgânica Municipal, são símbolos do Município de Itapecerica da Serra/SP:

- (A) a Bandeira e o Escudo.
- (B) a Bandeira e o Hino.
- (C) a Bandeira e o Brasão.
- (D) o Brasão e o Escudo.
- (E) o Brasão e a Insígnia.

**QUESTÃO 46**

À luz da Lei Orgânica do Município de Itapecerica da Serra/SP, competem ao Município as seguintes atribuições, EXCETO:

- (A) planejar e promover a defesa permanente contra as calamidades públicas.
- (B) legislar sobre as penas a serem aplicadas aos crimes cometidos no seu território.
- (C) organizar e prestar, diretamente ou em regime de concessão ou permissão, os serviços públicos de interesse local, incluindo o de transporte coletivo e dos recursos hidrominerais.
- (D) exigir do proprietário do solo urbano não edificado ou não utilizado, que promova seu adequado aproveitamento, na forma do Estatuto da Cidade e do Plano Diretor.
- (E) instituir cobrança por estacionamentos nos logradouros públicos, situados no centro da Cidade.

**QUESTÃO 47**

Com base no Regimento Interno da Câmara Municipal de Itapecerica da Serra/SP, avalie a veracidade (V) ou falsidade (F) das afirmações a seguir. Em seguida, assinale a alternativa que contém a sequência correta.

( ) A função de fiscalização, sobre os aspectos contábil, financeiro, orçamentário e patrimonial do Município e das entidades da administração indireta, é exercida exclusivamente pelo Tribunal de Contas do Estado, não cabendo qualquer medida da Câmara Municipal neste sentido.

( ) A função legislativa consiste em deliberar, por meio de emendas à Lei Orgânica, leis, decretos legislativos e resoluções sobre todas as matérias de competência do Município.

( ) A função de controle é de caráter político-administrativo e se exerce sobre o Prefeito, Subprefeitos, Secretários Municipais, Mesa do Legislativo e Vereadores, mas não se exerce sobre os agentes administrativos, sujeitos à ação hierárquica.

- (A) V – F – V.
- (B) F – F – V.
- (C) V – F – F.
- (D) F – V – V.
- (E) V – V – F.

**QUESTÃO 48**

De acordo com o Regimento Interno da Câmara Municipal de Itapecerica da Serra/SP, representar a representar a Câmara em juízo ou fora dele é uma competência atribuída:

- (A) ao Vice-Prefeito Municipal.
- (B) ao Prefeito Municipal.
- (C) a qualquer dos vereadores.
- (D) a qualquer dos membros da Mesa Diretora.
- (E) ao Presidente da Câmara.

---

**QUESTÃO 49**

---

À luz do Estatuto dos Servidores Públicos do Município de Itapecerica da Serra/SP, são formas de provimento de cargos públicos no Município os adiante listados, EXCETO:

- (A) indicação.
- (B) reversão.
- (C) reintegração.
- (D) nomeação.
- (E) aproveitamento.

---

**QUESTÃO 50**

---

De acordo com o Estatuto dos Servidores Públicos do Município de Itapecerica da Serra/SP, o benefício pago aos dependentes do servidor falecido é denominado:

- (A) retribuição.
- (B) pensão.
- (C) soldo.
- (D) côngrua.
- (E) aposentadoria.

