

AVANÇASP



CÂMARA MUNICIPAL DE ITAPEVERICA
DA SERRA

CONCURSO PÚBLICO
01/2024

TESOUREIRO

Leia atentamente as instruções abaixo

1. PROVA E FOLHA DE RESPOSTAS

Além deste Caderno de Prova, contendo 50 (cinquenta) questões objetivas, você receberá do Fiscal de Sala:

- 01 (uma) Folha de Respostas destinada às respostas das questões objetivas. Confira se seus dados estão corretos.

2. TEMPO

- 03 (três) horas é o tempo disponível para realização da prova, já incluído o tempo para marcação da Folha de Respostas da prova objetiva;

- **01 (uma) hora** após o início da prova é possível, retirar-se da sala levando o caderno de prova;

3. INFORMAÇÕES GERAIS

- As questões objetivas têm 05 (cinco) alternativas de resposta (A, B, C, D, E) e somente **uma** delas está correta;

- Verifique se seu caderno está completo, sem repetição de questões ou falhas. Caso contrário, informe imediatamente o Fiscal da Sala, para que sejam tomadas as devidas providências;

- Confira seus dados pessoais na Folha de Respostas, especialmente nome, número de inscrição e documento de identidade e leia atentamente as instruções para preenchimento;

- O preenchimento das respostas da prova objetiva é de sua responsabilidade e não será permitida a troca de Folha de Respostas em caso de erro de marcação pelo candidato;

- Marque, na folha de respostas, com caneta de tinta azul ou preta, a letra correspondente à alternativa que você escolheu.

- Reserve tempo suficiente para o preenchimento de suas respostas. Para fins de avaliação, serão levadas em consideração apenas as marcações realizadas na Folha de Respostas da prova objetiva, não sendo permitido anotar informações relativas às respostas em qualquer outro meio que não seja o caderno de prova;

- Ao se retirar, entregue a Folha de Respostas preenchida e assinada ao Fiscal de Sala.

SERÁ ELIMINADO do presente certame o candidato que:

- a) for surpreendido, durante as provas, em qualquer tipo de comunicação com outro candidato;

- b) portar ou usar, qualquer tipo de aparelho eletrônico (calculadoras, bips/pagers, câmeras fotográficas, filmadoras, telefones celulares, smartphones, tablets, relógios, walkmans, MP3 players, fones de ouvido, agendas eletrônicas, notebooks, palmtops ou qualquer outro tipo de computador portátil, receptores ou gravadores) seja na sala de prova, sanitários, pátios ou qualquer outra dependência do local de prova;

- c) se ausentar da sala em que se realizam as provas levando consigo o Caderno de Questões e/ou a Folha de Respostas;

- d) se recusar a entregar a Folha de Respostas, quando terminar o tempo estabelecido;

- e) não assinar a Lista de Presença e/ou a Folha de Respostas.

LÍNGUA PORTUGUESA
TEXTO

Leia o texto para responder às questões de 1 a 05.

Possível caso de altruísmo é observado entre elefantes-marinhos

Em registro raro feito nos Estados Unidos, pesquisadores acompanharam um macho da espécie *Mirounga angustirostris* salvando um filhote com poucas semanas de vida

Em artigo publicado em janeiro na revista *Marine Mammal Science*, pesquisadores relatam um possível episódio de altruísmo entre elefantes-marinhos da espécie *Mirounga angustirostris*. O caso ocorreu na Califórnia, em 27 de janeiro de 2022, e é considerado raro, especialmente por envolver um mamífero marinho macho.

Os autores do estudo caracterizam o altruísmo como um comportamento de assistência voltado para um indivíduo necessitado. O altruísta seria responsável por uma ação que reduz sua própria chance de sobrevivência e reprodução, mas que beneficia a sobrevivência do outro.

O episódio observado pelos cientistas durou cerca de 20 minutos e envolveu um filhote com menos de duas semanas de vida, uma fêmea que cuidava dele e um macho que fazia parte do grupo de elefantes-marinhos da região. O filhote e a fêmea estavam juntos, mas foram separados pela maré e pelas ondas. Distante cerca de 15 metros, a fêmea atingiu águas mais rasas e começou a vocalizar, chamando o filhote. Ele, por sua vez, não conseguia nadar e era puxado para mais longe pelas ondas. Então, um macho, identificado como o alfa do grupo, se aproximou da fêmea e, logo depois, seguiu em direção ao filhote – que já estava a aproximadamente 40 metros da fêmea. Ao alcançar o filhote, o empurrou gentilmente com a cabeça para retornar à costa. O mais velho ajudou o mais novo até que eles estivessem a quatro metros da fêmea e finalmente o filhote estivesse junto da mãe.

O caso chama atenção porque elefantes-marinhos machos geralmente não participam do cuidado com os filhotes. “O comportamento de perseguir o filhote e empurrá-lo em direção à

costa poderia ser interpretado como comportamento sexual mal direcionado, em que machos dominantes frequentemente conduzem e escoltam fêmeas para a costa para evitar assédio por outros machos. No entanto, propomos que as ações foram intencionais”, escrevem os pesquisadores no artigo.

Eles ressaltam que a condução do filhote foi feita de forma gentil e que, depois, o macho não se aproximou da fêmea, apenas emitiu um som na direção dela. Além disso, os cientistas defendem ter sido um episódio de altruísmo, já que o macho gastou uma energia que poderia ter sido usada para acasalar, defender sua posição contra outros machos ou se manter vivo durante o período de jejum típico dessa espécie.

Revista Galileu. Disponível em <https://revistagalileu.globo.com/ciencia/biologia/noticia/2024/02/possivel-caso-de-altruismo-e-observado-entre-elefantes-marinhos.ghtml>

QUESTÃO 01

Segundo a reportagem apresentada, conclui-se que:

- (A) o elefante-marinho mais velho ofereceu assistência ao filhote por considerá-lo uma presa.
- (B) a assistência do elefante-marinho mais velho se trata de um comportamento sexual mal direcionado em relação à mãe do filhote.
- (C) o cuidado com os filhotes dessa espécie costuma ser de responsabilidade das fêmeas, e não dos machos.
- (D) o resgate do filhote foi feito pelo elefante-marinho mais velho em troca de acasalamento.
- (E) os elefantes-marinhos machos não participam do cuidado com os filhotes porque focam em sua própria sobrevivência.

QUESTÃO 02

Os pesquisadores consideraram o resgate do filhote como um episódio de altruísmo pois:

- (A) o elefante-marinho sofreu risco de vida para salvar o filhote.
- (B) o elefante-marinho sacrificou outro animal para salvar o filhote.
- (C) o elefante-marinho gastou sua energia no resgate do filhote, e não em outras atividades.
- (D) elefantes-marinhos machos costumam ser bastante agressivos com filhotes, e não compassivos.
- (E) elefantes-marinhos machos costumam dominar fêmeas e filhotes para competir com outros animais.

QUESTÃO 03

Analise o excerto a seguir quanto aos mecanismos de coesão textual: “Ele, por sua vez, não conseguia nadar e era puxado para mais longe pelas ondas.” Assinale a alternativa que classifica corretamente o tipo de coesão textual verificada no excerto apresentado, com base no emprego do pronome pessoal, bem como indica o elemento a que o pronome se refere no texto.

- (A) coesão referencial anafórica, que retoma o referente “o filhote” anteriormente enunciado.
- (B) coesão referencial catafórica, que introduz o referente “o filhote” no texto.
- (C) coesão referencial anafórica, que retoma o referente “um macho” anteriormente enunciado.
- (D) coesão por substituição, que retoma e atualiza com uma nova característica o referente “o filhote” anteriormente enunciado.
- (E) coesão lexical, que retoma por meio de um hiperônimo o referente “o filhote” anteriormente enunciado.

Considere o excerto a seguir para responder às questões 4 e 5:

Então, um macho, identificado como o alfa do grupo, se aproximou da fêmea e, logo depois, seguiu em direção ao filhote – que já estava a aproximadamente 40 metros da fêmea.

QUESTÃO 04

Em termos de papel sintático, o elemento colocado entre vírgulas “identificado como o alfa do grupo”, no contexto apresentado, constitui:

- (A) aposto do sujeito.
- (B) complemento nominal.
- (C) adjunto adnominal.
- (D) vocativo do sujeito.
- (E) adjunto adverbial.

QUESTÃO 05

Quanto à classificação gramatical, a oração introduzida pelo sinal de travessão (–), no excerto apresentado, corresponde a uma:

- (A) oração coordenada explicativa.
- (B) oração subordinada adjetiva explicativa.
- (C) oração subordinada adjetiva restritiva.
- (D) oração coordenada aditiva.
- (E) oração subordinada substantiva objetiva direta.

QUESTÃO 06

Analise as sentenças a seguir e assinale aquela em que ocorre uma oração subordinada substantiva subjetiva.

- (A) A expectativa é de que o professor cancele a prova.
- (B) Ela se esqueceu de anotar os compromissos naquele dia.
- (C) Não é segredo que eles já não se toleram no ambiente de trabalho.
- (D) Não demore muito, que estou com pressa.
- (E) Os meninos foram suspensos porque só faziam bagunça na sala de aula.

QUESTÃO 07

Considere o excerto a seguir, retirado de uma reportagem publicada na Revista Galileu, acerca de uma descoberta arqueológica:

“A parte mais incrível [da descoberta] é o quanto tudo está bem preservado e que agora sabemos onde havia árvores em ambientes que não as têm mais”, diz Basil Stow, guarda florestal do National Trust, em entrevista ao jornal The Guardian.”

O excerto dado se apresenta em discurso direto. Assinale a alternativa que o reescreve corretamente em discurso indireto.

(A) Basil Stow, guarda florestal do National Trust, disse, em entrevista ao jornal The Guardian, que a parte mais incrível [da descoberta] é o quanto tudo está bem preservado e que agora sabem onde há árvores em ambientes que não as teriam mais.

(B) Basil Stow, guarda florestal do National Trust, diz, em entrevista ao jornal The Guardian, que a parte mais incrível [da descoberta] é o quanto tudo está bem preservado e que agora sabem onde há árvores em ambientes que não as tinham mais.

(C) Basil Stow, guarda florestal do National Trust, disse, em entrevista ao jornal The Guardian, que a parte mais incrível [da descoberta] foi o quanto tudo estava bem preservado e que agora sabem onde havia árvores em ambientes que não as tinham mais.

(D) Basil Stow, guarda florestal do National Trust, disse, em entrevista ao jornal The Guardian, que a parte mais incrível [da descoberta] era o quanto tudo estava bem preservado e que agora sabiam onde havia árvores em ambientes que não as tinham mais.

(E) Basil Stow, guarda florestal do National Trust, diz, em entrevista ao jornal The Guardian, que a parte mais incrível [da descoberta] é o quanto tudo estava bem preservado e que agora sabem onde havia árvores em ambientes que não as têm mais.

QUESTÃO 08

Analise as sentenças a seguir e assinale a alternativa em que se verifica a ocorrência de um vocativo.

(A) Ana, que já não aguentava o calor, desmaiou em meio ao espetáculo.

(B) A garota, filha mais velha do romancista, também passou a escrever nas horas vagas.

(C) Já te disse, meu amigo, que a vida não pausa para que possamos resolver as coisas.

(D) Foi ensinada desde pequena a ser fiel aos deuses.

(E) Nessa época do ano, as folhas amanhecem sempre umedecidas pelo orvalho.

QUESTÃO 09

Considere as sentenças:

I. Os frascos do laboratório _____ amostras do vírus, que serão analisadas para o desenvolvimento da vacina.

II. A garota não espera que _____ com ela para a feira de ciências.

III. Gostaria de saber quantos litros de gás _____ este botijão.

Assinale as alternativas que indicam os verbos que preenchem corretamente as lacunas das sentenças dadas.

(A) contém; contem; contêm.

(B) contêm; contem; contém.

(C) contem; contém; contêm.

(D) contêm; contém; contem.

(E) contém; contem; contêm.

QUESTÃO 10

Assinale a alternativa em que todas as palavras indicadas flexionam em gênero.

(A) pastor; credo; oráculo.

(B) amplitude; amazona; inimigo.

(C) cidadão; piloto; fantástico.

(D) qual; muito; atacante.

(E) jogador; esquerda; titular.

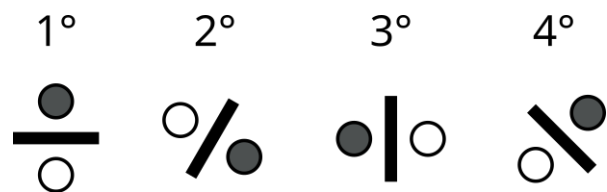
MATEMÁTICA E RACIOCÍNIO LÓGICO
QUESTÃO 11

Dois irmãos recebem uma mesada. Um deles, o mais velho, recebe R\$ 80,00, e o mais novo recebe R\$ 55,00. Insatisfeito com o constante aumento de preços na cantina da escola, o irmão mais velho pediu um aumento da sua mesada para que ele receba o valor de R\$ 100,00, que lhe foi concedido. A mesada do irmão mais novo também será aumentada na mesma proporção. Qual será o novo valor recebido pelo irmão mais novo?

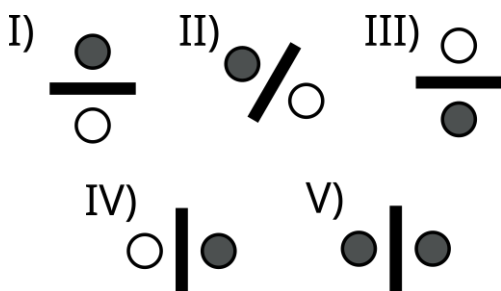
- (A) R\$ 75,00.
- (B) R\$ 68,75.
- (C) R\$ 60,00.
- (D) R\$ 72,15.
- (E) R\$ 69,25.

QUESTÃO 12

Observe a sequência lógica figural abaixo:



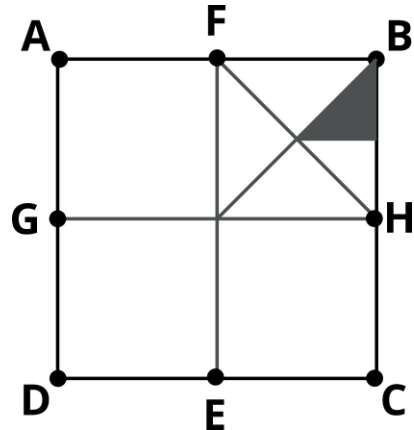
Dentre as correspondências, indique o próximo elemento desta sequência:



- (A) I.
- (B) II.
- (C) III.
- (D) IV.
- (E) V.

QUESTÃO 13

A figura abaixo mostra um quadrado ABCD de lado 1 cm. Os segmentos EF e GH passam exatamente pelo centro do quadrado, e são paralelos aos lados, conforme a figura:

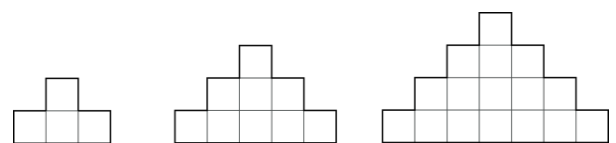


Indique a área da região sombreada, em cm^2 :

- (A) $1/4$.
- (B) $1/8$.
- (C) $1/16$.
- (D) $1/32$.
- (E) $1/64$.

QUESTÃO 14

Observe a sequência abaixo feita com quadrados de lado a :



O primeiro elemento é feito com quatro quadrados, e seu perímetro é $10a$. Indique o perímetro do 10° elemento:

- (A) $23a$.
- (B) $32a$.
- (C) $40a$.
- (D) $56a$.
- (E) $64a$.

QUESTÃO 15

João está fazendo um experimento para a feira de ciências da sua escola. Ele pretende medir uma grandeza física cujo valor correto é 10,0, mas nos seus cálculos ele obtém o valor de 12,0. Em quantos por cento a medida de João difere em relação ao valor correto?

- (A) 16,7%.
- (B) 18,4%.
- (C) 25,0%.
- (D) 20,0%.
- (E) 19,5%.

QUESTÃO 16

Numa escola, cada aluno tem um armário para guardar seus pertences. Os armários são enfileirados e enumerados. Os armários enumerados de 1 a 5 pertencem aos estudantes Matilde, Jéssica, Ana, Gabriel e Carlos, não necessariamente nesta ordem. No primeiro dia de Gabriel, ele não sabia qual seria o seu armário, e perguntou para os demais colegas. Eles responderam:

- O número do armário de Matilde é maior que o seu;
- O número do armário de Carlos é maior que o de Matilde;
- Os dois últimos armários pertencem a Jéssica ou a Ana;

Com essas informações, qual o número do armário de Gabriel?

- (A) 1.
- (B) 2.
- (C) 3.
- (D) 4.
- (E) 5.

QUESTÃO 17

Dois reservatórios A e B, de 1000 litros cada, serão cheios por torneiras que têm vazões diferentes. Antes de começar o enchimento, o reservatório A está inicialmente vazio e o reservatório B já está com $\frac{1}{8}$ do seu volume preenchido. A torneira que encherá o reservatório A despejará 6 litros de água a cada segundo. Já a torneira que encherá o reservatório B despejará 2 litros de água a cada segundo. Sabendo-se que as duas torneiras serão ligadas simultaneamente, em quanto tempo após o ligamento os reservatórios terão o mesmo volume?

- (A) 31,25 segundos.
- (B) 15,12 segundos.
- (C) 19,65 segundos.
- (D) 18,15 segundos.
- (E) 42,25 segundos.

QUESTÃO 18

Uma pessoa está fazendo uma pesquisa de satisfação com os clientes de uma determinada marca. A pesquisa consiste em o cliente dar uma nota de 0 a 100 para o serviço desta marca. No ano passado, a média da nota dada pelos clientes foi 68. Esse ano, a meta é que a nota aumente em 25%. Se a pesquisa for feita com 100 clientes, qual deve ser a soma das suas respectivas notas para que se atinja a meta?

- (A) 8500.
- (B) 850.
- (C) 170.
- (D) 1700.
- (E) 17000.

QUESTÃO 19

Observe as seguintes afirmativas sobre ângulos positivos:

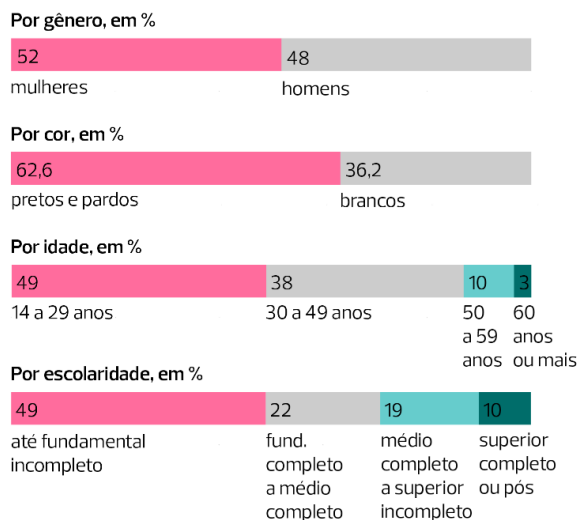
- I – Um ângulo reto é sempre igual a 90° ;
- II – Ângulos agudos são menores que 90° ;
- III – Ângulos obtusos então entre 90° e 180° .

Estão corretos:

- (A) Somente I.
- (B) I e II.
- (C) I e III.
- (D) II e III.
- (E) I, II e III.

QUESTÃO 20

De acordo com o Instituto Brasileiro de Geografia e Estatística (IBGE), em 2020 o número de pessoas desempregadas no Brasil foi de 14 milhões. O gráfico abaixo mostra algumas estratificações desse número:



Adaptado de: Pnad Covid 19, IBGE.

Analisando o gráfico, é possível afirmar que o número de pessoas desempregadas com 50 anos ou mais é, em milhões:

- (A) 1,40.
- (B) 1,82.
- (C) 13,0.
- (D) 10,0.
- (E) 0,42.

NOÇÕES DE INFORMÁTICA**QUESTÃO 21**

Com base nos conhecimentos relacionados ao Windows 7, analisar as afirmações a seguir:

- I. O Windows 7 permite o compartilhamento de arquivos entre computadores conectados a uma mesma rede doméstica.
- II. O Windows 7 permite o compartilhamento de impressoras entre computadores conectados a uma mesma rede doméstica.
- III. Quando você abre arquivos e programas no Windows 7, os ícones aparecem no menu de configurações para que você possa alternar entre eles.

Está(ão) Correto(s):

- (A) Somente o item I.
- (B) Somente o item II.
- (C) Somente os itens I e II.
- (D) Somente os itens II e III.
- (E) Todos os itens.

QUESTÃO 22

Sobre as funcionalidades presentes na barra de tarefas do Windows 7, marcar C para as afirmativas Certas, E para as Erradas e, após, assinalar a alternativa que apresenta a sequência CORRETA:

- () É possível visualizar os programas que estão abertos no Windows 7 utilizando a barra de tarefas.
 - () A barra de tarefas apresenta ao usuário a opção de desinstalar rapidamente um programa em uso.
 - () É possível fixar os programas mais utilizados na barra de tarefas, para facilitar o trabalho no dia a dia.
- (A) C – C – C.
 - (B) C – E – E.
 - (C) C – E – C.
 - (D) E – E – C.
 - (E) E – C – C.

QUESTÃO 23

É um dos programas nativos do Windows 7, presente ao instalar a versão do Sistema Operacional:

- (A) Calculadora.
- (B) 7-zip.
- (C) Winzip.
- (D) Dropbox.
- (E) Steam.

QUESTÃO 24

Quanto mais você usa seu computador, mais aumenta o número de arquivos que precisam ser gerenciados. O meio indicado para abrir pastas e navegar entre os diretórios existentes no Windows 7 é utilizando o:

- (A) Google Chrome.
- (B) Windows Explorer.
- (C) Bloco de notas.
- (D) Adobe 7.0.
- (E) Google Maps.

QUESTÃO 25

Entre as teclas de atalho presentes no Windows 7, qual das funções abaixo é acionada ao utilizar o comando de teclado **Windows + T**:

- (A) Trocar de usuário do computador.
- (B) Bloquear o computador.
- (C) Maximizar a janela.
- (D) Maximiza a janela.
- (E) Percorrer aplicativos na barra de tarefas.

CONHECIMENTOS ESPECÍFICOS**QUESTÃO 26**

ATENÇÃO! Para resolução das próximas **SETE** questões, considere as informações a seguir, relativas a dados orçamentários e financeiros do Município de Colibri, exercício financeiro de 2023.

Despesa Liquidada	1.130.000,00
Receita prevista na LOA	1.200.000,00
Despesa Empenhada	1.175.000,00
Despesa Paga	1.090.000,00
Empenhos Cancelados	25.000,00
Despesa fixada na LOA	1.200.000,00
Receita Arrecadada	1.315.000,00
Receita Recolhida	1.300.000,00

Ainda, no exercício de 2023 houve as seguintes transações:

* Reabertura de créditos especiais abertos em dezembro/2022, no importe de R\$ 35.000,00.

* Pagamento de Restos a Pagar inscritos no exercício anterior, referentes a serviços de terceiros – pessoa jurídica, no valor de R\$ 40.000,00.

* Contratação de Operação de Crédito por Antecipação da Receita Orçamentária, no valor de R\$ 30.000,00, sendo integralmente quitada no mesmo ano, com juros de 10%.

* Recebimento de Depósitos em procedimentos administrativos, no valor de R\$ 15.000,00, sendo que metade deste valor foi devolvido no mesmo exercício

* Consignação, no mês de dezembro/2023, de parcelas de empréstimos na folha dos servidores, no importe de R\$ 25.000,00, a ser repassado ao banco em janeiro/2024.

De acordo com os dados, é correto afirmar que, no exercício de 2023, o Município inscreveu em Restos a Pagar Processados o montante de:

- (A) 40.000,00.
- (B) 65.000,00.
- (C) 75.000,00.
- (D) 35.000,00.
- (E) 30.000,00.

QUESTÃO 27

Com base nos dados fornecidos, é possível concluir, através da análise do Balanço Orçamentário, que, no exercício de 2023:

- (A) o Município experimentou uma frustração de arrecadação de receita orçamentária, da ordem de 115.000,00.
- (B) o Município experimentou um excesso de arrecadação de receita orçamentária, da ordem de 115.000,00.
- (C) o Município experimentou uma frustração de arrecadação de receita orçamentária, da ordem de 100.000,00.
- (D) o Município experimentou um excesso de arrecadação de receita orçamentária, da ordem de 90.000,00.
- (E) o Município experimentou um excesso de arrecadação de receita orçamentária, da ordem de 100.000,00.

QUESTÃO 28

No Balanço Financeiro do exercício de 2023, o total evidenciado na linha 'Recebimentos Extraorçamentários' será de:

- (A) 155.000,00.
- (B) 105.000,00.
- (C) 130.000,00.
- (D) 115.000,00.
- (E) 100.000,00.

QUESTÃO 29

No exercício de 2023 o Município de Colibri experimentou uma economia orçamentária da ordem de:

- (A) 25.000,00.
- (B) 15.000,00.
- (C) 60.000,00.
- (D) 50.000,00.
- (E) 75.000,00.

QUESTÃO 30

Com base nas informações, é correto afirmar que, no exercício de 2023, o Município inscreveu em Restos a Pagar Não-Processados despesas no importe de:

- (A) 10.000,00.
- (B) 45.000,00.
- (C) 55.000,00.
- (D) 25.000,00.
- (E) 20.000,00.

QUESTÃO 31

No Balanço Financeiro do exercício de 2023, o total evidenciado na linha 'Pagamentos Extraorçamentários' será de:

- (A) 80.500,00.
- (B) 77.500,00.
- (C) 70.000,00.
- (D) 82.500,00.
- (E) 102.500,00.

QUESTÃO 32

O resultado orçamentário a ser expresso no Balanço Orçamentário encerrado no exercício de 2023 é um superávit de:

- (A) 140.000,00.
- (B) 150.000,00.
- (C) 165.000,00.
- (D) 190.000,00.
- (E) 200.000,00.

QUESTÃO 33

As receitas _____ entram nos cofres públicos por meio de coação ao indivíduo, imposta ao contribuinte com base no poder soberano que é ao Estado outorgado pelo próprio povo. Assinale a alternativa que corretamente preenche a lacuna.

- (A) regulares
- (B) derivadas
- (C) originárias
- (D) ordinárias
- (E) extemporâneas

QUESTÃO 34

Nos termos do vigente regramento sobre Finanças Públicas, as disponibilidades de caixa dos Estados, do Distrito Federal, dos Municípios e dos órgãos ou entidades do Poder Público e das empresas por ele controladas deverão ser mantidas depositadas:

- (A) em bancos de desenvolvimento regional.
- (B) em instituições financeiras oficiais, ressalvados os casos previstos em lei.
- (C) em bancos múltiplos com carteira de investimento.
- (D) em bancos de investimento com carteira comercial.
- (E) nas instituições que ofereçam as melhores condições de rentabilidade e os menores custos para operações de crédito.

QUESTÃO 35

Sobre as operações de crédito por antecipação de receita orçamentária, informe se é verdadeiro (V) ou falso (F) para o que se afirma a seguir.

- () É vedada a captação de recursos a título de antecipação de receita de tributo ou contribuição cujo fato gerador ainda não tenha ocorrido.
- () A operação de crédito por antecipação de receita destina-se a atender insuficiência de caixa durante o exercício financeiro e realizar-se-á somente a partir do décimo dia do início do exercício.
- () É facultado ao Chefe do Poder Executivo contratar este tipo de operação de crédito discricionariamente, a qualquer tempo dentro de seu mandato.
- (A) F – V – F.
- (B) V – F – V.
- (C) F – V – V.
- (D) F – F – V.
- (E) V – V – F.

QUESTÃO 36

De acordo com a vigente normatização aplicada à contabilidade pública, a Dívida Ativa será evidenciada no _____, no Balanço Patrimonial, e será escriturada como receita orçamentária no exercício em que for _____. Assinale a alternativa que adequadamente preenche as lacunas.

- (A) Ativo Circulante / verificada
- (B) Ativo Não-Circulante / arrecadada
- (C) Passivo Não-Circulante / inscrita
- (D) Passivo Circulante / arrecadada
- (E) Ativo Não-Circulante / lançada

QUESTÃO 37

ATENÇÃO! Para resolução das próximas CINCO questões, considere as informações a seguir.

No exercício financeiro de 2022, o Município de Cacatua realizou as seguintes transações orçamentárias:

Receitas Arrecadadas:

Amortização de Empréstimos	105.000,00
Receita Patrimonial	220.000,00
Receita de Serviços	130.000,00
Operações de Crédito	415.000,00
Alienação de Bens	225.000,00
Impostos, Taxas e Contribuições de Melhoria	455.000,00
Receita de Contribuições	85.000,00
Transferências de Capital	125.000,00
Receitas Agropecuárias	65.000,00

Despesas Empenhadas, Liquidadas e Pagas:

Investimentos	325.000,00
Inversões Financeiras	200.000,00
Pessoal e Encargos Sociais	725.000,00
Juros e Encargos da Dívida	175.000,00
Amortização da Dívida	230.000,00
Outras Despesas Correntes	115.000,00

*As Inversões Financeiras se referem a aquisição de veículos usados e as 'outras despesas correntes' são referentes a gastos com a manutenção das atividades do ente.

Considerando as informações fornecidas, e elaborando a Demonstração dos Fluxos de Caixa pelo método direto, assinale a alternativa que indica o valor dos fluxos líquidos das atividades operacionais (valores entre parênteses representam números negativos).

- (A) 65.000,00.
- (B) (280.000,00)
- (C) 280.000,00.
- (D) 60.000,00.
- (E) (60.000,00).

QUESTÃO 38

Considerando as informações fornecidas, e elaborando a Demonstração dos Fluxos de Caixa pelo método direto, assinale a alternativa que indica o valor dos fluxos líquidos das atividades de financiamento.

- (A) 290.000,00.
- (B) 225.000,00.
- (C) 185.000,00.
- (D) 310.000,00.
- (E) 10.000,00.

QUESTÃO 39

Considerando as informações fornecidas, e elaborando a Demonstração dos Fluxos de Caixa pelo método direto, assinale a alternativa que indica o valor dos fluxos líquidos das atividades de investimento (valores entre parênteses representam números negativos).

- (A) (215.000,00).
- (B) (195.000,00).
- (C) (300.000,00).
- (D) (70.000,00).
- (E) (120.000,00).

QUESTÃO 40

A Receita Corrente arrecadada pelo Município de Cacatua no exercício financeiro de 2023 importa em:

- (A) 955.000,00.
- (B) 890.000,00.
- (C) 735.000,00.
- (D) 825.000,00.
- (E) 1.080.000,00.

QUESTÃO 41

A Despesa de Capital empenhada pelo Município de Cacatua no exercício financeiro de 2023 importa em:

- (A) 555.000,00.
- (B) 525.000,00.
- (C) 930.000,00.
- (D) 755.000,00.
- (E) 430.000,00.

QUESTÃO 42

Nos termos da Nova Lei de Licitações e Contratos Administrativos (Lei nº 14.133/2021), a modalidade de licitação destinada à escolha de trabalho técnico, científico ou artístico, cujo critério de julgamento será o de melhor técnica ou conteúdo artístico, e para concessão de prêmio ou remuneração ao vencedor, é denominada:

- (A) Leilão.
- (B) Seleção Pública.
- (C) Credenciamento.
- (D) Concurso.
- (E) Diálogo Competitivo.

QUESTÃO 43

O Estatuto dos Servidores Públicos do Município de Itapecerica da Serra/SP estabelece que são estáveis após _____ os servidores nomeados em virtude de concurso público. Assinale a alternativa que corretamente preenche a lacuna.

- (A) três anos após a nomeação
- (B) dois anos a contar da convocação
- (C) três anos após a posse
- (D) dois anos após a aprovação em concurso público
- (E) três anos de efetivo exercício

QUESTÃO 44

À luz das disposições da Lei nº 14.133/2021 sobre Inexigibilidade de Licitação, informe se é verdadeiro (V) ou falso (F) para o que se afirma a seguir, e assinale a alternativa que evidencie a sequência correta.

() A Lei determina que é inexigível a licitação quando inviável a competição, listando um rol exemplificativo de situações que se enquadram nesta possibilidade.

() Para tornar mais ágil o processo de contratação, a lei estipula que é inexigível a licitação para compras de bens e serviços comuns de até R\$ 100.000,00.

() A aquisição ou locação de imóvel cujas características de instalações e de localização tornem necessária sua escolha pela Administração é uma das hipóteses permitidas de Inexigibilidade de Licitação.

- (A) F – V – F.
- (B) V – F – V.
- (C) F – V – V.
- (D) F – F – V.
- (E) V – V – F.

QUESTÃO 45

A Câmara Municipal de Itapecerica da Serra/SP, no exercício de suas atribuições, poderá editar Decretos Legislativos e Resoluções. Sobre essa legislação, avalie as afirmativas a seguir.

I. O projeto de decreto legislativo é a proposição destinada a regular qualquer matéria de competência do Município que produza efeitos externos.

II. O projeto de resolução é a proposição destinada a regular matéria político-administrativa da Câmara, de sua competência exclusiva.

III. Tanto o decreto legislativo quanto a resolução dependem de sanção do Prefeito Municipal, que terá o prazo de 15 dias úteis a contar do seu recebimento.

Está correto o que se afirma em:

- (A) II, apenas.
- (B) II e III, apenas.
- (C) I e III, apenas.
- (D) III, apenas.
- (E) I e II, apenas.

QUESTÃO 46

Compete ao Tribunal de Contas do Estado apreciar as contas do Prefeito Municipal de Itapecerica da Serra e sobre estas emitir Parecer Prévio. A Câmara Municipal, no entanto, não está a ele vinculada, podendo rejeitá-lo, nos termos da Lei Orgânica do Município, pelo voto:

- (A) da maioria absoluta dos membros.
- (B) de 4/5 dos membros.
- (C) de 75% dos membros.
- (D) da maioria qualificada dos membros.
- (E) da maioria simples dos membros.

QUESTÃO 47

Sobre a fiscalização contábil, financeira e orçamentária no Município de Itapecerica da Serra/SP, assinale a alternativa em DESACORDO com a Lei Orgânica Municipal.

(A) Os Poderes Legislativo e Executivo manterão de forma integrada sistema de controle interno.

(B) Uma das finalidades do sistema de controle interno é avaliar o cumprimento das metas previstas no Plano Plurianual, a execução dos programas e dos orçamentos do Município.

(C) O controle externo será exercido pela Câmara Municipal com o auxílio do Tribunal de Contas do Estado de São Paulo.

(D) Entendendo o Tribunal de Contas do Estado pela irregularidade ou ilegalidade, a Comissão Permanente de Finanças e Orçamento proporá à Câmara Municipal a imediata abertura de processo de impedimento do Chefe do Poder Executivo.

(E) Os responsáveis pelo controle interno, ao tomarem conhecimento de qualquer ilegalidade ou irregularidade, dela deverão dar ciência à Comissão Permanente de Finanças e Orçamento da Câmara Municipal, sob pena de responsabilidade solidária.

QUESTÃO 48

À luz da Lei Orgânica do Município de Itapecerica da Serra/SP, julgue a veracidade (V) ou falsidade (F) das afirmações a seguir.

() O Código Tributário do Município e o Plano Diretor são temas reservados a Lei Complementar.

() A matéria constante do projeto de lei rejeitado somente poderá constituir objeto de novo projeto, na mesma sessão legislativa, mediante proposta da maioria absoluta dos membros da Câmara Municipal.

() Quanto à tramitação dos Projetos de Lei, quando a matéria for submetida a dois turnos de discussão e votação, sendo rejeitada no primeiro será sumariamente arquivada.

A sequência está correta em:

(A) F – V – F.

(B) V – F – V.

(C) F – V – V.

(D) F – F – V.

(E) V – V – F.

QUESTÃO 49

Com base no Estatuto dos Servidores Públicos do Município de Itapecerica da Serra/SP, assinale a alternativa correta.

(A) Os ocupantes de cargos em comissão não são considerados servidores públicos, haja vista a possibilidade de exoneração a qualquer tempo.

(B) O estágio probatório no Município de Itapecerica da Serra é de 02 anos.

(C) Carreira é o conjunto de classes da mesma natureza de trabalho e de idêntica habilitação profissional, escalonadas segundo a responsabilidade e complexidade das atribuições, para progressão dos titulares dos cargos que a integram.

(D) Os cargos públicos do Município de Itapecerica da Serra são destinados exclusivamente a brasileiros natos.

(E) A Lei permite contratação temporária para atender a situações excepcionais, dispensada a realização de processo seletivo.

QUESTÃO 50

Nos termos do Estatuto dos Servidores Públicos do Município de Itapecerica da Serra/SP, o reingresso do servidor estável no serviço Público Municipal em virtude de decisão judicial transitada em julgado é denominado:

(A) aproveitamento.

(B) reintegração.

(C) reversão.

(D) readaptação.

(E) recondução.

