

AVANÇASP



CÂMARA MUNICIPAL DE RIO GRANDE
DA SERRA

CONCURSO PÚBLICO
01/2024

AUDITOR DE CONTROLE INTERNO

Leia atentamente as instruções abaixo

1. PROVA E FOLHA DE RESPOSTAS

Além deste Caderno de Prova, contendo 50 (cinquenta) questões objetivas, você receberá do Fiscal de Sala:

- 01 (uma) Folha de Respostas destinada às respostas das questões objetivas. Confira se seus dados estão corretos.

2. TEMPO

- 03 (três) horas é o tempo disponível para realização da prova, já incluído o tempo para marcação da Folha de Respostas da prova objetiva;

- **01 (uma) hora** após o início da prova é possível, retirar-se da sala levando o caderno de prova;

3. INFORMAÇÕES GERAIS

- As questões objetivas têm 05 (cinco) alternativas de resposta (A, B, C, D, E) e somente **uma** delas está correta;

- Verifique se seu caderno está completo, sem repetição de questões ou falhas. Caso contrário, informe imediatamente o Fiscal da Sala, para que sejam tomadas as devidas providências;

- Confira seus dados pessoais na Folha de Respostas, especialmente nome, número de inscrição e documento de identidade e leia atentamente as instruções para preenchimento;

- O preenchimento das respostas da prova objetiva é de sua responsabilidade e não será permitida a troca de Folha de Respostas em caso de erro de marcação pelo candidato;

- Marque, na folha de respostas, com caneta de tinta azul ou preta, a letra correspondente à alternativa que você escolheu.

- Reserve tempo suficiente para o preenchimento de suas respostas. Para fins de avaliação, serão levadas em consideração apenas as marcações realizadas na Folha de Respostas da prova objetiva, não sendo permitido anotar informações relativas às respostas em qualquer outro meio que não seja o caderno de prova;

- Ao se retirar, entregue a Folha de Respostas preenchida e assinada ao Fiscal de Sala.

SERÁ ELIMINADO do presente certame o candidato que:

- a) for surpreendido, durante as provas, em qualquer tipo de comunicação com outro candidato;

- b) portar ou usar, qualquer tipo de aparelho eletrônico (calculadoras, bips/pagers, câmeras fotográficas, filmadoras, telefones celulares, smartphones, tablets, relógios, walkmans, MP3 players, fones de ouvido, agendas eletrônicas, notebooks, palmtops ou qualquer outro tipo de computador portátil, receptores ou gravadores) seja na sala de prova, sanitários, pátios ou qualquer outra dependência do local de prova;

- c) se ausentar da sala em que se realizam as provas levando consigo o Caderno de Questões e/ou a Folha de Respostas;

- d) se recusar a entregar a Folha de Respostas, quando terminar o tempo estabelecido;

- e) não assinar a Lista de Presença e/ou a Folha de Respostas.

CADERNO DE QUESTÕES

PROVA OBJETIVA

LÍNGUA PORTUGUESA
TEXTO

Leia o texto para responder às questões de 1 a 05.

O olhar da truta

O homem pediu truta e o garçom perguntou se ele não gostaria de escolher uma pessoalmente.

— Como, escolher?

— No nosso viveiro. O senhor pode escolher a truta que quiser.

Ele não tinha visto o viveiro ao entrar no restaurante. Foi atrás do garçom. As trutas davam voltas e voltas dentro do aquário, como num cortejo. Algumas paravam por um instante e ficavam olhando através do vidro, depois retomavam o cortejo. E o homem se viu encarando, olho no olho, uma truta que estacionara com a boca encostada no vidro à sua frente.

— Essa está bonita... — disse o garçom.

— Eu não sabia que se podia escolher. Pensei que elas já estivessem mortas.

— Não, nossas trutas são mortas na hora. Da água direto para a panela.

A truta continuava parada contra o vidro, olhando para o homem.

— Vai essa, doutor? Ela parece que está pedindo...

Mas o olhar da truta não era de quem queria ir direto para uma panela. Ela parecia examinar o homem. Parecia estar calculando a possibilidade de um diálogo. Estranho, pensou o homem. Nunca tive que tomar uma decisão assim. Decidir um destino, decidir entre a vida e a morte. Não era como no supermercado, em que os bichos já estavam mortos e a responsabilidade não era sua — pelo menos não diretamente. Você podia comê-los sem remorso. (...) Claro, era com sua aprovação tácita que bovinos, ovinos, suínos, caprinos, galinhas e peixes eram assassinados para lhe dar de comer. Mas você não estava presente no ato, não escolhia a vítima, não dava a ordem. (...) De certa maneira, pensou o homem, vivi sempre assim, protegido das entranhas do mundo. Sem precisar me comprometer. Sem encarar as vítimas. Mas agora era preciso escolher.

— Vai essa, doutor? — insistiu o garçom.

— Não sei. Eu...

— Acho que foi ela que escolheu o senhor. Olha aí, ficou paradinha. Só faltando dizer “Me come”.

O homem desejou que a truta deixasse de encará-lo e voltasse ao carrossel junto com as outras. Ou que pelo menos desviasse o olhar. Mas a truta continuava a fitá-lo.

— Vamos — estava dizendo a truta. — Pelo menos uma vez na vida, seja decidido. Me escolha e me condene à morte, ou me deixe viver. (...) Não posso decidir a minha vida, ou a de ninguém. Mas você pode. (...) Até agora foi um protegido, um desobrigado, um isento da vida. Mas chegou a hora de se comprometer. (...)

— Vai essa mesmo, doutor? — quis saber o garçom, já com a rede na mão para pegar a truta.

— Não — disse o homem. — Mudei de ideia. Vou pedir outra coisa.

E de volta na mesa, depois de reexaminar o cardápio, perguntou:

— Esses camarões estão vivos?

— Não, doutor. Os camarões estão mortos.

— Pode trazer.

VERISSIMO, L. F. *Verissimo antológico*: meio século de crônicas, ou coisa parecida. São Paulo: Objetiva, 2020.

QUESTÃO 01

No parágrafo final do texto, a atitude do cliente ao voltar à mesa e optar por camarões permite concluir que:

(A) ele se sentia menos desconfortável ao matar camarões.

(B) ele não queria sentir remorso pela morte da truta que seria sua refeição.

(C) a truta pareceu menos saborosa do que os camarões oferecidos pelo garçom.

(D) a escolha pelos camarões se deu principalmente pelo gosto pessoal do personagem.

(E) o personagem manteve distância dos camarões enquanto participava da captura.

QUESTÃO 02

Ao longo da narrativa, a interpretação do cliente a respeito do comportamento da truta o levava a crer que ela:

- (A) queria, de fato, ser escolhida por ele.
- (B) estava furiosa por saber que seria sua refeição.
- (C) o estava provocando para que tomasse alguma atitude, qualquer que fosse.
- (D) esperava que o cliente não a comesse.
- (E) tentou convencer o cliente de que deveria escolher outra truta.

QUESTÃO 03

Analise os excertos a seguir e assinale a alternativa em que o excerto se apresenta em discurso indireto livre.

- (A) Estranho, pensou o homem. Nunca tive que tomar uma decisão assim. Decidir um destino, decidir entre a vida e a morte.
- (B) O homem desejou que a truta deixasse de encará-lo e voltasse ao carrossel junto com as outras.
- (C) — Não — disse o homem. — Mudei de ideia. Vou pedir outra coisa.
- (D) O homem pediu truta e o garçom perguntou se ele não gostaria de escolher uma pessoalmente.
- (E) — Essa está bonita... — disse o garçom.

QUESTÃO 04

Considere o excerto: “De certa maneira, pensou o homem, vivi sempre assim, protegido das entranhas do mundo.” Nesse contexto, verifica-se sentido figurado no emprego da palavra:

- (A) certa.
- (B) maneira.
- (C) homem.
- (D) entranhas.
- (E) mundo.

QUESTÃO 05

Considere o excerto: “Não posso decidir a minha vida, ou a de ninguém.” No contexto apresentado, o vocábulo “a”, em sua segunda ocorrência, desempenha o papel gramatical de:

- (A) artigo definido.
- (B) pronome indefinido.
- (C) pronome demonstrativo.
- (D) pronome pessoal oblíquo átono.
- (E) preposição.

QUESTÃO 06

Analise as sentenças a seguir quanto aos sinais de pontuação empregados. Assinale a alternativa em que a vírgula é empregada de forma a separar uma oração reduzida de particípio de outra oração.

- (A) Os funcionários, que fizeram a denúncia há um mês, finalmente foram ouvidos.
- (B) Se este trabalho não der certo, mudarei de área de atuação.
- (C) Comprados os tecidos, começaremos as aulas de corte e costura.
- (D) A garota, desde o ano passado, tem frequentado festas.
- (E) Os processos judiciais, de modo geral, duram meses.

QUESTÃO 07

Analise as sentenças a seguir quanto às formas verbais empregadas e assinale a alternativa em que ocorre desvio gramatical, segundo a norma-padrão da língua portuguesa.

- (A) Torço para que os nossos pontos de vista convirjam neste trabalho.
- (B) Infelizmente, as ideias que apresentei na reunião não conviram à situação.
- (C) O trabalho estará pronto quando revirmos todas as suas páginas.
- (D) Os comportamentos dos três rapazes não condisseram com a realidade.
- (E) Nós desfizemos todas as parcerias que tínhamos.

QUESTÃO 08

Analise as sentenças a seguir e assinale a alternativa em que o adjetivo em destaque não é relativo ao respectivo substantivo entre parênteses posto ao fim da sentença.

- (A) Da janela, avistam-se montanhas **frígidas** e distantes. (*frio*)
- (B) Fez as análises por eletrólise **ígnea**. (*fogo*)
- (C) As peças de seda vinham **amagotadas** no caminhão. (*âmago*)
- (D) Seu aspecto **varonil** não se perdeu com o tempo. (*varão*)
- (E) O governo tomou ações favoráveis à indústria **bélica**. (*guerra*)

QUESTÃO 09

Analise o excerto a seguir:

__ algum tempo, a grávida, que estava prestes __ dar __ luz, sofria tremores e quedas de pressão. Receava perder o bebê.

Assinale a alternativa que preenche, na respectiva ordem, cada uma das lacunas corretamente.

- (A) A; à; à.
- (B) À; a; à.
- (C) Há; a; a.
- (D) Há; a; à.
- (E) A; à; a.

QUESTÃO 10

Analise as sentenças a seguir quanto à regência verbal e assinale a alternativa em que a preposição em destaque não introduz um objeto indireto.

- (A) Não cumpriu **com** a própria palavra.
- (B) Durante a reunião, ele se absteve **de** falar.
- (C) A loja de variedades não trabalhava **com** artigos de festa.
- (D) Abrigaram-se **sob** a marquise da loja.
- (E) Os investigadores inquiriram-no **sobre** a morte do vizinho.

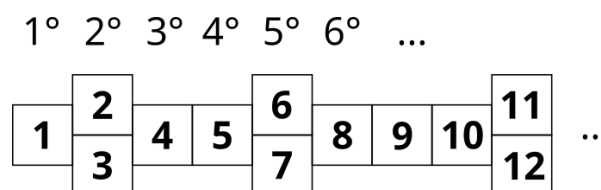
MATEMÁTICA E RACIOCÍNIO LÓGICO**QUESTÃO 11**

No mês de março uma empresa vendeu 2500 unidades de ovos de chocolate, onde cada unidade custou R\$ 50,00. No mês de abril, a empresa aumentou em 25% o preço de cada ovo de chocolate, e vendeu 15% de unidades a mais que no mês anterior. Com relação a este item, qual foi o incremento no faturamento mensal, em relação ao mês anterior pela empresa?

- (A) 42,25%.
- (B) 40,00%.
- (C) 35,00%.
- (D) 43,75%.
- (E) 45,50%.

QUESTÃO 12

Observe a sequência abaixo feita com quadrados enumerados:



A primeira coluna apresenta o quadrado n° 1, a segunda coluna apresenta os quadrados n° 2 e 3. A terceira coluna apresenta o quadrado n° 4, e assim sucessivamente conforme sequência. A 27° coluna terá também dois quadrados. Indique a soma dos seus números:

- (A) 65.
- (B) 67.
- (C) 69.
- (D) 71.
- (E) 73.

QUESTÃO 13

Uma empresa de telemarketing tem uma equipe com 6 atendentes. A equipe liga para 150 clientes a cada 2 horas. Todos os atendentes compartilham da mesma velocidade de atendimento. Acrescentando-se mais 2 atendentes, na mesma velocidade dos atendentes atuais, quantas horas levarão para a equipe ligar para 200 clientes?

- (A) 1,5.
- (B) 2,0.
- (C) 2,2.
- (D) 2,5.
- (E) 3,5.

QUESTÃO 14

Um determinado carro já percorreu 90 mil quilômetros desde que foi fabricado. Supondo-se que ele utilizou somente um tipo de combustível, e que o consumo desse carro é tal que ele percorre 12 km com um litro de combustível, indique quantos metros cúbicos de combustível já foram consumidos por esse carro desde que foi fabricado:

- (A) 1,08.
- (B) 10,8.
- (C) 1080.
- (D) 7,5.
- (E) 75.

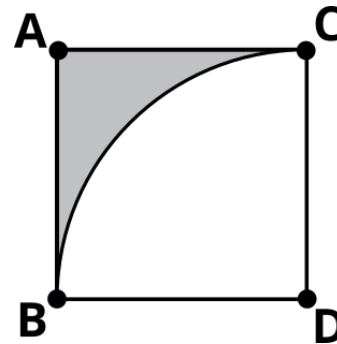
QUESTÃO 15

Numa sala de aula, 10 alunos fizeram uma prova cuja média da turma foi 7,0. João não sabe a nota dele, mas sabe que a média dos outros 9 alunos foi 7,5. Qual foi a nota de João nesta prova?

- (A) 2,5.
- (B) 3,5.
- (C) 4,5.
- (D) 5,5.
- (E) 6,6.

QUESTÃO 16

A figura abaixo mostra um quadrado ABCD e um setor circular que passa pelos pontos BC, com centro no ponto D:



Indique a área da região sombreada sabendo que o lado do quadrado é 8 cm. Considere $\pi \approx 3$:

- (A) 64 cm^2 .
- (B) 32 cm^2 .
- (C) 24 cm^2 .
- (D) 48 cm^2 .
- (E) 16 cm^2 .

QUESTÃO 17

Leila tem duas sobrinhas cuja diferença de idade entre elas é de 3 anos. Sabendo-se que a razão entre suas idades é $6/5$, qual a idade da sobrinha mais velha de Leila?

- (A) 9.
- (B) 12.
- (C) 13.
- (D) 15.
- (E) 18.

QUESTÃO 18

Num pacote de palitos de fósforo há 8 caixas. Cada caixa contém 26 palitos. Quantos pacotes inteiros poderiam ser formados com 1000 palitos?

- (A) 6.
- (B) 5.
- (C) 4.
- (D) 3.
- (E) 2.

QUESTÃO 19

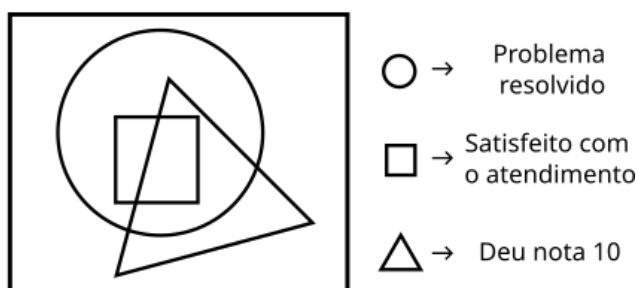
Uma empresa de prestação de serviços em informática faz uma pesquisa de satisfação com todos os seus clientes após o serviço. A empresa faz três perguntas:

I – Se o problema do cliente foi resolvido (sim ou não);

II – Se o cliente está satisfeito com o atendimento (sim ou não);

III – Qual nota o cliente dá para o atendimento (de 0 a 10).

O diagrama abaixo foi montado com base na resposta de vários clientes:

Clientes atendidos

Conforme a legenda, o círculo representa os clientes que tiveram seu problema resolvido, o quadrado representa os clientes que estão satisfeitos com o atendimento, e o triângulo representa os clientes que deram nota 10. Com base nessas informações, é possível afirmar que:

(A) Todas as pessoas que deram nota 10 para o atendimento tiveram seu problema resolvido.

(B) Todas as pessoas que estão satisfeitas com o atendimento tiveram seu problema resolvido.

(C) Todas as pessoas que estão satisfeitas com o atendimento deram nota 10.

(D) Toda as pessoas que tiveram seu problema resolvido estão satisfeitas com o atendimento.

(E) Todas as pessoas que tiveram seu problema resolvido deram nota 10 para o atendimento.

QUESTÃO 20

Um chefe de cozinha decide abrir um restaurante que vende hambúrgueres. Em cada hambúrguer ele utiliza 180 g de carne. Para fazer a carne, o chefe mistura uma carne gordurosa com uma carne magra, na proporção de 1:5, nesta ordem. Sabe-se que o preço da carne gordurosa é R\$ 15,00 por quilo, já o preço da carne magra é R\$ 55,00 por quilo. Nessa situação, quanto custa a porção de carne que ele utiliza em cada hambúrguer?

(A) R\$ 3,70.

(B) R\$ 7,00.

(C) R\$ 2,10.

(D) R\$ 1,97.

(E) R\$ 2,52.

NOÇÕES DE INFORMÁTICA**QUESTÃO 21**

Os endereços utilizados para navegar na internet geralmente são compostos por 3 partes.

Os sites que utilizam os domínios **.gov**, são sites:

(A) Educacionais.

(B) Sigilosos.

(C) Governamentais.

(D) Informais.

(E) Industriais.

QUESTÃO 22

O ícone ilustrado a seguir está associado à qual dos Browsers listados:



Fonte: 1 <https://olhardigital.com.br>

- (A) Google Chrome.
- (B) Microsoft Edge.
- (C) Mozilla.
- (D) Firefox.
- (E) Opera.

QUESTÃO 23

Utilizando o navegador de páginas Microsoft Edge, ao acionar o comando **CTRL + N** o resultado será:

- (A) A minimização da guia que está sendo visualizada.
- (B) A abertura de uma nova guia para navegação.
- (C) O retrocesso para a página anteriormente acessada.
- (D) A atualização da página que está em tela.
- (E) A exclusão total do histórico de navegação do usuário.

QUESTÃO 24

Sobre os conceitos e uso dos correios eletrônicos, marcar C para as afirmativas Certas, E para as Erradas e, após, assinalar a alternativa que apresenta a sequência CORRETA:

- () Os endereços de e-mail vêm com um "@" (arroba) logo após o nome do usuário.
 - () Um e-mail pode ser destinado para mais de uma pessoa ao mesmo tempo.
 - () Um usuário pode possuir mais de um endereço eletrônico se for conveniente.
- (A) C – C – C.
 - (B) C – C – E.
 - (C) E – C – C.
 - (D) C – E – C.
 - (E) E – E – C.

QUESTÃO 25

De acordo com as ferramentas básicas presentes nos provedores de e-mail, analisar as afirmações a seguir:

- I. Os e-mails enviados não podem ser consultados na caixa de gerenciamento de e-mails, sendo necessário aguardar a resposta do destinatário para acessá-los novamente.
- II. Alguns provedores utilizam a opção “Marcar como SPAN” para indicar que uma mensagem deve ser armazenada prioritariamente na caixa de entrada.
- III. Os provedores de e-mail disponibilizam opções para criar pastas e armazenar as mensagens de forma organizada.

Está(ão) Correto(s):

- (A) Somente o item I.
- (B) Somente o item III.
- (C) Somente os itens I e II.
- (D) Somente os itens I e III.
- (E) Todos os itens.

CONHECIMENTOS ESPECÍFICOS**QUESTÃO 26**

Em Capítulo destinado a regular o processo orçamentário, preconiza a Constituição Federal de 1988 que a iniciativa dos projetos de lei relativos ao plano plurianual, às diretrizes orçamentárias e aos orçamentos anuais é de competência:

- (A) conjunta, entre o Procurador-Geral da República e o Chefe da Defensoria Pública da União.
- (B) dos comandantes da Forças Armadas.
- (C) conjunta, entre os Presidentes da Câmara dos Deputados e do Senado Federal.
- (D) privativa do Ministro da Fazenda e Economia.
- (E) privativa do Chefe do Poder Executivo.

QUESTÃO 27

Na etapa de discussão do projeto de Lei Orçamentária Anual no Congresso Nacional, os parlamentares podem apresentar emendas. Nesse contexto, as emendas individuais ao projeto de lei orçamentária serão aprovadas no limite de _____ da receita corrente líquida do exercício anterior ao do encaminhamento do projeto, observado que _____ desse percentual será destinada a ações e serviços públicos de saúde. Assinale a alternativa que corretamente preenche as lacunas.

- (A) 1,5% (um e meio por cento) / a metade
- (B) 3% (três por cento) / a metade
- (C) 2% (dois por cento) / a metade
- (D) 2% (dois por cento) / um terço
- (E) 2% (dois por cento) / dois terços

QUESTÃO 28

“Esta Lei visa definir as diretrizes, objetivos e metas da Administração Pública para um período de quatro anos, e consagra os programas de governo tendentes a atender aos anseios da sociedade, traduzidos em metas que se verificarão através de indicadores de desempenho.” É correto afirmar que o dispositivo acima faz parte:

- (A) do Orçamento de Investimentos.
- (B) do Orçamento de Despesas de Capital.
- (C) do Plano Plurianual.
- (D) do Quadro de Detalhamento das Despesas.
- (E) do Plano de Desenvolvimento Regional.

QUESTÃO 29

Por imposição da Lei Complementar nº 101/2000, a Lei de Diretrizes Orçamentárias disporá sobre os seguintes temas, EXCETO:

- (A) equilíbrio entre receitas e despesas.
- (B) critérios e forma de limitação de empenho, a ser efetivada em caso de frustração de arrecadação.
- (C) normas relativas ao controle de custos e à avaliação dos resultados dos programas financiados com recursos dos orçamentos.
- (D) relativização de regras fiscais impostas pela LRF em caso de calamidade pública de caráter nacional decretada pelo Congresso Nacional.
- (E) condições e exigências para transferências de recursos a entidades públicas e privadas.

QUESTÃO 30

Sobre os conceitos básicos referentes ao Orçamento Público no Brasil, informe se é verdadeiro (V) ou falso (F) para o que se afirma. Em seguida, assinale a alternativa com a sequência correta.

() O prazo para encaminhamento do Projeto da LOA é idêntico para todos os entes da Federação: até seis meses antes do encerramento do exercício financeiro.

() A elaboração do Orçamento no Brasil conta com a participação do Executivo e do Legislativo, sendo, por isso, tipificado como 'misto'.

() A Lei Orçamentária Anual (LOA) é um documento uno que compreende três esferas: fiscal, da seguridade social e de investimento das empresas controladas pelo Poder Público.

(A) F – V – F.

(B) F – V – V.

(C) V – V – F.

(D) V – F – V.

(E) F – F – V.

QUESTÃO 31

Uma das funções típicas atribuídas ao Orçamento Moderno é aquela através da qual o Estado tenta reduzir desigualdades, através da tributação progressiva e de programas de transferência de renda mínima, subsídios e incentivos fiscais. A função em apreço é denominada pela doutrina:

(A) agregadora.

(B) social.

(C) de equidade.

(D) distributiva.

(E) alocativa.

QUESTÃO 32

Os créditos da Fazenda Pública, de natureza tributária ou não, exigíveis pelo transcurso do prazo para pagamento, serão inscritos, na forma da legislação própria, como Dívida Ativa. Nos termos da vigente legislação, esses valores deverão ser escriturados como receita orçamentária:

(A) no exercício em que forem arrecadados.

(B) no exercício em que tiverem sido previstos na Lei Orçamentária.

(C) no exercício em que forem lançados.

(D) no exercício em que forem inscritos como Dívida Ativa.

(E) no exercício anterior ao do lançamento.

QUESTÃO 33

Sobre os créditos adicionais, podemos afirmar que são ferramentas destinadas a promover alterações na Lei Orçamentária Anual, diante de imprevistos ou situações excepcionais. A modalidade que se destina ao reforço de dotação orçamentária já existente é denominada crédito adicional:

(A) marginal.

(B) aditivo.

(C) complementar.

(D) suplementar.

(E) especial.

QUESTÃO 34

ATENÇÃO! Para resolução das próximas CINCO questões, considere as informações a seguir, relativas à execução orçamentária do Município de Cruz da Serra, exercício financeiro de 2023.

Receitas Orçamentárias	Previsão	Arrecadação
Transferências de Capital	110.000,00	110.000,00
Receita de Contribuições	25.000,00	20.000,00
Receita de Serviços	45.000,00	31.000,00
Operações de Crédito	125.000,00	120.000,00
Impostos, Taxas e Contribuições de Melhoria	225.000,00	287.000,00
Amortização de Empréstimos	75.000,00	70.000,00
Receitas Agropecuárias	35.000,00	49.000,00
Alienação de Bens	115.000,00	110.000,00
Receita Patrimonial	65.000,00	72.000,00

Despesas Orçamentárias	Fixadas	Empenhadas e Liquidadas	Pagas
Investimentos	120.000,00	108.000,00	105.000,00
Inversões Financeiras	55.000,00	49.500,00	46.500,00
Pessoal e Encargos Sociais	220.000,00	198.000,00	195.000,00
Juros e Encargos da Dívida	80.000,00	72.000,00	69.000,00
Amortização da Dívida	180.000,00	162.000,00	159.000,00
Outras Despesas Correntes	165.000,00	148.500,00	145.500,00

Com fulcro nas informações apresentadas, é acertado afirmar que o total das Receitas Correntes arrecadadas no exercício é de:

- (A) 469.000,00.
- (B) 459.000,00.
- (C) 395.000,00.
- (D) 387.000,00.
- (E) 422.000,00.

QUESTÃO 35

O valor da Receita de Capital arrecadada no exercício de 2023 pelo Município de Cruz da Serra importa em:

- (A) 480.000,00,
- (B) 425.000,00.
- (C) 410.000,00.
- (D) 450.000,00.
- (E) 478.000,00.

QUESTÃO 36

O valor da Despesa Corrente empenhada no exercício de 2023 importa em:

- (A) 409.500,00.
- (B) 465.000,00.
- (C) 427.500,00.
- (D) 395.500,00.
- (E) 418.500,00.

QUESTÃO 37

É correto afirmar que, no exercício financeiro de 2023, o Município de Cruz da Serra pagou Despesas de Capital no importe de:

- (A) 319.500,00.
- (B) 332.500,00.
- (C) 305.000,00.
- (D) 298.500,00.
- (E) 312.000,00.

QUESTÃO 38

Ao final do exercício de 2023, houve inscrição de despesas em Restos a Pagar Processados no valor de:

- (A) 25.000,00.
- (B) 28.000,00.
- (C) 20.000,00.
- (D) 18.000,00.
- (E) 15.000,00.

QUESTÃO 39

Com fulcro na atual legislação de regência do tema, informe se é verdadeiro (V) ou falso (F) para o que se afirma a seguir acerca do regime de adiantamento (ou suprimento de fundos).

() Em função de suas características peculiares, dispensa as etapas de empenho e liquidação da despesa.

() É aplicável aos casos de despesas expressamente definidos em lei de cada ente da Federação.

() É expressamente vedada sua aplicação em Despesas de Capital.

(A) F – V – F.

(B) F – V – V.

(C) V – V – F.

(D) V – F – V.

(E) F – F – F.

QUESTÃO 40

Além do Quadro Principal, destinado a evidenciar os ativos e passivos sobre a ótica dos prazos de conversibilidade ou exigibilidade, devem acompanhar o Balanço Patrimonial os seguintes:

I. Quadro das Contas de Compensação (controle).

II. Quadro dos Ativos e Passivos Financeiros e Permanentes.

III. Quadro das Transferências Concedidas.

IV. Quadro da Execução dos Restos a Pagar Não-Processados.

Está correto o que se afirma em:

(A) I e III, apenas.

(B) II e III, apenas.

(C) I e IV, apenas.

(D) I e II, apenas.

(E) II e IV, apenas.

QUESTÃO 41

Dentre as opções elencadas abaixo, assinale aquela que **NÃO** integra a Administração Direta de um ente da federação.

(A) Tribunal de Contas do Estado.

(B) Empresa Estadual de Viação e Transportes.

(C) Secretaria Estadual da Fazenda e Economia.

(D) Defensoria Pública da União.

(E) Ministério Público Federal.

QUESTÃO 42

Fenômeno através do qual a Administração Direta transfere parte de suas competências ou funções para novas entidades autônomas criadas para tanto, com o objetivo de promover uma maior eficiência na prestação de serviços públicos. Trata-se da:

(A) delegação.

(B) desconcentração.

(C) descentralização.

(D) outorga.

(E) atribuição.

QUESTÃO 43

Imagine que um particular que tenha celebrado um contrato administrativo com o poder público incorra em alguma irregularidade na execução desse contrato e a ele seja aplicada uma sanção administrativa. A sanção em apreço tem fundamento no:

(A) Poder Hierárquico.

(B) Poder Regulamentar.

(C) Poder Vinculado.

(D) Poder Disciplinar.

(E) Poder de Polícia.

QUESTÃO 44

Princípio Administrativo orientador da atividade estatal, expressamente previsto no art. 37 da Constituição de 1988, que consagra que o fim último do desempenho das atribuições dos agentes públicos seja o interesse público, sendo vedada a atuação com interesses a ele alheios.

Trata-se do:

- (A) Princípio da Conformidade.
- (B) Princípio da Moralidade.
- (C) Princípio da Publicidade.
- (D) Princípio da Eficiência.
- (E) Princípio da Impessoalidade.

QUESTÃO 45

São os chamados “elementos” ou “requisitos” do ato administrativo, os adiante elencados, À EXCEÇÃO DE:

- (A) Forma.
- (B) Obrigatoriedade.
- (C) Finalidade.
- (D) Motivo.
- (E) Competência.

QUESTÃO 46

Conforme prevê a Lei nº 14.133/2021, é dispensável a licitação para contratação dos objetos a seguir elencados, EXCETO:

- (A) produtos padronizados de especificações usuais de mercado, com vasta gama de fornecedores em potencial.
- (B) produtos para pesquisa e desenvolvimento, limitada a contratação, no caso de obras e serviços de engenharia, ao valor de R\$ 300.000,00 (trezentos mil reais).
- (C) transferência de tecnologia ou licenciamento de direito de uso ou de exploração de criação protegida, nas contratações realizadas por instituição científica, tecnológica e de inovação (ICT) pública ou por agência de fomento, desde que demonstrada vantagem para a Administração.
- (D) hortifrutigranjeiros, pães e outros gêneros perecíveis, no período necessário para a realização dos processos licitatórios correspondentes, hipótese em que a contratação será realizada diretamente com base no preço do dia.
- (E) bens ou serviços produzidos ou prestados no País que envolvam, cumulativamente, alta complexidade tecnológica e defesa nacional.

QUESTÃO 47

No caso de contratação que envolva mercados fluidos, em que a flutuação constante do valor da prestação e das condições de contratação inviabiliza a seleção de agente por meio de processo de licitação, a Lei nº 14.133/2021 define que poderá ser utilizado um instrumento auxiliar nominado:

- (A) Termo de Referência.
- (B) Pré-Qualificação.
- (C) Registro de Preços.
- (D) Chamamento Público.
- (E) Credenciamento.

QUESTÃO 48

A Nova Lei de Licitações - Lei nº 14.133/2021 - prevê casos de contratação direta, ou seja, hipóteses em que o Contrato Administrativo é celebrado sem a realização de prévio procedimento licitatório. Sobre o tema, assinale a alternativa correta:

- (A) No caso de compras de bens e serviços comuns (não relacionados a obras e serviços de engenharia), é dispensável a licitação para contratação que envolva valores inferiores a R\$ 100.000,00 (cem mil reais).
- (B) Em casos de emergência ou calamidade pública este tipo de contratação é permitido, sendo desnecessário instruir o processo com a razão da escolha do contratado e a justificativa de preço.
- (C) É inexigível a licitação quando inviável a competição, em especial nos casos de aquisição ou locação de imóvel cujas características de instalações e de localização tornem necessária sua escolha pela Administração Pública.
- (D) Os casos de inexigibilidade de licitação são taxativamente enumerados pela Lei, ou seja, não há possibilidade de aplicação desta modalidade de contratação direta para outras hipóteses além das previstas no art. 74.
- (E) É dispensável a licitação para contratação de profissional do setor artístico, diretamente ou por meio de empresário exclusivo, desde que consagrado pela crítica especializada ou pela opinião pública.

QUESTÃO 49

À luz das disposições da Lei nº 14.133/2021 – a Nova Lei de Licitações e Contratos Administrativos –, informe se é verdadeiro (V) ou falso (F) para o que se afirma a seguir.

() Para fins de habilitação econômico-financeira, pode a Administração Pública exigir dos licitantes a apresentação de quaisquer índices contábeis de avaliação citados na doutrina especializada, mesmo que não usualmente adotados.

() A aquisição de materiais, de equipamentos ou de gêneros ou contratação de serviços que só possam ser fornecidos por produtor, empresa ou representante comercial exclusivos é uma hipótese em que a Lei permite a contratação direta.

() Para a contratação de serviços de treinamento e aperfeiçoamento de pessoal com profissionais de notória especialização, deverá ser conduzida licitação na modalidade Concurso.

A sequência está correta em:

- (A) F – V – F.
- (B) V – F – V.
- (C) V – V – F.
- (D) F – F – F.
- (E) F – F – V.

QUESTÃO 50

O Executivo Municipal de Grande Serra almeja firmar contrato para serviços de mão-de-obra mecânica, voltados à manutenção da frota de ambulâncias da Secretaria da Saúde. Considerando o histórico de despesas anuais desses veículos, estima-se que o montante total do contrato seja aproximadamente R\$ 95.000,00 no ano de 2023. Diante desse cenário e de acordo com a Lei nº 14.133/2021, é apropriado afirmar que:

(A) ante o valor envolvido, o procedimento adequado é instaurar licitação na modalidade Tomada de Preços.

(B) a licitação poderá ser dispensada, uma vez que o limite anual definido pela Lei para este objeto contratual é superior ao valor estimado da contratação.

(C) é vedada a adoção de qualquer procedimento de contratação direta, devendo a administração licitar na modalidade Pregão.

(D) contratação em apreço deverá ser levada a efeito após a condução de procedimento licitatório na modalidade Concorrência.

(E) De acordo com o caso descrito, trata-se de hipótese de Inexigibilidade de Licitação.

