

AVANÇASP



CÂMARA MUNICIPAL DE RIO GRANDE
DA SERRA

CONCURSO PÚBLICO
01/2024

CONTADOR

Leia atentamente as instruções abaixo

1. PROVA E FOLHA DE RESPOSTAS

Além deste Caderno de Prova, contendo 50 (cinquenta) questões objetivas, você receberá do Fiscal de Sala:

- 01 (uma) Folha de Respostas destinada às respostas das questões objetivas. Confira se seus dados estão corretos.

2. TEMPO

- 03 (três) horas é o tempo disponível para realização da prova, já incluído o tempo para marcação da Folha de Respostas da prova objetiva;

- **01 (uma) hora** após o início da prova é possível, retirar-se da sala levando o caderno de prova;

3. INFORMAÇÕES GERAIS

- As questões objetivas têm 05 (cinco) alternativas de resposta (A, B, C, D, E) e somente **uma** delas está correta;

- Verifique se seu caderno está completo, sem repetição de questões ou falhas. Caso contrário, informe imediatamente o Fiscal da Sala, para que sejam tomadas as devidas providências;

- Confira seus dados pessoais na Folha de Respostas, especialmente nome, número de inscrição e documento de identidade e leia atentamente as instruções para preenchimento;

- O preenchimento das respostas da prova objetiva é de sua responsabilidade e não será permitida a troca de Folha de Respostas em caso de erro de marcação pelo candidato;

- Marque, na folha de respostas, com caneta de tinta azul ou preta, a letra correspondente à alternativa que você escolheu.

- Reserve tempo suficiente para o preenchimento de suas respostas. Para fins de avaliação, serão levadas em consideração apenas as marcações realizadas na Folha de Respostas da prova objetiva, não sendo permitido anotar informações relativas às respostas em qualquer outro meio que não seja o caderno de prova;

- Ao se retirar, entregue a Folha de Respostas preenchida e assinada ao Fiscal de Sala.

SERÁ ELIMINADO do presente certame o candidato que:

- a) for surpreendido, durante as provas, em qualquer tipo de comunicação com outro candidato;

- b) portar ou usar, qualquer tipo de aparelho eletrônico (calculadoras, bips/pagers, câmeras fotográficas, filmadoras, telefones celulares, smartphones, tablets, relógios, walkmans, MP3 players, fones de ouvido, agendas eletrônicas, notebooks, palmtops ou qualquer outro tipo de computador portátil, receptores ou gravadores) seja na sala de prova, sanitários, pátios ou qualquer outra dependência do local de prova;

- c) se ausentar da sala em que se realizam as provas levando consigo o Caderno de Questões e/ou a Folha de Respostas;

- d) se recusar a entregar a Folha de Respostas, quando terminar o tempo estabelecido;

- e) não assinar a Lista de Presença e/ou a Folha de Respostas.

LÍNGUA PORTUGUESA
TEXTO

Leia o texto para responder às questões de 1 a 5.

Timidez

Sou um tímido veterano e posso dar conselhos aos que estão recém descobrindo o martírio de enfrentar esse terror, os outros, e a obrigação de se fazer ouvir, ter amigos, namorar, procriar e, enfim, viver, quando preferia ficar quieto em casa. Ou, de preferência, no útero.

Algumas coisas não funcionam. Já tentei várias maneiras de conviver com minha timidez e nenhuma deu certo. Decorar frases, por exemplo. Já fui com uma frase pronta para impressionar a menina e na hora saiu “Teus verdes são como dois olhos, lagoa”. Também resista à tentação de assumir um ar superior e dar a impressão de que você não é tímido, é misterioso.

Eu sou do tempo em que se usava chaveiro com correntinha (além de tope e topete, tope de gravata enorme e topete duro de Gumex) e ficava girando a correntinha no dedo, enquanto examinava as garotas na saída das matinês (eu sou do tempo das saídas de matinês). Um dia uma garota veio falar comigo, ou ver de perto o que mantinha meu topete em pé, foi atingida pela hélice da correntinha e saiu furiosa. Melhor, porque eu não tinha nenhuma fala pronta, o que dirá misteriosa, que correspondesse à pose.

Evite manobras calhordas, como identificar alguém tão tímido quanto você no grupo e quando, por sacanagem, lhe passarem a palavra, passar a palavra imediatamente para ele. O mínimo que um tímido espera de outro é solidariedade. E não há momento mais temido na vida de um tímido do que quando lhe passam a palavra.

Tente se convencer de que você não é o alvo de todos os olhares e de todas as expectativas de vexame quando entra em qualquer recinto. Porque, no fundo, a timidez é uma forma extrema de vaidade, pois é a certeza de que, onde o tímido estiver, ele é o centro das atenções, o que torna quase inevitável que errará a cadeira e sentará no chão, ou no colo da anfitriã.

Convença-se, o mundo não está só esperando para ver qual é a próxima que você vai aprontar. E mire-se no meu exemplo. Depois que aposentei a correntinha e (suspiro) perdi o topete, namorei, casei, procriei, fiz amigos, vivi e hoje até faço palestras, ou coisas parecidas. Mesmo com o secreto e permanente desejo, é verdade, de não estar ali, mas quieto em casa.

VERISSIMO, L. F. *Verissimo antológico*: meio século de crônicas, ou coisa parecida. São Paulo: Objetiva, 2020.

QUESTÃO 01

Além dos relatos de experiências com sua timidez, o narrador fornece diversos conselhos, com verbos no modo imperativo, que conferem ao texto caráter:

- (A) narrativo.
- (B) descritivo.
- (C) dissertativo.
- (D) expositivo.
- (E) injuntivo.

QUESTÃO 02

Em relação à sentença anterior, a frase “Mesmo com o secreto e permanente desejo, é verdade, de não estar ali, mas quieto em casa.” exprime um sentido:

- (A) comparativo.
- (B) adversativo.
- (C) condicional.
- (D) concessivo.
- (E) causal.

Considere o excerto a seguir para responder às questões de 3 a 5:

Evite manobras calhordas, como identificar alguém tão tímido quanto você no grupo e quando, por sacanagem, lhe passarem a palavra, passar a palavra imediatamente para ele.

QUESTÃO 03

A palavra “calhordas”, que ocorre no excerto indicado, exprime o mesmo sentido que:

- (A) difíceis.
- (B) mirabolantes.
- (C) desprezíveis.
- (D) complexas.
- (E) inteligentes.

QUESTÃO 04

O papel sintático desempenhado pelo pronome “ele”, empregado ao final do excerto indicado, permite classificá-lo gramaticalmente como:

- (A) pronome pessoal do caso reto.
- (B) pronome pessoal oblíquo átono.
- (C) pronome pessoal oblíquo tônico.
- (D) pronome relativo.
- (E) pronome possessivo.

QUESTÃO 05

O sentido e a regência do verbo “passar”, empregado em “(...) passar a palavra imediatamente para ele.”, permitem, além do uso da preposição “para”, o emprego da preposição de valor equivalente:

- (A) de.
- (B) a.
- (C) com.
- (D) por.
- (E) sob.

QUESTÃO 06

Analise as sentenças a seguir e assinale a alternativa em que a palavra em destaque é sinônimo da respectiva palavra entre parênteses posta ao fim da sentença.

- (A) O **esmorecimento** de Maria foi presenciado por todos que ali estavam. (*desfalecimento*)
- (B) As provas do crime estão no mais **recôndito** lugar do bosque. (*aparente*)
- (C) Ninguém suportava visitar aquele lugar, de tão **fétido** que era. (*inolente*)
- (D) Seus hábitos são muito **salutíferos**. (*insalubres*)
- (E) Demonstrava uma conduta **zelosa** no trânsito. (*negligente*)

QUESTÃO 07

Analise as sentenças a seguir e assinale a alternativa em que **não** ocorre desvio ortográfico.

- (A) Suporta-lo-ia se fosse treinado para isso.
- (B) Trouxe o carro para que eu pudesse abastece-lo.
- (C) Devia uma tarefa e não foi capaz de conclui-la a tempo.
- (D) Era preciso adverti-la para não entrar no lago.
- (E) Negociá-lo-íamos, quando tivéssemos o aval do empresário.

QUESTÃO 08

Analise as palavras a seguir e assinale a alternativa em que o emprego do hífen está incorreto.

- (A) dente-de-leão.
- (B) marca-d'água.
- (C) arco-da-velha.
- (D) cor-de-rosa.
- (E) faz-de-conta.

QUESTÃO 09

Analise as sentenças a seguir e assinale a alternativa em que a colocação pronominal está incorreta.

- (A) Eles negar-te-ão tudo aquilo que perguntar.
 (B) Ana lhe estava falando a respeito dos trabalhos da faculdade.
 (C) Há de acostumar-se com essa situação.
 (D) Os familiares sempre tratavam-na bem.
 (E) Quanto dinheiro lhe devo?

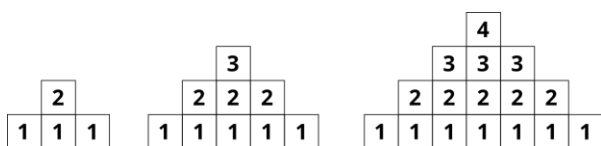
QUESTÃO 10

Analise os pares de palavras indicados a seguir. Assinale a alternativa em que se verificam parônimos.

- (A) flor – pétala.
 (B) emergir – imergir.
 (C) embevecido – extasiado.
 (D) cáldido – álgido.
 (E) polêmico – sistêmico.

MATEMÁTICA E RACIOCÍNIO LÓGICO**QUESTÃO 11**

Observe a seguinte sequência lógica figural feita com quadrados enumerados:



No primeiro elemento dessa sequência, a soma dos números dos seus quadrados resulta em 5. Qual será a soma dos números dos quadrados do 6º elemento?

- (A) 140.
 (B) 132.
 (C) 190.
 (D) 202.
 (E) 120.

QUESTÃO 12

Um estudante está comparando a eficiência ambiental de alguns meios de transportes. Durante sua pesquisa, ele descobriu que um avião cargueiro consegue transportar 50 toneladas de carga durante uma viagem, e numa viagem de 2000 km, ele emite 20 toneladas de CO₂ na atmosfera. Já um caminhão consegue transportar 10 toneladas de carga, e numa viagem de 500 km, emite 0,5 tonelada de CO₂ na atmosfera. O estudante criou uma quantidade chamada de ‘poluência’ para um dado meio de transporte, que é a quantidade de CO₂ emitido por quilômetro percorrido por tonelada transportada. Neste caso, a razão entre a ‘poluência’ do avião cargueiro e do caminhão é:

- (A) 10.
 (B) 5.
 (C) 2.
 (D) 0,5.
 (E) 0,25.

QUESTÃO 13

Se uma torneira despeja 0,1 litro de água a cada segundo, quantos litros a torneira terá despejado em 12 horas?

- (A) 4320.
 (B) 5670.
 (C) 1200.
 (D) 3450.
 (E) 4560.

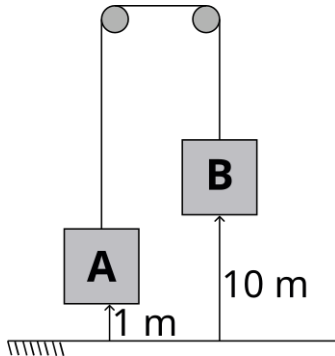
QUESTÃO 14

Nove amigos compraram 9 caixas de picolés. Algumas caixas tinham 5 picolés, outras tinham 8 picolés. Todos os amigos comeram 6 picolés, e não sobrou nenhum nas caixas. Quantas caixas tinham com 8 picolés?

- (A) 2.
 (B) 3.
 (C) 4.
 (D) 5.
 (E) 6.

QUESTÃO 15

A figura abaixo mostra dois pesos A e B pendurados por uma roldana, e suas respectivas alturas:



A corda que segura os pesos não se estica. A altura do peso A é 1 m, conforme a figura. Se o peso A for levantado até a altura de 5 metros, quanto deve ficar a altura do peso B?

- (A) 4.
- (B) 5.
- (C) 6.
- (D) 7.
- (E) 8.

QUESTÃO 16

Num determinado mês, Carmen usou seu capital para fazer uma aplicação num sistema de juro simples, com taxa de juro de 2% ao mês. Neste mesmo mês, Guilherme também fez uma aplicação a juro simples, mas ele só tinha metade do capital inicial de Carmen, porém ele conseguiu uma taxa de juro bastante atrativa. Ele calculou que: dadas as condições, em 24 meses após aquela data, ele iria ter o mesmo montante que Carmen. Nesta situação, qual foi a taxa de juro oferecida à Guilherme, aproximadamente?

- (A) 6,12%.
- (B) 8,17%.
- (C) 9,66%.
- (D) 11,1%.
- (E) 12,7%.

QUESTÃO 17

Certo mês numa loja de sapatos, 60% das vendas da loja foram feitas pelos vendedores homens e 40% pelas vendedoras mulheres. No mês seguinte se verificou que as vendedoras mulheres tiveram um aumento de 30% nas vendas, enquanto os vendedores homens tiveram um aumento de 20%. Qual foi o aumento de vendas da loja no geral neste mês?

- (A) 28%.
- (B) 26%.
- (C) 22%.
- (D) 24%.
- (E) 25%.

QUESTÃO 18

Um mapa é construído numa escala de 1:50000. Isto é, uma distância de 1 cm no mapa representa uma distância de 50.000 cm no terreno (real). Se a distância entre dois pontos nesse mapa é 2 cm, qual a distância real entre esses dois pontos?

- (A) 2 km.
- (B) 10 km.
- (C) 200 metros.
- (D) 100 metros.
- (E) 1 km.

QUESTÃO 19

Uma pequena empresa de pintura está medindo a produtividade dos seus 5 funcionários. A tabela abaixo mostra quantos metros quadrados cada pintor consegue pintar por hora:

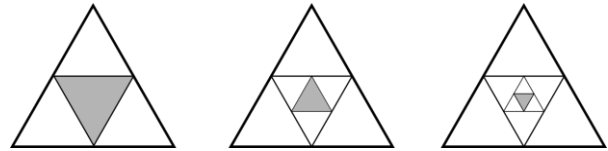
Pintor	Metros quadrados pintados por hora
A	4
B	6
C	7
D	9
E	4

A empresa decide criar uma nova equipe e vai trocar seus dois pintores menos produtivos, por outros dois que produzem $5 \text{ m}^2/\text{h}$. Numa obra em que devem ser pintados 1200 metros quadrados no total, quantas horas a menos a nova equipe terminará o serviço comparado com a equipe anterior, supondo que todos os pintores trabalharão simultaneamente e pelo mesmo número de horas?

- (A) 6,0.
- (B) 4,5.
- (C) 1,5.
- (D) 2,5.
- (E) 3,0.

QUESTÃO 20

Observe a sequência figural a seguir, feita com triângulos equiláteros de mesmo tamanho, e internamente a eles são colocados outros triângulos também equiláteros, com metade do lado.



Indique a razão entre a área da região sombreada e a área total (triângulo mais externo) do 4º elemento desta sequência:

- (A) $1/512$.
- (B) $1/1024$.
- (C) $1/128$.
- (D) $1/64$.
- (E) $1/256$.

NOÇÕES DE INFORMÁTICA**QUESTÃO 21**

Os endereços utilizados para navegar na internet Para envio de e-mails com ficheiros grandes em seu conteúdo, recomenda-se:

- (A) Colocar todos os destinatários da mensagem no campo CCO,
- (B) Colocar todos os destinatários da mensagem no campo CC,
- (C) Unificar todos os arquivos na extensão EXE e enviar sem fazer a compactação dos documentos.
- (D) Compactar\comprimir os ficheiros e anexá-los na mensagem antes do envio.
- (E) Fazer o envio individualmente para todos os destinatários, reduzindo o tempo de recebimento da mensagem.

QUESTÃO 22

Considerando as ferramentas disponíveis no Microsoft Word 2016, marcar C para as afirmativas Certas, E para as Erradas e, após, assinalar a alternativa que apresenta a sequência CORRETA:

- () O Microsoft Word 2016 é o principal programa da Microsoft para elaboração de tabelas dinâmicas.
- () O Microsoft Word 2016 possibilita que o usuário faça uma revisão ortográfica em suas redações, facilitando eventuais correções no seu texto.
- () O Microsoft Word 2016 não permite a inserção de imagens em suas páginas e textos.
- (A) C – C – C.
- (B) C – C – E.
- (C) E – C – C.
- (D) E – C – E.
- (E) E – E – C.

QUESTÃO 23

Para alterar o plano de fundo de uma página do Microsoft Word 2016 utilizando o menu do programa, o usuário deve acessar a guia:

- (A) Design.
- (B) Inserir.
- (C) Subdividir.
- (D) Realçar.
- (E) Exibir.

QUESTÃO 24

No Microsoft Excel 2016, ao cruzamento de uma coluna com uma linha dá-se o nome de:

- (A) Ponte.
- (B) Fixo.
- (C) Eixo.
- (D) Célula.
- (E) Fonte.

QUESTÃO 25

Com relação aos operadores aritméticos presentes no Microsoft Excel 2016, é correto afirmar que:

- (A) – (sinal de menos) é utilizado para efetuar operações de adição.
- (B) * (asterisco) é utilizado para efetuar operações de divisão.
- (C) % (sinal de porcentagem) é utilizado para efetuar operações de divisão.
- (D) O ^ (acento circunflexo) é utilizado em operações de exponenciação.
- (E) O > (sinal de maior) é utilizado em operações de comparação.

CONHECIMENTOS ESPECÍFICOS

ATENÇÃO! Para resolução das próximas **QUATRO** questões, considere as informações a seguir.

- No início de março de 2023, determinada empresa comercial possuía em estoque 200 unidades do produto “X”, seu único produto comercializado, registrado ao custo unitário de R\$ 400,00.
- Em 05/03/2023, a empresa adquiriu mais 100 unidades do produto “X”, com o valor total da Nota Fiscal de R\$ 55.000,00. Nessa transação, incidiu IPI de 10%, calculado separadamente na Nota Fiscal, e ICMS à alíquota interna de 12%.
- Em 24/03/2023, a empresa realizou uma significativa venda de 250 unidades do produto “X” por um valor total de R\$ 170.000,00. Devido à importância do cliente, foi concedido um desconto incondicional de 10%. Nessa operação de venda houve a incidência de ICMS à alíquota de 18%.

QUESTÃO 26

Com base nos dados, é correto afirmar que o Custo das Mercadorias Vendidas em 24/03/2023, apurado com base na metodologia PEPS (primeiro que entra, primeiro que sai) é de:

- (A) R\$ 102.250,00.
- (B) R\$ 105.450,00.
- (C) R\$ 108.500,00.
- (D) R\$ 105.000,00.
- (E) R\$ 104.500,00.

QUESTÃO 27

A Receita Líquida de Vendas auferida pela referida empresa no mês de março/2023 equivale a:

- (A) R\$ 128.760,00.
- (B) R\$ 142.460,00.
- (C) R\$ 122.400,00.
- (D) R\$ 125.460,00.
- (E) R\$ 132.400,00.

QUESTÃO 28

Ao final do mês de março/2023, em decorrência das operações mencionadas, é correto afirmar que a empresa em questão evidenciará em seu Balanço Patrimonial um saldo de ICMS a recolher, no montante de:

- (A) R\$ 27.540,00.
- (B) R\$ 24.260,00.
- (C) R\$ 21.540,00.
- (D) R\$ 30.260,00.
- (E) R\$ 31.720,00.

QUESTÃO 29

Com base nos dados, o Resultado com Mercadorias do mês de março/2023 foi de:

- (A) R\$ 20.460,00.
- (B) R\$ 20.960,00.
- (C) R\$ 24.600,00.
- (D) R\$ 22.400,00.
- (E) R\$ 17.960,00.

QUESTÃO 30

IMPORTANTE! Para resolução das próximas **TRÊS**, considere os dados a seguir.

- A Ferromínio Ltda. é uma empresa industrial que fabrica e vende um único modelo de produto: a janela *Visão*.
- Suponha que no exercício de 2022 a empresa não detinha estoque inicial e que tenha produzido e vendido 200 janelas pelo preço unitário de R\$ 275,00.
- Suponha que os custos e despesas incorridos no período tenham sido: Despesas Fixas R\$ 15.000,00; Custos Variáveis/un. R\$ 50,00; Custos Fixos R\$ 18.000,00; Despesas Variáveis/un. R\$ 25,00.

Com base nos dados informados, assinale a alternativa que representa a Margem de Contribuição Total da Ferromínio Ltda. em 2022:

- (A) R\$ 55.000,00.
- (B) R\$ 40.000,00.
- (C) R\$ 42.500,00.
- (D) R\$ 45.000,00.
- (E) R\$ 47.500,00.

QUESTÃO 31

De acordo com as informações, é correto afirmar que o ponto de equilíbrio contábil da Ferromínio Ltda. é, em unidades, de:

- (A) 150.
- (B) 155.
- (C) 160.
- (D) 170.
- (E) 165.

QUESTÃO 32

Com base nos números fornecidos, é correto afirmar que a Ferromínio Ltda. dispõe de uma margem de segurança de:

- (A) R\$ 5.000,00.
- (B) R\$ 6.000,00.
- (C) R\$ 7.000,00.
- (D) R\$ 8.000,00.
- (E) R\$ 9.000,00.

QUESTÃO 33

IMPORTANTE! Para resolução das próximas **TRÊS**, considere os dados a seguir.

Suponha que, no encerramento do exercício de 2023, a Cia. Metropolis tem um Índice de Liquidez Corrente de 1,75. Na mesma data, seu Ativo Total é de 800.000,00, e seu índice de Endividamento Geral é de 0,7. Ainda, sabe-se que o Passivo Circulante é de 250.000,00.

Com base nos dados fornecidos, assinale a alternativa que indica o valor do Ativo Circulante da Cia. Metropolis.

- (A) 377.500,00.
- (B) 437.500,00.
- (C) 517.500,00.
- (D) 467.500,00.
- (E) 515.500,00.

QUESTÃO 34

No encerramento do exercício social, o Passivo Não-Circulante da Cia. Metropolis era de:

- (A) 290.000,00.
- (B) 300.000,00.
- (C) 310.000,00.
- (D) 330.000,00.
- (E) 270.000,00.

QUESTÃO 35

É correto afirmar que, em 31/12/2023, o valor do Patrimônio Líquido da Cia. Metropolis importava em:

- (A) 240.000,00.
- (B) 320.000,00.
- (C) 280.000,00.
- (D) 340.000,00.
- (E) 360.000,00.

QUESTÃO 36

Considerando um plano de contas típico de uma sociedade por ações, assinale a única conta patrimonial dentre as listadas a seguir que é classificada no grupo 'Patrimônio Líquido':

- (A) Ajuste a Valor Presente de Vendas.
- (B) Perdas Estimadas com Créditos de Liquidação Duvidosa.
- (C) Dividendos a Pagar.
- (D) Ajustes de Avaliação Patrimonial.
- (E) Ajuste ao Valor recuperável de Ativo Intangível.

QUESTÃO 37

Arquimedes é sócio proprietário da Dream Big Ltda., empresa familiar fundada por seu avô. Como não há outros sócios, Arquimedes tem o hábito de receber cheques de clientes devidos à empresa e depositar em sua conta corrente pessoal. É certo afirmar que a prática descrita viola o Princípio Contábil:

- (A) da Oportunidade.
- (B) da Competência.
- (C) da Entidade.
- (D) da Continuidade.
- (E) da Prudência.

QUESTÃO 38

A receita e a despesa orçamentária comportam vários tipos de classificação, cada qual destinada a fornecer um tipo de informação ao leitor das peças orçamentárias e das demonstrações contábeis. Dentre elas, uma em específico segrega as receitas públicas entre livres, quando não há regras específicas ligadas à sua aplicação, ou vinculadas, quando, por força normativa os recursos ficam atrelados a determinado objetivo. Trata-se da denominada classificação:

- (A) por fato gerador.
- (B) por fonte/destinação de recursos.
- (C) de apuração de resultado fiscal.
- (D) institucional.
- (E) programática.

QUESTÃO 39

Na Contabilidade Aplicada ao Setor Público no Brasil há um regime contábil específico, estabelecido pela vigente legislação do Conselho Federal de Contabilidade, para reconhecimento das variações patrimoniais quantitativas, estas entendidas como fatos capazes de alterar o valor do patrimônio líquido do ente. Trata-se do regime:

- (A) de caixa.
- (B) de competência.
- (C) misto.
- (D) de base modificada.
- (E) aleatório.

QUESTÃO 40

De acordo com a LRF (Lei Complementar nº 101/2000), nos termos em que dispuser a lei de diretrizes orçamentárias, o Poder Executivo estabelecerá a programação financeira e o cronograma de execução mensal de desembolso no prazo de:

- (A) até trinta dias após a aprovação dos orçamentos.
- (B) até trinta dias após o início do exercício financeiro.
- (C) até quarenta e cinco dias após a publicação dos orçamentos.
- (D) até trinta dias após a publicação dos orçamentos.
- (E) até quarenta e cinco dias após o início do exercício financeiro.

QUESTÃO 41

Em dezembro de 2023, o Município de Fonte Viva efetuou o pagamento da folha de pessoal, retendo o Imposto de Renda na fonte, no valor total de R\$ 250.000,00. De acordo com o atual regramento contábil, tal receita deverá ser classificada, sob a ótica da natureza, como:

- (A) uma receita extraorçamentária, pois o Imposto de Renda é de pertencente à União e deve ser a ela repassado.
- (B) uma receita orçamentária corrente, da origem 'Outras Receitas Correntes'.
- (C) uma receita orçamentária corrente, da origem 'Transferências Correntes'.
- (D) uma receita orçamentária de capital, da origem 'Transferências de Capital'.
- (E) uma receita orçamentária corrente, da origem 'Impostos, Taxas e Contribuições de Melhoria'.

QUESTÃO 42

Imagine que um determinado Município do Estado de São Paulo pagou, no exercício de 2022, juros sobre operações de crédito contratadas em anos anteriores, no valor de R\$ 120.000,00. Sob a ótica da classificação por natureza, é correto afirmar que esta despesa orçamentária é classificada como:

- (A) Despesa Corrente; Juros e Encargos da Dívida; Outros Encargos sobre a Dívida Mobiliária.
- (B) Despesa de Capital; Juros e Encargos da Dívida; Obrigações decorrentes de Política Monetária.
- (C) Despesa Corrente; Outras Despesas Correntes; Juros sobre a Dívida por Contrato.
- (D) Despesa Corrente; Juros e Encargos da Dívida; Juros sobre a Dívida por Contrato.
- (E) Despesa de Capital; Juros e Encargos da Dívida; Juros sobre a Dívida por Contrato.

QUESTÃO 43

Os conceitos fundamentais para a classificação programática da despesa orçamentária estão regulamentados em normativo de âmbito federal. Nos termos do referido documento, _____ é um instrumento de programação para alcançar o objetivo de um programa, envolvendo um conjunto de operações, limitadas no tempo, das quais resulta um produto que concorre para a expansão ou o aperfeiçoamento da ação de governo. Assinale a alternativa que corretamente preenche a lacuna.

- (A) Plano de Trabalho.
- (B) Atividade.
- (C) Dotação.
- (D) Crédito.
- (E) Projeto.

QUESTÃO 44

Informação gerencial que é parte da classificação por natureza da despesa orçamentária, e tem por finalidade indicar se os recursos são aplicados diretamente por órgãos ou entidades no âmbito da mesma esfera de Governo ou por outro ente da Federação e suas respectivas entidades. Indica, ainda, se os recursos serão aplicados diretamente pela unidade detentora do crédito ou mediante transferência para entidades públicas ou privadas. O enunciado está a se referir à/ao:

- (A) Repasse.
- (B) Modalidade de Aplicação.
- (C) Delegação Orçamentária.
- (D) Cota.
- (E) Código de Transferência.

QUESTÃO 45

A Lei de Responsabilidade Fiscal estipula limites para as Despesas com Pessoal dos entes da Federação, aferidos com base na Receita Corrente Líquida arrecadada no período de apuração. É correto afirmar que os limites para União, Estados e Municípios são, respectivamente, de:

- (A) 50%, 60% e 60%.
- (B) 50%, 60% e 70%.
- (C) 50%, 50% e 60%.
- (D) 60%, 60% e 60%.
- (E) 60%, 60% e 70%.

QUESTÃO 46

Na verificação aos limites definidos pela LRF com relação às Despesas de Pessoal, não serão computados os valores relativos a:

- (A) remuneração dos cargos comissionados.
- (B) remuneração adicional por horas extraordinárias de servidores efetivos.
- (C) gratificação por encargos de confiança.
- (D) incentivos à demissão voluntária.
- (E) subsídios dos Secretários Municipais.

QUESTÃO 47

Nos termos da Lei nº 14.133/2021, os órgãos e entidades da Administração Pública deverão utilizar o sistema de registro cadastral unificado disponível no Portal Nacional de Contratações Públicas (PNCP), para efeito de cadastro unificado de licitantes. Sobre o assunto, indique verdadeiro (V) ou falso (F) para o que se afirma a seguir.

() É proibida a exigência, pelo órgão ou entidade licitante, de registro cadastral complementar para acesso a edital e anexos.

() A Administração poderá realizar licitação restrita a fornecedores cadastrados, atendidos os critérios, as condições e os limites estabelecidos em regulamento, bem como a ampla publicidade dos procedimentos para o cadastramento.

() A inscrição no cadastro dispensa a apresentação de quaisquer documentos relativos a qualificação jurídica, técnica ou econômico-financeira, que apenas serão exigidos quando o fornecedor participar de licitação.

A sequência está correta em:

(A) V – V – V.

(B) F – V – F.

(C) F – F – V.

(D) V – V – F.

(E) V – F – F.

QUESTÃO 48

Preconiza a Lei nº 14.133/2021 (denominada Nova Lei de Licitações e Contratos Administrativos) que, quando for inviável a competição, a contratação poderá ser efetivada através de:

(A) Licitação Deserta.

(B) Contrato Verbal.

(C) Diálogo Competitivo.

(D) Dispensa de Licitação.

(E) Inexigibilidade de Licitação.

QUESTÃO 49

Ao desempenhar suas responsabilidades, há situações em que o administrador público possui uma margem de autonomia para decidir sobre uma questão específica, desde que esteja dentro dos limites estabelecidos pela lei. Nessas circunstâncias, o agente público tem a prerrogativa de escolher entre diversas alternativas, considerando as circunstâncias particulares do caso e os interesses envolvidos. A essa margem de liberdade em sua atuação, a doutrina denomina:

(A) Poder Hierárquico.

(B) Poder Vinculado.

(C) Poder de Polícia.

(D) Poder Discricionário.

(E) Poder Sancionador.

QUESTÃO 50

A Lei nº 8.429/1992 (e atualizações) dispõe sobre as sanções aplicáveis em decorrência da prática de atos de improbidade administrativa. Nesse contexto, são cominações aplicadas aos agentes que incorram nos atos por ela previstos, EXCETO:

(A) perda dos bens ou valores acrescidos ilicitamente ao patrimônio.

(B) perda da função pública.

(C) suspensão dos direitos políticos até 14 (catorze) anos.

(D) pagamento de multa civil equivalente ao valor do acréscimo patrimonial.

(E) reclusão de dois a doze anos, e multa.

