



DOMINGO DE TARDE

MUNICÍPIO DE CRICIÚMA/SC CONCURSOS PÚBLICOS Nº 01 E 02/2024

MOTORISTA

INSTRUÇÕES

Leia atentamente e cumpra rigorosamente as instruções que seguem, pois elas são parte integrante das provas e das normas que regem esse certame.

1. Atente-se aos avisos contidos no quadro da sala.
2. Seus pertences deverão estar armazenados dentro de embalagem específica fornecida pelo fiscal, permanecendo em sua posse somente caneta esferográfica de ponta grossa, de material transparente, com tinta preferencialmente preta, lanche e água, se houver. A utilização de qualquer material não permitido em edital é expressamente proibida, acarretando a sua imediata eliminação do certame.
3. Certifique-se de que este caderno:
 - contém 60 (sessenta) questões;
 - **refere-se ao cargo para o qual realizou a inscrição.**
4. Cada questão oferece 5 (cinco) alternativas de respostas, representadas pelas letras A, B, C, D e E, sendo apenas 1 (uma) a resposta correta.
5. Será respeitado o tempo para realização da prova conforme previsto em edital, incluindo o preenchimento da grade de respostas.
6. Os três últimos candidatos deverão retirar-se da sala de prova ao mesmo tempo, devendo assinar a Ata de Prova.
7. A responsabilidade referente à interpretação dos conteúdos das questões é exclusiva do candidato.
8. No caderno de prova, você poderá rabiscar, riscar e calcular.
9. Os gabaritos preliminares da prova objetiva serão divulgados na data descrita no Cronograma de Execução desse certame.



V1_06/03/2024 09:56:00



A dor do luto significa o legado de uma vida*Por Cíntia Moscovich*

01 Sentimento inevitável, muitas vezes duradouro e para o qual as pessoas parecem total e
02 eternamente despreparadas, o luto é uma grande zona de solidão e estranhamento. "Manual do
03 Luto", 51º livro do multitarefas Fabrício Carpinejar, é uma reunião de textos que refletem sobre
04 a impermanência, a saudade e a ausência, obra que combate de frente a noção de que a dor
05 deve ser logo substituída pelo estado de constante e...itação e aparente alegria em que o mundo
06 parece mergulhado. Fabrício ensina que a dor pode, e deve, virar memória e que isso é, em
07 verdade, o legado de uma vida.

08 A ideia de uma obra sobre a morte/luto e os sentimentos que decorrem da perda
09 começou com uma iniciativa que con...istia num grupo de cartas digitais batizado de "Clube dos
10 Corações Solidários", referência, claro, ao famoso disco dos Beatles. Logo, o grupo contava com
11 mais de 25 mil inscritos que recebiam, de forma gratuita, correspondências criadas por Fabrício e
12 que são reflexões muito elaboradas sobre o assunto. O "Manual do Luto", que, em verdade, não
13 é um manual, porque, como se sabe, ninguém ensina ninguém a sofrer ou a superar ___
14 perda — a experiência da vida é mesmo intransferível —, pode ser tomado com um lenitivo ou
15 uma companhia para quem se vê atropelado pela morte de um querido, seja pai, mãe, marido,
16 mulher, filho, filha, amigo ou o que for. Como Fabrício faz questão de lembrar, por mais que a
17 morte seja um absurdo afrontoso ___ lógica de humanidade e ao apego dos afetos, o luto que
18 dela decorre não é uma doença, e a dor do buraco cavado pela ausência pode ser transformada
19 em memória e, logo, em matéria de vida. Sem se arvorar a dar receitas de como suportar esse
20 sentimento que pode ser o mais desesperador, Carpinejar toma seu tempo e, com calma
21 afetuosa, nos conta casos. Ali está a morte de sua sogra, que ele não chegou a conhecer
22 pessoalmente, causada por uma leucemia galopante e duas outras histórias (arrepiantes e
23 belas), nas quais a intuição joga papel importante.

24 Uma das abordagens mais irônicas e pertinentes do livro é a constatação que Carpinejar
25 faz ao revelar a total falta de ...eito das pessoas para tratar com os enlutados e com suas
26 sensibilidades: "Gostaríamos que o enlutado derramasse suas lágrimas higienicamente no
27 banheiro [...], sem incomodar ___ casa com sua incontinência de alma". Talvez seja esse um
28 dos grandes lembretes do livro, o de que acompanhar os queridos em sua dor significa dar o
29 ouvido para a escuta e o ombro para conter algum arroubo de emoção. Depois é só isso mesmo:
30 depois.

(Disponível em: www.gauchazh.clicrbs.com.br/colunistas/cintia-moscovich/noticia/2023/12/a-dor-do-luto-significa-o-legado-de-uma-vida – texto adaptado especialmente para esta prova).

QUESTÃO 01 – Considerando o exposto pelo texto, analise as assertivas a seguir:

- I. A obra de Fabrício Carpinejar da qual a autora do texto fala é uma obra de ficção que apresenta uma única e longa história.
- II. A ideia de escrever o livro está ligada a um grupo cujo nome foi inspirado na frase de uma famosa banda.
- III. O autor do livro criava correspondências sobre o tema da perda, que eram enviadas para um grande número de pessoas.

Quais estão corretas?

- A) Apenas I.
- B) Apenas I e II.
- C) Apenas I e III.
- D) Apenas II e III.
- E) I, II e III.

QUESTÃO 02 – Assinale a alternativa que apresenta uma informação INCORRETA a respeito do texto.

- A) Fabrício Carpinejar é o autor do livro analisado pela autora do texto.
- B) O livro de Carpinejar pretende ensinar como ficar alegre logo após uma perda.
- C) Para Carpinejar, a dor da perda pode ser convertida em lembranças.
- D) No livro, Carpinejar conta casos em vez de oferecer fórmulas a serem seguidas pelo leitor.
- E) A forma de escrita de Carpinejar é descrita como carinhosa.

QUESTÃO 03 – Assinale a alternativa que NÃO apresenta um sentimento causado pela perda de um ente querido, de acordo com o texto.

- A) Solidão.
- B) Desconforto.
- C) Adoecimento.
- D) Desespero.
- E) Sensibilidade.

QUESTÃO 04 – Considerando a correta ortografia das palavras em Língua Portuguesa, assinale a alternativa que preenche, correta e respectivamente, as lacunas pontilhadas das linhas 05, 09 e 25.

- A) sc – s – j
- B) sc – c – j
- C) sc – c – g
- D) xc – s – g
- E) xc – s – j

QUESTÃO 05 – Considerando o emprego do acento indicativo de crase, assinale a alternativa que preenche, correta e respectivamente, as lacunas tracejadas das linhas 13, 17 e 27.

- A) à – à – à
- B) a – à – a
- C) à – a – à
- D) a – à – à
- E) à – a – a

QUESTÃO 06 – Assinale a alternativa que indica o significado correto do prefixo “in-” na palavra “incontinência” (l. 27).

- A) Abaixo da continência (controle).
- B) Acima da continência (cumprimento).
- C) Ausência de continência (cumprimento).
- D) Antes da continência (controle).
- E) Falta de continência (controle).

QUESTÃO 07 – Assinale a alternativa na qual NÃO há emprego de linguagem figurada.

- A) “em que o mundo parece mergulhado” (l. 05-06).
- B) “o grupo contava com mais de 25 mil inscritos” (l. 10-11).
- C) “para quem se vê atropelado pela morte de um querido” (l. 15).
- D) “a dor do buraco cavado pela ausência” (l. 18).
- E) “causada por uma leucemia galopante” (l. 22).

QUESTÃO 08 – Assinale a alternativa que indica uma expressão que poderia substituir corretamente “o legado” (l. 07) sem causar alterações significativas ao sentido original do trecho em que ocorre.

- A) A herança.
- B) O trabalho.
- C) A incumbência.
- D) O ofício.
- E) A tarefa.

QUESTÃO 09 – Assinale a alternativa que indica a classe de palavras à qual pertence o termo sublinhado no trecho “o luto que dela decorre não é uma doença”, retirado do texto.

- A) Substantivo.
- B) Adjetivo.
- C) Numeral.
- D) Advérbio.
- E) Verbo.

QUESTÃO 10 – Assinale a alternativa que indica uma palavra que tenha sido INCORRETAMENTE acentuada de acordo com o acordo ortográfico vigente.

- A) Anzóis.
- B) Idéias.
- C) Automóveis.
- D) Véus.
- E) Anéis.

RACIOCÍNIO LÓGICO

QUESTÃO 11 – Se meu avô tem 3 filhos e meus tios e meu pai têm 4 filhos cada, quantos primos-irmãos eu tenho?

- A) 12.
- B) 11.
- C) 10.
- D) 09.
- E) 08.

QUESTÃO 12 – Em uma pesquisa sobre como as pessoas obtêm informações sobre a realidade política mundial, verificou-se que: 110 pessoas leem notícias em jornal impresso; 240 pessoas se informam através da internet; 185 pessoas, pela televisão; 60 pessoas, pelo jornal e pela internet; 90 pessoas, pela internet e pela televisão; 30 pessoas, pela televisão e pelo jornal; 20 pessoas, pelos três meios de comunicação; e 27 pessoas disseram que não se interessam pelo assunto nem fazem questão de se informar. Quantas pessoas participaram da pesquisa?

- A) 762.
- B) 526.
- C) 418.
- D) 402.
- E) 388.

QUESTÃO 13 – Assinale a alternativa que apresenta uma proposição lógica composta.

- A) A música clássica é a música mais antiga do mundo.
- B) O número 5 é primo e múltiplo de 1.120.
- C) Ler é abrir a mente para a imaginação.
- D) $X + 5 = 84 - 79$.
- E) Quantas vagas há para o cargo de Técnico Administrativo e Ocupacional?

QUESTÃO 14 – Considere verdadeiras as premissas:

- P1: Todo aracnídeo tem seis pernas.
P2: Todos os seres de seis pernas têm asas.

A alternativa que apresenta uma conclusão que torna o argumento válido é:

- A) Algumas aranhas têm asas.
- B) Pode ser que aracnídeos tenham asas.
- C) Aranhas não têm asas.
- D) Todo aracnídeo tem asas.
- E) Nenhuma das alternativas acima.

QUESTÃO 15 – A palavra GALERIA está para o número 7185931 assim como a palavra REGALIA está para:

- A) 9751931.
- B) 8335971.
- C) 9571831.
- D) 1395817.
- E) 8571931.

QUESTÃO 16 – Entre as alternativas abaixo, qual apresenta uma contradição?

- A) Todo gato é verde.
- B) Nem estudou e nem passou.
- C) Não é caro, mas custa muito caro.
- D) Laura será aprovada ou não será aprovada no concurso.
- E) Maria é alta, e João é baixo.

QUESTÃO 17 – A negação da proposição “se Gisele for alta, então será elegante” é:

- A) Se Gisele fosse baixa, não seria elegante.
- B) Gisele é alta e não é elegante.
- C) Gisele não é alta, logo não é elegante.
- D) Gisele não é alta nem elegante.
- E) Gisele é baixa e elegante.

QUESTÃO 18 – Sejam p e q duas proposições lógicas, a frase “nem p , nem q ” pode ser escrita simbolicamente como:

- A) $p \wedge q$.
- B) $p \leftrightarrow q$.
- C) $p \vee q$.
- D) $p \rightarrow q$.
- E) $p \downarrow q$.

QUESTÃO 19 – Analise a seguinte sequência numérica: $\{42, 61, 80, 99, \dots\}$. Considerando que permaneça a mesma lei de formação de seus termos, pode-se afirmar que a diferença entre o décimo e o nono termo dessa sequência é:

- A) 19.
- B) 21.
- C) 28.
- D) 194.
- E) 213.

QUESTÃO 20 – Analise as proposições lógicas a seguir e assinale aquela que é falsa.

- A) O Brasil é pentacampeão de futebol.
- B) Todo número ímpar é primo.
- C) Um triângulo é um polígono.
- D) O número 9 é ímpar, logo é primo.
- E) $7+4 > 5$.










INFORMÁTICA

QUESTÃO 21 – No Windows 10, onde se encontra a opção para “Exibir e Gerenciar Dispositivos e Impressoras”?

- A) Painel de Controle.
- B) Gerenciador de Programas.
- C) Gerenciador de Tarefas.
- D) Controle de Hardware.
- E) Configurações do Sistema.

QUESTÃO 22 – Em seu trabalho, Ericka utiliza o Gmail como serviço de webmail. Ela está enviando um e-mail importante para sua líder. Para inserir um arquivo com o Google Drive, Ericka precisou clicar no botão _____, e por conter dados sigilosos, optou por utilizar o botão _____, referente ao modo confidencial, e selecionou a opção de senha por SMS.

Assinale a alternativa que preenche, correta e respectivamente, as lacunas do trecho acima.

- A)  _ 
- B)  _ 
- C)  _ 
- D)  _ 
- E)  _ 

QUESTÃO 23 – Considerando o Gmail, analise a Figura 1 abaixo:

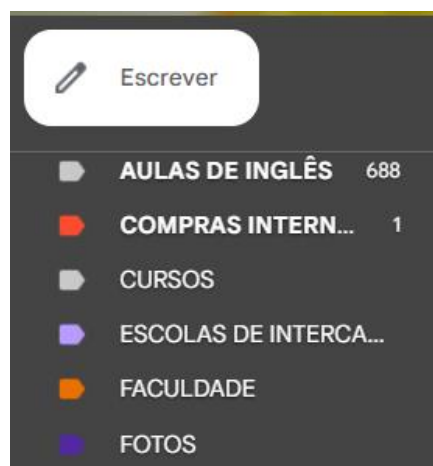


Figura 1

O que está sendo apresentado na Figura 1?

- A) Marcadores.
- B) Pastas de arquivo.
- C) E-mails excluídos.
- D) E-mails marcados como importantes.
- E) Caixa de Spam.

QUESTÃO 24 – Sobre o Google Chrome, analise as assertivas abaixo:

- I. Ao clicar com o botão direito do mouse sobre uma aba/separador, serão apresentadas as opções duplicar, fixar, desativar som do site, adicionar aba/separador a novo grupo, entre outras.
- II. Na opção de transferência/downloads, pode-se alterar o local onde os arquivos devem ser salvos. Além disso, há a opção de habilitar que o Chrome pergunte onde se quer guardar os arquivos.
- III. São opções da funcionalidade de partilhar: copiar link, enviar para os seus dispositivos, criar código QR e transmitir.

Quais estão corretas?

- A) Apenas I.
- B) Apenas II.
- C) Apenas III.
- D) Apenas II e III.
- E) I, II e III.

QUESTÃO 25 – Considerando o Google Chrome e seus atalhos padrão de teclado, qual ação será realizada após utilizar o comando de teclado Ctrl+9? (O sinal de + não faz parte do comando, significa apenas que as teclas devem ser pressionadas simultaneamente).

- A) Irá para a última guia à direita.
- B) Nada, pois não existe esse comando.
- C) Serão abertas nove novas guias.
- D) Será fechada a nona guia.
- E) Serão fechadas nove guias.

QUESTÃO 26 – Qual das funcionalidades abaixo é encontrada no Word 2016 na guia Página Inicial?

- A) Ortografia e gramática.
- B) Mostrar tudo.
- C) Adicionar colunas.
- D) Adicionar comentário.
- E) Inserir caixa de texto.

QUESTÃO 27 – Analise a Figura 2 abaixo, que mostra parte de uma planilha feita no Excel 2016:

	A	B	C
1	4	10	24
2	2	14	12
3	7	13	11
4	9	20	5
5			

Figura 2

Após digitar na célula C5 a fórmula =CONT.VALORES(A1:C4), qual será o resultado apresentado?

- A) 2.
- B) 9.
- C) 12.
- D) 131.
- E) #Nome?

QUESTÃO 28 – Com base no Word 2016 analise a Figura 3 abaixo:





Figura 3

Qual funcionalidade foi utilizada?

- A) Dividir.
- B) Mostrar Tudo.
- C) Organizar Tudo.
- D) Várias Páginas.
- E) Alternar Janelas.

QUESTÃO 29 – No Excel 2016, o ícone abaixo representa qual função?



- A) Filtro Automático.
- B) Filtro Dinâmico.
- C) Segmentação de Dados.
- D) Funil de Pesquisa.
- E) Filtro Avançado.

QUESTÃO 30 – Considerando o Excel 2016, qual das fórmulas abaixo apresentará erro ao ser digitada?

- A) =soma(15+9)
- B) =subtracao(C2;D2)
- C) =25-8-3
- D) =((50/5)*3)
- E) =MÉDIA(25;15;5)

CONHECIMENTOS ESPECÍFICOS

QUESTÃO 31 – Engloba/reúne órgãos e entidades da União, dos Estados, do Distrito Federal e dos Municípios e tem por finalidade o exercício das atividades de planejamento, administração, normatização, pesquisa, registro e licenciamento de veículos, formação, habilitação e reciclagem de condutores, educação, engenharia, operação do sistema viário, policiamento, fiscalização, julgamento de infrações e de recursos e aplicação de penalidades. A descrição apresentada refere-se ao(à):

- A) Contran – Conselho Nacional de Trânsito.
- B) Senatran – Secretaria Nacional de Trânsito.
- C) Ministério dos Transportes.
- D) SNT – Sistema Nacional de Trânsito.
- E) Contransife – Conselho de Trânsito do Distrito Federal.


QUESTÃO 32 – Conforme o Art. 263 do Código de Trânsito Brasileiro (CTB), assinale a alternativa que corresponde a uma infração que tem como punição a cassação da Carteira Nacional de Habilitação (CNH).

- A) Dirigir sob influência de álcool, constatada por teste de etilômetro/bafômetro ou exame clínico.
- B) Participar de competições em via pública sem permissão da autoridade de trânsito, colocando em risco a vida dos demais usuários da via.
- C) Entregar a direção do veículo a pessoa não habilitada quando não for emergência.
- D) Exceder a velocidade em 50% acima do que a via permite, em vias arteriais e de trânsito rápido.
- E) Conduzir qualquer veículo automotor estando com o direito de dirigir suspenso.

QUESTÃO 33 – Faixa dupla seccionada, de cor amarela, pintada na via onde há predominância do volume de tráfego de um sentido em relação ao outro em determinados períodos. Deve estar sempre acompanhada de sinalização indicativa de sua existência e dos horários de uso em cada sentido, devendo ser colocadas somente nos limites externos da(s) faixa(s) sujeita(s) à reversão de sentido, sendo as linhas internas remanescentes marcadas de modo usual, sinalizadas com cones de borracha ou outros dispositivos similares para separação dos fluxos e deve ser utilizada em pontos específicos para garantir segurança à operação. Também podem ser utilizadas sinalizações semaforicas específicas. A descrição apresentada refere-se à:

- A) Linha de bordo.
- B) Faixa reversível.
- C) Linha de continuidade.
- D) Marcação de cruzamentos rodoviários.
- E) Informação de proibição ou possibilidade de ultrapassagem.

QUESTÃO 34 – O órgão ou entidade de trânsito com circunscrição sobre a via implantou um quadriculado na cor amarela na área de cruzamento das vias para assinalar aos condutores a área da pista em que não devem parar e estacionar os veículos, por prejudicar a circulação. O símbolo descrito no trecho e apresentado na figura abaixo refere-se à:



- A) Marcação de área de cruzamento com faixa exclusiva.
- B) Marcação de cruzamento rodoviário.
- C) Marcação de área de conflito.
- D) Marca de canalização.
- E) Linha de retenção.

QUESTÃO 35 – Tacógrafo é um registrador instantâneo e inalterável dos registros de velocidade, tempo e distância. O equipamento é útil para que as empresas ou órgãos de fiscalização possam coletar informações tais como cumprimento de roteiros, viagens e itinerários, horários, saídas e chegadas, a respeito dos limites de velocidade, tempo de condução, descanso e paradas não programadas. Quais são os tipos de tacógrafos existentes?

- A) Mecânico, eletrônico e digital.
- B) Hidráulico, elétrico e mecânico.
- C) Digital, elétrico-eletrônico e manual.
- D) Manual, elétrico-eletrônico e mecânico.
- E) A combustão, eletrônico e digital.

QUESTÃO 36 – Em relação ao transporte de cargas, qual é a diferença entre carga perigosa e produto perigoso?

- A) Conforme a legislação brasileira, não existe diferença.
- B) A carga perigosa pode representar qualquer carregamento mal estivado ou acondicionado (um saco de feijão ou batatas mal distribuído ou sem amarração, por exemplo), além daquela que pode colocar a população ou qualquer compartimento do meio ambiente em risco direto de explosão e incêndio, intoxicação ou radiação. Já o carregamento de produtos perigosos para fins de transporte refere-se exclusivamente àquele que pode colocar em risco a saúde das pessoas ou do meio ambiente e a segurança pública, por suas características físico-químicas peculiares, como explosividade, inflamabilidade, toxicidade e radioatividade.
- C) Cargas perigosas e produtos perigosos diferem por serem conduzidos em veículos diferentes: as cargas perigosas são transportadas nos veículos pesados, e os produtos perigosos são transportados nos veículos leves.
- D) Produtos perigosos, produtos orgânicos, produtos não perigosos e produtos químicos são partes das cargas perigosas; por esse motivo, não existe diferença.
- E) Carga perigosa é definida quando o veículo tem a sua capacidade preenchida, produto perigoso é definido quando sobra espaço no veículo e, dessa forma, não existe lotação, sobrando espaço para mais produtos.

QUESTÃO 37 – Dentro do território nacional, para fins de transporte e circulação, os produtos perigosos estão distribuídos em quantas classes?

- A) Seis.
- B) Sete.
- C) Oito.
- D) Nove.
- E) Onze.

QUESTÃO 38 – Tratam-se de condições adversas de trânsito:

- A) Congestionamento entre veículos, tráfego intenso de veículos pesados (caminhões, ônibus, carretas), aglomeração de pedestres (multidões, shows e demais festividades) e atitude agressiva de outros motoristas.
- B) Excesso de carga e/ou passageiros, confusão entre os ocupantes do veículo, transporte inadequado de animais e pneus carecas.
- C) Penumbra e ofuscamento, falta de combustível e folga na direção.
- D) Chuva, serração, neblina e farol alto.
- E) Falta de iluminação, luz do sol, drenagem deficiente de estradas e desníveis na pista.

QUESTÃO 39 – Em relação aos tipos de ações negativas de motoristas, relacione a Coluna 1 à Coluna 2, associando cada ação à sua classificação.

Coluna 1

1. Imperícia.
2. Imprudência.
3. Negligência.

Coluna 2

- () Motorista que vai viajar mais de 400 km calibra os quatro pneus, porém não calibra o estepe.
- () Motorista com a primeira habilitação com a permissão para dirigir pega a sua CNH pela manhã e, pela tarde, resolve fazer uma viagem de 1.200 km.
- () Motorista que ultrapassa o semáforo vermelho, não respeitando diretamente um artigo do CTB.

A ordem correta de preenchimento das lacunas, de cima para baixo, é:

- A) 1 – 2 – 3.
- B) 2 – 3 – 1.
- C) 3 – 1 – 2.
- D) 1 – 3 – 2.
- E) 3 – 2 – 1.

QUESTÃO 40 – Quando o motorista na categoria "C", "D" ou "E" for reprovado no teste toxicológico, sofrerá qual penalidade?

- A) Suspensão do direito de dirigir por um mês.
- B) Suspensão do direito de dirigir por três meses.
- C) Suspensão do direito de dirigir por seis meses.
- D) Suspensão do direito de dirigir por um ano.
- E) Cassação da CNH.

QUESTÃO 41 – Um condutor de veículo automotor leve transita por uma via. Por estar digitando no celular com o veículo em movimento, não percebe que o semáforo passou do amarelo para o vermelho e acaba atropelando uma pessoa que estava atravessando a via na faixa de pedestres. O condutor imediatamente para o veículo para socorrer a vítima, porém, no momento em que sai do veículo, entra em estado de choque. Ao presenciar a situação apresentada, o procedimento correto é:

- A) Para prestar socorro, é necessário, antes de mais nada, sinalizar o local e, em seguida, acionar o socorro.
- B) Para prestar socorro, é necessário retirar a vítima atropelada do local e levá-la imediatamente ao pronto-socorro.
- C) O primeiro procedimento é acionar o socorro, depois verificar a situação das vítimas e sinalizar o local.
- D) Antes de qualquer providência, deve-se tentar fazer com que o motorista saia do estado de choque para poder assumir a sua responsabilidade.
- E) Deve-se usar o próprio veículo do acidente para imediatamente levar o motorista e a vítima para o hospital.

QUESTÃO 42 – Assinale a alternativa que apresenta os lugares de proibição de ultrapassagem.

- A) Vias urbanas, vias rurais e vias de trânsito rápido.
- B) Vias locais, vias coletoras, vias arteriais e estradas.
- C) Nas interseções e acostamentos, sobre faixa de pedestres, nas pontes, viadutos e sobre as calçadas.
- D) Em aclives, declives e vias locais e coletoras.
- E) Vias urbanas, rurais, locais, coletoras, arteriais, vias de trânsito rápido, estradas e rodovias.

QUESTÃO 43 – São equipamentos obrigatórios em veículos pesados:

- A) Extintor de incêndio, macaco, chave de roda, tacógrafo, tacômetro, marcador de combustível e luz de freio na parte mais alta do baú ou carroceria.
- B) Tacômetro, retrovisores, para-choques, triângulo, chave de roda, cambão e haste de proteção corta pipa.
- C) Pala interna, limpador de para-brisa, lavador de para-brisa, freio de estacionamento e de serviço com comandos independentes.
- D) Marcador de combustível, limpador de para-brisa, espelho retrovisor interno, velocímetro, buzina de alerta e auxiliar independentes.
- E) Cinto de segurança, encosto de cabeça, marcador de combustível, chave de roda e triângulo dotado de pisca alerta luminoso.

QUESTÃO 44 – A placa de regulamentação R-5a, apresentada abaixo, indica:



- A) Proibido converter à esquerda.
- B) Pista sinuosa proibida à esquerda.
- C) Proibição de movimento na rotatória ou rótula.
- D) Proibido manobra de conversão.
- E) Proibido retornar.

QUESTÃO 45 – Qual é a diferença da suspensão do direito de dirigir e da cassação da CNH?

- A) Na suspensão do direito de dirigir, o motorista fica com a CNH suspensa por tempo determinado, cumpre o tempo de suspensão, faz um processo de reciclagem com aulas teóricas e prova teórica para ter novamente o direito de dirigir. Na cassação, o motorista fica dois anos com a CNH cassada e depois faz as aulas teóricas, prova teórica e a prova prática na categoria em que for habilitado.
- B) Na suspensão do direito de dirigir, o motorista fica um ano com a CNH suspensa e faz todo o processo da CNH novamente. E na cassação, o motorista fica dois anos sem a CNH e faz somente a prova teórica para ter sua CNH novamente.
- C) A única diferença entre suspensão do direito de dirigir e cassação da CNH está na prova prática, que somente a CNH cassada gera obrigatoriedade.
- D) Na suspensão do direito de dirigir, o motorista fica dois anos sem CNH e faz todo o processo de licenciamento novamente. E na cassação, o motorista fica um ano sem CNH e depois disso faz somente a prova prática.
- E) Na suspensão do direito de dirigir, o motorista fica entre um mês e dois anos sem CNH e faz todo o processo de licenciamento novamente. E na cassação, o motorista perde a CNH definitivamente, ou seja, não pode ter CNH novamente.

QUESTÃO 46 – Conforme o CTB, qual é a distância lateral que os motoristas e os motociclistas devem manter em relação ao ciclista?

- A) Dois metros.
- B) Um metro e meio.
- C) Um metro.
- D) A distância de duas bicicletas.
- E) A distância de um braço esticado.

QUESTÃO 47 – O Art. 41 do CTB, que regulamenta o uso da buzina em vias públicas, permite que:

- A) A buzina seja usada em toques repetitivos em congestionamentos para que o trânsito possa voltar a fluir.
- B) A buzina seja usada de madrugada, próximo aos cruzamentos, em sequência de 8 a 12 toques, para alertar condutores que também se aproximam dos cruzamentos onde houver semáforo desligado.
- C) A buzina seja usada fora das áreas urbanas, quando for conveniente para um motorista advertir um condutor que tem o propósito de ultrapassá-lo.
- D) A buzina seja usada na frente de hospitais, a qualquer hora do dia.
- E) A buzina seja usada de forma contínua juntamente com o alerta quando em deslocamento para hospitais com vítimas.

QUESTÃO 48 – O agente de trânsito que deseja sinalizar a ordem de diminuição de velocidade, diminuição de marcha, deve estender o braço horizontalmente, com a palma da mão voltada para baixo, realizando movimentos verticais (de cima para baixo), e usar o apito da seguinte maneira:

- A) Um silvo longo.
- B) Um silvo breve.
- C) Um silvo longo e um breve.
- D) Dois silvos breves.
- E) Dois silvos longos.

QUESTÃO 49 – Assinale a alternativa que corresponde às medidas administrativas que um condutor infrator sofrerá se for flagrado cometendo uma infração de trânsito.

- A) Retenção do veículo, remoção do veículo, recolhimento do certificado de registro veicular, transbordo de excesso de carga, multa, suspensão do direito de dirigir e cassação da permissão para dirigir.
- B) Advertência por escrito, cassação da CNH, apreensão do veículo, recolhimento do certificado de licenciamento anual, realização de teste de dosagem de alcoolemia ou perícia de substância entorpecente ou que determina a dependência física ou psíquica e recolhimento de animais.
- C) Realização de exame de aptidão física e mental, recolhimento da permissão para dirigir, retenção do veículo, cassação da permissão para dirigir, apreensão do veículo e advertência por escrito.
- D) Retenção do veículo, remoção do veículo, recolhimento da CNH, recolhimento da permissão para dirigir, recolhimento do certificado de registro de veículo, recolhimento do certificado de registro de licenciamento veicular, transbordo do excesso de carga, realização de teste de dosagem de álcool etílico ou substância entorpecente, recolhimento de animais e realização de exame de aptidão física e mental.
- E) Advertência por escrito, multa, suspensão do direito de dirigir, apreensão do veículo, cassação da CNH, cassação da permissão para dirigir e frequência obrigatória em cursos de reciclagem.

QUESTÃO 50 – De acordo com as normas de circulação e conduta previstas no Art. 31 do CTB, o condutor que tenha o propósito de realizar passagem lateral à esquerda, estando na parte de trás de um veículo de transporte coletivo de passageiros que esteja parado, efetuando embarque e/ou desembarque de passageiros em um ponto de parada em via arterial e que não esteja no corredor exclusivo para veículos de transporte de passageiros, deverá:

- A) Buzinar duas vezes, como forma de alerta aos pedestres.
- B) Alertar com sinal de luz uma vez, acompanhado de um toque de buzina.
- C) Reduzir a velocidade, dirigindo com atenção redobrada, ou parar o veículo com vistas à segurança dos pedestres.
- D) Se estiver em situação de emergência, ligar o farol baixo e o pisca alerta e fazer uso contínuo da buzina, contando com a empatia dos pedestres.
- E) Parar atrás do ônibus e não ultrapassá-lo, seguindo os movimentos do ônibus até o terminal.

QUESTÃO 51 – Conforme o Art. 87 da Lei nº 9.503/1997, os sinais de trânsito classificam-se em:

- A) Amarelo, branco, azul, vermelho e preto.
- B) Verticais, planificados, dispositivos de sinalização principal, luminosos, sonoros, gestos do agente de trânsito, do condutor e das condições adversas.
- C) Verticais, horizontais, dispositivos de sinalização auxiliar, luminosos, sonoros e gestos do agente de trânsito e do condutor.
- D) Amarelo, branco, azul, vermelho e preto, seccionados e contínuos.
- E) Verticais, horizontais, dispositivos de sinalização auxiliar, taxas e tachões, sonoros e gestos do agente de trânsito e do pedestre.

QUESTÃO 52 – As causas de hidroplanagem (aquaplanagem) são:

- A) Falta de balanceamento e geometria no veículo, acompanhado de chuva fina, que faz o carro escorregar.
- B) Pneus com o TWI (indicador de desgaste da banda de rodagem) intacto, em condições e devidamente protegidos pela banda de rodagem, e excesso de velocidade.
- C) Espessa lâmina de água, excesso de velocidade e pneus com 1,5 milímetro de espessura de sulco (íncavo).
- D) Rachaduras e sujeiras na via.
- E) Lama e árvores na via.

QUESTÃO 53 – Estando habilitado na categoria "D", o que é preciso para o condutor habilitar-se na categoria "E"?

- A) Ter 20 anos, ter dois anos de categoria "D" e ter passado um ano na categoria "C".
- B) Ser penalmente imputável (poder ser processado na forma da Lei) e saber ler e escrever.
- C) Ter dois anos de categoria "B", dois anos de "C" e dois anos de "D".
- D) Ter 21 anos de idade, ter um ano de categoria "D" se pulou a categoria "C", ou seja, se tinha a categoria "B" e passou direto para a "D"; ou apenas ter 21 anos de idade se tiver passado da categoria "B" para a "C", e da categoria "C" para a "D".
- E) Ter 20 anos de idade, ter um ano de categoria "D" se pulou a categoria "C"; ou ter apenas 21 anos de idade se tiver passado da categoria "B" para a "C", e da categoria "C" para a "D".

QUESTÃO 54 – Em uma via de trânsito rápido, onde todos os veículos estão na velocidade máxima permitida, um condutor decide dividir a atenção do trânsito com o celular e acaba provocando um engavetamento. Em função disso, houve quatro veículos acidentados e algumas vítimas. Sobre as medidas a serem tomadas em relação à situação apresentada, assinale a alternativa correta.

- A) Todos são obrigados a socorrerem as vítimas, exceto o motorista que provocou o acidente, pois, segundo a lei, ele deve ser o último a ser socorrido.
- B) A obrigação de socorrer todas as vítimas é única e exclusiva de quem provocou o acidente.
- C) A obrigação de socorrer as vítimas é apenas dos fiscais de trânsito.
- D) Não existe obrigação de socorro nesse caso, pois será feito de acordo com o nível de empatia das pessoas.
- E) É obrigação de todos socorrerem as vítimas, desde que se mantenham seguros, ou seja, não estejam em risco.

QUESTÃO 55 – De acordo com as regras de circulação e conduta previstas na Lei nº 9.503/1997, em um cruzamento de vias em que não haja sinalização alguma, se três veículos, classificados como populares, ambos com o motor 1.0, chegam no mesmo momento para transpor o cruzamento, de quem será a preferência?

- A) Do veículo que estiver mais à direita.
- B) Do veículo que estiver mais à esquerda.
- C) Do veículo que estiver no meio.
- D) Vale a regra do bom senso, devendo haver o respeito entre os três motoristas.
- E) Do primeiro veículo que der um sinal de luz e avisar os demais com um toque de buzina.

QUESTÃO 56 – Em uma via arterial com sinalização vertical, que permite ao condutor de veículo automotor a operação de carga e descarga, o condutor está autorizado a:

- A) Parar o veículo, com o pisca alerta acionado, para aguardar passageiros que estão em compras.
- B) Parar o veículo para comprar mercadorias que deseja carregar em seu veículo.
- C) Ficar com o carro parado por tempo indeterminado, desde que ele esteja dentro do carro e o carro esteja ligado.
- D) Estacionar seu veículo, desde que tenha compartimento de carga.
- E) Parar para embarque e/ou desembarque de passageiros, preocupando-se em não atrapalhar a fluidez do trânsito.

QUESTÃO 57 – Considerando a direção defensiva, quando e como o condutor assume um comportamento seguro no trânsito?

- A) Conduzindo sempre na velocidade mínima da via.
- B) Bimestralmente, calibrando os pneus do veículo.
- C) Respeitando única e exclusivamente a preferência do pedestre.
- D) Se antecipando aos riscos e se preparando para as piores situações, não sendo “pego de surpresa”.
- E) Fazendo o trânsito fluir mais, conduzindo o veículo sempre na esquerda, na velocidade máxima da via.

QUESTÃO 58 – Em uma rodovia de mão dupla com faixas duplas, não havendo um local apropriado para retorno, como deve ser feita essa manobra?

- A) O condutor deve chegar com o veículo no centro da via, junto da linha separadora, e avançar sobre o acostamento do outro lado da via para finalizar a manobra de retorno.
- B) A preferência sempre será de quem vem em sentido oposto. Dessa maneira, deve se verificar somente quem vem em sentido oposto e realizar a manobra de retorno.
- C) Não é possível fazer retorno quando não houver local apropriado para a manobra.
- D) Deve-se tomar o acostamento à direita, olhando para os veículos que vão no mesmo sentido e os que vêm em sentido contrário e, quando a rodovia estiver liberada, realizar o movimento vai ser feito tomando o outro acostamento, para, então, fazer a manobra de retorno.
- E) O retorno na rodovia deve ser feito conforme o retorno de três pontos ou imaginando um canteiro no meio da rodovia.

QUESTÃO 59 – Conforme as normas de circulação e conduta descritas no CTB, qual é a velocidade mínima para trânsito nas diversas vias?

- A) A velocidade mínima será sempre a metade da velocidade máxima da via.
- B) Não existe uma velocidade mínima para as vias, somente velocidade máxima.
- C) A velocidade mínima em qualquer via será de 30 km por hora.
- D) A velocidade mínima em qualquer via será de 15 km por hora.
- E) A velocidade mínima será sempre 30 km a menos do que a velocidade máxima.

QUESTÃO 60 – O condutor de um caminhão que pretende descarregar 100 mercadorias/volumes coloca o seu veículo em um local em que é permitido carga e descarga, calculando que levará 40 minutos para todo o desembarque. Considerando a situação apresentada, essa operação é classificada como:

- A) Parada apenas para descarga.
- B) Imobilização/parada temporária de carga e descarga.
- C) Operação de desembarque.
- D) Operação de embarque.
- E) Estacionamento.