



DOMINGO DE TARDE

MUNICÍPIO DE CRICIÚMA/SC CONCURSOS PÚBLICOS Nº 01 E 02/2024

MOTORISTA SOCORRISTA

INSTRUÇÕES

Leia atentamente e cumpra rigorosamente as instruções que seguem, pois elas são parte integrante das provas e das normas que regem esse certame.

1. Atente-se aos avisos contidos no quadro da sala.
2. Seus pertences deverão estar armazenados dentro de embalagem específica fornecida pelo fiscal, permanecendo em sua posse somente caneta esferográfica de ponta grossa, de material transparente, com tinta preferencialmente preta, lanche e água, se houver. A utilização de qualquer material não permitido em edital é expressamente proibida, acarretando a sua imediata eliminação do certame.
3. Certifique-se de que este caderno:
 - contém 60 (sessenta) questões;
 - **refere-se ao cargo para o qual realizou a inscrição.**
4. Cada questão oferece 5 (cinco) alternativas de respostas, representadas pelas letras A, B, C, D e E, sendo apenas 1 (uma) a resposta correta.
5. Será respeitado o tempo para realização da prova conforme previsto em edital, incluindo o preenchimento da grade de respostas.
6. Os três últimos candidatos deverão retirar-se da sala de prova ao mesmo tempo, devendo assinar a Ata de Prova.
7. A responsabilidade referente à interpretação dos conteúdos das questões é exclusiva do candidato.
8. No caderno de prova, você poderá rabiscar, riscar e calcular.
9. Os gabaritos preliminares da prova objetiva serão divulgados na data descrita no Cronograma de Execução desse certame.



V1_06/03/2024 09:56:00



A dor do luto significa o legado de uma vida*Por Cíntia Moscovich*

01 Sentimento inevitável, muitas vezes duradouro e para o qual as pessoas parecem total e
02 eternamente despreparadas, o luto é uma grande zona de solidão e estranhamento. "Manual do
03 Luto", 51º livro do multitarefas Fabrício Carpinejar, é uma reunião de textos que refletem sobre
04 a impermanência, a saudade e a ausência, obra que combate de frente a noção de que a dor
05 deve ser logo substituída pelo estado de constante e...itação e aparente alegria em que o mundo
06 parece mergulhado. Fabrício ensina que a dor pode, e deve, virar memória e que isso é, em
07 verdade, o legado de uma vida.

08 A ideia de uma obra sobre a morte/luto e os sentimentos que decorrem da perda
09 começou com uma iniciativa que con...istia num grupo de cartas digitais batizado de "Clube dos
10 Corações Solidários", referência, claro, ao famoso disco dos Beatles. Logo, o grupo contava com
11 mais de 25 mil inscritos que recebiam, de forma gratuita, correspondências criadas por Fabrício e
12 que são reflexões muito elaboradas sobre o assunto. O "Manual do Luto", que, em verdade, não
13 é um manual, porque, como se sabe, ninguém ensina ninguém a sofrer ou a superar ___
14 perda — a experiência da vida é mesmo intransferível —, pode ser tomado com um lenitivo ou
15 uma companhia para quem se vê atropelado pela morte de um querido, seja pai, mãe, marido,
16 mulher, filho, filha, amigo ou o que for. Como Fabrício faz questão de lembrar, por mais que a
17 morte seja um absurdo afrontoso ___ lógica de humanidade e ao apego dos afetos, o luto que
18 dela decorre não é uma doença, e a dor do buraco cavado pela ausência pode ser transformada
19 em memória e, logo, em matéria de vida. Sem se arvorar a dar receitas de como suportar esse
20 sentimento que pode ser o mais desesperador, Carpinejar toma seu tempo e, com calma
21 afetuosa, nos conta casos. Ali está a morte de sua sogra, que ele não chegou a conhecer
22 pessoalmente, causada por uma leucemia galopante e duas outras histórias (arrepiantes e
23 belas), nas quais a intuição joga papel importante.

24 Uma das abordagens mais irônicas e pertinentes do livro é a constatação que Carpinejar
25 faz ao revelar a total falta de ...eito das pessoas para tratar com os enlutados e com suas
26 sensibilidades: "Gostaríamos que o enlutado derramasse suas lágrimas higienicamente no
27 banheiro [...], sem incomodar ___ casa com sua incontinência de alma". Talvez seja esse um
28 dos grandes lembretes do livro, o de que acompanhar os queridos em sua dor significa dar o
29 ouvido para a escuta e o ombro para conter algum arroubo de emoção. Depois é só isso mesmo:
30 depois.

(Disponível em: www.gauchazh.clicrbs.com.br/colunistas/cintia-moscovich/noticia/2023/12/a-dor-do-luto-significa-o-legado-de-uma-vida – texto adaptado especialmente para esta prova).

QUESTÃO 01 – Considerando o exposto pelo texto, analise as assertivas a seguir:

- I. A obra de Fabrício Carpinejar da qual a autora do texto fala é uma obra de ficção que apresenta uma única e longa história.
- II. A ideia de escrever o livro está ligada a um grupo cujo nome foi inspirado na frase de uma famosa banda.
- III. O autor do livro criava correspondências sobre o tema da perda, que eram enviadas para um grande número de pessoas.

Quais estão corretas?

- A) Apenas I.
- B) Apenas I e II.
- C) Apenas I e III.
- D) Apenas II e III.
- E) I, II e III.

QUESTÃO 02 – Assinale a alternativa que apresenta uma informação INCORRETA a respeito do texto.

- A) Fabrício Carpinejar é o autor do livro analisado pela autora do texto.
- B) O livro de Carpinejar pretende ensinar como ficar alegre logo após uma perda.
- C) Para Carpinejar, a dor da perda pode ser convertida em lembranças.
- D) No livro, Carpinejar conta casos em vez de oferecer fórmulas a serem seguidas pelo leitor.
- E) A forma de escrita de Carpinejar é descrita como carinhosa.

QUESTÃO 03 – Assinale a alternativa que NÃO apresenta um sentimento causado pela perda de um ente querido, de acordo com o texto.

- A) Solidão.
- B) Desconforto.
- C) Adoecimento.
- D) Desespero.
- E) Sensibilidade.

QUESTÃO 04 – Considerando a correta ortografia das palavras em Língua Portuguesa, assinale a alternativa que preenche, correta e respectivamente, as lacunas pontilhadas das linhas 05, 09 e 25.

- A) sc – s – j
- B) sc – c – j
- C) sc – c – g
- D) xc – s – g
- E) xc – s – j

QUESTÃO 05 – Considerando o emprego do acento indicativo de crase, assinale a alternativa que preenche, correta e respectivamente, as lacunas tracejadas das linhas 13, 17 e 27.

- A) à – à – à
- B) a – à – a
- C) à – a – à
- D) a – à – à
- E) à – a – a

QUESTÃO 06 – Assinale a alternativa que indica o significado correto do prefixo “in-” na palavra “incontinência” (l. 27).

- A) Abaixo da continência (controle).
- B) Acima da continência (cumprimento).
- C) Ausência de continência (cumprimento).
- D) Antes da continência (controle).
- E) Falta de continência (controle).

QUESTÃO 07 – Assinale a alternativa na qual NÃO há emprego de linguagem figurada.

- A) “em que o mundo parece mergulhado” (l. 05-06).
- B) “o grupo contava com mais de 25 mil inscritos” (l. 10-11).
- C) “para quem se vê atropelado pela morte de um querido” (l. 15).
- D) “a dor do buraco cavado pela ausência” (l. 18).
- E) “causada por uma leucemia galopante” (l. 22).

QUESTÃO 08 – Assinale a alternativa que indica uma expressão que poderia substituir corretamente “o legado” (l. 07) sem causar alterações significativas ao sentido original do trecho em que ocorre.

- A) A herança.
- B) O trabalho.
- C) A incumbência.
- D) O ofício.
- E) A tarefa.

QUESTÃO 09 – Assinale a alternativa que indica a classe de palavras à qual pertence o termo sublinhado no trecho “o luto que dela decorre não é uma doença”, retirado do texto.

- A) Substantivo.
- B) Adjetivo.
- C) Numeral.
- D) Advérbio.
- E) Verbo.

QUESTÃO 10 – Assinale a alternativa que indica uma palavra que tenha sido INCORRETAMENTE acentuada de acordo com o acordo ortográfico vigente.

- A) Anzóis.
- B) Idéias.
- C) Automóveis.
- D) Véus.
- E) Anéis.

RACIOCÍNIO LÓGICO

QUESTÃO 11 – Se meu avô tem 3 filhos e meus tios e meu pai têm 4 filhos cada, quantos primos-irmãos eu tenho?

- A) 12.
- B) 11.
- C) 10.
- D) 09.
- E) 08.

QUESTÃO 12 – Em uma pesquisa sobre como as pessoas obtêm informações sobre a realidade política mundial, verificou-se que: 110 pessoas leem notícias em jornal impresso; 240 pessoas se informam através da internet; 185 pessoas, pela televisão; 60 pessoas, pelo jornal e pela internet; 90 pessoas, pela internet e pela televisão; 30 pessoas, pela televisão e pelo jornal; 20 pessoas, pelos três meios de comunicação; e 27 pessoas disseram que não se interessam pelo assunto nem fazem questão de se informar. Quantas pessoas participaram da pesquisa?

- A) 762.
- B) 526.
- C) 418.
- D) 402.
- E) 388.

QUESTÃO 13 – Assinale a alternativa que apresenta uma proposição lógica composta.

- A) A música clássica é a música mais antiga do mundo.
- B) O número 5 é primo e múltiplo de 1.120.
- C) Ler é abrir a mente para a imaginação.
- D) $X + 5 = 84 - 79$.
- E) Quantas vagas há para o cargo de Técnico Administrativo e Ocupacional?

QUESTÃO 14 – Considere verdadeiras as premissas:

- P1: Todo aracnídeo tem seis pernas.
P2: Todos os seres de seis pernas têm asas.

A alternativa que apresenta uma conclusão que torna o argumento válido é:

- A) Algumas aranhas têm asas.
- B) Pode ser que aracnídeos tenham asas.
- C) Aranhas não têm asas.
- D) Todo aracnídeo tem asas.
- E) Nenhuma das alternativas acima.

QUESTÃO 15 – A palavra GALERIA está para o número 7185931 assim como a palavra REGALIA está para:

- A) 9751931.
- B) 8335971.
- C) 9571831.
- D) 1395817.
- E) 8571931.

QUESTÃO 16 – Entre as alternativas abaixo, qual apresenta uma contradição?

- A) Todo gato é verde.
- B) Nem estudou e nem passou.
- C) Não é caro, mas custa muito caro.
- D) Laura será aprovada ou não será aprovada no concurso.
- E) Maria é alta, e João é baixo.

QUESTÃO 17 – A negação da proposição “se Gisele for alta, então será elegante” é:

- A) Se Gisele fosse baixa, não seria elegante.
- B) Gisele é alta e não é elegante.
- C) Gisele não é alta, logo não é elegante.
- D) Gisele não é alta nem elegante.
- E) Gisele é baixa e elegante.

QUESTÃO 18 – Sejam p e q duas proposições lógicas, a frase “nem p , nem q ” pode ser escrita simbolicamente como:

- A) $p \wedge q$.
- B) $p \leftrightarrow q$.
- C) $p \vee q$.
- D) $p \rightarrow q$.
- E) $p \downarrow q$.

QUESTÃO 19 – Analise a seguinte sequência numérica: $\{42, 61, 80, 99, \dots\}$. Considerando que permaneça a mesma lei de formação de seus termos, pode-se afirmar que a diferença entre o décimo e o nono termo dessa sequência é:

- A) 19.
- B) 21.
- C) 28.
- D) 194.
- E) 213.

QUESTÃO 20 – Analise as proposições lógicas a seguir e assinale aquela que é falsa.

- A) O Brasil é pentacampeão de futebol.
- B) Todo número ímpar é primo.
- C) Um triângulo é um polígono.
- D) O número 9 é ímpar, logo é primo.
- E) $7+4 > 5$.








INFORMÁTICA

QUESTÃO 21 – No Windows 10, onde se encontra a opção para “Exibir e Gerenciar Dispositivos e Impressoras”?

- A) Painel de Controle.
- B) Gerenciador de Programas.
- C) Gerenciador de Tarefas.
- D) Controle de Hardware.
- E) Configurações do Sistema.

QUESTÃO 22 – Em seu trabalho, Ericka utiliza o Gmail como serviço de webmail. Ela está enviando um e-mail importante para sua líder. Para inserir um arquivo com o Google Drive, Ericka precisou clicar no botão _____, e por conter dados sigilosos, optou por utilizar o botão _____, referente ao modo confidencial, e selecionou a opção de senha por SMS.

Assinale a alternativa que preenche, correta e respectivamente, as lacunas do trecho acima.

- A)  _ 
- B)  _ 
- C)  _ 
- D)  _ 
- E)  _ 

QUESTÃO 23 – Considerando o Gmail, analise a Figura 1 abaixo:

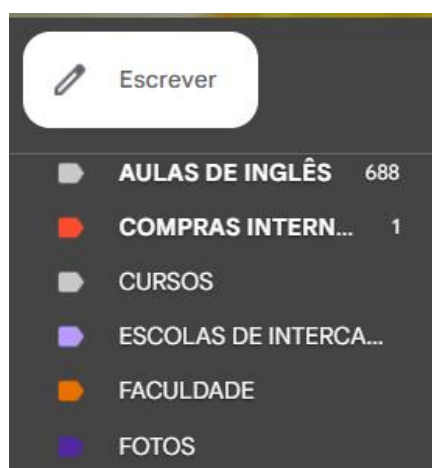


Figura 1

O que está sendo apresentado na Figura 1?

- A) Marcadores.
- B) Pastas de arquivo.
- C) E-mails excluídos.
- D) E-mails marcados como importantes.
- E) Caixa de Spam.

QUESTÃO 24 – Sobre o Google Chrome, analise as assertivas abaixo:

- I. Ao clicar com o botão direito do mouse sobre uma aba/separador, serão apresentadas as opções duplicar, fixar, desativar som do site, adicionar aba/separador a novo grupo, entre outras.
- II. Na opção de transferência/downloads, pode-se alterar o local onde os arquivos devem ser salvos. Além disso, há a opção de habilitar que o Chrome pergunte onde se quer guardar os arquivos.
- III. São opções da funcionalidade de partilhar: copiar link, enviar para os seus dispositivos, criar código QR e transmitir.

Quais estão corretas?

- A) Apenas I.
- B) Apenas II.
- C) Apenas III.
- D) Apenas II e III.
- E) I, II e III.

QUESTÃO 25 – Considerando o Google Chrome e seus atalhos padrão de teclado, qual ação será realizada após utilizar o comando de teclado Ctrl+9? (O sinal de + não faz parte do comando, significa apenas que as teclas devem ser pressionadas simultaneamente).

- A) Irá para a última guia à direita.
- B) Nada, pois não existe esse comando.
- C) Serão abertas nove novas guias.
- D) Será fechada a nona guia.
- E) Serão fechadas nove guias.

QUESTÃO 26 – Qual das funcionalidades abaixo é encontrada no Word 2016 na guia Página Inicial?

- A) Ortografia e gramática.
- B) Mostrar tudo.
- C) Adicionar colunas.
- D) Adicionar comentário.
- E) Inserir caixa de texto.

QUESTÃO 27 – Analise a Figura 2 abaixo, que mostra parte de uma planilha feita no Excel 2016:

	A	B	C
1	4	10	24
2	2	14	12
3	7	13	11
4	9	20	5
5			

Figura 2

Após digitar na célula C5 a fórmula =CONT.VALORES(A1:C4), qual será o resultado apresentado?

- A) 2.
- B) 9.
- C) 12.
- D) 131.
- E) #Nome?

QUESTÃO 28 – Com base no Word 2016 analise a Figura 3 abaixo:





Figura 3

Qual funcionalidade foi utilizada?

- A) Dividir.
- B) Mostrar Tudo.
- C) Organizar Tudo.
- D) Várias Páginas.
- E) Alternar Janelas.

QUESTÃO 29 – No Excel 2016, o ícone abaixo representa qual função?



- A) Filtro Automático.
- B) Filtro Dinâmico.
- C) Segmentação de Dados.
- D) Funil de Pesquisa.
- E) Filtro Avançado.

QUESTÃO 30 – Considerando o Excel 2016, qual das fórmulas abaixo apresentará erro ao ser digitada?

- A) =soma(15+9)
- B) =subtracao(C2;D2)
- C) =25-8-3
- D) =((50/5)*3)
- E) =MÉDIA(25;15;5)

CONHECIMENTOS ESPECÍFICOS

QUESTÃO 31 – Um motorista em deslocamento na via com fluxo intenso observou que, logo atrás de si, trafegava uma ambulância em emergência. Ao facilitar a passagem, aproveitou o espaço deixado por ela e seguiu logo atrás. Conforme o Código de Trânsito Brasileiro (CTB), qual infração o motorista cometeu e qual é a penalidade prevista?

- A) Gravíssima – multa.
- B) Grave – multa.
- C) Média – advertência.
- D) Leve – multa.
- E) Leve – advertência.

QUESTÃO 32 – Para o atendimento de um paciente de alto risco em situação de emergência, qual tipo de ambulância deve ser destinada para o atendimento?

- A) Tipo A.
- B) Tipo B.
- C) Tipo C.
- D) Tipo D.
- E) Tipo E.

QUESTÃO 33 – Sobre a Classificação de Risco, a atenção da equipe de urgência é fundamental. Assinale a alternativa que relaciona corretamente a cor da classificação e suas características.

- A) Vermelho: urgente, 10 minutos.
- B) Laranja: urgente, 20 minutos.
- C) Amarelo: urgente, 30 minutos.
- D) Verde: pouco urgente, 60 minutos.
- E) Azul: não urgente, 240 minutos.

QUESTÃO 34 – O motorista socorrista recebeu da Central de Distribuição um QTH. Segundo o Código Q, o código QTH significa:

- A) "Qual o nome do operador?".
- B) Interferência de comunicação.
- C) Desligar o aparelho.
- D) "Qual endereço, local e posição?".
- E) "Tens algo para mim?".

QUESTÃO 35 – O motorista que deseja ser condutor de ambulância deverá ter alguns pré-requisitos. Conforme o CTB, são requisitos para o cargo, EXCETO:

- A) Habilitação categoria D.
- B) Ensino Fundamental completo e idade superior a vinte e um anos.
- C) Certificado de curso de APH.
- D) Certidão negativa de débito da Justiça Eleitoral.
- E) Certificado de curso de capacitação de condutores de veículos de emergência.

QUESTÃO 36 – Os veículos prestadores de serviço de emergência, conforme legislação, gozam de livre parada e estacionamento, observada a seguinte disposição:

- A) Manter sinal sonoro quando estiver parado.
- B) Manter contato com a central via rádio somente para deslocar o paciente.
- C) Estar devidamente sinalizado, conforme legislação.
- D) Usar o pisca alerta quando se deslocar.
- E) Sinalizar com cones parte na frontal do veículo de emergência.

QUESTÃO 37 – Um motorista socorrista em deslocamento na via percebeu que seu veículo puxava para um dos lados. Sobre os pneus, o fabricante orienta que, para manter a segurança dos usuários e aumentar vida útil, é preciso:

- A) Passar óleo na banda de rodagem.
- B) Realizar *check-list* na parte interna da ambulância.
- C) Manter a ambulância abastecida.
- D) Manter descalibrado para prestar o serviço.
- E) Agendar geometria, balanceamento e manter pressão correta dos pneus.

QUESTÃO 38 – A legislação permite o uso de sinal sonoro em veículos de emergência quando em atendimento, EXCETO:

- A) Nas dependências dos hospitais.
- B) Para alertar outros motoristas.
- C) Para abrir caminho no trânsito.
- D) Para melhor tempo-resposta.
- E) Durante transporte de paciente.

QUESTÃO 39 – Conforme o CTB, os sinais sonoros são representados pelos silvos do apito e gestos de um agente de trânsito. O que significa um silvo longo e um breve?

- A) Trânsito interrompido em todas as direções.
- B) Desça do veículo!
- C) Avance com cautela.
- D) Diminua a marcha!
- E) Pare!

QUESTÃO 40 – São classificados como sinais de trânsito, EXCETO:

- A) Sinais verticais.
- B) Sinais horizontais.
- C) Sinal longitudinal.
- D) Sinalização auxiliar.
- E) Sinais e gestos do agente.

QUESTÃO 41 – São dispositivos delimitadores utilizados para orientar condutores onde seja necessário destacar a existência de obstáculos, devido à deficiência de iluminação pública:

- I. Tachão.
- II. Balizador de ponte.
- III. Reforço das marcas de canalização.

Quais estão corretos?

- A) Apenas I.
- B) Apenas II.
- C) Apenas I e II.
- D) Apenas II e III.
- E) I, II e III.

QUESTÃO 42 – Da sinalização de trânsito, deve-se ter como princípio básico, na concepção e na implantação, as condições de sua percepção. Seguindo esse conceito, são princípios da sinalização de trânsito, EXCETO:

- A) Moralidade.
- B) Legalidade.
- C) Suficiência.
- D) Padronização.
- E) Clareza.

QUESTÃO 43 – Conforme o artigo 40 do CTB, a alternância de luzes baixa e alta é permitida em algumas situações de alerta, EXCETO no caso de:

- A) Ultrapassagem.
- B) Acidente.
- C) Objetos na via.
- D) Agentes na via.
- E) Aproximação.

QUESTÃO 44 – Segundo o CTB, o condutor que tem seu veículo imobilizado na via por falta de combustível (popularmente conhecido por "pane seca") está cometendo que tipo de infração?

- A) Leve, 3 pontos.
- B) Média, 4 pontos.
- C) Grave, 5 pontos.
- D) Gravíssima, 7 pontos.
- E) Nenhuma das alternativas anteriores está correta.

QUESTÃO 45 – José, motorista socorrista do SAMU, recebeu no seu plantão o Código 1 da Central. Analise as seguintes classificações de risco e seu tipo de prioridade:

- I. Laranja – prioridade absoluta.
- II. Vermelho – prioridade absoluta.
- III. Amarelo – prioridade intermediária.

Quais estão corretas?

- A) Apenas I.
- B) Apenas II.
- C) Apenas I e II.
- D) Apenas II e III.
- E) I, II e III.

QUESTÃO 46 – Em um atendimento clínico com diagnóstico de taquicardia sinusal, foi solicitado ao motorista socorrista um equipamento. Qual aparelho o motorista deveria levar para auxiliar no diagnóstico?

- A) Ambu.
- B) Monitor.
- C) Bomba de infusão.
- D) Cilindro de oxigênio.
- E) Cateter nasal.

QUESTÃO 47 – Sobre o alternador, analise as assertivas abaixo e assinale a alternativa correta.

- I. É acionado pela bateria.
 - II. Gera corrente alternada.
 - III. Sua ligação é feita por uma correia.
- A) Todas assertivas estão corretas.
 - B) Todas assertivas estão incorretas.
 - C) Apenas a assertiva I está correta.
 - D) Apenas a assertiva II está correta.
 - E) Apenas as assertivas II e III estão corretas.

QUESTÃO 48 – Conforme o CTB, a Carteira Nacional de Habilitação Categoria A (CNH A) NÃO permite ao condutor habilitado dirigir veículo do tipo:

- A) Quadriciclos.
- B) Motonetas.
- C) Triciclos.
- D) Moto com carro lateral.
- E) Ciclomotores.

QUESTÃO 49 – A cassação da CNH por embriaguez é uma punição grave e severa do CTB e ocorre:

- A) No caso de reincidência, dentro do prazo de doze meses.
- B) Se o resultado do teste do bafômetro for negativo.
- C) Após dirigir por doze meses com habilitação suspensa.
- D) Se realizado somente curso de reciclagem.
- E) Nenhuma das alternativas anteriores está correta.

QUESTÃO 50 – Segundo o CTB, o motorista habilitado na categoria D poderá conduzir veículos do tipo, EXCETO:

- A) Coletivos elétricos.
- B) Vans.
- C) Ciclomotores.
- D) Micro-ônibus.
- E) Caminhão.

QUESTÃO 51 – Um cidadão sofreu engasgo por corpo estranho e a emergência foi acionada. Sobre esse caso, NÃO é recomendada para salvar a vítima:

- A) Fazer compressões na região epigástrica.
- B) Deixá-la parada até chegar o socorro.
- C) Fazer impulsos contra o estômago.
- D) Aplicar compressões rápidas e fortes no abdômen.
- E) Aplicar a manobra de Heimlich.

QUESTÃO 52 – Sobre os medicamentos e substâncias disponíveis nas ambulâncias, são obrigatórios e deverão constar nos veículos de Suporte Avançado de Vida, EXCETO:

- A) Analgesia e anestesia.
- B) Nutrição parenteral.
- C) Soros.
- D) Psicotrópicos.
- E) Água destilada.

QUESTÃO 53 – Com base no Suporte Básico de Vida, as medidas que visam restabelecer a circulação espontânea em adultos vítimas de parada cardiorrespiratória (PCR) são:

- I. Compressões em ciclos de 30 minutos intercalados com a ventilação.
- II. Abertura da via aérea.
- III. Substituição do socorrista que realiza a compressão a cada 10 minutos, para evitar cansaço.

Quais estão corretas?

- A) Apenas I.
- B) Apenas III.
- C) Apenas I e II.
- D) Apenas II e III.
- E) I, II e III.

QUESTÃO 54 – Sobre a direção defensiva, a maioria dos acidentes de trânsito acontece por falha humana e relaciona-se à:

- I. Negligência, caracterizada pela falta de aptidão.
- II. Imperícia, caracterizada pela falta de responsabilidade.
- III. Imprudência, caracterizada pela falta de cuidado.

Quais estão corretas?

- A) Apenas I.
- B) Apenas II.
- C) Apenas III.
- D) Apenas II e III.
- E) I, II e III.

QUESTÃO 55 – A tripulação da ambulância do Tipo C é composta por:

- I. Bombeiros militares.
- II. Profissionais reconhecidos pelo gestor público.
- III. Policiais rodoviários com certificação em salvamento e suporte básico de vida.

Quais estão corretas?

- A) Apenas I.
- B) Apenas II.
- C) Apenas III.
- D) Apenas I e III.
- E) I, II e III.

QUESTÃO 56 – José, motorista socorrista, irá conduzir uma ambulância do ponto A para o ponto B, distantes entre si 300 km. Para percorrer essa distância, encheu o tanque com 60 litros de combustível. Em média, sua ambulância faz 15 km/litro. Depois de chegar ao ponto B, quanto desses 60l sobrou no tanque do veículo?

- A) 2/4.
- B) 3/4.
- C) 2/3.
- D) 1/2.
- E) 1/4.

QUESTÃO 57 – No sistema de freio a disco, alguns componentes trabalham para realizar a frenagem do veículo quando o pedal é acionado. Qual é o componente que entra em atrito diretamente com o disco para realizar a parada?

- A) Pinça.
- B) Cilindro mestre.
- C) Pastilhas.
- D) Fluidos.
- E) Sapatas.

QUESTÃO 58 – Conforme o CTB, o uso de extintores de incêndio é obrigatório nos veículos abaixo, EXCETO:

- A) Caminhão trator.
- B) Ônibus articulado.
- C) Transporte coletivo.
- D) Veículos utilitários.
- E) Bitrem.

QUESTÃO 59 – Segundo o Art. 250 I do CTB, um veículo em movimento pode deixar de manter a luz baixa de dia:

- I. Somente durante a tarde.
- II. Em rodovias de pista simples.
- III. Fora dos perímetros urbanos.

Quais estão corretas?

- A) Apenas I.
- B) Apenas III.
- C) Apenas I e II.
- D) Apenas II e III.
- E) I, II e III.

QUESTÃO 60 – Segundo o CTB, em relação ao transporte de crianças, assinale a alternativa correta.

- A) Com idade inferior a 12 anos devem ser transportadas no banco traseiro.
- B) É obrigatório o uso do assento de elevação para menores de 1,45 m de altura.
- C) É obrigatório o uso do assento dianteiro por menores de 10 anos.
- D) Menores de 1,30 m com 7 anos devem usar cinto de três pontos.
- E) O uso do assento de elevação é obrigatório até os 4 anos de idade.