

1A3 | Operador de Máquinas

Instruções



Confira o número que você obteve no ato da inscrição com o que está indicado no cartão-resposta.

* A duração da prova inclui o tempo para o preenchimento do cartão-resposta.

Para fazer a prova você usará:

- este **caderno de prova**.
- um **cartão-resposta** que contém o seu nome, número de inscrição e espaço para assinatura.

Verifique, no caderno de prova, se:

- faltam folhas e a sequência de questões está correta.
- há imperfeições gráficas que possam causar dúvidas.

Comunique imediatamente ao fiscal qualquer irregularidade!

Atenção!

- Não é permitido qualquer tipo de consulta durante a realização da prova.
- Para cada questão são apresentadas 5 alternativas diferentes de respostas (a, b, c, d, e). Apenas uma delas constitui a resposta correta em relação ao enunciado da questão.
- A interpretação das questões é parte integrante da prova, não sendo permitidas perguntas aos fiscais.
- Não destaque folhas da prova.

Ao terminar a prova, entregue ao fiscal o caderno de prova completo e o cartão-resposta devidamente preenchido e assinado.



7 de abril



25 questões



8 às 11h



3h de duração*



PREFEITURA DE
CAÇADOR

Desenvolvimento é nosso compromisso

CONCURSO PÚBLICO

Edital 001/2024

Secretaria Municipal
da Administração



Língua Portuguesa

5 questões

1. Assinale a alternativa em que a separação silábica está **correta**.

- a. saú-de
- b. bio-lo-gi-a
- c. chu-rras-co
- d. p-si-có-lo-ga
- e. as-si-na-tu-ra

2. Assinale a alternativa em que a palavra está **corretamente** acentuada.

- a. fácil
- b. feiúra
- c. abençôo
- d. avôzinho
- e. assembléia

3. Assinale a alternativa que completa **corretamente** as lacunas da frases abaixo.

- Esta esponja nova bem a água da pia.
 - Qual era o do vestido da noiva?
 - O de drogas é uma prática ilegal.
- a. absolve • comprimento • tráfico
 - b. absolve • cumprimento • tráfico
 - c. absorve • comprimento • tráfico
 - d. absorve • comprimento • tráfico
 - e. absorve • cumprimento • tráfico

4. Assinale a alternativa que completa **corretamente** as lacunas da frase abaixo, quanto ao uso da crase.

Obedeceu pedido de última hora que aluna fez pressas, após 7 horas da noite.

- a. aquele • a • as • às
- b. aquele • a • às • as
- c. àquele • à • as • às
- d. àquele • à • às • às
- e. àquele • a • às • as

5. Assinale a alternativa na qual a concordância está **correta**.

- a. Ela continua meia esquecida de tudo!
- b. Depois da viagem, andava meio distraída.
- c. Eles mesmo vieram consertar a janela quebrada.
- d. Finalmente, após a festa, os noivos ficaram a só.
- e. Então estamos quite com nossa dívida!

Conhecimento Gerais

5 questões

6. No dia 25/03 foi comemorado o aniversário do município de Caçador.

Quantos anos a cidade completou este ano?

- a. 80 anos
- b. 89 anos
- c. 90 anos
- d. 99 anos
- e. 100 anos

7. Como são chamados os nascidos no município de Caçador?

- a. Caianos
- b. Condenses
- c. Caçarenses
- d. Caçadorenses
- e. Manezinhos

8. Assinale a alternativa que aponta **corretamente** o nome de um município que faz limite com Caçador.

- a. Calmon
- b. Correia Pinto
- c. Curitibaanos
- d. Ibicaré
- e. Salto Veloso

9. Qual o cargo de Alencar Mendes no município de Caçador?

- a. Presidente da Câmara
- b. Intendente
- c. Vereador
- d. Vice-Prefeito
- e. Prefeito

10. Qual o nome do tradicional evento que acontece todos os anos no município de Caçador?

- a. ExpoCaçador
- b. Oktoberfest
- c. CaçadorFest
- d. Festa do Pinhão
- e. Festa da Madeira

Noções de Matemática

5 questões

11. O dobro de um número, mais seis unidades, é 28.

Qual é esse número?

- a. 10
- b. 11
- c. 12
- d. 13
- e. 28

12. Três amigos, João, Pedro e Lucas, gastaram uma certa quantia em uma viagem. João gastou R\$ 100,00 a mais do que o Pedro; João e Pedro juntos gastaram R\$ 300,00 a mais do que Lucas; por fim, Pedro e Lucas juntos gastaram R\$ 50,00 a mais do que João.

O valor que João gastou é:

- a. Menor que R\$ 260.
- b. Mais de R\$ 260 e menos de R\$ 270.
- c. Mais de R\$ 270 e menos de R\$ 280.
- d. Mais de R\$ 280 e menos de R\$ 290.
- e. Mais de R\$ 290.

13. Um aluno ganha 5 pontos por cada exercício que acerta e perde 3 pontos por cada exercício que erra.

Esse aluno faz 15 exercícios, acertando 12 e errando 3.

Quantos pontos ele faz ao final?

- a. Menos de 50
- b. Mais de 50 e menos de 53
- c. Mais de 53 e menos de 56
- d. Mais de 56 e menos de 59
- e. Mais de 59

14. Um trem parte de uma estação às 8:45 da manhã e chega ao destino às 12:30 da tarde.

Quanto tempo o trem levou para percorrer o trajeto?

- a. 3 horas e 15 minutos
- b. 3 horas e 30 minutos
- c. 3 horas e 45 minutos
- d. 4 horas e 15 minutos
- e. 4 horas e 45 minutos

15. Um pedreiro leva 4 horas para construir um muro de 15 metros de comprimento.

Quantas horas ele levará para construir um muro de 60 metros de comprimento, mantendo o mesmo ritmo de trabalho?

- a. 10 horas
- b. 12 horas
- c. 15 horas
- d. 16 horas
- e. 18 horas

Conhecimentos Específicos

10 questões

16. De acordo com a Lei Orgânica do Município de Caçador, compete ao município prover a tudo que diga respeito ao seu peculiar interesse e ao bem-estar de sua população, cabendo-lhe, dentre outras, as seguintes atribuições:

1. legislar sobre populações indígenas.
2. legislar sobre assuntos de interesse local.
3. suplementar a legislação federal e estadual, no que couber.

Assinale a alternativa que indica todas as afirmativas corretas.

- a. É correta apenas a afirmativa 2.
- b. São corretas apenas as afirmativas 2 e 3.
- c. São corretas apenas as afirmativas 1 e 2.
- d. São corretas apenas as afirmativas 1 e 3.
- e. São corretas as afirmativas 1, 2 e 3.






17. Conforme o Código de Trânsito Brasileiro vigente, de acordo com sua classificação, são consideradas vias rurais as:

- a. vias arteriais.
- b. vias coletoras.
- c. vias de trânsito rápido.
- d. vias locais.
- e. rodovias.

18. De acordo com o Código de Trânsito Brasileiro vigente, o trânsito de veículos sobre passeios, calçadas e nos acostamentos só poderá ocorrer:

- a. para desviar de obras ou acidentes.
- b. por veículos de duas rodas.
- c. durante a madrugada.
- d. para que se adentre ou se saia dos imóveis ou áreas especiais de estacionamento.
- e. quando não há mais espaço de estacionamento na via pública.

19. De acordo com o Código de Trânsito Brasileiro vigente, a placa de sinal de advertência, que indica "depressão", é:

- a. 
- b. 
- c. 
- d. 
- e. 

20. Ao se deparar com um acidente, a primeira ação que deve ser tomada para garantir um socorro adequado às eventuais vítimas é:

- a. Manter a calma.
- b. Pedir socorro.
- c. Verificar a situação das vítimas.
- d. Realizar ações de primeiros socorros nas vítimas.
- e. Sinalizar e desviar o tráfego no local do acidente.

21. O componente apresentado na imagem ao lado recebe o nome de:

- a. Pistão.
- b. Biela.
- c. Anel.
- d. Virabrequim.
- e. Comando de válvulas.



22. O componente que é responsável por fornecer pressão hidráulica para que os freios sejam acionados nas rodas é chamado de:


- a. Cilindro mestre.
- b. Tambor de freio.
- c. Pastilha de freio.
- d. Reservatório do óleo de freio.
- e. Lona de freio.

23. Entre os fluidos utilizados em uma motoniveladora, o que deve apresentar maior viscosidade é o:

- a. Óleo do motor.
- b. Óleo hidráulico.
- c. Líquido de arrefecimento.
- d. Óleo de diferencial.
- e. Óleo do sistema de freio.

24. O símbolo ilustrado ao lado representa:

- a. a temperatura do líquido de arrefecimento do motor.
- b. a temperatura do combustível.
- c. a pressão do óleo de transmissão.
- d. o filtro de óleo do motor.
- e. a temperatura do óleo hidráulico.



25. Assinale a alternativa que indica **corretamente** o tipo de máquina que é mais indicado para realizar operações como carregamento de terra, cascalho e resíduos nas áreas mais estreitas da obra, com espaços menores, e que necessitam de precisão.

- a. Pá carregadeira
- b. Escavadeira hidráulica
- c. Minicarregadeira
- d. Trator de esteira
- e. Motoniveladora

Coluna
em Branco.
(rascunho)

Utilize a grade ao lado para anotar as suas respostas.

Não destaque esta folha. Ao entregar sua prova, o fiscal irá destacar e entregar esta grade de respostas que você poderá levar para posterior conferência.



GRADE DE RESPOSTAS

1		1A3 Operador de Máquinas	16	
2			17	
3			18	
4			19	
5			20	
6			21	
7			22	
8			23	
9			24	
10			25	
11				
12				
13				
14				
15				



**PREFEITURA DE
CAÇADOR**
Desenvolvimento é nossa promessa

CONCURSO PÚBLICO

Edital 001/2024

Secretaria Municipal
da Administração





FUNDAÇÃO DE ESTUDOS E PESQUISAS SOCIOECONÔMICOS

Campus Universitário • UFSC
88040-900 • Florianópolis • SC
Fone/Fax: (48) 3953-1000
<http://www.fepese.org.br>