



# ASSEMBLEIA LEGISLATIVA DO ESTADO DO PARANÁ

CONCURSO PÚBLICO – EDITAL Nº 02/2024

## PROVA OBJETIVA – (MANHÃ)

### ANALISTA LEGISLATIVO ECONOMISTA

NÍVEL SUPERIOR – TIPO 1 – BRANCA



#### SUA PROVA

- Além deste caderno contendo **70 (setenta)** questões objetivas, você receberá do fiscal de prova o cartão de respostas e folha de texto definitivo;
- As questões objetivas têm **5 (cinco)** opções de resposta (A, B, C, D e E) e somente uma delas está correta.
- A prova discursiva deve ser redigida em até 30 (trinta) linhas.



#### TEMPO

- Você dispõe de **4 (quatro) horas e 30 (trinta minutos)** para a realização da prova, já incluído o tempo para a marcação do cartão de respostas e o preenchimento da folha de texto definitivo;
- **3 (três) horas** após o início da prova, é possível retirar-se da sala, sem levar o caderno de questões;
- A partir dos **30 (trinta) minutos** anteriores ao término da prova é possível retirar-se da sala **levando o caderno de questões**.



#### NÃO SERÁ PERMITIDO

- Qualquer tipo de comunicação entre os candidatos durante a aplicação da prova;
- Anotar informações relativas às respostas em qualquer outro meio que não seja o caderno de questões;
- Levantar da cadeira sem autorização do fiscal de sala;
- Usar o sanitário ao término da prova, após deixar a sala.



#### INFORMAÇÕES GERAIS

- Verifique se seu caderno de questões está completo, sem repetição de questões ou falhas. Caso contrário, **notifique imediatamente o fiscal da sala**, para que sejam tomadas as devidas providências;
- Confira seus dados pessoais, especialmente nome, número de inscrição e documento de identidade e leia atentamente as instruções para preencher o cartão de respostas e a folha de texto definitivo;
- Para o preenchimento do cartão de respostas e da folha de texto definitivo, use somente caneta esferográfica, fabricada em material transparente, com tinta preta ou azul;
- Assine seu nome apenas no(s) espaço(s) reservado(s) no cartão de respostas e na folha de texto definitivo;
- Confira seu cargo, cor e tipo do caderno de questões. Caso tenha recebido caderno de cargo ou cor ou tipo **diferente** do impresso em seu cartão de respostas, o fiscal deve ser **obrigatoriamente** informado para o devido registro na ata da sala;
- Reserve tempo suficiente para o preenchimento do seu cartão de respostas. O preenchimento é de sua responsabilidade e **não será permitida a troca do cartão de respostas e folha de texto definitivo em caso de erro cometido pelo candidato**;
- Para fins de avaliação, serão levadas em consideração apenas as marcações realizadas no cartão de respostas e na folha de texto definitivo;
- A FGV coletará as impressões digitais dos candidatos na lista de presença;
- Os candidatos serão submetidos ao sistema de detecção de metais quando do ingresso e da saída de sanitários durante a realização das provas.
- **Boa prova!**



## CONHECIMENTOS GERAIS

### Língua Portuguesa

1

A citação da fala de uma atriz de teatro dizia o seguinte:

“Não, sou projetada. A coxa é minha, o abdome também. Inclusive o peito é meu, eu comprei ele (sic)”.

Sobre essa fala, assinale a afirmativa correta.

- (A) O emprego de “Não” ao início do texto mostra que a fala responde a uma pergunta que afirmava ser a atriz uma construção da cirurgia plástica.
- (B) Ao dizer “A coxa é minha”, a atriz está querendo dizer que não houve modificações plásticas em sua coxa.
- (C) Ao dizer que “o peito é meu”, a atriz mostra que tem preocupações estéticas em sua atividade.
- (D) A fala da atriz mostra um erro na construção da frase “Eu comprei ele”, sendo a forma correta “eu lhe comprei”.
- (E) O emprego do latinismo “sic” mostra que a frase foi modificada pelo jornalista para publicação.

2

Observe o seguinte texto do escritor Mário da Silva Brito:

“Os judeus esperam, até hoje, pelo seu Messias, mas, no fundo, torcem para que ele não venha: temem que também ele os persiga”.

Assinale a afirmativa **inadequada** em função da frase acima.

- (A) A frase faz uma referência implícita a um fato religioso, o da espera de um Messias pelos judeus.
- (B) O escritor indica a presença do antissemitismo em nossa sociedade moderna.
- (C) O expressão “até hoje” mostra que o autor da frase considera o tempo de espera como demasiadamente longo.
- (D) O segmento colocado após os dois pontos (:) traz a explicação de algo dito anteriormente.
- (E) O emprego do possessivo “seu” na expressão “seu Messias” mostra as ligações afetivas em relação a esse Messias.

3

Um dos Evangelhos traz a seguinte passagem:

“Se alguém não vos recebe e não dá ouvidos a vossas palavras, saí daquela casa ou daquela cidade e sacudi o pó de vossos pés”.

A tradução do texto do Evangelho de Mateus traz alguns problemas, entre os quais está

- (A) o termo “daquela cidade” não mostra, nesse segmento, um antecedente explícito.
- (B) os possessivos “vossas” e “vossos” estão mal-empregados porque o texto está expresso em terceira pessoa.
- (C) a forma do imperativo “sacudi” deveria ser substituída por “sacudam”.
- (D) as formas do demonstrativo “aquela” e “aquele” deveriam ser respectivamente substituídas por “essa” e “esse”.
- (E) a forma popular “dá ouvidos” deveria ser substituída por uma só forma verbal, como “escuta”.

4

Uma escritora americana declarou o seguinte:

“Durante toda a minha vida quis ser alguém. Descubro agora que deveria ter sido mais específica”.

Sobre essa frase, assinale a afirmativa correta.

- (A) Entre os dois períodos do texto há uma relação respectivamente de causa / consequência.
- (B) A expressão “ser alguém” está empregada em lugar de, por exemplo, “casar e ter filhos”.
- (C) A mais especificidade referida no texto se prende à expressão “ser alguém”.
- (D) O advérbio “agora” marca uma mudança de tempo e não de opinião.
- (E) A frase mostra que a enunciadora da frase obteve sucesso, mas que preferia uma vida mais simples.

5

Assinale a frase em que a modificação de uma oração reduzida para uma forma nominal tenha sido feita de forma **inadequada**.

- (A) Ir para a cama cedo e levantar-se cedo torna um homem são, rico e sábio. / a ida para a cama cedo e o levantamento cedo.
- (B) A função de todos os diretores executivos é destruir boas ideias. / a destruição de boas ideias.
- (C) Mais vale agir sem arrependimento do que se arrepender de não ter feito nada. / a ação sem arrependimento.
- (D) Economizei o dinheiro para pagar meu imposto de renda. / para pagamento de.
- (E) Ninguém consegue promover uma pessoa feia, chata e pobre. / a promoção de uma pessoa.

6

Um pensador indiano declarou: “A vida é como um jogo de cartas. A mão que as distribuem representa determinismo. A forma como você as joga é o livre arbítrio”.

Sobre esse pensamento, assinale a afirmação correta.

- (A) A comparação inicial do texto é explicada de forma objetiva a seguir.
- (B) Os termos “determinismo” e “livre arbítrio” aparecem como sinônimos no texto.
- (C) As duas ocorrências do vocábulo “as” se referem a antecedentes diferentes.
- (D) As ações dos dois últimos períodos se referem a diferentes agentes.
- (E) O pensamento representa uma visão otimista da vida humana, já que dirigida pelo próprio homem.

7

O líder de um antigo partido político brasileiro declarou certa vez: “O meu partido não agirá como macaco em cristaleira, mas também não vai se acocorar”.

Sobre essa declaração, assinale a afirmativa correta.

- (A) A frase-resposta define claramente a posição de um partido político diante de um problema.
- (B) “agir como macaco em cristaleira” e “acocorar-se” mostram duas posições opostas a serem tomadas pelo partido político em questão.
- (C) O segmento “mas também” tem valor semântico de adição.
- (D) As duas atitudes citadas são, respectivamente a de agitação e a de acomodação.
- (E) Os dois segmentos oracionais se opõem com valor alternativo, como se fossem ligados por “ou”.

**8**

Assinale a frase que mostra uma estruturação diferente das demais, por **não** ser uma definição.

- (A) Negócios são a minha forma de arte.
- (B) A genialidade não é outra coisa senão uma grande aptidão para a paciência.
- (C) A inteligência é feita por um terço de instinto, um terço de memória e o último terço de vontade.
- (D) A genialidade é uma variedade da loucura.
- (E) A liberdade é um conceito vago.

**9**

Assinale a frase que não se apoia em um outro texto amplamente conhecido (intertextualidade).

- (A) Não faça de seu cargo uma arma; a vítima pode ser você.
- (B) Quem não deve não tem.
- (C) Às vezes, a alegria do dono do circo é ver o palhaço pegar fogo.
- (D) No Brasil, sucesso é ofensa pessoal.
- (E) Quem espera, nunca alcança.

## Raciocínio Lógico Matemático

**10**

Uma escola de ensino médio oferece a seus estudantes cursos extras de francês, italiano e alemão. Os estudantes podem frequentar um ou mais desses cursos. Uma turma dessa escola tem 50 alunos no total. Todos os estudantes dessa turma frequentam pelo menos um dos três cursos extras de idiomas oferecidos pela escola, sendo que 30 frequentam o curso de francês, 20 frequentam italiano e 10 frequentam alemão. Sabe-se ainda que 10 frequentam simultaneamente francês e italiano, 8 frequentam simultaneamente francês e alemão e 6 frequentam simultaneamente italiano e alemão.

Assinale a opção que indica o número de alunos da turma frequentam simultaneamente os três cursos de idiomas oferecidos pela escola.

- (A) 6
- (B) 10
- (C) 14
- (D) 34
- (E) 86

**11**

As grandes distancias entre objetos astronômicos (estrelas, planetas, etc.) são, em geral, expressas por meio da distância que a luz percorre em determinada unidade de tempo no vácuo. Por exemplo, um ano-luz é a distância que a luz percorre em um ano, um minuto-luz é a distância que a luz percorre em um minuto no vácuo.

Assim expressamos a distância média entre a Terra e Sol, que é de, aproximadamente, 8,3 minutos-luz. Já a distância média entre a Terra e Lua é de, aproximadamente, 1,3 segundos-luz.

Considerando esses valores, assinale a o número que melhor aproxima a razão entre as distâncias entre a Terra e o Sol e entre a Terra e a Lua.

- (A) 6,38
- (B) 70,00
- (C) 100,79
- (D) 283,70
- (E) 383,07

**12**

Diego comprou uma televisão que estava anunciada por um valor de venda de R\$2000,00. Negociando na loja, ele conseguiu um generoso desconto de 20% em relação ao valor anunciado de venda.

Assinale a opção que indica a que porcentagem do valor pago por Diego corresponde o acréscimo que ele teria caso tivesse pagado o valor anunciado de venda.

- (A) 10%.
- (B) 16%.
- (C) 20%.
- (D) 25%.
- (E) 40%.

**13**

Em uma visita a um museu, o guia levou o grupo até uma sala com 6 portas. Na sala, todas as portas ficaram fechadas. Para a saída do grupo, o guia pretende abrir algumas das portas.

Sabendo que uma das portas não pode ser aberta, assinale a opção que indica o número de maneiras que se pode abrir esta sala.

- (A) 4.
- (B) 6.
- (C) 24.
- (D) 31.
- (E) 32.

**14**

O número real  $\frac{1}{\sqrt{3}+\sqrt{2}}$  é igual a

- (A)  $\sqrt{3} - \sqrt{2}$
- (B)  $\sqrt{3} + \sqrt{2}$
- (C)  $\frac{\sqrt{3}+\sqrt{2}}{5}$
- (D)  $\frac{1}{\sqrt{5}}$
- (E)  $\frac{1}{\sqrt{6}}$

**15**

Marcela e Caio estão treinando para participar de uma meia maratona. Marcela consegue fazer um percurso próximo à sua casa em 45 minutos, a uma velocidade média de 20km/h.

Caio faz o mesmo percurso em 1 hora e 15 minutos.

Assinale a opção que indica a velocidade média de Caio nesse percurso.

- (A) 10km/h
- (B) 12km/h
- (C) 15km/h
- (D) 16km/h
- (E) 25km/h

**16**

Um retângulo com  $12\text{cm}^2$  de área tem um dos lados com o triplo do comprimento do outro.

Assinale a opção que indica a medida do perímetro desse retângulo.

- (A) 12cm.
- (B) 14cm.
- (C) 16cm.
- (D) 18cm.
- (E) 28cm.

**17**

Mauro tem 23 balas. Ele come  $n$  balas e divide o restante igualmente entre seus três filhos, de modo que cada filho recebe um número inteiro de balas.

Assinale o valor que  $n$  **não** pode assumir.

- (A) 2.
- (B) 5.
- (C) 9.
- (D) 11.
- (E) 14.

**18**

Um triângulo isósceles tem os vértices da base nos pontos de coordenadas (3,0) e (7,0) no plano cartesiano.

Sabendo-se que a medida da área do triângulo é de 20, determine as coordenadas de seu terceiro vértice.

- (A) (5,10)
- (B) (5,5)
- (C) (7,3)
- (D) (3,7)
- (E) (10,5)

## Regimento Interno da Assembleia Legislativa do Estado do Paraná

**19**

O Regimento Interno da Assembleia Legislativa disciplina a forma como será apresentada e votada a emenda à Constituição Estadual.

Sobre o tema e de acordo com o referido regimento interno, assinale a afirmação correta.

- (A) A proposta será submetida a dois turnos de discussão e votação, com interstício de duas sessões e será aprovada a proposta, pelo processo nominal, que obtiver, em ambos os turnos, o voto favorável de  $2/3$  (dois terços) dos membros da Assembleia Legislativa.
- (B) As propostas de emenda à Constituição do Estado poderão ser apresentadas por iniciativa parlamentar, desde que com o apoio de, no mínimo,  $2/3$  (dois terços) dos Parlamentares.
- (C) As propostas de emenda à Constituição do Estado poderão ser apresentadas por iniciativa subscrita por, pelo menos,  $1/3$  (um terço) dos Presidentes das Câmaras Municipais do Estado, manifestando-se cada uma delas por  $1/3$  (um terço) de seus membros.
- (D) Caso o parecer da Comissão de Constituição e Justiça seja pela inadmissibilidade da proposta, o autor da proposição poderá, no prazo de dez dias, contado da data da publicação da ata da sessão na qual o parecer foi aprovado, requerer a apreciação do parecer da Comissão de Constituição e Justiça em Plenário.
- (E) A Comissão Especial, composta por três membros a serem indicados pelos líderes conforme quociente de representação, terá o prazo de 5 (cinco) dias da publicação da proposição para compor Comissão Especial e poderão ser apresentadas emendas à proposição no prazo de duas sessões ordinárias contado da instauração da Comissão Especial.

**20**

A Comissão de Constituição e Justiça e de Cidadania é uma comissão permanente da atividade legislativa da Assembleia Legislativa do Estado do Paraná.

Sobre a referida Comissão e de acordo com o Regimento Interno da Assembleia Legislativa, assinale a afirmação correta.

- (A) À referida comissão cabe emitir parecer quanto à constitucionalidade, legalidade, juridicidade, adequação regimental e caráter estrutural das proposições; emitir parecer quanto à admissibilidade de propostas de emendas à Constituição; propor, mediante projeto de resolução, a suspensão, no todo ou em parte, de lei ou decreto municipal declarado inconstitucional pelo Tribunal de Justiça; julgar todos os tipos de licitações; autorizar despesas, bem como a assinatura de convênios e de contratos de prestação de serviços, podendo delegar tais atribuições e elaborar a proposta orçamentária da Assembleia e encaminhá-la ao Poder Executivo.
- (B) À referida comissão cabe manifestar-se sobre a denúncia por crime de responsabilidade oferecida contra o Governador do Estado; o Vice-Governador do Estado; os Secretários de Estado; o Procurador-Geral de Justiça; o Procurador-Geral do Estado; e o Defensor-Geral da Defensoria Pública; decidir os pedidos de reconsideração apresentados contra suas decisões e dispor sobre criação, transformação ou extinção de serviços do Poder Legislativo, da sua administração indireta e fixação da respectiva remuneração, observados os parâmetros estabelecidos na Lei de Diretrizes Orçamentárias.
- (C) À referida comissão cabe manifestar-se sobre a perda de mandato de Deputado nos termos deste Regimento; manifestar-se sobre a autorização para instauração de processo de apuração de infração penal comum contra o Governador do Estado; manifestar-se quanto ao mérito de proposições que disponham sobre criação, incorporação, fusão e desmembramento de municípios; transferência temporária da sede do Governo; organização dos poderes do Estado, do Ministério Público e do Tribunal de Contas; intervenção nos municípios; organização e divisão judiciária; alterações de códigos; declaração de utilidade pública de entidades civis; concessão de títulos de cidadania e decidir os pedidos de reconsideração apresentados contra suas decisões.
- (D) À referida comissão cabe manifestar-se sobre representações e recursos dos atos do Tribunal de Contas; opinar no julgamento das contas do Governador; auxiliar na tomada das contas do Governador quando não apresentadas dentro de sessenta dias após a abertura da sessão legislativa; fiscalizar as entidades da administração indireta; e apreciar, anualmente, as contas do Tribunal de Contas.
- (E) À referida comissão cabe manifestar-se sobre proposição que tenha como objeto a criação, modificação, extinção ou regulamentação de direitos individuais e coletivos relativos à pessoa humana e à cidadania, especialmente os instituídos pelo art. 5º da Constituição Federal e referentes a quilombolas, indígenas, migrantes, refugiados, apátridas, ciganos, cidadãos em situação de risco, excluídos ou discriminados e proposições relativas ao resguardo, criação ou extinção de órgãos do Estado que atendam ou defendam os direitos humanos.

**21**

As audiências públicas são reuniões realizadas pelas comissões com a participação de cidadãos, órgãos e entidades públicas ou civis para instruir a análise de alguma proposição em tramitação na Câmara ou para tratar de questão de interesse público relevante que esteja dentro dos temas reservados para a comissão.

Diante do exposto e de acordo com o Regimento Interno da Assembleia Legislativa, assinale a afirmação correta.

- (A) Será permitida a inscrição de integrante de entidade civil interessada durante a audiência para usar a palavra, no número máximo de dez inscrições, tendo como prazo para formular seus questionamentos e ponderações vinte minutos e a população também poderá enviar questionamentos e posicionamentos por meio do site oficial da Assembleia Legislativa do Estado do Paraná, em local específico criado para cada audiência pública.
- (B) Caso o expositor se desvie do assunto ou perturbe a ordem dos trabalhos, o Presidente da Comissão poderá adverti-lo, cassar-lhe a palavra ou determinar a sua retirada do recinto, e a parte convidada não poderá valer-se de assessores credenciados e os Deputados inscritos para interpelar o expositor poderão fazê-lo, pelo prazo de trinta minutos, tendo o interpelado igual dez minutos para responder, vedadas a réplica e a tréplica, não sendo permitido ao orador interpelar qualquer dos presentes.
- (C) Caberá às Comissões Temporárias e Permanentes, observadas suas competências específicas, convocar audiências públicas com entidades da sociedade civil, sempre abertas à participação popular, para debater e instruir matéria legislativa em trâmite, bem como para tratar de assuntos de interesse público relevante, atinentes à sua área de atuação, mediante deliberação e autorização da maioria absoluta da mesa, proposta de qualquer membro ou a pedido de entidade interessada.
- (D) Aprovada a realização de audiência pública, a Comissão selecionará para serem ouvidas as autoridades, as pessoas interessadas e os especialistas ligados às entidades participantes, cabendo ao Presidente da Assembleia Legislativa expedir os convites. Lavrar-se-á ata da audiência pública, arquivando-se, no âmbito da Comissão e da Assembleia, os pronunciamentos escritos e documentos que os acompanharem. Os documentos referidos serão disponibilizados mediante requerimento e autorização do Presidente da Assembleia Legislativa.
- (E) Na hipótese de haver defensores e opositores relativamente à matéria objeto de exame, a Comissão procederá de forma que possibilite a apresentação das diversas correntes de opinião e o convidado deverá limitar-se ao tema ou questão em debate e disporá, para tanto, de vinte minutos, prorrogáveis a juízo da Comissão, não podendo ser apartado.

22

A iniciativa popular pode ser exercida pela apresentação à Assembleia Legislativa de projeto de lei subscrito por, no mínimo, 1% (um por cento) do eleitorado estadual, distribuído em pelo menos cinquenta municípios, com 1% (um por cento) de eleitores inscritos em cada um deles, obedecidas certas condições, com a exceção de

- (A) a assinatura de cada eleitor deverá ser acompanhada de seu nome completo e legível, endereço e dados identificadores de seu título eleitoral e as listas de assinaturas serão organizadas por municípios e distritos administrativos ou judiciários, em formulários padronizados pela Mesa da Assembleia.
- (B) o projeto será instruído com documento hábil do Tribunal Regional Eleitoral quanto ao contingente de eleitores alistados em cada território municipal, aceitando-se, para esse fim, os dados referentes ao ano anterior, se não disponíveis outros mais recentes e será lícito à entidade da sociedade civil patrocinar a apresentação de projetos de iniciativa popular, responsabilizando-se inclusive pela coleta de assinaturas.
- (C) o projeto será protocolado e encaminhado ao Presidente da Assembleia, que verificará se foram cumpridas as exigências constitucionais para sua apresentação e o projeto de lei de iniciativa popular terá a mesma tramitação dos demais, integrando sua numeração geral.
- (D) nas Comissões ou em Plenário, poderá usar da palavra para discutir o projeto de lei, pelo prazo de vinte minutos, o primeiro signatário, ou quem este tiver indicado quando da apresentação e cada projeto de lei deverá circunscrever-se a um mesmo assunto, podendo, caso contrário, ser desdobrado pela Comissão de Constituição e Justiça em proposições autônomas, para tramitação em separado.
- (E) será rejeitado, liminarmente, projeto de lei de iniciativa popular por vícios de linguagem, lapsos ou imperfeições de técnica legislativa, não incumbindo à Comissão de Constituição e Justiça sanar os referidos vícios para sua tramitação e nos projetos de lei de iniciativa popular a Mesa designará Deputado, previamente indicado pelo Presidente da Assembleia Legislativa, para exercer os poderes e atribuições conferidos pelo Regimento ao autor da proposição.

## Constituição do Estado do Paraná

23

O Tribunal de Contas, integrado por sete conselheiros, tem sede na Capital do Estado, quadro próprio de pessoal e jurisdição em todo o território estadual, exercendo, no que couber, as atribuições previstas na Constituição do Estado do Paraná.

Diante do exposto, de acordo com a Constituição do Estado do Paraná e da República e a jurisprudência do Supremo Tribunal Federal, é correto afirmar que

- (A) qualquer cidadão, partido político, associação ou entidade sindical é parte legítima para, na forma da lei, denunciar irregularidades ou ilegalidades perante o Tribunal de Contas do Estado e as decisões fazendárias de última instância, contrárias ao erário, serão apreciadas pelo Tribunal de Contas em grau de recurso.
- (B) os conselheiros do Tribunal de Contas do Estado serão nomeados dentre brasileiros que tenham mais de vinte e cinco e menos de cinquenta e cinco anos de idade, idoneidade moral e reputação ilibada, notórios conhecimentos jurídicos, econômicos, financeiros, contábeis ou de administração pública e mais de cinco anos de exercício de função ou de efetiva atividade profissional que exija os conhecimentos mencionados.
- (C) os conselheiros do Tribunal de Contas do Estado serão escolhidos dois pelo Governador do Estado, com a aprovação da Assembleia Legislativa, alternadamente, entre auditores e membros do Ministério Público junto ao Tribunal, indicados em lista tríplice pelo mesmo Tribunal, segundo os critérios de antiguidade e merecimento.
- (D) os conselheiros do Tribunal de Contas do Estado serão escolhidos dois pelo Governador do Estado, alternadamente, entre auditores, membros do Ministério Público junto ao Tribunal, indicados em lista tríplice pelo mesmo Tribunal, segundo os critérios de antiguidade e merecimento e livre escolha e cinco pela Assembleia Legislativa.
- (E) os conselheiros do Tribunal de Contas do Estado serão escolhidos quatro pela Assembleia Legislativa e três pelo chefe do Poder Executivo estadual, com a aprovação da Assembleia Legislativa, cabendo ao Governador indicar um dentre auditores e outro dentre membros do Ministério Público, e um terceiro a sua livre escolha.

**24**

O exercício das atribuições da Procuradoria-Geral do Estado é privativo dos procuradores integrantes da carreira, que será organizada e regida por estatuto próprio, definido em lei, com observância dos artigos 39 e 132 da Constituição Federal de 1988.

Diante do exposto, de acordo com a Constituição do Estado do Paraná e da República e a jurisprudência do Supremo Tribunal Federal, é correto afirmar que

- (A) ofende a Constituição da República a previsão da Constituição do Estado do Paraná que não obriga que o Procurador-Geral do Estado, chefe da instituição, seja escolhido dentre os integrantes da carreira.
- (B) ofende a Constituição da República a previsão da Constituição do Estado do Paraná que garante aos Procuradores do Estado a prerrogativa da inamovibilidade, na forma da lei.
- (C) o ingresso na carreira de procurador far-se-á na classe inicial, mediante concurso público específico de provas e títulos, organizado e realizado pela Procuradoria-Geral do Estado e a estabilidade ocorrerá após dois anos de efetivo exercício, mediante avaliação de desempenho.
- (D) ofende a Constituição a previsão da Constituição do estado que veda aos procuradores do Estado a percepção de honorários decorrentes da sucumbência.
- (E) ofende a Constituição da República o dispositivo que veda aos procuradores do Estado o exercício da advocacia fora das funções institucionais.

**25**

De acordo com a Constituição do Estado do Paraná, quando o Tribunal de Justiça apreciar a inconstitucionalidade, em tese, de norma legal ou ato normativo estadual, citará previamente o Procurador-Geral do Estado e o Procurador-Geral da Assembleia Legislativa, que defenderão o ato ou texto impugnado, ou, no caso de norma legal ou ato normativo municipal, o Prefeito e o Presidente da Câmara, para a mesma finalidade.

Sobre a ação direta de inconstitucionalidade em face da Constituição do Estado do Paraná, é correto afirmar que

- (A) é parte legítima para propor a ação direta de inconstitucionalidade de lei ou ato normativo estadual ou municipal, em face da Constituição do Estado do Paraná, o Defensor Público Geral do Estado do Paraná.
- (B) somente pelo voto da maioria absoluta dos seus membros ou dos membros do órgão especial, poderá o Tribunal de Justiça declarar a inconstitucionalidade de lei ou ato normativo do Poder Público e o Procurador-Geral de Justiça será sempre ouvido nas ações de inconstitucionalidade, mesmo quando não for o autor da ação.
- (C) poderá ser reconhecida a inconstitucionalidade por omissão de medida para tornar efetiva norma desta Constituição, a decisão será comunicada ao poder competente para adoção das providências necessárias à prática do ato ou início do processo legislativo, e, em se tratando de órgão administrativo, para emití-lo em 90 (noventa) dias, sob pena de responsabilidade.
- (D) é parte legítima para propor a ação direta de inconstitucionalidade de lei ou ato normativo estadual ou municipal, em face da Constituição do Estado do Paraná, o Prefeito de município localizado no Estado do Paraná.
- (E) foi declarado inconstitucional pelo Supremo Tribunal Federal o dispositivo previsto na Constituição do Estado do Paraná que exclui o Governador e o Presidente da Assembleia Legislativa da citação prévia para defender o ato normativo quando este for estadual.

**26**

O Art. 165 da Constituição do Estado do Paraná prevê que o Estado, em ação conjunta e integrada com a União, Municípios e a sociedade, tem o dever de assegurar os direitos relativos à saúde, à alimentação, à educação, ao lazer, à profissionalização, à capacitação para o trabalho, à cultura e de cuidar da proteção especial da família, da mulher, da criança, do adolescente, do idoso e do índio.

Diante do exposto e de acordo com a Constituição do Estado do Paraná é correto afirmar que

- (A) o Estado aplicará, anualmente, 10% (dez por cento), no mínimo, e os Municípios aplicarão, anualmente, 15% (quinze por cento), no mínimo, da receita resultante de impostos, compreendida a proveniente de transferências, na manutenção e desenvolvimento do ensino público.
- (B) o ensino da língua alemã constituirá disciplina de oferta obrigatória na matriz curricular do Ensino Fundamental II e do Ensino Médio, em horários e locais definidos pelos sistemas de ensino, com implementação gradativa até o ano de 2026 e carga horária mínima de duas horas/aula semanais, constituindo-se em disciplina de caráter optativo aos estudantes.
- (C) o Estado e os Municípios dotarão os serviços de saúde de meios adequados ao atendimento à saúde, garantindo, na forma regulamentada por Lei Complementar, exames periódicos gratuitos para os domiciliados no Estado, objetivando prevenção do câncer e do diabetes, garantindo aos portadores o fornecimento de medicamentos e insumos destinados ao tratamento e controle destas doenças e exames semestrais aos alunos da rede pública de ensino objetivando prevenção do câncer e do diabetes, além de campanhas educativa.
- (D) o Estado destinará, deduzidos os prêmios e as despesas operacionais, setenta por cento do produto da arrecadação de concursos de prognósticos de números aos Municípios, para programas de assistência social e de apoio ao esporte amador.
- (E) o Estado manterá o Fundo Estadual de Saúde, a ser criado na forma da lei, financiado com recursos dos orçamentos da seguridade social, da União, do Estado e dos Municípios, além de outras fontes, e é autorizada a destinação de recursos públicos para auxílio ou subvenções a instituições privadas com fins lucrativos.



## História e Geografia do Estado do Paraná

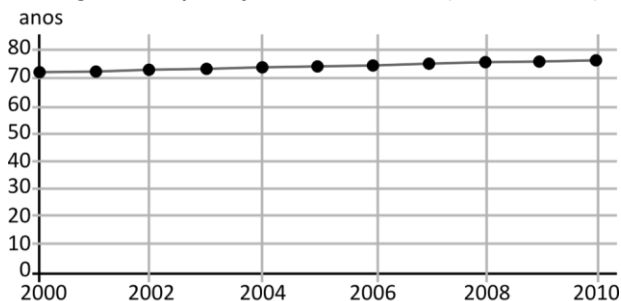
27

Texto:

O Índice de Desenvolvimento Humano (IDH) compara indicadores de países nos itens riqueza, alfabetização, educação, esperança de vida, natalidade e outros, com o intuito de avaliar o bem-estar de uma população, especialmente das crianças. Varia de zero a um e é divulgado pelo Programa das Nações Unidas para o Desenvolvimento (Pnud) em seu relatório anual.

Disponível em: [https://www.ipea.gov.br/desafios/index.php?id=2144:catid=28&option=com\\_content](https://www.ipea.gov.br/desafios/index.php?id=2144:catid=28&option=com_content) Acesso: 21 jan. 2024

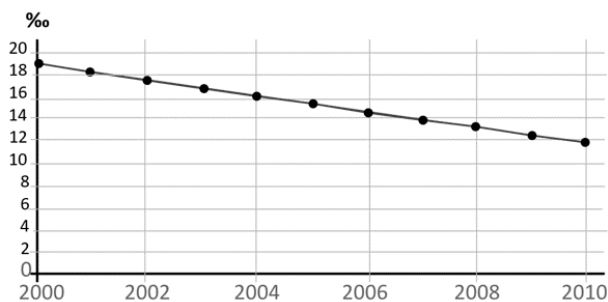
**Figura 1 – Esperança de vida ao nascer (unidade: anos)**



Paraná

Disponível em: <https://cidades.ibge.gov.br/brasil/pr/pesquisa/10086/76551?tipo=grafico&indicador=76559> Acesso: 21 jan. 2024

**Figura 2 – Taxa de mortalidade (unidade: ‰)**



Paraná

Disponível em: <https://cidades.ibge.gov.br/brasil/pr/pesquisa/10086/76551?tipo=grafico&indicador=76559> Acesso: 21 jan. 2024

Com base no indicador apresentado no texto, julgue as variáveis socioeconômicas paranaenses listadas a seguir.

- I A evolução dos dados da figura 1, indica a necessidade de políticas públicas específicas nas áreas de saúde e previdenciária.
- II Os dados apresentados no espaço temporal em ambos os gráficos, contribuem para melhoria do IDH no Estado do Paraná.
- III A variação dos dados da figura 2, ocorre pela diminuição da taxa de natalidade em virtude da adoção de métodos anticoncepcionais.

Está correto o que se afirma em

- (A) II, apenas.
- (B) I e II, apenas.
- (C) I e III, apenas.
- (D) II e III, apenas.
- (E) I, II e III.

28

A hidrovía Paraná-Tietê consiste em uma das principais vias hidroviárias em funcionamento no país, pois é uma importante via para o escoamento da produção agrícola do país.

Sobre o modal de transporte apresentado no texto, analise as afirmativas a seguir.

- I Situada entre as Regiões Sul, Sudeste e Centro-Oeste, permite a navegação e, conseqüentemente, o transporte de cargas e passageiros ao longo das HN-900 Rio Paraná e HN-913 Rio Tietê, tendo um sistema de eclusas viabilizando a passagem pelos desníveis das muitas represas existentes nas duas hidrovias.
- II É denominada de hidrovía ao Mercosul, um dos mais modernos e bem estruturados sistemas hidroviários do país, constituindo uma via de mão dupla entre Brasil e Uruguai, interligando o lago de Itaipu, as lagoas Mirim e a Lagoa dos Patos, sendo um eixo de fundamental importância para o intercâmbio comercial entre os países. Possibilita oportunidades turísticas, facilitando o acesso de turistas do Uruguai e Argentina à Foz do Iguaçu.
- III Integra sistema de transporte multimodal do Corredor Sudeste de Logística, com 12 terminais portuários, distribuídos em uma área de 76 milhões de hectares, e sua entrada em operação impulsionou a implantação de polos industriais, polos turísticos e polos de distribuição, onde é gerada quase a metade do PIB brasileiro, conectando também os principais centros do Mercosul.

Está correto o que se afirma em

- (A) I, apenas.
- (B) III, apenas.
- (C) I e II, apenas.
- (D) I e III, apenas.
- (E) I, II e III.

29

No ano de 1853, a Província do Paraná se emancipou administrativamente de São Paulo. A recém província passou então a se ocupar do processo de povoamento de seu território, ainda em sua grande maioria despovoado, pois na concepção da época, os indígenas que ali viviam não participavam dessa contagem.

Levando-se em conta as iniciativas criadas pelo fim do tráfico de escravos e da Lei de Terras, ambas aprovadas em 1850, o projeto colonizador do Paraná teve início.

NISHIKAWA, Reinaldo Benedito. As colônias de imigrantes na Província do Paraná, 1854-1889. Tese de Doutorado. Disponível em: [https://www.teses.usp.br/teses/disponiveis/8/8137/tde-16072015-111650/publico/2015\\_ReinaldoBeneditoNishikawa\\_VCorr.pdf](https://www.teses.usp.br/teses/disponiveis/8/8137/tde-16072015-111650/publico/2015_ReinaldoBeneditoNishikawa_VCorr.pdf). Acesso: 17 jan. 2024.

A partir do acontecimento descrito no texto, o primeiro polo de imigrantes europeus no território emancipado, foi a colônia:

- (A) Ivay.
- (B) Argelina.
- (C) Nova Itália.
- (D) Wirmond.
- (E) Superagui.

30

Historicamente, o Paraná foi constituído por três formações regionais: o “Paraná Tradicional”, que surgiu ainda no século XVII com a extração do ouro de aluvião e seguiu pelo século XVIII com a organização da sociedade dos Campos Gerais, calcada na grande propriedade rural de criação e comercialização de gado muar e vacum, destaque para as cidades de Curitiba e Paranaguá; o “Paraná Paulista”, estruturado no norte do Estado como uma frente de expansão da lavoura cafeeira de São Paulo, destaque para as cidades de Londrina e Maringá; e, por fim, o “Paraná Gaúcho”, organizado no sudoeste e oeste do Estado, impulsionado pela criação de suínos e pela lavoura cerealífera, com fortes vínculos culturais com o Rio Grande do Sul, destaque para as cidades de Cascavel e Pato Branco; as duas últimas formações regionais foram devidas às políticas de colonização encetadas a partir da primeira metade do século XX.

Sêga, R.A. Tempos Belicosos: a Revolução Federalista no Paraná. Curitiba: Instituto Memória, 2008.

Sobre a formação econômica do território apresentado no texto, julgue os itens a seguir.

- I A formação histórica da sociedade camponesa dos Campos Gerais, ou do “Paraná Tradicional”, foi baseada na ocupação das terras feita “pelos ricos e poderosos de São Paulo, Santos e Paranaguá, não como um meio para transladar-se uma sociedade inteira, mas como um negócio a ser explorado comercialmente, tendo em vista o abastecimento de São Paulo e, principalmente, das regiões mineradoras no século XVIII.
- II No decurso da primeira metade do século XIX, a rede de convivência criada no Paraná Tradicional tinha se estabelecido nos moldes de uma “sociedade camponesa”, cujas características mais marcantes são: a família como unidade social essencialmente importante; status social baixo; interdependência econômica em grau variável, com centros urbanos; cultura simples; apego à terra, à comunidade local e à tradição.
- III A atividade de compra e venda de muares e bovinos alavancou a economia da sociedade camponesa dos Campos Gerais, possibilitando as fazendas das famílias-troncos tradicionais garantirem o sustento e o enriquecimento, evitando o êxodo rural até meados do século XX, e resistindo aos efeitos das Estadas de Ferro, mantendo as atividades tropeiristas.

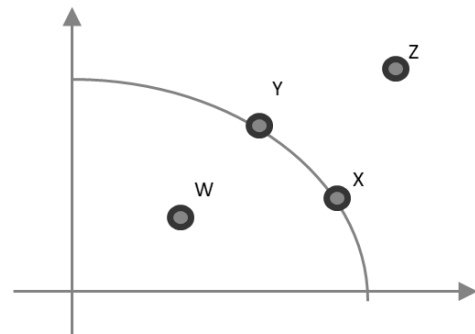
Está correto o que se afirma em

- (A) II, apenas.
- (B) I e II, apenas.
- (C) I e III, apenas.
- (D) II e III, apenas.
- (E) I, II e III.

## CONHECIMENTOS ESPECÍFICOS

31

Considere a seguinte curva de possibilidade de produção de um país.



No eixo horizontal está representada a quantidade de produção da indústria e no eixo vertical da agricultura.

A partir desse gráfico é correto concluir que o

- (A) ponto X gera uma quantidade eficiente para X indústria, mas não para X agricultura.
- (B) ponto Y gera uma quantidade eficiente para X indústria, mas não para X agricultura.
- (C) ponto Z, apesar de factível, significa que os dois setores não utilizam todos os insumos disponíveis.
- (D) ponto W indica que há desemprego, pois nem toda oferta de trabalho é empregada.
- (E) ponto Z não é atingível, mesmo com uma ampliação dos fatores de produção disponíveis.

32

Seja  $x$  e  $y$  duas cestas de bens. Em relação às propriedades das curvas de indiferença que representem preferências racionais e contínuas, **não** é correto concluir que

- (A) duas curvas de indiferença nunca se cruzam.
- (B) para quaisquer duas cestas  $x$  e  $y$ , tal que  $x \sim y$ , a curva de indiferença que inclui  $x$  é a mesma que inclui  $y$ .
- (C) se duas curvas de indiferença têm pelo menos um ponto em comum, então elas terão todos os pontos em comum.
- (D) se  $x > y$ , então qualquer cesta suficientemente próxima de  $x$  também será preferida a  $y$ .
- (E) se  $x \sim y$ , então qualquer cesta resultante da combinação convexa de  $x$  e  $y$  será indiferente a  $x$  e  $y$ .

33

Suponha, em um cenário inicial, as seguintes funções oferta e demanda de um mercado de refrigerantes em uma cidade:

- Oferta:  $Q_s = 1 + 2P$
- Demanda:  $Q_d = 4 - P$

$Q_s$  e  $Q_d$  são as quantidades ofertadas e demandadas de refrigerantes (em milhares de latinhas) e  $P$  é o preço médio de mercado dos refrigerantes (em R\$).

Agora assuma um novo cenário em que ocorra um choque positivo de demanda que desloque a curva de demanda paralelamente em 3 unidades (em milhares de latinhas). O preço de equilíbrio *no cenário inicial* e a quantidade ofertada de equilíbrio *no novo cenário* são, respectivamente, iguais a

- (A) 1 e 2.
- (B) 1 e 5.
- (C) 2 e 1.
- (D) 2 e 3.
- (E) 1 e 3.

34

Considere dois pontos A e B de uma curva de demanda, dados por:

- A: Preço = 2, Quantidade = 100.
- B: Preço = 1, Quantidade = 200.

As elasticidades pelo método do ponto médio, considerando o ponto A e o ponto B como iniciais, respectivamente, serão iguais a

- (A)  $-1$  e  $-1$ .
- (B)  $-2$  e  $-1$ .
- (C)  $-1$  e  $-2$ .
- (D)  $-2$  e  $-2$ .
- (E)  $-0,5$  e  $-0,5$ .

35

Em relação ao conceito de elasticidade, avalie se as afirmativas a seguir são verdadeiras (V) ou falsas (F).

- ( ) A demanda linear apresenta elasticidade unitária em módulo.
- ( ) Dois bens complementares apresentaram elasticidade-preço da demanda cruzada nula.
- ( ) Quanto maior o peso de um bem no orçamento de um consumidor, mais inelástica é a demanda desse bem.

As afirmativas são, respectivamente,

- (A) V – V – V.
- (B) V – V – F.
- (C) V – F – F.
- (D) F – F – V.
- (E) F – F – F.

36

Considere um estudante que deve decidir se deve se matricular ou não em um curso privado de pós-graduação. Assuma que ele trabalha, mas que, ao decidir frequentar o curso, necessita largar o emprego devido à elevada carga horária e se mudar de cidade.

Além do custo pecuniário, outro custo relevante na decisão do estudante que não envolve desembolso para ele é o custo

- (A) monetário.
- (B) contábil.
- (C) de oportunidade.
- (D) irrecuperável.
- (E) de aluguel.

37

Em relação às diferentes curvas de custo no curto prazo, assinale, entre as opções a seguir, aquela que indica a propriedade **incorreta**.

- (A) A curva de custo total médio é a soma das curvas de custo variável médio e fixo médio.
- (B) A curva de custo marginal cruza tanto a curva de custo total médio como a de custo variável médio em seus pontos mínimos.
- (C) As curvas de custo total médio e variável médio, em geral, apresentam um formato de “U”.
- (D) A curva de custo variável apresenta inclinação cada vez menor, quanto maior a diferença entre o custo marginal e o custo variável médio.
- (E) A curva de custo fixo médio se aproxima de zero quanto maior o nível de produção.

38

Uma função de custo de longo prazo apresenta economias de escala caso

- (A) o custo médio seja decrescente com o nível de produção.
- (B) o custo marginal se situe acima do custo médio.
- (C) o custo de produção de duas plantas conjuntamente é menor que o custo de produção de cada planta separada.
- (D) o custo fixo seja positivo.
- (E) o custo total seja maior que o custo variável.

39

Assinale a opção que aponta uma propriedade de um mercado de concorrência perfeita.

- (A) O excedente social, soma dos excedentes dos consumidores e produtores, é máximo no equilíbrio de mercado.
- (B) A instituição de um imposto gera peso morto, mas a soma dos excedentes é mantida.
- (C) O lucro econômico é positivo no longo prazo.
- (D) O oferta de longo prazo de uma indústria é constante para quaisquer tipos de custos.
- (E) No ponto de equilíbrio, o preço é menor que o custo marginal.

40

Entre os possíveis exemplos de barreiras à entrada que tornam um mercado monopolista, **não** é possível citar

- (A) a patente e direitos autorais.
- (B) o acesso exclusivo a um fator de produção.
- (C) as economias de escala.
- (D) a externalidade de rede.
- (E) a heterogeneidade dos produtos.

**41**

Um monopolista pode vender o mesmo produto a preços diferentes. Essa estratégia é denominada discriminação de preços.

A esse respeito, relacione cada tipo de discriminação de preço a seguir às respectivas características.

1. 1º grau
2. 2º grau
3. 3º grau

- ( ) O monopolista captura todo excedente do consumidor, sendo economicamente eficiente.
- ( ) No caso de serviços públicos, quando há racionamento, a concessionária eleva o preço da tarifa para faixas de consumo maiores.
- ( ) Empresas aéreas cobram tarifas maiores em dias de maior demanda.

Assinale a opção que indica a relação correta, na ordem apresentada.

- (A) 1 – 2 – 3.
- (B) 1 – 3 – 2.
- (C) 2 – 1 – 3.
- (D) 2 – 3 – 1.
- (E) 3 – 2 – 1.

**42**

Considere o modelo do fluxo circular da renda com apenas dois mercados: *de bens e serviços e de fatores de produção*.

Nesse modelo, um fluxo monetário e um fluxo de bens e serviços ocorrem, respectivamente, quando

- (A) as empresas pagam salários, lucros e aluguéis para contratar e utilizar fatores de produção e as empresas compram bens e serviços das famílias no mercado de bens e serviços.
- (B) as empresas pagam salários, lucros e aluguéis para contratar e utilizar fatores de produção e as empresas vendem bens e serviços das famílias no mercado de bens e serviços.
- (C) as famílias recebem a receita da venda de bens e serviços nesse mercado e as empresas vendem bens e serviços das famílias no mercado de bens e serviços.
- (D) as famílias incorrem em despesas de compra de bens e serviços nesse mercado e as famílias compram terra, trabalho e capital no mercado de fatores de produção.
- (E) as famílias incorrem em despesas de compra de fatores de produção nesse mercado e as famílias vendem terra, trabalho e capital no mercado de fatores de produção.

**43**

Assuma o seguinte modelo keynesiano de uma economia aberta regida pelas seguintes funções:

$$C = 200 + 0,8.Y_d$$

$$T = 0,5.Y$$

$$I = 100$$

$$G = 200$$

$$(X-M) = 100$$

em que, C representa o consumo,  $Y_d$  é a renda disponível, I é o nível de investimento, T é o imposto sobre a renda, G é o gasto do governo, (X-M) representam as exportações líquidas.

O nível de renda de equilíbrio é igual a

- (A) 600.
- (B) 1.000.
- (C) 3.600.
- (D) 6.000.
- (E) 10.000.

**44**

Considere o modelo IS-LM.

As políticas monetária e fiscal são inócuas, respectivamente, nos casos

- (A) clássico e da armadilha pela liquidez.
- (B) da armadilha pela liquidez e clássico.
- (C) da cruz keynesiana e do modelo keynesiano simplificado.
- (D) do modelo keynesiano simplificado e da armadilha pela liquidez.
- (E) da armadilha pela liquidez e do modelo keynesiano simplificado.

**45**

Em relação aos conceitos, tipos e efeitos da inflação, analise os itens a seguir.

- I. A deflação é definida como uma queda generalizada e contínua dos preços.
- II. A chance de ocorrer inflação de demanda diminui com o grau de capacidade ociosa da economia.
- III. Inflação inercial ocorre quando existe indexação na economia que faz com que a inflação se mantenha no mesmo patamar, sem gerar aceleração inflacionária.
- IV. Um dos efeitos de taxas elevadas de inflação é fazer com que os preços relativos deixem de ser sinalizadores da escassez e dos custos relativos da produção.

Está correto o que se afirma em

- (A) I, apenas.
- (B) I e II, apenas.
- (C) II e III, apenas.
- (D) I, II e IV, apenas.
- (E) I, II, III e IV.

**46**

Uma das características da visão monetarista em relação à inflação é que

- (A) a partir de um diagnóstico de inflação de demanda, esta deve ser combatida através de congelamento de preços e salários.
- (B) a partir de um diagnóstico de inflação de demanda, esta deve ser combatida através de política fiscal contractionista.
- (C) a partir de um diagnóstico de inflação de demanda, esta deve ser combatida através de política monetária contractionista.
- (D) a partir de um diagnóstico de inflação de custos, esta deve ser combatida a partir do aumento da produtividade do setor agropecuário.
- (E) a partir de um diagnóstico de inflação de custos, constatou-se a existência de pontos de estrangulamento, que elevam os preços dos bens primários que são repassados aos bens finais.

**47**

Um aumento da taxa de participação no mercado de trabalho gera, *ceteris paribus*,

- (A) redução do salário de equilíbrio do mercado de trabalho.
- (B) redução da população economicamente ativa.
- (C) aumento da taxa de desemprego.
- (D) aumento da informalidade.
- (E) aumento da demanda por trabalho.

48

Em relação aos tipos de desemprego, avalie se as afirmativas a seguir são verdadeiras (V) ou falsas (F).

- ( ) Quando há inovação tecnológica em um segmento da economia, gerando aumento da produtividade, sem que ocorra aumento de emprego em outros segmentos, tem-se o desemprego denominado estrutural.
- ( ) Quando um trabalhador demora para encontrar uma vaga de trabalho devido apenas a custos de locomoção e procura, tem-se o desemprego denominado friccional.
- ( ) A recessão econômica provocada no período da pandemia do COVID elevou o chamado desemprego conjuntural.

As afirmativas são, respectivamente,

- (A) V – V – V.
- (B) V – V – F.
- (C) V – F – V.
- (D) F – V – V.
- (E) F – F – F.

49

O pleno emprego não ocorre quando

- (A) há o emprego eficiente dos fatores de produção, descontada uma taxa natural de desemprego.
- (B) há apenas desemprego friccional e tecnológico.
- (C) não há desemprego decorrente das condições recessivas da economia.
- (D) a produtividade cresce a uma taxa maior que os salários.
- (E) há apenas desemprego decorrente de problemas informacionais e estruturais.

50

Em relação ao Balanço de Pagamentos, é correto afirmar que

- (A) o saldo da conta financeira é igual à soma dos saldos em transações correntes e da conta capital.
- (B) a conta renda secundária inclui a remuneração dos fatores de produção.
- (C) a conta financeira destaca a transferência de capital entre residentes e estrangeiros.
- (D) a conta capital inclui os investimentos em ações de companhias nacionais realizadas por estrangeiros.
- (E) a poupança externa é positiva quando há déficit em transações correntes.

51

Segundo o Teorema Hecksher-Ohlin,

- (A) o comércio internacional decorre das diferenças dos fatores de produção entre países, que induz a especialização no fator de produção abundante.
- (B) o comércio entre países eleva o preço do fator abundante, levando a convergência entre os custos dos fatores de produção.
- (C) o comércio internacional, ao elevar o custo do fator de produção abundante no país, induz os demais países a imporem barreiras às importações aos produtos concorrentes dos equivalentes nacionais que são intensivos no fator de produção não abundante para elevar o preço desse fator.
- (D) o crescimento do comércio internacional pode ser decorrente do progresso tecnológico ou pelo aumento na oferta de fatores de produção.
- (E) os países subdesenvolvidos precisam exportar mais que os países desenvolvidos para que possam obter resultados satisfatórios em termos de exportações, devido à deterioração dos termos de troca.

52

Em relação aos regimes cambiais, relacione cada tipo às respectivas características.

1. Flutuante.
  2. Fixo.
  3. Administrado.
- ( ) Possui a vantagem de levar sempre ao equilíbrio do balanço de pagamentos.
  - ( ) O BACEN adota para combater ataques especulativos, evitando, assim, oscilações abruptas na taxa de câmbio.
  - ( ) Gera maior previsibilidade aos agentes econômicos, levando a maior comércio e investimento internacional.

Assinale a opção que indica a relação correta, na ordem apresentada.

- (A) 1 – 2 – 3.
- (B) 1 – 3 – 2.
- (C) 2 – 1 – 3.
- (D) 2 – 3 – 1.
- (E) 3 – 2 – 1.

53

A função estabilizadora do governo visa, entre outros objetivos,

- (A) prover serviços públicos de qualidade para a população.
- (B) melhorar a alocação de recursos na economia.
- (C) estabilizar a renda dos mais pobres ao longo dos anos.
- (D) promover a estabilidade da inflação em níveis reduzidos.
- (E) tributar as grandes fortunas visando a melhora na distribuição de renda.

54

Entre as espécies de tributos, não é possível mencionar

- (A) os impostos.
- (B) as taxas.
- (C) os empréstimos compulsórios.
- (D) as multas de trânsito.
- (E) as contribuições de melhoria.

55

As necessidades de financiamento do setor público (NFSP), segundo o conceito operacional, são definidas como

- (A) o resultado da variação da dívida fiscal líquida.
- (B) a diferença entre a dívida líquida do setor público e o ajuste patrimonial.
- (C) a diferença entre as NFSP no conceito nominal e as despesas de juros nominais incidentes sobre a dívida líquida do setor público.
- (D) a diferença entre as NFSP no conceito nominal e a atualização monetária e cambial incidente sobre a dívida líquida do setor público.
- (E) a diferença entre as despesas públicas e a arrecadação tributária.

56

Leia o fragmento a seguir.

**Princípios Orçamentários**

Os princípios são normas gerais que, pela sua relevância, abrangência e valor intrínseco, fundamentam o sistema jurídico. Permitem a interpretação de situações concretas com base nos fins a que se destinam a norma. Desde seus primórdios, a instituição orçamentária foi cercada de uma série de princípios e regras com a finalidade de aumentar-lhe a consistência no cumprimento de sua principal finalidade política: auxiliar o controle parlamentar sobre o governo.

Tais normas receberam grande ênfase na fase em que os orçamentos possuíam preponderante conotação jurídica, sendo que alguns foram incorporados na legislação: basicamente a Constituição Federal de 1988, a Lei 4.320/64 (Lei de Finanças Públicas), a Lei 101/2000 (Lei de Responsabilidade Fiscal) e as Leis de Diretrizes Orçamentárias (LDOs). Os princípios orçamentários são premissas a serem observadas na elaboração e na execução da lei orçamentária.

(Fonte: Câmara dos Deputados, Orçamento da União.)

A esse respeito, relacione cada princípio orçamentário à respectiva característica.

1. Regionalização.
  2. Não Afetação das Receitas.
  3. Equilíbrio Orçamentário.
  4. Orçamento Impositivo.
- ( ) Trata-se de princípio novo que define o dever de execução das programações orçamentárias, o que supera o antigo debate acerca da natureza jurídica da lei orçamentária, ou seja, se as programações representavam mera autorização para a execução (modelo autorizativo) ou se, diante do sistema de planejamento e orçamento da Constituição Federal de 1988, poder-se-ia extrair o caráter vinculante da lei orçamentária, o que acabou prevalecendo.
- ( ) *Ex-ante* esse princípio é respeitado do ponto de vista formal, uma vez que eventual lacuna no lado das receitas, quando cotejada com as despesas, é preenchida com operações de crédito, desde que dentro dos limites da regra de ouro.
- ( ) Esse princípio tem como propósito atender à necessidade de se verificar, na elaboração e na execução da lei orçamentária, o cumprimento do Art. 3º, inciso III, da Constituição Federal de 1988.
- ( ) O não atendimento desse princípio tende a reduzir o grau de liberdade do gestor e engessa o planejamento de longo, médio e curto prazos.

Assinale a opção que indica a relação correta na ordem apresentada.

- (A) 1 – 2 – 3 – 4.
- (B) 2 – 3 – 1 – 4.
- (C) 3 – 2 – 4 – 1.
- (D) 4 – 3 – 1 – 2.
- (E) 4 – 3 – 2 – 1.

57

Considere o modelo de crescimento de Solow com crescimento populacional e tecnológico nulo.

A taxa de poupança é igual a 20% e o nível de produto por trabalhador no estado estacionário é igual a 100.

Considerando que a taxa de depreciação é igual a 10%, então no estado estacionário, o capital por trabalhador, o investimento por trabalhador e o consumo por trabalhador são iguais, respectivamente, a

- (A) 200, 20 e 80.
- (B) 200, 80 e 20.
- (C) 100, 40 e 60.
- (D) 800, 80 e 20.
- (E) 1000, 100 e 0.

58

Walt Whitman Rostow desenvolveu um importante modelo de desenvolvimento econômico que definiu o processo de desenvolvimento econômico em diversas etapas.

Segundo esse modelo, as etapas de desenvolvimento econômico ocorriam na seguinte ordem cronológica:

- (A) Sociedade pré-newtoniana, mudança de mentalidade, *trade-off*, era de consumo em massa e marcha para maturidade.
- (B) Sociedade em processo de transição, sociedade social hierarquizada, arranco, marcha para maturidade e era de consumo em massa.
- (C) Sociedade tradicional, sociedade em processo de transição (pré-arranco), arranco, marcha para maturidade e era de consumo em massa.
- (D) Marcha para o arranco, arranco (*trade-off*), êxodo rural, era de consumo em massa.
- (E) Sociedade pré-agrícola, sociedade industrial, sociedade comercial e sociedade intensiva em serviços de alto valor adicionado.

59

Considere um investimento financeiro que cresce a 40% a.a., capitalizado mensalmente a juros simples.

A partir desses dados, avalie se as afirmativas a seguir são verdadeiras (V) ou falsas (F).

- ( ) O montante inicial investido triplicará após 4 anos.
- ( ) O investimento cresce de forma linear ao longo dos anos.
- ( ) As taxas de juros equivalente e proporcional são distintas entre si.

As afirmativas são, respectivamente,

- (A) V – V – V.
- (B) V – F – V.
- (C) F – V – F.
- (D) F – V – V.
- (E) F – F – F.

60

Considere a taxa de juros nominal de 10% ao semestre capitalizada anualmente.

A partir dessa informação, conclui-se que a taxa de juros que deve ser utilizada no regime de capitalização composta (medida na unidade de tempo adequada) será igual a

- (A) 5%.
- (B) 10%.
- (C) 20%.
- (D) 25%.
- (E) 50%.

**61**

Considere um título financeiro cujo valor atual é igual a R\$2.000,00.

Considerando que um investidor deseje antecipar o resgate em 10 meses e que a taxa de desconto é de 1% ao mês, então o valor do desconto racional simples e o valor de face desse título são, respectivamente, em reais, iguais a

- (A) 200,00 e 2.000,00.
- (B) 200,00 e 2.200,00.
- (C) 222,22 e 2.222,22.
- (D) 222,22 e 2.000,00.
- (E) 209,24 e 2.209,24.

**62**

Suponha que um investimento financeiro após um ano tenha perdido 20% de seu valor em termos reais, mas tenha valorizado 20% em termos nominais.

Portanto, a taxa de inflação no período foi igual a

- (A) 0%.
- (B) 40%.
- (C) 20%.
- (D) 10%.
- (E) 50%.

**63**

Suponha que você vá até uma loja de eletrônicos e se interesse por um celular.

O vendedor oferece duas formas de pagamento:

- I. à vista; ou
- II. uma entrada de R\$ 500 e o restante em mais duas parcelas mensais, consecutivas de R\$ 1.764,00, iniciando a primeira um mês após a compra.

Considerando que é aplicado o regime de juros compostos e a taxa de juros aplicada é de 5% ao mês na segunda forma de pagamento, o valor à vista do celular, em reais, é igual a

- (A) 3.700,00.
- (B) 3.780,00.
- (C) 3.280,00.
- (D) 2.780,00.
- (E) 2.500,00.

**64**

Considere um financiamento de R\$100.000,00 com prazo de 10 meses e taxa de juros de 5% ao mês.

A primeira prestação e a última prestação serão, respectivamente, maiores nos sistemas de amortização

- (A) francês e francês.
- (B) francês e constante.
- (C) constante e constante.
- (D) constante e francês.
- (E) da Tabela Price e misto.

**65**

Considere um financiamento de R\$100.000,00 com prazo de 10 meses e taxa de juros de 5% ao mês.

Considerando o Sistema de Amortização Constante (SAC) **não** é correto afirmar que

- (A) o saldo devedor do início do 2º mês é igual ao saldo devedor do final do 1º mês.
- (B) o valor da amortização é igual a R\$10.000,00 em todos os meses.
- (C) o valor dos juros a serem pagos ao final do 10º mês é igual a R\$500,00.
- (D) o valor da penúltima prestação é igual a R\$10.000,00.
- (E) os valores dos juros decrescem à razão por mês de R\$500,00 de uma progressão geométrica.

**66**

Suponha uma série de pagamentos postecipados e iguais de R\$100 por 19 meses. Assuma uma taxa de juros de 10% a.m. e que o fator de formação do capital é igual a 0,02.

Portanto, o fator de acumulação do capital e o valor futuro (em R\$) serão, respectivamente, iguais a

- (A) 50 e 5.000.
- (B) 8,4 e 840.
- (C) 0,2 e 100.
- (D) 0,12 e 120.
- (E) 10 e 1.000.

**67**

Considere uma série de rendas antecipadas, capitalizadas pela taxa de juros igual a  $i$ .

O valor atual pode ser obtido a partir

- (A) do valor atual da série de rendas postecipadas, pois ambos são iguais.
- (B) do valor atual da série de rendas postecipadas, multiplicado por  $(1 + i)$ .
- (C) do valor futuro, multiplicado pelo fator de valor atual.
- (D) do valor futuro, dividido pelo fator de recuperação do capital.
- (E) do valor da renda, multiplicado pelo fator de acumulação do capital

**68**

A Taxa Interna de Retorno (TIR) é uma forma de se mensurar o retorno de um determinado projeto.

Em relação à TIR, **não** é correto afirmar que

- (A) é definida como a taxa que zera o VPL.
- (B) se a TIR for maior que a taxa mínima de atratividade, o projeto é viável.
- (C) há a hipótese que o valor inicial seja reinvestido à taxa mínima de atratividade.
- (D) uma das desvantagens da TIR é que seu método pode gerar mais de uma taxa, no caso de inversão de sinal do fluxo de caixa.
- (E) há o pressuposto que o fluxo de caixa seja reinvestido a mesma TIR.

69

Em relação ao Valor Presente Líquido (VPL) e a Taxa Interna de Retorno, avalie se as afirmativas a seguir são verdadeiras (V) ou falsas (F).

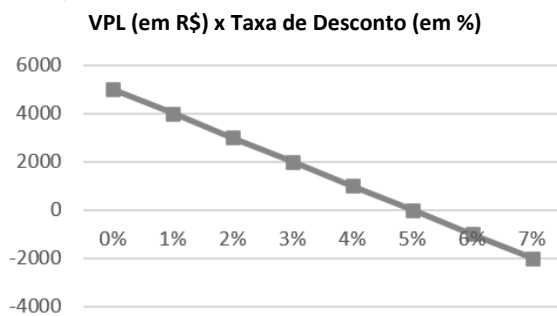
- ( ) O VPL é nulo quando o custo do capital é nulo.
- ( ) Quanto maior a TIR, menor é o VPL.
- ( ) Se a TIR é maior que a taxa mínima de atratividade, então o VPL é negativo.

As afirmativas são, respectivamente,

- (A) V – V – V.
- (B) V – V – F.
- (C) V – F – F.
- (D) F – V – F.
- (E) F – F – F.

70

Considere o seguinte gráfico que contrapõe o VPL de um projeto (eixo vertical) contra diferentes taxas de desconto (eixo horizontal).



Com relação aos métodos de avaliação de projetos, analise os itens a seguir.

- I. A TIR é maior que 4% e única.
- II. Se o custo de oportunidade for igual a 7%, então o projeto deve ser rejeitado.
- III. Se ocorrer um gasto extra no ano inicial e não previsto para esse projeto, igual a R\$2.000, então o projeto será inviável para taxas mínimas de atratividade superiores a 3%.

Está correto o que se afirma em

- (A) I, apenas.
- (B) I e II, apenas.
- (C) I e III, apenas.
- (D) II e III, apenas.
- (E) I, II e III.



## REDAÇÃO

---

*Relatório sobre o Futuro dos Empregos 2023: Espera-se que até um quarto dos empregos mude nos próximos cinco anos • Espera-se que cerca de 23% dos empregos mudem até 2027, com 69 milhões de novos empregos criados e 83 milhões eliminados • O novo relatório sugere que a transição verde e a localização das cadeias de fornecimento levarão ao crescimento líquido de empregos • A adoção de tecnologia e o aumento do acesso digital também criarão um crescimento líquido de empregos, mas com maiores compensações de perdas; o crescimento econômico mais lento, a escassez de oferta e a inflação representam os maiores riscos para os empregos • Os empregos de crescimento mais rápido são os de especialistas em IA e aprendizado de máquina, especialistas em sustentabilidade, analistas de inteligência de negócios e especialistas em segurança da informação; o maior crescimento absoluto é esperado nos setores de educação, agricultura e comércio digital.*

(Parte de um relatório sobre desemprego. Disponível em [www.weforum.org](http://www.weforum.org))

*Um conto de ficção científica aborda um mundo futuro em que os empregos são em pequeníssimo número e algumas medidas foram tomadas, nessa época futura, para a redução do problema: cada vaga de emprego é segmentada em três horários distintos para que mais gente possa trabalhar; como os desempregados são muitos, o Estado se encarrega de dar salários classificados em três níveis segundo o conhecimento tecnológico de cada um e todos pagam impostos sobre o que recebem; nada é gratuito, o que aumenta a arrecadação do Estado; os que estão empregados são responsáveis, segundo o salário, pelo sustento de um número determinado de desocupados...*

**Esse mundo futuro será assim tão problemático? Como controlar o problema do desemprego, se é que ele vai haver? Redija um texto dissertativo-argumentativo em que você expresse sua opinião sobre o tema, em um texto de, no mínimo 20 (vinte) e, no máximo, 30 (trinta) linhas, em linguagem culta, dando atenção especial aos argumentos utilizados.**

- 1
- 2
- 3
- 4
- 5
- 6
- 7
- 8
- 9
- 10
- 11
- 12
- 13
- 14
- 15
- 16
- 17
- 18
- 19
- 20
- 21
- 22
- 23
- 24
- 25
- 26
- 27
- 28
- 29
- 30



Realização

