

# CÂMARA MUNICIPAL DE CONQUISTA

## CONCURSO PÚBLICO - Edital 5/23

### CADERNO DE PROVA (MANHÃ)

# ASSISTENTE ADMINISTRATIVO

#### LEIA ATENTAMENTE AS SEGUINTE INSTRUÇÕES:

1. Este caderno de prova contém **40 (quarenta) questões** objetivas, de 1 a 40 e distribuídas da seguinte forma:
  - 1 a 10 - Língua Portuguesa;
  - 11 a 15 - Raciocínio Lógico e Matemático;
  - 16 a 20 - Noções de Informática;
  - 21 a 30 - Noções de Administração Pública;
  - 31 a 40 - Conhecimentos Específicos.
2. Confira se a quantidade e a ordem das questões deste caderno de prova estão de acordo com as instruções anteriores. Caso o caderno esteja incompleto, tenha defeito ou apresente qualquer divergência, comunique imediatamente ao fiscal de sala para que ele tome as providências cabíveis.
3. Para cada uma das questões objetivas, são apresentadas **4 (quatro)** opções de resposta. Apenas **1 (uma)** resposta responde corretamente à questão.
4. O tempo disponível para esta prova é de **3 (três) horas**.
5. Reserve tempo suficiente para marcar a sua folha de respostas.
6. Os rascunhos e as marcações assinaladas neste caderno **não** serão considerados na avaliação.
7. O candidato somente poderá se retirar do local da aplicação das provas após **60 (sessenta) minutos** de seu início.
8. Quando terminar, chame o fiscal de sala, entregue este caderno de prova e a folha de respostas.
9. O candidato somente poderá retirar-se do local da aplicação levando consigo o caderno de provas a partir dos últimos **30 (trinta) minutos** para o término da prova.
10. Boa prova!



## LÍNGUA PORTUGUESA



Leia atentamente o texto a seguir e responda às questões de 1 a 10.

### Licença-maternidade para cuidar de adolescentes

Em novembro de 2023, um artigo de Barbara Ellen publicado no jornal inglês *The Guardian* discutia a nova expressão "teen-ternity leave" – algo como licença-maternidade adolescência. O termo surgiu a partir da constatação de que algumas mulheres estariam abrindo mão de suas carreiras para retornar aos lares e cuidar ostensivamente de seus filhos adolescentes. Esse comportamento está obviamente associado a mulheres que têm condições financeiras para pausar seu trabalho. Também não passa despercebido que se trate de uma pausa feita pelas mães e não pelos pais; afinal, o viés de gênero no cuidado com a prole é conhecido.

Que a solução desemboque na mulher e que se restrinja à classe abastada não elimina a necessidade de nos perguntarmos sobre o que está se passando com os adolescentes para que eles precisem de um verdadeiro "recall" de cuidados. A adolescência hoje refere-se à faixa etária para quem as redes sociais foram apresentadas como parte inseparável da vida. Uma geração para quem a internet não é uma descoberta que veio revolucionar o mundo, ela "é" o mundo. Para eles, ter o celular à mão equivale a ter energia elétrica, na falta da qual, tudo para.

Isso também vale para nós, mas, diferentemente dessas crianças, ainda lembramos de um tempo em que não era assim, o que serve para questionarmos nossa dependência. As crianças confiam nos dispositivos como confiam nos próprios pais, que, afinal, os deram para elas.

O jogo aqui é a diferença entre a vida "vivida" e a vida "editada". A primeira tem cheiro, textura, tato, sujeira e resto, enquanto a segunda é baseada na visão, no som, portanto, inteiramente asséptica e editável. As relações ao vivo têm silêncios constrangedores, olhares fugazes, têm deslocamento no espaço e tempo de chegar, ficar e sair. No virtual, não há como saber para onde o interlocutor está olhando – geralmente para sua própria imagem refletida. O tempo é controlado, pois tudo pode ser interrompido instantaneamente. Os corpos não se interferem – não ferem uns aos outros – tampouco se afetam mutuamente.

O estilo de vida contemporâneo deixa as crianças sem ferramentas para lidar com o mundo externo e interno, daí a passagem para a vida adulta se tornar quase intransponível. Além disso, como a constituição subjetiva só se dá na relação entre seres humanos reais, é a própria subjetividade que está sendo comprometida. Estamos falando de uma geração cujos efeitos do uso indiscriminado da internet já foram denunciados por inúmeras pesquisas. Eles vão das automutilações aos suicídios, passando por distúrbios de autoimagem, depressões e ansiedades. O espectro autista, por exemplo, caminha rapidamente para abarcar todas as crianças – e adultos – à nossa volta, numa lógica que desemboca no conto machadiano "O alienista": se todos são a exceção, urge rever a regra.

A internet não é uma ferramenta solta no tempo e no espaço, ocupando o seu lugar dentro do regime neoliberal. A forma como é comercializada sem pudores, sem filtros e sem qualquer tipo de regulamentação responde unicamente aos ditames do mercado. Ela entra no vácuo da autorização dos pais, que desde os anos 1980 já vinham buscando o manual que

os ensinaria como performar melhor na educação dos filhos. Ela funciona como cuidador em tempos nos quais o trabalho ocupa toda a vida e as crianças não podem ser deixadas a sós. Ela dá a falsa impressão de que a criança está aprendendo algo, respondendo ao atual furor pedagógico dos pais.

Se é para voltar para casa e cuidar da molecada, que seja para nos perguntarmos a que aspiramos para nossa descendência. Se a resposta for felicidade, lembremos que essa é uma falsa promessa com a qual as redes nos hipnotizam.

(Vera Iaconelli. <https://www1.folha.uol.com.br/colunas/vera-iaconelli/2024/03/licenca-maternidade-para-cuidar-de-adolescentes.shtml>. 25.mar.2024)

### Questão 1

Em relação à leitura do texto e suas corretas inferências, analise as afirmativas a seguir:

- I. A volta para casa, principalmente das mães, para cuidar da prole adolescente se dá por uma necessidade de que as tradicionais babás não dão conta da tarefa, mas também porque na atualidade não há a maturidade esperada com a idade.
- II. A maior presença das mães na adolescência dos filhos se justifica como uma forma de impedir que a vida deles seja completamente virtualizada pela Internet, o que, segundo pesquisas, vem provocando consequências trágicas.
- III. A disposição de largar a vida profissional por um tempo com o objetivo de cuidar dos filhos adolescentes se dá pela percepção de que eles precisam de contato humano na construção de sua subjetividade, a fim de melhor transporem a barreira para a vida adulta.

Assinale

- (A) se apenas as afirmativas I e II estiverem corretas.
- (B) se apenas as afirmativas I e III estiverem corretas.
- (C) se apenas as afirmativas II e III estiverem corretas.
- (D) se todas as afirmativas estiverem corretas.

### Questão 2

O texto, em relação à sua tipologia, se classifica mormente como

- (A) descritivo.
- (B) narrativo.
- (C) dissertativo-expositivo.
- (D) dissertativo-argumentativo.

### Questão 3

*Os corpos não se interferem – não ferem uns aos outros – tampouco se afetam mutuamente.* (L.35-37)

Em relação ao período acima, analise as afirmativas a seguir:

- I. O segmento entre travessões apresenta um resgate do sentido base do verbo anterior, revalorizando seu radical.
- II. As duas ocorrências do "se" no período se classificam como pronomes reflexivos recíprocos.
- III. O verbo "interferir" é palavra composta, e não derivada.

Assinale

- (A) se apenas as afirmativas I e II estiverem corretas.
- (B) se apenas as afirmativas I e III estiverem corretas.
- (C) se apenas as afirmativas II e III estiverem corretas.
- (D) se todas as afirmativas estiverem corretas.

**Questão 4**

Que (1) a solução desemboque na mulher e que se restrinja à classe abastada não elimina a necessidade de nos perguntarmos sobre o que (2) está se passando com os adolescentes para que (3) eles precisem de um verdadeiro "recall" de cuidados. (L.13-16)

No período acima, as ocorrências do QUE, assinaladas como (1), (2) e (3) se classificam, respectivamente, como

- (A) conjunção subordinativa, conjunção integrante e conjunção subordinativa.  
 (B) conjunção integrante, pronome relativo e conjunção subordinativa.  
 (C) conjunção subordinativa, pronome relativo e conjunção integrante.  
 (D) conjunção integrante, conjunção integrante e conjunção integrante.

**Questão 5**

O espectro autista, por exemplo, caminha rapidamente para abarcar todas as crianças – e adultos – à nossa volta, numa lógica que desemboca no conto machadiano "O alienista": se todos são a exceção, urge rever a regra. (L.47-50)

O segmento sublinhado no período acima, em relação ao que se enuncia anteriormente, constitui uma

- (A) exemplificação.  
 (B) enumeração.  
 (C) explicação.  
 (D) especificação.

**Questão 6**

Assinale a alternativa em que a palavra indicada tenha sido acentuada seguindo regra distinta da das demais.

- (A) inglês (L.2)  
 (B) viés (L.11)  
 (C) daí (L.39)  
 (D) está (L.60)

**Questão 7**

Assinale a alternativa em que a palavra indicada exerça, no texto, papel adjetivo.

- (A) seus (L.7)  
 (B) apresentadas (L.18)  
 (C) vivo (L.30)  
 (D) interrompido (L.35)

**Questão 8**

Além disso, como a constituição subjetiva só se dá na relação entre seres humanos reais, é a própria subjetividade que está sendo comprometida. (L.41-43)

O segmento sublinhado no período acima apresenta valor semântico de

- (A) condição.  
 (B) causa.  
 (C) explicação.  
 (D) concessão.

**Questão 9**

O termo surgiu a partir da constatação de que algumas mulheres estariam abrindo mão de suas carreiras para retornar aos lares e cuidar ostensivamente de seus filhos adolescentes. (L.4-7)

A oração sublinhada no período acima desempenha função sintática de

- (A) objeto indireto.  
 (B) adjunto adnominal.  
 (C) adjunto adverbial.  
 (D) complemento nominal.

**Questão 10**

Se é para voltar para casa e cuidar da molecada, que seja para nos perguntarmos a que aspiramos para nossa descendência. (L.62-64)

Assinale a alternativa em que a alteração do segmento sublinhado no período acima tenha sido feita em obediência à norma culta. Não leve em conta as alterações de sentido.

- (A) a que almejamos  
 (B) o que aspiramos  
 (C) a que assistimos  
 (D) o que nos referimos

**RACIOCÍNIO LÓGICO E MATEMÁTICO****Questão 11**

A sequência numérica a seguir segue um padrão:

10, 14, 18, 22, 26, ...

É correto afirmar que a soma entre o décimo primeiro e o décimo terceiro termo dessa sequência é igual a

- (A) 100.  
 (B) 104.  
 (C) 108.  
 (D) 110.

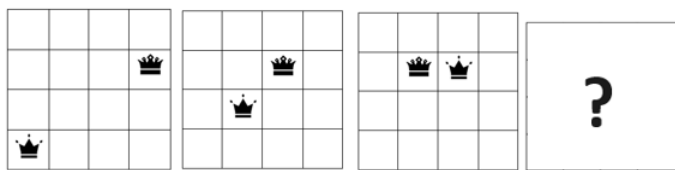
**Questão 12**

Um recipiente contém  $\frac{4}{9}$  de litro de leite. Sabe-se que  $\frac{3}{4}$  desse leite foram usados. Qual fração do leite em relação ao recipiente restou?

- (A)  $\frac{1}{9}$   
 (B)  $\frac{1}{6}$   
 (C)  $\frac{1}{3}$   
 (D)  $\frac{1}{2}$

**Questão 13**

A seguir temos uma sequência de 4 figuras, que obedece a um determinado padrão.



Segundo esse padrão, assinale a alternativa correta quanto à quarta figura que completa a sequência.

- (A)
- (B)
- (C)
- (D)

**Questão 14**

Para cada um dos três pares de palavras a seguir, as palavras da direita são formadas com o mesmo critério, levando em consideração as palavras à sua esquerda:

Telefonema ↔ Mate

Matemática ↔ Cama

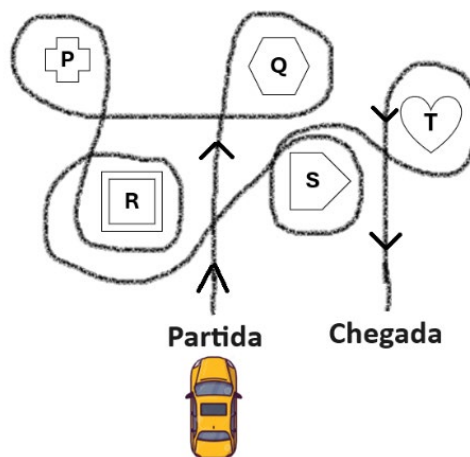
Lentamente ↔ ?

A palavra que, ao substituir o símbolo “?”, se associa com a palavra “Lentamente” é

- (A) Tele.
- (B) Lete.
- (C) Meta.
- (D) Tema.

**Questão 15**

Um piloto de testes percorreu um circuito para testar um automóvel. Esse circuito conta com cinco locais a serem contornados (P, Q, R, S, T). O caminho feito pelo piloto nesse circuito está descrito na figura a seguir:



O piloto dirigiu no sentido anti-horário ao redor de dois locais. São eles:

- (A) P e Q.
- (B) R e T.
- (C) R e S.
- (D) P e T.

**NOÇÕES DE INFORMÁTICA**

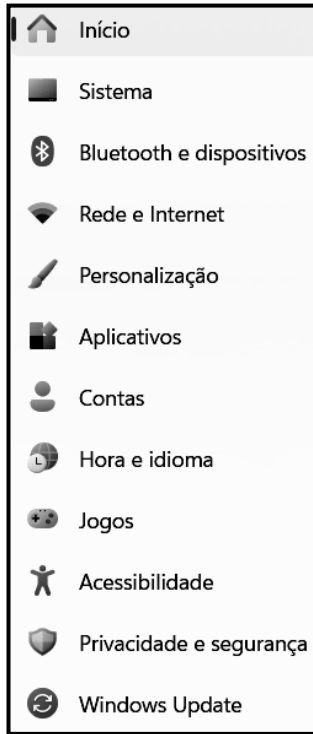
**Questão 16**

Um funcionário da Prefeitura de Conquista criou uma planilha no software *Excel 2019 BR* e inseriu o número 13 na célula C2, a fórmula = $\$C\$2+8/2^3$  em D3 e = $200\%*D3$  em E4. Ao alterar o valor da célula C2 para 10, os novos valores que esse funcionário passa a visualizar nas células D3 e E4 são, respectivamente,

- (A) 11 e 22.
- (B) 11 e 28.
- (C) 14 e 22.
- (D) 14 e 28.

**Questão 17**

No uso dos recursos de um notebook Intel gerenciado pelo Windows 11 BR (x64), um funcionário da Câmara Municipal de Conquista executou um atalho de teclado que abriu a janela de diálogo identificada como Configurações, que contém informações relacionadas aos itens indicados na figura a seguir:







O atalho de teclado é

- (A) Ctrl + I.
- (B) Ctrl + G.
- (C) logotipo do Windows + I.
- (D) logotipo do Windows + G.

**Questão 18**

No uso dos recursos do Word 2021 BR (x64), em um microcomputador versão desktop com Windows 10 BR (x64), para aplicar alinhamento centralizado a uma palavra ou parágrafo selecionado em um texto em digitação, pode-se executar um atalho de teclado ou, como alternativa, acionar um ícone entre os mostrados na Faixa de Opções, quando do acionamento da guia “Página Inicial” da Barra de Menu.

O atalho de teclado e o ícone são, respectivamente,

(A)	Ctrl + C e 
(B)	Ctrl + E e 
(C)	Ctrl + C e 
(D)	Ctrl + E e 

**Questão 19**

Computação em Nuvem constitui uma modalidade de fornecimento de recursos de TI sob demanda por meio da internet, com definição de preço de pagamento conforme o uso. Em vez de comprar, ter e manter datacenters e servidores físicos, podem-se acessar serviços de tecnologia, como capacidade computacional, armazenamento e bancos de dados, conforme a necessidade, usando o provedor de nuvem. Entre os tipos de computação em nuvem, um tem por característica dispensar a empresa contratante do gerenciamento da infraestrutura subjacente, como hardware e sistemas operacionais, em troca do foco na implantação e no gerenciamento de aplicativos. Em consequência, a empresa ganha em eficiência, pois não precisa se preocupar com aquisição de recursos, planejamento de capacidade, manutenção de software, correções ou qualquer tipo de trabalho genérico repetitivo necessário para a execução dos aplicativos.

Esse tipo de computação em nuvem é conhecido por

- (A) IAAS – Infraestrutura como Serviço.
- (B) PAAS – Plataforma como Serviço.
- (C) HAAS – Hardware como Serviço.
- (D) SAAS – Software como Serviço.

**Questão 20**

Segurança da informação é a área do conhecimento que cuida da proteção dos dados, com base em um conjunto de pilares, dos quais um deles estabelece que informações sigilosas devem ser acessadas apenas por profissionais autorizados que estejam ligados diretamente a elas. Caso uma pessoa não autorizada realize o acesso, há uma quebra de confidencialidade dos dados, o que pode levar a diversos danos, como vazamentos, roubos, sequestros de registros e comprometimento da reputação da empresa. Essa compreensão evita que terceiros tenham acesso aos registros organizacionais sem que a equipe responsável tenha conhecimento. Nesse sentido, é recomendado definir a liberação de cada usuário do sistema, com ferramentas que comprovem a validação de quem está acessando o software.

Esse pilar é conhecido como

- (A) integridade.
- (B) autenticidade.
- (C) irretratabilidade.
- (D) confidencialidade.

**NOÇÕES DE ADMINISTRAÇÃO PÚBLICA**

**Questão 21**

“Este princípio, juntamente com o de controle da Administração pelo Poder Judiciário, nasceu com o Estado de Direito e constitui uma das principais garantias de respeito aos direitos individuais. Isto porque a lei, ao mesmo tempo em que os define, estabelece também os limites da atuação administrativa que tenha por objeto a restrição ao exercício de tais direitos em benefício da coletividade.” (Di Pietro)

A afirmativa acima se refere ao princípio da

- (A) moralidade.
- (B) legalidade.
- (C) eficiência.
- (D) impessoalidade.

**Questão 22**

Não consiste em uma manifestação do poder hierárquico, mas em um rearranjo administrativo.

Tal afirmativa se refere a

- (A) descentralização.
- (B) desconcentração.
- (C) poder de polícia.
- (D) instituição de órgãos públicos.

**Questão 23**

Quando são criadas pessoas privadas pelo Estado, busca-se um maior agilidade e liberdade de ação. Entretanto, como há interesses públicos, essas pessoas nunca serão regidas totalmente pelo Direito Privado. Diz-se que a eles se aplica o Direito Privado derogado pelo Direito Público.

A afirmativa acima caracteriza a

- (A) Administração Direta.
- (B) Administração Indireta.
- (C) Autarquia.
- (D) Fundação.

**Questão 24**

Essa estrutura é comum em empresas pequenas, onde não há diversificação do trabalho, pouca especialização e trabalho menos complexos. As vantagens: autoridade única, mais simples e econômicas, facilita a unidade de mando e disciplina. Desvantagens: tendência burocratizante, diminui o poder de controle técnico, comando único e direto, comunicação demorada, sobrecarrega a direção e chefias, não favorece trabalho em equipe.

A descrição acima se refere à estrutura organizacional

- (A) Staff.
- (B) Funcional.
- (C) por Projetos.
- (D) Linear.

**Questão 25**

Acerca do processo organizacional, analise as afirmativas a seguir:

- I. Todo processo organizacional precisa ser projetado, ou seja, precisa ser definido a partir da análise das atividades a serem desenvolvidas para alcançar os objetivos propostos.
- II. Um processo pode ser definido com diferentes graus de detalhamento, dependendo do nível gerencial. Uma vez que um processo está em execução, ele precisa continuamente ser analisado para verificar se está atendendo aos objetivos propostos com eficiência e eficácia.
- III. Sempre que necessário, ele precisa ser revisado para voltar a atender adequadamente aos objetivos.

Assinale

- (A) se apenas as afirmativas I e II estiverem corretas.
- (B) se apenas as afirmativas I e III estiverem corretas.
- (C) se apenas as afirmativas II e III estiverem corretas.
- (D) se todas as afirmativas estiverem corretas.

**Questão 26**

Na ótica da nova gestão pública, estão relacionadas nas alternativas a seguir suas características, à exceção de uma. Assinale-a.

- (A) otimização do uso dos recursos: mais serviços/mais impostos
- (B) produção de bens e serviços públicos: transparência, equidade e controle
- (C) mecanismos internos de desempenho / incentivo dos dirigentes e servidores públicos
- (D) maximização da criação de valor público

**Questão 27**

Em relação à gestão de resultados e seus indicadores, refere-se ao grau de proximidade entre o conceito e a medida, isto é, à sua capacidade de representar o conceito abstrato, o objetivo, o resultado, a que o indicador se propõe a “substituir” ou “operacionalizar”. Trata-se de

- (A) relevância social.
- (B) validade.
- (C) sensibilidade.
- (D) especificidade.

**Questão 28**

Na análise SWOT, ferramenta fundamental na Gestão da Qualidade, o W significa

- (A) fraquezas.
- (B) forças.
- (C) oportunidades.
- (D) ameaças.

**Questão 29**

Nas alternativas a seguir estão listados direitos sociais do cidadão, à exceção de uma. Assinale-a.

- (A) educação
- (B) liberdade de expressão
- (C) moradia
- (D) proteção à infância

**Questão 30**

A perspectiva do cidadão como usuário e contribuinte remete a uma ideologia

- (A) marxista.
- (B) weberiana.
- (C) neoliberal.
- (D) estruturalista.

**CONHECIMENTOS ESPECÍFICOS****Questão 31**

Assinale a alternativa que não apresente uma função do protocolo.

- (A) registrar documentos
- (B) endereçar documentos
- (C) classificar documentos
- (D) julgar documentos

**Questão 32**

Para a adequada guarda de documentos, a área de guarda de documentos deve ser mantida com índices de temperatura e de umidade relativa do ar, respectivamente, de

- (A) 15°C e 30%.
- (B) 20°C e 50%.
- (C) 25°C e 40%.
- (D) 25°C e 60%.

**Questão 33**

Segundo a Abordagem de Recursos Humanos, assinale a alternativa que **não** aponte uma de suas responsabilidades ou tarefas.

- (A) Dissociar
- (B) Agregar
- (C) Aplicar
- (D) Manter

**Questão 34**

Antigamente a área de Gestão de Pessoas (ou RH) aplicava uma estratégia de policiamento e controle do funcionário, que foi substituída contemporaneamente por

- (A) independência de atuação.
- (B) liberdade assistida.
- (C) parceria e compromisso.
- (D) prestação regular de contas.

**Questão 35**

Acerca da noção de estoque, no contexto da gestão de materiais, analise as afirmativas a seguir:

- I. Se houver sincronia entre estoque e demanda, a empresa comprará apenas produtos demandados, eliminando a necessidade de estoques.
- II. Estoques especulativos podem gerar lucro para a empresa se a demanda for maior que a oferta.
- III. Deve haver disponibilidade no canal de distribuição: materiais que estão em trânsito entre o fornecedor e o cliente.

Assinale

- (A) se apenas as afirmativas I e II estiverem corretas.
- (B) se apenas as afirmativas I e III estiverem corretas.
- (C) se apenas as afirmativas II e III estiverem corretas.
- (D) se todas as afirmativas estiverem corretas.

**Questão 36**

No âmbito da Lei 14.133/21, a qualidade de profissional ou de empresa cujo conceito, no campo de sua especialidade, decorrente de desempenho anterior, estudos, experiência, publicações, organização, aparelhamento, equipe técnica ou outros requisitos relacionados com suas atividades, permite inferir que o seu trabalho é essencial e reconhecidamente adequado à plena satisfação do objeto do contrato se denomina

- (A) alta qualificação.
- (B) notória especialização.
- (C) notória qualificação.
- (D) especializada qualificação.

**Questão 37**

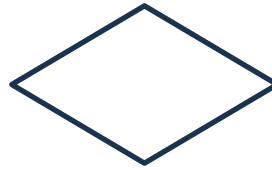
Tem como objetivo mostrar o fluxo de processo atual e quais as pessoas ou grupo de pessoas envolvidas em cada etapa. Neste caso, linhas verticais ou horizontais são utilizadas para definir as fronteiras entre as responsabilidades. Este tipo de ferramenta demonstra onde as pessoas ou grupo de pessoas se encaixam em cada sequência do processo e como elas se relacionam com outro grupo.

A definição acima se refere a

- (A) fluxograma funcional.
- (B) fluxograma linear.
- (C) organograma matricial.
- (D) organograma horizontal.

**Questão 38**

Num fluxograma, o desenho a seguir pode ser empregado:



O símbolo significa

- (A) Processo.
- (B) Dado.
- (C) Decisão.
- (D) Preparação.

**Questão 39**

Uma das características dos contratos administrativos é que eles são sinalagmáticos.

Isso implica dizer que

- (A) suas obrigações são recíprocas, isto é, ambas as partes possuem obrigações a serem cumpridas.
- (B) suas obrigações não podem ser descumpridas pelo contratado, sob pena de nulidade.
- (C) o contratante não pode exigir do contratado qualquer extensão ou aditivo ao contrato sem nova licitação.
- (D) há uma tolerância em relação ao contratante por se tratar de administrador público, mas não em relação ao contratado.

**Questão 40**

A respeito da Mesa Diretora da Câmara Municipal de Conquista, analise as afirmativas a seguir:

- I. A Mesa Diretora da Câmara Municipal é constituída por membros eleitos para exercer dentro de um triênio as funções deliberativas, consultivas, administrativas e legislativas dispostas no Regimento Interno da Câmara Municipal.
- II. As competências e atribuições da Mesa Diretora estão definidas no Regimento Interno, e a condução dos seus trabalhos é exercida sob a direção do Presidente da Câmara.
- III. A Mesa Diretora manterá relacionamento direto com os órgãos da Ouvidoria Geral e da Controladoria Geral, recepcionando suas demandas, orientações e aconselhamentos.

Assinale

- (A) se apenas as afirmativas I e II estiverem corretas.
- (B) se apenas as afirmativas I e III estiverem corretas.
- (C) se apenas as afirmativas II e III estiverem corretas.
- (D) se todas as afirmativas estiverem corretas.









Realização  
Instituto  
**ACCESS**