

**PREFEITURA MUNICIPAL DE ADUSTINA, (BA).**

**EDITAL N.º 01-2024 – CONCURSO PÚBLICO.**

**PROVA OBJETIVA.**

**CARGO: NUTRICIONISTA CLÍNICO.**

**Leia atentamente as INSTRUÇÕES:**

1. Não será permitido ao candidato realizar as provas usando óculos escuros (exceto para correção visual, ou fotofobia, desde que informe no ato da inscrição), ou portando aparelhos eletrônicos (mesmo desligados), qualquer tipo de relógio, chaves, carteira, bolsa, acessórios que cubram o rosto, a cabeça, ou parte desta.
2. Será eliminado deste Concurso Público, o candidato que fizer uso do celular e/ou aparelho eletrônico, no local onde está ocorrendo o mesmo; o candidato cujo celular e/ou aparelho(s) eletrônico(s), mesmo desligado(s), emitir(em) qualquer som, durante a realização das provas. Durante todo o tempo em que permanecer no local, onde ocorre o Concurso Público, o candidato deverá manter o celular desligado, sendo permitido ativá-lo, somente após ultrapassar o portão de saída do prédio.
3. **Sob pena de ser eliminado deste Concurso Público**, o candidato poderá manter em cima da sua carteira apenas lápis, borracha, caneta, um documento de identificação, lanche (exceto líquido). **Outros pertences**, antes do início das provas, o candidato deverá acomodá-los **embaixo de sua cadeira**, sob sua guarda e responsabilidade.
4. Confira se a sua prova tem **50** questões, cada qual com **5 alternativas**, veja se o cargo para o qual se inscreveu está correto.
5. Verifique seus dados no cartão-resposta (nome, número de inscrição e o cargo para o qual se inscreveu) e **ASSINE** o mesmo.
6. Preencha toda a área do cartão-resposta correspondente à alternativa de sua escolha, com caneta esferográfica (tinta azul, ou preta), sem ultrapassar as bordas. As marcações duplas, rasuradas, ou marcadas diferentemente do modelo estabelecido no cartão-resposta, serão anuladas.
7. Observe as orientações apresentadas no cartão-resposta. O mesmo não será substituído, salvo se contiver erro de impressão.
8. Aguarde a autorização do fiscal para abrir o caderno de provas. Ao receber a ordem, confira-o com muita atenção. Nenhuma reclamação sobre o total de questões, ou falha de impressão, será aceita depois de iniciada a prova. Cabe apenas ao candidato a interpretação das questões, o fiscal não poderá fazer nenhuma interferência.
9. A Prova Objetiva terá duração máxima de **3h (três horas)**, incluso o tempo destinado ao preenchimento do cartão-resposta.
10. O candidato poderá se retirar do local da prova somente **1h (uma hora)** após seu início, levando seu caderno de prova.
11. Ao terminar sua prova, o candidato deverá entregar ao fiscal de sala o cartão-resposta preenchido, assinado e retirar-se do recinto, onde está ocorrendo a mesma, não lhe sendo mais permitido o uso do banheiro e bebedouro.
12. Os **3 (três)** candidatos, que terminarem a prova por último, deverão permanecer na sala, só poderão sair juntos, após o fechamento do envelope, contendo os cartões-respostas dos candidatos presentes e ausentes, assinarem no referido envelope, atestando que este foi devidamente lacrado.

**BOA PROVA!**

## LÍNGUA PORTUGUESA.

Leia o texto para responder às próximas cinco questões.

Detalhes. (Roberto Carlos).

Não adianta nem tentar me esquecer,  
Durante muito tempo em sua vida  
Eu vou viver.  
Detalhes tão pequenos de nós dois,  
São coisas muito grandes pra esquecer  
E a toda hora, vão estar presentes,  
Você vai ver.  
Se um outro cabeludo aparecer na sua rua  
E isto lhe trouxer saudades minhas,  
A culpa é sua.  
O ronco barulhento do seu carro,  
A velha calça desbotada, ou coisa assim,  
Imediatamente você vai lembrar de mim.  
Eu sei que um outro deve estar falando ao seu ouvido,  
Palavras de amor como eu falei, mas eu duvido,  
Duvido que ele tenha tanto amor  
E até os erros do meu português ruim  
E nessa hora você vai lembrar de mim.  
À noite, envolvida no silêncio  
Do seu quarto,  
Antes de dormir, você procura  
O meu retrato,  
Mas da moldura não sou eu quem lhe sorri,  
Mas você vê o meu sorriso mesmo assim  
E tudo isso, vai fazer você  
Lembrar de mim.  
Se alguém tocar seu corpo como eu,  
Não diga nada,  
Não vá dizer meu nome, sem querer,  
À pessoa errada,  
Pensando ter amor nesse momento,  
Desesperada você tenta até o fim,  
E até nesse momento, você  
Vai lembrar de mim.  
Eu sei que esses detalhes vão sumir  
Na longa estrada,  
Do tempo que transforma todo amor  
Em quase nada,  
Mas quase também é mais um detalhe.  
Um grande amor, não vai morrer assim,  
Por isso, de vez em quando, você vai,  
Vai lembrar de mim.  
Não adianta nem tentar me esquecer,  
Durante muito, muito, muito tempo, em sua vida,  
Eu vou viver.  
Não, não adianta nem tentar,  
Me esquecer.

01. Com base na leitura do texto, marque a alternativa incorreta.

- a) De acordo com o texto, o eu poético relata que os detalhes pequenos dos dois, são coisas muito grandes para esquecer.
- b) O eu poético fala, que se alguém aparecer e a pessoa tiver saudades dele, a culpa será só dela.
- c) O eu lírico afirma para seu ente amado, que não adianta nem tentar esquecê-lo e que durante muito tempo em sua vida, ele viverá.
- d) Pela leitura do texto, entende-se que mesmo um grande amor é capaz de morrer e que a pessoa amada, nunca mais se lembrará do eu lírico.
- e) Referindo-se à leitura do texto, fica claro, o autor no final, afirmar: “Durante muito, muito, muito tempo, em sua vida, eu vou viver.

**02. Em se tratando de encontros vocálicos, as palavras do texto (muito, saudades, noite) são respectivamente:**

- a) Hiato, hiato, hiato.
- b) Ditongo, ditongo, ditongo.
- c) Ditongo, ditongo, hiato.
- d) Hiato, hiato, ditongo.
- e) Hiato, ditongo, ditongo.

**03. No período do texto “Detalhes tão pequenos de nós dois / São coisas muito grandes pra esquecer / E a toda hora vão estar presentes”. A oração grifada é:**

- a) Coordenada assindética.
- b) Coordenada sindética explicativa.
- c) Coordenada sindética adversativa.
- d) Coordenada sindética conclusiva.
- e) Coordenada sindética aditiva.

**04. Marque a alternativa devida, de acordo com a correta separação de sílabas, das palavras do texto, (ouvido, silêncio, coisas).**

- a) Ou-vi-do / si-lên-ci-o / coi-sas.
- b) O-u-vi-do / si-lên-ci-o / coi-sas.
- c) Ou-vi-do / si-lên-cio / coi-sas.
- d) Ou-vi-do / si-lên-cio / co-i-sas.
- e) O-u-vi- do / si-lên- ci-o / co-i-sas.

**05. De acordo com o texto, pode-se compreender que a expressão “desesperada” significa:**

- a) Consolada.
- b) Esperançosa.
- c) Confiante.
- d) Abalada.
- e) Aliviada.

**06. Quanto ao correto uso do hífen, marque a alternativa indevida.**

- a) Anti-higiênico.
- b) Auto-observação.
- c) Auto-suficiente.
- d) Pan-africano.
- e) Bem-arrumado.

**07. Em sintaxe, quanto aos termos da oração, relacione a Coluna I com a Coluna II e marque a alternativa devida.**

**Coluna I.**

- A- Agente da passiva.**
- B- Adjunto adnominal.**
- C- Sujeito.**
- D- Predicativo.**

## Coluna II.

1- É o elemento do predicado com o qual se atribui qualidade ou estado ao sujeito ou ao objeto, mediante verbo de ligação ou não.

2- É a parte da oração sobre a qual se declara alguma coisa.

3- É a expressão que se refere a um substantivo, determinando-o ou caracterizando-o.

4- É o termo que se refere a um verbo na voz passiva, com auxílio de preposição.

a) A (1) – B (2) – C (4) – D (3).

b) A (3) – B (4) – C (2) – D (1).

c) A (4) – B (3) – C (2) – D (1).

d) A (2) – B (1) – C (3) – D (4).

e) A (3) – B (4) – C (1) – D (2).

08. Aludindo-se à versificação, leia os itens, veja os tipos de rima e assinale a alternativa correspondente.

I- Aguda: entre palavras oxítonas, ou monossílabas tônicas.

II- Grave: entre palavras paroxítonas.

III- Esdrúxula: entre palavras proparoxítonas.

IV- Perfeita: igualdade total entre sons vocálicos e consonantais.

a) Apenas I e IV estão corretos.

b) Apenas II e IV estão corretos.

c) Apenas I, II e III estão corretos.

d) Todos os itens estão corretos.

e) Apenas II e III estão corretos.

09. Sobre Língua Materna, marque (V) verdadeiro ou (F) falso e assinale a alternativa correta.

( ) Língua Materna: A expressão vem de uma época quando as crianças eram alfabetizadas maioritariamente em casa, pelas mães.

( ) É a primeira língua que a criança aprende, podendo ser chamada também de língua nativa e corresponde ao grupo étnico-linguístico que a criança se identifica culturalmente.

( ) O falante nativo, ou de língua materna, possui uma forte ligação cultural e de identidade com sua comunidade e meio.

( ) Ser um falante nativo, significa ser linguisticamente próximo a outros falantes, à língua comum de qualquer comunidade, seja de uma família, cidade, tribo, povoado, região, ilha, país.

( ) Com relação a competência do falante nativo, ele tem noção de automaticidade, sendo totalmente capaz de assimilar de forma automática e familiar, todos os recursos estruturais do código linguístico.

a) V – F – V – F – V.

b) V – V – F – F – V.

c) V – F – V – V – F.

d) V – V – V – V – V.

e) F – V – V – V – F.

10. Em se tratando de representante e escola literária, marque a alternativa incorreta.

a) Visconde de Taunay, (Romantismo).

b) Machado de Assis, (Realismo).

c) Raimundo Correia, (Parnasianismo).

d) Cruz e Sousa, (Simbolismo).

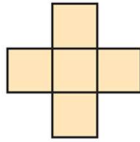
e) Joaquim Manuel de Macedo, (Naturalismo).

## MATEMÁTICA E RACIOCÍNIO LÓGICO.

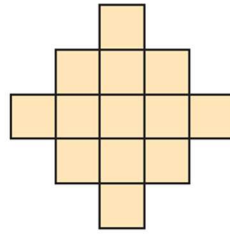
11. Considere a seguinte sequência de figuras, ela começa por um quadrado. Então, em cada etapa, quadrados são fixados ao redor da parte externa da figura.



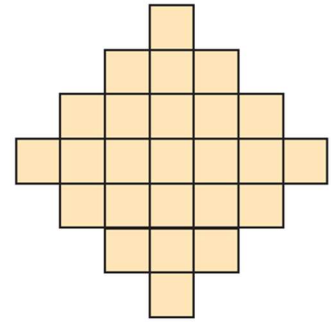
Etapa 1



Etapa 2



Etapa 3



Etapa 4

Com base no padrão observado nessa sequência de figuras, qual o número de quadrados na figura da Etapa 7?

- a) 53.
- b) 61.
- c) 79.
- d) 85.
- e) 113.

12. Considere a seguinte proposição: **Se não chover, então Dona Florinda rega as plantas.** Qual a negação dessa proposição?

- a) Se chover, então, Dona Florinda rega as plantas.
- b) Se chover, então, Dona Florinda não rega as plantas.
- c) Se não chover, então, Dona Florinda não rega as plantas.
- d) Chove e Dona Florinda rega as plantas.
- e) Não chove e Dona Florinda não rega as plantas.

13. Considere a sequência, formada pelas letras da palavra **ADUSTINENSE**, nessa ordem. **ADUSTINENSEADUSTINENSEADUSTINENSE...**

Qual é a 158ª letra dessa sequência?

- a) D.
- b) U.
- c) S.
- d) T.
- e) E.

14. De acordo com os resultados divulgados do Censo de 2022 pelo Instituto Brasileiro de Geografia e Estatística, (IBGE), a população da Cidade de Adustina, (BA), chegou a 14.201 habitantes, em 2022. Ainda, segundo o IBGE, em 2022, a área do Município era de 629,099 km<sup>2</sup>, o que o coloca na posição 241 de 417 entre os municípios do Estado da Bahia.

Disponível em: <https://cidades.ibge.gov.br/brasil/ba/adustina/panorama>. Acesso em: 12 fev. 2024.

A densidade demográfica é um indicador populacional que mede a relação entre a população absoluta e a extensão territorial. Para medir a concentração da população de determinada área, calcula-se sua densidade demográfica: divide-se o total da população pela área territorial. Esse valor é expresso pelo número de habitantes por quilômetro quadrado (hab./km<sup>2</sup>). Assim, a partir dos dados apresentados pelo IBGE, a densidade demográfica de Adustina, (BA), em 2022, era de:

- a) 18,40 hab./km<sup>2</sup>.
- b) 20,55 hab./km<sup>2</sup>.
- c) 22,57 hab./km<sup>2</sup>.
- d) 24,75 hab./km<sup>2</sup>.
- e) 28,52 hab./km<sup>2</sup>.

15. A reta  $r$  passa pelo ponto  $(6,4)$  e tem coeficiente angular igual a  $3/2$ . O ponto de intersecção da reta  $r$  com o eixo OY tem ordenada igual a:

- a)  $-5$ .
- b)  $-3$ .
- c)  $-1$ .
- d)  $0$ .
- e)  $1$ .

16. Uma lata de doce de coco cremoso tem formato cilíndrico, com 9 cm de diâmetro e 10 cm de altura. Qual é, aproximadamente, a capacidade dessa lata?

Use 3,14 como aproximação para  $\pi$ .

- a)  $500,25 \text{ cm}^3$ .
- b)  $540,75 \text{ cm}^3$ .
- c)  $600,80 \text{ cm}^3$ .
- d)  $635,85 \text{ cm}^3$ .
- e)  $675,50 \text{ cm}^3$ .

17. Um quadrado mágico é uma tabela quadrada de números em que a soma (soma mágica ou constante mágica) dos números de cada linha, cada coluna e nas duas diagonais é sempre igual, sendo que nenhum dos números se repete. Um quadrado mágico de ordem 3 pode ser formado a partir dos nove termos de uma Progressão Aritmética (P.A.). No quadrado mágico de ordem 3, o termo central do quadrado corresponde ao termo médio da P.A. Considere a P.A.  $(3, 8, \dots)$  de nove termos, que será usada para formar um quadrado mágico de ordem 3. Na metade da primeira linha do quadrado mágico, escreve-se número 3 (primeiro termo da P.A.) e na casa mais baixa da terceira coluna, escreve-se o número 8 (segundo termo da P.A.), como mostrado a seguir.

	3	
x		
		8

Adaptado de: Revista do Professor de Matemática. PAINEL IV. BARROS, Augusto M. de. O Método Hindu para a construção de quadrados mágicos. RPM n.º 103, 1º semestre, ano 40, 2021, p. 17-20.

Sabendo-se que no quadrado mágico de ordem 3 apresentado, a constante mágica é igual a 69. Qual número deve ocupar a casa identificada pela letra x?

- a) 13.
- b) 23.
- c) 33.
- d) 28.
- e) 38.

18. Considere a Progressão Geométrica infinita  $(8, 6, \dots)$ . A soma dos infinitos termos dessa Progressão Geométrica converge para:

- a) 21.
- b) 24.
- c) 28.
- d) 32.
- e) 36.

19. Um poliedro convexo tem uma face pentagonal e cinco faces triangulares. Se esse poliedro possui 6 vértices, então o número de arestas desse poliedro é:

- a) 6.

- b) 8.
- c) 10.
- d) 12.
- e) 14.

**20. Quantos são os anagramas da palavra BAHIA, que iniciam e terminam por vogal?**

- a) 12.
- b) 18.
- c) 24.
- d) 36.
- e) 60.

### **LEGISLAÇÃO BÁSICA E CONHECIMENTOS GERAIS.**

**21. Verifique o recorte da notícia a seguir e, de acordo com a referida notícia, assinale a alternativa que completa corretamente a lacuna.**

**“Após falha no site do [...], aprovados 'perdem' vaga no dia seguinte: 'Já tinha comemorado nas redes', diz aluna.**

**Resultados foram divulgados na terça-feira, (30), mas site do [...] saiu do ar. MEC alegou "falha técnica" e adiou a publicação. No dia seguinte, alunos que achavam que tinham passado, ficaram de fora da lista final.**

**Na manhã de terça-feira, (30), Khauany Freitas, de 18 anos, entrou no site do \_\_\_\_\_ e viu a mensagem com que tanto sonhava: "Parabéns, você foi selecionada na chamada regular".**

**[...]**  
**Até que houve uma reviravolta: assim como outros candidatos, por um erro do Ministério da Educação, (MEC), Khauany "perdeu" a vaga no dia seguinte.**

**Disponível em: <https://g1.globo.com/educacao/noticia/2024/02/01/apos-falha-no-sisu-aprovados-perdem-vaga-no-dia-seguinte-ja-tinha-comemorado-nas-redes-diz-aluna.ghtml>**

**Publicada em: 01 fev. 2024.**

- a) Sistema de Seleção Unificada, (Sisu)
- b) Sistema de Substituição Unificada, (Sisu)
- c) Sistema de Segmento Unificado, (Sisu)
- d) Seleção de Sujeitos Universitários, (Sisu)
- e) Sistema Semântico de Universitários, (Sisu)

**22. Realize a leitura do trecho da notícia publicada no dia 22 de outubro de 2023 pelo site UOL: Raicca Ventura acerta a última volta e conquista prata no skate do Pan 2023.**

**[...]**  
**Aos 16 anos, Raicca Ventura conquistou a medalha de prata no skate park nos \_\_\_\_\_ . A brasileira sofreu com quedas nas primeiras tentativas e alcançou sua melhor nota na volta final.**

**Disponível em: <https://www.uol.com.br/esporte/ultimas-noticias/2023/10/22/final-skate-park-feminino.htm>**

**Segundo a referida notícia a medalha de prata no skate park foi conquistada nos:**

- a) Jogos Pan-Americanos de Lima
- b) Jogos Pan-Americanos de Santiago
- c) Jogos Pan-Americanos de Toronto
- d) Jogos Pan-Americanos de Guadalajara
- e) Jogos Pan-Americanos de Porto Rico

**23. Leia o fragmento de notícia disponível na página da BBC News Brasil e marque a alternativa que completa, corretamente, a lacuna.**

**“A combinação climática que está secando os rios da Amazônia**

**[...]**

**As cenas são chocantes. Rios e igarapés secos e fumaça de queimada subindo pelo céu amazônico.**

**Manaus, capital do Amazonas encravada no meio da floresta, ficou recentemente encoberta por uma nuvem espessa de fumaça causada por queimadas no entorno da cidade.**

**A pouco mais de 500 quilômetros dali, \_\_\_\_\_ assustam e preocupam moradores.**

**Cientistas, ambientalistas e representantes do governo federal avaliam que esses dois eventos podem ter relação com um fenômeno que vem preocupando a comunidade científica e os milhões de habitantes da região: a estiagem severa que atinge a Amazônia, especialmente a chamada Amazônia Ocidental, composta pelos Estados do Amazonas, Rondônia, Acre e Roraima”.**

**Disponível em: <https://www.bbc.com/portuguese/articles/c0405z32d13o>**

**Publicada em: 16 out. de 2023.**

- a) carcaças de peixes espalhadas pelo leito seco do Rio Acaraú na capital do Amazonas
- b) carcaças de peixes no leito seco da Lagoa dos Tambaquis na capital do Amazonas
- c) carcaças de botos espalhadas pelo Rio Capibaribe
- d) carcaças de botos espalhadas pelo leito seco do Rio Punaú
- e) carcaças de botos espalhadas pelo leito seco de um lago no interior da Amazônia

**24. De acordo com o site do Instituto Brasileiro de Geografia e Estatística, (IBGE), Adustina, (BA), está localizada na Mesorregião:**

- a) Centro Ocidental.
- b) Leste Alagoano.
- c) Nordeste Baiano.
- d) Centro Sul Baiano.
- e) Centro Norte Baiano.

**25. Leia o seguinte texto.**

**“Ao pé de uma ladeira íngreme de pedras irregulares, circundado por mangueiras imponentes, banhado pelas ondas do mar e premiado pelo mais belo pôr do sol da cidade de Salvador. É neste belíssimo cartão postal chamado Solar do Unhão que se encontra o [...], considerado o principal espaço para a arte contemporânea do estado e um dos mais importantes do país, por onde passa um público aproximado de 200 mil pessoas por ano”.**

**Disponível em: <http://www.mam.ba.gov.br/sobre-o-mam/>**

**O nome do Museu, de acordo com o texto é:**

- a) Museu de Arte Moderna da Bahia, (MAM-BA).
- b) Museu dos Artistas Modestos da Bahia, (MAM-BA).
- c) Museu de Arte Niemeyer da Bahia, (MAN-BA).
- d) Museu de Arte Contemporânea da Bahia, (MAC-BA).
- e) Museu Artístico Mário Quintana da Bahia, (MAM-BA).

**26. De acordo com o art. 5º , da Lei Orgânica do Município de Adustina, (BA), Capítulo III, Dos Bens Municipais, são bens municipais:**

**I- Apenas bens móveis de seu domínio pleno, direto ou útil;**

**II- Direitos e ações que a qualquer título pertençam ao município;**

**III- Águas fluentes, emergentes e em depósito, localizadas em seu território e nos territórios das cidades vizinhas;**

**IV- Renda proveniente do exercício de suas atividades e da prestação de serviços.**

**Assinale a alternativa verdadeira.**

- a) Todas as assertivas estão corretas.
- b) Apenas as assertivas I, II e III estão corretas.
- c) Apenas as assertivas II, III e IV estão corretas.
- d) Apenas as assertivas II e IV estão corretas.
- e) Apenas as assertivas III e IV estão corretas.



**27. Segundo o art. 11 da Lei Orgânica do Município de Adustina, (BA), é da competência do Município em comum com a União e o Estado:**

**( ) Zelar pela guarda da Constituição Federal, da Constituição Estadual e das Leis destas esferas de Governo, das instituições democráticas e conservar o patrimônio público;**

**( ) Cuidar da saúde e assistência pública, da proteção e garantia das pessoas portadoras de deficiência;**

**( ) Proteger os documentos, as obras e outros bens de valor histórico, artístico e cultural, os monumentos, as paisagens naturais notáveis e os sítios arqueológicos;**

**( ) Impedir a evasão, destruição e a descaracterização de obras de arte e de outros bens de valor histórico, artístico e cultural.**

**Conforme a referida Lei Orgânica atribua (C) para certo e (E) para errado, depois assinale a alternativa com a sequência correta.**

a) C – C – C – C.

b) C – E – C – C.

c) E – C – C – E.

d) C – C – E – E.

e) E – E – E – E.

**28. Assinale a alternativa que compõe todos os fatores descritos no art. 20, da Lei Complementar n.º 211, de 18 de Abril de 2016, que cria o Novo Estatuto dos Servidores Públicos Cíveis do Município de Adustina e dá outras providências:**

**“Ao entrar em exercício, o servidor nomeado para cargo de provimento efetivo ficará sujeito a estágio probatório por período de 03 (três) anos, durante o qual a sua aptidão e capacidade serão objeto de avaliação para o desempenho do cargo, observados os seguinte fatores:”**

a) Assiduidade, disciplina, comportamento eficaz e produtividade.

b) Conhecimento, disciplina, capacidade de agrupamento e responsabilidade.

c) Assiduidade, habilidade emocional, capacidade comportamental e produtividade.

d) Assiduidade, flexibilidade, capacidade de iniciativa, produtividade e proatividade.

e) Assiduidade, disciplina, capacidade de iniciativa, produtividade e responsabilidade.

**29. De acordo com a Lei Complementar n.º 211, de 18 de Abril de 2016, que cria o Novo Estatuto dos Servidores Públicos Cíveis do Município de Adustina e dá outras providências, relacione as colunas e escolha a alternativa com a ordem correta.**

**Coluna I.**

**A- Readaptação.**

**B- Reversão.**

**C- Reintegração.**

**Coluna II.**

**1- ( ) É a reinvestidura do servidor estável no cargo anteriormente ocupado, ou no cargo resultante de sua transformação, quando invalidada a sua demissão por decisão administrativa ou judicial, com ressarcimento de todas as vantagens.**

**2- ( ) O retorno à atividade de servidor aposentado.**

**3- ( ) É a investidura do servidor em cargo de atribuições e responsabilidades compatíveis com a limitação, que tenha sofrido em sua capacidade física ou mental, verificada através de relatório de um médico especialista da área e de um médico do trabalho.**

a) A (1) – B (3) – C (2).

b) A (3) – B (2) – C (1).

c) A (2) – B (1) – C (3).

d) A (3) – B (1) – C (2).

e) A (1) – B (2) – C (3).

**30. Levando em consideração a Lei n.º 1, de 14 de setembro de 2022, que dispõe sobre a Reestruturação Organizacional do Poder Executivo do Município de Adustina e dá outras providências, assinale a alternativa que não está de acordo com o estipulado na referida Lei.**

a) Art. 1º: O objetivo desta Lei é a reestruturação político-administrativa do Poder Executivo do

Município de Adustina, a fim de aperfeiçoar a gestão e os serviços públicos, principalmente, através da reconfiguração dos órgãos, cargos, funções e diretrizes normativas.

b) Art. 2º: O Poder Executivo é chefiado pelo Prefeito do Município, que o administra na forma da lei, auxiliado pelo Vice-Prefeito, secretários, e demais agentes públicos municipais, no exercício das suas respectivas atribuições e competências.

c) Art. 3º: A Administração Municipal, para efeito desta Lei, compreende a administração direta e a indireta, que venha a ser criada por lei específica.

d) Art. 6º: Os dirigentes dos órgãos subordinados diretamente ao Prefeito do Município, devem promover, após a primeira quinzena do mês de agosto de cada ano, a elaboração do Plano de Metas para o Ano de exercício - PMA, planejando o conjunto de ações a serem executadas no próximo ano, assim como o Relatório dos Resultados Alcançados do Ano em curso - RRA, identificando o que efetivamente foi realizado, divulgando-os parcialmente, na forma de regulamento próprio.

e) Art. 7º: Todos os órgãos do Município devem atuar de forma articulada entre si, em regime de mútua colaboração, visando a oferecer informações, sugestões e dados que melhorem a prestação dos serviços.

## **CONHECIMENTOS ESPECÍFICOS.**

**31. Métodos gerais de conservação de alimentos são práticas que precedem o consumo do alimento e visam preservá-los em condições adequadas para que chegue ao consumidor de forma segura sob o ponto de vista higiênico sanitário, nutritivo e atrativo. São métodos de conservação de calor, exceto:**

- a) Tindalização.
- b) Branqueamento.
- c) Liofilização.
- d) Esterilização.
- e) Pasteurização.

**32. Em uma UAN (Unidade de Alimentação e Nutrição) prepara 2500 refeições/dia, para o arroz é usado o per capita de 90 gramas e o fator de cocção é de 2,3 e considerando um aumento de 15% para a camada de ar, qual a capacidade em litros da caldeira de arroz?**

- a) 618,75 litros.
- b) 776,25 litros.
- c) 519,75 litros.
- d) 569,25 litros.
- e) 595,125 litros.

**33. Relacione as colunas de acordo com seus efeitos no trato gastrointestinal e assinale a alternativa correta.**

**Coluna I.**

- 1- Pâncreas.**
- 2- Fígado.**
- 3- Estômago.**
- 4- Intestino delgado.**
- 5- Intestino grosso.**

**Coluna II.**

**( ) Aumenta o volume fecal e a velocidade do trânsito intestinal, é onde ocorre a formação de ácidos graxos de cadeia curta.**

**( ) Diminui a atividade de lipase e a amilase.**

**( ) Diminui a velocidade de esvaziamento gástrico, aumenta a saciedade pós-prandial.**

**( ) Diminui a velocidade do trânsito intestinal, a reabsorção de ácidos biliares, a digestão e a absorção de lipídeos e de carboidratos.**

**( ) Aumenta a excreção de sais biliares e diminui o colesterol.**

- a) 1 – 3 – 2 – 5 – 4.
- b) 5 – 1 – 3 – 4 – 2.

- c) 4 – 1 – 5 – 2 – 3.
- d) 5 – 2 – 3 – 4 – 1.
- e) 4 – 3 – 1 – 5 – 2.

**34. Os alimentos funcionais são aqueles alimentos ou bebidas que, quando ingeridos com frequência, podem trazer benefícios específicos à saúde, graças à ação de substâncias que atuam na fisiologia do organismo humano. Sobre isso, assinale a alternativa correta.**

- a) A base estrutural dos flavonoides é composta por núcleos de carbonos.
- b) Alimentos funcionais apresentam a característica regulamentada de manter informações no rótulo.
- c) As formas de isoflavonas biologicamente ativas são glicosídeos.
- d) Daidzeína e genisteína são exemplos de agliconas.
- e) Isoflavonas são os alimentos de cor laranja.

**35. Dobras cutâneas são medidas que expressam a quantidade de tecido adiposo corporal, um método simples, barato e não invasivo, porém, que precisa de um avaliador bem treinado para uma avaliação correta. Assinale a alternativa onde a descrição da aferição está incorreta.**

- a) Dobra cutânea da panturrilha: medida com articulação do joelho em flexão de 90 graus, com tornozelo em posição anatômica e o pé com apoio, a dobra é pinçada no ponto de maior perímetro da perna, com o polegar da mão oposta apoiando na borda medial da tíbia.
- b) Dobra cutânea subescapilar: medida oblíqua cerca de 2 cm abaixo da escápula.
- c) Dobra cutânea da coxa: medida sobre o músculo retrofemural a 1/3 da distância entre o ligamento e a borda superior da paleta, com o joelho semiflexionado.
- d) Dobra cutânea tricípital: medida na face posterior do braço, no ponto médio entre o acrômio e o olecrano.
- e) Dobra cutânea suprailíaca: medida oblíqua no ponto médio entre o último arco costal e a crista ilíaca, sobre a linha axilar média.

**36. Dietoterapia é alimentar um indivíduo como forma de tratamento, poupando órgãos afetados pela doença, por meio de mudanças de características físicas e químicas dos alimentos, priorizando vias de acesso a mais fisiológica possível e assim contribuir para menor tempo de internação. Sobre dietoterapia é correto afirmar:**

- a) Consumir café, chá preto, chá-mate e chocolate sem nenhuma restrição.
- b) Pacientes com enfermidades gástricas fracionar a dieta do paciente em 3 refeições ao dia, para o paciente ter períodos de jejum prolongados.
- c) Paciente ostomizado deve-se controlar o consumo de alimentos formadores de gases.
- d) Pacientes com doença celíaca, restringir o consumo de farinha de milho, polvilho doce ou fubá.
- e) Evitar o consumo de leite integral e derivados gordurosos e preferir o consumo de molho e temperos condimentados.

**37. Para um evento de confraternização da empresa, foi escolhido o cardápio de lagarto assado. Sabendo-se que o total em quilos que precisa para atender esse evento são 250kg e que a cocção total deve ser realizada em 2 horas. Os fornos disponíveis tem a capacidade de 20kg e que levam 40 minutos para assar, quantos fornos são necessários para realizar essa preparação dentro do prazo?**

- a) 4,52.
- b) 2,23.
- c) 2,60.
- d) 4,16.
- e) 3,77.

**38. As vitaminas são substâncias orgânicas essenciais no desenvolvimento e no funcionamento do organismo, quando não ingeridas em quantidades necessárias o corpo humano pode apresentar sinais e sintomas que ajudam a identificar qual vitamina está em deficiência.**

**Assinale a alternativa correta.**

- a) Vitamina C: Osteomalácia, alteração esqueléticas, dor e hipotonia musculares e tetania.
- b) Vitamina K: Tremor, arritmia, irritabilidade muscular e nervosa.
- c) Vitamina B12: Palidez, anemia, glossite, diarreia.
- d) Vitamina B2: Sensibilidade dos ossos e articulação, pernas arqueadas, joelhos que se chocam, hipertensão.
- e) Vitamina A: Fotofobia, xerose, baixa resistência a infecções.

**39. A Política Nacional de Alimentação e Nutrição – PNAN – aprovada no ano de 1999, integra os esforços do Estado Brasileiro que por meio de um conjunto de políticas públicas propõe respeitar, proteger, promover e prover os direitos humanos à saúde e à alimentação. Qual alternativa não é uma diretriz do PNAN?**

- a) Produção e disponibilização de alimentos.
- b) Gestão das ações de alimentação e nutrição.
- c) Controle e regulação dos alimentos.
- d) Participação e controle social.
- e) Qualidade da força de trabalho.

**40. No dia 1º de setembro de 2005, foi publicada uma norma que foi desenvolvida por profissionais da indústria de alimentos, junto a especialistas de organizações internacionais, com a cooperação da comissão do Codex Alimentos, ONU, FAO, OMS. Com objetivo de proteger a saúde dos consumidores, nela foi especificados requisitos para o sistema de gestão de segurança de alimentos, demonstrando a habilidade da organização no controle de perigos a fim de garantir, em toda cadeia produtiva, que o alimento chegue seguro no consumo humano. A qual norma o texto se refere?**

- a) RDC 275.
- b) ISO 22000.
- c) RDC 216.
- d) ISO 14000.
- e) ISO 9000.

**41. Louis Pasteur, renomado cientista francês e pioneiro do método, atualmente, reconhecido como pasteurização, desenvolveu essa técnica com o propósito de realizar o tratamento térmico do leite a uma temperatura específica, visando a eliminação de bactérias prejudiciais à saúde humana. No contexto atual da indústria de alimentos, existem três modalidades de pasteurização. Em relação ao tipo UHT (*Ultra High Temperature*) ou longa vida, assinale a alternativa que indica a temperatura e o tempo necessários para o processo.**

- a) Temperatura de 45 °C durante 1 a 3 segundos.
- b) Temperatura de 65 °C, durante 30 minutos.
- c) Temperatura de 130 °C a 150 °C, durante 30 minutos.
- d) Temperatura de 130 °C a 150 °C, durante 3 a 5 segundos.
- e) Temperatura de 75 °C durante 15 a 20 segundos.

**42. De acordo com a Resolução - RDC n.º 269, de 22 de setembro de 2005, que aprova o regulamento técnico sobre ingestão diária recomendada, (IDR), para proteína, vitaminas e minerais. A ingestão diária recomendada para gestantes de ácido fólico corresponde a:**

- a) 55 microgramas.
- b) 2,6 microgramas.
- c) 355 microgramas.
- d) 200 microgramas.
- e) 30 microgramas.

**43. Um renomado chef de cozinha está preparando um prato sofisticado, cuidando para aplicar, adequadamente, os métodos de transmissão de calor. Considere o seguinte cenário para responder à questão: O chef optou por descongelar alguns ingredientes no micro-ondas para garantir o equilíbrio perfeito de textura e sabor em seu prato. Ele escolheu utensílios de**

alta condutividade térmica, como painéis de cobre, para garantir uma transferência uniforme de calor. Durante a preparação, mexeu, constantemente, os ingredientes em um líquido em ebulição, visando uma distribuição homogênea de calor. Além disso, utilizou um forno pré-aquecido para dourar a superfície do prato, promovendo camadas de sabor adicionais. Com base no cenário apresentado, qual alternativa descreve, corretamente, os métodos de transmissão de calor aplicados pelo chef, respectivamente?

- a) Irradiação, condução, convecção e convecção.
- b) Condução, irradiação, ebulição e evaporação.
- c) Convecção, radiação e condução, ebulição.
- d) Condução, convecção e irradiação e irradiação.
- e) Condução, radiação, ebulição e condução.

44. No que se diz respeito às bases da gastronomia, após aplicadas as técnicas de higienização a manipulação dos alimentos é o próximo passo. Julienne é um corte feito, principalmente, com legumes, onde é feito bastonetes com 3 mm x 3 mm x 2,5 cm. A partir desse corte podemos obter outro mais delicado, sendo muito usado em sopas, saladas e refogados, que exigem certa elegância e sutileza. Assinale o nome dado ao corte obtido a partir do Julienne?

- a) Chiffonade.
- b) Bouquet garni.
- c) Duxelles.
- d) Brunoise.
- e) Mirepoix.

45. Os carotenoides, reconhecidos por suas propriedades antioxidantes, desempenham um papel vital em vários vegetais, conferindo-lhes colorações, predominantemente, amarelas, laranjas e vermelhas. Para otimizar a absorção desses compostos, torna-se imperativo adotar estratégias dietéticas que considerem suas complexas características bioquímicas. Diante desse contexto, assinale a opção que melhor descreve as condições ideais para a absorção eficiente de carotenoide.

- a) Possui característica lipossolúvel, sendo melhor absorvido na presença de lipídeos.
- b) Possui característica hidrossolúvel, sendo melhor absorvido na presença de lipídeos.
- c) Possui característica hidrossolúvel, sendo melhor absorvido na presença da água.
- d) Possui característica lipossolúvel, sendo melhor absorvido na presença de hidratos de carbono.
- e) Possui característica lipossolúvel, sendo melhor absorvido na presença de aminoácidos essenciais.

46. A respeito dos alimentos funcionais, marque (V) verdadeiro ou (F) falso e indique a alternativa correta.

- ( ) Carotenoides são melhores absorvidas na presença de lipídeos, pois são lipossolúveis.
- ( ) Carotenoides podem ser classificados como precursor da vitamina A.
- ( ) Carotenoides não podem ser encontrados em alimentos de origem animal, apenas em vegetais.
- ( ) Carotenoides são melhores absorvidos na presença da água, pois são hidrossolúveis.
- ( ) Luteína e zeaxantina contribuem para saúde ocular.

- a) V – V – F – F – V.
- b) F – V – F – F – V.
- c) V – V – V – F – V.
- d) V – F – F – F – V.
- e) V – V – F – F – F.

47. Na tecnologia dos alimentos, diversas técnicas podem ser utilizadas visando garantir segurança e durabilidade. Um exemplo é esterilização em embalagens hermeticamente fechadas, como latas, vidros e plásticos. As embalagens devem ser resistentes ao calor, o tempo e temperatura adequadas a cada produto. Em relação aos métodos de conservação de

**alimentos pelo calor, assinale a alternativa que descreve o método mencionado.**

- a) Branqueamento.
- b) Pasteurização lenta.
- c) Apertização.
- d) Ebulição.
- e) UHT – *Ultra High Temperature*.

**48. De acordo com a Resolução n.º 216/2004, qual é a justificativa para a elaboração de requisitos higiênico-sanitários gerais para serviços de alimentação aplicáveis em todo o território nacional?**

- a) Busca por uniformidade nas embalagens de alimentos.
- b) Necessidade de proteção à saúde da população.
- c) Estímulo ao comércio internacional de alimentos.
- d) Promoção de práticas culinárias regionais.
- e) Promoção da indústria alimentícia.

**49. Conforme a Organização Mundial da Saúde, (OMS), em 2019 algumas doenças são transmitidas por protozoários através de água ou alimentos, inadequadamente, higienizados, associadas a condições precárias de saneamento básico. Alguns desses protozoários afetam os seres humanos resultando em quadros de gastroenterite após sua infecção, manifestando-se por sintomas como vômitos e diarreia. A transmissão ocorre, principalmente, por via fecal-oral. Em relação às doenças, exclusivamente, transmitidas por protozoários via fecal-oral, assinale a alternativa correta.**

- a) Hepatite A, dengue e malária.
- b) Hepatite A, aflatoxina e toxoplasmose.
- c) Giardíase, rotavírus e amebíase.
- d) Hepatite A, rotavírus e vírus Norwalk.
- e) Amebíase, giardíase e toxoplasmose.

**50. O protocolo de Jackson e Pollock, (1985), é utilizado para calcular o percentual de gordura corporal utilizando os dados de quatro dobras cutâneas. Assinale qual delas corresponde às dobras do protocolo informado.**

- a) Tricipital, subescapular, suprailíaca e coxa.
- b) Bicipital, abdominal, suprailíaca e coxa.
- c) Tricipital, abdominal, suprailíaca e coxa.
- d) Tricipital, abdominal, axilar média e coxa.
- e) Bicipital, abdominal, axilar média e coxa.

**RASCUNHO.**