

AVANÇASP



PREFEITURA MUNICIPAL DE CAÇAPAVA

CONCURSO PÚBLICO
01/2024

PROFESSOR II - GEOGRAFIA

Leia atentamente as instruções abaixo

1. PROVA E FOLHA DE RESPOSTAS

Além deste Caderno de Prova, contendo 50 (cinquenta) questões objetivas, você receberá do Fiscal de Sala:

- 01 (uma) Folha de Respostas destinada às respostas das questões objetivas. Confira se seus dados estão corretos.

2. TEMPO

- 03 (três) horas é o tempo disponível para realização da prova, já incluído o tempo para marcação da Folha de Respostas da prova objetiva;

- **01 (uma) hora** após o início da prova é possível, retirar-se da sala levando o caderno de prova;

3. INFORMAÇÕES GERAIS

- As questões objetivas têm 05 (cinco) alternativas de resposta (A, B, C, D, E) e somente **uma** delas está correta;

- Verifique se seu caderno está completo, sem repetição de questões ou falhas. Caso contrário, informe imediatamente o Fiscal da Sala, para que sejam tomadas as devidas providências;

- Confira seus dados pessoais na Folha de Respostas, especialmente nome, número de inscrição e documento de identidade e leia atentamente as instruções para preenchimento;

- O preenchimento das respostas da prova objetiva é de sua responsabilidade e não será permitida a troca de Folha de Respostas em caso de erro de marcação pelo candidato;

- Marque, na folha de respostas, com caneta de tinta azul ou preta, a letra correspondente à alternativa que você escolheu.

- Reserve tempo suficiente para o preenchimento de suas respostas. Para fins de avaliação, serão levadas em consideração apenas as marcações realizadas na Folha de Respostas da prova objetiva, não sendo permitido anotar informações relativas às respostas em qualquer outro meio que não seja o caderno de prova;

- Ao se retirar, entregue a Folha de Respostas preenchida e assinada ao Fiscal de Sala.

SERÁ ELIMINADO do presente certame o candidato que:

- a) for surpreendido, durante as provas, em qualquer tipo de comunicação com outro candidato;

- b) portar ou usar, qualquer tipo de aparelho eletrônico (calculadoras, bips/pagers, câmeras fotográficas, filmadoras, telefones celulares, smartphones, tablets, relógios, walkmans, MP3 players, fones de ouvido, agendas eletrônicas, notebooks, palmtops ou qualquer outro tipo de computador portátil, receptores ou gravadores) seja na sala de prova, sanitários, pátios ou qualquer outra dependência do local de prova;

- c) se ausentar da sala em que se realizam as provas levando consigo o Caderno de Questões e/ou a Folha de Respostas;

- d) se recusar a entregar a Folha de Respostas, quando terminar o tempo estabelecido;

- e) não assinar a Lista de Presença e/ou a Folha de Respostas.

LÍNGUA PORTUGUESA**TEXTO**

Leia o texto para responder às questões de 1 a 5.

Bobagem

Emocionado e um pouco bêbado, aos cinco minutos do Ano-Novo ele resolveu telefonar para o velho desafeto.

— Alô?

— Alô. Sou eu.

— Eu quem?

— Eu, pô.

O outro fez silêncio. Depois disse:

— Ah. É você.

— Olha aqui, cara. Eu estou telefonando pra te desejar um feliz Ano-Novo. Entendeu?

— Obrigado.

— Obrigado não. Olha aqui. Sei lá, pô...

— Feliz Ano-Novo pra você também.

— Eu nem me lembro mais por que nós brigamos. Juro que não lembro.

— Eu também não lembro.

— Então, grande. Como vai Vivinha?

— Bem, bem. Quer dizer, mais ou menos. As enxaquecas...

Ele ficou engasgado. De repente se deu conta de que tinha saudade até das enxaquecas da Vivinha. Como podiam ter passado tantos anos sem se ver? Como tinham deixado uma bobagem afastá-los daquela maneira? As pessoas precisavam se reaproximar. Aquele seria o seu projeto para o fim do milênio. Reaproximar-se das pessoas. Só dar importância ao que aproximava. Puxa! Estava tão enternecido com as enxaquecas da Vivinha que mal podia falar.

— A vida é muito curta. Você está me entendendo? Assim não dá.

Era como se estivesse reclamando com o fornecedor. A vida vinha com a carga muito pequena. Era preciso um botijão maior, senão não dava mesmo. E ainda desperdiçavam vida com bobagem.

Ele quis marcar um encontro para ontem. No Lucas, como antigamente. O outro foi mais sensato e contrapropôs hoje, prevendo que ontem seria um dia de ressaca e segundos pensamentos. E tinha razão. Ontem à noite, ele voltou a telefonar. Falou secamente. Pediu desculpas, disse que não poderia ir ao encontro e despediu-se com um formal “Melhoras para a Vivinha”. Tinha se lembrado da bobagem que motivara a briga.

VERISSIMO, L. F. Verissimo antológico: meio século de crônicas, ou coisa parecida. São Paulo: Objetiva, 2020.

QUESTÃO 01

Com o final da narrativa, conclui-se que o personagem que toma a iniciativa de telefonar para a pessoa com quem havia se desentendido:

(A) mantém-se resoluto ao determinar que se aproximará das pessoas no Ano-Novo.
 (B) não consegue pôr em prática seu projeto para o fim do milênio.
 (C) superou o motivo do desentendimento por completo.
 (D) não estava de fato enternecido pelas enxaquecas de Vivinha.
 (E) é consentâneo ao alinhar seu projeto de Ano-Novo e sua decisão final sobre tal desafeto.

QUESTÃO 02

Em “— A vida é muito curta. Você está me entendendo? Assim não dá.”, a palavra “*assim*” é empregada como um recurso coesivo. O elemento do texto a que se refere tal palavra é:

- (A) a vida, por ser muito curta.
 (B) o outro personagem, com quem o interlocutor estava brigado.
 (C) a própria situação, que, para o interlocutor, não deveria continuar da forma como estava.
 (D) as enxaquecas de Vivinha, que persistiam.
 (E) o telefonema, do qual o interlocutor se arrepende logo depois.

QUESTÃO 03

A palavra “*enternecido*”, que ocorre no excerto “*Estava tão enternecido com as enxaquecas da Vivinha que mal podia falar.*”, exprime o contrário de:

- (A) compadecido.
- (B) apático.
- (C) preocupado.
- (D) condoído.
- (E) empático.

QUESTÃO 04

A transposição do excerto “— Eu nem me lembro mais por que nós brigamos. Juro que não lembro.”, que está em discurso direto, para discurso indireto resultaria em:

- (A) Ele disse que nem se lembrava mais por que eles brigaram, e que jura que não se lembra.
- (B) Ele disse que nem se lembra mais por que eles brigavam. Jura que não se lembra.
- (C) Ele disse que nem se lembra mais por que eles brigaram. Jurava que não lembrava.
- (D) Ele disse que nem se lembrava mais por que eles tinham brigado, e que jurava que não se lembrava.
- (E) Ele disse que nem se lembra mais por que eles brigam. Jura que não lembra.

QUESTÃO 05

Analise as sentenças a seguir, retiradas do texto:

- I. Eu nem me lembro mais por que nós brigamos.
- II. Juro que não lembro.
- III. Tinha se lembrado da bobagem que motivara a briga.

Nas sentenças dadas, a palavra “*que*” ocorre como pronome relativo apenas em:

- (A) I.
- (B) II.
- (C) III.
- (D) I e II.
- (E) I e III.

Considere o excerto a seguir, retirado da página Wikipedia sobre cães, para responder às questões 6 e 7:

“O cão, no Brasil também chamado de cachorro, é um mamífero carnívoro da família dos canídeos, subespécie do lobo, e talvez o mais antigo animal domesticado pelo ser humano.”

QUESTÃO 06

Dentre as palavras em destaque, que ocorrem no excerto indicado, são trissílabas apenas:

- (A) cachorro; subespécie; animal.
- (B) cachorro; animal; humano.
- (C) subespécie; animal; humano.
- (D) cachorro; subespécie; animal; humano.
- (E) subespécie; talvez; animal; humano.

QUESTÃO 07

Dentre as palavras a seguir, em destaque no excerto indicado, classifica-se como oxítone apenas:

- (A) cachorro.
- (B) carnívoro.
- (C) subespécie.
- (D) animal.
- (E) humano.

QUESTÃO 08

Analise as palavras a seguir quanto ao emprego do hífen e assinale a alternativa em que se verifica o uso correto desse sinal gráfico.

- (A) manda-chuva.
- (B) mal-de-Chagas.
- (C) meio-dia.
- (D) semi-novo.
- (E) dona-encrenca.

QUESTÃO 09

Analise as sentenças a seguir quanto ao emprego das expressões “porque”, “por que”, “por quê” e “porquê”. Assinale a alternativa em que não ocorre desvio quanto ao uso dessas expressões.

- (A) Entendo perfeitamente porque ele me trata assim.
- (B) O motivo por que não fui à festa de aniversário foi a chuva forte de ontem.
- (C) Somos amigas; não há porque agradecer.
- (D) Gostaria de saber o por quê não atende às minhas ligações.
- (E) Ela reagiu daquela forma por que está cansada de tanta humilhação.

QUESTÃO 10

Analise as sentenças a seguir e assinale a alternativa em que se verifica voz verbal passiva analítica.

- (A) Recuperaram-se artefatos anteriores à Revolução Industrial.
- (B) A mãe da aluna foi orientada pela direção do colégio a buscar ajuda psicológica.
- (C) Ana fez um relatório sobre os gastos mensais do escritório.
- (D) A equipe realizou o resgate dos animais abandonados na sexta-feira.
- (E) Realizaram-se coletas de dados de moradores em todos os bairros do município.

MATEMÁTICA E RACIOCÍNIO LÓGICO
QUESTÃO 11

Sabe-se que 50% das questões de uma determinada prova de vestibular são referentes ao conteúdo de português, 25% são de matemática e os outros 25% são de inglês. Um candidato acertou 80% da prova de português, 70% da prova de matemática, e 60% da prova de inglês. Quantos por cento das questões totais do exame o candidato acertou?

- (A) 75,5%.
- (B) 72,5%.
- (C) 70,5%.
- (D) 79,0%.
- (E) 71,0%.

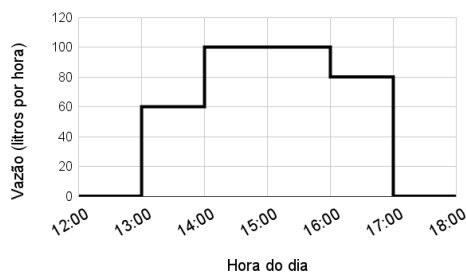
QUESTÃO 12

A média aritmética simples das idades dos 10 alunos de uma turma é 25 anos. Se excluirmos o mais velho e o mais novo da turma, a nova média continua sendo 25 anos. Sabendo-se que a diferença entre as idades do mais velho e do mais novo é 10 anos, qual a idade do mais novo?

- (A) 12 anos.
- (B) 10 anos.
- (C) 15 anos.
- (D) 20 anos.
- (E) 18 anos.

QUESTÃO 13

A figura abaixo mostra um gráfico da vazão de uma torneira em litros por hora ao longo do tempo:



Analisando o gráfico, qual o volume total despejado no período das 12:00 às 18:00, em litros?

- (A) 320.
- (B) 280.
- (C) 340.
- (D) 360.
- (E) 380.

QUESTÃO 14

Uma máquina perfuratriz é utilizada para fazer um furo no solo para que geólogos possam estudar sua composição. Suponha que a máquina consiga perfurar uma rocha numa velocidade de 0,15 mm por segundo. Quanto tempo levará para que a máquina perfure 81 metros dessa rocha?

- (A) 15 horas.
- (B) 150 horas.
- (C) 170 horas.
- (D) 180 horas.
- (E) 1500 horas.

QUESTÃO 15

Um determinado retângulo tem razão entre seus lados de $7/2$, e seu perímetro é 27 cm. Indique a sua área, em centímetros quadrados:

- (A) 10,5.
- (B) 15,0.
- (C) 17,5.
- (D) 30,0.
- (E) 31,5.

QUESTÃO 16

Cada um dos cientistas Alberto, Breno, Carlos e Damásio, visitou um estado diferente da região Norte do país. Eles visitaram Amapá, Roraima, Rondônia e Tocantins, não necessariamente nesta ordem. Sabe-se que:

- I – Alberto viajou para o Amapá;
- II – Breno não viajou para Rondônia;
- III – Carlos e Damásio não viajaram para Roraima;
- IV – Carlos não viajou para o Tocantins;

Com base nas afirmativas, podemos concluir que:

- (A) Damásio viajou para o Amapá.
- (B) Breno viajou para o Tocantins.
- (C) Carlos viajou para o Amapá.
- (D) Breno viajou para Roraima.
- (E) Damásio viajou para Rondônia.

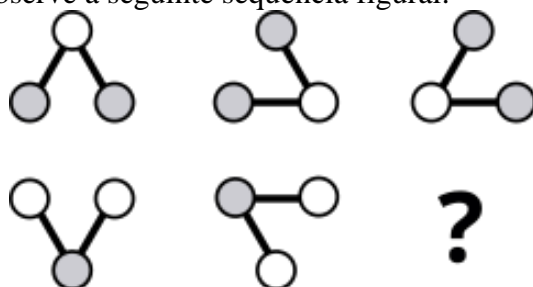
QUESTÃO 17

Numa determinada região, os meteorologistas têm observado que a cada ano, chove-se 6 horas a menos durante o ano comparado ao ano anterior. Se no ano de 2023 choveu 101 dias completos nessa região, em que ano não choverá nenhum dia, se a previsão dos meteorologistas se mantiver?

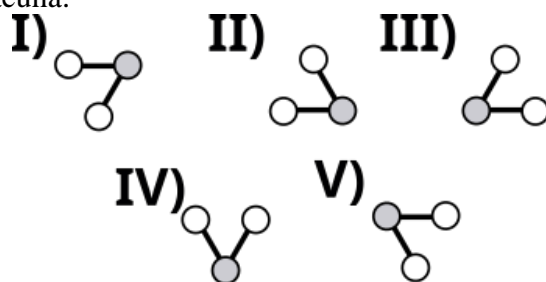
- (A) 2426.
- (B) 2427.
- (C) 2428.
- (D) 2332.
- (E) 2665.

QUESTÃO 18

Observe a seguinte sequência figural:



De acordo com as correspondências abaixo, indique o elemento que deve ocupar o lugar da lacuna:



- (A) I.
- (B) II.
- (C) III.
- (D) IV.
- (E) V.

QUESTÃO 19

Duas aplicações a juro simples, com o mesmo capital inicial de R\$ 10.000,00 foram aplicadas no mesmo dia. Após 6 meses, a diferença do juro recebido entre as duas aplicações é R\$ 600,00. Neste caso, qual a diferença entre a maior e a menor taxa de juro das duas aplicações?

- (A) 1,0%.
- (B) 1,5%.
- (C) 2,0%.
- (D) 2,5%.
- (E) 3,0%.

QUESTÃO 20

Pentágono, Heptágono e Eneágono são polígonos regulares que têm o número de lados respectivamente igual a:

- (A) 6, 7, 11.
- (B) 5, 7, 11.
- (C) 6, 9, 7.
- (D) 5, 9, 7.
- (E) 5, 7, 9.

NOÇÕES DE INFORMÁTICA**QUESTÃO 21**

Ao digitar uma redação no Microsoft Word 2016 e clicar na tecla de atalho Ctrl+E, o resultado será:

- (A) A exclusão da última palavra digitada.
- (B) A centralização da última linha digitada.
- (C) A seleção da última linha digitada.
- (D) A correção do texto já desenvolvido.
- (E) A leitura em voz alta do texto já redigido.

QUESTÃO 22

No Microsoft Excel 2016 a **Função SE** é uma das funções mais populares do Excel e permite que o usuário:

- (A) Faça multiplicações simultâneas entre várias células da tabela.
- (B) Faça divisões simultâneas entre várias células da tabela.
- (C) Faça seleção de cor sobre valores duplicados nas tabelas.
- (D) Faça comparações lógicas entre um valor e aquilo que se espera.
- (E) Faça a exclusão de dados duplicados das tabelas.

QUESTÃO 23

Para localizar conteúdo em uma tabela ou um intervalo por linha utilizando o Microsoft Excel 2016, o responsável pela extração dos dados pode usar a função:

- (A) SOMASE
- (B) PROCV
- (C) SES
- (D) DATINT
- (E) DATFUT

QUESTÃO 24

No Microsoft Excel 2016, a opção para inserir gráficos está acessível na guia:

- (A) Inserir.
- (B) Fórmulas.
- (C) Correspondência.
- (D) Ilustrações.
- (E) Dados.

QUESTÃO 25

Utilizando o Microsoft Excel 2016 e acionando as teclas de atalho Ctrl+W o resultado será:

- (A) Tornar a célula de trabalho em negrito.
- (B) Limpar todos os dados inseridos na pasta de trabalho.
- (C) Remover o conteúdo da célula.
- (D) Fechar a pasta de trabalho do Excel.
- (E) Adicionar bordas na tabela.

CONHECIMENTOS ESPECÍFICOS**QUESTÃO 26**

Em 2023, a China perdeu a posição de principal parceiro comercial dos Estados Unidos em termos de valor de importação de bens, após ocupar essa liderança por vários anos. Neste mesmo ano, o país que ocupou esta posição foi:

- (A) o México
- (B) a Alemanha
- (C) o Canadá
- (D) o Brasil
- (E) a França

QUESTÃO 27

"A partir desta segunda-feira (1º), o grupo BRICS que até então era formado por África do Sul, Brasil, Rússia, Índia e China será ampliado para incluir _____. A decisão foi tomada na cúpula de Joanesburgo, em agosto de 2023."

Assinale a alternativa correta:

- (A) Egito, Etiópia, Arábia Saudita, Emirados Árabes Unidos e Irã.
- (B) Argentina, Irã, Suécia, Nigéria e Egito.
- (C) Estados Unidos, Egito, Emirados Árabes Unidos, Irã e Taiwan.
- (D) Egito, Etiópia, Catar, Rússia e Indonésia.
- (E) Etiópia, Irã, Nigéria, Ucrânia e Venezuela.

QUESTÃO 28

Desde seu início em 2011, o conflito na Síria tem sido uma das crises humanitárias mais graves do século, resultando em um elevado número de mortes e no deslocamento de milhões de pessoas. Diversos grupos armados têm participado neste conflito, cada um com objetivos distintos.

Assinale a alternativa que não corresponde a um grupo armado diretamente envolvido na guerra civil síria:

- (A) Exército Livre da Síria (ELS).
- (B) Estado Islâmico (ISIS).
- (C) Partido da União Democrática (PYD).
- (D) Hezbollah.
- (E) Batalhão de Azov

QUESTÃO 29

Em relação às estimativas populacionais dos continentes para o ano corrente, identifique a opção que corretamente ordena os continentes, começando pelo mais populoso.

- (A) Ásia, África, Europa, América, Oceania
- (B) Europa, Ásia, África, América, Oceania
- (C) África, Ásia, América, Europa, Oceania
- (D) Ásia, América, África, Europa, Oceania
- (E) Ásia, África, América, Europa, Oceania

QUESTÃO 30

Nos anos 70, emergiu no Japão um novo sistema de gestão da produção que buscava superar os limites impostos por modelos anteriores. Este sistema foi desenvolvido como resposta aos desafios específicos enfrentados pela indústria automobilística japonesa, caracterizando-se pela flexibilidade na produção, qualidade dos produtos e satisfação dos trabalhadores. A inovação central desse sistema residia na sua capacidade de reduzir drasticamente o tempo de inatividade nas linhas de montagem e de adaptar-se rapidamente a mudanças no volume e na variedade da demanda dos consumidores. Além disso, promovia a melhoria contínua e a eliminação de desperdícios, engajando os funcionários em um ambiente de trabalho colaborativo, onde sugestões para aprimorar os processos eram altamente encorajadas. Este modelo também enfatizava a importância do estoque "just-in-time", minimizando o armazenamento e esperando a produção conforme a necessidade de peças, otimizando assim todo o processo produtivo.

O sistema de gestão da produção descrito no texto é conhecido como:

- (A) Capitalismo, que se foca na especialização e na eficiência do trabalho através da divisão de tarefas.
- (B) Fordismo, que enfatiza a produção em massa e a padronização dos produtos e do trabalho.
- (C) Toyotismo, caracterizado pela produção flexível, qualidade e participação ativa dos funcionários.
- (D) Socialismo, um sistema econômico que propõe a propriedade coletiva dos meios de produção.
- (E) Volvismo, que prioriza a organização do trabalho em torno do bem-estar e da satisfação dos empregados.

QUESTÃO 31

A divisão do trabalho é um conceito fundamental na organização da produção e do trabalho nas sociedades modernas. Adam Smith discorreu extensivamente sobre esse princípio em seu livro "A Riqueza das Nações", argumentando que a especialização das tarefas dos trabalhadores e sua cooperação no que fazem aumentarão grandemente a eficiência e a produtividade. Smith ilustra isso descrevendo o processo de produção em uma fábrica de alfinetes: da divisão do trabalho dos trabalhadores até as coisas particulares que cada um deles executará, de modo que o resultado possa ser em grandes quantidades. Segundo Smith, é isso que introduz o progresso econômico e o desenvolvimento das nações.

Com base no texto acima, qual das seguintes alternativas descreve melhor um dos efeitos trazidos por essa divisão do trabalho, conforme descrito por Adam Smith?

- (A) Aumento do desemprego devido à automação das tarefas.
- (B) Diminuição da necessidade de habilidades especializadas entre os trabalhadores.
- (C) Redução da capacidade de inovação dentro das indústrias.
- (D) Aumento na produção e na capacidade de geração de riqueza.
- (E) Fortalecimento das relações hierárquicas rígidas no ambiente de trabalho.

QUESTÃO 32

Considerando as estratégias econômicas adotadas pela Rússia em resposta às sanções impostas pelo ocidente, qual dos seguintes elementos teve papel fundamental para o crescimento econômico acima da média dos países europeus?

- (A) A implementação de políticas protecionistas no setor agrícola.
- (B) O aumento significativo na exportação de recursos tecnológicos.
- (C) Aumento na dependência de tecnologias estrangeiras.
- (D) A cooperação ampliada econômica com países asiáticos e do sul global.
- (E) Aumento do valor do rublo frente ao dólar e ao euro no ano de 2023.

QUESTÃO 33

Em 2014, um território até então pertencente à Ucrânia foi oficialmente anexado pela Federação Russa após um referendo cuja legitimidade foi amplamente contestada pelo ocidente. Qual é esse território?

- (A) Kaliningradum
- (B) Crimeia
- (C) Abecásia
- (D) Ossetia do Sul
- (E) Transnístria

QUESTÃO 34

Qual dos seguintes elementos não é uma característica predominante do conjunto morfoclimático dos cerrados brasileiros?

- (A) Solos ricos em nutrientes
- (B) Presença de savanas
- (C) Clima tropical sazonal
- (D) Vegetação adaptada à seca
- (E) Biodiversidade elevada

QUESTÃO 35

Analise os mapas a seguir:



I -

II -



Assinale a alternativa correta.

- (A) Representam o processo de desmatamento ocorrido na Mata Atlântica.
- (B) Representam o processo de desmatamento ocorrido na Amazônia.
- (C) Representam o processo de desmatamento ocorrido na Caatinga.
- (D) Representam o processo de desmatamento ocorrido no Cerrado.
- (E) Representam o processo de desmatamento ocorrido no Pantanal.

QUESTÃO 36

A globalização, como uma teia complexa, entrelaça países e continentes em um fluxo incessante de pessoas, bens, capitais e informações. Nesse emaranhado, qual alternativa não se configura como um dos principais fios que tecem essa teia globalizada?

- (A) Expansão das multinacionais e transnacionais
- (B) Migração internacional e transnacional
- (C) Crescimento do turismo internacional
- (D) Explosão das tecnologias de informação e comunicação
- (E) Fortalecimento dos Estados nacionais e suas fronteiras

QUESTÃO 37

A Lei nº 10.639/03 e as Diretrizes Curriculares Nacionais para o Ensino de Geografia (DCNs) convergem para a construção de um ensino reflexivo. Nesse contexto, a ênfase na formação é traduzida pelo(a):

- (A) Memorização de dados e fatos geográficos, como nomes de países, capitais e rios.
- (B) Descrição de paisagens e lugares, sem levar em consideração as relações sociais e de poder que os permeiam.
- (C) Neutralidade e imparcialidade do professor, que deve evitar apresentar suas próprias opiniões e visões de mundo.
- (D) Desenvolvimento da capacidade de analisar criticamente o espaço geográfico, reconhecendo as diferentes visões e interesses que o configuram.
- (E) Adoção de um único livro didático como referência para o ensino de Geografia, garantindo a uniformidade do conhecimento.

QUESTÃO 38

Considerando o ciclo das rochas e sua influência no quadro geomorfológico da Terra, qual processo geológico é diretamente responsável pela transformação de sedimentos em rocha sedimentar?

- (A) Metamorfismo
- (B) Erosão
- (C) Compactação e cimentação
- (D) Fusão magmática
- (E) Extrusão vulcânica

QUESTÃO 39

Qual dos seguintes não é um agente de erosão?

- (A) Vento
- (B) Água
- (C) Gelo
- (D) Mares
- (E) Magma

QUESTÃO 40

Considerando a extensão territorial dos continentes, qual deles ocupa a terceira posição em termos de maior área?

- (A) Oceania
- (B) Europa
- (C) Antártida
- (D) América do Sul
- (E) África

QUESTÃO 41

Identifique o bioma brasileiro caracterizado pela presença de espécies vegetais adaptadas à variação sazonal de água. Este bioma é marcado por plantas com raízes profundas e folhas espessas, que são adaptações para reter água durante períodos secos. Algumas das espécies típicas desse bioma incluem o ipê, a cagaita, o angico, o jatobá, o pequi e o barbatimão. Essa vegetação suporta uma biodiversidade que se adapta a extensos períodos de seca.

Assinale a alternativa correta.

- (A) Floresta Amazônica
- (B) Manguezais
- (C) Cerrado
- (D) Pampas
- (E) Caatinga

QUESTÃO 42

Qual dos seguintes países tem a maior densidade populacional?

- (A) China
- (B) Índia
- (C) Estados Unidos
- (D) Coreia do Sul
- (E) Brasil

QUESTÃO 43

Qual dos seguintes fatores contribui para a vulnerabilidade dos países periféricos às crises econômicas globais?

- (A) Forte dependência de tecnologia externa
- (B) Alta diversificação da base econômica
- (C) Rigoroso controle governamental sobre o câmbio
- (D) Investimentos maciços em infraestrutura verde
- (E) Políticas de isolacionismo econômico

QUESTÃO 44

A União Europeia é um exemplo único de integração econômica e política entre países. Qual das seguintes características é exclusiva da União Europeia em comparação com outras organizações de integração regional?

- (A) Um parlamento supranacional eleito diretamente pelos cidadãos dos Estados-membros.
- (B) Políticas de comércio exterior unificadas.
- (C) Livre circulação de bens, serviços, capital e pessoas.
- (D) Uma moeda comum usada por todos os Estados-membros.
- (E) Todos os países-membros possuem sistemas políticos democráticos.

QUESTÃO 45

O Pampa, também conhecido como Campos Sulinos, é predominantemente caracterizado por:

- (A) Campos de gramíneas
- (B) Vegetação de mangue
- (C) Vegetação arbustiva e espinhosa
- (D) Florestas densas e úmidas
- (E) Florestas de coníferas

QUESTÃO 46

A Caatinga, um bioma exclusivo do Brasil, é caracterizada por qual das seguintes adaptações vegetais?

- (A) Plantas epífitas e lianas
- (B) Árvores de casca grossa e folhas grandes
- (C) Gramíneas altas e árvores esparsas
- (D) Plantas xerófitas e espinhosas
- (E) Árvores de grande porte e folhas perenes

QUESTÃO 47

Qual das seguintes bacias hidrográficas do Brasil é a maior em termos de área de drenagem?

- (A) Bacia do São Francisco
- (B) Bacia do Paraná
- (C) Bacia do Amazonas
- (D) Bacia do Tocantins-Araguaia
- (E) Bacia do Parnaíba

QUESTÃO 48

Identifique as formações geográficas caracterizadas por sua topografia majoritariamente plana, resultante da acumulação de sedimentos transportados de regiões elevadas. Essas áreas apresentam uma altitude relativamente baixa e são comumente encontradas em proximidade com o nível do mar.

- (A) Escarpas sedimentares.
- (B) Depressões periféricas.
- (C) Platôs de erosão.
- (D) Planícies.
- (E) Cadeias montanhosas.

QUESTÃO 49

"Em 2014, foram celebrados 40 anos de relações diplomáticas. Quatro décadas atrás, poucos analistas teriam antecipado a dimensão atual assumida pela parceria sino-brasileira. O que essas relações representam hoje e o enorme potencial que encerram para o futuro justificam plenamente a posição prioritária que ocupam na política externa do governo brasileiro."

José Serra

Considerando o contexto geopolítico e econômico, qual dos seguintes fatores não contribuiu para a China se tornar a maior parceira comercial do Brasil em 2009?

- (A) Aumento da demanda chinesa por commodities.
- (B) Diversificação das exportações brasileiras.
- (C) Crescimento econômico da China.
- (D) Política externa do governo Lula em seu segundo mandato.
- (E) Redução das barreiras comerciais entre Brasil e EUA.

QUESTÃO 50

Qual dos seguintes países não é membro pleno do Mercosul?

- (A) Argentina
- (B) Brasil
- (C) Paraguai
- (D) Uruguai
- (E) Chile

