

TARDE

MÉDICO

HEMATOLOGISTA E HEMOTERAPEUTA

TIPO 1 – BRANCA



SUA PROVA

- Além deste caderno contendo **80 (oitenta)** questões objetivas você receberá do fiscal de prova o cartão de respostas;
- As questões objetivas têm **4 (quatro)** opções de resposta (A, B, C, D) e somente uma delas está correta.



TEMPO

- Você dispõe de **4 (quatro) horas** para a realização da prova, já incluído o tempo para a marcação do cartão de respostas;
- **2 (duas) horas e 30 (trinta) minutos** após o início da prova, é possível retirar-se da sala, sem levar o caderno de questões;
- A partir dos **30 (trinta) minutos** anteriores ao término da prova é possível retirar-se da sala **levando o caderno de questões**.



NÃO SERÁ PERMITIDO

- Qualquer tipo de comunicação entre os candidatos durante a aplicação da prova;
- Anotar informações relativas às respostas em qualquer outro meio que não seja o caderno de questões;
- Levantar da cadeira sem autorização do fiscal de sala;
- Usar o sanitário ao término da prova, após deixar a sala.



INFORMAÇÕES GERAIS

- Verifique se seu caderno de questões está completo, sem repetição de questões ou falhas. Caso contrário, **notifique imediatamente o fiscal da sala**, para que sejam tomadas as devidas providências;
- Confira seus dados pessoais, especialmente nome, número de inscrição e documento de identidade e leia atentamente as instruções para preencher o cartão de respostas;
- Para o preenchimento do cartão de respostas, use somente caneta esferográfica, fabricada em material transparente, com tinta preta ou azul;
- Assine seu nome apenas no(s) espaço(s) reservado(s) no cartão de respostas;
- Confira seu cargo, cor e tipo do caderno de questões. Caso tenha recebido caderno de cargo ou cor ou tipo **diferente** do impresso em seu cartão de respostas, o fiscal deve ser **obrigatoriamente** informado para o devido registro na ata da sala;
- Reserve tempo suficiente para o preenchimento do seu cartão de respostas. O preenchimento é de sua responsabilidade e **não será permitida a troca do cartão de respostas em caso de erro cometido pelo candidato**;
- Para fins de avaliação, serão levadas em consideração apenas as marcações realizadas no cartão de respostas;
- A FGV coletará as impressões digitais dos candidatos na lista de presença;
- Os candidatos serão submetidos ao sistema de detecção de metais quando do ingresso e da saída de sanitários durante a realização das provas.
- **Boa sorte!**

CONHECIMENTOS GERAIS

Língua Portuguesa

1

Leia o texto a seguir.

Os homens não estão cientes do calor que emana de seu coração, embora ele dê vida e movimento a todas as outras partes do seu corpo. [...] O mesmo se dá com a vaidade: ela é tão natural para o homem que ele não a percebe. E, embora seja isso que dê, por assim dizer, vida e movimento à maioria dos seus pensamentos e desígnios, isso ocorre de um modo que é imperceptível para o sujeito. [...] Os homens não percebem que é a vaidade que dá ímpeto à maioria de suas ações.

A respeito do significado ou da estruturação desse fragmento, assinale a afirmativa **inadequada**.

- (A) O comentário inicial sobre o calor do coração serve de ponto de comparação para o papel da vaidade.
- (B) A semelhança entre o calor do coração e a vaidade é que ambos são imperceptíveis para os homens.
- (C) Ao indicar a vaidade como fonte da maioria das ações humanas, o autor do texto as desvaloriza.
- (D) O homem deve tornar a vaidade uma força consciente para o seu progresso.

2

Leia o texto a seguir.

Em seu coração, os homens desejam ser estimados, mas eles cuidadosamente ocultam esse desejo porque querem se passar por virtuosos e porque o desejo de receber da virtude qualquer vantagem além dela mesma não seria ser virtuoso, mas amar a estima e o elogio – ou seja, ser vaidoso. Os homens são muito vaidosos, mas não há nada que eles mais detestem do que serem considerados vaidosos.

Assinale a afirmativa adequada ao seu significado ou à sua estruturação.

- (A) A discussão no texto opõe a essência (os homens serem vaidosos) à aparência (quererem passar por virtuosos).
- (B) A vaidade humana só não é vista como um defeito porque os homens fazem questão de ocultá-la.
- (C) Os homens têm o desejo de serem estimados, ou seja, pretendem alcançar a estima e o elogio, sem serem motivados pela vaidade.
- (D) O fato de serem considerados vaidosos faz com que a imagem pública dos homens cresça ao olhar dos outros.

3

Assinale a opção que apresenta a frase em que os dois termos sublinhados **não** são **antônimos**.

- (A) Juízes implacáveis são todos aqueles que antes foram réus.
- (B) O homem não teria alcançado o possível se, repetidas vezes, não tivesse tentado o impossível.
- (C) Você não será nada se quiser ser tudo.
- (D) Só tenho por seguro o que é incerto.

4

Analise a frase a seguir.

É claro que a justiça, sendo cega, não vê se é vista, e então não cora. (Machado de Assis)

As opções a seguir apresentam formas de reescrever a frase acima sem modificação do seu sentido original, **à exceção de uma**. Assinale-a.

- (A) É claro que a justiça, sendo cega, não cora, já que não vê se é vista.
- (B) Sendo cega, é claro que a justiça não vê se é vista, e então não cora.
- (C) É claro que, sendo cega, a justiça não vê se é vista, e então não cora.
- (D) É claro que a justiça não vê se é vista, e então, sendo cega, não cora.

5

Assinale a frase que **não** apresenta **tom crítico**.

- (A) Nenhum homem rico é feio, dizia uma grande atriz.
- (B) Mostre-me um herói e eu escreverei uma tragédia.
- (C) Não é bom que o homem esteja só.
- (D) Ele é a pessoa mais interessante que ele já conheceu.

6

Assinale a frase em que **não** está presente a construção de voz passiva com o pronome **se**.

- (A) O casamento é uma escola onde se aprende algo com o outro.
- (B) Alugou-se uma casa à beira-mar para as férias, mas os temporais acabaram com os sonhos.
- (C) Nunca se é demasiado velho para crescer.
- (D) Fazem-nos na época atual constituições para os povos como se fariam vestidos para as pessoas sem se lhes tomar as medidas.

7

Segundo o gramático Celso Cunha, os adjetivos mostram os seguintes valores: uma qualidade, uma característica, um estado ou uma relação.

Assinale a opção que apresenta a frase em que o adjetivo sublinhado é classificado como **adjetivo de relação**.

- (A) As colônias não deixam de ser colônias pelo fato de serem independentes.
- (B) É necessário mudar muitas vezes de opinião para estar sempre de acordo com o seu partido político.
- (C) As leis ruins são a pior espécie de tirania.
- (D) Juízes implacáveis são aqueles que antes foram réus.

8

Nas frases a seguir há várias formas de adjetivos referentes aos substantivos sublinhados.

Assinale a opção em que a forma de adjetivação está identificada **inadequadamente**.

- (A) Como todos os soldados, João também tinha cabelo curto. / adjetivo.
- (B) Apesar de pianista, o artista mostrava mãos grosseiras, rudes. / locução.
- (C) O livro que o professor recomendara, esgotou rapidamente. / oração adjetiva.
- (D) José era considerado um cabeça-de-vento. / substantivo composto.

9

Assinale a frase que **não** exemplifica o caso de um adjetivo com valor adverbial.

- (A) Comecei de cima e trabalhei duro até chegar embaixo.
 (B) Você não aprende a manter firme sua posição no mundo ficando de guarda, mas atacando e sendo atacado.
 (C) Por que com tão curta a vida organizamos tantos projetos?
 (D) Tão rápido foge a vida que toda sorte é boa, em tão breve jornada.

10

Assinale a frase em que as duas ocorrências do vocábulo destacado desempenham a mesma função sintática.

- (A) A coisa mais importante da vida é saber o que é importante.
 (B) A vida é feita de ilusões; entre essas ilusões, algumas triunfam.
 (C) Para que um grande sonho se torne realidade, você precisa primeiro de um grande sonho.
 (D) O planejamento familiar é um sonho que o pai de família traça para ter a ilusão do dinheiro que guarda.

11

Assinale a opção em que a modificação de uma forma reduzida de infinitivo foi adequadamente modificada para uma forma desenvolvida.

- (A) Novos ricos também pesquisam antes de comprar / antes de que comprem.
 (B) O divórcio foi uma chance dada ao meu casamento para eu errar outra vez. / para que eu erre outra vez.
 (C) Ao se divorciar, procurou ficar com os bens. / Quando se divorciasse.
 (D) O casamento parece inventado para recompensar os perversos. / para a recuperação dos perversos.

12

As frases a seguir são compostas de dois segmentos separadas por um sinal de pontuação.

Assinale aquela em que essa pontuação foi **inadequadamente** substituída por um conectivo.

- (A) Não é a maioria que é silenciosa. O governo é que é surdo. / mas.
 (B) Não gosto de pensar que estou envelhecendo. Adoro a ideia de que nasci há muito tempo. / portanto.
 (C) O ilegal é o que fazemos imediatamente. O inconstitucional é o que exige um pouco mais de tempo. / enquanto.
 (D) Não pergunte a seus pais o que podem fazer por você. Eles podem fingir que não ouviram. / pois.

Raciocínio Lógico Matemático

13

Considere a frase:

Se você é cuiabano, então é mato-grossense.

É logicamente equivalente à frase acima, a seguinte proposição:

- (A) *Se você é mato-grossense, então é cuiabano.*
 (B) *Se você é cuiabano, então não é mato-grossense.*
 (C) *Se você não é mato-grossense, então não é cuiabano.*
 (D) *Se você não é cuiabano, então não é mato-grossense.*

14

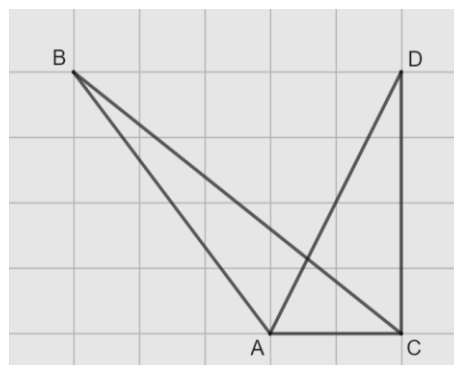
Em uma reunião de uma unidade hospitalar, estavam presentes 8 servidores, sendo 6 médicos e 2 enfermeiros. Todos sentaram-se ao redor de uma mesa redonda.

A quantidade de maneiras distintas de essa mesa pode ser organizada de forma que entre os dois enfermeiros tenha sempre três médicos é

- (A) 120.
 (B) 240.
 (C) 480.
 (D) 720.

15

Na malha quadriculada a seguir, formada por quadrados de lados medindo 1cm, estão representados os triângulos ABC e ACD.



A área do triângulo ABC, em cm^2 , é igual a

- (A) 4,25.
 (B) 4,00.
 (C) 3,75.
 (D) 3,50.

16

Sobre números inteiros, racionais e reais, analise as afirmativas a seguir e assinale (V) para a verdadeira e (F) para a falsa.

- () Há mais números racionais que números inteiros.
 () A soma de dois números irracionais resulta sempre em um número irracional.
 () A dízima periódica 6,999... é igual ao número inteiro 7.

As afirmativas são, respectivamente,

- (A) F – F – V.
 (B) F – V – V.
 (C) V – F – F.
 (D) V – V – F.

17

Os atendimentos realizados por 6 médicos de uma unidade hospitalar em determinado dia foram registrados. Porém, no fim da semana, percebeu-se que a informação dos atendimentos realizados por um desses médicos foi perdida, conforme a lista apresentada a seguir.

10, 9, 15, 9, X, 12

Sabe-se que, nesse dia, nenhum médico fez menos que 6 e mais que 15 atendimentos e que a média de atendimentos é um número inteiro.

Assim, a mediana da lista é

- (A) 10.
(B) 10,5.
(C) 11.
(D) 11,5.

18

A Federação Mato-grossense de Futebol (FMF) realiza anualmente a competição "Copa FMF" na modalidade masculina. Na edição de 2023, a fase final foi disputada por Cuiabá, Mixto, Nova Mutum e Operário VG em um formato quadrangular, no qual todos se enfrentam apenas uma vez.

Em relação aos gols ocorridos nesta fase, sabe-se que:

- Mixto fez o triplo de gols que tomou;
- Cuiabá e Nova Mutum tomaram 6 gols cada;
- Operário VG fez 1 gol e tomou 2 gols;
- Cuiabá fez um gol a mais que Nova Mutum;
- foram feitos 17 gols no total.

Dessa forma, a quantidade de gols feitos pela equipe Nova Mutum foi igual a

- (A) 5.
(B) 4.
(C) 3.
(D) 2.

19

A serviço de uma unidade do Sistema Único de Saúde há três veículos: um automóvel, um ônibus e uma van. Um deles tem a cor azul, outro tem a cor amarela e outro tem a cor verde.

Das afirmativas a seguir, apenas uma é verdadeira:

- I. O automóvel é verde.
II. O ônibus não é amarelo.
III. A van não é verde.

Assim, é correto afirmar que

- (A) o automóvel é amarelo.
(B) o automóvel é azul.
(C) o ônibus é verde.
(D) a van é amarela.

20

Em uma fábrica de desfibriladores, foi verificado que eram necessários 8 dias para produzir determinada quantidade de aparelhos, usando a mão de obra de 6 trabalhadores por 4 horas em cada dia.

Para reduzir o tempo de produção para 2 dias, será necessário:

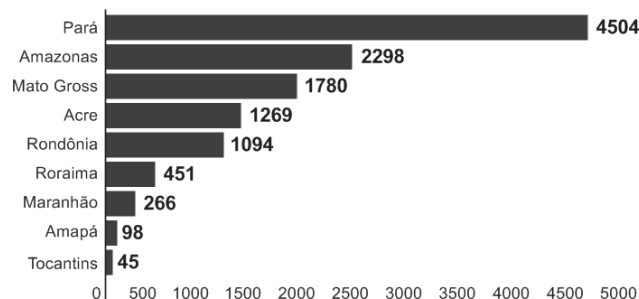
- (A) duplicar o número de trabalhadores.
(B) triplicar o número de horas trabalhadas por dia.
(C) duplicar o número de horas trabalhadas por dia.
(D) duplicar o número de trabalhadores e o número de horas trabalhadas por dia.

História Política e Econômica e Geografia de Mato Grosso

21

Analise o gráfico a seguir.

Risco de desmatamento por estado em 2023 (km²)



Fonte: <https://g1.globo.com/mt/mato-grosso/noticia/2023/01/18/mt-e-o-3o-estado-com-maior-risco-de-desmatamento-em-2023-aponta-imazon.ghtml>. Adapt.

De acordo com o gráfico, o Estado de Mato Grosso é o terceiro estado brasileiro com maior risco de desmatamento na Amazônia.

Analise as afirmativas a seguir sobre os fatores que concorrem para esse fenômeno.

- A prática agrícola é um dos fatores que contribui para a aceleração dos processos erosivos do solo e do desmatamento. Isso ocorre devido ao emprego, de técnicas agrícolas extensivas, com a retirada de vegetação para a instalação de grandes lavouras monocultoras.
- A prática do garimpo ilegal gera diversos impactos ambientais, como o desmatamento, por meio da retirada de vegetação nativa, seja para estabelecer acessos às áreas ricas em minerais, seja para criar espaços destinados à própria atividade de mineração.
- A demarcação de terras indígenas no Estado contribui para o desmatamento, uma vez que o processo envolve a utilização de madeira para a construção de residências tradicionais e a exploração dos recursos naturais para fins de subsistência.

Está correto o que se afirma em

- (A) I, apenas.
(B) I e II, apenas.
(C) I e III, apenas.
(D) II e III, apenas.

22

Sobre os biomas mato-grossenses e suas respectivas localizações conforme a organização espacial do estado, analise as afirmativas a seguir e assinale (V) para a verdadeira e (F) para a falsa.

- () O bioma Amazônico é caracterizado pela vegetação densa da floresta tropical; está presente no norte do Estado e um dos seus espaços é a microrregião de Sinop.
() O bioma Cerrado é caracterizado pela vegetação composta de árvores baixas e com plantas com raízes profundas; está presente na mesorregião do Centro-Sul Mato-grossense.
() O bioma Pantanal é caracterizado por suas extensas áreas alagadas e pela planície aluvial; está presente na mesorregião Centro-sul do estado, englobando os municípios de Cáceres e Poconé.

As afirmativas são, na ordem apresentada, respectivamente,

- (A) V – V – F.
(B) V – F – V.
(C) F – V – F.
(D) V – V – V.

23

Analise os trechos a seguir.

I. Código Civil dos Estados Unidos do Brasil, de 1916

Art. 6º. São incapazes, relativamente a certos atos (Art. 147, inciso I), ou à maneira de os exercer:

IV - os silvícolas.

Parágrafo único. Os silvícolas ficarão sujeitos ao regime tutelar, estabelecido em leis e regulamentos especiais, e que cessará à medida de sua adaptação.

II. Lei nº 6.001 de 1973

Art. 2º. *Cumpra à União, aos Estados e aos Municípios, bem como aos órgãos das respectivas administrações indiretas, nos limites de sua competência, para a proteção das comunidades indígenas e a preservação dos seus direitos: II - prestar assistência aos índios e às comunidades indígenas ainda não integrados à comunhão nacional; VI - respeitar, no processo de integração do índio à comunhão nacional, a coesão das comunidades indígenas, os seus valores culturais, tradições, usos e costumes; VIII - utilizar a cooperação, o espírito de iniciativa e as qualidades pessoais do índio, tendo em vista a melhoria de suas condições de vida e a sua integração no processo de desenvolvimento.* (Adaptado.)

III. Constituição Federal de 1988

Art. 231. São reconhecidos aos índios sua organização social, costumes, línguas, crenças e tradições, e os direitos originários sobre as terras que tradicionalmente ocupam, competindo à União demarcá-las, proteger e fazer respeitar todos os seus bens.

Sobre a questão indígena no Brasil, de acordo com os trechos, assinale a afirmativa que interpreta corretamente os princípios que orientaram os marcos normativos mencionados.

- (A) Em I, a integração das comunidades indígenas à sociedade brasileira é preconizada por meio de um regime tutelar, que os considerava como indivíduos não plenamente desenvolvidos; em II, a autonomia dos indígenas é garantida por meio do direito à escolha de manter seu isolamento.
- (B) Em I, a autonomia das populações indígenas é assegurada pela concessão de agência individual, reconhecendo-as como capazes de resolver seus próprios conflitos territoriais; em II, a autonomia é manifestada pela isenção do poder federal de qualquer responsabilidade na garantia de seus direitos.
- (C) Em II, a preservação das comunidades indígenas se dá mediante o respeito pelo isolamento como uma medida para prevenir a propagação de doenças e evitar o extermínio; em III, a conservação da diversidade étnica e cultural dos indígenas é garantida por meio da criação de reservas.
- (D) Em II, a integração dos indígenas à sociedade brasileira é prevista por práticas de assimilação, que entendiam seus modos de vida como uma condição transitória; em III, os direitos dos indígenas são reconhecidos pela liberdade de organização sociocultural, responsabilizando o Estado Brasileiro de proteger suas terras.

24

O Estado do Mato Grosso destaca-se tanto nacional quanto internacionalmente por sua significativa produção agrícola.

A respeito do escoamento dos excedentes destinados à exportação, assinale a afirmativa correta.

- (A) O transporte ferroviário é a principal opção, da qual depende o Estado para o envio de sua produção para os portos da Região Sul.
- (B) O transporte hidroviário é ineficiente, visto que sua aplicação se restringe apenas à manutenção das conexões internas do Estado.
- (C) O transporte rodoviário, principalmente a rodovia BR 364, permite transportar a produção até o Estado de São Paulo, alcançando o porto de Santos.
- (D) O transporte rodoviário, principalmente a rodovia BR 163, permite a entrega da soja para o Rio de Janeiro, principal mercado consumidor.

25

A Capitania de Mato Grosso é uma das mais importantes de todo o Brasil, tanto pela sua extensão e pelas sabidas, mas ainda intactas riquezas, que guardam os seus vastíssimos sertões, como por ser fronteira ao vasto, populoso e rico Peru.

Adaptado de: Reflexões sobre o estado atual da capitania de Mato Grosso, combinando com os domínios espanhóis que lhe são confinantes, em: Serra, Ricardo, Reflexões sobre a Capitania de Mato Grosso, Cuiabá: IHGMT, 2002, p. 12.

A respeito do contexto da criação da Capitania de Mato Grosso e da delimitação de suas fronteiras, assinale a afirmativa correta.

- (A) A fronteira sul com a cidade de Assunção, que estava sob domínio espanhol, desempenhava um papel crucial na proteção do interior do território brasileiro.
- (B) A fronteira oriente com a capitania de Goiás, então no auge de sua produção de cana de açúcar, atuava como ponto de contato para trocas comerciais entre as duas regiões.
- (C) A fronteira leste com a capitania de São Paulo, representou o cumprimento do estabelecido pelo Tratado de Tordesilhas, que concedeu a posse da região centro oeste aos portugueses.
- (D) A fronteira norte com a capitania de Rondônia revelava-se estratégica para a exploração e tráfico da borracha e permitia uma conexão vital com os mercadores europeus.


26

A respeito da guerra entre a Tríplice Aliança e o Paraguai, assinale a afirmativa que descreve corretamente o envolvimento de Mato Grosso no conflito.

- (A) Os antecedentes do conflito são marcados pela assinatura do Tratado da Tríplice Aliança, o qual legitimava a guerra contra o Paraguai e designava Mato Grosso como capital da bacia platina, devido à sua extensa ocupação populacional.
- (B) No início do conflito, ocorreu a invasão paraguaia a Mato Grosso, que não encontrou dificuldade em ocupá-lo devido à precária defesa do território brasileiro.
- (C) Durante o conflito, a reconquista do território do Mato Grosso pelo Brasil foi facilitada pela acessibilidade à região, tanto por redes viárias quanto pelas rotas navegáveis.
- (D) O desfecho do conflito resultou na vitória brasileira, que retomou o território mato-grossense, que apesar de conquistado, jamais foi ocupado pelos paraguaios devido às ofensivas dos índios e às epidemias locais.

27

Analise a imagem a seguir.



Fonte: <https://g1.globo.com/ac/acre/noticia/2019/08/06/revolucao-acre-ana-charges-e-chronicas-tratavam-acre-como-um-estorvo-para-nacao.ghtml>

A charge ilustra o Barão do Rio Branco carregando uma bomba com a inscrição “Acre”, enquanto outro personagem, posicionado atrás, acende o pavio. A legenda diz: “— Cuidado, barão! Com esta bomba nem S. Pedro com seus tiros o salvará.”

Sobre as medidas estabelecidas pelo Tratado de Petrópolis, assinado entre o Brasil e a Bolívia, que resultou na incorporação do Acre ao território brasileiro, assinale a afirmativa correta.

- (A) Proibiu a navegação boliviana nos confluente brasileiros, encerrando a saída da Bolívia ao Oceano Atlântico.
- (B) Autorizou o acesso boliviano ao território brasileiro, estipulando que seria de responsabilidade da Bolívia construir uma ferrovia para facilitar sua mobilidade.
- (C) Concedeu permissão para o estabelecimento de agentes bolivianos nas alfândegas comerciais brasileiras na região de fronteira entre os dois países.
- (D) Desalojou colonos bolivianos da região, especialmente os que dependiam de atividades extrativistas, sem que o Brasil indenizasse o governo boliviano pela perda do território.

28

Deve-se promover a integração da península do Centro-Oeste brasileiro, equipando-a de meios que lhe permitam desempenhar seu duplo papel de sólida plataforma para um transbordamento sobre a Hileia ou para ações visando a contrapor-se ao avanço para o norte de um imperialismo platino.

Fonte: SILVA, Golbery do Couto e. Conjuntura política nacional: o poder executivo & geopolítica do Brasil. Brasília: Ed. UnB, 1981. (Coleção Temas Brasileiro, n. 7). Citado por Cavalcanti, Marcelo; Barreira, Celene. Ações da Sudeco no desenvolvimento do Centro-Oeste, B.goiano.geogr.Goiânia, v. 31, n. 2, 2011, p. 180.

As afirmativas a seguir descrevem corretamente os objetivos da Superintendência de Desenvolvimento do Centro-Oeste (SUDECO) durante a ditadura militar brasileira, **à exceção de uma**. Assinale-a.

- (A) Estimular o processo de industrialização na região, visando criar polos industriais capazes de competir com os centros empresariais do Sudeste.
- (B) Ocupar as áreas da região identificadas como “vazios estratégicos”, consideradas suscetíveis à influência comunista.
- (C) Promover a integração regional com outras partes do território brasileiro por meio do desenvolvimento de infraestrutura rodoviária.
- (D) Fomentar a mecanização e a modernização da agricultura para impulsionar a ocupação produtiva da fronteira agrícola.

Noções de Administração Pública, Ética, Filosofia e Atualidades

29

A pirâmide de Maslow foi uma das primeiras teorias desenvolvidas para entender o sentido da motivação.

De acordo com essa teoria, assinale a afirmativa correta.

- (A) Os seres humanos são estimulados por uma seqüência de necessidades, devendo ocorrer a satisfação das necessidades mais básicas antes de se aspirarem as outras.
- (B) Os indivíduos são naturalmente preguiçosos, demandando, por isso, mecanismos de controle rígidos para o bom desempenho.
- (C) As pessoas são incentivadas pela percepção de justiça em seu ambiente, comparando suas recompensas e retribuições com a de seus pares.
- (D) Os sujeitos tendem a ser encorajados por atividades que são vistas como alcançáveis, conforme as suas capacidades.

30

O momento em que o aprovado em um concurso público é investido em cargo público, mediante a aceitação expressa das responsabilidades inerentes à função, é conhecido como posse. No entanto, é apenas no exercício que o servidor desempenha efetivamente suas atribuições.

Com relação ao disposto na Lei Complementar nº 04/1990, que dispõe sobre os servidores do Estado de Mato Grosso, é correto afirmar que, o servidor deve entrar em exercício

- (A) imediatamente após a posse.
- (B) até 5 dias após a posse.
- (C) até 20 dias após a posse.
- (D) até 30 dias após a posse.

31

Como regra geral, a contratação de pessoa na Administração Pública deve ocorrer por prazo indeterminado. No entanto, algumas situações de excepcionalidade permitem que sejam realizadas contratações em caráter temporário.

Com base nisso, analise as afirmativas a seguir.

- I. Combater surtos epidêmicos.
- II. Realizar o recenseamento.
- III. Permitir a execução de serviço, nas áreas de pesquisa científica, por profissional de notória especialização.

Em conformidade com a Lei Complementar nº 04/1990, assinale a opção que indica a(s) situação(ões) que permite(m) contratação temporária.

- (A) I, apenas.
- (B) I e II, apenas.
- (C) II e III, apenas.
- (D) I, II e III.

32

Em uma situação hipotética, determinado servidor do Estado do Mato Grosso, pertencente à Secretaria de Saúde, cometeu falta punível com cassação de aposentadoria.

Nesse caso, com base na Lei Complementar nº 04/1990, a autoridade que deve aplicar a respectiva penalidade ao servidor é o

- (A) Governador do Estado.
- (B) chefe da repartição do servidor.
- (C) Presidente do Tribunal de Contas do Estado.
- (D) Corregedor-geral do Estado.

33

Max Weber diferencia a ética da convicção da ética da responsabilidade.

A esse respeito, analise as afirmativas a seguir e assinale (V) para a verdadeira e (F) para a falsa.

- () A ética da responsabilidade é a que tem como preocupação central as consequências das ações realizadas.
- () A ética da convicção é a mais apropriada para a função pública, pois independe de variações individuais.
- () A ética da responsabilidade baseia-se nas predisposições éticas dos agentes e espera deles um elevado senso moral.

As afirmativas são, respectivamente,

- (A) F – V – F.
- (B) F – V – V.
- (C) V – F – F.
- (D) V – V – F.

34

O instituto da cidadania estabelece direitos e deveres para os indivíduos pertencentes à determinada sociedade. Esses direitos podem ser divididos em civis, políticos e sociais.

Assinale a opção que exemplifica corretamente os direitos sociais.

- (A) Direito à vida e à liberdade.
- (B) Direito à representação política.
- (C) Direito à propriedade privada.
- (D) Direito à saúde e à moradia.

35

Um funcionário do governo fica responsável pela distribuição de recursos limitados em uma pequena cidade e se depara com um dilema moral. Uma enchente atingiu a região e ele precisa decidir como alocar os recursos de emergência. Há dois grupos que precisam urgentemente de ajuda: um é um orfanato com várias crianças, e o outro, um hospital que atende a toda a comunidade. Ambos estão em situações críticas e os recursos não são suficientes para atender às necessidades de ambos.

Na situação acima, é correto afirmar que o funcionário aderiu a uma ética utilitarista se ele optou por

- (A) agir conforme o dever e o princípio moral de direcionar a ajuda para o grupo mais desfavorecido.
- (B) tomar o caminho de ação capaz de favorecer o maior número possível das pessoas afetadas.
- (C) conduzir a situação do modo mais compatível possível com o cultivo coletivo das virtudes cívicas.
- (D) atuar de maneira a distribuir os recursos equitativamente, sem favorecer ou preterir nenhuma das partes.

36

Com relação ao Estatuto dos Servidores Públicos do Estado do Mato Grosso (Lei Complementar nº 04/1990), associe cada forma de provimento de cargo público à sua descrição.

1. Reversão
 2. Recondução
 3. Readaptação
 4. Reintegração
- () O servidor aposentado por invalidez retorna à atividade ao serem declarados insubsistentes os motivos da aposentadoria.
 - () O servidor passa a assumir responsabilidades e atribuições compatíveis com uma limitação física ou mental sofrida.
 - () O servidor retorna a um cargo anteriormente ocupado, por exemplo, devido à inabilitação em estágio probatório.
 - () O servidor retorna ao cargo anteriormente ocupado devido a uma invalidação de uma anterior demissão.

Assinale a opção que indica a relação correta, segundo a ordem apresentada.

- (A) 1 – 3 – 2 – 4.
- (B) 1 – 4 – 2 – 3.
- (C) 4 – 2 – 3 – 1.
- (D) 4 – 3 – 2 – 1.

Legislação do SUS + Plano Nacional de Atenção Básica à Saúde

37

Assinale a opção que apresenta, corretamente, um objetivo do Sistema Único de Saúde – SUS.

- (A) Integração em nível executivo das ações de saúde, meio ambiente e saneamento básico.
- (B) Organização dos serviços públicos de modo a evitar duplicidade de meios para fins idênticos.
- (C) Identificação e divulgação dos fatores condicionantes e determinantes da saúde.
- (D) Capacidade de resolução dos serviços em todos os níveis de assistência.

38

Assinale a opção que apresenta o princípio que foi acrescentado ao Sistema Único de Saúde, em 2023.

- (A) Organizar atendimento público específico e especializado para mulheres e vítimas de violência doméstica em geral.
- (B) Divulgar informações quanto ao potencial dos serviços de saúde e da sua utilização pelo usuário.
- (C) Utilizar a epidemiologia para estabelecer prioridades, a alocação de recursos e a orientação programática.
- (D) Proteger integralmente os direitos humanos de todos os usuários e, em especial, identificar maus-tratos, negligência e violência sexual praticados contra crianças e adolescentes.

39

Com base nas disposições da Lei nº 8.080/90 acerca do acompanhamento à mulher nos serviços de saúde, analise as afirmativas a seguir e assinale (V) para a verdadeira e (F) para a falsa.

- () Em consultas, exames e procedimentos realizados em unidades de saúde públicas ou privadas, toda mulher tem o direito de fazer-se acompanhar por pessoa maior de idade, durante todo o período do atendimento, independentemente de notificação prévia.
- () Em caso de atendimento com sedação, a eventual renúncia da paciente ao direito de acompanhante deverá ser feita por escrito, após o esclarecimento dos seus direitos, com no mínimo 24 (vinte e quatro) horas de antecedência, assinada por ela e arquivada em seu prontuário.
- () Em casos de urgência e emergência, os profissionais de saúde ficam autorizados a agir na proteção e defesa da saúde e da vida da paciente, ainda que na ausência do acompanhante requerido.

As afirmativas são, respectivamente,

- (A) F – V – F.
- (B) V – V – V.
- (C) F – F – V.
- (D) V – F – V.

40

Com base na organização dos níveis de assistência à saúde, assinale a opção que apresenta a um serviço da *atenção terciária*.

- (A) Unidade de Transplante Renal.
- (B) Ambulatório de Neurologia.
- (C) Serviço de Ressonância Magnética.
- (D) Unidades de Pronto Atendimento.

41

Os Programas de Qualidade de Vida e Saúde para os Trabalhadores da Saúde e o Colegiado Gestor fazem parte do seguinte elemento da Política Nacional de Humanização.

- (A) Valores.
- (B) Princípios.
- (C) Diretrizes.
- (D) Dispositivos.

42

Com base nos Requisitos de Boas Práticas de Funcionamento para os Serviços de Saúde, analise as afirmativas a seguir e assinale (V) para a verdadeira e (F) para a falsa.

- () Em serviços de saúde com mais de vinte trabalhadores é obrigatória a instituição de Comissão Interna de Prevenção de Acidentes - CIPA.
- () O serviço de saúde deve garantir que o prontuário contenha registros relativos à identificação e todos os procedimentos prestados ao paciente.
- () O serviço de saúde deve garantir que os trabalhadores sejam avaliados, no mínimo, uma vez ao ano em relação à saúde ocupacional.

As afirmativas são, respectivamente,

- (A) V – V – V.
- (B) F – V – F.
- (C) V – V – F.
- (D) V – F – F.

43

De acordo com a Carta dos Direitos e Deveres da Pessoa Usuária da Saúde, assinale a afirmativa correta.

- (A) O usuário tem direito a acompanhante, pessoa de sua livre escolha, nas consultas e exames.
- (B) O atendimento nos serviços de saúde deve ser sempre com hora marcada.
- (C) O usuário tem liberdade de procurar parecer de outro profissional, exceto em casos com impedimento legal.
- (D) Toda pessoa previamente cadastrada tem direito a participar dos conselhos e das conferências de saúde.

44

De acordo com as disposições normativas acerca da segurança do paciente, os eventos adversos que evoluírem para óbito devem ser notificados em até

- (A) 12 horas, a partir do ocorrido.
- (B) 24 horas, a partir do ocorrido.
- (C) 48 horas, a partir do ocorrido.
- (D) 72 horas, a partir do ocorrido.

45

Com base nas disposições da Lei nº 8.142/90, analise as afirmativas a seguir.

- I. O Conselho de Saúde é um órgão colegiado responsável por avaliar a situação de saúde e propor diretrizes para formulação da política de saúde.
- II. Um dos requisitos para que Estados e Municípios recebam os recursos destinados à cobertura das ações e serviços de saúde é a elaboração do Plano de Saúde.
- III. Os Municípios poderão estabelecer consórcio para execução de ações e serviços de saúde.

Está correto o que se afirma em

- (A) I, apenas.
- (B) II e III, apenas.
- (C) I e II, apenas.
- (D) I e III, apenas.

46

Conforme disposições sobre a organização do SUS, o conjunto de ações e serviços de saúde, articulados em níveis de complexidade crescente com a finalidade de garantir a integralidade da assistência à saúde, corresponde ao(à)

- (A) Mapa de Saúde.
- (B) Região de Saúde.
- (C) Rede de Atenção à Saúde.
- (D) Serviços Especiais de Acesso Aberto.

CONHECIMENTOS ESPECÍFICOS

47

A respeito da tromboastenia de Glazmann, analise as afirmativas a seguir.

- I. A confirmação diagnóstica pode ser feita com a realização de exame de curva de agregação plaquetária, que mostra deficiência de agregação com colágeno, ADP e ristocetina
- II. Os pacientes portadores esta síndrome e que recebem transfusões de plaquetas freqüentes podem desenvolver anticorpos anti-glicoproteínas plaquetarias (anti-GP IIa/IIIb)
- III. Alteração no Tempo de Sangramento (TS) de Ivy é indispensável para a confirmação do diagnóstico.

Está correto o que se afirma em:

- (A) I, apenas.
- (B) II, apenas.
- (C) III, apenas.
- (D) I e II, apenas.

Atenção! O enunciado a seguir refere-se às duas próximas questões.

Um paciente de 60 anos de idade, do sexo masculino, é encaminhado para o hematologista devido a queixas de astenia, palidez, dispneia aos médios esforços, cefaleia, visão turva, desorientação e confusão mental, iniciadas um mês antes. Ao exame físico, hepatomegalia e adenomegalias cervicais. A fundoscopia ocular mostrou ingurgitamento da veia retiniana com tortuosidade dos vasos, hemorragias retinianas, microaneurismas e papiledema.

Ao hemograma, havia anemia moderada (hemoglobina de 8,5g/dL), normocítica e normocrômica, com séries leucocitária e plaquetária normais. VHS de 2mm, na 1ª hora. O índice de filtração glomerular era de 75mL/min/1,73m². Havia presença de componente M na eletroforese de proteínas plasmáticas. A dosagem de imunoglobulinas revelou grande aumento de IgM. O R-x de coluna era normal.

48

Assinale a opção que representa o diagnóstico mais provável para esse caso.

- (A) Mieloma de Bence Jones.
- (B) Crioglobulinemia essencial mista.
- (C) Macroglobulinemia de Waldenstrom.
- (D) Linfoma linfoblástico B.

49

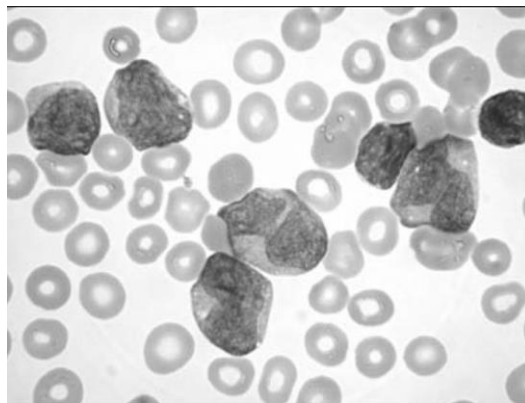
Assinale a opção que indica o tratamento imediato e emergencial ao qual o paciente deve ser submetido para o tratamento da complicação aguda que o fez vir a um hemotologista.

- (A) Transfusão de hemácias.
- (B) Dexametasona.
- (C) Daratumumab.
- (D) Plasmaférese.

50

Uma paciente do sexo feminino, 29 anos de idade, procura um serviço de emergência, com queixas de febre, intensa astenia, hematúria, epistaxe e manchas roxas no corpo. Esses sintomas começaram uma semana antes, e vieram piorando rapidamente. Na emergência, seu hemograma mostrava anemia (hemoglobina de 6g/dL), trombocitopenia (21.000 plaquetas/ μ L) e intensa leucocitose (15.000 leucócitos/ μ L).

Foi feito um esfregaço do sangue periférico, que pode ser visto a seguir.



Assinale a opção que apresenta o diagnóstico mais provável para essa paciente

- (A) Leucemia Mieloide Crônica (LMC) em fase acelerada.
- (B) Leucemia pró-mielocítica aguda.
- (C) Leucemia Mielomonocítica Crônica (LMMC).
- (D) Leucemia mieloide aguda tipo M1.

51

O programa denominado *Patient Blood Management* (PBM – em Português, Manejo do Sangue do Paciente) tem como objetivo uma abordagem multidisciplinar, focada no paciente, visando oferecer cuidados médicos de qualidade e eficaz. Esse programa se baseia em três pilares.

Assinale a opção em que esses três pilares estão corretamente mencionados.

- (A) Detecção e manejo da anemia e da deficiência de Ferro; minimização das perdas sanguíneas e otimização da coagulação; estimulação e otimização da tolerância fisiológica específica de cada paciente à anemia.
- (B) Detecção e manejo da anemia e da deficiência de Ferro; redução das indicações de transfusão; uso precoce de Ferro por via intravenosa.
- (C) Minimização das perdas sanguíneas e otimização da coagulação; uso amplo da recuperação intra-operatória de sangue; uso precoce e intensivo de adjuvantes da coagulação.
- (D) Estimulação e otimização da tolerância fisiológica específica de cada paciente à anemia; uso de transfusão baseada em evidências obtidas em meta-análises; avaliação hematológica pré-operatória rotineira de pacientes cirúrgicos.

52

Relacione os tipos morfológicos das anemias listados a seguir às respectivas causas.

1. Anemia normocítica e normocrômica
2. Anemia macrocítica
3. Anemia microcítica
4. Anemia macrocítica com eritroblastemia

- () Talassemia
 () Insuficiência renal crônica
 () Anemia hemolítica auto-imune
 () Uso de metotrexate

Assinale a opção que indica a relação correta, na ordem apresentada.

- (A) 4 – 2 – 3 – 1.
 (B) 2 – 1 – 4 – 3.
 (C) 3 – 1 – 4 – 2.
 (D) 3 – 1 – 2 – 4.

53

A respeito do manejo da anemia em pacientes com Doença Falciforme, são indicados para o seu tratamento

- (A) hidroxureia e crizanlizumabe.
 (B) vitamina B12 e ácido fólico.
 (C) voxelotor e eritropoietina.
 (D) eritropoietina e ácido fólico.

54

A respeito da anemia hemolítica autoimune associada à infecção por *Mycoplasma pneumoniae*, é correto afirmar que

- (A) é causada por anticorpo do tipo complemento.
 (B) é causada por auto-anticorpo do tipo IgG.
 (C) a especificidade do auto-anticorpo geralmente é anti-I.
 (D) o tratamento de primeira intenção é feito com imunoglobulina poliespecífica intravenosa.

55

Entre as deficiências hereditárias mencionadas a seguir, escolha a opção que corresponde à doença que deve ser tratada pela reposição de imunoglobulina poliespecífica.

- (A) Síndrome de Wiskott-Aldrich clássica.
 (B) Doença Granulomatosa Crônica ligada ao cromossomo X.
 (C) Deficiência seletiva de IgA.
 (D) Fibrose cística.

56

Em relação às diretrizes estabelecidas para transfusão profilática de plaquetas em pacientes com dengue hemorrágica e trombocitopenia, assinale a afirmativa correta.

- (A) Está indicada sempre que a contagem de plaquetas estiver abaixo de 10.000/ μ L.
 (B) Está indicada quando a contagem de plaquetas for inferior a 15.000/ μ L.
 (C) A transfusão profilática de plaquetas está contraindicada na dengue hemorrágica, por ser ineficaz nesta situação clínica.
 (D) Tem indicação quando a contagem de plaquetas estiver abaixo de 20.000/ μ L em crianças com idade inferior a 1 (um) ano.

57

Uma paciente de 55 anos, sexo feminino, foi internada em uma Unidade de Terapia Intensiva (UTI) devido a hemorragia digestiva baixa de grande monta, levando à instabilidade hemodinâmica. Seu coagulograma, realizado assim que entrou na UTI, mostrou um Tempo de Protrombina de 14 segundos, com INR/RNI de 1,3 e um Tempo Parcial de Tromboplastina Ativada (PTTa) de 72 segundos (controle = 32 segundos). A contagem de plaquetas era normal; a dosagem de fibrinogênio, fator de Von Willebrand, fator IX e fator V foram normais, mas a dosagem de fator VIII foi de 1% (1 UI/mL). Foi repetido o PTTa depois de se adicionar à amostra o mesmo volume de plasma que a amostra do paciente continha, tendo este plasma sendo colhido de paciente com coagulograma normal (teste da mistura). O resultado do PTTa foi, outra vez, de 72 segundos.

Com base nesse quadro clínico-laboratorial, assinale a opção que corresponde, respectivamente, ao diagnóstico e ao tratamento desta paciente.

- (A) Doença de Von Willebrand tipo 3 grave – concentrado de fator VIII rico em múltímeros de Von willebrand.
 (B) Coagulação intravascular disseminada – transfusão de plasma e crioprecipitado.
 (C) Hemofilia A em portadora heterozigota, de aparecimento tardio – concentrado de fator VIII recombinante, 100 UI/Kg de peso.
 (D) Hemofilia A adquirida – concentrado de fator VII recombinante e ativado.

58

O tratamento das talassemia major (talassemia B) requer protocolo de hipertansusão crônica.

A respeito dessa terapia, analise as afirmativas a seguir.

- I. O objetivo das transfusões crônicas é manter a hemoglobina pré-transfusional do paciente entre 9,5 a 10g/dL.
- II. As hemácias a serem transfundidas precisam sempre ser fenotipadas, desleucocitadas e irradiadas.
- III. A prevenção da sobrecarga de Ferro deve ser feita com o uso de deferasirox, sempre a dosagem sérica de Ferritina for superior a 2.000 μ g/dL.

Está correto o que se afirma em

- (A) I, apenas.
 (B) II, apenas.
 (C) III, apenas.
 (D) I e II, apenas.

59

A respeito da Policitemia Vera (PV), analise as afirmativas a seguir.

- I. O tratamento dos casos refratários à hidroxureia ou à quimioterapia citorredutora deve ser feito com ruxolitinibe
- II. A taxa anual de transformação da PV para leucemia mieloide é de cerca de 10% dos casos
- III. A alteração molecular característica da policitemia vera é a presença das mutações no gene da Janus-kinase-2 (JAK2 exon 12).

Está correto o que se afirma em

- (A) I, apenas.
 (B) II, apenas.
 (C) III, apenas.
 (D) I e III, apenas.

60

A respeito do mecanismo de ação do anticorpo monoclonal humanizado emicizumabe no tratamento da hemofilia A, assinale a afirmativa correta.

- (A) Estímulo à síntese *de novo* do fator VIII pelas células hepáticas.
- (B) Aumento direto da geração de trombina.
- (C) Ligação do fator IXa ao fator X para que haja um *bypass* na deficiência de fator VIII.
- (D) Inibição das proteínas da anticoagulação.

61

De acordo com o Código de Ética Médica, é **vedado** ao médico

- (A) renunciar ao atendimento a um determinado paciente.
- (B) desrespeitar o direito do paciente ou de seu representante legal de decidir livremente sobre a execução de práticas diagnósticas ou terapêuticas, salvo em caso de iminente risco de morte.
- (C) nos casos de doença incurável e terminal, oferecer todos os cuidados paliativos disponíveis sem empreender ações diagnósticas ou terapêuticas inúteis ou obstinadas, levando sempre em consideração a vontade expressa do paciente.
- (D) prescrever tratamento e outros procedimentos sem exame direto do paciente, salvo em casos de urgência ou emergência e impossibilidade comprovada de realizá-lo.

62

A respeito do tratamento da Leucemia Linfocítica Crônica (LLC), é correto afirmar que

- (A) pacientes assintomáticos e de baixo risco, segundo o estadiamento modificado de Rai, devem ser tratados com clorambucil.
- (B) hidroxiureia é a droga de escolha em pacientes com linfadenopatia generalizada e perda de peso (>10%).
- (C) ibrutinibe está indicado em pacientes com deleção do cromossomo 17.
- (D) fludarabina está indicada para o tratamento de pacientes idosos a inibidores de Tirosina quinase de Bruton (BTK).

63

A respeito do método recomendado atualmente para o controle da remissão em pacientes portadores de leucemia mieloide crônica tratados com inibidores de tirosino-quinase em remissão citológica, assinale a afirmativa correta.

- (A) Pesquisa quantitativa e seriada, por biologia molecular, da proteína BCR-ABL.
- (B) Pesquisa trimestral de cariótipo por técnica de hibridização *In Situ* por Fluorescência (FISH).
- (C) Pesquisa de Doença Residual Mínima por citometria de fluxo.
- (D) Hemograma e mielograma semestrais.

64

A respeito das trombofilias não relacionadas a cânceres, analise as afirmativas a seguir.

- I. A síndrome antifosfolípido é a causa mais comum de trombofilia adquirida.
- II. A trombose associada a vacinas anti-COVID-19 com vetor viral, está ligada à produção de auto-anticorpos anti-PF4.
- III. O tratamento da deficiência homocigótica e grave de Proteína C deve ser feito com infusão periódica de crioprecipitado.

Está correto o que se afirma em

- (A) I, apenas.
- (B) II, apenas.
- (C) III, apenas.
- (D) I e II, apenas.

65

Leia o fragmento a seguir.

“Os *clusters* (ou *agrupamentos*) de diferenciação CD55 e CD59 correspondem às moléculas denominadas _____ e _____, respectivamente. Esses dois clusters de diferenciação podem ser usado para o diagnóstico, por citometria de fluxo, da doença denominada _____.

Assinale a opção que completa corretamente as lacunas do fragmento acima.

- (A) P-selectina – Glicoproteína IIB/IIIA – Púrpura Trombocitopênica Trombótica (P.T.I.)
- (B) Fator de aceleração do decaimento – Inibidor de membrana da lise reativa – hemoglobinúria paroxística noturna
- (C) Inibidor de membrana da lise reativa – marcador de ativação de linfócitos B – Púrpura Trombocitopênica Trombótica (P.T.I.)
- (D) Receptor de baixa afinidade para IgE das células B – molécula de superfície celular das células B – Hemoglobinúria paroxística noturna

66

Relacione os tipos de Porfirias aos seus sintomas e/ou características.

1. Coproporfíria
 2. Porfíria cutânea tarda
 3. Porfíria aguda intermitente
 4. Porfíria eritropoiética congênita
- () Dor abdominal e disfunção autonômica
 () Convulsões e amaurose cortical
 () Acúmulo de Ferro nos hepatócitos
 () Anemia hemolítica e esplenomegalia

Assinale a opção que indica a relação correta, na ordem apresentada.

- (A) 4 – 2 – 3 – 1.
- (B) 2 – 1 – 4 – 3.
- (C) 3 – 1 – 4 – 2.
- (D) 3 – 1 – 2 – 4.

67

Uma parturiente de 43 anos, na segunda gestação, dá à luz um recém-nato anêmico e icterico, sem sinais de infecção, cujos exames revelam hiperbilirrubinemia e anemia intensas, além de intensa reticulocitopenia. A suspeita do pediatra é de Doença Hemolítica Peri-Natal.

Os exames imuno-hematológicos solicitados mostram os seguintes resultados:

	Sangue da mãe	Sangue do cordão umbilical
Tipagem ABO/Rh	O -	A +
Pesquisa de anticorpos irregulares	Negativa	Negativa
Teste direto da antiglobulina (teste de Coombs direto)	Negativo	Negativo

A decisão clínica foi de submeter à criança a uma exsanguíneotransfusão. O diagnóstico etiológico mais provável, diante deste quadro clínico e laboratorial é:

- (A) Incompatibilidade Rh, com presença de anticorpo anti-D na mãe.
- (B) Incompatibilidade ABO.
- (C) Poliaglutinação por ativação de receptor T.
- (D) Mãe com fenótipo Rh nulo.

68

Para o tratamento curativo da mielofibrose, é indicado(a)

- (A) ruxolitinibe.
- (B) esplenectomia.
- (C) transplante alogênico de medula óssea.
- (D) interferon alfa.

69

A respeito do tratamento com as células denominadas CAR-T-cell é correto afirmar que os seus principais efeitos colaterais são

- (A) síndrome de liberação de citocinas, citopenias e anemia hemolítica auto-imune.
- (B) citopenias, neoplasias secundárias e hiperuricemia.
- (C) síndrome de liberação de citocinas, síndrome de Encefalopatia relacionada ao CAR-T-cell e neoplasias secundárias.
- (D) citopenias, infecções e cardiotoxicidade.

70

Em relação à síndrome de hiper-hemólise que ocorre após a transfusão de hemácias, em alguns pacientes com doença falciforme, é correto afirmar que

- (A) caracteriza-se pela hemólise das hemácias transfundidas e das hemácias autólogas.
- (B) deve ser tratada com plasmaférese.
- (C) é uma complicação relacionada à presença de sepse, síndrome torácica aguda e mutação no gene que codifica a síntese dos antígenos Duffy.
- (D) está associada à presença de anticorpos anti-HLA.

71

Quando a Pesquisa de anticorpos anti-eritrocitários irregulares (P.A.I.) é positiva, é necessário identificar o(s) anticorpo(s) encontrado(s). Para isto, se usa um painel com pelo menos 10 hemácias, e se faz a identificação, em técnica de Coombs (antoglobulina humana) e enzimática. Dentre as opções abaixo, marque aquela em que os grupos sanguíneos listados possuem antígenos que desaparecem ao serem tratados com enzimas

- (A) MNSs e Kidd
- (B) Duffy e Lutheran
- (C) Lewis e Duffy
- (D) Duffy e MNSs

72

Em relação à detecção do genoma de patógenos em amostras de doadores de sangue, por técnica de biologia molecular (NAT), marque, dentre as alternativas abaixo, aquela em que estão listados patógenos de detecção obrigatória, de acordo com a portaria consolidada nº 5/2017, do Ministério da Saúde:

- (A) Plasmodium spp, HIV e HCV (vírus da hepatite C)
- (B) HIV, HBV (vírus da hepatite B) e Plasmodium spp
- (C) HIV, HBV (vírus da hepatite B) e HCV (vírus da hepatite C)
- (D) Sífilis, HBV (vírus da hepatite B) e HCV (vírus da hepatite C)

73

A respeito das diferenças entre a reação transfusional denominada TRALI (Lesão Pulmonar Aguda Induzida pela Transfusão) e a reação transfusional de sobrecarga circulatória (TACO), é correto afirmar que:

- (A) TRALI ocorre sempre em pacientes com doença pulmonar prévia
- (B) TACO ocorre com mais frequência em pacientes idosos ou com insuficiência cardíaca
- (C) O tratamento do TRALI é feito com imunoglobulinas + suporte respiratório
- (D) TRALI e TACO levam à hipóxia, mas no TRALI a saturação arterial de Oxigênio fica sempre abaixo de 85%

74

Um médico solicita uma transfusão de um concentrado de hemácias para um paciente portador de mieloma múltiplo. Os testes pré-transfusoriais, feitos em tubo, mostraram os seguintes resultados:

Tipagem ABO/Rh direta				Tipagem ABO reversa	
A	B	D	Controle Rh	Hemácias A1	Hemácias B
++++	++	+++	+++	++	+++
Pesquisa anticorpos irregulares					
	Hemácias I			Hemácias II	
Fase Salina	+++			+++	
Fase de Coombs	++			++	

As provas foram repetidas com as amostras do paciente terem sido lavadas seis vezes, e os resultados foram os seguintes:

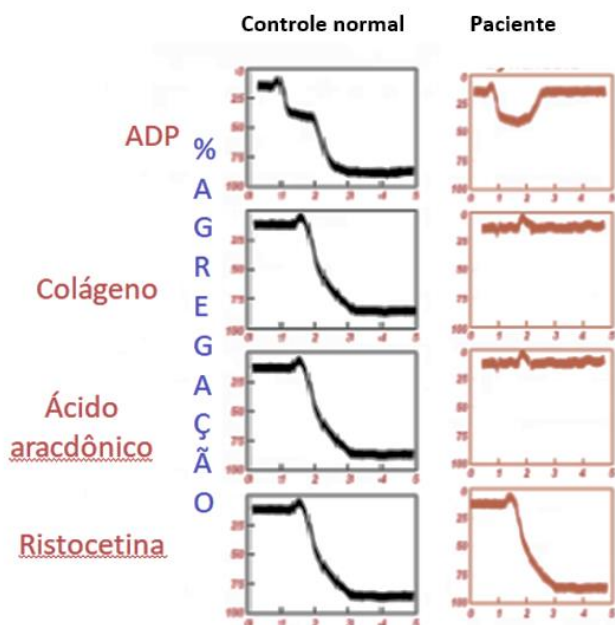
Tipagem ABO/Rh direta				Tipagem ABO reversa	
A	B	D	Controle Rh	Hemácias A1	Hemácias B
++++	Neg	++	Neg	++	+++
Pesquisa anticorpos irregulares					
	Hemácias I			Hemácias II	
Fase Salina	+++			+++	
Fase de Coombs	++			++	

Com esses resultados, a hipótese mais provável para esses resultados é

- (A) anticorpo frio.
- (B) rouleaux de hemácias.
- (C) anemia hemolítica autoimune.
- (D) anticorpo contra antígeno eritrocitário de alta frequência.

75

Na figura a seguir, são mostrados os resultados de um exame de curva de agregação plaquetária.



Assinale a opção que indica o diagnóstico fortemente sugerido por esta curva.

- (A) Uso de Aspirina (A.A.S.).
 (B) Doença de Von Willebrand.
 (C) Síndrome de Bernard-Soulier.
 (D) Síndrome do pool plaquetário.

76

Em caso de pane no analisador hematólogico automático, é possível realizar a contagem de reticulócitos manualmente. É correto afirmar que o(s) corante(s) necessário(s) para a realização desta contagem manual é (são):

- (A) May-Grümwald-Giemsa (MGG).
 (B) Azul de metileno e azul cresil Hematoxilina-eosina.
 (C) Hematoxilina-eosina.
 (D) Rosa bengala e azul da Prússia.

77

A respeito da técnica de Hibridização Fluorescente *in situ* (FISH), é correto afirmar que

- (A) é capaz de detectar a amplificação ABL nas Leucemias Linfoblásticas Agudas (LLA) de células T.
 (B) não pode ser realizada na interfase nuclear.
 (C) é o único método fiável para a detecção de cromossomo Philadelphia.
 (D) é o método de escolha para a quantificação de BCR-ABL nas leucemias mieloides crônicas.

78

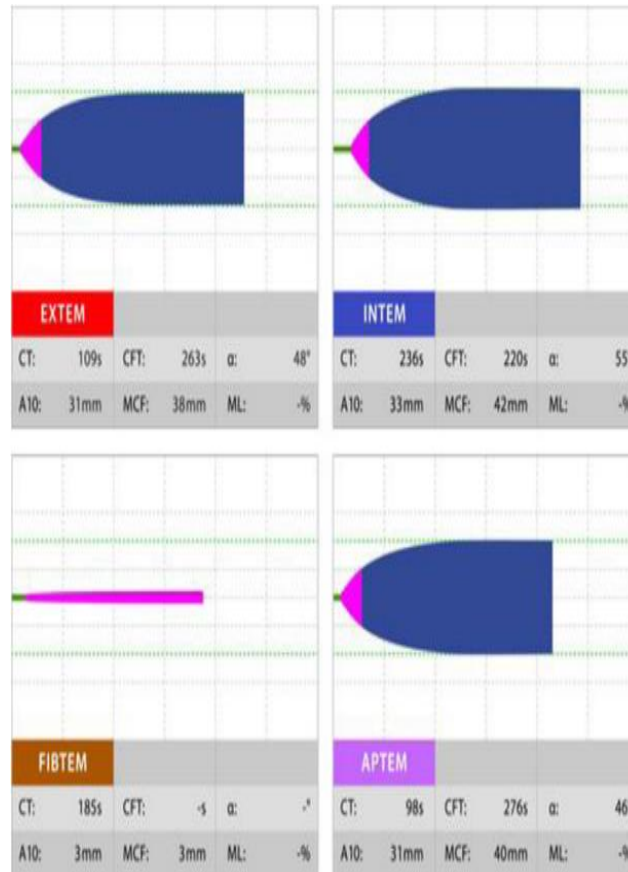
Em relação ao linfoma B difuso de grandes células B, assinale a opção que indica o protocolo de tratamento medicamentoso mais adequado.

- (A) Tratamento de primeira linha para pacientes em estágio I: rituximab + ciclofosfamida + vincristina + prednisona.
 (B) Para pacientes em estágio III ou IV: rituximab + vincristina + prednisona.
 (C) Para pacientes idosos: rituximab + terapia intratecal com metotrexate.

(D) Para pacientes refratários: terapia com CAR-T-cell.

79

Um paciente é levado a um centro de trauma, após ser atropelado. Dá entrada com hemorragia maciça, para a qual é iniciada reposição imediata de hemocomponentes (concentrados de hemácias e plasma). Como a hemorragia continuasse a ser profusa, foi realizado um tromboelastograma do paciente, cujo resultado está mostrado a seguir.



Com base nesse resultado, assinale a medida terapêutica que se impõe para o controle da hemorragia.

- (A) Transfusão de crioprecipitado
 (B) Infusão de ácido tranexâmico em *bolus*
 (C) Transfusão de concentrado de plaquetas
 (D) Infusão de concentrado de fator VII recombinante e ativado

80

Com relação aos medicamentos quimioterápicos usados para o tratamento da leucemia mieloide aguda, analise as afirmativas a seguir e assinale (V) para a afirmativa verdadeira e (F) para a falsa.

- () Para o tratamento de indução de primeira linha, a antraciclina de escolha é a Daunorrubicina
 () A Azacitidina pode ser utilizada para o tratamento de pacientes idosos (>60 anos)
 () Esquema terapêutico com Fludarabina, Citarabina e Idarrubicina para o tratamento de pacientes com refratários ou com recidiva.

As afirmativas são, respectivamente,

- (A) F – V – F
 (B) F – V – V
 (C) V – F – F
 (D) F – F – V

Realização

