

# ECONOMISTA

TIPO 1 – BRANCA



## SUA PROVA

- Além deste caderno contendo **80 (oitenta)** questões objetivas você receberá do fiscal de prova o cartão de respostas;
- As questões objetivas têm **4 (quatro)** opções de resposta (A, B, C, D) e somente uma delas está correta.



## TEMPO

- Você dispõe de **4 (quatro) horas** para a realização da prova, já incluído o tempo para a marcação do cartão de respostas;
- **2 (duas) horas e 30 (trinta) minutos** após o início da prova, é possível retirar-se da sala, sem levar o caderno de questões;
- A partir dos **30 (trinta) minutos** anteriores ao término da prova é possível retirar-se da sala **levando o caderno de questões**.



## NÃO SERÁ PERMITIDO

- Qualquer tipo de comunicação entre os candidatos durante a aplicação da prova;
- Anotar informações relativas às respostas em qualquer outro meio que não seja o caderno de questões;
- Levantar da cadeira sem autorização do fiscal de sala;
- Usar o sanitário ao término da prova, após deixar a sala.



## INFORMAÇÕES GERAIS

- Verifique se seu caderno de questões está completo, sem repetição de questões ou falhas. Caso contrário, **notifique imediatamente o fiscal da sala**, para que sejam tomadas as devidas providências;
- Confira seus dados pessoais, especialmente nome, número de inscrição e documento de identidade e leia atentamente as instruções para preencher o cartão de respostas;
- Para o preenchimento do cartão de respostas, use somente caneta esferográfica, fabricada em material transparente, com tinta preta ou azul;
- Assine seu nome apenas no(s) espaço(s) reservado(s) no cartão de respostas;
- Confira seu cargo, cor e tipo do caderno de questões. Caso tenha recebido caderno de cargo ou cor ou tipo **diferente** do impresso em seu cartão de respostas, o fiscal deve ser **obrigatoriamente** informado para o devido registro na ata da sala;
- Reserve tempo suficiente para o preenchimento do seu cartão de respostas. O preenchimento é de sua responsabilidade e **não será permitida a troca do cartão de respostas em caso de erro cometido pelo candidato**;
- Para fins de avaliação, serão levadas em consideração apenas as marcações realizadas no cartão de respostas;
- A FGV coletará as impressões digitais dos candidatos na lista de presença;
- Os candidatos serão submetidos ao sistema de detecção de metais quando do ingresso e da saída de sanitários durante a realização das provas.
- **Boa sorte!**

## CONHECIMENTOS GERAIS

### Língua Portuguesa

1

Leia o texto a seguir.

*Os homens não estão cientes do calor que emana de seu coração, embora ele dê vida e movimento a todas as outras partes do seu corpo. [...] O mesmo se dá com a vaidade: ela é tão natural para o homem que ele não a percebe. E, embora seja isso que dê, por assim dizer, vida e movimento à maioria dos seus pensamentos e desígnios, isso ocorre de um modo que é imperceptível para o sujeito. [...] Os homens não percebem que é a vaidade que dá ímpeto à maioria de suas ações.*

A respeito do significado ou da estruturação desse fragmento, assinale a afirmativa **inadequada**.

- (A) O comentário inicial sobre o calor do coração serve de ponto de comparação para o papel da vaidade.
- (B) A semelhança entre o calor do coração e a vaidade é que ambos são imperceptíveis para os homens.
- (C) Ao indicar a vaidade como fonte da maioria das ações humanas, o autor do texto as desvaloriza.
- (D) O homem deve tornar a vaidade uma força consciente para o seu progresso.

2

Leia o texto a seguir.

*Em seu coração, os homens desejam ser estimados, mas eles cuidadosamente ocultam esse desejo porque querem se passar por virtuosos e porque o desejo de receber da virtude qualquer vantagem além dela mesma não seria ser virtuoso, mas amar a estima e o elogio – ou seja, ser vaidoso. Os homens são muito vaidosos, mas não há nada que eles mais detestem do que serem considerados vaidosos.*

Assinale a afirmativa adequada ao seu significado ou à sua estruturação.

- (A) A discussão no texto opõe a essência (os homens serem vaidosos) à aparência (quererem passar por virtuosos).
- (B) A vaidade humana só não é vista como um defeito porque os homens fazem questão de ocultá-la.
- (C) Os homens têm o desejo de serem estimados, ou seja, pretendem alcançar a estima e o elogio, sem serem motivados pela vaidade.
- (D) O fato de serem considerados vaidosos faz com que a imagem pública dos homens cresça ao olhar dos outros.

3

Assinale a opção que apresenta a frase em que os dois termos sublinhados **não** são **antônimos**.

- (A) Juízes implacáveis são todos aqueles que antes foram réus.
- (B) O homem não teria alcançado o possível se, repetidas vezes, não tivesse tentado o impossível.
- (C) Você não será nada se quiser ser tudo.
- (D) Só tenho por seguro o que é incerto.

4

Analise a frase a seguir.

*É claro que a justiça, sendo cega, não vê se é vista, e então não cora.* (Machado de Assis)

As opções a seguir apresentam formas de reescrever a frase acima sem modificação do seu sentido original, **à exceção de uma**. Assinale-a.

- (A) É claro que a justiça, sendo cega, não cora, já que não vê se é vista.
- (B) Sendo cega, é claro que a justiça não vê se é vista, e então não cora.
- (C) É claro que, sendo cega, a justiça não vê se é vista, e então não cora.
- (D) É claro que a justiça não vê se é vista, e então, sendo cega, não cora.

5

Assinale a frase que **não** apresenta **tom crítico**.

- (A) Nenhum homem rico é feio, dizia uma grande atriz.
- (B) Mostre-me um herói e eu escreverei uma tragédia.
- (C) Não é bom que o homem esteja só.
- (D) Ele é a pessoa mais interessante que ele já conheceu.

6

Assinale a frase em que **não** está presente a construção de voz passiva com o pronome **se**.

- (A) O casamento é uma escola onde se aprende algo com o outro.
- (B) Alugou-se uma casa à beira-mar para as férias, mas os temporais acabaram com os sonhos.
- (C) Nunca se é demasiado velho para crescer.
- (D) Fazem-nos na época atual constituições para os povos como se fariam vestidos para as pessoas sem se lhes tomar as medidas.

7

Segundo o gramático Celso Cunha, os adjetivos mostram os seguintes valores: uma qualidade, uma característica, um estado ou uma relação.

Assinale a opção que apresenta a frase em que o adjetivo sublinhado é classificado como **adjetivo de relação**.

- (A) As colônias não deixam de ser colônias pelo fato de serem independentes.
- (B) É necessário mudar muitas vezes de opinião para estar sempre de acordo com o seu partido político.
- (C) As leis ruins são a pior espécie de tirania.
- (D) Juízes implacáveis são aqueles que antes foram réus.<sup>8</sup>

Nas frases a seguir há várias formas de adjetivos referentes aos substantivos sublinhados.

Assinale a opção em que a forma de adjetivação está identificada **inadequadamente**.

- (A) Como todos os soldados, João também tinha cabelo curto. / adjetivo.
- (B) Apesar de pianista, o artista mostrava mãos grosseiras, rudes. / locução.
- (C) O livro que o professor recomendara, esgotou rapidamente. / oração adjetiva.
- (D) José era considerado um cabeça-de-vento. / substantivo composto.

9

Assinale a frase que **não** exemplifica o caso de um adjetivo com valor adverbial.

- (A) Comecei de cima e trabalhei duro até chegar embaixo.  
 (B) Você não aprende a manter firme sua posição no mundo ficando de guarda, mas atacando e sendo atacado.  
 (C) Por que com tão curta a vida organizamos tantos projetos?  
 (D) Tão rápido foge a vida que toda sorte é boa, em tão breve jornada.

10

Assinale a frase em que as duas ocorrências do vocábulo destacado desempenham a mesma função sintática.

- (A) A coisa mais importante da vida é saber o que é importante.  
 (B) A vida é feita de ilusões; entre essas ilusões, algumas triunfam.  
 (C) Para que um grande sonho se torne realidade, você precisa primeiro de um grande sonho.  
 (D) O planejamento familiar é um sonho que o pai de família traça para ter a ilusão do dinheiro que guarda.

11

Assinale a opção em que a modificação de uma forma reduzida de infinitivo foi adequadamente modificada para uma forma desenvolvida.

- (A) Novos ricos também pesquisam antes de comprar / antes de que comprem.  
 (B) O divórcio foi uma chance dada ao meu casamento para eu errar outra vez. / para que eu erre outra vez.  
 (C) Ao se divorciar, procurou ficar com os bens. / Quando se divorciasse.  
 (D) O casamento parece inventado para recompensar os perversos. / para a recuperação dos perversos.

12

As frases a seguir são compostas de dois segmentos separadas por um sinal de pontuação.

Assinale aquela em que essa pontuação foi **inadequadamente** substituída por um conectivo.

- (A) Não é a maioria que é silenciosa. O governo é que é surdo. / mas.  
 (B) Não gosto de pensar que estou envelhecendo. Adoro a ideia de que nasci há muito tempo. / portanto.  
 (C) O ilegal é o que fazemos imediatamente. O inconstitucional é o que exige um pouco mais de tempo. / enquanto.  
 (D) Não pergunte a seus pais o que podem fazer por você. Eles podem fingir que não ouviram. / pois.

## Raciocínio Lógico Matemático

13

Considere a frase:

*Se você é cuiabano, então é mato-grossense.*

É logicamente equivalente à frase acima, a seguinte proposição:

- (A) *Se você é mato-grossense, então é cuiabano.*  
 (B) *Se você é cuiabano, então não é mato-grossense.*  
 (C) *Se você não é mato-grossense, então não é cuiabano.*  
 (D) *Se você não é cuiabano, então não é mato-grossense.*

14

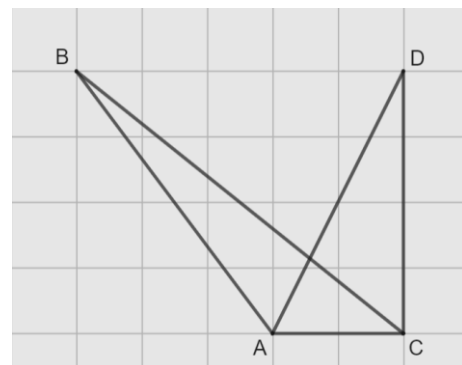
Em uma reunião de uma unidade hospitalar, estavam presentes 8 servidores, sendo 6 médicos e 2 enfermeiros. Todos sentaram-se ao redor de uma mesa redonda.

A quantidade de maneiras distintas que essa mesa pode ser organizada de forma que entre os dois enfermeiros tenha sempre três médicos é

- (A) 120.  
 (B) 240.  
 (C) 480.  
 (D) 720.

15

Na malha quadriculada a seguir, formada por quadrados de lados medindo 1cm, estão representados os triângulos ABC e ACD.



A área do triângulo ABC, em  $\text{cm}^2$ , é igual a

- (A) 4,25.  
 (B) 4,00.  
 (C) 3,75.  
 (D) 3,50.

16

Sobre números inteiros, racionais e reais, analise as afirmativas a seguir e assinale (V) para a verdadeira e (F) para a falsa.

- ( ) Há mais números racionais que números inteiros.  
 ( ) A soma de dois números irracionais resulta sempre em um número irracional.  
 ( ) A dízima periódica  $6,999\dots$  é igual ao número inteiro 7.

As afirmativas são, respectivamente,

- (A) F – F – V.  
 (B) F – V – V.  
 (C) V – F – F.  
 (D) V – V – F.

17

Os atendimentos realizados por 6 médicos de uma unidade hospitalar em determinado dia foram registrados. Porém, no fim da semana, percebeu-se que a informação dos atendimentos realizados por um desses médicos foi perdida, conforme a lista apresentada a seguir.

10, 9, 15, 9, X, 12

Sabe-se que, nesse dia, nenhum médico fez menos que 6 e mais que 15 atendimentos e que a média de atendimentos é um número inteiro.

Assim, a mediana da lista é

- (A) 10.  
(B) 10,5.  
(C) 11.  
(D) 11,5.

18

A Federação Mato-grossense de Futebol (FMF) realiza anualmente a competição "Copa FMF" na modalidade masculina. Na edição de 2023, a fase final foi disputada por Cuiabá, Mixto, Nova Mutum e Operário VG em um formato quadrangular, no qual todos se enfrentam apenas uma vez.

Em relação aos gols ocorridos nesta fase, sabe-se que:

- Mixto fez o triplo de gols que tomou;
- Cuiabá e Nova Mutum tomaram 6 gols cada;
- Operário VG fez 1 gol e tomou 2 gols;
- Cuiabá fez um gol a mais que Nova Mutum;
- foram feitos 17 gols no total.

Dessa forma, a quantidade de gols feitos pela equipe Nova Mutum foi igual a

- (A) 5.  
(B) 4.  
(C) 3.  
(D) 2.

19

A serviço de uma unidade do Sistema Único de Saúde há três veículos: um automóvel, um ônibus e uma van. Um deles tem a cor azul, outro tem a cor amarela e outro tem a cor verde.

Das afirmativas a seguir, apenas uma é verdadeira:

- I. O automóvel é verde.  
II. O ônibus não é amarelo.  
III. A van não é verde.

Assim, é correto afirmar que

- (A) o automóvel é amarelo.  
(B) o automóvel é azul.  
(C) o ônibus é verde.  
(D) a van é amarela.

20

Em uma fábrica de desfibriladores, foi verificado que eram necessários 8 dias para produzir determinada quantidade de aparelhos, usando a mão de obra de 6 trabalhadores por 4 horas em cada dia.

Para reduzir o tempo de produção para 2 dias, será necessário:

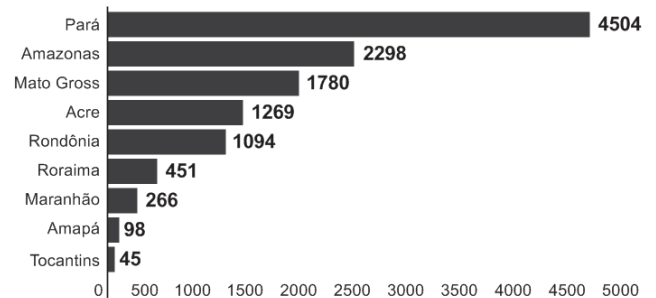
- (A) duplicar o número de trabalhadores.  
(B) triplicar o número de horas trabalhadas por dia.  
(C) duplicar o número de horas trabalhadas por dia.  
(D) duplicar o número de trabalhadores e o número de horas trabalhadas por dia.

## História Política e Econômica e Geografia de Mato Grosso

21

Analise o gráfico a seguir.

### Risco de desmatamento por estado em 2023 (km<sup>2</sup>)



Fonte: <https://g1.globo.com/mt/mato-grosso/noticia/2023/01/18/mt-e-o-3o-estado-com-maior-risco-de-desmatamento-em-2023-aponta-imazona.ghtml>. Adapt.

De acordo com o gráfico, o Estado de Mato Grosso é o terceiro estado brasileiro com maior risco de desmatamento na Amazônia.

Analise as afirmativas a seguir sobre os fatores que concorrem para esse fenômeno.

- A prática agrícola é um dos fatores que contribui para a aceleração dos processos erosivos do solo e do desmatamento. Isso ocorre devido ao emprego, de técnicas agrícolas extensivas, com a retirada de vegetação para a instalação de grandes lavouras monocultoras.
- A prática do garimpo ilegal gera diversos impactos ambientais, como o desmatamento, por meio da retirada de vegetação nativa, seja para estabelecer acessos às áreas ricas em minerais, seja para criar espaços destinados à própria atividade de mineração.
- A demarcação de terras indígenas no Estado contribui para o desmatamento, uma vez que o processo envolve a utilização de madeira para a construção de residências tradicionais e a exploração dos recursos naturais para fins de subsistência.

Está correto o que se afirma em

- (A) I, apenas.  
(B) I e II, apenas.  
(C) I e III, apenas.  
(D) II e III, apenas.

22

Sobre os biomas mato-grossenses e suas respectivas localizações conforme a organização espacial do estado, analise as afirmativas a seguir e assinale (V) para a verdadeira e (F) para a falsa.

- ( ) O bioma Amazônico é caracterizado pela vegetação densa da floresta tropical; está presente no norte do Estado e um dos seus espaços é a microrregião de Sinop.  
( ) O bioma Cerrado é caracterizado pela vegetação composta de árvores baixas e com plantas com raízes profundas; está presente na mesorregião do Centro-Sul Mato-grossense.  
( ) O bioma Pantanal é caracterizado por suas extensas áreas alagadas e pela planície aluvial; está presente na mesorregião Centro-sul do estado, englobando os municípios de Cáceres e Poconé.

As afirmativas são, na ordem apresentada, respectivamente,

- (A) V – V – F.  
(B) V – F – V.  
(C) F – V – F.  
(D) V – V – V.

23

Analise os trechos a seguir.

I. Código Civil dos Estados Unidos do Brasil, de 1916

**Art. 6º.** São incapazes, relativamente a certos atos (Art. 147, inciso I), ou à maneira de os exercer:

IV - os silvícolas.

*Parágrafo único.* Os silvícolas ficarão sujeitos ao regime tutelar, estabelecido em leis e regulamentos especiais, e que cessará à medida de sua adaptação.

II. Lei nº 6.001 de 1973

**Art. 2º.** Cumpre à União, aos Estados e aos Municípios, bem como aos órgãos das respectivas administrações indiretas, nos limites de sua competência, para a proteção das comunidades indígenas e a preservação dos seus direitos: II - prestar assistência aos índios e às comunidades indígenas ainda não integrados à comunhão nacional; VI - respeitar, no processo de integração do índio à comunhão nacional, a coesão das comunidades indígenas, os seus valores culturais, tradições, usos e costumes; VIII - utilizar a cooperação, o espírito de iniciativa e as qualidades pessoais do índio, tendo em vista a melhoria de suas condições de vida e a sua integração no processo de desenvolvimento. (Adaptado.)

III. Constituição Federal de 1988

**Art. 231.** São reconhecidos aos índios sua organização social, costumes, línguas, crenças e tradições, e os direitos originários sobre as terras que tradicionalmente ocupam, competindo à União demarcá-las, proteger e fazer respeitar todos os seus bens.

Sobre a questão indígena no Brasil, de acordo com os trechos, assinale a afirmativa que interpreta corretamente os princípios que orientaram os marcos normativos mencionados.

- (A) Em I, a integração das comunidades indígenas à sociedade brasileira é preconizada por meio de um regime tutelar, que os considerava como indivíduos não plenamente desenvolvidos; em II, a autonomia dos indígenas é garantida por meio do direito à escolha de manter seu isolamento.
- (B) Em I, a autonomia das populações indígenas é assegurada pela concessão de agência individual, reconhecendo-as como capazes de resolver seus próprios conflitos territoriais; em II, a autonomia é manifestada pela isenção do poder federal de qualquer responsabilidade na garantia de seus direitos.
- (C) Em II, a preservação das comunidades indígenas se dá mediante o respeito pelo isolamento como uma medida para prevenir a propagação de doenças e evitar o extermínio; em III, a conservação da diversidade étnica e cultural dos indígenas é garantida por meio da criação de reservas.
- (D) Em II, a integração dos indígenas à sociedade brasileira é prevista por práticas de assimilação, que entendiam seus modos de vida como uma condição transitória; em III, os direitos dos indígenas são reconhecidos pela liberdade de organização sociocultural, responsabilizando o Estado Brasileiro de proteger suas terras.

24

O Estado do Mato Grosso destaca-se tanto nacional quanto internacionalmente por sua significativa produção agrícola.

A respeito do escoamento dos excedentes destinados à exportação, assinale a afirmativa correta.

- (A) O transporte ferroviário é a principal opção, da qual depende o Estado para o envio de sua produção para os portos da Região Sul.
- (B) O transporte hidroviário é ineficiente, visto que sua aplicação se restringe apenas à manutenção das conexões internas do Estado.
- (C) O transporte rodoviário, principalmente a rodovia BR 364, permite transportar a produção até o Estado de São Paulo, alcançando o porto de Santos.
- (D) O transporte rodoviário, principalmente a rodovia BR 163, permite a entrega da soja para o Rio de Janeiro, principal mercado consumidor.

25

*A Capitania de Mato Grosso é uma das mais importantes de todo o Brasil, tanto pela sua extensão e pelas sabidas, mas ainda intactas riquezas, que guardam os seus vastíssimos sertões, como por ser fronteira ao vasto, populoso e rico Peru.*

Adaptado de: Reflexões sobre o estado atual da capitania de Mato Grosso, combinando com os domínios espanhóis que lhe são confinantes, em: Serra, Ricardo, Reflexões sobre a Capitania de Mato Grosso, Cuiabá: IHGMT, 2002, p. 12.

A respeito do contexto da criação da Capitania de Mato Grosso e da delimitação de suas fronteiras, assinale a afirmativa correta.

- (A) A fronteira sul com a cidade de Assunção, que estava sob domínio espanhol, desempenhava um papel crucial na proteção do interior do território brasileiro.
- (B) A fronteira oriente com a capitania de Goiás, então no auge da sua produção de cana de açúcar, atuava como ponto de contato para trocas comerciais entre as duas regiões.
- (C) A fronteira leste com a capitania de São Paulo, representou o cumprimento do estabelecido pelo Tratado de Tordesilhas, que concedeu a posse da região centro oeste aos portugueses.
- (D) A fronteira norte com a capitania de Rondônia revelava-se estratégica para a exploração e tráfico da borracha e permitia uma conexão vital com os mercadores europeus.

26

A respeito da guerra entre a Tríplice Aliança e o Paraguai, assinale a afirmativa que descreve corretamente o envolvimento de Mato Grosso no conflito.

- (A) Os antecedentes do conflito são marcados pela assinatura do Tratado da Tríplice Aliança, o qual legitimava a guerra contra o Paraguai e designava Mato Grosso como capital da bacia platina, devido à sua extensa ocupação populacional.
- (B) No início do conflito, ocorreu a invasão paraguaia a Mato Grosso, que não encontrou dificuldade em ocupá-lo devido à precária defesa do território brasileiro.
- (C) Durante o conflito, a reconquista do território do Mato Grosso pelo Brasil foi facilitada pela acessibilidade à região, tanto por redes viárias quanto pelas rotas navegáveis.
- (D) O desfecho do conflito resultou na vitória brasileira, que retomou o território mato-grossense, que apesar de conquistado, jamais foi ocupado pelos paraguaios devido às ofensivas dos índios e às epidemias locais.

27

Analise a imagem a seguir.



Fonte: <https://g1.globo.com/ac/acre/noticia/2019/08/06/revolucao-acreana-charges-e-chronicas-tratavam-acre-como-um-estorvo-para-nacao.ghtml>

A charge ilustra o Barão do Rio Branco carregando uma bomba com a inscrição “Acre”, enquanto outro personagem, posicionado atrás, acende o pavio. A legenda diz: “ – Cuidado, barão! Com esta bomba nem S. Pedro com seus tiros o salvará.”

Sobre as medidas estabelecidas pelo Tratado de Petrópolis, assinado entre o Brasil e a Bolívia, que resultou na incorporação do Acre ao território brasileiro, assinale a afirmativa correta.

- (A) Proibiu a navegação boliviana nos afluentes brasileiros, encerrando a saída da Bolívia ao Oceano Atlântico.
- (B) Autorizou o acesso boliviano ao território brasileiro, estipulando que seria de responsabilidade da Bolívia construir uma ferrovia para facilitar sua mobilidade.
- (C) Concedeu permissão para o estabelecimento de agentes bolivianos nas alfândegas comerciais brasileiras na região de fronteira entre os dois países.
- (D) Desalojou colonos bolivianos da região, especialmente os que dependiam de atividades extrativistas, sem que o Brasil indenizasse o governo boliviano pela perda do território.

28

*Deve-se promover a integração da península do Centro-Oeste brasileiro, equipando-a de meios que lhe permitam desempenhar seu duplo papel de sólida plataforma para um transbordamento sobre a Hileia ou para ações visando a contrapor-se ao avanço para o norte de um imperialismo platino.*

Fonte: SILVA, Golbery do Couto e. Conjuntura política nacional: o poder executivo & geopolítica do Brasil. Brasília: Ed. UnB, 1981. (Coleção Temas Brasileiro, n. 7). Citado por Cavalcanti, Marcelo; Barreira, Celene. Ações da Sudeco no desenvolvimento do Centro-Oeste, B.goiano, geogr.Goiânia, v. 31, n. 2, 2011, p. 180.

As afirmativas a seguir descrevem corretamente os objetivos da Superintendência de Desenvolvimento do Centro-Oeste (SUDECO) durante a ditadura militar brasileira, à exceção de uma. Assinale-a.

- (A) Estimular o processo de industrialização na região, visando criar polos industriais capazes de competir com os centros empresariais do Sudeste.
- (B) Ocupar as áreas da região identificadas como “vazios estratégicos”, consideradas suscetíveis à influência comunista.
- (C) Promover a integração regional com outras partes do território brasileiro por meio do desenvolvimento de infraestrutura rodoviária.
- (D) Fomentar a mecanização e a modernização da agricultura para impulsionar a ocupação produtiva da fronteira agrícola.

## Noções de Administração Pública, Ética, Filosofia e Atualidades

29

A pirâmide de Maslow foi uma das primeiras teorias desenvolvidas para entender o sentido da motivação.

De acordo com essa teoria, assinale a afirmativa correta.

- (A) Os seres humanos são estimulados por uma sequência de necessidades, devendo ocorrer a satisfação das necessidades mais básicas antes de se aspirarem as outras.
- (B) Os indivíduos são naturalmente preguiçosos, demandando, por isso, mecanismos de controle rígidos para o bom desempenho.
- (C) As pessoas são incentivadas pela percepção de justiça em seu ambiente, comparando suas recompensas e retribuições com a de seus pares.
- (D) Os sujeitos tendem a ser encorajados por atividades que são vistas como alcançáveis, conforme as suas capacidades.

30

O momento em que o aprovado em um concurso público é investido em cargo público, mediante a aceitação expressa das responsabilidades inerentes à função, é conhecido como posse. No entanto, é apenas no exercício que o servidor desempenha efetivamente suas atribuições.

Com relação ao disposto na Lei Complementar nº 04/1990, que dispõe sobre os servidores do Estado de Mato Grosso, é correto afirmar que, o servidor deve entrar em exercício

- (A) imediatamente após a posse.
- (B) até 5 dias após a posse.
- (C) até 20 dias após a posse.
- (D) até 30 dias após a posse.

31

Como regra geral, a contratação de pessoa na Administração Pública deve ocorrer por prazo indeterminado. No entanto, algumas situações de excepcionalidade permitem que sejam realizadas contratações em caráter temporário.

Com base nisso, analise as afirmativas a seguir.

- I. Combater surtos epidêmicos.
- II. Realizar o recenseamento.
- III. Permitir a execução de serviço, nas áreas de pesquisa científica, por profissional de notória especialização.

Em conformidade com a Lei Complementar nº 04/1990, assinale a opção que indica a(s) situação(ões) que permite(m) contratação temporária.

- (A) I, apenas.
- (B) I e II, apenas.
- (C) II e III, apenas.
- (D) I, II e III.

32

Em uma situação hipotética, determinado servidor do Estado do Mato Grosso, pertencente à Secretaria de Saúde, cometeu falta punível com cassação de aposentadoria.

Nesse caso, com base na Lei Complementar nº 04/1990, a autoridade que deve aplicar a respectiva penalidade ao servidor é o

- (A) Governador do Estado.
- (B) chefe da repartição do servidor.
- (C) Presidente do Tribunal de Contas do Estado.
- (D) Corregedor-geral do Estado.

33

Max Weber diferencia a ética da convicção da ética da responsabilidade.

A esse respeito, analise as afirmativas a seguir e assinale (V) para a verdadeira e (F) para a falsa.

- ( ) A ética da responsabilidade é a que tem como preocupação central as consequências das ações realizadas.
- ( ) A ética da convicção é a mais apropriada para a função pública, pois independe de variações individuais.
- ( ) A ética da responsabilidade baseia-se nas predisposições éticas dos agentes e espera deles um elevado senso moral.

As afirmativas são, respectivamente,

- (A) F – V – F.
- (B) F – V – V.
- (C) V – F – F.
- (D) V – V – F.

34

O instituto da cidadania estabelece direitos e deveres para os indivíduos pertencentes à determinada sociedade. Esses direitos podem ser divididos em civis, políticos e sociais.

Assinale a opção que exemplifica corretamente os direitos sociais.

- (A) Direito à vida e à liberdade.
- (B) Direito à representação política.
- (C) Direito à propriedade privada.
- (D) Direito à saúde e à moradia.

35

*Um funcionário do governo fica responsável pela distribuição de recursos limitados em uma pequena cidade e se depara com um dilema moral. Uma enchente atingiu a região e ele precisa decidir como alocar os recursos de emergência. Há dois grupos que precisam urgentemente de ajuda: um é um orfanato com várias crianças, e o outro, um hospital que atende a toda a comunidade. Ambos estão em situações críticas e os recursos não são suficientes para atender às necessidades de ambos.*

Na situação acima, é correto afirmar que o funcionário aderiu a uma ética utilitarista se ele optou por

- (A) agir conforme o dever e o princípio moral de direcionar a ajuda para o grupo mais desfavorecido.
- (B) tomar o caminho de ação capaz de favorecer o maior número possível das pessoas afetadas.
- (C) conduzir a situação do modo mais compatível possível com o cultivo coletivo das virtudes cívicas.
- (D) atuar de maneira a distribuir os recursos equitativamente, sem favorecer ou preterir nenhuma das partes.

36

Com relação ao Estatuto dos Servidores Públicos do Estado do Mato Grosso (Lei Complementar nº 04/1990), associe cada forma de provimento de cargo público à sua descrição.

1. Reversão
  2. Recondição
  3. Readaptação
  4. Reintegração
- ( ) O servidor aposentado por invalidez retorna à atividade ao serem declarados insubsistentes os motivos da aposentadoria.
  - ( ) O servidor passa a assumir responsabilidades e atribuições compatíveis com uma limitação física ou mental sofrida.
  - ( ) O servidor retorna a um cargo anteriormente ocupado, por exemplo, devido à inabilitação em estágio probatório.
  - ( ) O servidor retorna ao cargo anteriormente ocupado devido a uma invalidação de uma anterior demissão.

Assinale a opção que indica a relação correta, segundo a ordem apresentada.

- (A) 1 – 3 – 2 – 4.
- (B) 1 – 4 – 2 – 3.
- (C) 4 – 2 – 3 – 1.
- (D) 4 – 3 – 2 – 1.

## Legislação do SUS + Plano Nacional de Atenção Básica à Saúde

37

Assinale a opção que apresenta, corretamente, um objetivo do Sistema Único de Saúde – SUS.

- (A) Integração em nível executivo das ações de saúde, meio ambiente e saneamento básico.
- (B) Organização dos serviços públicos de modo a evitar duplicidade de meios para fins idênticos.
- (C) Identificação e divulgação dos fatores condicionantes e determinantes da saúde.
- (D) Capacidade de resolução dos serviços em todos os níveis de assistência.

38

Assinale a opção que apresenta o princípio que foi acrescentado ao Sistema Único de Saúde, em 2023.

- (A) Organizar atendimento público específico e especializado para mulheres e vítimas de violência doméstica em geral.
- (B) Divulgar informações quanto ao potencial dos serviços de saúde e da sua utilização pelo usuário.
- (C) Utilizar a epidemiologia para estabelecer prioridades, a alocação de recursos e a orientação programática.
- (D) Proteger integralmente os direitos humanos de todos os usuários e, em especial, identificar maus-tratos, negligência e violência sexual praticados contra crianças e adolescentes.

**39**

Com base nas disposições da Lei nº 8.080/90 acerca do acompanhamento à mulher nos serviços de saúde, analise as afirmativas a seguir e assinale (V) para a verdadeira e (F) para a falsa.

- ( ) Em consultas, exames e procedimentos realizados em unidades de saúde públicas ou privadas, toda mulher tem o direito de fazer-se acompanhar por pessoa maior de idade, durante todo o período do atendimento, independentemente de notificação prévia.
- ( ) Em caso de atendimento com sedação, a eventual renúncia da paciente ao direito de acompanhante deverá ser feita por escrito, após o esclarecimento dos seus direitos, com no mínimo 24 (vinte e quatro) horas de antecedência, assinada por ela e arquivada em seu prontuário.
- ( ) Em casos de urgência e emergência, os profissionais de saúde ficam autorizados a agir na proteção e defesa da saúde e da vida da paciente, ainda que na ausência do acompanhante requerido.

As afirmativas são, respectivamente,

- (A) F – V – F.
- (B) V – V – V.
- (C) F – F – V.
- (D) V – F – V.

**40**

Com base na organização dos níveis de assistência à saúde, assinale a opção que apresenta a um serviço da *atenção terciária*.

- (A) Unidade de Transplante Renal.
- (B) Ambulatório de Neurologia.
- (C) Serviço de Ressonância Magnética.
- (D) Unidades de Pronto Atendimento.

**41**

Os Programas de Qualidade de Vida e Saúde para os Trabalhadores da Saúde e o Colegiado Gestor fazem parte do seguinte elemento da Política Nacional de Humanização.

- (A) Valores.
- (B) Princípios.
- (C) Diretrizes.
- (D) Dispositivos.

**42**

Com base nos Requisitos de Boas Práticas de Funcionamento para os Serviços de Saúde, analise as afirmativas a seguir e assinale (V) para a verdadeira e (F) para a falsa.

- ( ) Em serviços de saúde com mais de vinte trabalhadores é obrigatória a instituição de Comissão Interna de Prevenção de Acidentes - CIPA.
- ( ) O serviço de saúde deve garantir que o prontuário contenha registros relativos à identificação e todos os procedimentos prestados ao paciente.
- ( ) O serviço de saúde deve garantir que os trabalhadores sejam avaliados, no mínimo, uma vez ao ano em relação à saúde ocupacional.

As afirmativas são, respectivamente,

- (A) V – V – V.
- (B) F – V – F.
- (C) V – V – F.
- (D) V – F – F.

**43**

De acordo com a Carta dos Direitos e Deveres da Pessoa Usuária da Saúde, assinale a afirmativa correta.

- (A) O usuário tem direito a acompanhante, pessoa de sua livre escolha, nas consultas e exames.
- (B) O atendimento nos serviços de saúde deve ser sempre com hora marcada.
- (C) O usuário tem liberdade de procurar parecer de outro profissional, exceto em casos com impedimento legal.
- (D) Toda pessoa previamente cadastrada tem direito a participar dos conselhos e das conferências de saúde.

**44**

De acordo com as disposições normativas acerca da segurança do paciente, os eventos adversos que evoluírem para óbito devem ser notificados em até

- (A) 12 horas, a partir do ocorrido.
- (B) 24 horas, a partir do ocorrido.
- (C) 48 horas, a partir do ocorrido.
- (D) 72 horas, a partir do ocorrido.

**45**

Com base nas disposições da Lei nº 8.142/90, analise as afirmativas a seguir.

- I. O Conselho de Saúde é um órgão colegiado responsável por avaliar a situação de saúde e propor diretrizes para formulação da política de saúde.
- II. Um dos requisitos para que Estados e Municípios recebam os recursos destinados à cobertura das ações e serviços de saúde é a elaboração do Plano de Saúde.
- III. Os Municípios poderão estabelecer consórcio para execução de ações e serviços de saúde.

Está correto o que se afirma em

- (A) I, apenas.
- (B) II e III, apenas.
- (C) I e II, apenas.
- (D) I e III, apenas.

**46**

Conforme disposições sobre a organização do SUS, o conjunto de ações e serviços de saúde, articulados em níveis de complexidade crescente com a finalidade de garantir a integralidade da assistência à saúde, corresponde ao(à)

- (A) Mapa de Saúde.
- (B) Região de Saúde.
- (C) Rede de Atenção à Saúde.
- (D) Serviços Especiais de Acesso Aberto.



## CONHECIMENTOS ESPECÍFICOS

47

Na análise econômica, é importante distinguir os argumentos positivos dos argumentos normativos, que são relevantes para o diagnóstico e a proposição de políticas públicas, por exemplo.

Assinale a opção que apresenta, corretamente, um argumento normativo.

- (A) O programa de transferência de renda reduz o incentivo a pessoas a trabalharem, quanto maior o valor do benefício concedido.
- (B) O Imposto sobre Grandes Fortunas contribui para financiar políticas de redistribuição de renda.
- (C) Quanto maior a tributação sobre os mais ricos, maior a fuga de capitais registrada pelo país.
- (D) Um programa de renda mínima universal é ineficaz e injusto, pois beneficia não apenas os mais pobres.

48

A teoria da escolha do consumidor tem como um de seus pressupostos básicos que as preferências são racionais. Assumindo apenas essa hipótese, assinale a opção que apresenta uma característica das escolhas do consumidor.

- (A) Suas curvas de indiferença nunca se cruzam.
- (B) São completas, mas não transitivas.
- (C) São localmente não saciáveis.
- (D) Preferem sempre maiores quantidades na cesta consumida.

49

Suponha a seguinte estrutura de oferta e demanda por arroz:

Oferta:  $Q_s = 10 + P$ , em que  $Q_s$  é a quantidade ofertada.

Demanda:  $Q_d = 20 - P$ , em que  $Q_d$  é a quantidade demandada.

A variável  $P$  representa o preço do arroz.

Assuma que este seja o cenário 1. No cenário 2, ocorre um choque de oferta negativo, que desloca paralelamente a oferta em 5 unidades. O preço de equilíbrio nos cenários 1 e 2, respectivamente, é igual a

- (A) 5 e 10.
- (B) 5 e 7,5.
- (C) 15 e 12,5.
- (D) 15 e 20.

50

Suponha que um pesquisador tenha obtido as seguintes elasticidades preço cruzada da demanda:

$E_{12} = -0,2$ , entre o bem 1 e 2;

$E_{13} = +0,2$ , entre o bem 1 e 3;

$E_{23} = 0$ , entre o bem 2 e 3.

Portanto, é correto concluir que os bens

- (A) 1 e 2 são inferiores.
- (B) 1 e 3 são complementares.
- (C) 2 e 3 são independentes.
- (D) 1 e 2 são substitutos.

51

Em relação ao tópico “A produção e seus custos”, assinale a opção que indica, corretamente, como os custos totais de produção são definidos.

- (A) Os gastos que uma sociedade empresária tem para produzir uma quantidade específica de bens ou serviços, incluindo custos fixos e variáveis.
- (B) Os gastos que uma sociedade empresária tem para produzir uma quantidade específica de bens ou serviços, excluindo os custos fixos.
- (C) Os gastos fixos de uma sociedade empresária, excluindo os custos variáveis.
- (D) Os gastos que uma sociedade empresária tem com mão de obra direta e matéria-prima.

52

Assinale a opção que indica como na teoria microeconômica a relação entre a produção e as curvas de custo é caracterizada.

- (A) Representando uma relação direta entre a produção e os custos totais de uma empresa.
- (B) Demonstrando uma relação direta entre a produção e os custos médios de uma empresa.
- (C) Indicando apenas como os custos fixos de uma empresa variam com a quantidade produzida.
- (D) Mostrando a relação entre a quantidade produzida e apenas os custos variáveis de uma empresa.

53

Assinale a opção que indica, corretamente, as características da concorrência perfeita na teoria microeconômica.

- (A) Existência de numerosas sociedades empresárias produtoras, produtos homogêneos, livre entrada e saída de sociedades empresárias, poder de mercado significativo para cada sociedade empresária.
- (B) Presença de algumas sociedades empresárias produtoras, produtos diferenciados, barreiras à entrada de novas sociedades empresárias, poder de mercado limitado para cada sociedade empresária.
- (C) Baixa concentração de mercado em várias sociedades empresárias, produtos homogêneos, livre entrada e saída de sociedades empresárias, ausência de poder de mercado para qualquer sociedade empresária.
- (D) Monopólio de mercado por uma única sociedade empresária, controle sobre os preços, entrada restrita de novas sociedades empresárias, ausência de concorrentes.

54

Considere o cenário econômico de um país em que a maioria dos trabalhadores possui habilidades específicas para determinadas ocupações e enfrenta dificuldades significativas para mudar de emprego.

Nesse contexto, uma das características da estrutura de mercado de fatores de produção conhecida como concorrência no mercado de trabalho é

- (A) a alta mobilidade de trabalhadores entre diferentes ocupações, salários uniformes para todos os trabalhadores e a livre negociação entre empregadores e trabalhadores.
- (B) a baixa mobilidade de trabalhadores entre diferentes ocupações, salários uniformes para todos os trabalhadores e restrições governamentais à negociação salarial.
- (C) a baixa mobilidade de trabalhadores entre diferentes ocupações, salários diferenciados de acordo com a produtividade e a livre negociação entre empregadores e trabalhadores.
- (D) a alta mobilidade de trabalhadores entre diferentes ocupações, salários diferenciados de acordo com a negociação sindical e restrições governamentais à contratação de trabalhadores.

55

Em um mercado de trabalho perfeitamente competitivo, assinale a opção que indica, corretamente, a relação entre a quantidade de trabalho ofertada e o salário real.

- (A) Proporcional: o salário real aumenta na mesma proporção da quantidade de trabalho ofertada.
- (B) Inversa: o salário real diminui quando a quantidade de trabalho ofertada aumenta.
- (C) Inexistente: o salário real é fixo e não é influenciado pela quantidade de trabalho ofertada.
- (D) Indeterminada: a relação entre o salário real e a quantidade de trabalho ofertada é aleatória e não segue um padrão específico.

56

Assinale a opção que apresenta uma ação governamental que não pode ser elencada para combater o poder de mercado.

- (A) Leis antitrustes, as quais visam proibir práticas anticompetitivas, como acordos de cartel e preços predatórios.
- (B) Regulação de preços, que o governo define o preço máximo que uma empresa pode cobrar por um bem ou serviço.
- (C) Impostos progressivos, quando o governo cobra taxas mais altas de impostos de empresas com maiores lucros.
- (D) Subsídios, em que o governo concede benefícios financeiros a empresas para reduzir seus custos de produção.

57

A respeito do alto grau de concentração econômica que ocorre no Brasil, analise as afirmativas a seguir.

- I. As regiões Sul e Sudeste, por serem as mais industrializadas, são as que detêm a maior concentração econômica.
- II. A tecnologia tem contribuído para a desconcentração da economia, com as regiões pouco industrializadas aumentando sua capacidade econômica graças às indústrias que têm se deslocado das regiões mais industrializadas em busca de mais espaço e menos concorrência.
- III. A concentração de mercado impede a entrada de novos concorrentes, limitando as opções dos consumidores e levando a preços mais altos.
- IV. A fusão de empresas aumenta a ineficiência e reduz a competitividade do mercado.

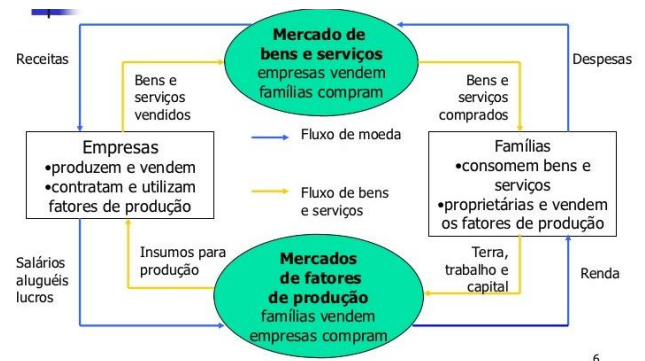
Está correto o que se afirma em

- (A) I e II, apenas.
- (B) III e IV, apenas.
- (C) I, II e III, apenas.
- (D) II, III e IV, apenas.

58

O fluxo circular de renda é um modelo fundamental na economia que descreve como o dinheiro e os bens e serviços circulam entre os agentes econômicos.

Considere o fluxo abaixo:



Assinale a opção que apresenta uma característica que não se refere a esse modelo.

- (A) As empresas produzem bens e serviços (linha interna) e os oferecem no mercado de bens e serviços.
- (B) Nem toda a renda é usada para consumo, podendo ser destinada à poupança.
- (C) O fluxo real (linhas internas) representa a troca de bens e serviços reais entre famílias e empresas.
- (D) As famílias fornecem fatores de produção (trabalho, capital e terra) às empresas (linha interna).

59

Considere uma economia fechada com propensão marginal a consumir (PMC) de 0,75 e um aumento de R\$100 nos gastos do governo.

O impacto total na renda nacional (em reais) será igual a

- (A) 100.
- (B) 200.
- (C) 300.
- (D) 400.

60

Considere os impactos das políticas fiscal, monetária e cambial na economia.

Assinale a opção que melhor descreve os efeitos dessas políticas sobre o equilíbrio macroeconômico.

- (A) Uma política fiscal expansionista, combinada com uma política monetária restritiva e uma política cambial de valorização, tende a aumentar a inflação e reduzir o déficit orçamentário do governo.
- (B) Uma política fiscal restritiva, ao ser combinada com uma política monetária expansionista e uma política cambial de desvalorização, geralmente resulta em aumento do emprego e estabilidade nos preços.
- (C) Uma política fiscal expansionista, acompanhada de política monetária expansionista e política cambial de valorização, normalmente leva a um aumento do déficit em conta corrente e pressões inflacionárias.
- (D) Uma política fiscal restritiva, juntamente com uma política monetária restritiva e uma política cambial de valorização, tende a reduzir a inflação, mas pode provocar recessão econômica.

61

Em relação aos conceitos e às teorias sobre inflação, assinale a opção correta.

- (A) A visão monetarista sustenta que a inflação é um fenômeno monetário, implicando que o aumento excessivo na oferta de moeda é a principal causa da inflação.
- (B) A teoria estruturalista atribui a inflação principalmente a fatores não monetários, como o aumento dos custos de produção ou a pressão de demandas setoriais, que não estão diretamente relacionadas à quantidade de dinheiro em circulação.
- (C) Os efeitos da inflação incluem apenas impactos negativos sobre o poder de compra dos consumidores, sem oferecer possíveis benefícios, como o estímulo ao investimento, devido à expectativa de preços mais altos no futuro.
- (D) A hiperinflação, um tipo extremo de inflação, é caracterizada por uma elevação moderada e controlada dos preços, que se mantém constante ao longo do tempo.

62

De acordo com o livro "Economia Brasileira Contemporânea" de Amaury Gremaud e outros, os tipos de inflação são classificados com base em suas causas e características.

Com base nessa classificação, assinale a opção que corretamente identifica um tipo de inflação e sua descrição.

- (A) A *inflação de demanda* ocorre quando há um excesso de demanda agregada em relação à capacidade produtiva da economia, geralmente estimulada por políticas governamentais de aumento de gastos ou de redução de impostos, levando a um aumento generalizado dos preços.
- (B) A *inflação de custos* é caracterizada pela diminuição dos preços dos insumos, especialmente energia e salários, o que reduz o custo de produção e, paradoxalmente, leva a um aumento no nível geral de preços devido à maior margem de lucro dos produtores.
- (C) A *inflação inercial* refere-se à expectativa dos consumidores de que os preços cairão no futuro, levando-os a aumentar o consumo no presente, o que acaba por aumentar a inflação atual devido ao aumento da demanda agregada.
- (D) A *inflação estrutural* é atribuída às falhas estruturais na economia, como a falta de infraestrutura adequada e a rigidez no mercado de trabalho, que limitam a capacidade de oferta e levam a um aumento persistente dos preços.

63

Considerando os conceitos e os tipos de desemprego discutidos na literatura econômica, assinale a opção que corretamente identifica e descreve um tipo específico de desemprego.

- (A) O *desemprego friccional* é causado por problemas estruturais na economia, como mudanças tecnológicas ou padrões de comércio internacional, que deslocam trabalhadores de setores em declínio para setores em ascensão, geralmente levando a longos períodos de busca por nova ocupação.
- (B) O *desemprego cíclico* ocorre durante períodos de recessão ou desaceleração econômica, quando a demanda agregada por bens e serviços na economia diminui, levando as empresas a reduzirem sua produção e, portanto, sua força de trabalho.
- (C) O *desemprego estrutural* é resultado direto da inflação e caracteriza-se pela incapacidade dos salários de se ajustarem para baixo, devido à rigidez institucional ou às políticas governamentais, impedindo o mercado de trabalho de atingir o equilíbrio.
- (D) O *desemprego sazonal* é causado principalmente por mudanças na política monetária do governo, resultando em flutuações na oferta de moeda e nas taxas de juros, o que afeta negativamente a demanda por trabalho em certas épocas do ano, especialmente nos setores de turismo e agricultura.

64

Suponha que a população economicamente não ativa de um país seja igual a 100 milhões e que a população em idade ativa seja igual a 500 milhões. Ademais, o nível de ocupação – conceito utilizado pelo IBGE – é de 70%.

Logo, a taxa de desemprego é de

- (A) 30,0%.
- (B) 12,5%.
- (C) 10,0%
- (D) 7,5%.

65

No cenário atual de globalização e interdependência econômica entre os países, o comércio internacional desempenha um papel crucial no desenvolvimento econômico e na alocação eficiente dos recursos. Nesse contexto, economistas têm desenvolvido diversas teorias para explicar os padrões e os benefícios do comércio entre as nações.

Sobre as teorias do comércio internacional, assinale a opção que relaciona corretamente o pensamento econômico à sua característica.

- (A) Teoria das Vantagens Comparativas de David Ricardo: os países devem se especializar na produção e exportação de bens nos quais possuem vantagem absoluta, independente dos custos relativos entre os países.
- (B) Teoria de Heckscher-Ohlin: as diferenças na abundância relativa de fatores de produção (trabalho e capital) entre os países explicam os padrões de comércio internacional, sendo que os países exportarão bens que utilizam intensivamente os fatores de produção mais abundantemente disponíveis.
- (C) Teoria da *nova teoria do comércio internacional* (NTCI): a existência de economias de escala e de marcas globais são uma explicação mais convincente para o comércio internacional, descartando as teorias tradicionais baseadas em vantagens comparativas ou diferenças na abundância de fatores de produção.
- (D) Teoria da Vantagem Absoluta de Adam Smith: os países devem se especializar na produção de bens que podem ser produzidos com uma quantidade menor de fatores de produção, independentemente dos custos de produção relativos entre os países.

66

Sobre Balanço de Pagamentos, segundo o Manual de Balanço de Pagamentos do FMI (BPM6), analise as afirmativas a seguir e assinale (V) para a verdadeira e (F) para a falsa.

- ( ) A conta corrente do balanço de pagamentos registra as transações de bens, serviços, renda primária e secundária entre residentes e não residentes durante um determinado período.
- ( ) A conta financeira do balanço de pagamentos registra as transações de ativos financeiros e passivos entre residentes e não residentes durante um determinado período, incluindo investimentos diretos, investimentos em carteira e derivativos financeiros.
- ( ) O conceito de residência utilizado nas estatísticas de setor externo do BPM6 é baseado na nacionalidade das empresas e indivíduos, sem considerar sua localização física ou operacional.

As afirmativas são, na ordem apresentada, respectivamente,

- (A) V – V – V.  
 (B) V – V – F.  
 (C) V – F – V.  
 (D) F – V – V.

67

Em relação às taxas de câmbio, analise as afirmativas a seguir e assinale (V) para a verdadeira e (F) para a falsa.

- ( ) Uma taxa de câmbio fixa é determinada pelo mercado de câmbio, refletindo a oferta e a demanda por moeda estrangeira em um determinado país.
- ( ) Um regime de câmbio de flutuação suja é caracterizado por intervenções ocasionais do governo no mercado de câmbio para influenciar a taxa de câmbio em relação a outras moedas estrangeiras.
- ( ) A taxa de câmbio nominal é o preço relativo de duas moedas estrangeiras, expresso em termos de uma terceira moeda, geralmente o dólar americano.

As afirmativas são, na ordem apresentada, respectivamente,

- (A) V – F – V.  
 (B) F – F – V.  
 (C) F – V – F.  
 (D) F – V – V.

68

Em relação às funções alocativa, distributiva e estabilizadora do setor público, assinale a afirmativa que melhor descreve uma ação correspondente a cada função.

- (A) *Alocativa*: implementação de políticas fiscais expansionistas durante períodos de recessão para estimular a demanda agregada; *Distributiva*: redução das desigualdades de renda por meio de programas de assistência social; *Estabilizadora*: fornecimento de bens e serviços públicos essenciais, como educação e saúde.
- (B) *Alocativa*: redução dos gastos do governo em infraestrutura para incentivar o investimento privado; *Distributiva*: implementação de impostos regressivos para financiar programas de desenvolvimento econômico; *Estabilizadora*: aumento dos juros para controlar a inflação.
- (C) *Alocativa*: implementação de políticas de subsídio para setores estratégicos da economia; *Distributiva*: redução das taxas de imposto para os mais pobres; *Estabilizadora*: aumento dos gastos públicos em projetos de infraestrutura durante uma recessão.
- (D) *Alocativa*: aumento dos investimentos em pesquisa e desenvolvimento para promover a inovação; *Distributiva*: implementação de um sistema de previdência social para proteger os idosos e os vulneráveis; *Estabilizadora*: redução dos gastos do governo para evitar uma recessão econômica.

69

Em relação à estrutura tributária no contexto da Economia do Setor Público, analise as afirmações a seguir.

- I. Um sistema tributário progressivo é caracterizado por alíquotas de imposto que aumentam à medida que a renda do contribuinte aumenta, visando reduzir as desigualdades de renda.
- II. Impostos sobre o consumo, como o Imposto sobre Valor Agregado (IVA), são exemplos de impostos diretos que incidem sobre os rendimentos e lucros das pessoas físicas e jurídicas.
- III. A incidência do Imposto de Renda Retido na Fonte (IRRF) sobre os rendimentos do trabalho é um exemplo de tributação indireta, pois não é cobrada diretamente do contribuinte, mas sim repassada pelas empresas aos consumidores por meio dos preços dos bens e serviços.
- IV. Impostos proporcionais tendem a diminuir a equidade, pois não levam em consideração a capacidade de pagamento dos indivíduos.

Está correto o que se afirma em

- (A) I e II, apenas.
- (B) III e IV, apenas.
- (C) I, II e III, apenas.
- (D) I, II e IV, apenas.

70

Em relação à dinâmica do percentual da dívida pública em relação ao PIB, assinale a afirmativa **incorreta**.

- (A) O percentual pode se reduzir, mesmo com a existência de déficits primários.
- (B) O percentual pode se elevar, mesmo se o crescimento real do PIB for maior do que a taxa real de juros.
- (C) Se o percentual for igual a 50% no ano  $t-1$  e o crescimento e juros reais forem iguais a 10% e 4%, respectivamente, então o governo precisa alcançar, no mínimo, um superávit primário de 3% para a dívida/PIB não subir.
- (D) Se o governo impuser uma política monetária fortemente contracionista e ao mesmo tempo uma política fiscal expansiva que incorra em elevados déficits nominais, a razão dívida/PIB irá se reduzir.

71

Entre os princípios institucionais do orçamento público, assinale a afirmativa **incorreta**.

- (A) O *princípio da universalidade* estabelece que todas as receitas e despesas devem ser incluídas no orçamento público, sem exceção.
- (B) O *princípio da unidade* determina que o orçamento deve ser elaborado e executado como uma peça única, sem fragmentações.
- (C) O *princípio da anualidade* estipula que o orçamento público deve vigorar por um período de doze meses, coincidindo com o ano civil.
- (D) O *princípio da especialidade* estabelece que cada despesa pública deve estar claramente especificada e autorizada por lei.

72

Assinale a opção que indica como a diferença entre os conceitos de crescimento e desenvolvimento econômico é definida.

- (A) Crescimento econômico refere-se ao aumento da produção total de bens e serviços em uma economia ao longo do tempo, enquanto desenvolvimento econômico refere-se às melhorias qualitativas e institucionais na qualidade de vida e bem-estar da população.
- (B) Crescimento econômico diz respeito à redução das desigualdades de renda e riqueza entre os indivíduos de uma sociedade, enquanto desenvolvimento econômico diz respeito ao aumento da produção total de bens e serviços.
- (C) Crescimento econômico e desenvolvimento econômico são termos intercambiáveis que descrevem o mesmo fenômeno de aumento da atividade econômica em uma sociedade.
- (D) Crescimento econômico e desenvolvimento econômico referem-se ambos à expansão da infraestrutura física de uma economia, incluindo estradas, escolas e hospitais.

73

Assinale a opção que melhor ilustra a interrelação entre economia e saúde.

- (A) A implementação de um sistema de saúde universal que visa a garantir o acesso equitativo aos serviços de saúde para toda a população, independentemente da capacidade de pagamento.
- (B) O aumento do investimento em pesquisa médica para desenvolver novos tratamentos para doenças crônicas, visando melhorar a qualidade de vida dos pacientes.
- (C) A promoção de campanhas de conscientização sobre hábitos alimentares saudáveis e a prática de exercícios físicos regulares para prevenir doenças relacionadas ao estilo de vida.
- (D) A construção de hospitais e clínicas em áreas rurais e remotas para aumentar o acesso aos serviços de saúde em regiões subatendidas.

74

Em relação à **abrangeção** da Economia da Saúde, assinale a afirmativa **incorreta**.

- (A) Analisa os determinantes da demanda por serviços de saúde, como fatores socioeconômicos, demográficos e culturais.
- (B) Investiga os efeitos das políticas de saúde, como programas de vacinação e prevenção de doenças, sobre os resultados de saúde da população.
- (C) Estuda a eficiência na alocação de recursos no sistema de saúde, buscando maximizar os resultados de saúde com os recursos disponíveis.
- (D) Realiza experimentos laboratoriais, com cobaias, visando avaliar o efeito de medicamentos sobre o grupo de tratamento em relação ao grupo de controle.

75

Considere a Política Nacional de Ciência, Tecnologia e Inovação em Saúde (PINCTIS), elaborada pelo Ministério da Saúde, em 2008.

Em relação aos seus eixos condutores, é correto afirmar que o eixo

- (A) *da extensividade* considera a inserção dos produtores, financiadores e usuários da produção técnico-científica.
- (B) *da inclusividade* engloba toda pesquisa que visa ao avanço do conhecimento, seja aquele de aplicação imediata ou não.
- (C) *da seletividade* diz respeito à necessidade de aumentar a capacidade indutora do sistema de fomento científico e tecnológico.
- (D) *da complementaridade* deve orientar as ações de fomento no âmbito da PINCTIS.

76

A Lei Orgânica da Saúde, composta pela seção da saúde na Constituição Federal (1988) e pelas Leis nº 8.080/90 e nº 8.142/90, estabelece o arcabouço legal do Sistema Único de Saúde (SUS) no Brasil. Essas leis foram promulgadas como parte da reforma sanitária brasileira, buscando garantir o direito à saúde como um direito fundamental de todos os cidadãos e estabelecer as diretrizes para a organização e o funcionamento do sistema de saúde no país.

A Lei nº 8.080/90 define os princípios, diretrizes e atribuições do SUS, estabelecendo as bases para a organização do Sistema de Saúde. Ela determina, entre outras coisas, que a saúde é um direito fundamental do ser humano e que o Estado tem o dever de garantir sua efetivação por meio de políticas públicas que promovam o acesso universal e igualitário aos serviços de saúde.

Portanto, essa lei determina que

- (A) é dever do Estado garantir a saúde, formulando e executando políticas econômicas e sociais que visem à redução de riscos de doenças e de outros agravos e no estabelecimento de condições que assegurem acesso universal, justo e eficiente às ações e aos serviços para a sua promoção, proteção e recuperação.
- (B) o conjunto de ações e serviços de saúde, prestados por órgãos e instituições públicas federais, estaduais e municipais, da Administração direta, mas não indireta, e das fundações mantidas pelo Poder Público, constitui o SUS.
- (C) o SUS contará, em cada esfera de governo, sem prejuízo das funções do Poder Legislativo, com as seguintes instâncias colegiadas: Conferência de Saúde e Conselho de Saúde.
- (D) a iniciativa privada poderá participar do SUS, em caráter complementar.

77

A seção da Constituição Federal de 1988 (CF/88) que trata especificamente da saúde está compreendida entre os artigos 196 e 200. Esses artigos estabelecem os princípios e as diretrizes fundamentais do sistema de saúde brasileiro, incluindo o direito à saúde como um direito de todos e dever do Estado, a organização do Sistema Único de Saúde (SUS), a descentralização das ações e serviços de saúde, a participação da comunidade na gestão do SUS, entre outros aspectos relacionados à saúde pública no país.

Em relação ao financiamento em saúde abordada nessa seção da CF/88, assinale a afirmativa **incorreta**.

- (A) O SUS será financiado com recursos do orçamento da seguridade social, da União, dos Estados, do Distrito Federal e dos Municípios.
- (B) A União aplicará, anualmente, em ações e serviços públicos de saúde recursos mínimos derivados da aplicação de percentuais calculados sobre a receita corrente líquida do respectivo exercício financeiro, não podendo ser inferior a 15%.
- (C) As Unidades Federativas aplicarão, anualmente, em ações e serviços públicos de saúde recursos mínimos derivados da aplicação de percentuais calculados sobre o produto da arrecadação dos impostos de sua competência, não deduzidas as parcelas que forem transferidas aos Municípios.
- (D) Os recursos destinados ao pagamento do vencimento dos agentes comunitários de saúde e dos agentes de combate às endemias serão consignados no orçamento geral da União com dotação própria e exclusiva.

78

Em relação à Emenda Constitucional nº 29/2000, analise as afirmativas a seguir e assinale (V) para a verdadeira e (F) para a falsa.

- ( ) A União intervirá nos Estados ou no Distrito Federal para assegurar a observância da aplicação do mínimo exigido da receita resultante de impostos estaduais, compreendida a proveniente de transferências, nas ações e serviços públicos de saúde.
- ( ) O Estado intervirá em seus Municípios quando não tiver sido aplicado o mínimo exigido da receita municipal nas ações e serviços públicos de saúde.
- ( ) Lei complementar, que será reavaliada pelo menos a cada cinco anos, estabelecerá os critérios de rateio dos recursos da União vinculados à saúde destinados aos Estados, ao Distrito Federal e aos Municípios, e dos Estados destinados a seus respectivos Municípios, objetivando a progressiva redução das disparidades regionais.

As afirmativas são, na ordem apresentada, respectivamente,

- (A) V – V – V.
- (B) V – V – F.
- (C) V – F – V.
- (D) F – V – V.

79

A Lei nº 14.133/2021 estabeleceu normas gerais de licitação e contratação para as Administrações Públicas diretas, autárquicas e fundacionais da União, dos Estados, do Distrito Federal e dos Municípios.

Em relação a essa lei, assinale a afirmativa correta.

- (A) Abrange os órgãos dos Poderes Legislativo e Judiciário da União, dos Estados, do Distrito Federal e dos Municípios, quando no desempenho de função administrativa.
- (B) As contratações realizadas no âmbito das repartições públicas sediadas no exterior obedecerão às peculiaridades locais e aos princípios básicos estabelecidos nesta Lei, na forma de regulamentação específica a ser editada pelo Presidente da República.
- (C) Nas licitações e contratações que envolvam recursos provenientes de empréstimo ou doação oriundos de agência oficial de cooperação estrangeira ou de organismo financeiro de que o Brasil seja parte, podem ser admitidas condições decorrentes de acordos internacionais aprovados pelo Presidente da República e ratificados pelo Congresso Nacional.
- (D) Aplica-se à alienação e à concessão de direito real de uso de bens; à compra, inclusive por encomenda; à locação; à concessão e à permissão de uso de bens públicos; à prestação de serviços, inclusive os técnico-profissionais especializados; às obras e aos serviços de arquitetura e engenharia; e às contratações de tecnologia da informação e de comunicação.

80

*“O desafio dos sistemas de saúde nesta década é identificar a alocação ótima dos recursos disponíveis para maximizar a saúde. A pesquisa em saúde continuará a produzir um aumento expressivo de alternativas de detecção, prevenção e tratamento de doenças. Porém, restrições orçamentárias não permitirão que os sistemas de cuidado à saúde ofereçam todas estas intervenções para todo mundo”.*

(Fonte: SANTOS, Vania Cristina Canuto *Avaliação Econômica de Tecnologias em Saúde e Limite de Custo-Efetividade*, elaborado no âmbito da Comissão Nacional de Incorporação de Tecnologias no Sistema Único de Saúde – CONITEC).

O trecho acima descreve o custo de oportunidade no âmbito das restrições expostas, ou seja, o custo em que

- (A) o déficit orçamentário impede a aplicação de recursos na expansão dos sistemas de saúde.
- (B) a sociedade incorre ao disponibilizar uma tecnologia em saúde à população, à medida que os recursos empregados para tal ficam indisponíveis para outros fins.
- (C) se visa minimizar os recursos aplicados, com o objetivo de alcançar maior eficiência.
- (D) se objetiva, por meio do conjunto de técnicas de análise, avaliar comparativamente duas ou mais tecnologias/programas/ações por meio da mensuração sistemática de custos e resultados de cada uma delas.

Realização

