

TÉCNICO EM COMUNICAÇÃO SOCIAL JORNALISMO MKT

TIPO 1 – BRANCA



SUA PROVA

- Além deste caderno contendo **80 (oitenta)** questões objetivas você receberá do fiscal de prova o cartão de respostas;
- As questões objetivas têm **4 (quatro)** opções de resposta (A, B, C, D) e somente uma delas está correta.



TEMPO

- Você dispõe de **4 (quatro) horas** para a realização da prova, já incluído o tempo para a marcação do cartão de respostas;
- **2 (duas) horas e 30 (trinta) minutos** após o início da prova, é possível retirar-se da sala, sem levar o caderno de questões;
- A partir dos **30 (trinta) minutos** anteriores ao término da prova é possível retirar-se da sala **levando o caderno de questões**.



NÃO SERÁ PERMITIDO

- Qualquer tipo de comunicação entre os candidatos durante a aplicação da prova;
- Anotar informações relativas às respostas em qualquer outro meio que não seja o caderno de questões;
- Levantar da cadeira sem autorização do fiscal de sala;
- Usar o sanitário ao término da prova, após deixar a sala.



INFORMAÇÕES GERAIS

- Verifique se seu caderno de questões está completo, sem repetição de questões ou falhas. Caso contrário, **notifique imediatamente o fiscal da sala**, para que sejam tomadas as devidas providências;
- Confira seus dados pessoais, especialmente nome, número de inscrição e documento de identidade e leia atentamente as instruções para preencher o cartão de respostas;
- Para o preenchimento do cartão de respostas, use somente caneta esferográfica, fabricada em material transparente, com tinta preta ou azul;
- Assine seu nome apenas no(s) espaço(s) reservado(s) no cartão de respostas;
- Confira seu cargo, cor e tipo do caderno de questões. Caso tenha recebido caderno de cargo ou cor ou tipo **diferente** do impresso em seu cartão de respostas, o fiscal deve ser **obrigatoriamente** informado para o devido registro na ata da sala;
- Reserve tempo suficiente para o preenchimento do seu cartão de respostas. O preenchimento é de sua responsabilidade e **não será permitida a troca do cartão de respostas em caso de erro cometido pelo candidato**;
- Para fins de avaliação, serão levadas em consideração apenas as marcações realizadas no cartão de respostas;
- A FGV coletará as impressões digitais dos candidatos na lista de presença;
- Os candidatos serão submetidos ao sistema de detecção de metais quando do ingresso e da saída de sanitários durante a realização das provas.
- **Boa sorte!**

CONHECIMENTOS GERAIS

Língua Portuguesa

1

Leia o texto a seguir.

Os homens não estão cientes do calor que emana de seu coração, embora ele dê vida e movimento a todas as outras partes do seu corpo. [...] O mesmo se dá com a vaidade: ela é tão natural para o homem que ele não a percebe. E, embora seja isso que dê, por assim dizer, vida e movimento à maioria dos seus pensamentos e desígnios, isso ocorre de um modo que é imperceptível para o sujeito. [...] Os homens não percebem que é a vaidade que dá ímpeto à maioria de suas ações.

A respeito do significado ou da estruturação desse fragmento, assinale a afirmativa **inadequada**.

- (A) O comentário inicial sobre o calor do coração serve de ponto de comparação para o papel da vaidade.
- (B) A semelhança entre o calor do coração e a vaidade é que ambos são imperceptíveis para os homens.
- (C) Ao indicar a vaidade como fonte da maioria das ações humanas, o autor do texto as desvaloriza.
- (D) O homem deve tornar a vaidade uma força consciente para o seu progresso.

2

Leia o texto a seguir.

Em seu coração, os homens desejam ser estimados, mas eles cuidadosamente ocultam esse desejo porque querem se passar por virtuosos e porque o desejo de receber da virtude qualquer vantagem além dela mesma não seria ser virtuoso, mas amar a estima e o elogio – ou seja, ser vaidoso. Os homens são muito vaidosos, mas não há nada que eles mais detestem do que serem considerados vaidosos.

Assinale a afirmativa adequada ao seu significado ou à sua estruturação.

- (A) A discussão no texto opõe a essência (os homens serem vaidosos) à aparência (quererem passar por virtuosos).
- (B) A vaidade humana só não é vista como um defeito porque os homens fazem questão de ocultá-la.
- (C) Os homens têm o desejo de serem estimados, ou seja, pretendem alcançar a estima e o elogio, sem serem motivados pela vaidade.
- (D) O fato de serem considerados vaidosos faz com que a imagem pública dos homens cresça ao olhar dos outros.

3

Assinale a opção que apresenta a frase em que os dois termos sublinhados **não** são *antônimos*.

- (A) Juízes implacáveis são todos aqueles que antes foram réus.
- (B) O homem não teria alcançado o possível se, repetidas vezes, não tivesse tentado o impossível.
- (C) Você não será nada se quiser ser tudo.
- (D) Só tenho por seguro o que é incerto.

4

Analise a frase a seguir.

É claro que a justiça, sendo cega, não vê se é vista, e então não cora. (Machado de Assis)

As opções a seguir apresentam formas de reescrever a frase acima sem modificação do seu sentido original, **à exceção de uma**. Assinale-a.

- (A) É claro que a justiça, sendo cega, não cora, já que não vê se é vista.
- (B) Sendo cega, é claro que a justiça não vê se é vista, e então não cora.
- (C) É claro que, sendo cega, a justiça não vê se é vista, e então não cora.
- (D) É claro que a justiça não vê se é vista, e então, sendo cega, não cora.

5

Assinale a frase que **não** apresenta *tom crítico*.

- (A) Nenhum homem rico é feio, dizia uma grande atriz.
- (B) Mostre-me um herói e eu escreverei uma tragédia.
- (C) Não é bom que o homem esteja só.
- (D) Ele é a pessoa mais interessante que ele já conheceu.

6

Assinale a frase em que **não** está presente a construção de voz passiva com o pronome se.

- (A) O casamento é uma escola onde se aprende algo com o outro.
- (B) Alugou-se uma casa à beira-mar para as férias, mas os temporais acabaram com os sonhos.
- (C) Nunca se é demasiado velho para crescer.
- (D) Fazem-nos na época atual constituições para os povos como se fariam vestidos para as pessoas sem se lhes tomar as medidas.

7

Segundo o gramático Celso Cunha, os adjetivos mostram os seguintes valores: uma qualidade, uma característica, um estado ou uma relação.

Assinale a opção que apresenta a frase em que o adjetivo sublinhado é classificado como *adjetivo de relação*.

- (A) As colônias não deixam de ser colônias pelo fato de serem independentes.
- (B) É necessário mudar muitas vezes de opinião para estar sempre de acordo com o seu partido político.
- (C) As leis ruins são a pior espécie de tirania.
- (D) Juízes implacáveis são aqueles que antes foram réus.

8

Nas frases a seguir há várias formas de adjetivos referentes aos substantivos sublinhados.

Assinale a opção em que a forma de adjetivação está identificada **inadequadamente**.

- (A) Como todos os soldados, João também tinha cabelo curto. / adjetivo.
- (B) Apesar de pianista, o artista mostrava mãos grosseiras, rudes. / locução.
- (C) O livro que o professor recomendara, esgotou rapidamente. / oração adjetiva.
- (D) José era considerado um cabeça-de-vento. / substantivo composto.

9

Assinale a frase que **não** exemplifica o caso de um adjetivo com valor adverbial.

- (A) Comecei de cima e trabalhei duro até chegar embaixo.
 (B) Você não aprende a manter firme sua posição no mundo ficando de guarda, mas atacando e sendo atacado.
 (C) Por que com tão curta a vida organizamos tantos projetos?
 (D) Tão rápido foge a vida que toda sorte é boa, em tão breve jornada.

10

Assinale a frase em que as duas ocorrências do vocábulo destacado desempenham a mesma função sintática.

- (A) A coisa mais importante da vida é saber o que é importante.
 (B) A vida é feita de ilusões; entre essas ilusões, algumas triunfam.
 (C) Para que um grande sonho se torne realidade, você precisa primeiro de um grande sonho.
 (D) O planejamento familiar é um sonho que o pai de família traça para ter a ilusão do dinheiro que guarda.

11

Assinale a opção em que a modificação de uma forma reduzida de infinitivo foi adequadamente modificada para uma forma desenvolvida.

- (A) Novos ricos também pesquisam antes de comprar / antes de que comprem.
 (B) O divórcio foi uma chance dada ao meu casamento para eu errar outra vez. / para que eu erre outra vez.
 (C) Ao se divorciar, procurou ficar com os bens. / Quando se divorciasse.
 (D) O casamento parece inventado para recompensar os perversos. / para a recuperação dos perversos.

12

As frases a seguir são compostas de dois segmentos separadas por um sinal de pontuação.

Assinale aquela em que essa pontuação foi **inadequadamente** substituída por um conectivo.

- (A) Não é a maioria que é silenciosa. O governo é que é surdo. / mas.
 (B) Não gosto de pensar que estou envelhecendo. Adoro a ideia de que nasci há muito tempo. / portanto.
 (C) O ilegal é o que fazemos imediatamente. O inconstitucional é o que exige um pouco mais de tempo. / enquanto.
 (D) Não pergunte a seus pais o que podem fazer por você. Eles podem fingir que não ouviram. / pois.

Raciocínio Lógico Matemático

13

Considere a frase:

Se você é cuiabano, então é mato-grossense.

É logicamente equivalente à frase acima, a seguinte proposição:

- (A) *Se você é mato-grossense, então é cuiabano.*
 (B) *Se você é cuiabano, então não é mato-grossense.*
 (C) *Se você não é mato-grossense, então não é cuiabano.*
 (D) *Se você não é cuiabano, então não é mato-grossense.*

14

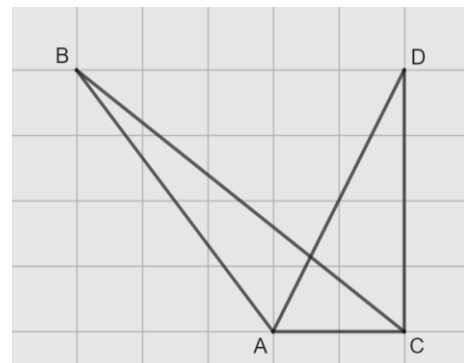
Em uma reunião de uma unidade hospitalar, estavam presentes 8 servidores, sendo 6 médicos e 2 enfermeiros. Todos sentaram-se ao redor de uma mesa redonda.

A quantidade de maneiras distintas de essa mesa pode ser organizada de forma que entre os dois enfermeiros tenha sempre três médicos é

- (A) 120.
 (B) 240.
 (C) 480.
 (D) 720.

15

Na malha quadriculada a seguir, formada por quadrados de lados medindo 1cm, estão representados os triângulos ABC e ACD.



A área do triângulo ABC, em cm^2 , é igual a

- (A) 4,25.
 (B) 4,00.
 (C) 3,75.
 (D) 3,50.

16

Sobre números inteiros, racionais e reais, analise as afirmativas a seguir e assinale (V) para a verdadeira e (F) para a falsa.

- () Há mais números racionais que números inteiros.
 () A soma de dois números irracionais resulta sempre em um número irracional.
 () A dízima periódica $6,999\dots$ é igual ao número inteiro 7.

As afirmativas são, respectivamente,

- (A) F – F – V.
 (B) F – V – V.
 (C) V – F – F.
 (D) V – V – F.

17

Os atendimentos realizados por 6 médicos de uma unidade hospitalar em determinado dia foram registrados. Porém, no fim da semana, percebeu-se que a informação dos atendimentos realizados por um desses médicos foi perdida, conforme a lista apresentada a seguir.

10, 9, 15, 9, X, 12

Sabe-se que, nesse dia, nenhum médico fez menos que 6 e mais que 15 atendimentos e que a média de atendimentos é um número inteiro.

Assim, a mediana da lista é

- (A) 10.
(B) 10,5.
(C) 11.
(D) 11,5.

18

A Federação Mato-grossense de Futebol (FMF) realiza anualmente a competição "Copa FMF" na modalidade masculina. Na edição de 2023, a fase final foi disputada por Cuiabá, Mixto, Nova Mutum e Operário VG em um formato quadrangular, no qual todos se enfrentam apenas uma vez.

Em relação aos gols ocorridos nesta fase, sabe-se que:

- Mixto fez o triplo de gols que tomou;
- Cuiabá e Nova Mutum tomaram 6 gols cada;
- Operário VG fez 1 gol e tomou 2 gols;
- Cuiabá fez um gol a mais que Nova Mutum;
- foram feitos 17 gols no total.

Dessa forma, a quantidade de gols feitos pela equipe Nova Mutum foi igual a

- (A) 5.
(B) 4.
(C) 3.
(D) 2.

19

A serviço de uma unidade do Sistema Único de Saúde há três veículos: um automóvel, um ônibus e uma van. Um deles tem a cor azul, outro tem a cor amarela e outro tem a cor verde.

Das afirmativas a seguir, apenas uma é verdadeira:

- I. O automóvel é verde.
II. O ônibus não é amarelo.
III. A van não é verde.

Assim, é correto afirmar que

- (A) o automóvel é amarelo.
(B) o automóvel é azul.
(C) o ônibus é verde.
(D) a van é amarela.

20

Em uma fábrica de desfibriladores, foi verificado que eram necessários 8 dias para produzir determinada quantidade de aparelhos, usando a mão de obra de 6 trabalhadores por 4 horas em cada dia.

Para reduzir o tempo de produção para 2 dias, será necessário:

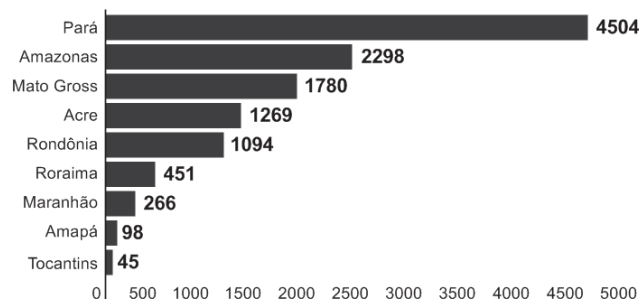
- (A) duplicar o número de trabalhadores.
(B) triplicar o número de horas trabalhadas por dia.
(C) duplicar o número de horas trabalhadas por dia.
(D) duplicar o número de trabalhadores e o número de horas trabalhadas por dia.

História Política e Econômica e Geografia de Mato Grosso

21

Analise o gráfico a seguir.

Risco de desmatamento por estado em 2023 (km²)



Fonte: <https://g1.globo.com/mt/mato-grosso/noticia/2023/01/18/mt-e-o-3o-estado-com-maior-risco-de-desmatamento-em-2023-aponta-imazon.ghtml>. Adapt.

De acordo com o gráfico, o Estado de Mato Grosso é o terceiro estado brasileiro com maior risco de desmatamento na Amazônia.

Analise as afirmativas a seguir sobre os fatores que concorrem para esse fenômeno.

- I. A prática agrícola é um dos fatores que contribui para a aceleração dos processos erosivos do solo e do desmatamento. Isso ocorre devido ao emprego, de técnicas agrícolas extensivas, com a retirada de vegetação para a instalação de grandes lavouras monocultoras.
- II. A prática do garimpo ilegal gera diversos impactos ambientais, como o desmatamento, por meio da retirada de vegetação nativa, seja para estabelecer acessos às áreas ricas em minerais, seja para criar espaços destinados à própria atividade de mineração.
- III. A demarcação de terras indígenas no Estado contribui para o desmatamento, uma vez que o processo envolve a utilização de madeira para a construção de residências tradicionais e a exploração dos recursos naturais para fins de subsistência.

Está correto o que se afirma em

- (A) I, apenas.
(B) I e II, apenas.
(C) I e III, apenas.
(D) II e III, apenas.

22

Sobre os biomas mato-grossenses e suas respectivas localizações conforme a organização espacial do estado, analise as afirmativas a seguir e assinale (V) para a verdadeira e (F) para a falsa.

- () O bioma Amazônico é caracterizado pela vegetação densa da floresta tropical; está presente no norte do Estado e um dos seus espaços é a microrregião de Sinop.
() O bioma Cerrado é caracterizado pela vegetação composta de árvores baixas e com plantas com raízes profundas; está presente na mesorregião do Centro-Sul Mato-grossense.
() O bioma Pantanal é caracterizado por suas extensas áreas alagadas e pela planície aluvial; está presente na mesorregião Centro-sul do estado, englobando os municípios de Cáceres e Poconé.

As afirmativas são, na ordem apresentada, respectivamente,

- (A) V – V – F.
(B) V – F – V.
(C) F – V – F.
(D) V – V – V.

23

Analise os trechos a seguir.

I. Código Civil dos Estados Unidos do Brasil, de 1916

Art. 6º. São incapazes, relativamente a certos atos (Art. 147, inciso I), ou à maneira de os exercer:

IV - os silvícolas.

Parágrafo único. Os silvícolas ficarão sujeitos ao regime tutelar, estabelecido em leis e regulamentos especiais, e que cessará à medida de sua adaptação.

II. Lei nº 6.001 de 1973

Art. 2º. *Cumpra à União, aos Estados e aos Municípios, bem como aos órgãos das respectivas administrações indiretas, nos limites de sua competência, para a proteção das comunidades indígenas e a preservação dos seus direitos: II - prestar assistência aos índios e às comunidades indígenas ainda não integrados à comunhão nacional; VI - respeitar, no processo de integração do índio à comunhão nacional, a coesão das comunidades indígenas, os seus valores culturais, tradições, usos e costumes; VIII - utilizar a cooperação, o espírito de iniciativa e as qualidades pessoais do índio, tendo em vista a melhoria de suas condições de vida e a sua integração no processo de desenvolvimento.* (Adaptado.)

III. Constituição Federal de 1988

Art. 231. São reconhecidos aos índios sua organização social, costumes, línguas, crenças e tradições, e os direitos originários sobre as terras que tradicionalmente ocupam, competindo à União demarcá-las, proteger e fazer respeitar todos os seus bens.

Sobre a questão indígena no Brasil, de acordo com os trechos, assinale a afirmativa que interpreta corretamente os princípios que orientaram os marcos normativos mencionados.

- (A) Em I, a integração das comunidades indígenas à sociedade brasileira é preconizada por meio de um regime tutelar, que os considerava como indivíduos não plenamente desenvolvidos; em II, a autonomia dos indígenas é garantida por meio do direito à escolha de manter seu isolamento.
- (B) Em I, a autonomia das populações indígenas é assegurada pela concessão de agência individual, reconhecendo-as como capazes de resolver seus próprios conflitos territoriais; em II, a autonomia é manifestada pela isenção do poder federal de qualquer responsabilidade na garantia de seus direitos.
- (C) Em II, a preservação das comunidades indígenas se dá mediante o respeito pelo isolamento como uma medida para prevenir a propagação de doenças e evitar o extermínio; em III, a conservação da diversidade étnica e cultural dos indígenas é garantida por meio da criação de reservas.
- (D) Em II, a integração dos indígenas à sociedade brasileira é prevista por práticas de assimilação, que entendiam seus modos de vida como uma condição transitória; em III, os direitos dos indígenas são reconhecidos pela liberdade de organização sociocultural, responsabilizando o Estado Brasileiro de proteger suas terras.

24

O Estado do Mato Grosso destaca-se tanto nacional quanto internacionalmente por sua significativa produção agrícola.

A respeito do escoamento dos excedentes destinados à exportação, assinale a afirmativa correta.

- (A) O transporte ferroviário é a principal opção, da qual depende o Estado para o envio de sua produção para os portos da Região Sul.
- (B) O transporte hidroviário é ineficiente, visto que sua aplicação se restringe apenas à manutenção das conexões internas do Estado.
- (C) O transporte rodoviário, principalmente a rodovia BR 364, permite transportar a produção até o Estado de São Paulo, alcançando o porto de Santos.
- (D) O transporte rodoviário, principalmente a rodovia BR 163, permite a entrega da soja para o Rio de Janeiro, principal mercado consumidor.

25

A Capitania de Mato Grosso é uma das mais importantes de todo o Brasil, tanto pela sua extensão e pelas sabidas, mas ainda intactas riquezas, que guardam os seus vastíssimos sertões, como por ser fronteira ao vasto, populoso e rico Peru.

Adaptado de: Reflexões sobre o estado atual da capitania de Mato Grosso, combinando com os domínios espanhóis que lhe são confinantes, em: Serra, Ricardo, Reflexões sobre a Capitania de Mato Grosso, Cuiabá: IHGMT, 2002, p. 12.

A respeito do contexto da criação da Capitania de Mato Grosso e da delimitação de suas fronteiras, assinale a afirmativa correta.

- (A) A fronteira sul com a cidade de Assunção, que estava sob domínio espanhol, desempenhava um papel crucial na proteção do interior do território brasileiro.
- (B) A fronteira oriente com a capitania de Goiás, então no auge de sua produção de cana de açúcar, atuava como ponto de contato para trocas comerciais entre as duas regiões.
- (C) A fronteira leste com a capitania de São Paulo, representou o cumprimento do estabelecido pelo Tratado de Tordesilhas, que concedeu a posse da região centro oeste aos portugueses.
- (D) A fronteira norte com a capitania de Rondônia revelava-se estratégica para a exploração e tráfico da borracha e permitia uma conexão vital com os mercadores europeus.


26

A respeito da guerra entre a Tríplice Aliança e o Paraguai, assinale a afirmativa que descreve corretamente o envolvimento de Mato Grosso no conflito.

- (A) Os antecedentes do conflito são marcados pela assinatura do Tratado da Tríplice Aliança, o qual legitimava a guerra contra o Paraguai e designava Mato Grosso como capital da bacia platina, devido à sua extensa ocupação populacional.
- (B) No início do conflito, ocorreu a invasão paraguaia a Mato Grosso, que não encontrou dificuldade em ocupá-lo devido à precária defesa do território brasileiro.
- (C) Durante o conflito, a reconquista do território do Mato Grosso pelo Brasil foi facilitada pela acessibilidade à região, tanto por redes viárias quanto pelas rotas navegáveis.
- (D) O desfecho do conflito resultou na vitória brasileira, que retomou o território mato-grossense, que apesar de conquistado, jamais foi ocupado pelos paraguaios devido às ofensivas dos índios e às epidemias locais.

27

Analise a imagem a seguir.



Fonte: <https://g1.globo.com/ac/acre/noticia/2019/08/06/revolucao-acre-ana-charges-e-chronicas-tratavam-acre-como-um-estorvo-para-nacao.ghtml>

A charge ilustra o Barão do Rio Branco carregando uma bomba com a inscrição “Acre”, enquanto outro personagem, posicionado atrás, acende o pavio. A legenda diz: “— Cuidado, barão! Com esta bomba nem S. Pedro com seus tiros o salvará.”

Sobre as medidas estabelecidas pelo Tratado de Petrópolis, assinado entre o Brasil e a Bolívia, que resultou na incorporação do Acre ao território brasileiro, assinale a afirmativa correta.

- (A) Proibiu a navegação boliviana nos confluente brasileiros, encerrando a saída da Bolívia ao Oceano Atlântico.
- (B) Autorizou o acesso boliviano ao território brasileiro, estipulando que seria de responsabilidade da Bolívia construir uma ferrovia para facilitar sua mobilidade.
- (C) Concedeu permissão para o estabelecimento de agentes bolivianos nas alfândegas comerciais brasileiras na região de fronteira entre os dois países.
- (D) Desalojou colonos bolivianos da região, especialmente os que dependiam de atividades extrativistas, sem que o Brasil indenizasse o governo boliviano pela perda do território.

28

Deve-se promover a integração da península do Centro-Oeste brasileiro, equipando-a de meios que lhe permitam desempenhar seu duplo papel de sólida plataforma para um transbordamento sobre a Hileia ou para ações visando a contrapor-se ao avanço para o norte de um imperialismo platino.

Fonte: SILVA, Golbery do Couto e. Conjuntura política nacional: o poder executivo & geopolítica do Brasil. Brasília: Ed. UnB, 1981. (Coleção Temas Brasileiro, n. 7). Citado por Cavalcanti, Marcelo; Barreira, Celene. Ações da Sudeco no desenvolvimento do Centro-Oeste, B. goiano, geogr. Goiânia, v. 31, n. 2, 2011, p. 180.

As afirmativas a seguir descrevem corretamente os objetivos da Superintendência de Desenvolvimento do Centro-Oeste (SUDECO) durante a ditadura militar brasileira, **à exceção de uma**. Assinale-a.

- (A) Estimular o processo de industrialização na região, visando criar polos industriais capazes de competir com os centros empresariais do Sudeste.
- (B) Ocupar as áreas da região identificadas como “vazios estratégicos”, consideradas suscetíveis à influência comunista.
- (C) Promover a integração regional com outras partes do território brasileiro por meio do desenvolvimento de infraestrutura rodoviária.
- (D) Fomentar a mecanização e a modernização da agricultura para impulsionar a ocupação produtiva da fronteira agrícola.

Noções de Administração Pública, Ética, Filosofia e Atualidades

29

A pirâmide de Maslow foi uma das primeiras teorias desenvolvidas para entender o sentido da motivação.

De acordo com essa teoria, assinale a afirmativa correta.

- (A) Os seres humanos são estimulados por uma sequência de necessidades, devendo ocorrer a satisfação das necessidades mais básicas antes de se aspirarem as outras.
- (B) Os indivíduos são naturalmente preguiçosos, demandando, por isso, mecanismos de controle rígidos para o bom desempenho.
- (C) As pessoas são incentivadas pela percepção de justiça em seu ambiente, comparando suas recompensas e retribuições com a de seus pares.
- (D) Os sujeitos tendem a ser encorajados por atividades que são vistas como alcançáveis, conforme as suas capacidades.

30

O momento em que o aprovado em um concurso público é investido em cargo público, mediante a aceitação expressa das responsabilidades inerentes à função, é conhecido como posse. No entanto, é apenas no exercício que o servidor desempenha efetivamente suas atribuições.

Com relação ao disposto na Lei Complementar nº 04/1990, que dispõe sobre os servidores do Estado de Mato Grosso, é correto afirmar que, o servidor deve entrar em exercício

- (A) imediatamente após a posse.
- (B) até 5 dias após a posse.
- (C) até 20 dias após a posse.
- (D) até 30 dias após a posse.

31

Como regra geral, a contratação de pessoa na Administração Pública deve ocorrer por prazo indeterminado. No entanto, algumas situações de excepcionalidade permitem que sejam realizadas contratações em caráter temporário.

Com base nisso, analise as afirmativas a seguir.

- I. Combater surtos epidêmicos.
- II. Realizar o recenseamento.
- III. Permitir a execução de serviço, nas áreas de pesquisa científica, por profissional de notória especialização.

Em conformidade com a Lei Complementar nº 04/1990, assinale a opção que indica a(s) situação(ões) que permite(m) contratação temporária.

- (A) I, apenas.
- (B) I e II, apenas.
- (C) II e III, apenas.
- (D) I, II e III.

32

Em uma situação hipotética, determinado servidor do Estado do Mato Grosso, pertencente à Secretaria de Saúde, cometeu falta punível com cassação de aposentadoria.

Nesse caso, com base na Lei Complementar nº 04/1990, a autoridade que deve aplicar a respectiva penalidade ao servidor é o

- (A) Governador do Estado.
- (B) chefe da repartição do servidor.
- (C) Presidente do Tribunal de Contas do Estado.
- (D) Corregedor-geral do Estado.

33

Max Weber diferencia a ética da convicção da ética da responsabilidade.

A esse respeito, analise as afirmativas a seguir e assinale (V) para a verdadeira e (F) para a falsa.

- () A ética da responsabilidade é a que tem como preocupação central as consequências das ações realizadas.
- () A ética da convicção é a mais apropriada para a função pública, pois independe de variações individuais.
- () A ética da responsabilidade baseia-se nas predisposições éticas dos agentes e espera deles um elevado senso moral.

As afirmativas são, respectivamente,

- (A) F – V – F.
- (B) F – V – V.
- (C) V – F – F.
- (D) V – V – F.

34

O instituto da cidadania estabelece direitos e deveres para os indivíduos pertencentes à determinada sociedade. Esses direitos podem ser divididos em civis, políticos e sociais.

Assinale a opção que exemplifica corretamente os direitos sociais.

- (A) Direito à vida e à liberdade.
- (B) Direito à representação política.
- (C) Direito à propriedade privada.
- (D) Direito à saúde e à moradia.

35

Um funcionário do governo fica responsável pela distribuição de recursos limitados em uma pequena cidade e se depara com um dilema moral. Uma enchente atingiu a região e ele precisa decidir como alocar os recursos de emergência. Há dois grupos que precisam urgentemente de ajuda: um é um orfanato com várias crianças, e o outro, um hospital que atende a toda a comunidade. Ambos estão em situações críticas e os recursos não são suficientes para atender às necessidades de ambos.

Na situação acima, é correto afirmar que o funcionário aderiu a uma ética utilitarista se ele optou por

- (A) agir conforme o dever e o princípio moral de direcionar a ajuda para o grupo mais desfavorecido.
- (B) tomar o caminho de ação capaz de favorecer o maior número possível das pessoas afetadas.
- (C) conduzir a situação do modo mais compatível possível com o cultivo coletivo das virtudes cívicas.
- (D) atuar de maneira a distribuir os recursos equitativamente, sem favorecer ou preterir nenhuma das partes.

36

Com relação ao Estatuto dos Servidores Públicos do Estado do Mato Grosso (Lei Complementar nº 04/1990), associe cada forma de provimento de cargo público à sua descrição.

1. Reversão
 2. Recondução
 3. Readaptação
 4. Reintegração
- () O servidor aposentado por invalidez retorna à atividade ao serem declarados insubsistentes os motivos da aposentadoria.
 - () O servidor passa a assumir responsabilidades e atribuições compatíveis com uma limitação física ou mental sofrida.
 - () O servidor retorna a um cargo anteriormente ocupado, por exemplo, devido à inabilitação em estágio probatório.
 - () O servidor retorna ao cargo anteriormente ocupado devido a uma invalidação de uma anterior demissão.

Assinale a opção que indica a relação correta, segundo a ordem apresentada.

- (A) 1 – 3 – 2 – 4.
- (B) 1 – 4 – 2 – 3.
- (C) 4 – 2 – 3 – 1.
- (D) 4 – 3 – 2 – 1.

Legislação do SUS + Plano Nacional de Atenção Básica à Saúde

37

Assinale a opção que apresenta, corretamente, um objetivo do Sistema Único de Saúde – SUS.

- (A) Integração em nível executivo das ações de saúde, meio ambiente e saneamento básico.
- (B) Organização dos serviços públicos de modo a evitar duplicidade de meios para fins idênticos.
- (C) Identificação e divulgação dos fatores condicionantes e determinantes da saúde.
- (D) Capacidade de resolução dos serviços em todos os níveis de assistência.

38

Assinale a opção que apresenta o princípio que foi acrescentado ao Sistema Único de Saúde, em 2023.

- (A) Organizar atendimento público específico e especializado para mulheres e vítimas de violência doméstica em geral.
- (B) Divulgar informações quanto ao potencial dos serviços de saúde e da sua utilização pelo usuário.
- (C) Utilizar a epidemiologia para estabelecer prioridades, a alocação de recursos e a orientação programática.
- (D) Proteger integralmente os direitos humanos de todos os usuários e, em especial, identificar maus-tratos, negligência e violência sexual praticados contra crianças e adolescentes.

39

Com base nas disposições da Lei nº 8.080/90 acerca do acompanhamento à mulher nos serviços de saúde, analise as afirmativas a seguir e assinale (V) para a verdadeira e (F) para a falsa.

- () Em consultas, exames e procedimentos realizados em unidades de saúde públicas ou privadas, toda mulher tem o direito de fazer-se acompanhar por pessoa maior de idade, durante todo o período do atendimento, independentemente de notificação prévia.
- () Em caso de atendimento com sedação, a eventual renúncia da paciente ao direito de acompanhante deverá ser feita por escrito, após o esclarecimento dos seus direitos, com no mínimo 24 (vinte e quatro) horas de antecedência, assinada por ela e arquivada em seu prontuário.
- () Em casos de urgência e emergência, os profissionais de saúde ficam autorizados a agir na proteção e defesa da saúde e da vida da paciente, ainda que na ausência do acompanhante requerido.

As afirmativas são, respectivamente,

- (A) F – V – F.
- (B) V – V – V.
- (C) F – F – V.
- (D) V – F – V.

40

Com base na organização dos níveis de assistência à saúde, assinale a opção que apresenta a um serviço da *atenção terciária*.

- (A) Unidade de Transplante Renal.
- (B) Ambulatório de Neurologia.
- (C) Serviço de Ressonância Magnética.
- (D) Unidades de Pronto Atendimento.

41

Os Programas de Qualidade de Vida e Saúde para os Trabalhadores da Saúde e o Colegiado Gestor fazem parte do seguinte elemento da Política Nacional de Humanização.

- (A) Valores.
- (B) Princípios.
- (C) Diretrizes.
- (D) Dispositivos.

42

Com base nos Requisitos de Boas Práticas de Funcionamento para os Serviços de Saúde, analise as afirmativas a seguir e assinale (V) para a verdadeira e (F) para a falsa.

- () Em serviços de saúde com mais de vinte trabalhadores é obrigatória a instituição de Comissão Interna de Prevenção de Acidentes - CIPA.
- () O serviço de saúde deve garantir que o prontuário contenha registros relativos à identificação e todos os procedimentos prestados ao paciente.
- () O serviço de saúde deve garantir que os trabalhadores sejam avaliados, no mínimo, uma vez ao ano em relação à saúde ocupacional.

As afirmativas são, respectivamente,

- (A) V – V – V.
- (B) F – V – F.
- (C) V – V – F.
- (D) V – F – F.

43

De acordo com a Carta dos Direitos e Deveres da Pessoa Usuária da Saúde, assinale a afirmativa correta.

- (A) O usuário tem direito a acompanhante, pessoa de sua livre escolha, nas consultas e exames.
- (B) O atendimento nos serviços de saúde deve ser sempre com hora marcada.
- (C) O usuário tem liberdade de procurar parecer de outro profissional, exceto em casos com impedimento legal.
- (D) Toda pessoa previamente cadastrada tem direito a participar dos conselhos e das conferências de saúde.

44

De acordo com as disposições normativas acerca da segurança do paciente, os eventos adversos que evoluírem para óbito devem ser notificados em até

- (A) 12 horas, a partir do ocorrido.
- (B) 24 horas, a partir do ocorrido.
- (C) 48 horas, a partir do ocorrido.
- (D) 72 horas, a partir do ocorrido.

45

Com base nas disposições da Lei nº 8.142/90, analise as afirmativas a seguir.

- I. O Conselho de Saúde é um órgão colegiado responsável por avaliar a situação de saúde e propor diretrizes para formulação da política de saúde.
- II. Um dos requisitos para que Estados e Municípios recebam os recursos destinados à cobertura das ações e serviços de saúde é a elaboração do Plano de Saúde.
- III. Os Municípios poderão estabelecer consórcio para execução de ações e serviços de saúde.

Está correto o que se afirma em

- (A) I, apenas.
- (B) II e III, apenas.
- (C) I e II, apenas.
- (D) I e III, apenas.

46

Conforme disposições sobre a organização do SUS, o conjunto de ações e serviços de saúde, articulados em níveis de complexidade crescente com a finalidade de garantir a integralidade da assistência à saúde, corresponde ao(à)

- (A) Mapa de Saúde.
- (B) Região de Saúde.
- (C) Rede de Atenção à Saúde.
- (D) Serviços Especiais de Acesso Aberto.

CONHECIMENTOS ESPECÍFICOS

47

Os meios de comunicação, embora não consigam impor ao público o que pensar em relação a um determinado tema, são capazes de, a médio e longo prazos, influenciar sobre o que pensar ou sobre o que falar.

Essa perspectiva está alinhada com o proposto pela

- (A) Teoria da Agulha Hipodérmica.
- (B) Teoria do Espelho.
- (C) Hipótese do Enquadramento.
- (D) Hipótese do Agendamento.

48

Sobre as teorias propostas por Lasswell e por Shannon e Weaver, leia o texto a seguir.

A fórmula de Lasswell possui uma estreita ligação com o outro modelo comunicativo na Mass Communication Research, o da Teoria da Informação. Os dois modelos se caracterizam pelo (a) _____, pela pré-definição de papéis, pelo congelamento e _____ do processo. Se, no caso da Teoria da Informação, a preocupação incide sobre a eficácia do (a) _____ - cálculo da quantidade de informação, entropia, ruído -, na "questão-programa" de Lasswell o centro do problema está nos efeitos provocados pelos (as) _____ (ou pelos meios de comunicação) e a ênfase sobre a técnica é _____.

Assinale a alternativa que apresenta os termos que completam corretamente o texto acima.

- (A) flexibilidade – sistematização – mensagem – interações – equivalente.
- (B) unidirecionalidade – simplificação – canal – mensagens – menor.
- (C) feedback – complexidade – notícia – canais – maior.
- (D) bidirecionalidade – esquematização – emissor – receptores – superdimensionada.

49

Sobre o conceito de Indústria Cultural, Avalie as afirmativas a seguir.

- I. É atribuído a Theodor Adorno e Max Horkheimer, pensadores da Escola de Frankfurt, que criticam a exploração mercantil da cultura.
- II. Pode ser usado como sinônimo de cultura de massa, produzida e veiculada por diversas camadas sociais, segundo seu gosto médio.
- III. Valoriza o capitalismo como o ambiente ideal para restauração da aura das obras de arte mediante a sua massificação.

Está correto o que se afirma em

- (A) I apenas.
- (B) II apenas.
- (C) III apenas.
- (D) I e III, apenas.

50

A Agência Lupa testou recentemente os serviços de geração de imagens por inteligência artificial de Microsoft (Copilot), Adobe (Firefly) e Midjourney. Observe as imagens obtidas a partir dos *prompts*. Os dois primeiros mostram resultados obtidos com o Copilot e o terceiro, uma comparação das três ferramentas a partir do mesmo *prompt*.



Com base nos resultados, assinale a afirmativa correta.

- (A) Os *prompts* utilizados refletem preconceitos estruturais, por isso geraram imagens que reforçam os estereótipos de gênero e raça.
- (B) As ferramentas de IA generativas não reproduzem viés sexista, na medida em que valorizam a mulher como cuidadora da família.
- (C) Os resultados podem ser reflexo da base de dados utilizada por esses serviços, que obedecem a padrões enviesados dos criadores desses programas.
- (D) As ferramentas de IA pesquisadas apenas selecionam e entregam ao usuários as imagens já disponíveis em uma pequena base de dados, daí o resultado enviesado.

51

O primeiro telejornal brasileiro a ser transmitido em rede nacional foi o

- (A) *Repórter Esso*, pela Rede Tupi de Televisão, em 1970.
- (B) *Imagens do Dia*, pela Rede Tupi de Televisão, em 1950.
- (C) *Jornal Nacional*, pela Rede Globo, em 1969.
- (D) *TeleGlobo*, pela Rede Globo, em 1965.

52

Sobre o programa radiofônico *A Voz do Brasil*, leia o texto a seguir. *A Voz do Brasil, chamada em sua estreia em 1934 de _____, dividia-se então entre uma parte falada e outra musical. Na primeira eram reunidas informações _____, noticiário local _____, dos Estados e Municípios, noticiário enviado pela Seção Brasileira do Office of the Coordinator of Inter-American Affairs (Ociao) e ainda crônicas sobre economia, indústria, política e história do Brasil. Ou seja, mesmo antes da consolidação do radiojornalismo no Brasil, já havia veiculação de fatos noticiosos no programa, ainda que não com formatos _____, em textos protocolares e oficiais. Já a parte musical era dedicada à música _____ e, em menor medida, à _____.*

Souza apud Silva, 2020. (adaptado).

Assinale a alternativa que apresenta os termos que completam corretamente as lacunas do texto acima.

- (A) *Hora do Brasil* – da Presidência – da capital – institucionais – popular – clássica.
- (B) *Conexão Brasil* – dos Três Poderes – do Distrito Federal – publicitários – folclórica – instrumental.
- (C) *Programa Nacional* – governamentais – do Rio de Janeiro – jornalísticos – orquestral – popular.
- (D) *Repórter Nacional* – institucionais – de São Paulo – propagandísticos – regional – nacional.

53

Sobre as informações que circulam nas redes sociais digitais e sua relação com a formação da opinião pública, avalie as afirmativas a seguir.

- I. Os algoritmos ganham cada vez mais importância na seleção de informações que serão consideradas relevantes pelos usuários das redes sociais digitais, o que impacta na formação da opinião;
- II. A circulação de informações nas redes sociais digitais obedece aos mesmos princípios da que ocorre nos meios de comunicação de massa, logo as metodologias de pesquisa de opinião permanecem válidas independentemente do meio de difusão;
- III. As informações que circulam nas redes sociais digitais tornam-se cada dia menos relevantes se comparadas com as veiculadas pelos meios de comunicação de massa e pouco impactam a formação da opinião pública.

Está correto o que se afirma em

- (A) I apenas.
- (B) II apenas.
- (C) III apenas.
- (D) I e III, apenas.

54

Os ministros do Tribunal Superior Eleitoral (TSE) aprovaram em fevereiro, novas resoluções para as eleições municipais de 2024, com objetivo de orientar partidos, coligações, federações partidárias, candidatos e eleitores sobre os procedimentos previstos na legislação eleitoral.

Sobre o uso de novas tecnologias nesse contexto, analise as afirmativas a seguir.

- I. Partidos ou candidatos que produzirem material de campanha usando inteligência artificial deverão usar um rótulo de identificação para alertar o eleitor que o conteúdo foi criado a partir de uma ferramenta de IA.
- II. Os únicos responsáveis pelo conteúdo são aqueles que os criam e compartilham, estando os provedores isentos de qualquer responsabilidade sobre a indisponibilização imediata de determinados conteúdos e contas, durante o período eleitoral.
- III. As peças de propaganda eleitoral estão proibidas de usar conteúdo fabricado ou manipulado para difundir fatos inverídicos ou descontextualizados com potencial para causar danos ao equilíbrio do pleito ou à integridade do processo eleitoral.

Está correto o que se afirma em

- (A) I apenas.
- (B) II apenas.
- (C) III apenas.
- (D) I e III, apenas.

55

O tipo de entrevista, comum no jornalismo de revista, que apresenta textualmente a sequência de perguntas do entrevistador e as respostas do entrevistado, é conhecida, no jargão jornalístico, como

- (A) Povo-fala.
- (B) Pingue-pongue.
- (C) Bate-volta.
- (D) Enquete.

56

Leia o trecho a seguir, publicado em março de 2024, no jornal *O Globo*.

“O segurança de Copacabana

Não é fácil entrar numa agência bancária no bairro da diversidade. A palavra-chave para enfrentar o trâmite é maciota. Tem que levar na maciota.

Por Leo Aversa — Rio de Janeiro

A porta travou. Coloquei o celular e as chaves no escaninho, o segurança me olhou por dois segundos e liberou a entrada. Pronto, estou numa agência bancária em Copacabana. Ainda tenho que esperar a minha mãe chegar, precisamos atualizar a nossa conta conjunta. Em vez de pegar o celular para me distrair e acabar me enfurecendo com os flanelinhas de ódio nas redes sociais, prefiro observar o segurança que controla a porta giratória.

Este, sim, é um trabalho difícil.

O detector de metais está ali para evitar os bandidos. O problema é que todo mundo carrega algum metal, sejam chaves, sejam moedas ou um celular, então a porta trava toda hora. Dá confusão, ninguém gosta de ser confundido com bandido. E agora? Quem segura esse rojão?

O segurança, claro. É ele que leva a culpa se entrar um ladrão ou é xingado se for barrada uma pessoa que só queria pagar uma conta. Se der ruim, “o colaborador foi desligado” será a resposta padrão. Porém, o segurança desta agência em Copacabana já pegou a malandragem do bairro. Aprendeu a lidar com a fauna local.

Vejam bem: não é que Copacabana tenha muita diversidade. Copacabana simplesmente inventou a diversidade. Se o segurança ficar esperando que o bandido apareça trajado de bandido como nas séries dos streamings, ele não dura um dia no emprego. Em Copa, cada caso é um caso. (...)”

Esse tipo de texto caracteriza um(a)

- (A) reportagem.
- (B) artigo.
- (C) crônica.
- (D) editorial.

57

Mário Erbolato identifica mais de dez tipos de *lead* no jornalismo brasileiro, entre eles, o *lead flash*, definido como uma “introdução lacônica de uma notícia”, que pode ser encontrada na opção

- (A) Estudantes paulistas prometem para a tarde de amanhã novos atos de protesto pelas ruas centrais da capital, e além dessa passeata, pretendem realizar comícios para denunciar a indiscriminada criação de faculdades de fins de semana.
- (B) Estudantes da capital prometem novos atos de protesto, amanhã, contra criação de faculdades de fins de semana.
- (C) “Vamos botar pra quebrar”, anunciou o líder estudantil João da Silva sobre as manifestações, previstas para amanhã à tarde nas ruas centrais da capital em protesto pela criação de faculdades de fins de semana.
- (D) “Quem com ferro fere, como ferro será ferido”, declarou o líder estudantil João da Silva para justificar a reação violenta dos estudantes secundaristas durante os protestos realizados ontem, pelas ruas centrais da capital, em oposição à criação de faculdades de fins de semana.

58

Segundo a professora Dulcilia Buitoni, a foto de imprensa pode ser categorizada como foto jornalística propriamente dita (I) e fotoilustração (II).

Analise as capas da Revista Veja a seguir e assinale a opção que indica a foto que pertence à primeira categoria.

(A)



(B)



(C)



(D)



59

O editor de um telejornal de abrangência nacional foi um dos profissionais a receber um *release* informando que um grupo de pesquisadores acabara de descobrir uma nova espécie de planta, disponível na Mata Atlântica, nunca antes documentada. Devido às suas características únicas e potencial para avanços na pesquisa sobre a prevenção de Alzheimer, ele resolveu investir na apuração e posterior publicação da matéria.

Sua decisão está baseada fundamentalmente nos valores-notícia que integram a categoria

- (A) substantiva.
- (B) relativa à concorrência.
- (C) relativa ao meio de informação.
- (D) relativa ao produto.

60

De acordo com o projeto gráfico-editorial, os jornais são impressos em diversos formatos, como os a seguir, à exceção de um. Assinale-o.

- (A) Berliner.
- (B) Tabloide.
- (C) Luminar.
- (D) Standard.

61

O parágrafo introdutório que retarda a entrada no assunto específico do texto e que, por ser um sinal de prolixidade, é desaconselhado na redação jornalística, é conhecido no jargão profissional como

- (A) *Lead*.
- (B) *Sub-lead*.
- (C) Nariz de Cera.
- (D) Barriga.

62

Ao apresentar o conceito de “Pirâmide Deitada”, João Canavilhas, propõe quatro níveis de leitura, a saber: 1. Unidade Base; 2. Nível de Explicação; 3. Nível de Contextualização e 4. Nível de Exploração.

Assinale a opção que indica o nível que, no jornalismo *online*, liga a notícia ao arquivo da publicação ou a arquivos externos a ela.

- (A) O de Exploração.
- (B) O de Contextualização.
- (C) O de Explicação.
- (D) O da Unidade Base.

63

Um assessor de imprensa de um órgão público é procurado por um jornalista de um grande veículo de mídia solicitando informações confidenciais sobre um projeto controverso em desenvolvimento na instituição. O repórter demonstra dispor de diversas informações erradas sobre o projeto.

Nesse caso, o assessor deve

- (A) corrigir as informações erradas que o repórter tem, fornecer os detalhes corretos que podem ser de conhecimento público e se oferecer para buscar as respostas a outras perguntas que o jornalista possa ter.
- (B) ignorar o contato do repórter e ligar para o editor do veículo solicitando a não publicação da matéria, pois ela está mal apurada.
- (C) fornecer as informações corretas e as confidenciais apenas ao editor do veículo, solicitando garantias de que a matéria será publicada com destaque e corretamente.
- (D) dizer ao jornalista que ele está errado e que, portanto, deve desistir de publicar qualquer matéria sobre aquela pauta e, em substituição, oferecer um *release* sobre outro tema, exigindo que seja publicado na íntegra.

64

Os assessores que apostam no *media training* acreditam que os dirigentes que absorvem a essência dos seus ensinamentos melhoram a comunicação, pois

- (A) insistem na divulgação de algo que não tem apelo jornalístico.
- (B) minimizam riscos e enfrentam situações de crise de maneira mais eficiente.
- (C) demandam que os assessores negociem anúncios com os editores dos veículos de comunicação para “derrubar” matérias e pautas negativas para a empresa.
- (D) exigem revisar as matérias e saber com antecedência o que vai ser veiculado.

65

Leia um trecho do artigo “*Ofensas a crianças nas redes reabre debate sobre exposição infantil*”, publicado em novembro de 2023, no site do Programa EducaMídia.

“No fim de outubro, a socialite estadunidense Paris Hilton publicou a primeira foto de Phoenix, de 9 meses, no Instagram e recebeu uma enxurrada de comentários terríveis falando sobre o tamanho da cabeça da criança, muitos dos quais tiravam sarro do menino e apontavam uma suposta negligência médica por parte dela. Por aqui, os influenciadores e ex-BBBs Viih Tube e Eliezer vêm falando há meses sobre a gordofobia que Lua, filha de 7 meses do casal, sofre nas mídias sociais, com mensagens extremamente maldosas. Situações como essas revelam o potencial tóxico das plataformas digitais, uma vez que crianças muito pequenas, que simplesmente não podem se defender, sofrem agressões sistemáticas de anônimos.”

Nada justifica esse tipo de comportamento agressivo, contudo ele levanta o debate sobre o compartilhamento (muitas vezes excessivo) de imagens dos filhos e filhas na internet, fenômeno conhecido como

- (A) *Sharenting*.
- (B) *Cyberbullying*.
- (C) *Kidstagramming*.
- (D) *Deepfake*.

66

Para que os *releases* tenham mais chances de aproveitamento pelos veículos de comunicação, eles devem atender aos critérios apresentados a seguir, **a exceção de um**. Assinale-o.

- (A) Utilizar fontes credíveis e disponíveis para mais esclarecimentos, caso o repórter demande.
- (B) Oferecer conteúdo de interesse do público-alvo do veículo de comunicação.
- (C) Conter informações relevantes oferecidas com exclusividade para o veículo de comunicação.
- (D) Ter um texto atraente, em formato publicitário, divulgando as ações mais recentes da empresa.

67

Leia o texto abaixo sobre a relação entre o *clipping* e a auditoria de imagem.

Embora o clipping seja importante, é preciso deixar claro que a avaliação da interação com veículos e jornalistas não se esgota nele. O clipping não é tudo, porque não representa a reprodução exata do trabalho do (a) _____, mas sua versão mediada pelos _____. Como unidade isolada, o clipping não agrega valor ao trabalho de relacionamento com a _____, porque ele só gera conhecimento quando comparado, enquanto produto, ao processo global que lhe deu origem (a coletiva, o release, a entrevista da fonte, o “kit de imprensa” etc.). Já a auditoria de imagem representa uma análise muito mais _____ e, geralmente, reporta-se a determinado período de cobertura da mídia e não à análise de um fato singular. Comumente e, talvez seja fundamental que isso ocorra, incorpora não apenas a análise do cliente em particular, mas também de seus _____, porque é difícil avaliar a eficácia de um trabalho, sem ter qualquer referência para a comparação.

(BUENO in DUARTE, adaptado).

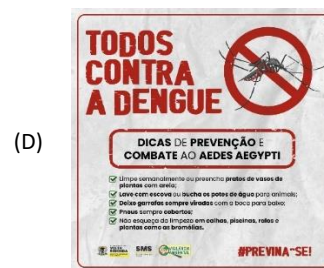
Assinale a alternativa que apresenta os termos que completam corretamente as lacunas do texto acima.

- (A) assessoria – veículos de comunicação – mídia – elaborada – concorrentes.
- (B) *marketing* – seguidores – comunidade – abrangente – funcionários.
- (C) profissional de relações públicas – *stakeholders* – sociedade – pontual – colaboradores.
- (D) Porta-voz – anunciantes – concorrência – simples – seguidores.

68

O Estado algumas vezes age como anunciante e de contrata serviços publicitários para se dirigir à sociedade por meio da publicidade massiva. Isso ocorre, geralmente, para a) prestar contas; b) cultuar valores da nação e c) mobilizar a população em torno de campanhas públicas.

Assinale a opção que apresenta a primeira motivação.



69

Em seu Modelo Geral para Comunicação Pública, Juan Jaramillo propõe quatro grandes campos de atuação da comunicação como eixo estratégico tanto na esfera pública da sociedade como na de qualquer grupo ou organização, a saber:

1. Comunicação Organizacional;
2. Comunicação Informativa;
3. Comunicação Corporativa; e
4. Comunicação Mobilizadora.

Elas podem ser assim caracterizadas

- () se propõe a trabalhar a imagem que a organização projeta para a sociedade;
- () procura fazer com que a organização interaja com a sociedade e a convoque para ação;
- () é o campo mais específico do jornalismo e procura oferecer para a sociedade as informações da organização;
- () procura garantir a estrutura e a coerência da organização articulando ações e esforços para alcançar seu propósito.

Assinale a opção que apresenta a relação correta, segundo a ordem apresentada.

- (A) 1, 2, 3 e 4.
- (B) 3, 2, 4 e 1.
- (C) 1, 4, 2 e 3.
- (D) 3, 4, 2 e 1.

70

Segundo Gaudêncio Torquato, o primeiro passo para um programa de comunicação e marketing na administração pública é estabelecer o conceito a ser atrelado a identidade da organização. Essa ação deve ser complementada com a

- (A) Criação do *slogan* (frase-síntese que exprime o conceito) e de toda identidade visual daquela administração pública.
- (B) Seleção e comunicação externa, de modo simultâneo e equânime, do máximo de funções daquela administração pública.
- (C) Concentração das ações de *marketing* na identidade pessoal do administrador, revisando-a de tempos em tempos.
- (D) Publicação de diagnósticos do setor, sempre que possível, focando a comunicação nos erros das administrações anteriores.

71

Não existe um padrão único das crises que atingem organizações ou ameaçam personalidades públicas. Mas, quando elas eclodem, o departamento de comunicação deve

- (A) manter-se em silêncio em relação às demandas dos repórteres e aguardar o desenrolar dos acontecimentos.
- (B) indicar um porta-voz para que a sociedade empresária assumia a previsibilidade da crise, mas se exima de qualquer responsabilidade sobre suas consequências.
- (C) fornecer versões diferentes da crise para cada um dos *stakeholders*, traçando estratégias divergentes para públicos externo e interno.
- (D) ter uma postura proativa, rápida, eficiente e transparente, oferecendo aos jornalistas a versão da sociedade empresária sobre os acontecimentos.

72

Leia o trecho a seguir.

Consiste na demonstração itinerante, montada sobre um ônibus ou carreta, que se desloca para áreas geoeconômicas de determinado país ou estado, com o objetivo de informar e mostrar o potencial de uma organização, governo ou entidade, por meio da apresentação de fotos, gráficos, livros, protótipos de produtos e vídeo, visando conquistar novos clientes, associados ou parceiros e obter o apoio do público. (Matias, 2013)

Essa definição refere-se a um(a)

- (A) feira.
- (B) *roadshow*.
- (C) *showcasing*.
- (D) roda de negócios.

73

Em um mundo cada vez mais digital e conectado, quando uma empresa decide adotar os princípios do Marketing 5.0, ela deve implementar diversas ações, **à exceção de uma**. Assinale-a.

- (A) Apoiar-se no *marketing* baseado em dados para a tomada de decisões a partir da análise de informações coletadas de diferentes fontes confiáveis.
- (B) Investir no *marketing* de produto, especializando as equipes e centralizando os processos decisórios para formatar um padrão de atendimento ao cliente.
- (C) Investir no *marketing* aumentado, usando tecnologias de automação mais humanizadas, para uma relação próxima ao consumidor mesmo com tarefas automatizadas.
- (D) Apostar no *marketing* preditivo, no qual os dados são usados para entender padrões comportamentais e tendências de mercado.

74

Para desenvolver uma marca forte, Philip Kotler destaca a importância do desenvolvimento de uma proposta de valor e escolha de posicionamentos específicos. como os a seguir.

Relacione os posicionamentos a seguir aos seus respectivos exemplos.

1. De atributo
 2. De benefício
 3. Do usuário
 4. De uso/aplicação
 5. De categoria
- () a empresa descreve a si mesma como líder da categoria, a ponto de Xerox significar copiadoras.
 - () A Apple Computer descreve seus computadores e seu *software* como os melhores para *designers* gráficos.
 - () Um hotel descreve a si mesmo como o hotel mais alto da cidade.
 - () Nike descreve um de seus tênis como o melhor para correr e outro como o melhor para jogar basquete.
 - () A Volvo afirma que seus carros são mais seguros.

Assinale a opção que apresenta a relação correta, segundo a ordem apresentada.

- (A) 5, 4, 1, 3 e 2.
- (B) 1, 3, 2, 4 e 5.
- (C) 5, 3, 1, 4 e 2.
- (D) 1, 4, 2, 3 e 5.

75

O *marketing* institucional pode ser desenvolvido nas áreas listadas a seguir, à exceção de uma. Assinale-a.

- (A) Cultural.
- (B) Esportivo.
- (C) Comunitário.
- (D) Comercial.

76

Para Curvello (2012), nos órgãos público federais podem ser identificados quatro modelos mais comuns de comunicação, a saber:

1. Informacional.
2. de Consulta.
3. Participação ativa.
4. Relacionamento.

Que podem ser assim definidos:

- () nele, o governo está em interação com outros sistemas, autônomos, mas interdependentes, como a imprensa e a sociedade civil.
- () nele, o servidor público ganha papel central na relação estrutural entre governo e sociedade.
- () baseia-se na definição prévia de temas sobre os quais serão solicitadas opiniões dos servidores ou cidadãos.
- () baseia-se lógica da transmissão de informação, na qual o governo é o emissor e o servidor/público, o destinatário.

Assinale a alternativa que apresenta a relação correta, segundo a na ordem apresentada.

- (A) 4, 2, 3 e 1.
- (B) 3, 4, 1 e 2.
- (C) 3, 2, 1 e 4.
- (D) 4, 3, 2 e 1.

77

A cláusula de consciência, que está prevista no Código de Ética do Jornalista, refere-se ao direito

- (A) de resguardar o sigilo de suas fontes, sobretudo quando se tratar de pessoas ameaçadas.
- (B) da fonte fornecer informações *off the records*, se estas colocarem em risco sua integridade física.
- (C) de se recusar a executar tarefas em desacordo com o Código de Ética ou que agridam as suas convicções.
- (D) da empresa jornalística em omitir fatos, quando as matérias decorrem de patrocínios ou promoções.

78

Leia o trecho do professor Edson Spenthof, publicado no *Observatório da Imprensa*, sobre os quase 15 anos da decisão do Supremo Tribunal Federal de dispensar a exigência de diploma de graduação em Jornalismo para o exercício profissional.

Ao retirar do jornalismo o seu caráter profissional e institucional não só se promoveu desconhecimento sobre o que é o jornalismo; levou-se adiante um projeto de desregulamentação geral da comunicação e se enfraqueceu o jornalismo como poderosa ferramenta do cidadão para a realização do seu direito inalienável à informação sobre o tempo corrente. (Spenthof, 2023).

Assinale a opção que apresenta o argumento do STF para embasar sua decisão.

- (A) Os cursos de jornalismo são incapazes de preparar os estudantes para o exercício do jornalismo de soluções.
- (B) A prática do jornalismo é o próprio exercício do direito fundamental de liberdade de expressão.
- (C) A função social do Jornalismo é tão relevante que não pode ficar condicionada à exigência de um diploma específico.
- (D) Assim que a inteligência artificial seja popularizada, os jornalistas seriam dispensáveis no mercado de trabalho.

79

Um jornalista recebeu uma pauta de reportagem sobre as ações de empresas petrolíferas para conter a poluição ambiental. Esse jornalista presta serviços como assessor de imprensa em uma companhia que atua no setor de petróleo e busca conter os danos ambientais.

Com base no Art. 7º do Código de Ética do Jornalista, o profissional

- (A) deve aproveitar a oportunidade para aumentar a visibilidade da empresa assessorada, usando-a como principal fonte da matéria.
- (B) deve usar a empresa assessorada como fonte, mas explicitar no texto da reportagem, que está atuando simultaneamente como repórter e assessor.
- (C) não pode ter qualquer outra atividade profissional para além da desempenhada como repórter de um veículo específico de comunicação.
- (D) não pode fazer cobertura jornalística nem usar o veículo de comunicação em que trabalha para defender os interesses da empresa para a qual presta serviço como assessor.

80

O Capítulo V da Constituição Federal dispõe sobre as empresas jornalísticas e de radiodifusão sonora e de sons e imagens.

Sobre o tema, assinale a afirmativa correta.

- (A) A gestão e a definição do conteúdo da programação são exclusivas dos brasileiros natos e detentores únicos de, pelo menos, dez por cento do capital votante da empresa.
- (B) A propriedade é privativa de brasileiros natos ou naturalizados há mais de dez anos, ou de pessoas jurídicas constituídas sob as leis brasileiras e que tenham sede no país.
- (C) A metade do capital total e do votante deverão pertencer, direta ou indiretamente, a pessoas físicas, brasileiros natos ou naturalizados há mais de mais de 15 anos.
- (D) A cassação de concessão antes do prazo ou a não renovação da concessão ou da permissão dependerá de aprovação de, no mínimo, metade do Congresso Nacional, em votação secreta.

Realização

