

**PREFEITURA MUNICIPAL
DE POUSO ALEGRE/MG**

**CONCURSO PÚBLICO
EDITAL Nº 1/2023**



AGENTE ADMINISTRATIVO

Tarde

Tipo 1 - BRANCA

Organizadora:



**INSTITUTO
CONSULPLAN**

LÍNGUA PORTUGUESA

Os cães engarrafados

“Nunca vi boa amizade nascer em leiteria”, disse certa vez Vinicius de Moraes, inveterado bebedor, para quem o melhor termômetro de afetos era uma garrafa de uísque – uma, no caso, é modo de dizer, pois melhor se fossem duas, três, quatro. “Uísque é o cachorro engarrafado”, concluiu, certamente depois de algumas doses. Não é improvável que esse diagnóstico étílico tenha surgido durante um pileque com Rubem Braga, outro voraz consumidor de malte.

Além da dedicação às garrafas, os dois amigos tinham vários pontos em comum: nasceram no mesmo 1913, exerceram postos diplomáticos e foram grandes gozadores dos prazeres da vida, apaixonando-se com tremenda facilidade. Braga, dos nossos maiores cronistas, fez também poesia. Vinicius, dos nossos maiores poetas, também escreveu crônica. E os dois foram, cada um ao seu modo, renomados anfitriões.

Em 1951, quando Vinicius retornou de *Los Angeles*, onde atuava como vice-cônsul, trouxe nada mais que 480 garrafas de uísque, divididas em 40 caixas. Era, certamente, o maior estoque de uísque do Rio de Janeiro. Não demorou para que sua casa, no Leblon, virasse um ponto de encontro da intelectualidade carioca.

Em Ipanema, a famosa cobertura de Rubem Braga vivia destrancada. O amigo que quisesse desfrutar daquele jardim suspenso precisava só pegar a escadinha do décimo segundo andar e abrir a porta. O uísque estava lá à disposição. Braga, nem sempre – às vezes, dependendo de seu humor, sequer se levantava da rede para receber a visita.

“Rubem Braga é, sabidamente, um conhecedor de passarinhos”, começa Vinicius com a advertência. Conhece tudo de tico-tico, curió, sanhaço, cardeal, sabiá, “mas em matéria de canário trata-se de um otário completo e acabado”. O cronista vinha pela Cinelândia quando topou com um vendedor. Ele oferecia um casal de canários numa gaiola “dividida por uma separação levadiça em dois compartimentos, um para o macho, outro para a fêmea”. A graça era abrir a portinhola do macho, deixá-lo voar livremente e vê-lo voltar assim que a fêmea piasse. O rapaz fez uma demonstração do número e convenceu o cliente.

Decerto Braga se emocionou com aquele espécime masculino que trocava a liberdade pela companhia da amada. Chegando em casa, quis rever o espetáculo. “E lá se foi o canarinho pelo azul afora, em lindas evoluções”, até que a fêmea o chamasse. Ele voltou e ficou parado diante da portinhola, sem entrar. Braga, apreensivo, tentou atraí-lo com uma succulenta folha de alface, mas o bicho não bicou a isca. E a fêmea, no descuido do cronista que procurava um encaixe para a verdura, “fez força com o biquinho e acabou por erguer a portinhola”. Dali para o Jardim Botânico não teve nem graça. “Canário, hein Braguinha?”, cutucou o amigo.

De Braga para Vinicius, a primeira homenagem veio durante a temporada norte-americana do poeta, período em que ficou cinco anos sem retornar para o Brasil. Do Rio, o colega enviou-lhe um “Bilhete para *Los Angeles*”, um dos poucos de sua diminuta lavra de poemas. Os versos de escárnio são puro carinho de mãos ásperas. “Só queres amor e ócio/capadócio!” e “Tanto mal que já fizeste/cafajeste!”, querem dizer, na verdade, “Deus te dê vida e saúde/em *Hollywood*!”.

Poucos meses depois de Vinicius morrer, em 1980, Braga voltou a escrever para ele, agora com uma notícia grave: a primavera tinha chegado e aquela era a primeira, desde 1913, sem a participação do poeta. Sabendo do hábito epistolar dos amigos, “Recado de primavera” fica ainda mais comovente. “Seu nome virou placa de rua; e nessa rua, que tem seu nome na placa, vi ontem três garotas de Ipanema que usavam minissaias.” O mar estava virado, e da varanda do cronista era possível ver “uma vaga de espuma galgar o costão sul da ilha das Palmas” – tudo isso, diz, são “violências primaveris”. Um tico-tico, “com uma folhinha seca de capim no bico”, começara a construir seu ninho. E as “moitas de azaleias e manacás em flor” traziam promessas da vida. “O tempo vai passando, poeta”, arremata Rubem. “Chega a primavera nesta Ipanema, toda cheia de sua música e de seus versos. Eu ainda vou ficando um pouco por aqui – a vigiar, em seu nome, as ondas, os tico-ticos e as moças em flor. Adeus.”

(TAUIL, Guilherme. Disponível em: <https://cronicabrasileira.org.br/>. Acesso em: 22/03/2024.)

Questão 01

É correto afirmar que, ao afirmar que “Uísque é o cachorro engarrafado” (1º§), Vinicius de Moraes propõe metáfora em referência ao conhecimento popular que diz que:

- A) Cão que ladra não morde.
- B) Quem não tem cão caça com gato.
- C) O cachorro é o melhor amigo do homem.
- D) Quem dorme com cachorro acorda com pulgas.

Questão 02

Considere o verbo sublinhado no trecho: *“Conhece tudo de tico-tico, curió, sanhaço, cardeal, sabiá, ‘mas em matéria de canário trata-se de um otário completo e acabado’.”* (5º§). Ao considerar o contexto em que se insere, é correto afirmar que seu sujeito pode ser corretamente classificado como:

- A) Simples.
- B) Inexistente.
- C) Desinencial.
- D) Indeterminado.

Questão 03

Considere o termo sublinhado no trecho *“Decerto Braga se emocionou com aquele espécime masculino que trocava a liberdade pela companhia da amada.”* (6º§). Caso reescrita a frase, os advérbios/locuções adverbiais dispostos nas alternativas corretamente o poderiam substituir sem alteração de sentido, EXCETO:

- A) Certamente.
- B) Com certeza.
- C) Sisudamente.
- D) De modo certo.

Questão 04

Considere o termo *“beberrão”* (1º§). É correto afirmar que se trata de um vocábulo utilizado para designar:

- A) Um consumidor intenso de leite.
- B) A forma aumentativa do substantivo *“bebê”*.
- C) A forma aumentativa do substantivo *“bêbera”*.
- D) Um consumidor intenso de bebidas alcoólicas.

Questão 05

Considere as disposições da pontuação nas reproduções de trechos a seguir e assinale a afirmativa em que a(s) vírgula(s) se deram para a demarcação de um aposto.

- A) *“Chegando em casa, quis rever o espetáculo.”* (6º§).
- B) *“Vinicius, dos nossos maiores poetas, também escreveu crônica.”* (2º§).
- C) *“Rubem Braga é, sabidamente, um conhecedor de passarinhos [...]”* (5º§).
- D) *“Além da dedicação às garrafas, os dois amigos tinham vários pontos em comum: [...]”* (2º§).

Questão 06

Considere o termo sublinhado no trecho *“Chegando em casa, quis rever o espetáculo.”* (6º§). A alternativa que corretamente dispõe o processo de formação de palavras que lhe deu origem consta em:

- A) Sufixação.
- B) Prefixação.
- C) Parassíntese.
- D) Justaposição.

Questão 07

Ao escarnecer o amigo pelo descuido com seus canários, Vinicius o chama de *“Braguinha”*, dizendo *“Canário, hein Braguinha?”* (6º§). É correto dizer que essa alteração no sobrenome do autor, de modo a denotar afetividade, se dá a partir de sua flexão em:

- A) Grau.
- B) Tempo.
- C) Gênero.
- D) Número.

Questão 08

Reproduzem-se, nas alternativas a seguir, trechos do texto com duplas de palavras sublinhadas. É correto afirmar que a alternativa que dispõe uma dupla de palavras sublinhadas que NÃO se acentuam pela mesma razão se dá em:

- A) *“Os versos de escárnio são puro carinho de mãos ásperas.”* (7º§).
- B) *“[...] é modo de dizer, pois melhor se fossem duas, três, quatro.”* (1º§).
- C) *“[...] ‘mas em matéria de canário trata-se de um otário completo e acabado.’”* (5º§).
- D) *“Não é improvável que esse diagnóstico etílico tenha surgido durante um pileque com Rubem Braga [...]”* (1º§).

Questão 09

Considere os vocábulos sublinhados nas reproduções de trechos a seguir. É correto afirmar que a alternativa que contém sublinhado um termo formado por derivação regressiva se dá em:

- A) “Uisque é o cachorro engarrafado [...]” (1º§).
- B) “Nunca vi boa amizade nascer em leiteria [...]” (1º§).
- C) “[...] Vinicius retornou de Los Angeles, onde atuava como vice-cônsul, [...]” (3º§).
- D) “E a fêmea, no descuido do cronista que procurava um encaixe para a verdura, [...]” (6º§).

Questão 10

Ao escrever uma carta para o amigo já falecido, Rubem Braga conta: “Seu nome virou placa de rua; e nessa rua, que tem seu nome na placa, vi ontem três garotas de Ipanema que usavam minissaias.” (8º§). É correto afirmar que, nesse trecho, as vírgulas se deram de modo a demarcar uma oração subordinada:

- A) Objetiva direta.
- B) Adjetiva restritiva.
- C) Adjetiva explicativa.
- D) Substantiva subjetiva.

RACIOCÍNIO LÓGICO-MATEMÁTICO

Questão 11

Rafaela foi ao parque de diversões com seu filho Rael e brincaram em diversos brinquedos do parque, cujo preço do ingresso unitário era R\$ 4,50. Ao todo, gastaram R\$ 58,50, sendo que Rael brincou em 3 brinquedos a mais que sua mãe. Dessa forma, em quantos brinquedos Rafaela brincou neste parque de diversões?

- A) 3.
- B) 4.
- C) 5.
- D) 6.

Questão 12

Caio trabalha em uma empresa que oferece reajuste salarial anual a todos os seus funcionários. Sabendo dessa vantagem, ele planejou guardar o equivalente a um salário que recebe no ano até se aposentar, o que ocorrerá em 30 anos. Assim, ao verificar sua progressão salarial durante esse tempo, ele constatou que no primeiro ano irá guardar R\$ 2.200,00 e que seu salário aumentará R\$ 250,00 a cada ano durante todo o período até a sua aposentadoria. Dessa forma, considerando-se que Caio irá guardar esse dinheiro sem realizar nenhuma movimentação nesse valor, pode-se concluir que ao aposentar ele terá um valor total compreendido entre:

- A) R\$ 50.000,00 e R\$ 100.000,00.
- B) R\$ 100.000,01 e R\$ 150.000,00.
- C) R\$ 150.000,01 e R\$ 170.000,00.
- D) R\$ 170.000,01 e R\$ 190.000,00.

Questão 13

Certo floricultor estava realizando uma pesquisa e constatou que 20% de suas rosas apresentavam manchas brancas, devido a uma mutação genética. Assim, se o floricultor pegar 5 unidades de rosas aleatoriamente, a probabilidade de que exatamente 2 apresentem as manchas brancas está compreendida entre:

- A) 0,1% e 25,0%.
- B) 25,1% e 50,0%.
- C) 50,1% e 75,0%.
- D) 75,1% e 99,9%.

Questão 14

Seja um conjunto P formado pelos números naturais pares e o conjunto L formado pelos inteiros no intervalo]-5, 8[. Qual é o produto dos elementos não nulos existentes no conjunto $P \cap L$?

- A) 8.
- B) 48.
- C) 192.
- D) 384.

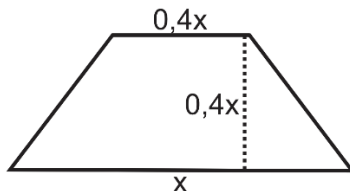
Questão 15

Um parque de diversões funciona aos domingos com passaportes, cujos preços são R\$ 150,00 para adultos e R\$ 120,00 para crianças. Se em determinado domingo o parque contabilizar um total de 180 clientes, tendo faturado R\$ 23.250,00, o número de crianças que visitaram o parque neste dia está compreendido entre:

- A) 100 e 110.
- B) 111 e 120.
- C) 121 e 130.
- D) 131 e 140.

Questão 16

Marcelina construiu uma sapateira de madeira com dois níveis conforme figura a seguir:

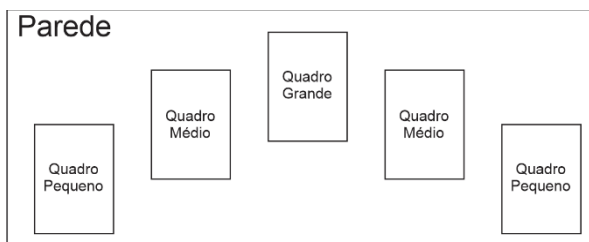


Sabendo-se que foram utilizados 360 centímetros de madeira para fazer o perímetro dessa sapateira, quantos centímetros a base maior possui?

- A) 100 cm.
- B) 120 cm.
- C) 125 cm.
- D) 150 cm.

Questão 17

Para enfeitar uma parede de sua nova sala de estar, Patrícia deseja comprar cinco quadros distintos para pendurar lado a lado, conforme esquema a seguir.



Ao visitar a loja de quadros de sua cidade, ela encontrou as seguintes opções de quadros disponíveis, cada um com uma pintura distinta:

- Quadro pequeno: 5 opções;
- Quadro médio: 7 opções; e,
- Quadro grande: 3 opções.

Sabendo-se que Patrícia deseja escolher exatamente 2 quadros pequenos, 2 quadros médios e 1 quadro grande, a quantidade de maneiras distintas que ela poderá comprar os quadros da loja e utilizá-los para enfeitar a parede de sua sala está compreendida entre:

- A) 1 e 1.000.
- B) 1.001 e 1.500.
- C) 1.501 e 2.000.
- D) 2.001 e 3.000.

Questão 18

Considere os dois argumentos a seguir:

- I. Todo carpinteiro sabe utilizar o serrote. Marcelo sabe utilizar o serrote. Logo, Marcelo é carpinteiro.
- II. Sempre que chove em Pouso Alegre, as merendas escolares da cidade são algum tipo de caldo. Hoje, as escolas de Pouso Alegre serviram caldo como merenda. Portanto, hoje choveu.

A respeito dos argumentos apresentados, pode-se concluir que:

- A) Ambos são válidos.
- B) Ambos são inválidos.
- C) O argumento I é válido; o II é inválido.
- D) O argumento II é válido; o I é inválido.

Questão 19

Em lógica matemática, uma proposição pode ser verdadeira ou falsa, independentemente de seu significado no mundo real. Considere que a proposição apresentada a seguir tem valor lógico falso:

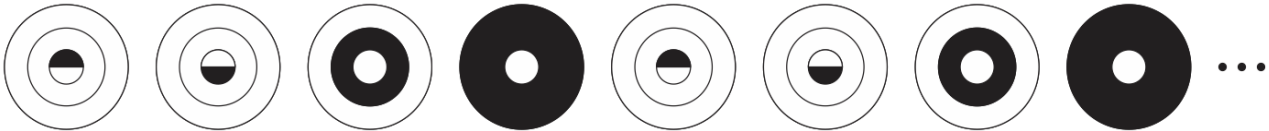
“Se Paulo está trabalhando em Pouso Alegre, então ele foi aprovado no concurso ou sua esposa não é uma empresária bem-sucedida.”

Decorre dessa proposição que a seguinte afirmativa é verdadeira:

- A) Paulo não foi aprovado no concurso e sua esposa não é uma empresária bem-sucedida.
- B) Paulo está trabalhando em Pouso Alegre e sua esposa é uma empresária bem-sucedida.
- C) Se a esposa de Paulo é uma empresária bem-sucedida, então ele foi aprovado no concurso.
- D) Se a esposa de Paulo é uma empresária bem-sucedida, então ele não está trabalhando em Pouso Alegre.

Questão 20

Considere a sequência de figuras a seguir:



Sabendo-se que o padrão lógico se repete indefinidamente, qual figura ocupa a posição 2025 dessa sequência?

- A)
- B)
- C)
- D)

NOÇÕES DE INFORMÁTICA

Questão 21

“É um componente essencial em um computador; sua função principal é executar instruções e realizar uma variedade de operações, incluindo operações aritméticas e lógicas em dados. Além disso, é responsável pelo controle do fluxo de dados, gerenciamento eficiente da memória, controle de dispositivos, execução de multitarefas e interação direta com o sistema operacional. Em conjunto, essas funções garantem o funcionamento eficaz do computador, tornando-o um componente crucial para o desempenho global do sistema.” As informações fazem referência a qual componente?

- A) Placa-Mãe.
- B) Disco rígido.
- C) Processador.
- D) Fonte de alimentação.

Questão 22

No *Windows 10 Pro* (Configuração Padrão – Idioma Português Brasil), um usuário selecionou diversos arquivos na área de trabalho, pressionou a tecla *Delete* para excluí-los, os arquivos, confirmou a ação e, em seguida, percebeu que parte dos arquivos não podiam ter sido deletados. Após a ação realizada pelo usuário, o que ele deverá fazer para recuperar os arquivos?

- A) Reiniciar o computador para que os arquivos voltem para o seu local de origem.
- B) Desligar o computador; aguardar dez minutos para que os arquivos voltem para o seu local de origem.
- C) Acessar a lixeira, identificar os arquivos deletados erroneamente e restaurá-los para o seu local de origem.
- D) Solicitar um técnico, pois a única forma de recuperar arquivos é com *softwares* para recuperação de dados.

Questão 23

“O _____ é um reprodutor de mídia desenvolvido pela *Microsoft* e incluído nos Sistemas Operacionais *Windows*. Foi projetado para reproduzir uma variedade de formatos de áudio e vídeo, oferecendo uma interface gráfica simples para os usuários gerenciarem e reproduzirem suas bibliotecas de mídia.” Assinale a alternativa que completa corretamente a afirmativa anterior.

- A) *iTunes*
- B) *Windows Winamp*
- C) *Windows Media Player*
- D) *Windows VLC Media Player*

Questão 24

“É uma coleção de imagens gráficas pré-desenhadas ou ilustrações que estão disponíveis para serem inseridas em documentos do *Microsoft Word 2019* (Configuração Padrão – Idioma Português Brasil). Essas imagens são geralmente fornecidas pela *Microsoft* no *software* para facilitar a criação de documentos visualmente atraentes, como folhetos, cartazes, apresentações e outros materiais.” As informações se referem a qual recurso do *Microsoft Word 2019* (Configuração Padrão – Idioma Português Brasil)?

- A) *Slides*.
- B) Temas.
- C) *ClipArts*.
- D) Tabelas.

Questão 25

O *Microsoft Excel*, uma poderosa aplicação de planilha eletrônica desenvolvida pela *Microsoft*, oferece uma variedade de funcionalidades para realizar cálculos matemáticos, estatísticos e financeiros. Entre as suas diversas fórmulas, destaca-se a *SOMASE*, que permite somar valores em um intervalo específico com base em critérios predefinidos. Essa função é particularmente útil para a análise de dados e organização de informações, tornando o *Excel* uma ferramenta versátil e essencial para diversas tarefas relacionadas à manipulação e interpretação de dados:

	A	B	C	D	E
1	1º	2º	3º	4º	Resultado
2	8,3	7,5	35	45	

A imagem ilustra uma planilha do *Microsoft Excel 2019* (Configuração Padrão – Idioma Português Brasil); qual será o resultado exibido, se o usuário aplicar a seguinte fórmula =*SOMASE*(A2:D2;"<45") na célula E2?

- A) 15,8.
- B) 45,3.
- C) 49,8.
- D) 50,8.

CONHECIMENTOS DE DIREITO

Questão 26

Após devido processo licitatório, a empresa *Papel Feliz Ltda.* celebrou contrato com a Secretaria de Educação do Município de Esperança, a fim de fornecer determinados produtos e serviços. Considerando o que aduz a Lei nº 14.133/2021 – Lei de Licitações e Contratos Administrativos, sobre o regime jurídico dos contratos, assinale a afirmativa correta.

- A) A empresa *Papel Feliz Ltda.* pode modificar unilateralmente o contrato celebrado, para melhor adequação às suas finalidades.
- B) A Administração possui a prerrogativa de, em determinados casos, extinguir unilateralmente os contratos e também de aplicar sanções motivadas pela inexecução total ou parcial do ajuste.
- C) A Administração poderá alterar as cláusulas econômico-financeiras e monetárias dos contratos sem prévia concordância do contratado, para melhor adequação às finalidades de interesse público.
- D) É prerrogativa da Administração, somente até a extinção do contrato, utilizar serviços vinculados ao objeto contratual no caso de necessidade de acautelar apuração administrativa de faltas contratuais pela empresa *Papel Feliz Ltda.*

Questão 27

Sobre os direitos dos trabalhadores urbanos e rurais previstos na Constituição Federal de 1988, marque **V** para as afirmativas verdadeiras e **F** para as falsas.

- () Possuem direito absoluto à irredutibilidade do salário, vedada disposição em contrário em convenção ou acordo coletivo.
- () Receberão remuneração do trabalho noturno superior à do diurno.
- () É proibido o trabalho noturno, perigoso ou insalubre a menores de vinte e um anos e de qualquer trabalho a menores de dezoito anos, salvo na condição de aprendiz.
- () Será concedida assistência gratuita a seus filhos e dependentes desde o nascimento até cinco anos de idade em creches e pré-escolas.
- () Terão duração do trabalho normal não superior a oito horas diárias e quarenta e quatro semanais, facultada a compensação de horários e a redução da jornada, mediante acordo ou convenção coletiva de trabalho.

A sequência está correta em

- A) F, V, F, V, V.
- B) V, F, F, V, V.
- C) V, V, V, F, F.
- D) F, F, V, F, F.

Questão 28

Após uma crescente e potencial expansão, tanto em sua economia quanto em suas divisas territoriais, o município de Araucária ficou muito próximo ao de Jequitibá; desse modo, interessados no constante crescimento e progresso dos municípios, os chefes de governo passaram a analisar a possibilidade de fundir ambos os municípios. Sob a égide da Constituição Federal de 1988, é correto afirmar que

- A) é inconstitucional a fusão, incorporação ou desmembramento de Municípios, ainda que limítrofes, devido ao impacto ambiental e socioeconômico.
- B) é possível a fusão dos municípios através de lei estadual, dentro do período determinado por Lei Complementar Federal, e dependerão de consulta prévia, mediante plebiscito.
- C) a fusão poderá ocorrer mediante lei municipal e plebiscito; consulta posterior à fusão, às populações dos municípios envolvidos, após divulgação dos Estudos de Viabilidade Municipal.
- D) a fusão far-se-á por Lei Complementar Federal, mediante referendo às populações dos Municípios limítrofes, após divulgação dos Estudos de Viabilidade Municipal, apresentados e publicados na forma da lei.

Questão 29

Analise as afirmativas a seguir sobre as características do processo administrativo no âmbito da Administração Pública Federal, à luz da Lei nº 9.784/1999.

- I. O processo administrativo pode iniciar-se de ofício ou a pedido de interessado.
- II. É impedido de atuar em processo administrativo o servidor ou autoridade que esteja litigando judicial ou administrativamente com o interessado ou respectivo cônjuge ou companheiro.
- III. Os atos do processo devem realizar-se em dias úteis, no horário normal de funcionamento da repartição na qual tramitar o processo.
- IV. O interessado poderá, mediante manifestação escrita, desistir total ou parcialmente do pedido formulado no processo, sendo que, havendo vários interessados, a desistência ou renúncia atingirá a todos.
- V. São admissíveis no processo administrativo todos os meios de provas, ainda que obtidas por meios ilícitos.

Está correto o que se afirma em

- A) I, II, III, IV e V.
- B) I, II e III apenas.
- C) I, IV e V, apenas.
- D) II, III e IV, apenas.

Questão 30

Oswaldo é o operador que realiza o tratamento de dados pessoais de determinado órgão da Prefeitura Municipal de Pouso Alegre e Cornélio é o controlador. Em determinada ocasião, Oswaldo deixou de seguir as instruções passadas por Cornélio e de adotar as medidas de segurança, o que resultou na violação da legislação de tratamento de dados e em danos patrimoniais a determinados indivíduos. À luz da Lei nº 13.709/2018 – Lei Geral de Proteção de Dados Pessoais (LGPD), sobre a responsabilidade e o ressarcimento de danos, assinale a afirmativa correta.

- A) As ações de reparação por danos coletivos que tenham por objeto a responsabilização só podem ser exercidas individualmente em juízo.
- B) Somente Cornélio responderá pelo dano causado, por se tratar de superior hierárquico, podendo gozar do direito de regresso contra Oswaldo.
- C) O dever de reparar os danos patrimoniais aos indivíduos prejudicados é exclusivo da Administração, em função da responsabilidade objetiva.
- D) A fim de assegurar a efetiva indenização aos titulares dos dados, Oswaldo responderá solidariamente, equiparando-se a Cornélio, pelos danos causados.

CONHECIMENTOS GERAIS

Questão 31

Machado de Assis (Joaquim Maria Machado de Assis), jornalista, contista, cronista, romancista, poeta e teatrólogo, nasceu no Rio de Janeiro/RJ, em 21 de junho de 1839, e faleceu também no Rio de Janeiro, em 29 de setembro de 1908. É o fundador da cadeira nº 23 da Academia Brasileira de Letras. Velho amigo e admirador de José de Alencar, que morrera cerca de vinte anos antes da fundação da ABL, era natural que Machado escolhesse o nome do autor de *O Guarani* para seu patrono. Ocupou por mais de dez anos a presidência da Academia, que passou a ser chamada também de Casa de Machado de Assis.

(Disponível em: <https://www.academia.org.br/academicos/machado-de-assis/biografia>. Acesso em: 01/01/2023.)

Os estudos literários apontam que as obras *Memórias Póstumas de Brás Cubas* (1881), *Dom Casmurro* (1899) e *Quincas Borba* (1891) fazem parte do seguinte movimento literário:

- A) Realismo.
- B) Arcadismo.
- C) Modernismo.
- D) Pós-modernismo.

Questão 32

Cora Coralina (1889-1985) publicou seu primeiro livro quando tinha 75 anos e tornou-se uma das vozes femininas mais relevantes da literatura nacional. Ana Lins dos Guimarães Peixoto, conhecida como Cora Coralina, nasceu na cidade de Goiás, no Estado de Goiás, no dia 20 de agosto de 1889. Filha de Francisco de Paula Lins dos Guimarães Peixoto, desembargador, nomeado por Dom Pedro II, e de Jacinta Luísa do Couto Brandão, cursou apenas até a terceira série do curso primário.

(Disponível em: https://www.ebiografia.com/cora_coralina/. Acesso em: 01/01/2023. Adaptado.)

Cora Coralina foi uma escritora brasileira dos gêneros textuais:

- A) Contos e novelas.
- B) Poemas e contos.
- C) Crônicas e poesias.
- D) Romances e contos.

Questão 33

O Grupo dos Vinte (G20) é o principal fórum de cooperação econômica internacional. Desempenha um papel importante na definição e no reforço da arquitetura e da governança mundiais em todas as grandes questões econômicas internacionais. A Cúpula do G20 é a reunião entre os chefes de Estado ou de Governo dos países membros. O termo “Cúpula” tem origem em sua definição em inglês (“Summit”) e refere-se ao ponto mais alto de uma montanha. Portanto, a Cúpula é o momento de ápice das mais de cem reuniões do G20, ao longo de todo um ano.

(Disponível em: <https://www.g20.org/pt-br/sobre-o-g20>. Acesso em: 01/01/2023. Adaptado.)

Os países da América do Sul que fazem parte do G20 são:

- A) Brasil e Chile.
- B) Brasil e Paraguai.
- C) Brasil e Argentina.
- D) Brasil e Venezuela.

Questão 34

Um tratado de livre-comércio é um acordo comercial entre países que visa a eliminar tarifas alfandegárias e estabelecer quotas na importação e exportação de bens e serviços. Em outras palavras, é um acordo comercial entre os países para estabelecer relações comerciais, a fim de garantir a livre circulação de mercadorias entre seus países signatários. O livre-comércio é um dos estágios de integração econômica (Zona de Preferências Tarifárias, Zona de Livre Comércio, União Aduaneira, Mercado Comum).

(Disponível em: <https://www.infoescola.com/economia/tratados-de-livre-comercio/>. Acesso em: 01/01/2023.)

São exemplos de tratados de livre-comércio, EXCETO:

- A) Mercado Comum do Sul (MERCOSUL).
- B) Área de Livre Comércio das Américas (ALCA).
- C) Organização do Tratado do Atlântico Norte (OTAN).
- D) Acordo de Livre-Comércio da América Norte (NAFTA).

Questão 35

Durante as jornadas que fizeram o Brasil explodir em protestos em 2013, a noite de 13 de junho ficou marcada como um grande ponto de inflexão. A reação violenta da polícia durante o ato em São Paulo, que terminou com mais de 100 feridos, inflamou a população e massificou as manifestações em todo o Brasil.

(Disponível em: <https://www.bbc.com/portuguese/articles/>. Acesso em: 01/01/2023. Adaptado.)

Sobre o fator que desencadeou “Jornadas de Junho”, assinale a afirmativa correta.

- A) Governo autoritário, truculência policial, desemprego e outras consequências da crise econômica de 2008.
- B) Os manifestantes lutavam contra o aumento das tarifas do transporte público, que havia subido de R\$ 3 para R\$ 3,20 no início do mês.
- C) Reivindicações dos protestos eram a defesa da democracia, a reforma política, em alguns casos, e melhoria na qualidade de vida da população.
- D) Defendiam a destituição do chefe do executivo estadual e uma profunda reforma política que modificasse as estruturas governamentais do Brasil.

Questão 36

Entre tantos acontecimentos marcantes de 2016, um dos que mais impactaram o país e o Congresso Nacional foi o *Impeachment* da presidente Dilma Rousseff. O processo caracterizou-se por polêmica e divergência de opiniões no Parlamento e na sociedade, o que o diferencia do ocorrido com Fernando Collor, em 1992. Os casos de *Impeachment* de Dilma e Collor podem ser caracterizados por momento de crise econômica e baixa popularidade dos presidentes. Dilma, no início, contava com ampla base aliada do Congresso, o que foi diminuindo ao longo do julgamento. Já Collor governou com baixo apoio parlamentar. Dilma teve forte apoio de movimentos sociais e de organizações sindicais, como a Central Única dos Trabalhadores (CUT), que organizou manifestações contrárias ao impedimento. Na época de Collor, movimentos e entidades da sociedade foram favoráveis à queda do presidente.

(Disponível em: <https://www12.senado.leg.br/noticias/>. Acesso em: 01/01/2023.)

O processo de *Impeachment* de Dilma Rousseff teve início em 2 de dezembro de 2015, quando o ex-presidente da Câmara dos Deputados, Eduardo Cunha, deu prosseguimento ao pedido dos juristas Hélio Bicudo, Miguel Reale Júnior e Janaína Paschoal. Com uma duração de 273 dias, o caso se encerrou em 31 de agosto de 2016, tendo como resultado:

- A) A cassação do mandato e perda dos direitos políticos de Dilma.
- B) A cassação do mandato, mas sem a perda dos direitos políticos de Dilma.
- C) O afastamento do cargo por noventa dias e a eleição indireta do vice-presidente Michel Temer.
- D) A cassação do mandato pelos deputados, mas que foi absolvida pelo Supremo Tribunal Federal.

Questão 37

Todos são iguais perante a lei, sem distinção de qualquer natureza, garantindo-se aos brasileiros e aos estrangeiros residentes no país a inviolabilidade do direito à vida, à liberdade, à igualdade, à segurança e à propriedade. Nos termos Constituição de 1988, são considerados direitos e garantias fundamentais, EXCETO:

- A) Ninguém será obrigado a fazer ou deixar de fazer alguma coisa senão em virtude de lei.
- B) É assegurado o direito de resposta, proporcional ao agravo, além da indenização por dano material, moral ou à imagem.
- C) São invioláveis a intimidade, a vida privada, a honra e a imagem das pessoas, assegurado o direito a indenização pelo dano material ou moral decorrente de sua violação.
- D) É violável a liberdade de consciência e de crença, sendo assegurado o livre exercício dos cultos religiosos e garantida, na forma da lei, a proteção aos locais de culto e a suas liturgias.

Questão 38

Em 5 de outubro de 1988 foi promulgada a sétima Constituição Federal do Brasil. A denominada “Constituição Cidadã” marcou o início da nova era democrática do país, afirmando a legitimidade dos direitos civis e políticos e o papel do Estado em garanti-los.

(Disponível em: <https://escola.mpu.mp.br/h/constituicao-cidada/constituicao-cidada>. Acesso em: 01/01/2023.)

Segundo a “Constituição Cidadã”, fazem parte dos objetivos fundamentais da República Federativa do Brasil:

- I. Garantir o desenvolvimento regional.
- II. Construir uma sociedade livre, justa e solidária.
- III. Erradicar a pobreza e a marginalização e reduzir as desigualdades sociais e regionais.
- IV. Promover o bem de todos, sem preconceitos de origem, raça, sexo, cor, idade e quaisquer outras formas de discriminação.

Está de acordo com a Constituição Cidadã o que se afirma em

- A) I, II, III e IV.
- B) I, II e III, apenas.
- C) I, II e IV, apenas.
- D) II, III e IV, apenas.

Questão 39

Ao menos 12.963 presas e presos provisórios estão aptos a votar no pleito em todo o país, segundo dados do TSE (Tribunal Superior Eleitoral). No estado de São Paulo, 85 seções eleitorais funcionarão em estabelecimentos penais e em unidades de internação da Fundação Casa, uma vez que jovens maiores de 16 anos e menores de 21 que cumprem medidas socioeducativas também poderão participar do processo.

(Disponível em: <https://noticias.uol.com.br/eleicoes/>. Acesso em: 01/01/2023.)

São considerados requisitos para a suspensão dos direitos políticos:

- A) Os presos provisórios.
- B) Prisão por suspeita de corrupção.
- C) Condenados que estão em regime semiaberto.
- D) Condenação criminal transitada em julgado, enquanto durarem seus efeitos.

Questão 40

Governo sanciona o projeto de lei que regulamenta a operação de *sites* de apostas esportivas no Brasil, permitindo que eles sejam tributados pelo poder público. A medida foi publicada em edição extra do Diário Oficial da União no sábado (30/12/2023). O texto aprovado pelo presidente impõe aos apostadores o pagamento de 15% de Imposto de Renda sobre o valor líquido dos prêmios obtidos. Já as casas de apostas ficam sujeitas agora a uma tributação de 12% sobre a arrecadação.

(Disponível em: <https://www.nexojornal.com.br/extra/>. Acesso em: 01/01/2023. Adaptado.)

A nova Lei busca regulamentar as apostas

- A) esportivas presenciais como futebol e vôlei.
- B) como rifas, ações beneficentes e sorteios feitos nas redes sociais.
- C) virtuais e físicas, evento real de temática esportiva, jogo *on-line* e eventos virtuais de jogos *on-line*, como cassinos.
- D) físicas e virtuais, eventos fictícios de temática esportiva, jogos presenciais e eventos físicos de jogos *on-line*, como cassinos.

ATENÇÃO



NÃO É PERMITIDA a anotação das respostas da prova em NENHUM MEIO. O candidato flagrado nesta conduta poderá ser ELIMINADO do processo.

INSTRUÇÕES

1. Somente será permitida a utilização de caneta esferográfica de tinta azul ou preta, feita de material transparente e de ponta grossa.
2. É proibida, durante a realização das provas, a comunicação entre os candidatos e a utilização de máquinas calculadoras e/ou similares, livros, anotações, impressos ou qualquer outro material de consulta, protetor auricular, lápis, borracha ou corretivo. Especificamente, não será permitido ao candidato ingressar na sala de provas sem o devido recolhimento, com respectiva identificação, dos seguintes equipamentos: *bip*, telefone celular, *walkman*, agenda eletrônica, *notebook*, *palmtop*, *ipod*, *ipad*, *tablet*, *smartphone*, mp3, mp4, receptor, gravador, máquina de calcular, máquina fotográfica, controle de alarme de veículo, relógio de qualquer modelo, pulseiras magnéticas e similares etc., o que não acarreta em qualquer responsabilidade do Instituto Consulplan sobre tais equipamentos.
3. Com vistas à garantia da segurança e da integridade do certame, no dia da realização das provas escritas, os candidatos serão submetidos ao sistema de detecção de metais na entrada e na saída dos sanitários. Excepcionalmente, poderão ser realizados, a qualquer tempo durante a realização das provas, outros procedimentos de vistoria além do descrito.
4. O caderno de provas consta de 30 (trinta) questões de múltipla escolha para os cargos de nível fundamental completo e incompleto; 40 (quarenta) questões de múltipla escolha para os cargos de nível médio/técnico completo; e, 50 (cinquenta) questões de múltipla escolha para os cargos de nível superior completo.
5. Ao receber o material de realização das provas, o candidato deverá conferir atentamente se o caderno de provas contém o número de questões previsto, se corresponde ao cargo a que está concorrendo, bem como se os dados constantes no Cartão de Respostas (Gabarito) estão corretos. Caso os dados estejam incorretos, ou o material esteja incompleto ou, ainda, detenha qualquer imperfeição, o candidato deverá informar tal ocorrência ao Fiscal de Aplicação, não cabendo reclamações posteriores neste sentido.
6. A prova terá duração de 3 (três) horas para os cargos de nível fundamental incompleto, fundamental completo, nível médio e técnico; 4 (quatro) horas para os cargos de nível superior (exceto Procurador); e, 5 (cinco) horas para o cargo de Procurador. Este período abrange a assinatura, assim como a transcrição das respostas para o Cartão de Respostas (Gabarito).
7. As questões das provas objetivas são do tipo múltipla escolha, com 4 (quatro) opções (A a D) e uma única resposta correta. Ao terminar a prova, o candidato, obrigatoriamente, deverá devolver ao Fiscal de Aplicação o Cartão de Respostas (Gabarito).
8. Os Fiscais de Aplicação não estão autorizados a emitir opinião nem prestar esclarecimentos sobre o conteúdo das provas. Cabe única e exclusivamente ao candidato interpretar e decidir.
9. Não é permitida a anotação de informações relativas às suas respostas (cópia de gabarito) no comprovante de inscrição ou em nenhum outro meio.
10. O candidato somente poderá se retirar do local de realização das provas escritas levando o caderno de provas no decurso dos últimos 60 (sessenta) minutos anteriores ao horário previsto para o seu término. O candidato poderá se retirar do local de realização das provas somente a partir dos 90 (noventa) minutos após o início de sua realização; contudo, não poderá levar o seu caderno de provas.
11. Os 3 (três) últimos candidatos de cada sala só poderão sair juntos. Caso algum insista em sair do local de aplicação antes de autorizado pelo Fiscal de Aplicação, deverá assinar termo desistindo do Concurso Público e, caso se negue, será lavrado Termo de Ocorrência, testemunhado pelos 2 (dois) outros candidatos, pelo Fiscal de Aplicação da sala e pelo Coordenador da Unidade de Provas.

RESULTADOS E RECURSOS

- Os gabaritos oficiais preliminares das provas objetivas serão divulgados na *Internet*, no endereço eletrônico www.institutoconsulplan.org.br, a partir das 16h00min da segunda-feira subsequente à realização das provas escritas objetivas de múltipla escolha.
- O candidato que desejar interpor recursos contra os gabaritos oficiais preliminares das provas objetivas disporá de 3 (três) dias úteis, a partir do dia subsequente ao da divulgação (terça-feira), em requerimento próprio disponibilizado no *link* correlato ao Concurso Público no endereço eletrônico www.institutoconsulplan.org.br.
- A interposição de recursos poderá ser feita via *Internet*, através do Sistema Eletrônico de Interposição de Recursos, com acesso pelo candidato com o fornecimento de dados referente à sua inscrição apenas no prazo recursal, ao Instituto Consulplan, conforme disposições contidas no endereço eletrônico www.institutoconsulplan.org.br, no *link* correspondente ao Concurso Público.