



PROCESSO SELETIVO SIMPLIFICADO

MÉDICO PLANTONISTA

CADERNO DE PROVA 10

Data de aplicação: **14/04/2024**

1. Ao receber este Caderno, aguarde a autorização do Fiscal de Sala e em seguida confira se ele contém 30 (trinta) questões objetivas numeradas sequencialmente de 1 a 30, cada uma com 5 (cinco) alternativas indicadas pelas letras 'A' a 'E', das quais, somente uma corresponderá à resposta certa para a questão.
2. **ATENÇÃO!** A Folha de Respostas será entregue oportunamente pelos Fiscais de Sala. Ao recebê-lo, assine-o.
3. Na Folha de Respostas marque a letra correspondente à resposta correta para a questão conforme o seu julgamento, utilizando **caneta esferográfica de tinta azul ou preta**, conforme exemplo abaixo:



ATENÇÃO! A marcação de mais de uma alternativa anula a questão, mesmo que uma das respostas esteja correta.

4. O tempo total para a resolução da prova e preenchimento da Folha de Respostas é de 3 (três) horas. Ao terminar as provas, entregue ao Fiscal de Sala a Folha de Respostas, e assine a Lista de Presença.
5. As provas, os gabaritos, os resultados e as demais informações referentes ao Concurso Público, serão divulgados no site oficial da FACAPE: www.facape.br, conforme previsto no Edital N° 03/2024.
6. O candidato só poderá sair da Sala com o Caderno de Prova após 2 (duas) horas e 30 (trinta) minutos do início da aplicação da prova.

Boa prova!

LÍNGUA PORTUGUESA – NS100

QUESTÃO 01

“A povoação de Boa Vista, anteriormente denominada Bom Jesus da Igreja Nova, teve início com a construção de uma capela em 1762. O distrito de Boa Vista surgiu no mesmo ano, evoluindo gradualmente para um núcleo populoso. A freguesia foi estabelecida em 1763, com Santa Maria como padroeira. Ao longo dos anos, Santa Maria da Boa Vista fez parte de diferentes dioceses até chegar à Diocese de Petrolina.

A trajetória histórica do município inclui elevações à categoria de vila e a instalação de comarcas. Em 1838, a Lei Provincial nº 58 concedeu o status de vila e sede da comarca a Boa Vista. Contudo, mudanças administrativas ocorreram posteriormente, resultando na divisão da comarca e alterações na sede do termo. A cidade de Boa Vista também passou por diversas mudanças de denominação, até recuperar a designação original de Santa Maria da Boa Vista.

Ao longo do tempo, surgiram novos distritos e modificações administrativas, culminando na atual configuração do município. A persistência da devoção a Santa Maria e as mudanças geográficas moldaram a identidade da cidade, que, mesmo diante de alterações territoriais, permanece como um marco histórico e cultural na região do Vale do São Francisco.”

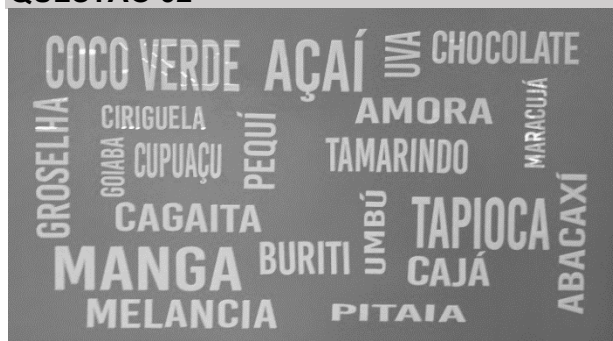
Disponível em: <https://santamariadaboavista.pe.gov.br>
(adaptado)

Sobre o texto, é CORRETO afirmar que:

- A) no trecho “...teve início com a construção de uma capela em 1762.”, a expressão “de uma capela em 1762” completa a significação do termo “construção”, estabelecendo uma relação de regência nominal.
- B) a passagem “Ao longo dos anos, Santa Maria da Boa Vista fez parte de diferentes dioceses até chegar à Diocese de Petrolina.” propõe uma reflexão mais aprofundada sobre a fundação do município de Santa Maria da Boa Vista.

- C) em “Contudo, mudanças administrativas ocorreram posteriormente...”, o recurso coesivo “Contudo” introduz uma oração que expressa valor de conclusão.
- D) no trecho “Ao longo do tempo, surgiram novos distritos e modificações administrativas...”, o adjetivo “novos” estabelece com o substantivo “distritos” uma relação de concordância verbal.
- E) o trecho “...surgiram novos distritos e modificações administrativas...” demonstra que o texto apresenta uma visão positiva sobre a presença da disponibilidade de recursos de publicidade.

QUESTÃO 02



Fotografado em 08/03/2024

O painel de palavras, acima, é referente aos sabores de uma sorveteria. Com base nessas palavras, pode-se afirmar que:

- A) a palavra “PITAIA” é paroxítona terminada em “a”, portanto deveria estar com um acento agudo.
- B) a palavra “CAGAITA”, que é uma fruta nativa brasileira, deveria estar devidamente acentuada.
- C) a palavra “CUPUAÇU” é oxítona terminada em “u”, logo o acento agudo é obrigatório.
- D) as palavras “UMBÚ” e “PEQUÍ” apresentam desvios no que diz respeito às regras de acentuação gráfica.
- E) as palavras “CAJÁ” e “AÇAÍ” são acentuadas pelo mesmo motivo.

QUESTÃO 03



Disponível no Facebook da Secretaria de Educação - SMBV

O propósito comunicativo da Jornada PEDAGÓGICA é:

- A) despertar na criança a importância do lúdico na escola.
- B) expressar a dificuldade de se comunicar com os educadores sobre a importância do evento.
- C) divulgar uma série de benefícios que o evento pode proporcionar aos discentes do município.
- D) persuadir o profissional de educação a participar do evento.
- E) sensibilizar o professor do município sobre a importância da educação infantil.

QUESTÃO 04

Ardor da seca!

“O sol aumenta na tarde
resseca o brejo e o agreste
na primavera ainda arde
bem mais que sul e sudeste
por mais que água se guarde
a seca é triste e covarde
e não perdoa o nordeste.”

Guibson Medeiros

No verso “por mais que água se guarde”, o recurso coesivo sublinhado introduz uma oração com valor semântico de:

- A) conclusão.
- B) explicação.
- C) concessão.
- D) condição.
- E) causa.

QUESTÃO 05

As frases abaixo são de autoria da escritora Cora Coralina. Assinale a alternativa em que o termo destacado introduz uma oração com valor semântico de condição.

- A) “O saber a gente aprende com os mestres e os livros. A sabedoria se aprende é com a vida e com os humildes.”
- B) “Fiz a escalada da montanha da vida removendo pedras e plantando flores.”
- C) “Nada do que vivemos tem sentido, se não tocarmos o coração das pessoas.”
- D) “Recrie sua vida, sempre, sempre. Remova pedras, plante roseiras e faça doces. Recomece!”
- E) “A verdadeira coragem é ir atrás de seus sonhos mesmo quando todos dizem que eles são impossíveis.”

QUESTÃO 06

“A violência contra as crianças inclui violência física, psicológica, discriminação, negligência e maus-tratos. Ela vai desde abusos sexuais em casa a castigos corporais e humilhantes na escola; do uso de restrições físicas em casa à brutalidade cometida pelas forças da ordem, de abusos e negligência em instituições até às lutas de gangues nas ruas onde as crianças brincam ou trabalham; do infanticídio aos chamados «crimes» de honra.”

Disponível em: <http://www.unicef.org>

Avalie as três afirmativas abaixo, com base no texto acima.

- I. A função de linguagem predominante é referencial.
- II. Na passagem “Ela vai desde abusos sexuais em casa a castigos corporais e humilhantes na escola...”, os termos “sexuais” e “corporais” estabelecem com os

substantivos a que se referem uma relação de concordância nominal.

- III. Há um desvio de grafia na passagem “...onde as crianças brincam ou trabalham; do infanticídio aos chamados «crimes» de honra.”.

Está CORRETO o que se afirma em:

- A) I, apenas.
- B) II, apenas.
- C) III, apenas.
- D) I e II, apenas.
- E) II e III, apenas.

QUESTÃO 07

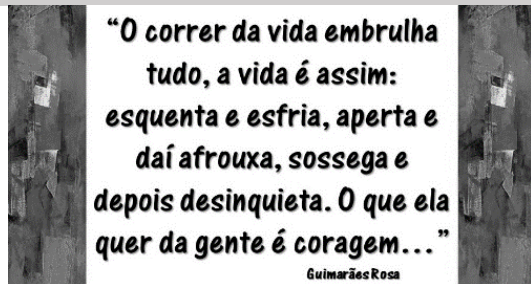
“Sei que, frequentemente, os sinais e os símbolos exteriores, visíveis e tangíveis da sorte e da, só aparecem quando, na realidade, tudo já se põe de novo a declinar.”

Thomas Mann

Assinale a alternativa que preenche CORRETAMENTE a lacuna do texto acima.

- A) ascensão
- B) ascensão
- C) assensão
- D) acensão
- E) assensão

QUESTÃO 08



No trecho, acima, Guimarães Rosa aborda:

- A) a busca pela felicidade plena.
- B) as decepções amorosas.
- C) a valorização da realidade social das mulheres.
- D) os valores afetivos atribuídos à coragem dos jovens.
- E) as contradições da vida.

QUESTÃO 09

“As palavras têm um enorme poder. A palavra errada já causou guerras, sem falar no fim de um sem-número de casamentos. Há um mundo de diferenças entre o estresse e a raiva, ou entre o estresse e a decepção, ou entre o estresse e a ansiedade. Se não conseguimos rotular com precisão o que estamos sentindo, fica difícil nos comunicarmos bem o bastante para obter o apoio de que precisamos.”.

Susan David

A oração “...para obter o apoio de que precisamos.” expressa uma:

- A) finalidade.
- B) consequência.
- C) condição.
- D) oposição.
- E) conformidade.

QUESTÃO 10



Disponível em: <https://www.mapadomeceu.com.br>

Com base na frase de autoria de Ralph Waldo Emerson, pode-se afirmar que:

- A) foi empregada uma palavra com a grafia que contraria o sistema ortográfico vigente.
- B) foge à rigidez da norma culta escrita no que se refere à concordância verbal visto que a forma verbal “veem” deveria estar acentuada.
- C) o emprego da palavra “momento” possui caráter apelativo.



- D) a temática da frase apresenta um tom de desilusão.
E) as palavras “escuridão” e “estrelas” induzem as pessoas a não agirem de má fé.

MATEMÁTICA – NS200

QUESTÃO 11

Normalmente os anos do nosso calendário têm 365 dias. No entanto, há os chamados anos bissextos, que são aqueles em que o mês de fevereiro possui um dia a mais, ou seja, o dia 29 de fevereiro, e com isso, o ano passa a ter 366 dias. Esses anos bissextos ocorrem de 4 em 4 anos. Uma curiosidade matemática é que, os números dos anos bissextos são múltiplos de 4, ou seja, são divisíveis por 4, com exceção dos que terminam em 00 que serão bissextos quando divisíveis por 400. Dentre os anos nas alternativas a seguir, o que **NÃO** representa um ano bissexto é:

- A) 1960
- B) 1980
- C) 2000
- D) 2010
- E) 2024

QUESTÃO 12

Uma rua do centro histórico da cidade possui 20 casas apenas do mesmo lado da rua, todas de frente para uma praça. Essas 20 casas vão receber placas com a numeração sequencial para cada uma delas, iniciando com a placa para a casa de número 1 até a placa para a casa de número 20. Com isso, a quantidade de vezes que o algarismo 1 irá aparecer nessas numerações será:

- A) 1
- B) 2
- C) 10
- D) 11
- E) 12

QUESTÃO 13

Uma dízima periódica é um número decimal que apresenta um ou mais algarismos que se repetem na mesma ordem infinitamente. Por exemplo: **0,232323...** . Essas dízimas periódicas se originam da divisão entre dois números

inteiros. Considere as seguintes divisões entre os números inteiros a seguir:

- I. $5 \div 9$
- II. $4141 \div 1000$
- III. $7 \div 33$

As divisões que originam uma dízima periódica são as que constam apenas em:

- A) II e III.
- B) I e III.
- C) III.
- D) II.
- E) I.

QUESTÃO 14

Diariamente alguns veículos de transporte coletivo de passageiros realiza viagens entre as cidades de Santa Maria da Boa Vista e Petrolina, cuja distância entre os centros comerciais dessas cidades é de 110 km. Suponha que um desses veículos realize esse trajeto com uma velocidade média constante de 55 km/h. Assim, o tempo de duração dessa viagem será:

- A) 2 h.
- B) 2 h 45 minutos.
- C) 2 h 50 minutos.
- D) 3 h e meia de viagem.
- E) 3 h 45 minutos de viagem.

QUESTÃO 15

As constantes alterações nos preços dos combustíveis às vezes pegam de surpresa os motoristas de veículos. Suponha que em um dia, um motorista abasteceu o seu veículo e o preço do litro de gasolina custava R\$ 5,00. No dia seguinte, ao abastecer novamente, verificou que o preço do litro de gasolina havia passado para R\$ 6,00.



Assim, o aumento percentual no preço do litro desse combustível foi:

- A) 1%
- B) 10%
- C) 20%
- D) 25%
- E) 30%

INFORMÁTICA BÁSICA – NS300

QUESTÃO 16

Em relação ao Windows 10, um dos recursos é o Explorador de Arquivos. Escolhendo uma pasta e em seguida escolhendo um arquivo que consta dentro desta pasta, podemos clicar neste arquivo com o botão auxiliar do mouse, em seguida escolher a opção “Propriedades” e em seguida clicar na aba “Geral”. Que informação não é disponibilizada nesta tela:

- A) Local do arquivo.
- B) Tipo de arquivo.
- C) Data de criação do arquivo.
- D) Nome do usuário criador do arquivo.
- E) Atributos do arquivo.

QUESTÃO 17

Sobre teclas de atalho do Microsoft Word, marque a alternativa correta que indica, respectivamente as teclas de atalho para: Salvar, Recortar, Desfazer, Negrito e Ajuda.

- A) Ctrl+S, Ctrl+R, Ctrl+D, Ctrl+B, Ctrl+A
- B) Ctrl+S, F12, Ctrl+Z, Ctrl+N, Ctrl+A
- C) Ctrl+B, Ctrl+R, Ctrl+Y, Ctrl+N + Ctrl+H
- D) Ctrl+S, Ctrl+X, Ctrl+Z, Ctrl+B, Ctrl+H
- E) Ctrl+B, Ctrl+X, Ctrl+Z, Ctrl+N, F1

QUESTÃO 18

Considere a seguinte imagem como recorte de uma planilha do Microsoft Excel.

	A	B	C	D	E
1					
2	Cidade	Área (Km ²)	População	IDH	
3	Sta Maria B. Vista	3001,168	40578	0,59	
4	Orocó	554,752	13613	0,61	
5	Lagoa Grande	1852,186	24088	0,581	
6	Petrolina	4389,623	386786	0,697	
7	Soma				
8					

Marque a alternativa correta:

- A) Para colorir as células da linha de cabeçalho da planilha compreendidas de A2 a D2, pode-se selecionar estas células e depois utilizar o botão “Cor de Preenchimento”.
- B) Para realizar a soma da coluna Área, cujo resultado apareça na célula B7 pode-se selecionar a coluna B clicando na letra B e utilizar o botão “Soma”.
- C) Para ordenar a coluna cidade de forma alfabética, de modo que as cidades fiquem ordenadas, basta selecionar a planilha da célula A2 até D7 e acionar o botão “Classificar de A a Z”.
- D) Para configurar a impressão da planilha em uma folha centralizada horizontalmente pode-se selecionar a planilha de A2 até D7 e clicar no botão “Centralizar”.
- E) Aplicando uma “Formatação Condicional” nas células de D3 a D6, estas células não aceitarão outra formatação que não esteja nesta condição aplicada.

QUESTÃO 19

Os computadores pessoais, notebooks e smartphones são equipamentos eletrônicos usados no dia a dia das pessoas, eles são capazes de fazer coisas produtivas. Os usuários que acessam à *internet* podem fazer através de softwares conhecidos como navegadores ou *browsers*. Qual das alternativas abaixo são nomes de três navegadores de *internet*?

- A) Safari, Mozilla Firefox e Adobe.
- B) Mozilla Firefox, Chrome e IOS.
- C) Chrome, Edge e Outlook.
- D) Edge, Opera e Facebook.
- E) Vivaldi, Opera e Brave.

QUESTÃO 20

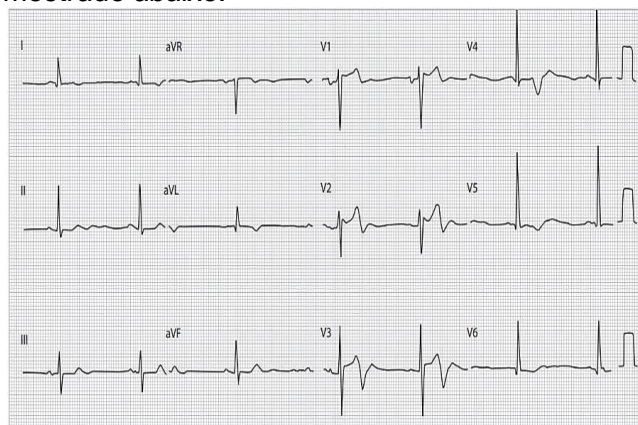
Os softwares que compactam e extraem arquivos são capazes de produzir a compressão de arquivos de maneira que esses arquivos fiquem de tamanho menor e ocupem menos espaço. As opções a seguir são exemplos de compactadores de arquivos, EXCETO:

- A) Adobe Zip.
- B) WinRAR.
- C) GZip.
- D) BandiZip.
- E) WinZIP.

CONHECIMENTOS ESPECÍFICOS - NS410

QUESTÃO 21

Paciente de 53 anos admitido na unidade de emergência com queixa de dor torácica tipo aperto há 7 horas da admissão que durou cerca de 20 minutos e cedeu espontaneamente. É hipertenso (faz uso irregular da medicação), fumante e etilista. Foi realizado ECG que é mostrado abaixo:



Sobre esse paciente assinale a resposta adequada:

- A) A característica da dor não anginosa, associada a ECG sem supra de ST permite a orientação, início de analgesia e encaminhamento ambulatorial.
- B) Manter paciente em unidade de emergência por 6h, seriar enzimas cardíacas. Caso as enzimas negativas, liberar para acompanhamento ambulatorial.
- C) Independentemente do resultado de enzimas cardíacas, paciente tem indicação de Cateterismo de urgência.
- D) Trata-se de IAM com supra de ST e há indicação de trombólise de urgência.

- E) Paciente deve ter medicações para hipertensão ajustadas e encaminhado para teste ergométrico.

QUESTÃO 22

Mulher, 25 anos, sem histórico de comorbidades comparece a unidade de emergência com queixa de dor torácica ventilatório-dependente à direita, de moderada intensidade, há 48h. Foi avaliada no pronto-socorro com radiografia de tórax normal e liberada com anti-inflamatório não hormonal. Retornou após 24h ao pronto-socorro com dor na mesma localização, mas de menor intensidade, sensação febril e síncope 1h antes de chegar ao pronto-socorro. No exame físico, corada, hidratada, frequência respiratória de 24 irpm; FC = 110 bpm; PA = 90 x 60 mmHg; saturação de O₂ 92% em ar ambiente; T = 37,4°C. Ausculta cardíaca e pulmonar sem alterações. Restante do exame físico normal. Hemograma sem leucocitose sem desvio à esquerda. ECG apresentando taquicardia sinusal.

Sobre o caso acima assinale a alternativa CORRETA.

- A) Histórico do uso de medicações de uso contínuo não influenciam no diagnóstico dessa paciente.
- B) Trata-se de pneumonia comunitária e sepse, devendo-se repetir a radiografia de tórax e iniciar antibioticoterapia em regime de internação hospitalar.



- C) Exame contrastado de tórax pode confirmar o diagnóstico e direcionar o planejamento terapêutico.
- D) O diagnóstico de fibromialgia, diante da idade e achados clínicos descritos é altamente provável.
- E) No caso em questão, não há achados ecocardiográficos passíveis de auxiliar no diagnóstico.

QUESTÃO 23

Mulher, 18 anos, foi admitida na unidade de emergência com quadro de dispneia, emagrecimento não intencional e aumento do volume de diurese, associada a dor abdominal de início há 4 dias. Nos últimos 2 dias, ficou mais prostrada e passou a apresentar náuseas e vômitos. O exame físico da chegada mostra: paciente desidratada, sonolenta, taquipneica. Foi solicitado hemoglicoteste e o aparelho mostrou em seu visor a mensagem “HY”; cetonúria positiva; pH sérico = 7,16; bicarbonato sérico = 12.

Sobre o caso acima, assinale a alternativa CORRETA:

- A) Durante o tratamento correto dessa paciente, as complicações mais frequentes e potencialmente graves são amaurose, hiperglicemia refratária e oligúria.
- B) A paciente acima tem indicação absoluta de uso de bicarbonato de sódio antes de se iniciar a hidratação venosa.
- C) Diante de hemoglicoteste com resultado “HY” o início de insulina venoso deve ocorrer imediatamente.
- D) São complicações graves relacionadas ao atendimento dessa patologia hipoglicemia, hipocalemia e edema cerebral.
- E) A paciente em questão apresenta resistência insulínica com necessidade de início imediato de metformina.

QUESTÃO 24

Sobre o atendimento inicial do Acidente Vascular Encefálico, é CORRETO afirmar:

- A) o Protocolo de atendimento pré-hospitalar do acidente vascular cerebral utiliza a escala SAMU como avaliação inicial.
- B) acidentes vasculares hemorrágicos caracterizam a principal etiologia das doenças vasculares.
- C) é possível realizar a trombólise química em até 4,5h do evento hemorrágico.
- D) a escala de FISHER classifica a gravidade dos acidentes vasculares isquêmicos.
- E) não é possível utilizar a escala de Glasgow para prognóstico.

QUESTÃO 25

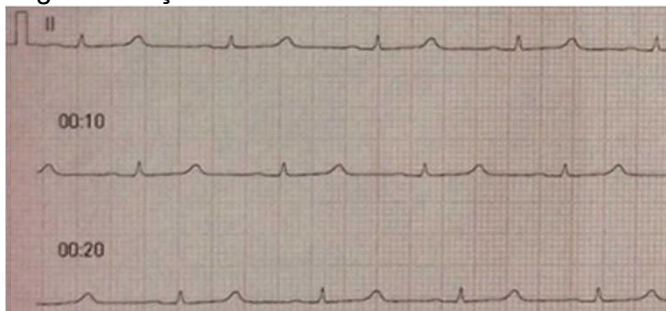
R.C.A 29 anos, sexo masculino, natural e procedente de Salgueiro-PE, branco, casado, heterossexual, católico, médico, foi trazido pelo serviço de atendimento móvel de urgência (SAMU) com relato de acidente automobilístico com impacto frontal entre dois veículos em movimento há cerca de 2 horas. Paciente não estava com cinto de segurança e carro não possui airbag, não houve morte na cena. Relata dor torácica, lipotimia e encontra-se dispneico. Exame físico: PA 80 x 44 mmHg, sendo que a PA sistólica diminuía >10 mmHg na inspiração, FC 108 bpm, ausculta cardíaca com bulhas hipofonéticas e ausculta pulmonar normal.

Assinale a assertiva INCORRETA:

- A) Cerca de 22% dos pacientes com o quadro acima descrito desenvolverão pericardite de causa relacionada à reação imunológica.
- B) São achados compatíveis com o quadro acima ECG de baixa voltagem e alargamento de mediastino ao RX de tórax simples.
- C) Embora possa ocorrer em situações como a descrita no caso, a etiologia mais comum dentre as patologias traumáticas são os ferimentos perfurantes.
- D) Uso de motocicletas é fator de incremento de risco para patologia acima descrita.
- E) Pericardiocentese é formalmente contraindicada nesta situação.

QUESTÃO 26

T.M., 3 anos, antecedente de sibilância, encaminhado da UBS sem contato prévio, com relatório de quadro de asma leve e “cansadinho”, “respirando em ar ambiente” com saturação de 94%. Usou hidrocortisona e NBZ com fenoterol com alguma melhora. Dá entrada no PSI apenas com técnico de enfermagem, com acesso venoso e máscara de Venturi .REG, taquidispneia moderada a intensa, FR de 66 irpm, tiragem de fúrcula, batimento de asa de nariz, tiragem subcostal, palidez, cianose, saturação de 82, TEC de 3 segundos, sudorético, agitado, pulsos periféricos filiformes, sibilos audíveis e generalizados à ausculta. Imediatamente monitorizado, realizado avaliação cardiopulmonar rápida: ausculta, inspeção, sinais vitais, instalado oxigênio feito metilprednisolona e prescrito sulfato de magnésio 50%: 70 mg/kg. Você é chamado pela enfermeira pois o paciente apresenta bradicardia, dessaturação e o monitor mostra o seguinte traçado:



A melhor conduta neste momento é:

- A) Usar gluconato de cálcio.
- B) Iniciar imediatamente RCP.
- C) Sequência rápida e IOT.
- D) Repetir 3 ciclos de nebulização com beta bloqueador.
- E) Expansão rápida com ringer lactato.

QUESTÃO 27

Adolescente admitida na emergência com relato da mãe de “estar azul”. O paciente nega queixas. De antecedentes patológicos refere tratamento para Hanseníase há 2 meses com rifampicina, dapsona e clofazimina. Ao exame:

Taquipneia, cianose central e arroxamento de leitos ungueais. A coleta de sangue evidenciou sangue com aspecto achocolatado. Sobre o caso acima descrito assinale a alternativa CORRETA.

- A) Trata-se de provável cardiopatia congênita cianogenica – encaminhar para avaliação da cirurgia cardíaca.
- B) Intoxicação por dapsona – utilizar o antídoto azul de metileno 1%.
- C) A intoxicação por rifampicina é uma causa importante a ser excluída e deve-se iniciar tratamento com atropina.
- D) Síndrome de metemoglobinemia – utilizar o antídoto n-acetil-cisteína.
- E) Intoxicação por beladona – antídoto fisostigmina.

QUESTÃO 28

ACM, 30 anos, casada, trabalhadora rural, obesidade grau 2, dá entrada na unidade de emergência trazida por familiares com história de ter iniciado pela manhã quadro de cefaléia, visão de pontos amarelados, agitação psicomotora, dor epigástrica, náuseas e vômitos. Há cerca de 30 minutos apresentou crise convulsiva clônico tônico autolimitada. No exame inicial apresenta PA 160/110 mmhg e acentuado edema de membros inferiores. Não há sinais focais/ localizatórios no exame neurológico. AR= murmúrio vesicular ruidoso por roncos de transmissão, ACV RCR BNF 2t S/s. Abdome de difícil avaliação devido ao panículo adiposo. Exames laboratoriais: DHL 1000, TGO 250, TGP 197, HB 8,5 HT 23 leucograma 19550 plaquetas 97.000.

Sobre o caso em questão é FALSA a alternativa:

- A) A hipótese mais provável é de AVC hemorrágico dado a rapidez do início dos sintomas e deve ser encaminhada para TC de urgência.
- B) História clínica detalhada de antecedentes patológicos incluindo passado obstétrico é de vital importância na condução do caso acima.



- C) Ultrassom a beira leito, se disponível é uma ferramenta capaz de fechar o diagnóstico do caso apresentado.
- D) A patologia descrita pode acontecer em mulheres jovens sem relato de Hipertensão arterial sistêmica prévia.
- E) Se beta hcg positivo, a cesária de urgência está indicada.

QUESTÃO 29

Paciente de 40 anos, sexo feminino, residente em Lagoa Grande - PE apresentou quadro de exantema, prurido, febre e artralgia, sendo diagnosticado como Dengue e apresentando melhora com o uso apenas de sintomáticos após 72h. Dez dias, depois, passou a apresentar parestesias em membros inferiores, que evoluiu para membros superiores em 24h. Paciente não buscou ajuda médica por julgar tratar-se de “câimbras” devido a falta de atividade física regular. Após 4 dias, o quadro evoluiu com fraqueza nos membros inferiores, impedindo a deambulação. O paciente ainda se queixava de cefaleia holocraniana e obstipação intestinal. **Exame neurológico:** vigil, orientado em tempo e espaço, pupilas isocóricas e fotorreagentes, motilidade ocular extrínseca preservada e demais pares cranianos sem alteração. Força muscular grau V/V em membros superiores e grau III/V em membros inferiores. Reflexos bicipital, tricipital e estilorrádial grau II/IV; reflexos patelares e aquileu abolidos. Hipoestesia tátil e dolorosa nos quatro membros, com *padrão de bota e luva*. Hipoparestesia em membros inferiores, até o tornozelo.

Sobre o quadro em questão, assinale a assertiva VERDADEIRA:

- A) É obrigatório a realização de Eletroneuromiografia para o diagnóstico da patologia em questão.
- B) É comum encontrar-se dissociação proteíno/celular no líquido desses pacientes com predomínio linfócitos.
- C) O uso de corticoides diminui o tempo para recuperação desses quadros clínicos.

- D) O uso da plasmaferese nesses casos não mostrou benefício em termos de morbimortalidade.
- E) O Tratamento com imunoglobulina deve ser instituído de forma precoce.

QUESTÃO 30

A respeito das intoxicações exógenas relacione:

- | | |
|----------------------|-----------------------|
| (a) Heparina | (1) naloxona |
| (b) Paracetamol | (2) n-acetil-cisteína |
| (c) Organofosforados | (3) glucagon |
| (d) Beta bloqueador | (4) atropina |
| (e) Opioides | (5) protamina |

Está CORRETA a sequência:

- A) a1, b2, c3, d4, e5
- B) a5, b2, c4, d3, e1
- C) a1, b3, c2, d4, e5
- D) a2, b5, c1, d3, e4
- E) a3, b4, c5, d2, e1