

AVANÇASP



CÂMARA MUNICIPAL DE PARATY

CONCURSO PÚBLICO
01/2024

TESOUREIRO

Leia atentamente as instruções abaixo

1. PROVA E FOLHA DE RESPOSTAS

Além deste Caderno de Prova, contendo 40 (quarenta) questões objetivas, você receberá do Fiscal de Sala:

- 01 (uma) Folha de Respostas destinada às respostas das questões objetivas. Confira se seus dados estão corretos.

2. TEMPO

- 03 (três) horas é o tempo disponível para realização da prova, já incluído o tempo para marcação da Folha de Respostas da prova objetiva;

- **01 (uma) hora** após o início da prova é possível, retirar-se da sala levando o caderno de prova;

3. INFORMAÇÕES GERAIS

- As questões objetivas têm 05 (cinco) alternativas de resposta (A, B, C, D, E) e somente **uma** delas está correta;

- Verifique se seu caderno está completo, sem repetição de questões ou falhas. Caso contrário, informe imediatamente o Fiscal da Sala, para que sejam tomadas as devidas providências;

- Confira seus dados pessoais na Folha de Respostas, especialmente nome, número de inscrição e documento de identidade e leia atentamente as instruções para preenchimento;

- O preenchimento das respostas da prova objetiva é de sua responsabilidade e não será permitida a troca de Folha de Respostas em caso de erro de marcação pelo candidato;

- Marque, na folha de respostas, com caneta de tinta azul ou preta, a letra correspondente à alternativa que você escolheu.

- Reserve tempo suficiente para o preenchimento de suas respostas. Para fins de avaliação, serão levadas em consideração apenas as marcações realizadas na Folha de Respostas da prova objetiva, não sendo permitido anotar informações relativas às respostas em qualquer outro meio que não seja o caderno de prova;

- Ao se retirar, entregue a Folha de Respostas preenchida e assinada ao Fiscal de Sala.

SERÁ ELIMINADO do presente certame o candidato que:

- a) for surpreendido, durante as provas, em qualquer tipo de comunicação com outro candidato;

- b) portar ou usar, qualquer tipo de aparelho eletrônico (calculadoras, bips/pagers, câmeras fotográficas, filmadoras, telefones celulares, smartphones, tablets, relógios, walkmans, MP3 players, fones de ouvido, agendas eletrônicas, notebooks, palmtops ou qualquer outro tipo de computador portátil, receptores ou gravadores) seja na sala de prova, sanitários, pátios ou qualquer outra dependência do local de prova;

- c) se ausentar da sala em que se realizam as provas levando consigo o Caderno de Questões e/ou a Folha de Respostas;

- d) se recusar a entregar a Folha de Respostas, quando terminar o tempo estabelecido;

- e) não assinar a Lista de Presença e/ou a Folha de Respostas.

CADERNO DE QUESTÕES

PROVA OBJETIVA

LÍNGUA PORTUGUESA

TEXTO

Leia o texto para responder às questões de 1 a 7.

Máscara em mosaico e outros tesouros são encontrados em tumba de rei maia

O auge da civilização maia ocorreu entre 250 d.C. e 900 d.C. Apesar da grande importância histórica, existem poucos resquícios desse período devido ao saqueamento de sítios arqueológicos. Mas, recentemente, um trabalho da Universidade Tulane, nos EUA, conseguiu recuperar raros tesouros da época.

Liderado pelo arqueólogo Francisco Estrada-Belli, o time de pesquisadores fez investigações no sítio de Chochkitam, localizado na Guatemala, em uma região próxima das fronteiras dos atuais países México e Belize. Em 2022, a equipe encontrou a tumba de um rei maia, datada em 1.700 anos.

A descoberta foi possível graças à tecnologia LIDAR, que utilizou um avião para direcionar raios laser para o chão e, assim, fazer um mapeamento da área. “É como tirar raio-X do solo da floresta”, explica Estrada-Belli, em nota. “Isso revolucionou o nosso campo. Agora podemos ver aonde estamos indo, em vez de simplesmente fazer uma expedição na floresta esperando achar alguma coisa”, diz.

A tumba contém oferendas funerárias consideradas extraordinárias. Há uma máscara de jade em mosaico, raras conchas de ostra e escritos em ossos humanos. Estima-se que as relíquias sejam de 350 d.C.

A expectativa é que elas contribuam para a compreensão de elementos da cultura maia, como a religião e a linhagem real. As conchas, por exemplo, eram utilizadas pela realeza como joias e moedas, além de servirem para oferendas religiosas e de sacrifício. Os escritos em ossos humanos, por sua vez, foram feitos em pedaços de fêmur. Um deles retrata um homem que seria um rei — até então desconhecido — segurando uma máscara de jade similar à encontrada na tumba. Os pesquisadores suspeitam que os

hieróglifos vistos no material possam identificar o pai e o avô do líder, conectando-o a outros estados maias, como Tikal e Teotihuacan.

“Uma descoberta como essa é um pouco como ganhar na loteria, em termos de informação”, constata o arqueólogo Estrada-Belli. “Ela abre uma janela para um tempo obscuro sobre o qual temos pouquíssimos textos.”

Revista Galileu. Disponível em: <https://revistagalileu.globo.com/ciencia/arqueologia/noticia/2024/02/mascara-em-mosaico-e-outros-tesouros-sao-encontrados-em-tumba-de-rei-maia.ghtml>

QUESTÃO 01

De acordo com o texto, todas as afirmações a seguir são verdadeiras, exceto:

- (A) os artefatos do auge da cultura maia são escassos.
- (B) os hieróglifos gravados nos pedaços de fêmur são evidências da linhagem real.
- (C) as conchas encontradas na tumba tinham utilidades diversas na sociedade maia.
- (D) o mapeamento do local em que a tumba foi encontrada foi feito por meio de máquinas de raio-x.
- (E) o auge da civilização maia durou mais de meio século.

QUESTÃO 02

Segundo o texto, as relíquias encontradas na tumba maia são consideradas extraordinárias porque:

- (A) apresentam um alto valor comercial e podem trazer recursos financeiros para os pesquisadores.
- (B) podem contribuir para o entendimento de um período sobre o qual não se tem muita informação.
- (C) sugerem que os estados maias Chochkitam, Tikal e Teotihuacan não tinham qualquer tipo de ligação.
- (D) confirmam que o rei maia a que se referem as oferendas tinha familiares no poder em outros estados maias.
- (E) são escrituras em hieróglifos raros que contam histórias que contrariam o que já se sabia sobre Tikal e Teotihuacan.

QUESTÃO 03

Considere o excerto: “Isso revolucionou o nosso campo.” No contexto apresentado, o pronome demonstrativo “*isso*” é utilizado como um recurso de coesão referencial anafórico. O referente ao qual remete tal pronome é:

- (A) a tecnologia LIDAR.
- (B) a floresta.
- (C) a expedição na floresta.
- (D) o avião utilizado na expedição.
- (E) as relíquias encontradas.

QUESTÃO 04

Considere os seguintes excertos, retirados do texto:

- I. Estima-se que as relíquias sejam de 350 d.C.
- II. Os pesquisadores suspeitam que os hieróglifos vistos no material possam identificar o pai e o avô do líder, conectando-o a outros estados maias, como Tikal e Teotihuacan.

As normas gramaticais que sugerem a colocação pronominal enclítica nos casos apresentados são, respectivamente:

- (A) I. não se inicia período por pronome átono e II. usa-se ênclise em verbos flexionados em oração subordinada.
- (B) I. usa-se ênclise quando houver palavra atrativa antes do verbo e II. usa-se ênclise em orações subordinadas com verbos flexionados em qualquer tempo e modo.
- (C) I. não se inicia período por pronome átono e II. usa-se ênclise em orações reduzidas de gerúndio não precedidas pela preposição *em*.
- (D) I. usa-se ênclise em orações imperativas afirmativas e II. usa-se ênclise em orações reduzidas de gerúndio, independentemente dos demais elementos colocados.
- (E) I. usa-se ênclise em orações reduzidas de infinitivo flexionado e II. usa-se ênclise em orações reduzidas de gerúndio antecedidas pela preposição *em*, mesmo que esta esteja implícita.

Considere o excerto a seguir para responder às questões 5, 6 e 7:

“Uma descoberta como essa é um pouco como ganhar na loteria, em termos de informação”, constata o arqueólogo Estrada-Belli. “Ela abre uma janela para um tempo obscuro sobre o qual temos pouquíssimos textos.”

QUESTÃO 05

No excerto apresentado, a regência verbal de “abrir” é:

- (A) transitiva direta.
- (B) transitiva indireta.
- (C) intransitiva.
- (D) transitiva direta e indireta.
- (E) pronominal.

QUESTÃO 06

Em relação às categorias gramaticais, no contexto em que ocorrem, as palavras “uma”, “descoberta”, “obscuro” e “qual” classificam-se respectivamente em:

- (A) pronome indefinido, adjetivo, substantivo e pronome relativo.
- (B) artigo indefinido, substantivo, adjetivo e pronome relativo.
- (C) artigo indefinido, substantivo, adjetivo e pronome interrogativo.
- (D) artigo indefinido, adjetivo, adjetivo e pronome interrogativo.
- (E) pronome indefinido, substantivo, substantivo e pronome relativo.

QUESTÃO 07

O adjetivo “*pouquíssimos*”, que ocorre no excerto apresentado, exprime sua qualidade no grau:

- (A) positivo.
- (B) comparativo.
- (C) superlativo relativo.
- (D) superlativo absoluto sintético.
- (E) superlativo absoluto analítico.

QUESTÃO 08

Analise as palavras a seguir quanto à tonicidade e assinale a alternativa em que a palavra dada é oxítona.

- (A) hostil.
- (B) aeromoça.
- (C) espelho.
- (D) patente.
- (E) esperança.

QUESTÃO 09

Analise as sentenças a seguir e assinale aquela em que ocorre um verbo defectivo.

- (A) Deste pico se vê toda a praia.
- (B) A prefeitura demoliu os prédios mais antigos da cidade ontem à tarde.
- (C) Os incêndios florestais criminosos multiplicam-se nessa época do ano.
- (D) A exposição de fotos na biblioteca da universidade está belíssima.
- (E) Ele imprimiu todas as suas fotos da viagem à Flórida.

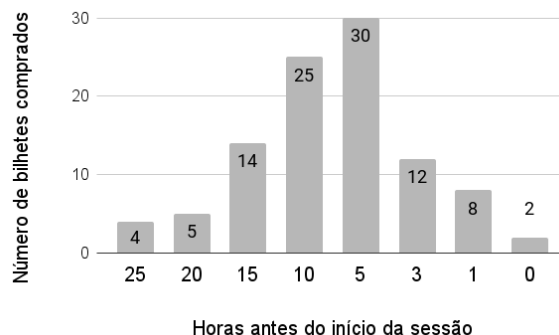
QUESTÃO 10

Analise as sentenças a seguir e assinale a alternativa em que as palavras apontadas preenchem corretamente as lacunas.

- I. O _____ da máquina de lavar ficou muito caro.
 - II. Já reservamos os _____ para assistirmos à peça teatral.
 - III. Finalmente, as crianças _____ a gritaria.
- (A) I. concerto; II. assentos; III. cessaram.
 - (B) I. conserto; II. assentos; III. cessaram.
 - (C) I. conserto; II. acentos; III. cessaram.
 - (D) I. concerto; II. assentos; III. sessaram.
 - (E) I. conserto; II. acentos; III. sessaram.

MATEMÁTICA E RACIOCÍNIO LÓGICO**QUESTÃO 11**

A figura abaixo mostra a antecedência de compra dos clientes para uma determinada sessão de cinema:



A antecedência de compra é a diferença de tempo entre o horário do início do filme e o horário da compra do bilhete. Com base no gráfico, pode-se dizer que a média de antecedência de compra, em horas, é:

- (A) 8,54.
- (B) 8,15.
- (C) 9,80.
- (D) 7,92.
- (E) 5,15.

QUESTÃO 12

Um quadrado e um triângulo equilátero têm a mesma área, qual a razão entre o perímetro deste quadrado e o perímetro deste triângulo? Sabe-se que a altura do triângulo equilátero é $a\frac{\sqrt{3}}{2}$, onde a é a medida do seu lado.

- (A) $\frac{3}{2} \sqrt[4]{3}$.
- (B) $\frac{1}{3} \sqrt[4]{3}$.
- (C) $\frac{3}{2 \sqrt[4]{3}}$.
- (D) $\frac{3}{4 \sqrt[4]{3}}$.
- (E) $\frac{2}{3} \sqrt[4]{3}$.

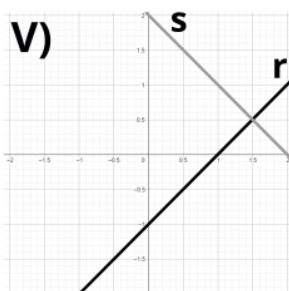
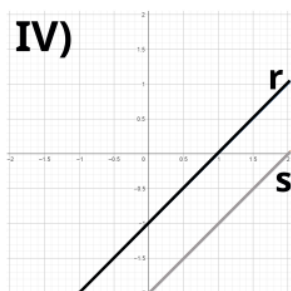
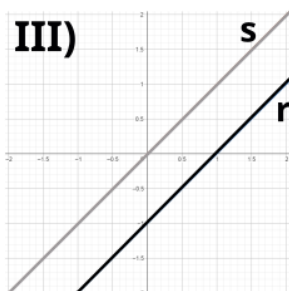
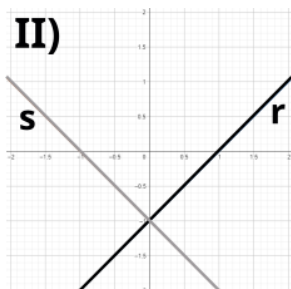
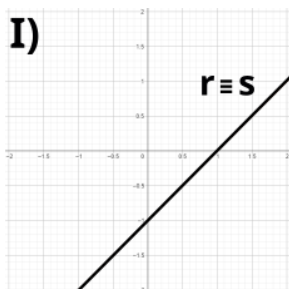
QUESTÃO 13

Observe o sistema de equações do primeiro grau abaixo:

$$2y = 2x - 2$$

$$-y = -x + 1$$

Essas equações podem ser representadas por retas r e s , respectivamente, num gráfico. Dentre as correspondências abaixo, indique o gráfico ao qual este sistema corresponde:



- (A) I.
(B) II.
(C) III.
(D) IV.
(E) V.

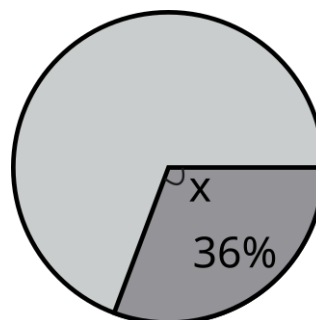
QUESTÃO 14

Um professor aplicou uma prova cuja nota final deve estar entre zero e dez. Ao calcular as notas, ele viu que a média da turma foi 3,0, e o candidato com maior nota tirou 6,0. Ele resolveu ‘normalizar’ as notas e atribuiu a nota 10,0 ao estudante com nota máxima anterior, e aumentou a nota de todos os outros alunos na mesma porcentagem que aumentou a do estudante com nota máxima. Neste caso, quanto passou a ser a média da turma?

- (A) 5,5.
(B) 5,0.
(C) 7,0.
(D) 6,5.
(E) 6,0.

QUESTÃO 15

Num gráfico de pizza, se quisermos representar uma fração de 36%, conforme a figura abaixo:



Qual deve ser o ângulo X do setor circular?

- (A) 224,0°.
(B) 129,6°.
(C) 136,4°.
(D) 64,0°.
(E) 112,9°.

NOÇÕES DE INFORMÁTICA**QUESTÃO 16**

No MS-Word 2016, qual das seguintes alternativas descreve corretamente o processo para recuperar um documento que não foi salvo antes do fechamento do aplicativo?

- (A) Acessar o menu "Arquivo", selecionar "Informações", depois "Gerenciar Documento" e "Recuperar Documentos Não Salvos".
- (B) Reabrir o Word, que automaticamente exibirá os documentos não salvos.
- (C) Usar a função "Pesquisar" do sistema operacional para localizar o arquivo temporário que corresponderá à versão mais recente editada.
- (D) Ir em "Opções" dentro do Word, selecionar "Salvar" e acessar a pasta de auto recuperação "Recuperar Documentos Não Salvos".
- (E) Clicar no botão "Desfazer" na barra de ferramentas de acesso rápido após reabrir o Word.

QUESTÃO 17

Quando se deseja alterar a aparência do texto no Microsoft Word 2016, pode-se modificar a fonte, o tamanho, sublinhar e alinhar o texto através da guia _____.

- (A) Revisão
- (B) Inserir
- (C) Layout de Página
- (D) Página Inicial
- (E) Referências

QUESTÃO 18

No Excel 2016, como uma fórmula deve ser iniciada para realizar cálculos dentro de uma célula?

- (A) Com o sinal #
- (B) Com o sinal &
- (C) Com o sinal @
- (D) Com o sinal %
- (E) Com o sinal =

QUESTÃO 19

No Microsoft Excel 2016, para realizar o cálculo do total dos valores presentes em um determinado conjunto de células, que no presente caso compreende de A1 até A5, qual das funções a seguir é apropriada?

- (A) =SOMA(A1:A5)
- (B) =SUBTRAIR(A1:A5)
- (C) =MULTIPLICAR(A1:A5)
- (D) =DIVIDIR(A1:A5)
- (E) =MÉDIA(A1:A5)

QUESTÃO 20

Em relação à criação e execução de macros no MS-Excel 2016, qual afirmação é verdadeira?

- (A) O Excel não permite a importação de macros de outras planilhas, mas suporta a exportação direta de macros para outros softwares de planilha.
- (B) É impossível atribuir uma macro a um botão na planilha para facilitar sua execução.
- (C) Macros são usadas para operações de formatação e não podem automatizar cálculos ou análise de dados.
- (D) Para executar uma macro, o usuário precisa acessar sempre o Visual Basic for Applications (VBA).
- (E) Macros permitem automatizar tarefas repetitivas, incluindo cálculos complexos, através de scripts no VBA.

CONHECIMENTOS ESPECÍFICOS
QUESTÃO 21

IMPORTANTE! Para resolução das questões de número **21 a 30**, considere as informações a seguir:

Suponha que no exercício de 2023 o Município de Guaracavuçu tenha efetuado as seguintes transações orçamentárias e financeiras.

Receita Orçamentária			
	Prevista	Arrecadada	Recolhida
Amortização de Empréstimos Concedidos	22.500,00	20.000,00	18.500,00
Imposto sobre a Renda Retido na Fonte	11.000,00	10.000,00	10.000,00
Imposto sobre a Propriedade Territorial Urbana	45.000,00	42.500,00	40.000,00
Operações de Crédito	30.000,00	30.000,00	30.000,00
Fundo de Participação dos Municípios	42.500,00	75.000,00	75.000,00
Alienação de Bens Imóveis	35.000,00	20.000,00	20.000,00
Imposto Sobre Serviços de Qualquer Natureza	20.000,00	30.000,00	29.000,00
Receita de Contribuições	14.000,00	10.000,00	10.000,00
Transferências de Capital	20.000,00	20.000,00	20.000,00

Despesa Orçamentária				
Classificação por natureza	Elemento da Despesa	Fixada	Empenhada/ Liquidada	Paga
3.2.90.23.00	Juros, Deságios e Descontos da Dívida Mobiliária	28.500,00	27.500,00	26.500,00
4.5.90.65.00	Aumento de Capital de Empresas Públicas	49.000,00	42.500,00	42.500,00
4.4.90.51.00	Obras e Instalações	22.000,00	22.000,00	20.000,00
3.1.90.34.00	Outras Despesas de Pessoal decorrentes de Contratos de Terceirização	23.500,00	22.500,00	22.500,00
3.1.90.11.00	Vencimentos e Vantagens Fixas – Pessoal Civil	37.500,00	35.000,00	32.500,00
3.1.90.04.00	Contratação por Tempo Determinado	21.000,00	15.000,00	15.000,00
4.5.90.52.00	Equipamentos e Material Permanente	26.000,00	21.000,00	18.500,00
3.1.90.13.00	Obrigações Patronais	32.500,00	32.000,00	21.500,00

Informações Adicionais:

- I. Em 2023 o Município pagou Restos a Pagar Processados inscritos em 2019, relativos à obra de construção de uma escola, no montante de R\$ 21.000,00.
- II. Em 2023, a depreciação do Ativo Imobilizado do Município importou em R\$ 13.000,00.
- III. No exercício de 2023, o Município contratou operação de crédito por antecipação da receita orçamentária no valor de R\$ 17.000,00, integralmente quitada no mesmo exercício.
- IV. Em 2023, o Município recebeu veículos provenientes de doação do Governo Estadual, no valor de R\$ 27.000,00.
- V. Em dezembro/2023, o Município recebeu cauções de contratos de aluguel e efetuou consignações em folha de pagamento, no valor de R\$ 15.000,00, a serem restituídas/recolhidas em 2024.
- VI. Como fato gerador das variações patrimoniais diminutivas, deve-se considerar o momento da liquidação da despesa orçamentária.

QUESTÃO 21

O montante da despesa orçamentária inscrita em Restos a Pagar no exercício financeiro de 2023 é de:

- (A) 22.500,00.
- (B) 16.500,00.
- (C) 16.000,00.
- (D) 18.500,00.
- (E) 18.000,00.

QUESTÃO 22

No Balanço Financeiro encerrado em 31/12/2023, o saldo a ser evidenciado na linha 'Recebimentos Extraorçamentários' será de:

- (A) 50.000,00.
- (B) 50.500,00.
- (C) 48.500,00.
- (D) 47.500,00.
- (E) 56.500,00.

QUESTÃO 23

A Receita Corrente arrecadada no exercício financeiro de 2023 importa em:

- (A) 167.500,00.
- (B) 170.000,00.
- (C) 174.000,00.
- (D) 163.500,00.
- (E) 165.500,00.

QUESTÃO 24

O total dos Pagamentos Extraorçamentários a ser evidenciado no Balanço Financeiro equivale a:

- (A) 40.000,00.
- (B) 42.000,00.
- (C) 36.000,00.
- (D) 32.000,00.
- (E) 38.000,00.

QUESTÃO 25

O total das Variações Patrimoniais Diminutivas a ser evidenciado na Demonstração das Variações Patrimoniais importa em:

- (A) 136.000,00.
- (B) 141.000,00.
- (C) 145.000,00.
- (D) 154.000,00.
- (E) 132.000,00.

QUESTÃO 26

O total de despesas orçamentárias empenhadas no Grupo de Natureza de Despesa 'Inversões Financeiras' no exercício financeiro importa em:

- (A) 42.500,00.
- (B) 63.500,00.
- (C) 90.500,00.
- (D) 55.000,00.
- (E) 59.500,00.

QUESTÃO 27

O total da Receita de Capital arrecadada no exercício financeiro de 2023 é de:

- (A) 90.000,00.
- (B) 70.000,00.
- (C) 60.000,00.
- (D) 80.000,00.
- (E) 88.500,00.

QUESTÃO 28

De acordo com os dados fornecidos e com o atual regramento contábil aplicado ao Setor Público, o resultado a ser evidenciado no Balanço Orçamentário é um:

- (A) déficit de 20.000,00.
- (B) superávit de 60.000,00.
- (C) superávit de 67.000,00.
- (D) superávit de 40.000,00.
- (E) déficit de 10.000,00.

QUESTÃO 29

O total da receita orçamentária arrecadada na origem 'Impostos, Taxas e Contribuições de Melhoria' no exercício financeiro de 2023 importa em:

- (A) 67.500,00.
- (B) 95.500,00.
- (C) 82.500,00.
- (D) 72.500,00.
- (E) 40.000,00.

QUESTÃO 30

Ao analisar o Balanço Orçamentário encerrado em 31/12/2023 é possível concluir que houve:

- (A) uma economia orçamentária de 41.000,00.
- (B) uma frustração de arrecadação de 12.500,00.
- (C) um excesso de arrecadação de 17.500,00.
- (D) uma economia orçamentária de 22.500,00.
- (E) empenho da despesa em valor superior ao fixado na LOA.

QUESTÃO 31

Como forma de garantir recursos a serem destinados a políticas públicas na área da educação, a Constituição Federal determina que, no âmbito dos Municípios, deverão ser aplicados, a cada exercício, no mínimo _____ na manutenção e desenvolvimento do ensino. Assinale a alternativa que corretamente preenche a lacuna.

- (A) vinte e cinco por cento da receita de Impostos, compreendida a proveniente de transferências
- (B) quinze por cento da receita de Impostos, compreendida a proveniente de transferências
- (C) vinte e cinco por cento da receita de Impostos e Taxas
- (D) vinte e cinco por cento da receita de Impostos, Taxas e Contribuições de Melhoria
- (E) vinte por cento de toda a receita corrente do Município

QUESTÃO 32

O Imposto sobre a Propriedade Territorial Rural é tributo de competência da União. Contudo, os Municípios que optarem por fiscalizar e cobrar o ITR poderão ficar com:

- (A) 50% do valor arrecadado.
- (B) 60% do valor arrecadado.
- (C) 100% do valor arrecadado.
- (D) 80% do valor arrecadado.
- (E) 90% do valor arrecadado.

QUESTÃO 33

Dispõe a Constituição Federal de 1988 que pertencem aos Municípios _____ do produto da arrecadação do imposto do Estado sobre a propriedade de veículos automotores licenciados em seus territórios. Assinale a alternativa que corretamente preenche a lacuna.

- (A) trinta por cento
- (B) vinte e cinco por cento
- (C) trinta e cinco por cento
- (D) quarenta por cento
- (E) cinquenta por cento

QUESTÃO 34

Acerca dos componentes do Balanço Patrimonial, avalie o que se afirma a seguir, com base no atual regramento do tema.

- I. O Ativo Permanente compreenderá os créditos e valores realizáveis independentemente de autorização orçamentária e os valores numerários.
 - II. Nas contas de compensação serão registrados os bens, valores, obrigações e situações que, mediata ou indiretamente, possam vir a afetar o patrimônio.
 - III. O Passivo Permanente compreenderá as dívidas fundadas e outras cujo pagamento independa de autorização orçamentária.
- Está correto o que se afirma em:

- (A) III, apenas.
- (B) II e III, apenas.
- (C) nenhuma das afirmativas.
- (D) I e II, apenas.
- (E) II, apenas.

QUESTÃO 35

O Superávit Financeiro apurado em um exercício financeiro pode ser utilizado para abertura de créditos adicionais no exercício subsequente. Assinale a alternativa que indica a Demonstração Contábil na qual é apurada este indicador.

- (A) Demonstração dos Fluxos de Caixa.
- (B) Quadro das Origens e Aplicações de Recursos.
- (C) Balanço Patrimonial.
- (D) Balanço Orçamentário.
- (E) Balanço Financeiro.

QUESTÃO 36

A Lei nº 14.133/2021 – Nova Lei de Licitações e Contratos Administrativos – permite que alguns serviços técnicos de natureza predominantemente intelectual sejam contratados através de inexigibilidade de licitação. Assinale a alternativa que NÃO representa uma destas hipóteses permitidas pela Lei.

- (A) fiscalização, supervisão e gerenciamento de obras e serviços.
- (B) patrocínio ou defesa de causas judiciais e administrativas.
- (C) desenvolvimento de softwares de gestão orçamentária, financeira e patrimonial.
- (D) treinamento e aperfeiçoamento de pessoal.
- (E) assessorias e consultorias técnicas e auditorias financeiras e tributárias.

QUESTÃO 37

IMPORTANTE! Para resolução das próximas **QUATRO** questões, leve em consideração as informações abaixo. Elas se referem a transações ocorridas no Município de Água Viva, no exercício de 2023.

I. Empenho de Pessoal e Encargos Sociais, no valor de R\$ 350.000,00, referentes à manutenção dos serviços públicos. Foram pagos no exercício 80% deste valor;

II. Aquisição de uma ambulância destinada à Secretaria de Saúde, no valor de R\$ 80.000,00, sendo integralmente pago exercício;

III. Contratação de uma operação de crédito por antecipação de receita orçamentária, no valor de R\$ 75.000,00, sendo integralmente quitada em novembro/2023;

IV. Empenho de Juros e Encargos da Dívida, no valor de R\$ 25.000,00, sendo pagos R\$ 20.000,00 no exercício de 2023;

V. Lançamento de Impostos, Taxas e Contribuições de Melhoria, no importe de R\$ 720.000,00, sendo que deste montante, R\$ 680.000,00 foram arrecadados, e o restante inscrito em Dívida Ativa;

VI. Recebimento de devolução de Empréstimos Concedidos a juros subsidiados, sendo R\$ 100.000,00 referentes ao principal e R\$ 4.000,00 referentes aos juros;

VII. Despesa Orçamentária com Amortização da Dívida, no montante de R\$ 80.000,00, totalmente paga em 2023.

À luz da vigente normatização sobre a elaboração da Demonstração dos Fluxos de Caixa (DFC) no Setor Público, assinale a alternativa que evidencie o fluxo líquido de caixa das atividades operacionais em 2023:

- (A) R\$ 388.000,00.
- (B) R\$ 368.000,00.
- (C) R\$ 364.000,00.
- (D) R\$ 384.000,00.
- (E) R\$ 380.000,00.

QUESTÃO 38

À luz da vigente normatização sobre a elaboração da DFC no Setor Público, assinale a alternativa que evidencie o fluxo líquido de caixa das atividades de investimento em 2023:

- (A) R\$ 60.000,00.
- (B) R\$ 20.000,00.
- (C) R\$ 24.000,00.
- (D) (R\$ 20.000,00).
- (E) (R\$ 24.000,00).

QUESTÃO 39

À luz da vigente normatização sobre a elaboração da DFC no Setor Público, assinale a alternativa que evidencie o fluxo líquido de caixa das atividades de financiamento em 2023:

- (A) (R\$ 80.000,00).
- (B) (R\$ 84.000,00).
- (C) (R\$ 5.000,00).
- (D) R\$ 80.000,00.
- (E) R\$ 75.000,00.

QUESTÃO 40

Supondo que o saldo contábil da conta 'Caixa e Equivalentes de Caixa (CEC)' no início do exercício financeiro de 2023 era de R\$ 35.000,00, assinale a alternativa que evidencie o saldo final desta conta:

- (A) R\$ 434.000,00.
- (B) R\$ 359.000,00.
- (C) R\$ 355.000,00.
- (D) R\$ 430.000,00.
- (E) R\$ 289.000,00.

