

AVANÇASP



CÂMARA MUNICIPAL DE AMERICANA

CONCURSO PÚBLICO
01/2024

ANALISTA DE COMUNICAÇÃO

Leia atentamente as instruções abaixo

1. PROVA E FOLHA DE RESPOSTAS

Além deste Caderno de Prova, contendo 50 (cinquenta) questões objetivas, você receberá do Fiscal de Sala:

- 01 (uma) Folha de Respostas destinada às respostas das questões objetivas. Confira se seus dados estão corretos.

2. TEMPO

- 03 (três) horas é o tempo disponível para realização da prova, já incluído o tempo para marcação da Folha de Respostas da prova objetiva;

- **01 (uma) hora** após o início da prova é possível, retirar-se da sala levando o caderno de prova;

3. INFORMAÇÕES GERAIS

- As questões objetivas têm 05 (cinco) alternativas de resposta (A, B, C, D, E) e somente **uma** delas está correta;

- Verifique se seu caderno está completo, sem repetição de questões ou falhas. Caso contrário, informe imediatamente o Fiscal da Sala, para que sejam tomadas as devidas providências;

- Confira seus dados pessoais na Folha de Respostas, especialmente nome, número de inscrição e documento de identidade e leia atentamente as instruções para preenchimento;

- O preenchimento das respostas da prova objetiva é de sua responsabilidade e não será permitida a troca de Folha de Respostas em caso de erro de marcação pelo candidato;

- Marque, na folha de respostas, com caneta de tinta azul ou preta, a letra correspondente à alternativa que você escolheu.

- Reserve tempo suficiente para o preenchimento de suas respostas. Para fins de avaliação, serão levadas em consideração apenas as marcações realizadas na Folha de Respostas da prova objetiva, não sendo permitido anotar informações relativas às respostas em qualquer outro meio que não seja o caderno de prova;

- Ao se retirar, entregue a Folha de Respostas preenchida e assinada ao Fiscal de Sala.

SERÁ ELIMINADO do presente certame o candidato que:

- a) for surpreendido, durante as provas, em qualquer tipo de comunicação com outro candidato;

- b) portar ou usar, qualquer tipo de aparelho eletrônico (calculadoras, bips/pagers, câmeras fotográficas, filmadoras, telefones celulares, smartphones, tablets, relógios, walkmans, MP3 players, fones de ouvido, agendas eletrônicas, notebooks, palmtops ou qualquer outro tipo de computador portátil, receptores ou gravadores) seja na sala de prova, sanitários, pátios ou qualquer outra dependência do local de prova;

- c) se ausentar da sala em que se realizam as provas levando consigo o Caderno de Questões e/ou a Folha de Respostas;

- d) se recusar a entregar a Folha de Respostas, quando terminar o tempo estabelecido;

- e) não assinar a Lista de Presença e/ou a Folha de Respostas.

CADERNO DE QUESTÕES

PROVA OBJETIVA

LÍNGUA PORTUGUESA

TEXTO

Leia o texto para responder às questões de 1 a 7.

Máscara em mosaico e outros tesouros são encontrados em tumba de rei maia

O auge da civilização maia ocorreu entre 250 d.C. e 900 d.C. Apesar da grande importância histórica, existem poucos resquícios desse período devido ao saqueamento de sítios arqueológicos. Mas, recentemente, um trabalho da Universidade Tulane, nos EUA, conseguiu recuperar raros tesouros da época.

Liderado pelo arqueólogo Francisco Estrada-Belli, o time de pesquisadores fez investigações no sítio de Chochkitam, localizado na Guatemala, em uma região próxima das fronteiras dos atuais países México e Belize. Em 2022, a equipe encontrou a tumba de um rei maia, datada em 1.700 anos.

A descoberta foi possível graças à tecnologia LIDAR, que utilizou um avião para direcionar raios laser para o chão e, assim, fazer um mapeamento da área. “É como tirar raio-X do solo da floresta”, explica Estrada-Belli, em nota. “Isso revolucionou o nosso campo. Agora podemos ver aonde estamos indo, em vez de simplesmente fazer uma expedição na floresta esperando achar alguma coisa”, diz.

A tumba contém oferendas funerárias consideradas extraordinárias. Há uma máscara de jade em mosaico, raras conchas de ostra e escritos em ossos humanos. Estima-se que as relíquias sejam de 350 d.C.

A expectativa é que elas contribuam para a compreensão de elementos da cultura maia, como a religião e a linhagem real. As conchas, por exemplo, eram utilizadas pela realeza como joias e moedas, além de servirem para oferendas religiosas e de sacrifício. Os escritos em ossos humanos, por sua vez, foram feitos em pedaços de fêmur. Um deles retrata um homem que seria um rei — até então desconhecido — segurando uma máscara de jade similar à encontrada na tumba. Os pesquisadores suspeitam que os

hieróglifos vistos no material possam identificar o pai e o avô do líder, conectando-o a outros estados maias, como Tikal e Teotihuacan.

“Uma descoberta como essa é um pouco como ganhar na loteria, em termos de informação”, constata o arqueólogo Estrada-Belli. “Ela abre uma janela para um tempo obscuro sobre o qual temos pouquíssimos textos.”

Revista Galileu. Disponível em: <https://revistagalileu.globo.com/ciencia/arqueologia/noticia/2024/02/mascara-em-mosaico-e-outros-tesouros-sao-encontrados-em-tumba-de-rei-maia.ghtml>

QUESTÃO 01

De acordo com o texto, todas as afirmações a seguir são verdadeiras, exceto:

- (A) os artefatos do auge da cultura maia são escassos.
- (B) os hieróglifos gravados nos pedaços de fêmur são evidências da linhagem real.
- (C) as conchas encontradas na tumba tinham utilidades diversas na sociedade maia.
- (D) o mapeamento do local em que a tumba foi encontrada foi feito por meio de máquinas de raio-x.
- (E) o auge da civilização maia durou mais de meio século.

QUESTÃO 02

Segundo o texto, as relíquias encontradas na tumba maia são consideradas extraordinárias porque:

- (A) apresentam um alto valor comercial e podem trazer recursos financeiros para os pesquisadores.
- (B) podem contribuir para o entendimento de um período sobre o qual não se tem muita informação.
- (C) sugerem que os estados maias Chochkitam, Tikal e Teotihuacan não tinham qualquer tipo de ligação.
- (D) confirmam que o rei maia a que se referem as oferendas tinha familiares no poder em outros estados maias.
- (E) são escrituras em hieróglifos raros que contam histórias que contrariam o que já se sabia sobre Tikal e Teotihuacan.

QUESTÃO 03

Considere o excerto: “Isso revolucionou o nosso campo.” No contexto apresentado, o pronome demonstrativo “isso” é utilizado como um recurso de coesão referencial anafórico. O referente ao qual remete tal pronome é:

- (A) a tecnologia LIDAR.
- (B) a floresta.
- (C) a expedição na floresta.
- (D) o avião utilizado na expedição.
- (E) as relíquias encontradas.

QUESTÃO 04

Considere os seguintes excertos, retirados do texto:

- I. Estima-se que as relíquias sejam de 350 d.C.
- II. Os pesquisadores suspeitam que os hieróglifos vistos no material possam identificar o pai e o avô do líder, conectando-o a outros estados maias, como Tikal e Teotihuacan.

As normas gramaticais que sugerem a colocação pronominal enclítica nos casos apresentados são, respectivamente:

- (A) I. não se inicia período por pronome átono e II. usa-se ênclise em verbos flexionados em oração subordinada.
- (B) I. usa-se ênclise quando houver palavra atrativa antes do verbo e II. usa-se ênclise em orações subordinadas com verbos flexionados em qualquer tempo e modo.
- (C) I. não se inicia período por pronome átono e II. usa-se ênclise em orações reduzidas de gerúndio não precedidas pela preposição em.
- (D) I. usa-se ênclise em orações imperativas afirmativas e II. usa-se ênclise em orações reduzidas de gerúndio, independentemente dos demais elementos colocados.
- (E) I. usa-se ênclise em orações reduzidas de infinitivo flexionado e II. usa-se ênclise em orações reduzidas de gerúndio antecedidas pela preposição *em*, mesmo que esta esteja implícita.

Considere o excerto a seguir para responder às questões 5, 6 e 7:

“Uma descoberta como essa é um pouco como ganhar na loteria, em termos de informação”, constata o arqueólogo Estrada-Belli. “Ela abre uma janela para um tempo obscuro sobre o qual temos pouquíssimos textos.”

QUESTÃO 05

No excerto apresentado, a regência verbal de “abrir” é:

- (A) transitiva direta.
- (B) transitiva indireta.
- (C) intransitiva.
- (D) transitiva direta e indireta.
- (E) pronominal.

QUESTÃO 06

Em relação às categorias gramaticais, no contexto em que ocorrem, as palavras “uma”, “descoberta”, “obscuro” e “qual” classificam-se respectivamente em:

- (A) pronome indefinido, adjetivo, substantivo e pronome relativo.
- (B) artigo indefinido, substantivo, adjetivo e pronome relativo.
- (C) artigo indefinido, substantivo, adjetivo e pronome interrogativo.
- (D) artigo indefinido, adjetivo, adjetivo e pronome interrogativo.
- (E) pronome indefinido, substantivo, substantivo e pronome relativo.

QUESTÃO 07

O adjetivo “*pouquíssimos*”, que ocorre no excerto apresentado, exprime sua qualidade no grau:

- (A) positivo.
- (B) comparativo.
- (C) superlativo relativo.
- (D) superlativo absoluto sintético.
- (E) superlativo absoluto analítico.

QUESTÃO 08

Analise as palavras a seguir quanto à tonicidade e assinale a alternativa em que a palavra dada é oxítona.

- (A) hostil.
- (B) aeromoça.
- (C) espelho.
- (D) patente.
- (E) esperança.

QUESTÃO 09

Analise as sentenças a seguir e assinale aquela em que ocorre um verbo defectivo.

- (A) Deste pico se vê toda a praia.
- (B) A prefeitura demoliu os prédios mais antigos da cidade ontem à tarde.
- (C) Os incêndios florestais criminosos multiplicam-se nessa época do ano.
- (D) A exposição de fotos na biblioteca da universidade está belíssima.
- (E) Ele imprimiu todas as suas fotos da viagem à Flórida.

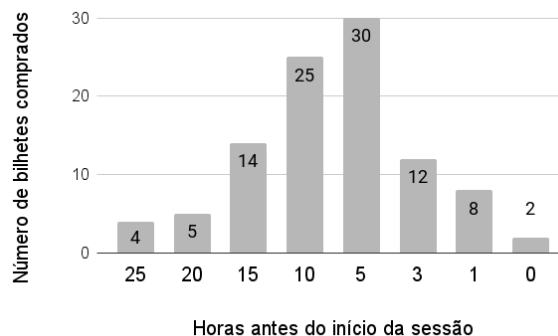
QUESTÃO 10

Analise as sentenças a seguir e assinale a alternativa em que as palavras apontadas preenchem corretamente as lacunas.

- I. O _____ da máquina de lavar ficou muito caro.
 - II. Já reservamos os _____ para assistirmos à peça teatral.
 - III. Finalmente, as crianças _____ a gritaria.
- (A) I. concerto; II. assentos; III. cessaram.
 - (B) I. conserto; II. assentos; III. cessaram.
 - (C) I. conserto; II. acentos; III. cessaram.
 - (D) I. concerto; II. assentos; III. sessaram.
 - (E) I. conserto; II. acentos; III. sessaram.

MATEMÁTICA E RACIOCÍNIO LÓGICO**QUESTÃO 11**

A figura abaixo mostra a antecedência de compra dos clientes para uma determinada sessão de cinema:



A antecedência de compra é a diferença de tempo entre o horário do início do filme e o horário da compra do bilhete. Com base no gráfico, pode-se dizer que a média de antecedência de compra, em horas, é:

- (A) 8,54.
- (B) 8,15.
- (C) 9,80.
- (D) 7,92.
- (E) 5,15.

QUESTÃO 12

Um quadrado e um triângulo equilátero têm a mesma área, qual a razão entre o perímetro deste quadrado e o perímetro deste triângulo? Sabe-se que a altura do triângulo equilátero é $a \frac{\sqrt{3}}{2}$, onde a é a medida do seu lado.

- (A) $\frac{3}{2} \sqrt[4]{3}$.
- (B) $\frac{1}{3} \sqrt[4]{3}$.
- (C) $\frac{3}{2 \sqrt[4]{3}}$.
- (D) $\frac{3}{4 \sqrt[4]{3}}$.
- (E) $\frac{2}{3} \sqrt[4]{3}$.

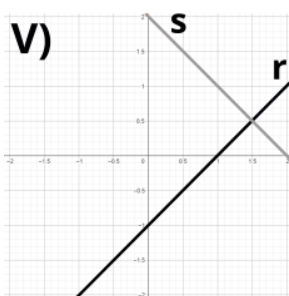
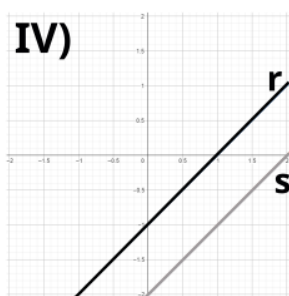
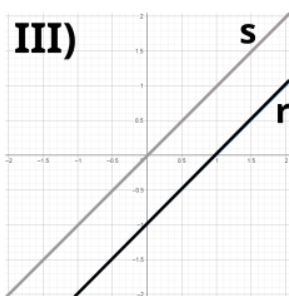
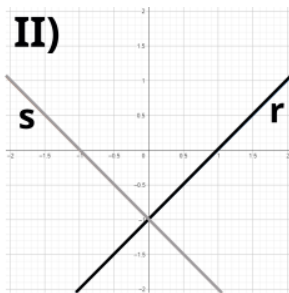
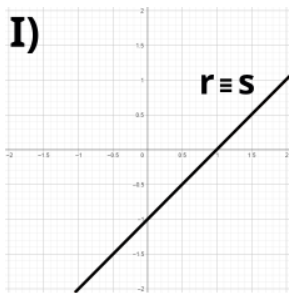
QUESTÃO 13

Observe o sistema de equações do primeiro grau abaixo:

$$2y = 2x - 2$$

$$-y = -x + 1$$

Essas equações podem ser representadas por retas r e s , respectivamente, num gráfico. Dentre as correspondências abaixo, indique o gráfico ao qual este sistema corresponde:



- (A) I.
- (B) II.
- (C) III.
- (D) IV.
- (E) V.

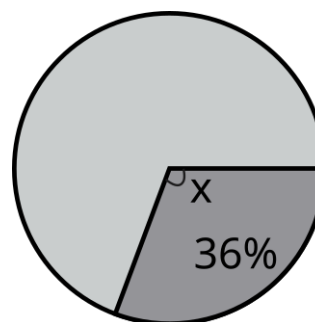
QUESTÃO 14

Um professor aplicou uma prova cuja nota final deve estar entre zero e dez. Ao calcular as notas, ele viu que a média da turma foi 3,0, e o candidato com maior nota tirou 6,0. Ele resolveu ‘normalizar’ as notas e atribuiu a nota 10,0 ao estudante com nota máxima anterior, e aumentou a nota de todos os outros alunos na mesma porcentagem que aumentou a do estudante com nota máxima. Neste caso, quanto passou a ser a média da turma?

- (A) 5,5.
- (B) 5,0.
- (C) 7,0.
- (D) 6,5.
- (E) 6,0.

QUESTÃO 15

Num gráfico de pizza, se quisermos representar uma fração de 36%, conforme a figura abaixo:



Qual deve ser o ângulo X do setor circular?

- (A) 224,0°.
- (B) 129,6°.
- (C) 136,4°.
- (D) 64,0°.
- (E) 112,9°.

QUESTÃO 16

Numa obra de construção civil, há duas possíveis formas de pagamento: 1) o cliente paga, mensalmente, um valor proporcional ao que foi executado na obra naquele mês. 2) o cliente paga, mensalmente, valores fixos igualmente distribuídos no prazo da obra. Suponha que uma determinada obra vai custar no total 12 milhões de reais e tem prazo previsto de 15 meses. Porém, no primeiro mês foi executado apenas 3% da obra. Nesta situação, quanto o construtor receberá a menos se a forma de pagamento for a 1) em relação à 2)?

- (A) R\$ 44.000,00.
- (B) R\$ 80.000,00.
- (C) R\$ 360.000,00.
- (D) R\$ 440.000,00.
- (E) R\$ 36.000,00.

QUESTÃO 17

Observe a seguinte sequência lógica numérica:

$$\frac{1}{6}, 7, \frac{1}{12}, 14, \frac{1}{18}, 21, \dots$$

Indique a divisão do 8º pelo 7º elemento dessa sequência:

- (A) 28/24.
- (B) 24/28.
- (C) 672.
- (D) 52.
- (E) 52/24.

QUESTÃO 18

Observe as seguintes afirmativas, que são dadas como VERDADEIRAS:

- João foi à escola
- João não jogou bola
- João não foi ao parque

Com base nas afirmativas, indique a alternativa que também apresenta uma afirmativa necessariamente VERDADEIRA:

- (A) Se João jogou bola, então João foi ao parque.
- (B) João jogou bola ou foi ao parque.
- (C) João não jogou bola e foi ao parque.
- (D) João foi à escola e jogou bola.
- (E) Se João foi à escola, então João jogou bola.

QUESTÃO 19

Em 1994 o Cajueiro de Pirangi, que fica no estado do Rio Grande do Norte, foi reconhecido pelo Guinness Book como a maior árvore frutífera do mundo. A árvore hoje tem cerca de 9000 metros quadrados de extensão e ainda cresce num ritmo de 0,5 metro quadrado por ano. Se quisermos expressar esse ritmo de crescimento em centímetros quadrados por ano, qual será esse valor?

- (A) 50.
- (B) 500.
- (C) 5000.
- (D) 50.000.
- (E) 500.000.

QUESTÃO 20

Um pacote de biscoitos indica que em 3 unidades de biscoitos há 375 kcal. Supondo que a quantidade recomendada de ingestão de calorias para uma determinada pessoa é de 2000 kcal diárias, se ela comer somente biscoitos no dia, quantas unidades de biscoitos ela deveria comer para atingir o limite recomendado?

- (A) 5.
- (B) 6.
- (C) 8.
- (D) 12.
- (E) 16.

NOÇÕES DE INFORMÁTICA**QUESTÃO 21**

No MS-Word 2016, qual das seguintes alternativas descreve corretamente o processo para recuperar um documento que não foi salvo antes do fechamento do aplicativo?

- (A) Acessar o menu "Arquivo", selecionar "Informações", depois "Gerenciar Documento" e "Recuperar Documentos Não Salvos".
- (B) Reabrir o Word, que automaticamente exibirá os documentos não salvos.
- (C) Usar a função "Pesquisar" do sistema operacional para localizar o arquivo temporário que corresponderá à versão mais recente editada.
- (D) Ir em "Opções" dentro do Word, selecionar "Salvar" e acessar a pasta de auto recuperação "Recuperar Documentos Não Salvos".
- (E) Clicar no botão "Desfazer" na barra de ferramentas de acesso rápido após reabrir o Word.

QUESTÃO 22

Quando se deseja alterar a aparência do texto no Microsoft Word 2016, pode-se modificar a fonte, o tamanho, sublinhar e alinhar o texto através da guia _____.

- (A) Revisão
- (B) Inserir
- (C) Layout de Página
- (D) Página Inicial
- (E) Referências

QUESTÃO 23

No Excel 2016, como uma fórmula deve ser iniciada para realizar cálculos dentro de uma célula?

- (A) Com o sinal #
- (B) Com o sinal &
- (C) Com o sinal @
- (D) Com o sinal %
- (E) Com o sinal =

QUESTÃO 24

No Microsoft Excel 2016, para realizar o cálculo do total dos valores presentes em um determinado conjunto de células, que no presente caso compreende de A1 até A5, qual das funções a seguir é apropriada?

- (A) =SOMA(A1:A5)
- (B) =SUBTRAIR(A1:A5)
- (C) =MULTIPLICAR(A1:A5)
- (D) =DIVIDIR(A1:A5)
- (E) =MÉDIA(A1:A5)

QUESTÃO 25

Em relação à criação e execução de macros no MS-Excel 2016, qual afirmação é verdadeira?

- (A) O Excel não permite a importação de macros de outras planilhas, mas suporta a exportação direta de macros para outros softwares de planilha.
- (B) É impossível atribuir uma macro a um botão na planilha para facilitar sua execução.
- (C) Macros são usadas para operações de formatação e não podem automatizar cálculos ou análise de dados.
- (D) Para executar uma macro, o usuário precisa acessar sempre o Visual Basic for Applications (VBA).
- (E) Macros permitem automatizar tarefas repetitivas, incluindo cálculos complexos, através de scripts no VBA.

CONHECIMENTOS ESPECÍFICOS**QUESTÃO 26**

A comunicação apresenta em sua composição elementos que se fazem necessários para que ocorra o processo de transmissão e recebimento de uma mensagem.

Quem envia a mensagem através da palavra oral ou escrita, assume a posição de:

- (A) Receptor.
- (B) Emissor.
- (C) Locatário.
- (D) Canal.
- (E) Atencioso.

QUESTÃO 27

Podemos definir como sendo a reação ou posicionamento do receptor, após avaliar o comportamento ou mensagem transmitida pelo emissor em comunicações:

- (A) Feedback.
- (B) Ruído.
- (C) Coworking.
- (D) Officeless.
- (E) Benchmarking.

QUESTÃO 28

Com relação às características da comunicação pública, assinale a alternativa que apresenta uma afirmação correta:

- (A) A comunicação pública requer o uso de meios únicos de comunicação e linguagem incomum.
- (B) A comunicação pública deve promover a desinformação para assuntos de interesse do estado.
- (C) A comunicação pública deve suprimir a diversidade do contexto comunicacional.
- (D) A comunicação do serviço público deve produzir conteúdo adaptado e acessível para todos da sociedade.
- (E) A comunicação pública, quando necessário, deve se submeter a interesse de particulares.

QUESTÃO 29

Assinale a alternativa que completa corretamente a lacuna do texto abaixo, de acordo com os princípios da comunicação pública:

A Comunicação Pública tem como pressuposto que a verdade e _____ são responsabilidades de todos os governos, comunicadores, dirigentes e atores públicos.

- (A) personalidade
- (B) consentimento
- (C) ética
- (D) estudo
- (E) abstenção

QUESTÃO 30

Referente a comunicação pública, analisar as afirmações a seguir:

- I. A Ouvidoria da Prefeitura é o canal por meio do qual o cidadão pode apresentar sugestões, reclamações, solicitações, elogios e denúncias sobre a prestação de serviços públicos.
- II. Diversos órgãos públicos contam com mídias oficiais.
- III. Publicar notícias e informações sobre os serviços públicos no site também é uma forma de o governo se comunicar.

Está(ão) Correto(s):

- (A) Somente o item I.
- (B) Somente o item II.
- (C) Somente o item III.
- (D) Somente os itens I e III.
- (E) Todos os itens.

QUESTÃO 31

A comunicação pública precisa colaborar na construção da cidadania e no desenvolvimento da capacidade de ouvir e estar em sintonia com cidadãs e cidadãos.

Uma das funções da Comunicação Pública é:

- (A) Disponibilizar ao cidadão o seu prontuário, de acordo com a legislação vigente e conforme as normas da instituição.
- (B) Divulgar os serviços oferecidos pela administração pública e a forma como as pessoas podem acessá-los.
- (C) Fornecer assistência religiosa a todos que solicitarem.
- (D) Fiscalizar o poder executivo durante o ano eleitoral.
- (E) Fiscalizar as obras e serviços públicos incessantemente.

QUESTÃO 32

Consiste no serviço de apuração, coleção e fornecimento de recortes de jornais e revistas sobre determinado assunto, sobre as atividades de uma empresa ou instituição:

- (A) Clipping.
- (B) Copidesque.
- (C) Copyright.
- (D) Diagramação.
- (E) Codificação.

QUESTÃO 33

Ao criador e redator de textos de propaganda é atribuída a titulação de:

- (A) Feature.
- (B) Flash.
- (C) Gaveta.
- (D) Lambe-lambe.
- (E) Copywriter.

QUESTÃO 34

Tudo aquilo que é publicado, ou feito para ser publicado, por um jornal, revista, radio jornal ou telejornal, incluindo textos e ilustrações (visuais ou sonoras), tanto o original de qualquer notícia, artigo ou crônica, quanto a sua forma impressa recebem, genericamente, o nome de:

- (A) Lide.
- (B) Nota.
- (C) Edição.
- (D) Matéria.
- (E) Capa.

QUESTÃO 35

É cada uma das divisões verticais, geralmente padronizadas, de uma página de jornal, separadas por fio de coluna ou canal.

- (A) Coluna.
- (B) Estrofe.
- (C) Estribilho.
- (D) Parágrafo.
- (E) Jargão.

QUESTÃO 36

Qual é o tipo de texto jornalístico criado de forma livre e pessoal, a partir de fatos e acontecimentos da atualidade, com teor literário, político, esportivo, artístico e outros:

- (A) Científico.
- (B) Verso.
- (C) Crônica.
- (D) Publicitário.
- (E) Lírico.

QUESTÃO 37

Nos procedimentos licitatórios relacionados as normas gerais para licitação e contratação pela administração pública de serviços de publicidade prestados por intermédio de agências de propaganda, é correto afirmar que:

- (A) Os documentos de habilitação serão apresentados apenas pelos licitantes classificados no julgamento final das propostas.
- (B) Devem ser fixados critérios subjetivos e automáticos de identificação da proposta mais vantajosa para a administração, no caso de empate na soma de pontos das propostas técnicas, nas licitações do tipo “melhor técnica”.
- (C) Na proposta técnica não será admitido plano de comunicação publicitária, pertinente às informações expressas no briefing.
- (D) As propostas de preços serão apresentadas em 5 (cinco) invólucro e as propostas técnicas em 4 (quatro) invólucros distintos.
- (E) As propostas de preços serão apresentadas em 10 (dez) invólucro e as propostas técnicas em 10 (dez) invólucros distintos.

QUESTÃO 38

O órgão auxiliar do Congresso Nacional, que tem como atribuição a realização de estudos, pareceres, recomendações e outras solicitações que lhe forem encaminhadas pelo Congresso Nacional a respeito do monopólio ou oligopólio dos meios de comunicação social é o(a):

- (A) Sistema Único de Informação.
- (B) Agencia Brasileira de Inteligência.
- (C) Agência Central de Comunicação Social.
- (D) Conselho de Comunicação Social.
- (E) Conselho Auxiliar de Comunicação.

QUESTÃO 39

A instituição que conhece o funcionamento da mídia tem melhores condições de atendê-la com eficiência. Para aprimorar essa relação, recomenda-se a prática da contratação de uma equipe especializada em:

- (A) Mídia premium.
- (B) Mídia controlada.
- (C) Mídia training.
- (D) Mídia Fake.
- (E) Mídia Copy.

QUESTÃO 40

Ao atender a imprensa em momentos de crise, recomenda-se que o porta voz da instituição:

- (A) Evite o contato direto com a imprensa para não passar informações indevidas.
- (B) Utilize o máximo de palavras alarmistas e negativistas no momento da transmissão de informação.
- (C) Oculte informações relevantes sobre os fatos, para preservar a sua própria imagem.
- (D) Faça afirmações que não condizem com a verdade, para minimizar os fatos.
- (E) Faça um completo levantamento da situação, preparando-se com dados, números e informações atualizadas.

QUESTÃO 41

Com relação ao gerenciamento de crises em comunicação pública, analisar as afirmações a seguir:

- I. O responsável pela comunicação com a mídia jamais deve fugir da imprensa.
- II. É recomendado que o porta voz se antecipe à própria iniciativa da imprensa em descobrir o que ocorreu.
- III. Fazer um levantamento superficial da situação é uma das formas de evitar futuras contradições e transmissão de informações equivocadas para a imprensa.

Está(ão) Correto(s):

- (A) Somente o item I.
- (B) Somente o item II.
- (C) Somente o item III.
- (D) Somente os itens I e II.
- (E) Todos os itens.

QUESTÃO 42

A profissão de Jornalista compreende, privativamente, o exercício habitual e remunerado de quais das atividades relacionadas a seguir:

- (A) Ensino de técnicas de Jornalismo.
- (B) Ensino de técnicas de Português.
- (C) Investigações criminais.
- (D) Levantamento arqueólogos.
- (E) Produção de salas de reportagens.

QUESTÃO 43

Com relação a classificação das funções desempenhadas pelos jornalistas empregados, podemos afirmar que o redator é responsável por:

- (A) Criar ou executar desenhos artísticos ou técnicos de caráter jornalístico
- (B) Planejar e executar a distribuição gráfica de matérias, fotografias ou ilustrações de caráter jornalístico, para fins de publicação.
- (C) Registrar cinematograficamente quaisquer fatos ou assuntos de interesse jornalístico
- (D) Registrar fotograficamente quaisquer fatos ou assuntos de interesse jornalístico.
- (E) Além das incumbências de redação comum, tem o encargo de redigir editoriais, crônicas ou comentários.

QUESTÃO 44

A atividade de organizar e conservar cultural e tecnicamente o arquivo redatorial, procedendo à pesquisa dos respectivos dados para a elaboração de notícias, é atribuída ao:

- (A) Arquivista-Pesquisador.
- (B) Repórter Fotográfico.
- (C) Diagramador.
- (D) Redator.
- (E) Revisor.

QUESTÃO 45

Será passível de trancamento o registro profissional do jornalista que, sem motivo legal, deixar de exercer a profissão por mais:

- (A) 3 meses.
- (B) 6 meses.
- (C) 9 meses.
- (D) 1 ano.
- (E) 2 anos.

QUESTÃO 46

Em relação aos fundamentos de fotojornalismo, analisar as afirmações a seguir:

I. Para uma boa composição fotográfica, o tema principal deve estar claramente definido e bem destacado do seu fundo.

II. É fundamental olhar os quatro cantos do visor e eliminar ao máximo aquilo que não interessa para a foto.

III. A luz não é um dos aspectos a serem observados na composição da fotografia.

Está(ão) Correto(s):

- (A) Somente o item I.
- (B) Somente o item II.
- (C) Somente o item III.
- (D) Somente os itens I e II.
- (E) Todos os itens.

QUESTÃO 47

O fotojornalismo diário, interage com diversos meios de informação, tais como jornais, revistas, redes ou sites de notícias. Por sua vez, o tipo de trabalho que exige mais do fotógrafo, visto que, nessa ramificação foto jornalística é necessário não só cobrir um acontecimento, mas conhecer a história e vivenciá-la e também é preciso contá-la não com apenas uma foto, mas com uma série delas é o fotojornalismo:

- (A) Estrutural.
- (B) Enigmático.
- (C) Informal.
- (D) Locacional.
- (E) Documental.

QUESTÃO 48

Não comparecendo o Presidente da República, qual dos agentes a seguir, presidirá a cerimônia a que estiverem todos presentes:

- (A) Agente de Comunicação Interna.
- (B) Agente de Controle de Informações.
- (C) Vice-Presidente da República.
- (D) Advogado Geral da União.
- (E) Secretário-Geral da União.

QUESTÃO 49

De acordo com o Decreto Federal nº 70.274/1972, assinale a alternativa que apresenta uma afirmação correta:

(A) Hasteia-se com frequência semanal a Bandeira Nacional no Palácio da Presidência da República

(B) Hasteia-se com frequência semanal a Bandeira Nacional No Supremo Tribunal Federal.

(C) A Bandeira Nacional, quando não estiver em uso, deve ser guardada em local ignóbil.

(D) Quando várias bandeiras são hasteadas ou arriadas simultaneamente, a Bandeira Nacional é a primeira a atingir o tope e a última a dele descer.

(E) A Bandeira Nacional não deve ser destacada à frente de outras bandeiras, quando conduzida em formaturas ou desfiles.

QUESTÃO 50

Em consonância com o Decreto Federal nº 70.274/1972, assinale a alternativa que completa corretamente a lacuna do texto a seguir:

No respectivo Estado, o Governador, o Vice-Governador, o Presidente da Assembleia Legislativa e o _____ terão, nessa ordem, precedência sobre as autoridades federais.

- (A) Presidente do Ministério de Comunicações.
- (B) Presidente da Ouvidoria Interna.
- (C) Presidente do Tribunal de Contas.
- (D) Presidente da Câmara Legislativa.
- (E) Presidente do Tribunal de Justiça.

