

AVANÇASP



CÂMARA MUNICIPAL DE AMERICANA

CONCURSO PÚBLICO
01/2024

CONTROLADOR INTERNO

Leia atentamente as instruções abaixo

1. PROVA E FOLHA DE RESPOSTAS

Além deste Caderno de Prova, contendo 50 (cinquenta) questões objetivas, você receberá do Fiscal de Sala:

- 01 (uma) Folha de Respostas destinada às respostas das questões objetivas. Confira se seus dados estão corretos.

2. TEMPO

- 03 (três) horas é o tempo disponível para realização da prova, já incluído o tempo para marcação da Folha de Respostas da prova objetiva;

- **01 (uma) hora** após o início da prova é possível, retirar-se da sala levando o caderno de prova;

3. INFORMAÇÕES GERAIS

- As questões objetivas têm 05 (cinco) alternativas de resposta (A, B, C, D, E) e somente **uma** delas está correta;

- Verifique se seu caderno está completo, sem repetição de questões ou falhas. Caso contrário, informe imediatamente o Fiscal da Sala, para que sejam tomadas as devidas providências;

- Confira seus dados pessoais na Folha de Respostas, especialmente nome, número de inscrição e documento de identidade e leia atentamente as instruções para preenchimento;

- O preenchimento das respostas da prova objetiva é de sua responsabilidade e não será permitida a troca de Folha de Respostas em caso de erro de marcação pelo candidato;

- Marque, na folha de respostas, com caneta de tinta azul ou preta, a letra correspondente à alternativa que você escolheu.

- Reserve tempo suficiente para o preenchimento de suas respostas. Para fins de avaliação, serão levadas em consideração apenas as marcações realizadas na Folha de Respostas da prova objetiva, não sendo permitido anotar informações relativas às respostas em qualquer outro meio que não seja o caderno de prova;

- Ao se retirar, entregue a Folha de Respostas preenchida e assinada ao Fiscal de Sala.

SERÁ ELIMINADO do presente certame o candidato que:

- a) for surpreendido, durante as provas, em qualquer tipo de comunicação com outro candidato;

- b) portar ou usar, qualquer tipo de aparelho eletrônico (calculadoras, bips/pagers, câmeras fotográficas, filmadoras, telefones celulares, smartphones, tablets, relógios, walkmans, MP3 players, fones de ouvido, agendas eletrônicas, notebooks, palmtops ou qualquer outro tipo de computador portátil, receptores ou gravadores) seja na sala de prova, sanitários, pátios ou qualquer outra dependência do local de prova;

- c) se ausentar da sala em que se realizam as provas levando consigo o Caderno de Questões e/ou a Folha de Respostas;

- d) se recusar a entregar a Folha de Respostas, quando terminar o tempo estabelecido;

- e) não assinar a Lista de Presença e/ou a Folha de Respostas.

CADERNO DE QUESTÕES

PROVA OBJETIVA

LÍNGUA PORTUGUESA

TEXTO

Leia o texto para responder às questões de 1 a 7.

Máscara em mosaico e outros tesouros são encontrados em tumba de rei maia

O auge da civilização maia ocorreu entre 250 d.C. e 900 d.C. Apesar da grande importância histórica, existem poucos resquícios desse período devido ao saqueamento de sítios arqueológicos. Mas, recentemente, um trabalho da Universidade Tulane, nos EUA, conseguiu recuperar raros tesouros da época.

Liderado pelo arqueólogo Francisco Estrada-Belli, o time de pesquisadores fez investigações no sítio de Chochkitam, localizado na Guatemala, em uma região próxima das fronteiras dos atuais países México e Belize. Em 2022, a equipe encontrou a tumba de um rei maia, datada em 1.700 anos.

A descoberta foi possível graças à tecnologia LIDAR, que utilizou um avião para direcionar raios laser para o chão e, assim, fazer um mapeamento da área. “É como tirar raio-X do solo da floresta”, explica Estrada-Belli, em nota. “Isso revolucionou o nosso campo. Agora podemos ver aonde estamos indo, em vez de simplesmente fazer uma expedição na floresta esperando achar alguma coisa”, diz.

A tumba contém oferendas funerárias consideradas extraordinárias. Há uma máscara de jade em mosaico, raras conchas de ostra e escritos em ossos humanos. Estima-se que as relíquias sejam de 350 d.C.

A expectativa é que elas contribuam para a compreensão de elementos da cultura maia, como a religião e a linhagem real. As conchas, por exemplo, eram utilizadas pela realeza como joias e moedas, além de servirem para oferendas religiosas e de sacrifício. Os escritos em ossos humanos, por sua vez, foram feitos em pedaços de fêmur. Um deles retrata um homem que seria um rei — até então desconhecido — segurando uma máscara de jade similar à encontrada na tumba. Os pesquisadores suspeitam que os

hieróglifos vistos no material possam identificar o pai e o avô do líder, conectando-o a outros estados maias, como Tikal e Teotihuacan.

“Uma descoberta como essa é um pouco como ganhar na loteria, em termos de informação”, constata o arqueólogo Estrada-Belli. “Ela abre uma janela para um tempo obscuro sobre o qual temos pouquíssimos textos.”

Revista Galileu. Disponível em: <https://revistagalileu.globo.com/ciencia/arqueologia/noticia/2024/02/mascara-em-mosaico-e-outros-tesouros-sao-encontrados-em-tumba-de-rei-maia.ghtml>

QUESTÃO 01

De acordo com o texto, todas as afirmações a seguir são verdadeiras, exceto:

- (A) os artefatos do auge da cultura maia são escassos.
- (B) os hieróglifos gravados nos pedaços de fêmur são evidências da linhagem real.
- (C) as conchas encontradas na tumba tinham utilidades diversas na sociedade maia.
- (D) o mapeamento do local em que a tumba foi encontrada foi feito por meio de máquinas de raio-x.
- (E) o auge da civilização maia durou mais de meio século.

QUESTÃO 02

Segundo o texto, as relíquias encontradas na tumba maia são consideradas extraordinárias porque:

- (A) apresentam um alto valor comercial e podem trazer recursos financeiros para os pesquisadores.
- (B) podem contribuir para o entendimento de um período sobre o qual não se tem muita informação.
- (C) sugerem que os estados maias Chochkitam, Tikal e Teotihuacan não tinham qualquer tipo de ligação.
- (D) confirmam que o rei maia a que se referem as oferendas tinha familiares no poder em outros estados maias.
- (E) são escrituras em hieróglifos raros que contam histórias que contrariam o que já se sabia sobre Tikal e Teotihuacan.

QUESTÃO 03

Considere o excerto: “Isso revolucionou o nosso campo.” No contexto apresentado, o pronome demonstrativo “isso” é utilizado como um recurso de coesão referencial anafórico. O referente ao qual remete tal pronome é:

- (A) a tecnologia LIDAR.
- (B) a floresta.
- (C) a expedição na floresta.
- (D) o avião utilizado na expedição.
- (E) as relíquias encontradas.

QUESTÃO 04

Considere os seguintes excertos, retirados do texto:

- I. Estima-se que as relíquias sejam de 350 d.C.
- II. Os pesquisadores suspeitam que os hieróglifos vistos no material possam identificar o pai e o avô do líder, conectando-o a outros estados maias, como Tikal e Teotihuacan.

As normas gramaticais que sugerem a colocação pronominal enclítica nos casos apresentados são, respectivamente:

- (A) I. não se inicia período por pronome átono e II. usa-se ênclise em verbos flexionados em oração subordinada.
- (B) I. usa-se ênclise quando houver palavra atrativa antes do verbo e II. usa-se ênclise em orações subordinadas com verbos flexionados em qualquer tempo e modo.
- (C) I. não se inicia período por pronome átono e II. usa-se ênclise em orações reduzidas de gerúndio não precedidas pela preposição em.
- (D) I. usa-se ênclise em orações imperativas afirmativas e II. usa-se ênclise em orações reduzidas de gerúndio, independentemente dos demais elementos colocados.
- (E) I. usa-se ênclise em orações reduzidas de infinitivo flexionado e II. usa-se ênclise em orações reduzidas de gerúndio antecedidas pela preposição *em*, mesmo que esta esteja implícita.

Considere o excerto a seguir para responder às questões 5, 6 e 7:

“Uma descoberta como essa é um pouco como ganhar na loteria, em termos de informação”, constata o arqueólogo Estrada-Belli. “Ela abre uma janela para um tempo obscuro sobre o qual temos pouquíssimos textos.”

QUESTÃO 05

No excerto apresentado, a regência verbal de “abrir” é:

- (A) transitiva direta.
- (B) transitiva indireta.
- (C) intransitiva.
- (D) transitiva direta e indireta.
- (E) pronominal.

QUESTÃO 06

Em relação às categorias gramaticais, no contexto em que ocorrem, as palavras “uma”, “descoberta”, “obscuro” e “qual” classificam-se respectivamente em:

- (A) pronome indefinido, adjetivo, substantivo e pronome relativo.
- (B) artigo indefinido, substantivo, adjetivo e pronome relativo.
- (C) artigo indefinido, substantivo, adjetivo e pronome interrogativo.
- (D) artigo indefinido, adjetivo, adjetivo e pronome interrogativo.
- (E) pronome indefinido, substantivo, substantivo e pronome relativo.

QUESTÃO 07

O adjetivo “*pouquíssimos*”, que ocorre no excerto apresentado, exprime sua qualidade no grau:

- (A) positivo.
- (B) comparativo.
- (C) superlativo relativo.
- (D) superlativo absoluto sintético.
- (E) superlativo absoluto analítico.

QUESTÃO 08

Analise as palavras a seguir quanto à tonicidade e assinale a alternativa em que a palavra dada é oxítona.

- (A) hostil.
- (B) aeromoça.
- (C) espelho.
- (D) patente.
- (E) esperança.

QUESTÃO 09

Analise as sentenças a seguir e assinale aquela em que ocorre um verbo defectivo.

- (A) Deste pico se vê toda a praia.
- (B) A prefeitura demoliu os prédios mais antigos da cidade ontem à tarde.
- (C) Os incêndios florestais criminosos multiplicam-se nessa época do ano.
- (D) A exposição de fotos na biblioteca da universidade está belíssima.
- (E) Ele imprimiu todas as suas fotos da viagem à Flórida.

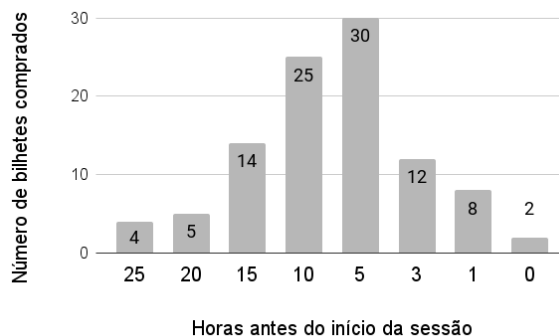
QUESTÃO 10

Analise as sentenças a seguir e assinale a alternativa em que as palavras apontadas preenchem corretamente as lacunas.

- I. O _____ da máquina de lavar ficou muito caro.
 - II. Já reservamos os _____ para assistirmos à peça teatral.
 - III. Finalmente, as crianças _____ a gritaria.
- (A) I. concerto; II. assentos; III. cessaram.
 - (B) I. conserto; II. assentos; III. cessaram.
 - (C) I. conserto; II. acentos; III. cessaram.
 - (D) I. concerto; II. assentos; III. sessaram.
 - (E) I. conserto; II. acentos; III. sessaram.

MATEMÁTICA E RACIOCÍNIO LÓGICO**QUESTÃO 11**

A figura abaixo mostra a antecedência de compra dos clientes para uma determinada sessão de cinema:



A antecedência de compra é a diferença de tempo entre o horário do início do filme e o horário da compra do bilhete. Com base no gráfico, pode-se dizer que a média de antecedência de compra, em horas, é:

- (A) 8,54.
- (B) 8,15.
- (C) 9,80.
- (D) 7,92.
- (E) 5,15.

QUESTÃO 12

Um quadrado e um triângulo equilátero têm a mesma área, qual a razão entre o perímetro deste quadrado e o perímetro deste triângulo? Sabe-se que a altura do triângulo equilátero é $a\frac{\sqrt{3}}{2}$, onde a é a medida do seu lado.

- (A) $\frac{3}{2}\sqrt[4]{3}$.
- (B) $\frac{1}{3}\sqrt[4]{3}$.
- (C) $\frac{3}{2\sqrt[4]{3}}$.
- (D) $\frac{3}{4\sqrt[4]{3}}$.
- (E) $\frac{2}{3}\sqrt[4]{3}$.

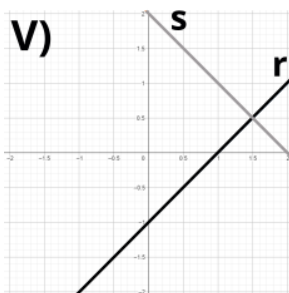
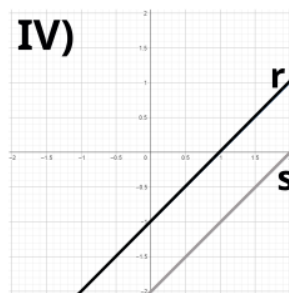
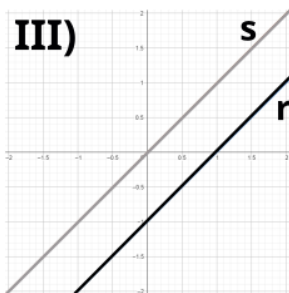
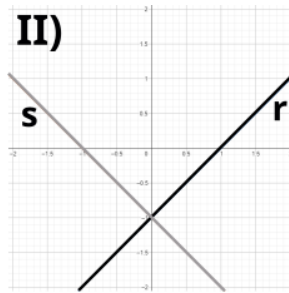
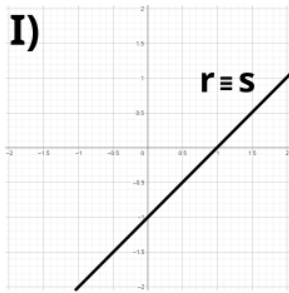
QUESTÃO 13

Observe o sistema de equações do primeiro grau abaixo:

$$2y = 2x - 2$$

$$-y = -x + 1$$

Essas equações podem ser representadas por retas r e s , respectivamente, num gráfico. Dentre as correspondências abaixo, indique o gráfico ao qual este sistema corresponde:



- (A) I.
- (B) II.
- (C) III.
- (D) IV.
- (E) V.

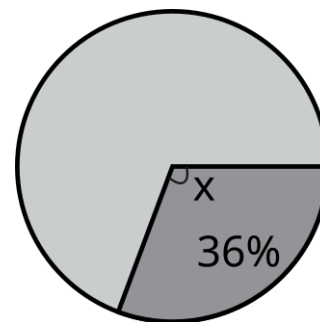
QUESTÃO 14

Um professor aplicou uma prova cuja nota final deve estar entre zero e dez. Ao calcular as notas, ele viu que a média da turma foi 3,0, e o candidato com maior nota tirou 6,0. Ele resolveu 'normalizar' as notas e atribuiu a nota 10,0 ao estudante com nota máxima anterior, e aumentou a nota de todos os outros alunos na mesma porcentagem que aumentou a do estudante com nota máxima. Neste caso, quanto passou a ser a média da turma?

- (A) 5,5.
- (B) 5,0.
- (C) 7,0.
- (D) 6,5.
- (E) 6,0.

QUESTÃO 15

Num gráfico de pizza, se quisermos representar uma fração de 36%, conforme a figura abaixo:



Qual deve ser o ângulo X do setor circular?

- (A) $224,0^\circ$.
- (B) $129,6^\circ$.
- (C) $136,4^\circ$.
- (D) $64,0^\circ$.
- (E) $112,9^\circ$.

QUESTÃO 16

Numa obra de construção civil, há duas possíveis formas de pagamento: 1) o cliente paga, mensalmente, um valor proporcional ao que foi executado na obra naquele mês. 2) o cliente paga, mensalmente, valores fixos igualmente distribuídos no prazo da obra. Suponha que uma determinada obra vai custar no total 12 milhões de reais e tem prazo previsto de 15 meses. Porém, no primeiro mês foi executado apenas 3% da obra. Nesta situação, quanto o construtor receberá a menos se a forma de pagamento for a 1) em relação à 2)?

- (A) R\$ 44.000,00.
- (B) R\$ 80.000,00.
- (C) R\$ 360.000,00.
- (D) R\$ 440.000,00.
- (E) R\$ 36.000,00.

QUESTÃO 17

Observe a seguinte sequência lógica numérica:

$$\frac{1}{6}, 7, \frac{1}{12}, 14, \frac{1}{18}, 21, \dots$$

Indique a divisão do 8º pelo 7º elemento dessa sequência:

- (A) 28/24.
- (B) 24/28.
- (C) 672.
- (D) 52.
- (E) 52/24.

QUESTÃO 18

Observe as seguintes afirmativas, que são dadas como VERDADEIRAS:

- João foi à escola
- João não jogou bola
- João não foi ao parque

Com base nas afirmativas, indique a alternativa que também apresenta uma afirmativa necessariamente VERDADEIRA:

- (A) Se João jogou bola, então João foi ao parque.
- (B) João jogou bola ou foi ao parque.
- (C) João não jogou bola e foi ao parque.
- (D) João foi à escola e jogou bola.
- (E) Se João foi à escola, então João jogou bola.

QUESTÃO 19

Em 1994 o Cajueiro de Pirangi, que fica no estado do Rio Grande do Norte, foi reconhecido pelo Guinness Book como a maior árvore frutífera do mundo. A árvore hoje tem cerca de 9000 metros quadrados de extensão e ainda cresce num ritmo de 0,5 metro quadrado por ano. Se quisermos expressar esse ritmo de crescimento em centímetros quadrados por ano, qual será esse valor?

- (A) 50.
- (B) 500.
- (C) 5000.
- (D) 50.000.
- (E) 500.000.

QUESTÃO 20

Um pacote de biscoitos indica que em 3 unidades de biscoitos há 375 kcal. Supondo que a quantidade recomendada de ingestão de calorias para uma determinada pessoa é de 2000 kcal diárias, se ela comer somente biscoitos no dia, quantas unidades de biscoitos ela deveria comer para atingir o limite recomendado?

- (A) 5.
- (B) 6.
- (C) 8.
- (D) 12.
- (E) 16.

NOÇÕES DE INFORMÁTICA**QUESTÃO 21**

No MS-Word 2016, qual das seguintes alternativas descreve corretamente o processo para recuperar um documento que não foi salvo antes do fechamento do aplicativo?

- (A) Acessar o menu "Arquivo", selecionar "Informações", depois "Gerenciar Documento" e "Recuperar Documentos Não Salvos".
- (B) Reabrir o Word, que automaticamente exibirá os documentos não salvos.
- (C) Usar a função "Pesquisar" do sistema operacional para localizar o arquivo temporário que corresponderá à versão mais recente editada.
- (D) Ir em "Opções" dentro do Word, selecionar "Salvar" e acessar a pasta de auto recuperação "Recuperar Documentos Não Salvos".
- (E) Clicar no botão "Desfazer" na barra de ferramentas de acesso rápido após reabrir o Word.

QUESTÃO 22

Quando se deseja alterar a aparência do texto no Microsoft Word 2016, pode-se modificar a fonte, o tamanho, sublinhar e alinhar o texto através da guia _____.

- (A) Revisão
- (B) Inserir
- (C) Layout de Página
- (D) Página Inicial
- (E) Referências

QUESTÃO 23

No Excel 2016, como uma fórmula deve ser iniciada para realizar cálculos dentro de uma célula?

- (A) Com o sinal #
- (B) Com o sinal &
- (C) Com o sinal @
- (D) Com o sinal %
- (E) Com o sinal =

QUESTÃO 24

No Microsoft Excel 2016, para realizar o cálculo do total dos valores presentes em um determinado conjunto de células, que no presente caso compreende de A1 até A5, qual das funções a seguir é apropriada?

- (A) =SOMA(A1:A5)
- (B) =SUBTRAIR(A1:A5)
- (C) =MULTIPLICAR(A1:A5)
- (D) =DIVIDIR(A1:A5)
- (E) =MÉDIA(A1:A5)

QUESTÃO 25

Em relação à criação e execução de macros no MS-Excel 2016, qual afirmação é verdadeira?

- (A) O Excel não permite a importação de macros de outras planilhas, mas suporta a exportação direta de macros para outros softwares de planilha.
- (B) É impossível atribuir uma macro a um botão na planilha para facilitar sua execução.
- (C) Macros são usadas para operações de formatação e não podem automatizar cálculos ou análise de dados.
- (D) Para executar uma macro, o usuário precisa acessar sempre o Visual Basic for Applications (VBA).
- (E) Macros permitem automatizar tarefas repetitivas, incluindo cálculos complexos, através de scripts no VBA.

CONHECIMENTOS ESPECÍFICOS**QUESTÃO 26**

Técnica de elaboração orçamentária de difícil aplicação prática, cuja finalidade é o controle dos gastos excessivos ou desnecessários e que consiste na análise e avaliação individual de todas as despesas a cada início de ciclo orçamentário, exigindo justificativa detalhada para sua manutenção. Trata-se de:

- (A) Orçamento Clássico.
- (B) Orçamento Programático.
- (C) Orçamento de Desempenho.
- (D) Orçamento Base-Zero.
- (E) Orçamento Incremental.

QUESTÃO 27

Princípio Orçamentário fundado na Lei nº 4.320/1964, que preconiza que, via de regra, a Lei de Orçamento não consignará dotações globais destinadas a atender indiferentemente a despesas de pessoal, material, serviços de terceiros, transferências ou quaisquer outras. É formalmente denominado:

- (A) Princípio da Especialização.
- (B) Princípio da Não-Afetação.
- (C) Princípio da Totalidade.
- (D) Princípio da Vedação de Estorno.
- (E) Princípio da Unidade.

QUESTÃO 28

Os Créditos Adicionais são os instrumentos previstos na legislação para situações em que é necessário efetuar alteração na programação originalmente estabelecida. Sobre o tema, avalie o que se afirma a seguir.

I. A abertura de créditos especiais, por sua própria natureza, é feita por Decreto do Executivo, e dispensa autorização legislativa prévia.

II. O reforço de crédito orçamentário insuficientemente dotado deverá ser levado a efeito através da abertura de créditos extraordinários.

III. Dentre as possíveis fontes de recursos a serem adotadas para custeio dos créditos adicionais estão o excesso de arrecadação, as operações de crédito e as anulações de dotação. Está correto o que se afirma em:

- (A) II e III, apenas.
- (B) III, apenas.
- (C) nenhuma das afirmativas.
- (D) I, apenas.
- (E) I e III, apenas.

QUESTÃO 27

Suponha que o projeto de Lei Orçamentária de determinado Município foi encaminhado para a Câmara de Vereadores sem a fixação das despesas para a Secretaria de Obras e Viação. Ainda, o total das despesas fixadas no projeto ultrapassa as receitas previstas para serem arrecadadas no exercício financeiro de referência. Na situação descrita, é correto afirmar que houve violação aos princípios:

- (A) da Anualidade e do Equilíbrio.
- (B) da Anualidade e da Equivalência.
- (C) da Universalidade e do Equilíbrio.
- (D) da Universalidade e da Igualdade.
- (E) da Universalidade e do Orçamento Bruto

QUESTÃO 30

Suponha que determinado Município brasileiro concede empréstimos subsidiados sem juros para moradores afetados por uma grande enchente. Quando do recebimento da amortização dos empréstimos concedidos, a classificação correta destes valores na Demonstração dos Fluxos de Caixa e no Balanço Orçamentário será, respectivamente:

- (A) Fluxos de Financiamento e Receitas de Capital.
- (B) Fluxos de Investimento e Receitas de Capital.
- (C) Fluxos Operacionais e Receitas de Capital.
- (D) Fluxos de Investimento e Receitas Correntes.
- (E) Fluxos de Financiamento e Receitas Correntes.

QUESTÃO 31

Nos termos da Constituição de 1988, em âmbito federal, o Órgão responsável pelo julgamento das contas anuais prestadas pelo Presidente da República é:

- (A) A Procuradoria-Geral da República.
- (B) O Tribunal de Contas da União.
- (C) A Controladoria-Geral da União.
- (D) O Supremo Tribunal Federal.
- (E) O Congresso Nacional.

QUESTÃO 32

IMPORTANTE! Considere as informações a seguir para resolução das próximas **CINCO** questões. Elas são referentes a dados orçamentários e financeiros, ocorridos no Município de Água Santa no exercício de 2022.

Dados Orçamentários:

Despesa Paga	690.000,00
Receita Recolhida	900.000,00
Despesa fixada na LOA	800.000,00
Receita Arrecadada	915.000,00
Despesa Empenhada	775.000,00
Receita prevista na LOA	800.000,00
Despesa Liquidada	730.000,00
Empenhos Cancelados	45.000,00

Ainda, no exercício de 2022 ocorreram as seguintes transações:

- O Município contratou operação de crédito por antecipação de receita orçamentária, no valor de 50.000,00, sendo integralmente quitados no exercício;
- O Município recebeu cauções de garantia de execução de contratos, no importe de 20.000,00. Devolveu 5.000,00 no mesmo exercício e o restante ficou a ser devolvido nos próximos exercícios;
- No mês de dezembro/2022 foram efetuadas consignações na folha dos servidores, no valor de 15.000,00, a serem recolhidas em janeiro/2023.
- O Município pagou Restos a Pagar inscritos em 2020 e 2021, no importe de R\$ 35.000,00.

De acordo com as informações fornecidas, o Balanço Orçamentário evidenciará um superávit de:

- (A) 70.000,00.
- (B) 185.000,00.
- (C) 160.000,00.
- (D) 140.000,00.
- (E) 170.000,00.

QUESTÃO 33

Os Restos a Pagar Não-Processados inscritos no exercício de 2022 importam em:

- (A) 40.000,00.
- (B) 85.000,00.
- (C) 45.000,00.
- (D) 65.000,00.
- (E) 60.000,00.

QUESTÃO 34

A análise do Balanço Orçamentário do exercício financeiro de 2022 permitirá identificar uma economia orçamentária de _____ e um excesso de arrecadação de _____. Assinale a alternativa que correta e sequencialmente preenche as lacunas.

- (A) 45.000,00 / 115.000,00
- (B) 25.000,00 / 100.000,00
- (C) 70.000,00 / 100.000,00
- (D) 25.000,00 / 115.000,00
- (E) 70.000,00 / 115.000,00

QUESTÃO 35

No Balanço Financeiro do exercício de 2022, o total evidenciado na linha 'Recebimentos Extraorçamentários' será de:

- (A) 160.000,00.
- (B) 170.000,00.
- (C) 150.000,00.
- (D) 220.000,00.
- (E) 190.000,00.

QUESTÃO 36

No Balanço Financeiro do exercício de 2022, o total evidenciado na linha 'Pagamentos Extraorçamentários' será de:

- (A) 90.000,00.
- (B) 95.000,00.
- (C) 75.000,00.
- (D) 100.000,00.
- (E) 110.000,00.

QUESTÃO 37

Nos termos da Lei Complementar nº 101/2000, o Anexo de Metas Fiscais, em que serão previstos resultados primário e nominal para o exercício de referência deverá acompanhar:

- (A) o Relatório Resumido da Execução Orçamentária.
- (B) o Quadro de Cotas de Desembolso.
- (C) a Lei de Diretrizes Orçamentárias.
- (D) a Lei Orçamentária Anual.
- (E) o Cronograma Financeiro.

QUESTÃO 38

A Lei de Responsabilidade Fiscal – LC 101/2000 – dispõe sobre normas voltadas à responsabilidade na gestão fiscal dos entes da Federação. Com base em sua doutrina, avalie as afirmativas a seguir.

I. A LRF veda a edição de quaisquer atos que impliquem aumento de despesa com pessoal no último ano de mandato do Chefe do Poder Executivo.

II. Os recursos legalmente vinculados a finalidade específica serão utilizados exclusivamente para atender ao objeto de sua vinculação, ainda que em exercício diverso daquele em que ocorrer o ingresso.

III. Nos Municípios brasileiros, o teto da Despesa com Pessoal, em cada período de apuração, é de 70% da Receita Corrente arrecadada no mesmo período.

Está correto o que se afirma em:

- (A) I e II, apenas.
- (B) I e III, apenas.
- (C) II e III, apenas.
- (D) II, apenas.
- (E) nenhuma das afirmativas.

QUESTÃO 39

Sobre as vedações ao ciclo orçamentário, disciplinadas no art. 167 da Constituição Federal de 1988, informe se é verdadeiro (V) ou falso (F) para o que se afirma a seguir.

() São vedados a transposição, o remanejamento ou a transferência de recursos de uma categoria de programação para outra ou de um órgão para outro, sem prévia autorização legislativa.

() É vedada a criação de fundo público, quando seus objetivos puderem ser alcançados mediante a vinculação de receitas orçamentárias específicas ou mediante a execução direta por programação orçamentária e financeira de órgão ou entidade da administração pública.

() É vedada a concessão ou utilização de créditos ilimitados, salvo em caso de calamidade pública de caráter nacional, devidamente decretada pelo Congresso Nacional.

A sequência está correta em:

- (A) F – F – V.
- (B) V – F – V.
- (C) V – V – F.
- (D) V – F – F.
- (E) F – V – V.

QUESTÃO 40

Nos termos da Lei Complementar nº 101/2000, considera-se obrigatória de caráter continuado a despesa _____ derivada de _____ que fixem para o ente a obrigação legal de sua execução por um período superior a _____. Assinale a alternativa que correta e sequencialmente preenche as lacunas.

- (A) corrente / decisões judiciais / dois anos
- (B) corrente / lei, medida provisória ou ato administrativo normativo / dois exercícios
- (C) corrente ou de capital / lei, medida provisória ou ato administrativo normativo / três exercícios
- (D) corrente ou de capital / atos administrativos, legislativos ou judiciais / dois exercícios
- (E) corrente / lei, medida provisória ou ato administrativo normativo / três anos

QUESTÃO 41

Sobre as entidades integrantes da Administração Indireta, avalie a veracidade (V) ou falsidade (F) das afirmações a seguir. Em seguida, assinale a alternativa que contenha a sequência correta.

- () São fruto de descentralização administrativa.
 - () Possuem personalidade jurídica própria e autonomia administrativa.
 - () A relação com a pessoa política que as instituiu é de subordinação e hierarquia.
- (A) F – F – V.
 - (B) V – F – V.
 - (C) V – V – F.
 - (D) V – F – F.
 - (E) F – V – V.

QUESTÃO 42

Sobre a Responsabilidade Civil da Administração Pública no Brasil, podemos afirmar que as pessoas jurídicas de direito público e as de direito privado prestadoras de serviços públicos responderão pelos danos que seus agentes, nessa qualidade, causarem a terceiros. Trata-se da denominada:

- (A) Teoria da culpa anônima.
- (B) Irresponsabilidade do Estado.
- (C) Responsabilidade com culpa civil comum do Estado.
- (D) Teoria do risco integral.
- (E) Teoria do risco administrativo.

QUESTÃO 43

A Lei 14.133/2021 consolidou a legislação sobre Licitações Públicas e determinou que, no caso de aquisição de bens e serviços comuns, com padrões usuais de mercado e características que possam ser objetivamente definidas no edital, há de ser obrigatoriamente adotada a modalidade:

- (A) Concorrência.
- (B) Credenciamento.
- (C) Dispensa de Licitação.
- (D) Pregão.
- (E) Convite.

QUESTÃO 44

A Lei nº 14.133/2021 se destina a regulamentar e normatizar os seguintes objetos contratuais, À EXCEÇÃO DE:

- (A) alienação e concessão de direito real de uso de bens.
- (B) concessão e permissão de uso de bens públicos.
- (C) concessão e permissão, à iniciativa privada, de serviços públicos de competência estatal.
- (D) obras e serviços de arquitetura e engenharia.
- (E) contratações de tecnologia da informação e de comunicação.

QUESTÃO 45

Nos termos literais da Lei nº 14.133/2021, é dispensável e licitação para contratações de serviços de manutenção de veículos automotores de valor anual estimado inferior a:

- (A) R\$ 60.000,00.
- (B) R\$ 65.000,00.
- (C) R\$ 75.000,00.
- (D) R\$ 85.000,00.
- (E) R\$ 100.000,00.

QUESTÃO 46

Sobre o tema '*Princípios da Administração Pública*', avalie as afirmativas a seguir.

- I. O Princípio da Legalidade estabelece que os servidores públicos devem obedecer apenas aos superiores hierárquicos, sem considerar a legalidade e a finalidade das ordens recebidas.
 - II. O Princípio da Moralidade refere-se à necessidade de ações da Administração Pública serem pautadas pela ética e pelos padrões morais aceitos pela sociedade.
 - III. O Princípio da Publicidade preconiza que o sigilo, destinado a resguardar informações sensíveis, é exceção na atuação administrativa.
- Está correto o que se afirma em:
- (A) I e III, apenas.
 - (B) II e III, apenas.
 - (C) I e II, apenas.
 - (D) II, apenas.
 - (E) III, apenas.

QUESTÃO 47

No contexto da Administração Pública Brasileira, qual das seguintes alternativas não representa um dos Poderes Administrativos usualmente citados pela doutrina?

- (A) Poder Hierárquico.
- (B) Poder Disciplinar.
- (C) Poder Monetário.
- (D) Poder Regulamentar.
- (E) Poder de Polícia.

QUESTÃO 48

Há atos administrativos cujos atributos ou elementos estão todos previstos em lei, não conferindo margem de escolha para o administrador. Outros, por sua vez, conferem uma liberdade limitada de poder, por exemplo na gradação de uma multa ou de outra penalidade. O enunciado está a se referir, respectivamente aos atos:

- (A) vinculados e ordinatórios.
- (B) discricionários e coercitivos.
- (C) vinculados e discricionários.
- (D) constitutivos e modificativos.
- (E) válidos e inexistentes.

QUESTÃO 49

Quando um ato administrativo é considerado nulo, significa que ele possui um vício tão grave que o torna inexistente desde a sua origem. Sobre o tema, informe se é verdadeiro (V) ou falso (F) para o que se afirma.

() O ato nulo não gera efeitos jurídicos válidos, ou seja, não gera direitos nem obrigações para as partes nele diretamente envolvidas.

() Os administrados que entenderem um ato administrativo como nulo tem a faculdade de lhe negar cumprimento desde sua edição.

() Apesar de o ato ser nulo em relação às partes diretamente envolvidas, pode haver situações em que terceiros que agiram de boa-fé em relação ao ato tenham seus direitos resguardados.

A sequência está correta em:

- (A) F – F – V.
- (B) V – F – V.
- (C) V – V – F.
- (D) V – F – F.
- (E) F – V – V.

QUESTÃO 50

A _____ dos atos administrativos apenas permite sua execução diretamente pela Administração, mas sempre que o administrado entender haver ocorrido arbítrio, desvio ou excesso de poder, poderá recorrer à tutela judicial. Assinale a alternativa que contenha o atributo que corretamente preenche a lacuna.

- (A) legalidade
- (B) formalidade legal
- (C) oficialidade
- (D) autoexecutoriedade
- (E) tipicidade

