

AVANÇASP



CÂMARA MUNICIPAL DE AMERICANA

CONCURSO PÚBLICO  
01/2024

# OFICIAL LEGISLATIVO

## Leia atentamente as instruções abaixo

### 1. PROVA E FOLHA DE RESPOSTAS

Além deste Caderno de Prova, contendo 40 (quarenta) questões objetivas, você receberá do Fiscal de Sala:

- 01 (uma) Folha de Respostas destinada às respostas das questões objetivas. Confira se seus dados estão corretos.

### 2. TEMPO

- 03 (três) horas é o tempo disponível para realização da prova, já incluído o tempo para marcação da Folha de Respostas da prova objetiva;

- **01 (uma) hora** após o início da prova é possível, retirar-se da sala levando o caderno de prova;

### 3. INFORMAÇÕES GERAIS

- As questões objetivas têm 05 (cinco) alternativas de resposta (A, B, C, D, E) e somente **uma** delas está correta;

- Verifique se seu caderno está completo, sem repetição de questões ou falhas. Caso contrário, informe imediatamente o Fiscal da Sala, para que sejam tomadas as devidas providências;

- Confira seus dados pessoais na Folha de Respostas, especialmente nome, número de inscrição e documento de identidade e leia atentamente as instruções para preenchimento;

- O preenchimento das respostas da prova objetiva é de sua responsabilidade e não será permitida a troca de Folha de Respostas em caso de erro de marcação pelo candidato;

- Marque, na folha de respostas, com caneta de tinta azul ou preta, a letra correspondente à alternativa que você escolheu.

- Reserve tempo suficiente para o preenchimento de suas respostas. Para fins de avaliação, serão levadas em consideração apenas as marcações realizadas na Folha de Respostas da prova objetiva, não sendo permitido anotar informações relativas às respostas em qualquer outro meio que não seja o caderno de prova;

- Ao se retirar, entregue a Folha de Respostas preenchida e assinada ao Fiscal de Sala.

#### SERÁ ELIMINADO do presente certame o candidato que:

- a) for surpreendido, durante as provas, em qualquer tipo de comunicação com outro candidato;

- b) portar ou usar, qualquer tipo de aparelho eletrônico (calculadoras, bips/pagers, câmeras fotográficas, filmadoras, telefones celulares, smartphones, tablets, relógios, walkmans, MP3 players, fones de ouvido, agendas eletrônicas, notebooks, palmtops ou qualquer outro tipo de computador portátil, receptores ou gravadores) seja na sala de prova, sanitários, pátios ou qualquer outra dependência do local de prova;

- c) se ausentar da sala em que se realizam as provas levando consigo o Caderno de Questões e/ou a Folha de Respostas;

- d) se recusar a entregar a Folha de Respostas, quando terminar o tempo estabelecido;

- e) não assinar a Lista de Presença e/ou a Folha de Respostas.

---

**LÍNGUA PORTUGUESA**

---

**TEXTO**

---

**Leia o texto para responder às questões de 1 a 7.**

**Máscara em mosaico e outros tesouros são encontrados em tumba de rei maia**

O auge da civilização maia ocorreu entre 250 d.C. e 900 d.C. Apesar da grande importância histórica, existem poucos resquícios desse período devido ao saqueamento de sítios arqueológicos. Mas, recentemente, um trabalho da Universidade Tulane, nos EUA, conseguiu recuperar raros tesouros da época.

Liderado pelo arqueólogo Francisco Estrada-Belli, o time de pesquisadores fez investigações no sítio de Chochkitam, localizado na Guatemala, em uma região próxima das fronteiras dos atuais países México e Belize. Em 2022, a equipe encontrou a tumba de um rei maia, datada em 1.700 anos.

A descoberta foi possível graças à tecnologia LIDAR, que utilizou um avião para direcionar raios laser para o chão e, assim, fazer um mapeamento da área. “É como tirar raio-X do solo da floresta”, explica Estrada-Belli, em nota. “Isso revolucionou o nosso campo. Agora podemos ver aonde estamos indo, em vez de simplesmente fazer uma expedição na floresta esperando achar alguma coisa”, diz.

A tumba contém oferendas funerárias consideradas extraordinárias. Há uma máscara de jade em mosaico, raras conchas de ostra e escritos em ossos humanos. Estima-se que as relíquias sejam de 350 d.C.

A expectativa é que elas contribuam para a compreensão de elementos da cultura maia, como a religião e a linhagem real. As conchas, por exemplo, eram utilizadas pela realeza como joias e moedas, além de servirem para oferendas religiosas e de sacrifício. Os escritos em ossos humanos, por sua vez, foram feitos em pedaços de fêmur. Um deles retrata um homem que seria um rei — até então desconhecido — segurando uma máscara de jade similar à encontrada na tumba. Os pesquisadores suspeitam que os

hieróglifos vistos no material possam identificar o pai e o avô do líder, conectando-o a outros estados maias, como Tikal e Teotihuacan.

“Uma descoberta como essa é um pouco como ganhar na loteria, em termos de informação”, constata o arqueólogo Estrada-Belli. “Ela abre uma janela para um tempo obscuro sobre o qual temos pouquíssimos textos.”

**Revista Galileu.** Disponível em: <https://revistagalileu.globo.com/ciencia/arqueologia/noticia/2024/02/mascara-em-mosaico-e-outros-tesouros-sao-encontrados-em-tumba-de-rei-maia.ghtml>

---

**QUESTÃO 01**

---

De acordo com o texto, todas as afirmações a seguir são verdadeiras, exceto:

- (A) os artefatos do auge da cultura maia são escassos.
- (B) os hieróglifos gravados nos pedaços de fêmur são evidências da linhagem real.
- (C) as conchas encontradas na tumba tinham utilidades diversas na sociedade maia.
- (D) o mapeamento do local em que a tumba foi encontrada foi feito por meio de máquinas de raio-x.
- (E) o auge da civilização maia durou mais de meio século.

---

**QUESTÃO 02**

---

Segundo o texto, as relíquias encontradas na tumba maia são consideradas extraordinárias porque:

- (A) apresentam um alto valor comercial e podem trazer recursos financeiros para os pesquisadores.
- (B) podem contribuir para o entendimento de um período sobre o qual não se tem muita informação.
- (C) sugerem que os estados maias Chochkitam, Tikal e Teotihuacan não tinham qualquer tipo de ligação.
- (D) confirmam que o rei maia a que se referem as oferendas tinha familiares no poder em outros estados maias.
- (E) são escrituras em hieróglifos raros que contam histórias que contrariam o que já se sabia sobre Tikal e Teotihuacan.

---

**QUESTÃO 03**

---

Considere o excerto: “Isso revolucionou o nosso campo.” No contexto apresentado, o pronome demonstrativo “isso” é utilizado como um recurso de coesão referencial anafórico. O referente ao qual remete tal pronome é:

- (A) a tecnologia LIDAR.
- (B) a floresta.
- (C) a expedição na floresta.
- (D) o avião utilizado na expedição.
- (E) as relíquias encontradas.

---

**QUESTÃO 04**

---

Considere os seguintes excertos, retirados do texto:

- I. Estima-se que as relíquias sejam de 350 d.C.
- II. Os pesquisadores suspeitam que os hieróglifos vistos no material possam identificar o pai e o avô do líder, conectando-o a outros estados maias, como Tikal e Teotihuacan.

As normas gramaticais que sugerem a colocação pronominal enclítica nos casos apresentados são, respectivamente:

- (A) I. não se inicia período por pronome átono e II. usa-se ênclise em verbos flexionados em oração subordinada.
- (B) I. usa-se ênclise quando houver palavra atrativa antes do verbo e II. usa-se ênclise em orações subordinadas com verbos flexionados em qualquer tempo e modo.
- (C) I. não se inicia período por pronome átono e II. usa-se ênclise em orações reduzidas de gerúndio não precedidas pela preposição em.
- (D) I. usa-se ênclise em orações imperativas afirmativas e II. usa-se ênclise em orações reduzidas de gerúndio, independentemente dos demais elementos colocados.
- (E) I. usa-se ênclise em orações reduzidas de infinitivo flexionado e II. usa-se ênclise em orações reduzidas de gerúndio antecedidas pela preposição *em*, mesmo que esta esteja implícita.

---

**Considere o excerto a seguir para responder às questões 5, 6 e 7:**

“Uma descoberta como essa é um pouco como ganhar na loteria, em termos de informação”, constata o arqueólogo Estrada-Belli. “Ela abre uma janela para um tempo obscuro sobre o qual temos pouquíssimos textos.”

---

**QUESTÃO 05**

---

No excerto apresentado, a regência verbal de “abrir” é:

- (A) transitiva direta.
- (B) transitiva indireta.
- (C) intransitiva.
- (D) transitiva direta e indireta.
- (E) pronominal.

---

**QUESTÃO 06**

---

Em relação às categorias gramaticais, no contexto em que ocorrem, as palavras “uma”, “descoberta”, “obscuro” e “qual” classificam-se respectivamente em:

- (A) pronome indefinido, adjetivo, substantivo e pronome relativo.
- (B) artigo indefinido, substantivo, adjetivo e pronome relativo.
- (C) artigo indefinido, substantivo, adjetivo e pronome interrogativo.
- (D) artigo indefinido, adjetivo, adjetivo e pronome interrogativo.
- (E) pronome indefinido, substantivo, substantivo e pronome relativo.

---

**QUESTÃO 07**

---

O adjetivo “*pouquíssimos*”, que ocorre no excerto apresentado, exprime sua qualidade no grau:

- (A) positivo.
- (B) comparativo.
- (C) superlativo relativo.
- (D) superlativo absoluto sintético.
- (E) superlativo absoluto analítico.

**QUESTÃO 08**

Analise as palavras a seguir quanto à tonicidade e assinale a alternativa em que a palavra dada é oxítona.

- (A) hostil.
- (B) aeromoça.
- (C) espelho.
- (D) patente.
- (E) esperança.

**QUESTÃO 09**

Analise as sentenças a seguir e assinale aquela em que ocorre um verbo defectivo.

- (A) Deste pico se vê toda a praia.
- (B) A prefeitura demoliu os prédios mais antigos da cidade ontem à tarde.
- (C) Os incêndios florestais criminosos multiplicam-se nessa época do ano.
- (D) A exposição de fotos na biblioteca da universidade está belíssima.
- (E) Ele imprimiu todas as suas fotos da viagem à Flórida.

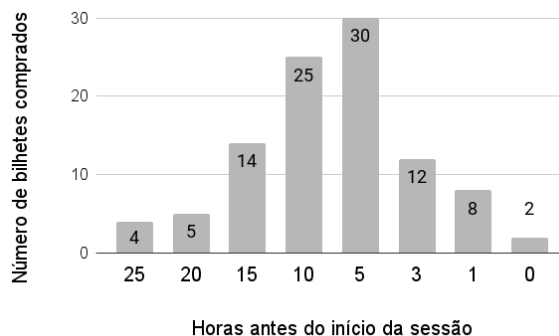
**QUESTÃO 10**

Analise as sentenças a seguir e assinale a alternativa em que as palavras apontadas preenchem corretamente as lacunas.

- I. O \_\_\_\_\_ da máquina de lavar ficou muito caro.
  - II. Já reservamos os \_\_\_\_\_ para assistirmos à peça teatral.
  - III. Finalmente, as crianças \_\_\_\_\_ a gritaria.
- (A) I. concerto; II. assentos; III. cessaram.
  - (B) I. conserto; II. assentos; III. cessaram.
  - (C) I. conserto; II. acentos; III. cessaram.
  - (D) I. concerto; II. assentos; III. sessaram.
  - (E) I. conserto; II. acentos; III. sessaram.

**MATEMÁTICA E RACIOCÍNIO LÓGICO****QUESTÃO 11**

A figura abaixo mostra a antecedência de compra dos clientes para uma determinada sessão de cinema:



A antecedência de compra é a diferença de tempo entre o horário do início do filme e o horário da compra do bilhete. Com base no gráfico, pode-se dizer que a média de antecedência de compra, em horas, é:

- (A) 8,54.
- (B) 8,15.
- (C) 9,80.
- (D) 7,92.
- (E) 5,15.

**QUESTÃO 12**

Um quadrado e um triângulo equilátero têm a mesma área, qual a razão entre o perímetro deste quadrado e o perímetro deste triângulo? Sabe-se que a altura do triângulo equilátero é  $a \frac{\sqrt{3}}{2}$ , onde  $a$  é a medida do seu lado.

- (A)  $\frac{3}{2} \sqrt[4]{3}$ .
- (B)  $\frac{1}{3} \sqrt[4]{3}$ .
- (C)  $\frac{3}{2 \sqrt[4]{3}}$ .
- (D)  $\frac{3}{4 \sqrt[4]{3}}$ .
- (E)  $\frac{2}{3} \sqrt[4]{3}$ .

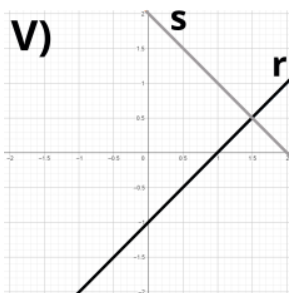
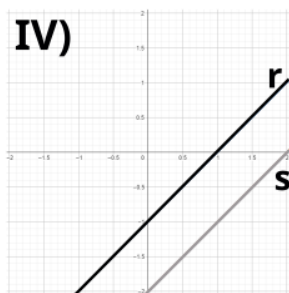
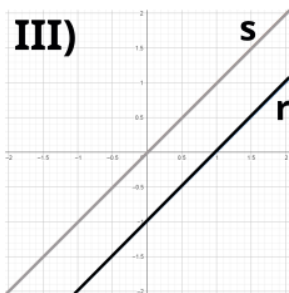
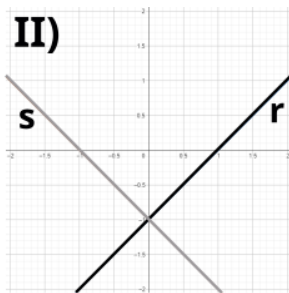
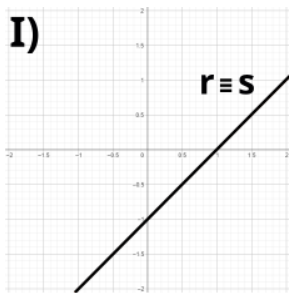
**QUESTÃO 13**

Observe o sistema de equações do primeiro grau abaixo:

$$2y = 2x - 2$$

$$-y = -x + 1$$

Essas equações podem ser representadas por retas  $r$  e  $s$ , respectivamente, num gráfico. Dentre as correspondências abaixo, indique o gráfico ao qual este sistema corresponde:



- (A) I.
- (B) II.
- (C) III.
- (D) IV.
- (E) V.

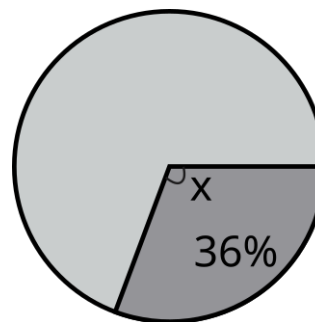
**QUESTÃO 14**

Um professor aplicou uma prova cuja nota final deve estar entre zero e dez. Ao calcular as notas, ele viu que a média da turma foi 3,0, e o candidato com maior nota tirou 6,0. Ele resolveu ‘normalizar’ as notas e atribuiu a nota 10,0 ao estudante com nota máxima anterior, e aumentou a nota de todos os outros alunos na mesma porcentagem que aumentou a do estudante com nota máxima. Neste caso, quanto passou a ser a média da turma?

- (A) 5,5.
- (B) 5,0.
- (C) 7,0.
- (D) 6,5.
- (E) 6,0.

**QUESTÃO 15**

Num gráfico de pizza, se quisermos representar uma fração de 36%, conforme a figura abaixo:



Qual deve ser o ângulo X do setor circular?

- (A) 224,0°.
- (B) 129,6°.
- (C) 136,4°.
- (D) 64,0°.
- (E) 112,9°.

**QUESTÃO 16**

Numa obra de construção civil, há duas possíveis formas de pagamento: 1) o cliente paga, mensalmente, um valor proporcional ao que foi executado na obra naquele mês. 2) o cliente paga, mensalmente, valores fixos igualmente distribuídos no prazo da obra. Suponha que uma determinada obra vai custar no total 12 milhões de reais e tem prazo previsto de 15 meses. Porém, no primeiro mês foi executado apenas 3% da obra. Nesta situação, quanto o construtor receberá a menos se a forma de pagamento for a 1) em relação à 2)?

- (A) R\$ 44.000,00.
- (B) R\$ 80.000,00.
- (C) R\$ 360.000,00.
- (D) R\$ 440.000,00.
- (E) R\$ 36.000,00.

**QUESTÃO 17**

Observe a seguinte sequência lógica numérica:

$$\frac{1}{6}, 7, \frac{1}{12}, 14, \frac{1}{18}, 21, \dots$$

Indique a divisão do 8º pelo 7º elemento dessa sequência:

- (A) 28/24.
- (B) 24/28.
- (C) 672.
- (D) 52.
- (E) 52/24.

**QUESTÃO 18**

Observe as seguintes afirmativas, que são dadas como VERDADEIRAS:

- João foi à escola
- João não jogou bola
- João não foi ao parque

Com base nas afirmativas, indique a alternativa que também apresenta uma afirmativa necessariamente VERDADEIRA:

- (A) Se João jogou bola, então João foi ao parque.
- (B) João jogou bola ou foi ao parque.
- (C) João não jogou bola e foi ao parque.
- (D) João foi à escola e jogou bola.
- (E) Se João foi à escola, então João jogou bola.

**QUESTÃO 19**

Em 1994 o Cajueiro de Pirangi, que fica no estado do Rio Grande do Norte, foi reconhecido pelo Guinness Book como a maior árvore frutífera do mundo. A árvore hoje tem cerca de 9000 metros quadrados de extensão e ainda cresce num ritmo de 0,5 metro quadrado por ano. Se quisermos expressar esse ritmo de crescimento em centímetros quadrados por ano, qual será esse valor?

- (A) 50.
- (B) 500.
- (C) 5000.
- (D) 50.000.
- (E) 500.000.

**QUESTÃO 20**

Um pacote de biscoitos indica que em 3 unidades de biscoitos há 375 kcal. Supondo que a quantidade recomendada de ingestão de calorias para uma determinada pessoa é de 2000 kcal diárias, se ela comer somente biscoitos no dia, quantas unidades de biscoitos ela deveria comer para atingir o limite recomendado?

- (A) 5.
- (B) 6.
- (C) 8.
- (D) 12.
- (E) 16.

**NOÇÕES DE INFORMÁTICA****QUESTÃO 21**

No MS-Word 2016, qual das seguintes alternativas descreve corretamente o processo para recuperar um documento que não foi salvo antes do fechamento do aplicativo?

- (A) Acessar o menu "Arquivo", selecionar "Informações", depois "Gerenciar Documento" e "Recuperar Documentos Não Salvos".
- (B) Reabrir o Word, que automaticamente exibirá os documentos não salvos.
- (C) Usar a função "Pesquisar" do sistema operacional para localizar o arquivo temporário que corresponderá à versão mais recente editada.
- (D) Ir em "Opções" dentro do Word, selecionar "Salvar" e acessar a pasta de auto recuperação "Recuperar Documentos Não Salvos".
- (E) Clicar no botão "Desfazer" na barra de ferramentas de acesso rápido após reabrir o Word.

**QUESTÃO 22**

Quando se deseja alterar a aparência do texto no Microsoft Word 2016, pode-se modificar a fonte, o tamanho, sublinhar e alinhar o texto através da guia \_\_\_\_\_.

- (A) Revisão
- (B) Inserir
- (C) Layout de Página
- (D) Página Inicial
- (E) Referências

**QUESTÃO 23**

No Excel 2016, como uma fórmula deve ser iniciada para realizar cálculos dentro de uma célula?

- (A) Com o sinal #
- (B) Com o sinal &
- (C) Com o sinal @
- (D) Com o sinal %
- (E) Com o sinal =

**QUESTÃO 24**

No Microsoft Excel 2016, para realizar o cálculo do total dos valores presentes em um determinado conjunto de células, que no presente caso compreende de A1 até A5, qual das funções a seguir é apropriada?

- (A) =SOMA(A1:A5)
- (B) =SUBTRAIR(A1:A5)
- (C) =MULTIPLICAR(A1:A5)
- (D) =DIVIDIR(A1:A5)
- (E) =MÉDIA(A1:A5)

**QUESTÃO 25**

Em relação à criação e execução de macros no MS-Excel 2016, qual afirmação é verdadeira?

- (A) O Excel não permite a importação de macros de outras planilhas, mas suporta a exportação direta de macros para outros softwares de planilha.
- (B) É impossível atribuir uma macro a um botão na planilha para facilitar sua execução.
- (C) Macros são usadas para operações de formatação e não podem automatizar cálculos ou análise de dados.
- (D) Para executar uma macro, o usuário precisa acessar sempre o Visual Basic for Applications (VBA).
- (E) Macros permitem automatizar tarefas repetitivas, incluindo cálculos complexos, através de scripts no VBA.

**CONHECIMENTOS ESPECÍFICOS****QUESTÃO 26**

Sobre a Organização dos Municípios Brasileiros, nos termos da Constituição Federal de 1988 (CFRB/1988), avalie as afirmativas a seguir.

I. O Município reger-se-á por lei orgânica, votada em dois turnos, com o interstício mínimo uma semana, e aprovada por unanimidade dos membros da Câmara Municipal.

II. Haverá um mínimo de nove e máximo de vinte e um vereadores nos Municípios de até um milhão de habitantes.

III. Um dos preceitos a serem estabelecidos pela lei orgânica municipal é a inviolabilidade dos Vereadores por suas opiniões, palavras e votos no exercício do mandato e na circunscrição do Município.

Está correto o que se afirma em:

- (A) II e III, apenas.
- (B) I e III, apenas.
- (C) I, apenas.
- (D) III, apenas.
- (E) nenhuma das afirmativas.

**QUESTÃO 27**

A fiscalização do Município será exercida \_\_\_\_\_, mediante controle externo, o qual será exercido com o auxílio \_\_\_\_\_. Assinale a alternativa que correta e sequencialmente preenche as lacunas do enunciado, nos exatos termos da CFRB/1988.

- (A) pelo Poder Executivo Municipal / dos Tribunais de Contas
- (B) pelo Poder Legislativo Municipal / dos Tribunais de Contas
- (C) Poder Executivo Municipal / do Poder Legislativo Municipal
- (D) pelo Poder Legislativo Municipal / dos Tribunais de Justiça
- (E) pelo Poder Legislativo Municipal / do Ministério Público

**QUESTÃO 28**

Sobre o processo de elaboração legislativa em âmbito federal e nos termos da CRFB/1988, assinale a alternativa INCORRETA.

- (A) Dentre as possíveis normas a serem elaboradas pelo Congresso Nacional estão os decretos legislativos e as resoluções.
- (B) As Assembleias Legislativas Estaduais são legitimadas a propor Emendas à Constituição Federal, obedecidas certas condições.
- (C) A Constituição poderá ser emendada a qualquer tempo, mesmo na vigência de intervenção federal, de estado de defesa ou de estado de sítio.
- (D) Não será objeto de deliberação a proposta de emenda à Constituição tendente a abolir a forma federativa de Estado.
- (E) A matéria constante de proposta de emenda à Constituição rejeitada ou havida por prejudicada não pode ser objeto de nova proposta na mesma sessão legislativa.

**QUESTÃO 29**

Ainda sobre o Processo Legislativo, informe se é verdadeiro (V) ou falso (F) para o que se afirma a seguir, com fulcro na Constituição Federal de 1988.

- ( ) A iniciativa das leis complementares e ordinárias cabe a qualquer membro ou Comissão da Câmara dos Deputados, do Senado Federal ou do Congresso Nacional, ao Presidente da República, ao Supremo Tribunal Federal, aos Tribunais Superiores, ao Procurador-Geral da República e aos cidadãos, na forma e nos casos previstos na Constituição.
  - ( ) Em caso de relevância e urgência, o Presidente da República poderá adotar medidas provisórias, com força de lei, devendo submetê-las de imediato ao Congresso Nacional.
  - ( ) As medidas provisórias editadas pelo Presidente da República não têm qualquer restrição de objeto, podendo tratar inclusive sobre Direito Penal, Processual Penal e Civil.
- A sequência está correta em:
- (A) V – V – F.
  - (B) V – F – V.
  - (C) F – V – F.
  - (D) V – V – F.
  - (E) F – V – V



**QUESTÃO 30**

Dispõe a Constituição Federal de 1988 que os projetos de lei que tratam dos planos plurianuais, das diretrizes orçamentárias e dos orçamentos anuais são de iniciativa:

- (A) do Ministro de Estado do Planejamento e Orçamento.
- (B) de ação popular, pleiteada por dois terços dos eleitores ativos.
- (C) do Procurador-Geral da República.
- (D) privativa do Chefe do Poder Executivo.
- (E) do Presidente do Congresso Nacional.

**QUESTÃO 31**

À luz da Constituição Federal de 1988, é correto afirmar que a lei orçamentária anual não conterá dispositivo estranho à previsão da receita e à fixação da despesa, não se incluindo na proibição:

- (A) a autorização para abertura de créditos suplementares e contratação de operações de crédito, ainda que por antecipação de receita.
- (B) a criação de cargos públicos nas áreas de saúde, educação, segurança pública e assistência social.
- (C) a previsão de isenção tributária em caráter não geral para contribuintes em situação de vulnerabilidade social.
- (D) a definição de lotes urbanos e rurais de interesse social para fins de desapropriação.
- (E) a concessão de reajuste ao funcionalismo municipal, limitado à variação do índice oficial de preços no período de referência.

**QUESTÃO 32**

Em seu trâmite processual no Congresso Nacional, o projeto de lei orçamentária anual poderá receber emendas dos parlamentares. Nos termos da CRFB/1988, as emendas individuais ao projeto de lei orçamentária serão aprovadas no limite de:

- (A) 1% da receita corrente arrecadada até o momento do envio do projeto.
- (B) 5% da receita corrente líquida do exercício anterior ao do encaminhamento do projeto.
- (C) 1% da receita orçamentária prevista no projeto de lei orçamentária para o exercício de referência.
- (D) 2% da receita orçamentária prevista no projeto de lei orçamentária para o exercício de referência.
- (E) 2% da receita corrente líquida do exercício anterior ao do encaminhamento do projeto.

**QUESTÃO 33**

Com base na Lei Complementar nº 95/1998, que prevê normas gerais sobre a elaboração, a redação, a alteração e a consolidação das leis, informe se é verdadeiro (V) ou falso (F) para o que se afirma a seguir.

- ( ) As regras definidas pela referida Lei em nada se aplicam à edição de decretos regulamentares.
- ( ) O primeiro artigo do texto indicará o objeto da lei e o respectivo âmbito de aplicação.
- ( ) A lei não conterá matéria estranha a seu objeto ou a este não vinculada por afinidade, pertinência ou conexão.

A sequência está correta em:

- (A) V – V – F.
- (B) V – F – V.
- (C) F – V – F.
- (D) V – V – F.
- (E) F – V – V

**QUESTÃO 34**

Ainda de acordo com a Lei Complementar nº 95/1998, assinale a alternativa INCORRETA.

- (A) As disposições pertinentes às medidas necessárias à implementação das normas de conteúdo substantivo, às disposições transitórias, se for o caso, a cláusula de vigência e a cláusula de revogação constarão da parte final da lei.
- (B) A epígrafe, grafada em caracteres maiúsculos, propiciará identificação numérica singular à lei e será formada pelo título designativo da espécie normativa, pelo número respectivo e pelo ano de promulgação.
- (C) As leis entram em vigor na data de sua publicação, não havendo necessidade de dispositivo expresso em seu texto dispondo sobre a vigência.
- (D) A cláusula de revogação deverá enumerar, expressamente, as leis ou disposições legais revogadas.
- (E) A epígrafe, a ementa, o preâmbulo, o enunciado do objeto e a indicação do âmbito de aplicação das disposições normativas constarão da parte inicial da lei.

**QUESTÃO 35**

Sobre a disciplina dos Bens Públicos, avalie as afirmativas a seguir.

- I. Os bens públicos de uso comum do povo podem ser alienados, se observadas as exigências legais e o interesse público.
- II. Um prédio público destinado a abrigar uma escola municipal é classificado como um bem de uso especial.
- III. Atendidas as condições estabelecidas em lei, os bens dominicais podem ser alienados.
- Está correto o que se afirma em:
- (A) III, apenas.
- (B) I e II, apenas.
- (C) II, apenas.
- (D) II e III, apenas.
- (E) I e III, apenas.

**QUESTÃO 36**

Ainda sobre o tema dos Bens Públicos, informe sobre a veracidade (V) ou falsidade (F) das afirmações a seguir. Em seguida, assinale a alternativa com a sequência correta.

- ( ) Os bens públicos dominicais, ainda que detenham natureza jurídica de direito privado, são parte do patrimônio das pessoas jurídicas de direito público.
- ( ) Enquanto conservarem esta qualificação, os bens públicos de uso comum do povo são inalienáveis.
- ( ) Independentemente do tempo de posse, o instituto do usucapião não se aplica aos bens de uso especial.

- (A) V – V – V.
- (B) V – F – V.
- (C) F – V – F.
- (D) V – V – F.
- (E) F – V – V

**QUESTÃO 37**

Sobre a responsabilidade civil da Administração Pública no Brasil, é correto afirmar que:

- (A) é do tipo subjetiva, dependendo de dolo específico, cabendo, no entanto, ação de regresso.
- (B) é do tipo objetiva, independente de dolo ou culpa, cabendo, no entanto, ação de regresso.
- (C) é do tipo subjetiva, dependendo, no mínimo da existência de culpa, a ser comprovada pelo particular prejudicado.
- (D) é do tipo objetiva, dependendo, no mínimo da existência de culpa, a ser comprovada pelo particular prejudicado.
- (E) é do tipo objetiva, dependendo da comprovação de dolo, cabendo, no entanto, ação de regresso.

**QUESTÃO 38**

À luz da disciplina constitucional, assinale a alternativa correta no que tange aos Servidores Públicos.

- (A) A Constituição apenas admite a nomeação de estrangeiros para o cargo de professor de instituições de pesquisa científica e tecnológica.
- (B) A criação e a extinção de cargos públicos podem efetivar-se mediante Decreto do Executivo.
- (C) O edital do concurso público pode estabelecer quaisquer tipos de condições ou restrições para a nomeação em cargo público.
- (D) Os cargos em comissão destinam-se apenas às atribuições de direção, chefia e assessoramento.
- (E) A Constituição veda expressamente o direito de greve ao servidor público.

**QUESTÃO 39**

Ainda sobre o tema, é correto afirmar que a investidura em cargo ou emprego público \_\_\_\_\_ e que poderá haver acúmulo remunerado de \_\_\_\_\_, desde que haja compatibilidade de horários. Assinale a alternativa que correta e sequencialmente preenche as lacunas.

- (A) depende de aprovação prévia em concurso público de provas ou de provas e títulos / dois cargos de professor
- (B) poderá ser efetivada com base apenas em prova de títulos / dois cargos de juiz de Direito
- (C) poderá ser efetivada com base apenas em prova de títulos / um cargo de Prefeito Municipal e um de Vereador
- (D) depende de aprovação prévia em concurso público de provas / dois cargos de natureza técnica ou científica
- (E) independe de aprovação prévia em concurso público de provas ou de provas e títulos / dois cargos de médico

**QUESTÃO 40**

Um ato administrativo que, já em sua gênese, possui vício irremediável em um de seus elementos constitutivos é considerado:

- (A) convalidado, e dele não surgem quaisquer direitos.
- (B) prescrito, e dele podem surgir direitos em relação a terceiros de boa-fé.
- (C) anulável, e dele podem surgir direitos.
- (D) nulo, e dele não podem surgir direitos, salvo em relação a terceiros de boa-fé.
- (E) pendente, e dele não podem surgir quaisquer tipos de direito.

