

INSTRUÇÕES

LEIA COM ATENÇÃO

1. Este Caderno de Prova, com páginas numeradas de **1 a 17**, é constituído de **40 (quarenta)** questões objetivas, cada uma com **4 (quatro)** alternativas, assim distribuídas:

01 a 10 – Língua Portuguesa

11 a 20 – Legislação Básica

21 a 40 – Conhecimentos Específicos

2. Caso o Caderno de Prova esteja incompleto ou tenha qualquer defeito de impressão, solicite ao fiscal que o substitua.
3. **Sobre a Marcação do Cartão de Respostas**

As respostas deverão ser, obrigatoriamente, transcritas com caneta esferográfica de tinta azul ou preta não porosa, fabricada em material transparente, para o Cartão de Respostas, que será o único documento válido para correção. Não haverá substituição do Cartão de Respostas por erro do candidato.

- 3.1. Para cada questão existe apenas uma alternativa que a responde acertadamente. Para a marcação da alternativa escolhida no **CARTÃO DE RESPOSTAS**, pinte completamente o círculo correspondente.

Exemplo: Suponha que para determinada questão a alternativa C seja a escolhida.

<i>Nº da Questão</i>
<input type="radio"/> A
<input type="radio"/> B
<input checked="" type="radio"/>
<input type="radio"/> D

- 3.2. Marque apenas uma alternativa para cada questão.
 - 3.3. Será invalidada a questão em que houver mais de uma marcação, marcação rasurada ou emendada, ou não houver marcação.
 - 3.4. Não rasure nem amasse o **CARTÃO DE RESPOSTAS**.
4. Todos os espaços em branco, neste caderno, podem ser utilizados para rascunho.
5. A duração da prova é **4 (quatro)** horas, já incluído o tempo destinado ao preenchimento do **CARTÃO DE RESPOSTAS**.
6. Somente após decorridas **2 horas e 30 minutos** do início da prova, o candidato, depois de entregar seu Caderno de Prova e seu Cartão de Respostas, poderá retirar-se da sala de prova. O candidato que insistir em sair da sala de prova antes desse tempo deverá assinar **Termo de Ocorrência** declarando sua desistência do concurso.
7. Na página **17** deste Caderno de Prova, encontra-se a **Folha de Anotação do Candidato**, a qual poderá ser utilizada para a transcrição das respostas das questões objetivas. Essa folha poderá ser levada pelo candidato para posterior conferência com o gabarito somente após decorridas **2 horas e 30 minutos** do início da prova.
8. Será permitida a saída de candidatos levando o Caderno de Prova somente **na última meia hora** de prova.
9. Após o término da prova, o candidato deverá, obrigatoriamente, entregar ao fiscal o **CARTÃO DE RESPOSTAS** devidamente assinado (no espaço próprio) e preenchido.

LÍNGUA PORTUGUESA

Instrução: Leia o texto e responda às questões de 01 a 10.

Insônia infeliz e feliz

De repente os olhos bem abertos. E a escuridão toda escura. Deve ser noite alta. Acendo a luz da cabeceira e para o meu desespero são duas horas da noite. E a cabeça clara e lúcida. Ainda arranjaréi alguém igual a quem eu possa telefonar às duas da noite e que não me maldiga. Quem? Quem sofre de insônia? E as horas não passam. Saio da cama, tomo café. E ainda por cima com um desses horríveis substitutos do açúcar porque Dr. José Carlos Cabral de Almeida, dietista, acha que preciso perder os quatro quilos que aumentei com a superalimentação depois do incêndio. E o que se passa na luz acesa da sala? Pensa-se numa escuridão clara. Não, não se pensa. Sente-se. Sente-se uma coisa que só tem um nome: solidão. Ler? Jamais. Escrever? Jamais. Passa-se um tempo, olha-se o relógio, quem sabe são cinco horas. Nem quatro chegaram. Quem estará acordado agora? E nem posso pedir que me telefonem no meio da noite, pois posso estar dormindo e não perdoar. Tomar uma pílula para dormir? Mas e o vício que nos espreita? Ninguém me perdoaria o vício. Então fico sentada na sala, sentindo. Sentindo o quê? O nada. E o telefone à mão.

Mas quantas vezes a insônia é um dom. De repente acordar no meio da noite e ter essa coisa rara: solidão. Quase nenhum ruído. Só o das ondas do mar batendo na praia. E tomo café com gosto, toda sozinha no mundo. Ninguém me interrompe o nada. É um nada a um tempo vazio e rico. E o telefone mudo, sem aquele toque súbito que sobressalta. Depois vai amanhecendo. As nuvens se clareando sob um sol às vezes de fogo puro. Vou ao terraço e sou talvez a primeira do dia a ver a espuma branca do mar. O mar é meu, o sol é meu, a terra é minha. E sinto-me feliz por nada, por tudo. Até que, com o sol subindo, a casa vai acordando e há o reencontro com meus filhos sonolentos.

(LISPECTOR, Clarice. Disponível em: //www.culturagenial.com/cronicas-famosas. Acesso em: 03/01/2024.)

QUESTÃO 01

Qual a temática sobre a qual a crônica versa?

- [A] Quietude
- [B] Tranquilidade
- [C] Insônia
- [D] Desamparo

QUESTÃO 02

A leitura atenta do texto autoriza a afirmar que a personagem do texto é uma mulher

- [A] que, na mesma situação, sente-se ora angustiada ora em paz.
- [B] que gosta da solidão, de ficar sozinha em sua casa à beira do mar.
- [C] que passa todas as noites a tomar café e esperar que algum amigo lhe telefone.
- [D] que, na solidão, sente-se livre, mas não se entrega ao sono para não perder o amanhecer.

QUESTÃO 03

No primeiro parágrafo, a narrativa oscila entre a primeira pessoa (*acendo a luz*) e a terceira (*pensa-se*). Esse fato linguístico sugere

- [A] inconstância da narrativa.
- [B] espontaneidade na narrativa.
- [C] indefinição da personagem.
- [D] desarticulação da personagem.

QUESTÃO 04

A linguagem do texto é marcada predominantemente

- [A] pela complexidade sintática.
- [B] por frases curtas e incisivas.
- [C] por uso de metáfora a cada linha.
- [D] pelo uso de frases incompletas.

QUESTÃO 05

Em Acendo a luz da cabeceira, há presença de palavra homófona. Em qual alternativa há outro caso de homofonia?

- [A] Os técnicos administrativos fizeram grande festança de Natal na sede do sindicato.
- [B] O acerto feito com os funcionários mal durou uma temporada de trabalho.
- [C] Sabe o que muito faltou na festa? Gelo, minha filha!
- [D] Sem dúvida, foi muito apropriado pensar em cassar o mandato daquele político.

QUESTÃO 06

Tome o trecho: Acendo a luz da cabeceira e para o meu desespero são duas horas da noite. Assinale a alternativa que apresenta a regra da norma culta que justifica a concordância do verbo ser.

- [A] Quando o verbo ser se apresenta como verbo impessoal, ou seja, sem sujeito, na indicação de noções temporais e distâncias, a concordância verbal é feita com o numeral.
- [B] Havendo um sujeito singular que se refira a coisas e um predicativo do sujeito no plural, o verbo deverá ser escrito também no plural.
- [C] A concordância é feita com o sujeito gramatical, ou seja, o verbo ser concorda em número (singular ou plural) e pessoa (1.^a, 2.^a ou 3.^a) com o sujeito da oração.
- [D] Quando o sujeito e o predicativo apresentarem flexões diferentes, o verbo ser concorda com o elemento que estiver no plural.

QUESTÃO 07

A respeito de recursos linguísticos, assinale a afirmativa correta.

- [A] Em Mas quantas vezes a insônia é um dom., a conjunção, apesar de ser classificada como adversativa, tem função aditiva, acrescenta uma informação às ideias anteriores.
- [B] No trecho É um nada a um tempo vazio e rico., a palavra a está incorretamente grafada, pois o verbo haver exige grafia com h.
- [C] Em E sinto-me feliz por nada, por tudo., o uso de metáfora serve para aprofundar o estado psíquico da personagem.
- [D] No trecho ainda arranjarei alguém igual a quem eu possa telefonar às duas da noite, o pronome relativo está preposicionado em função da regência do verbo telefonar.

QUESTÃO 08

O papel da vírgula em um texto, além de indicar certa pausa na pronúncia, é organizar os sentidos de um texto. Analise o uso da vírgula nos trechos a seguir.

- I. *E nem posso pedir que me telefonem no meio da noite, pois posso estar dormindo e não perdoar.*
- II. *Passa-se um tempo, olha-se o relógio, quem sabe são cinco horas.*
- III. *O mar é meu, o sol é meu, a terra é minha.*
- IV. *Até que, com o sol subindo, a casa vai acordando e há o reencontro com meus filhos sonolentos.*

Assinale a alternativa que apresenta correta justificativa para o emprego de vírgula nos trechos constantes das afirmativas I, II, III e IV.

- [A] Na afirmativa I, a vírgula isola expressão intercalada na oração, como *pois*, usada para expressar conclusão.
- [B] Nas afirmativas II e III, as vírgulas isolam um elemento pleonástico que vem antes do verbo, ou seja, um termo que se repete na frase para ter mais ênfase.
- [C] Isolar expressão que indica circunstâncias variadas, como tempo, lugar, modo, companhia, entre outras (adjuntos adverbiais invertidos ou intercalados na oração), é a função da vírgula na afirmativa IV.
- [D] A vírgula indica a supressão de uma palavra, sendo usada em vez da palavra que foi omitida, nas afirmativas I e IV.

QUESTÃO 09

A derivação é um dos processos profícuos de formação de palavras na língua portuguesa, a exemplo das palavras *cabeceira* e *escuridão*, formadas pelo processo de derivação com a junção de sufixo. Há vários outros tipos de derivação, como a imprópria e a regressiva. Assinale I para as afirmativas que apresentam exemplo de derivação imprópria e R para as que apresentam exemplo de derivação regressiva.

- () Os bons herdarão o reino dos céus!
- () Minha ajuda naquele processo foi rejeitada pelos membros da assembleia.
- () Todos sabiam da existência de funcionários fantasmas na secretaria de estado.
- () Estranhamos o badalar dos sinos da matriz em hora tão inapropriada.
- () Mediante o resultado do concurso, a candidata não resistiu e caiu no choro.

Marque a sequência correta.

- [A] I, I, R, I, R
- [B] I, R, I, I, R
- [C] R, R, I, R, I
- [D] R, I, R, R, I

QUESTÃO 10

Tempo verbal usado para transmitir uma ação possível, mas incerta. Expressa um acontecimento hipotético, que ainda não se realizou por estar dependente de outro acontecimento. Assinale a alternativa em que as formas verbais dadas, constantes do primeiro parágrafo, estão nesse tempo verbal.

- [A] *maldiga - telefonem*
- [B] *passam – chegaram*
- [C] *fico - sofre*
- [D] *pensa – saio*

LEGISLAÇÃO BÁSICA

QUESTÃO 11

Em consonância com as normas da Lei Orgânica Municipal de Cáceres/MT acerca da vinculação constitucional de recursos orçamentários para a manutenção e desenvolvimento do ensino, é correto afirmar:

- [A] O município aplicará anualmente nunca menos de trinta e cinco por cento da receita resultante de impostos, inclusive a proveniente de transferências, na manutenção e desenvolvimento do ensino.
- [B] Os recursos orçamentários destinados à manutenção e desenvolvimento do ensino serão dirigidos aos sistemas de ensino municipal e às escolas comunitárias com ou sem finalidade lucrativa.
- [C] É vedada a utilização dos recursos destinados à educação para financiar bolsas de estudos para o ensino fundamental, ficando o poder público obrigado a expandir a sua rede na localidade onde houver falta de vagas e cursos regulares da rede pública.
- [D] Os recursos públicos vinculados à educação deverão assegurar o atendimento das necessidades do ensino fundamental e não se destinam a financiar atividades culturais ou esportivas apoiadas pelo Município.

QUESTÃO 12

Em vista do disposto na Lei Complementar Municipal nº 25/1997 acerca das normas aplicáveis à acumulação de cargos públicos, assinale a afirmativa **INCORRETA**.

- [A] Não se compreende na proibição de acumular a percepção conjunta de proventos de aposentadoria resultante de cargos legalmente acumuláveis.
- [B] A acumulação lícita nos casos ressalvados na Constituição Federal fica condicionada à comprovação da compatibilidade de horários, entendida como a probabilidade de cumprimento integral da jornada ou do regime de trabalho, ao qual o servidor estiver submetido.
- [C] O servidor não poderá exercer mais de um cargo em comissão ou função de confiança nem participar, com remuneração, de mais de um órgão de deliberação coletiva.
- [D] A proibição de acumular proventos se aplica aos aposentados, quanto ao exercício de mandato eletivo, cargo em comissão ou contrato para prestação de serviços técnicos especializados, de caráter temporário.

QUESTÃO 13

Tendo em vista as disposições da Lei Orgânica do Município de Cáceres/MT, em sua redação reformada, acerca da concessão de benefícios previdenciários aos servidores públicos municipais amparados pelo Regime Próprio de Previdência Social (RPPS) e seus dependentes, analise as afirmativas.

- I. O rol de benefícios do regime próprio de previdência social fica limitado às aposentadorias e à pensão por morte.
- II. Os afastamentos por incapacidade temporária para o trabalho e o salário maternidade serão pagos diretamente pelo ente federativo e não correrão à conta do regime próprio de previdência social.
- III. Os proventos de aposentadoria serão calculados e reajustados de acordo com a legislação em vigor na data do requerimento do benefício.
- IV. A pensão por morte em favor dos dependentes do servidor municipal será calculada com base na aposentadoria voluntária que seria devida se estivesse aposentado à data do óbito.

Estão corretas as afirmativas

- [A] I, II e IV, apenas.
- [B] II, III e IV, apenas.
- [C] I e III, apenas.
- [D] II e IV, apenas.

QUESTÃO 14

De acordo com as disposições da Lei Orgânica do Município de Cáceres/MT aplicáveis ao servidor público municipal em exercício de mandato eletivo, marque V para as afirmativas verdadeiras e F para as falsas.

- () O servidor ocupante de cargo de provimento efetivo, investido no mandato de Prefeito Municipal, será obrigatoriamente afastado do seu cargo sem direito à remuneração e passará a perceber o subsídio do cargo eletivo.
- () O servidor ocupante de cargo de provimento efetivo, investido no mandato de Vereador, havendo compatibilidade de horários, perceberá as vantagens de seu cargo, sem prejuízo do subsídio do cargo eletivo.
- () Em qualquer caso que exija o afastamento para o exercício de mandato eletivo, o tempo de serviço será contado para todos os efeitos legais, inclusive para promoção por merecimento.
- () Para efeito de concessão de benefício previdenciário no caso de afastamento, os valores serão determinados como se o servidor no exercício estivesse.

Assinale a sequência correta.

- [A] V, F, V, V
- [B] F, V, F, F
- [C] F, V, F, V
- [D] V, F, V, F

QUESTÃO 15

O parágrafo 1º do artigo 32 da Lei Complementar Municipal nº 25/1997, que institui o Regime Jurídico dos Servidores Públicos do Município de Cáceres/MT, ao dispor sobre a invalidação da causa da perda do cargo de servidor público estável, prescreve:

“Invalidada por sentença judicial a _____ do servidor estável, será ele _____, e o eventual ocupante da vaga, se estável, _____ ao cargo de origem, sem direito à indenização, aproveitado em outro cargo ou posto em _____ com remuneração proporcional ao tempo de serviço”.

Assinale a alternativa que preenche correta e respectivamente as lacunas.

- [A] exoneração; revertido; reintegrado; atividade.
- [B] demissão; reconduzido; revertido; disponibilidade.
- [C] demissão; reintegrado; reconduzido; disponibilidade.
- [D] exoneração; reintegrado; reconduzido; atividade.

QUESTÃO 16

Leia o seguinte texto:

A Emenda Constitucional nº 19, promulgada em 4 de junho de 1998, também conhecida como “Reforma Administrativa”, promoveu intensa mudança no Título III (Da Organização do Estado), sobretudo, em seu capítulo VII (Da Administração Pública) (...).

Sua apresentação diz o seguinte: “modifica o regime e dispõe sobre princípios e normas da Administração Pública, servidores e agentes políticos, controle de despesas e finanças públicas e custeio de atividades a cargo do Distrito Federal, e dá outras providências” (BRASIL, 1998).

Desta ampla reforma administrativa e seguindo o escopo do corte de despesas, resultou, entre outras coisas, a instituição do sistema remuneratório de subsídio, o qual não era previsto para nenhuma categoria de agente público, na redação original da Constituição de 1988.

A partir da mencionada emenda, passaram a coexistir dois sistemas remuneratórios: o tradicional, em que a remuneração compreende uma parte fixa e outra variável, constituída por vantagens de natureza diversa, e o novo, no qual a contraprestação corresponde ao subsídio, que deverá ser constituído por parcela única, excluindo a possibilidade de percepção de vantagens pecuniárias variáveis. O primeiro sistema é chamado de remuneração ou vencimento e, o segundo, de subsídio (DI PIETRO, 2006, p. 515).

Dentro do sistema remuneratório de subsídio há, ainda, a diferenciação entre o obrigatório e o facultativo. De forma que o § 4º, do art. 39, submete obrigatoriamente ao regime de subsídio, os membros de quaisquer dos poderes, os detentores de mandato eletivo, os ministros de estado, os secretários estaduais e municipais, bem como os membros do Ministério Público, os integrantes da Advocacia Geral da União, os procuradores dos Estados e do Distrito Federal, os defensores públicos, os Ministros do Tribunal de Contas da União e os servidores públicos policiais.

Enquanto o § 8º do mesmo artigo dispõe sobre o sistema remuneratório de subsídio facultativo, nestes termos: “a remuneração dos servidores públicos organizados em carreira poderá ser fixada nos termos do § 4º”.

(SILVA, Rute Mikaele Pacheco da. Os direitos sociais do servidor público em face do sistema remuneratório de subsídios.

Disponível em: *Revista da Academia Brasileira de Direito Constitucional*. Curitiba, 2013, vol. 5, n. 9, jul.-dez. On-line. Acesso em: 15/01/2024.)

Considerando o disposto na Lei Orgânica do Município de Cáceres/MT sobre o assunto tratado no texto, é correto afirmar:

- [A] A remuneração dos ocupantes de cargos públicos da administração direta, autárquica e fundacional, dos membros de qualquer dos Poderes do município, dos detentores de mandato eletivo e dos demais agentes políticos, percebida cumulativamente ou não, não poderá exceder o dobro do subsídio mensal, em espécie, do Prefeito Municipal.
- [B] Os vencimentos dos cargos do Poder Legislativo poderão ser superiores aos pagos pelo Poder Executivo, desde que observado o valor máximo de subsídio fixado na legislação municipal.
- [C] É permitida a vinculação ou equiparação de espécies remuneratórias para o efeito de remuneração de pessoal do serviço público, com o fim de assegurar a paridade do valor do subsídio previsto para os cargos do Poder Legislativo e para os cargos do Poder Executivo municipal.
- [D] A remuneração dos servidores públicos municipais e os subsídios do Prefeito, do Vice-Prefeito, dos Vereadores e dos Secretários Municipais somente poderão ser fixados ou alterados por lei específica, observada a iniciativa privativa em cada caso, assegurada a revisão geral anual, sempre na mesma data e sem distinção de índices.

QUESTÃO 17

Conforme prescreve a Lei Complementar Municipal nº 25/1997, que dispõe sobre o Regime Jurídico dos Servidores Públicos do Município de Cáceres/MT, a promoção funcional do servidor é a passagem de uma classe para outra imediatamente posterior da categoria funcional em que se encontra, e se dará automaticamente a cada

- [A] 02 (dois) anos.
- [B] 03 (três) anos.
- [C] 01 (um) ano.
- [D] 05 (cinco) anos.

QUESTÃO 18

Analise a seguinte situação hipotética:

Justino é servidor ocupante de cargo efetivo no Município de Cáceres/MT e foi convidado para assumir um cargo de confiança como gestor financeiro de uma Secretaria Municipal. Antes da nomeação para o cargo, o servidor foi instado a apresentar alguns documentos, inclusive declarar a existência de eventual contrato firmado com o poder público municipal por pessoa de sua família. Nesta declaração, afirmou que seus pais são proprietários de um bem imóvel urbano, que foi locado para o Município.

De acordo com o disposto na Lei Orgânica do Município de Cáceres/MT acerca das normas aplicáveis aos servidores públicos e aos contratos firmados pela Administração Pública municipal, assinale a afirmativa correta a respeito da situação relatada.

- [A] O servidor municipal em cargo de confiança, bem como pessoas ligadas a ele por vínculo de parentesco, em nenhuma hipótese, poderão manter contrato com os órgãos e as entidades integrantes da Administração Pública municipal.
- [B] O servidor municipal em cargo de confiança não poderá manter contrato com os órgãos e as entidades integrantes da Administração Pública municipal, mas tal vedação não se estende a pessoas ligadas a ele por vínculo de parentesco.
- [C] O servidor municipal em cargo de confiança, bem como pessoas ligadas a ele por vínculo de parentesco, não poderão manter contrato com os órgãos e as entidades integrantes da Administração Pública municipal, salvo quando o contrato obedecer a cláusulas uniformes.
- [D] O servidor municipal em cargo de confiança ou seus familiares não poderão firmar contrato com os órgãos e as entidades integrantes da Administração Pública municipal, mas isso não impede a manutenção de quaisquer contratos firmados antes da nomeação.

QUESTÃO 19

Tendo em vista as disposições da Lei Complementar Municipal nº 25/1997, que institui o Regime Jurídico dos Servidores Públicos do Município de Cáceres/MT, analise as afirmativas acerca de frequência e horário dos servidores.

- I. Os ocupantes de cargo de provimento efetivo devem cumprir jornada semanal de 40 (quarenta) horas e não estão sujeitos a trabalho em horário extraordinário, por falta de previsão legal.
- II. O registro de ponto para apuração de frequência não é obrigatório, mas poderá ser instituído, a critério da autoridade municipal, por meio de regulamento.
- III. A Administração poderá modificar a jornada semanal legalmente fixada, observado o interesse do serviço, bem como estabelecer regras de compensação ou revezamento para os servidores que trabalham em regime de escala ou jornada diferenciada, por meio de Decreto, respeitadas as demais condições legais.
- IV. A Administração municipal poderá adotar, a critério da gestão superior, o regime de dedicação não exclusiva, ao servidor comissionado, o qual poderá desempenhar outra atividade profissional particular ou pública, desde que haja compatibilidade de horários, podendo ser convocado sempre que necessário ao serviço público.

Estão corretas as afirmativas

- [A] II, III e IV, apenas.
- [B] III e IV, apenas.
- [C] I, II e III, apenas.
- [D] I e IV, apenas.

QUESTÃO 20

Considere a seguinte situação hipotética:

Josefino é chefe imediato da servidora Linda Flor no âmbito da administração direta no Município de Cáceres/MT. Recebeu uma reclamação formal subscrita pelo advogado constituído por uma empresa contribuinte do Município quanto à falta de resposta a um requerimento de compensação tributária que aguarda análise da servidora.

Conforme documentação anexada na reclamação, o procedimento administrativo instaurado pela empresa foi distribuído à servidora e aguarda análise há mais de 8 (oito) meses, enquanto o prazo de análise regularmente adotado nesses casos é de 2 (dois) meses.

Diante da reclamação, Josefino recomendou ao órgão responsável a abertura de processo administrativo disciplinar para apurar a conduta da servidora por suposta inobservância a dever funcional previsto em lei.

De acordo com as disposições da Lei Complementar Municipal nº 25/1997 aplicáveis ao regime disciplinar dos servidores públicos do Município de Cáceres/MT, assinale a afirmativa correta a respeito da situação relatada.

- [A] A ação disciplinar foi fulminada pela prescrição porque o processo deveria ser instaurado no prazo de 180 (cento e oitenta) dias a contar da ocorrência do fato, por se tratar de infração disciplinar suscetível à pena de advertência.
- [B] Não cabe instauração de processo administrativo disciplinar, uma vez que as penalidades previstas em lei não se aplicam quando apurado o cometimento de uma única conduta irregular, mas apenas em caso de reincidência nas faltas.
- [C] A conduta da servidora deverá ser enquadrada como inassiduidade habitual, que corresponde à falta ao serviço, sem causa justificada, por mais de 60 (sessenta) dias.
- [D] É cabível a contagem do prazo de prescrição previsto em lei para apuração da infração disciplinar do momento em que a suposta conduta irregular se tornou conhecida pela autoridade responsável.

CONHECIMENTOS ESPECÍFICOS

QUESTÃO 21

A acústica arquitetônica tem por finalidade o estudo das condições acústicas das edificações, visando à qualidade sonora, que depende das propriedades físicas dos materiais utilizados, forma e volume arquitetônicos. A coluna da esquerda apresenta fenômenos de propagação do som e a da direita, seus conceitos. Numere a coluna da direita de acordo com a coluna da esquerda.

- | | | |
|-----------------|-----|---|
| 1. Refração | () | É a vibração de um determinado corpo por influência da vibração de outro, na mesma faixa de frequência. |
| 2. Difração | () | É a mudança de direção de uma onda sonora quando passa de um meio de propagação para outro. |
| 3. Ressonância | () | É a capacidade de o som transpor obstáculos posicionados entre a fonte sonora e a recepção, mudando sua direção e reduzindo sua intensidade. |
| 4. Reverberação | () | É o prolongamento necessário de um som produzido, a título de sua inteligibilidade em locais mais afastados da fonte produtora, ocorrendo apenas em ambientes fechados. |

Marque a sequência correta.

- [A] 2, 3, 4, 1
- [B] 3, 1, 2, 4
- [C] 3, 4, 1, 2
- [D] 4, 2, 1, 3

QUESTÃO 22

A carta solar é uma representação gráfica dos percursos aparentes do sol na abóbada celeste ao longo do dia, em diferentes épocas do ano. É uma ferramenta bastante prática para a obtenção das informações necessárias para avaliar a penetração solar, sombras projetadas pelo entorno e, com isso, determinar a melhor orientação da edificação e as proteções solares necessárias às aberturas. Para o dimensionamento das proteções solares, um transferidor de ângulos é sobreposto à carta solar, de acordo com a orientação da fachada estudada, auxiliando na determinação dos ângulos de sombreamento, que são: o ângulo horizontal (β), o ângulo vertical frontal (α) e o ângulo vertical lateral (γ). Assinale a alternativa que permite a construção de uma proteção solar horizontal finita.

- [A] β e γ
- [B] somente α
- [C] somente β
- [D] α e γ

QUESTÃO 23

A NBR 9050/2020 - Acessibilidade a edificações, mobiliário, espaços e equipamentos urbanos estabelece que as rampas devem ter inclinação de acordo com os limites fixados em norma, sendo que, para a inclinação entre 6,25 % e 8,33 %, é recomendado criar áreas de descanso nos patamares, a cada 50 m de percurso, e o desnível máximo de cada segmento de rampa h é de 0,80 m. Considerando uma rampa com inclinação de 7%, qual o tamanho do percurso máximo permitido sem patamar?

- [A] 8,76m
- [B] 9,60m
- [C] 11,43m
- [D] 5,60m

QUESTÃO 24

A partir do momento em que se inicia o processo de pega do concreto, após prazo de transporte e lançamento, esse material irá começar a passar do estado plástico para o estado endurecido. Caso ainda esteja sendo lançado ou manipulado, as reações químicas do cimento irão ser prejudicadas, acarretando um concreto com menor performance. A NBR 7212/2021 – Concreto Dosado em Central estabelece que, a partir do momento da primeira adição de água no concreto, com emprego de caminhão betoneira, o tempo de lançamento e adensamento do concreto deve ser inferior a

- [A] 150 minutos.
- [B] 120 minutos.
- [C] 90 minutos.
- [D] 180 minutos.

QUESTÃO 25

A NBR 15270-1/2023 – Componentes cerâmicos – Blocos e tijolos para alvenaria especifica os requisitos dimensionais e as propriedades físicas e mecânicas de blocos e tijolos cerâmicos a serem utilizados em obras de alvenaria, com ou sem função estrutural, executadas de forma racionalizada ou não. Nessa norma, bloco ranhurado é definido como

- [A] componente de alvenaria cujas paredes externas são maciças com rachaduras e as internas podem ser paredes maciças ou vazadas.
- [B] componente de alvenaria, participante ou não da estrutura, que possui vazados prismáticos perpendiculares às faces que os contêm, produzido para ser assentado com vazados na vertical, com características e propriedades específicas para alvenaria racionalizada.
- [C] componente de paredes maciças com vazados prismáticos da alvenaria não participante da estrutura, produzido para ser assentado com vazados na horizontal, na última fiada da parede, sob o elemento da estrutura.
- [D] componente de alvenaria de paredes maciças que possui vazados prismáticos, perpendiculares às faces que os contêm, produzido para ser assentado com vazados na vertical, com características e propriedades específicas para alvenaria estrutural, com ranhuras nas paredes internas.

QUESTÃO 26

Os Objetivos de Desenvolvimento Sustentável (ODS) fazem parte da chamada “Agenda 2030” e trata-se de um pacto global, assinado durante a Cúpula das Nações Unidas em 2015, pelos 193 países membros. Sobre a temática, assinale a afirmativa correta.

- [A] Os objetivos de Desenvolvimento Sustentável abrangem diferentes temas, relacionados a aspectos ambientais, apenas. Assim como as metas de cada ODS, eles foram construídos de maneira interdependente. Ou seja, quando um país conseguir atingir um deles, muito provavelmente terá conseguido avançar em outros.
- [B] Erradicação da pobreza em todas as suas formas, em todos os lugares, fome zero e agricultura sustentável para alcançar a segurança alimentar e melhoria da nutrição é o objetivo 17 (ODS17)
- [C] A agenda é composta por 17 objetivos ambiciosos e interconectados, desdobrados em 169 metas, com foco em superar os principais desafios de desenvolvimento enfrentados por pessoas no Brasil e no mundo, promovendo o crescimento sustentável global até 2030.
- [D] Os KPIs (Key Performance Indicators), que são os indicadores-chave de desempenho, estabelecidos apenas com o mínimo de 3 objetivos conquistados. Por meio deles, é possível avaliar o avanço na conquista do objetivo. O Brasil tem a definição de seus indicadores, a partir de sua realidade, assim como cada cidade possui seus próprios parâmetros.

QUESTÃO 27

A partir dos princípios da Geometria Descritiva, a projeção ortográfica é uma forma de representar graficamente objetos tridimensionais em superfícies planas, de modo a transmitir suas características com precisão e demonstrar sua verdadeira grandeza. Sobre a temática, marque V para as afirmativas verdadeiras e F para as falsas.

- () Vista ortográfica é o resultado da representação através da Projeção Cônica–ortogonal. É a representação da forma exata de um objeto, em verdadeira grandeza.
- () A definição de modelo é o objeto a ser representado em projeção ortográfica, o observador indica a posição da pessoa que visualiza o modelo, que é oposta ao plano de projeção e este é a superfície onde se projeta o modelo.
- () A vista frontal é originada a partir da projeção do modelo no plano vertical, enquanto a vista superior é originada a partir da projeção do modelo no plano horizontal.
- () Para fazer qualquer projeção no 1º diedro, o plano de projeção deverá estar posicionado entre o observador e o objeto. O plano de projeção precisa ser transparente (como uma placa de vidro) e o observador, por trás do plano de projeção, puxa as projetantes do objeto para o plano.

Assinale a sequência correta.

- [A] F, V, V, F
- [B] V, V, F, F
- [C] V, F, V, V
- [D] F, F, F, V

QUESTÃO 28

Topografia pode ser definida como a representação gráfica de um terreno com seus acidentes naturais e artificiais. A unidade de medida angular da Topografia é o “grau”, “minuto” e “segundo”. Assinale a alternativa que apresenta a conversão para graus decimais da coordenada 3°30’36”.

- [A] 4,06°
- [B] 3,51°
- [C] 3,36°
- [D] 3,66°

QUESTÃO 29

O telhado é uma categoria de cobertura, em geral caracterizado por possuir um ou mais planos inclinados em relação ao plano horizontal. A coluna da esquerda apresenta elementos da cobertura e a da direita, as suas definições. Numere a coluna da direita de acordo com a da esquerda.

- | | | |
|------------|-----|--|
| 1. Terça | () | Elemento principal de sustentação, transfere o peso do telhado para a estrutura. |
| 2. Caibro | () | Parte da cobertura em balanço que se prolonga além da prumada das paredes. |
| 3. Tesoura | () | Peça que fica apoiada sobre as terças, sustentando as ripas. |
| 4. Rincão | () | Viga de madeira que sustenta os caibros do telhado, paralelamente à cumeeira e ao frechal. |
| 5. Beiral | () | Canal inclinado formado por duas águas do telhado. |

Assinale a sequência correta.

- [A] 3, 4, 1, 5, 2
[B] 1, 2, 4, 3, 5
[C] 5, 4, 2, 1, 3
[D] 3, 5, 2, 1, 4

QUESTÃO 30

O Código de Ética e Disciplina define os parâmetros deontológicos que devem orientar a conduta dos profissionais registrados nos Conselhos de Arquitetura e Urbanismo. As normas reunidas nesse Código impõem elevadas exigências éticas aos arquitetos e urbanistas, as quais se traduzem em obrigações para com a sociedade e para com a comunidade profissional, além de alçarem o dever geral de urbanidade. De acordo com o referido Código, o arquiteto e urbanista

- [A] deve oferecer propostas para a prestação de serviços somente após obter informações necessárias e suficientes sobre a natureza e extensão dos serviços profissionais solicitados por seu contratante.
[B] não deve responsabilizar-se pelas tarefas ou trabalhos executados por seus auxiliares, equipes, ou sociedades profissionais que estiverem sob sua administração ou direção, e assegurar que atuem em conformidade com os melhores métodos e técnicas.
[C] pode assumir serviços profissionais quando considerar que os recursos materiais e financeiros necessários estão adequadamente definidos, mesmo que ainda não disponíveis para o cumprimento dos compromissos a firmar com o contratante.
[D] proprietário ou representante de qualquer marca ou empresa de material de construção, componente, equipamento ou patente que venha a ter aplicação em determinada obra, poderá prestar, em virtude desta qualidade, serviços de Arquitetura e Urbanismo a título gratuito ou manifestamente sub-remunerados.

QUESTÃO 31

De acordo com Lei Federal nº 11.888/2008, conhecida como Lei da Assistência Técnica para Habitação de Interesse Social, marque V para as afirmativas verdadeiras e F para as falsas.

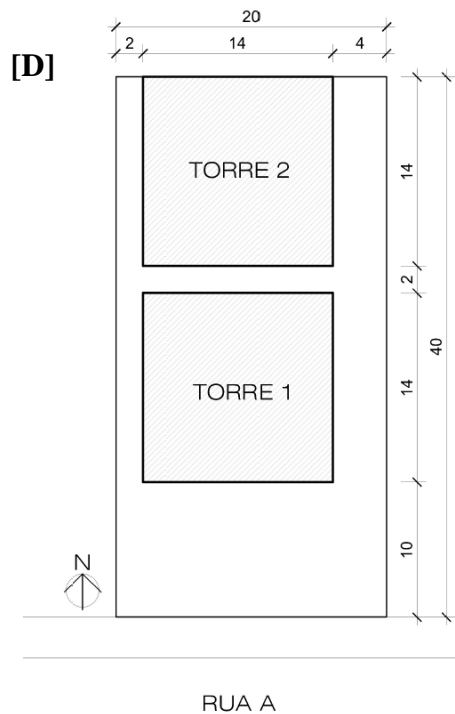
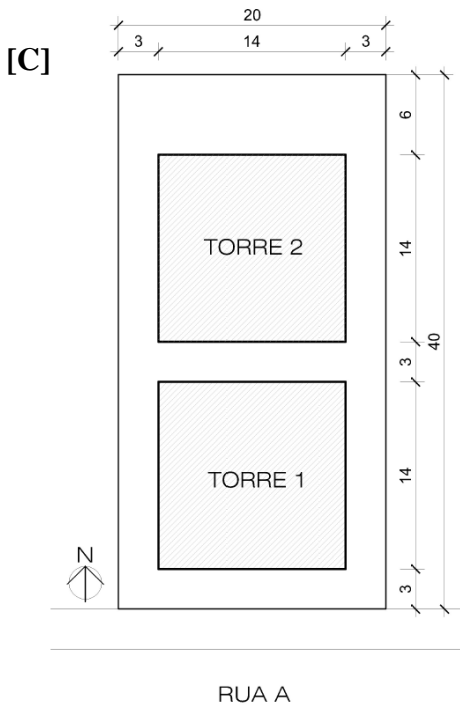
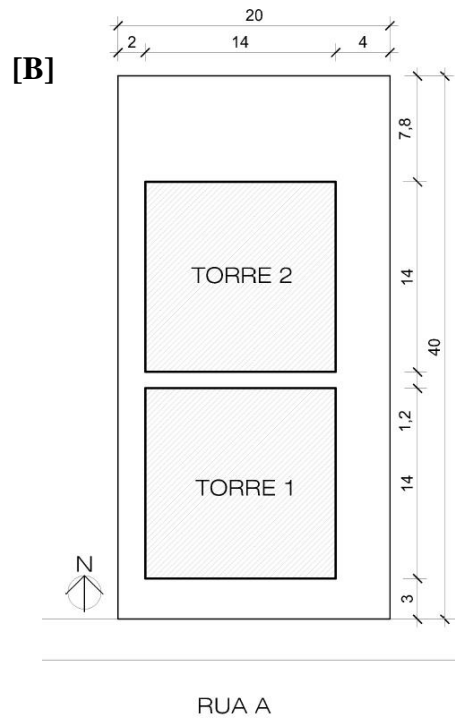
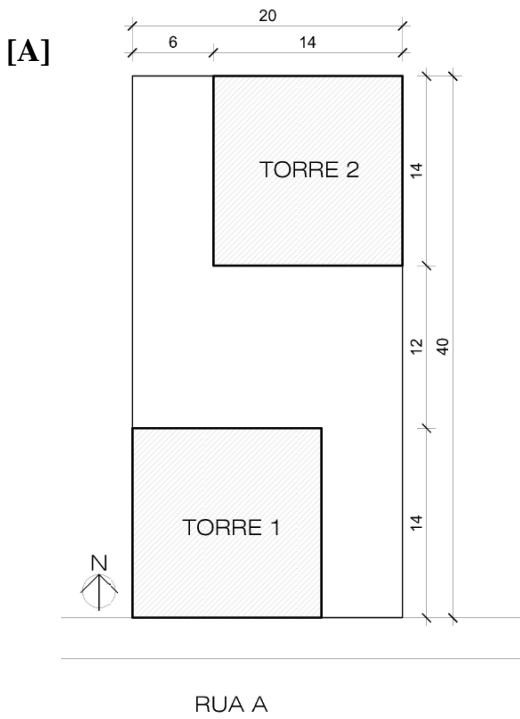
- () A Lei garante que famílias com renda de até três salários mínimos recebam assistência técnica pública e gratuita para a elaboração de projetos, acompanhamento e execução de obras necessárias para a edificação, reforma, ampliação ou regularização fundiária de suas moradias.
() A assistência técnica não pode ser oferecida diretamente às famílias, somente a grupos organizados na forma de cooperativas, associações de moradores ou outros grupos organizados que as representem.
() Os serviços de assistência técnica devem priorizar as iniciativas a serem implantadas sob regime de mutirão e em zonas habitacionais declaradas por lei como de interesse social.
() Os serviços de assistência técnica não podem ser prestados por profissionais que atuem como servidores públicos da União, dos Estados, do Distrito Federal ou dos Municípios.

Assinale a sequência correta.

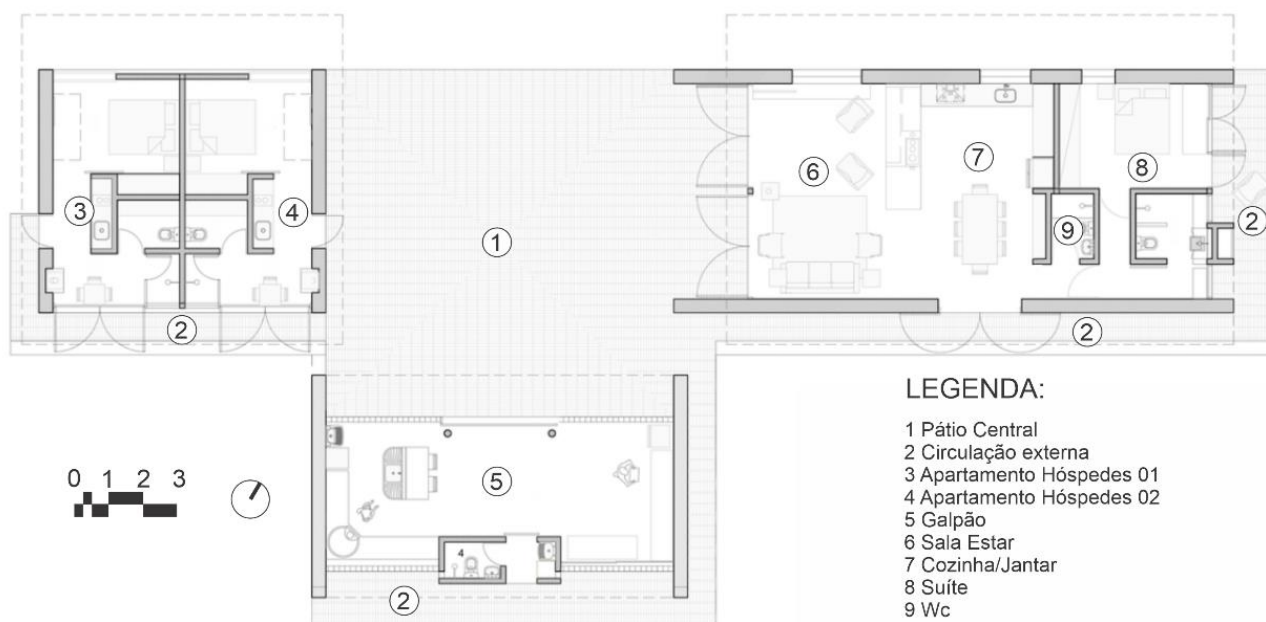
- [A] V, F, V, F
[B] F, F, F, V
[C] V, V, V, F
[D] F, V, F, V

QUESTÃO 32

Avalie as implantações a seguir com base nos requisitos estabelecidos no Código de Obras do município de Cáceres, disposto na Lei Complementar nº 19, de 21/12/1995. Considerando as regiões destacadas nas imagens como sendo a projeção do limite exterior das vedações externas de uma edificação comercial de quatro (4) pavimentos, distribuída em dois (2) blocos, com aberturas situadas nas faces norte e sul de cada bloco, assinale a alternativa que ilustra uma solução de projeto que atenda aos requisitos do código.

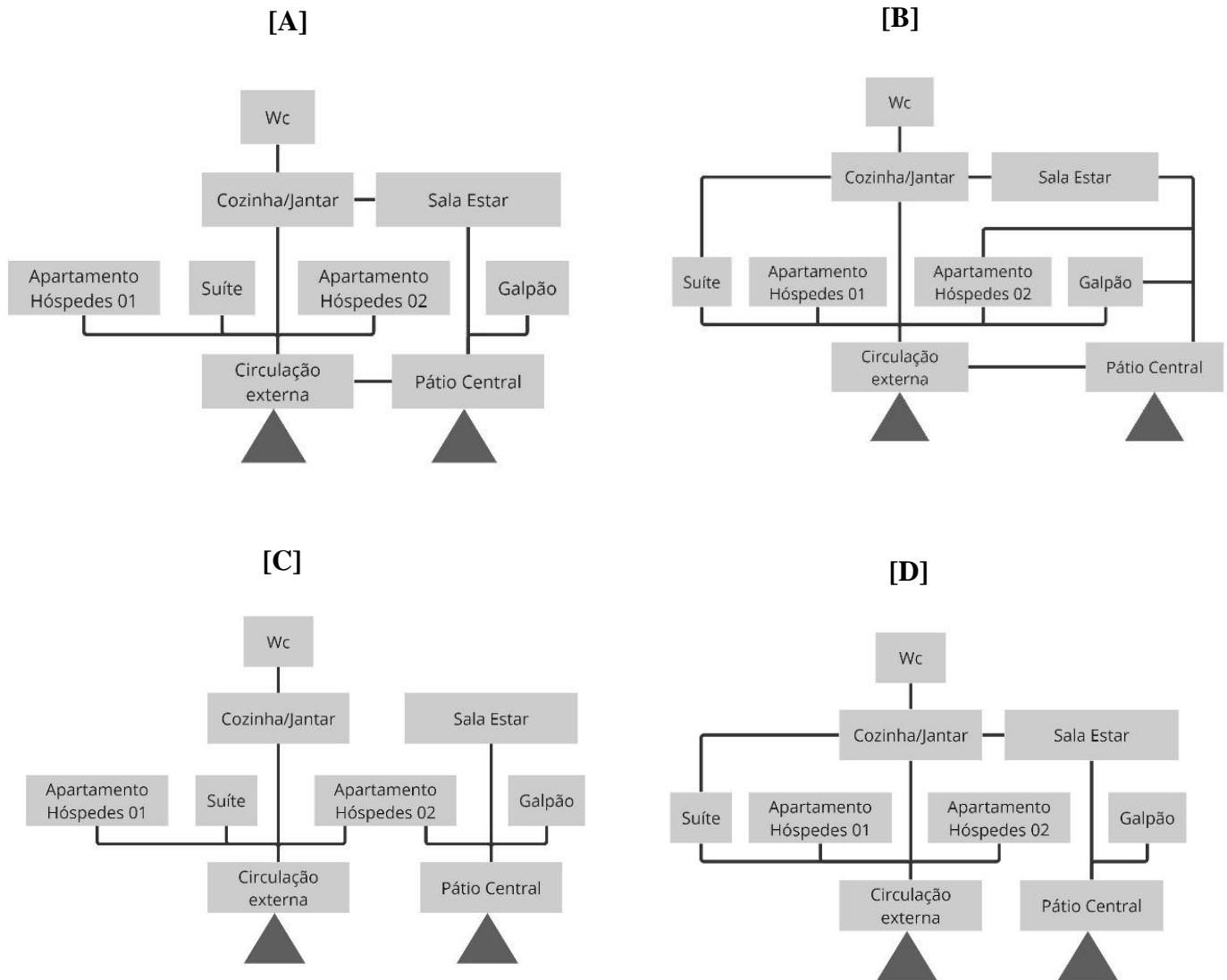


Instrução: A Casa Pátio Guapuruvu fica localizada em um sítio na Serra da Mantiqueira, no município de Camanducaia, em Minas Gerais. Foi organizada em 3 blocos conectados por meio de um pátio, sendo a casa principal à direita, a casa de hóspedes à esquerda e o galpão ao centro, com uso de vedações externas em taipa de pilão, com 30 cm de espessura. Sobre esta edificação, responda as questões de 33 a 36.



QUESTÃO 33

Quanto ao fluxograma do projeto arquitetônico da Casa Pátio, assinale a alternativa que o representa.



QUESTÃO 34

A casa Pátio possui um sistema de tratamento de esgoto ecológico, pelo uso de bacia de evapotranspiração (BET) com bananeiras. Sobre essa temática, analise as afirmativas.

- I. Apenas a _____, que sai dos sanitários, deve ser direcionada para o sistema.
- II. A _____, aquela que sai da máquina de lavar, pias e chuveiros, deve ir para outro sistema de tratamento, como um filtro biológico.
- III. Diferente de outros sistemas, a água presente neste processo retorna ao ambiente na forma de vapor através da _____ das folhas.
- IV. As plantas também consomem os nutrientes produzidos em seu processo de _____, permitindo que a bacia nunca encha.

Assinale a alternativa que preenche correta e respectivamente as lacunas.

- [A] água cinza, água negra, respiração, fotossíntese
[B] água cinza, água negra, transpiração, respiração
[C] água negra, água cinza, respiração, transpiração
[D] água negra, água cinza, transpiração, crescimento

QUESTÃO 35

Considerando que em Camanducaia/MG são observadas amplitudes térmicas diárias significativas, com dias quentes e noites frias, mesmo no verão, e direção predominante do vento Norte (Verão e Inverno) e Leste (Outono e Primavera), analise as afirmativas a seguir.

- I. Foi correta a escolha pelo sistema de vedação em taipa de pilão, com 30 cm de espessura nas paredes externas, uma vez que sua alta inércia térmica possibilita que os ambientes internos se mantenham frescos durante o dia e aquecidos a noite.
- II. As grandes aberturas localizadas no espaço social do bloco principal estão voltadas para o pôr do sol, possibilitando a entrada de radiação direta nesses espaços ao final do dia, momento em que as temperaturas externas começam a cair, contribuindo para o conforto dos espaços interiores.
- III. A porosidade entre os blocos e mesmo o grande número de aberturas possibilitam o aproveitamento da ventilação natural em todos os ambientes durante todo o ano, independente da direção predominante do vento.

Está correto o que se afirma em

- [A] I, II e III.
[B] I e II, apenas.
[C] II e III, apenas.
[D] I e III, apenas.

QUESTÃO 36

De forma a viabilizar a execução das vedações em taipa sem a interferência do sistema de instalações elétricas, a casa pátio possui sistema de eletrodutos aparentes. A coluna da esquerda apresenta características desse sistema e a da direita, a significação de cada uma. Numere a coluna da direita de acordo com a da esquerda.

- | | | |
|-------------------|-----|--|
| 1. Visibilidade | () | Podem ser facilmente modificados ou expandidos, o que é útil em projetos nos quais as necessidades mudam frequentemente. |
| 2. Flexibilidade | () | São, geralmente, feitos de materiais mais resistentes, como o alumínio, o que os torna capazes de suportar maiores cargas mecânicas. |
| 3. Acessibilidade | () | São fáceis de acessar e manter, o que é importante em projetos em que a manutenção e/ou inspeção é frequente. |
| 4. Durabilidade | () | Por serem aparentes, facilitam a identificação de problemas, como vazamentos, obstruções ou danos. |

Marque a sequência correta.

- [A] 2, 1, 4, 3
[B] 1, 3, 2, 4
[C] 2, 4, 3, 1
[D] 3, 1, 4, 2

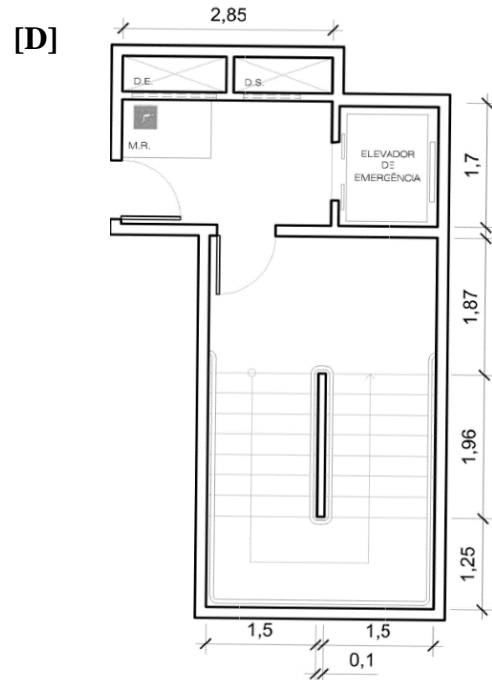
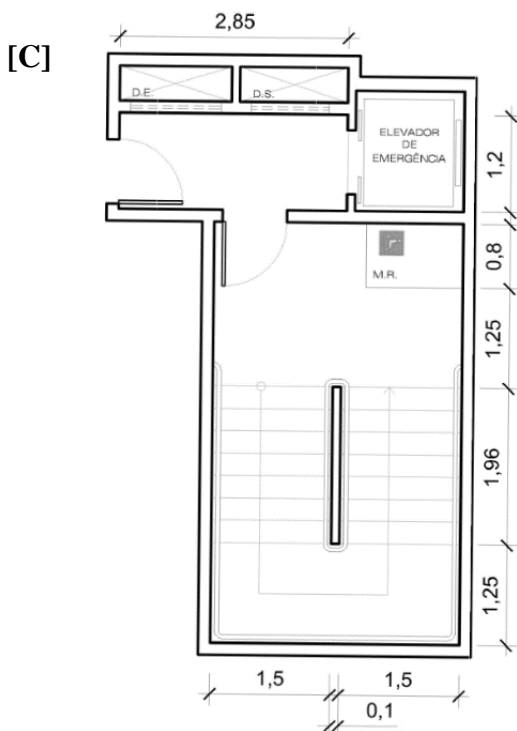
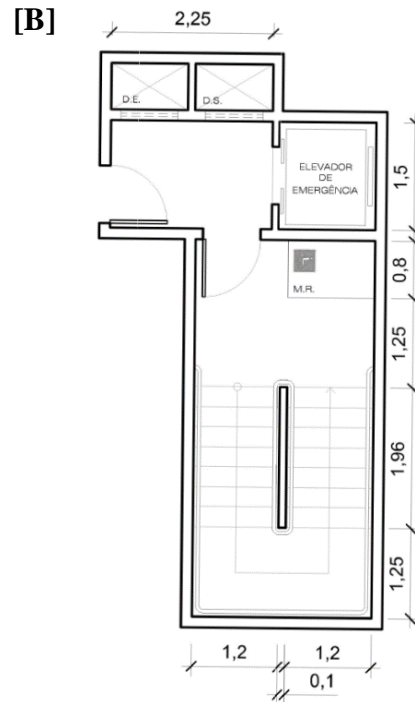
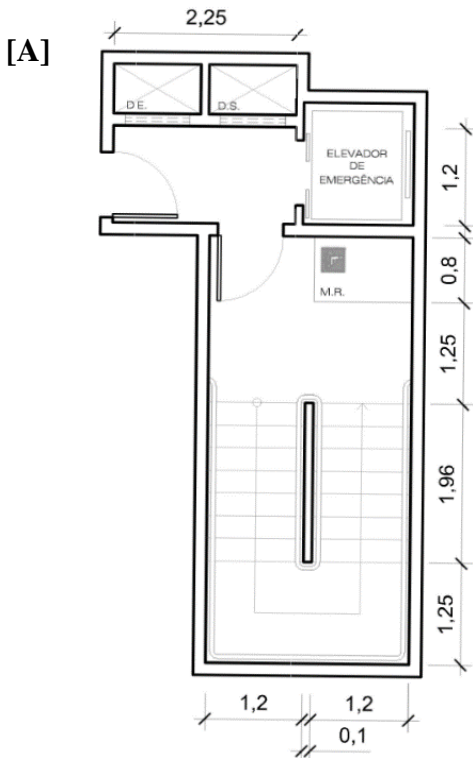
QUESTÃO 37

O georreferenciamento é um tipo de levantamento cadastral pelo qual são obtidas informações reais sobre um imóvel. Esse processo inicia-se com a obtenção das coordenadas (pertencentes ao sistema no qual se planeja georreferenciar) de pontos do imóvel a ser georreferenciado, conhecidos como Pontos de Controle. Sobre a temática, assinale a afirmativa correta.

- [A] Um SGR (Sistema Geodésico de Referência) é um sistema de coordenadas geralmente apresentadas nas formas cartesiana e plana.
- [B] O sistema UTM (Universal Transversa de Mercator) estabelece que a Terra seja dividida em 60 fusos de seis graus de longitude, os quais têm início no antimeridiano de Greenwich (180°) e seguem de leste para oeste.
- [C] Em fevereiro de 2005, o IBGE estabeleceu como Sistema Geodésico Brasileiro (SGB) o Sistema de Referência Geocêntrico para as Américas (SIRGAS) em sua realização no ano 2002 (SIRGAS2002).
- [D] O WGS 84 (World Geodetic System 1984) possui uso nacional no sistema de posicionamento nacional por satélite (GNSS) brasileiro, mais conhecido como NAVSTAR/GPS, e também no Google Earth.

QUESTÃO 38

Um edifício comercial de múltiplos pavimentos, classificado pela NBR 9077/2001 “Saídas de emergência em edifícios” como edificação alta de pequeno pavimento, demanda a implantação de uma escada de emergência do tipo Escada enclausurada à prova de fumaça (PF). A NBR 9050/2020 “Acessibilidade a edificações, mobiliário, espaços e equipamentos urbanos” também determina requisitos para a garantia da acessibilidade em rotas de fuga. Qual alternativa ilustra uma solução adequada para a escada de emergência nessa edificação, considerando os registros dessas normas?



QUESTÃO 39

O processo BIM consiste na integração dos dados, possibilitando acesso simultâneo, mas controlado, a um banco de dados com todas as informações das diversas disciplinas envolvidas em um Ambiente Comum de Dados (Common Data Environment - CDE). Segundo a NBR ISO 19650_1 (2022), as informações no CDE devem ser agrupadas em “contêineres de informação” com uso definido a partir do seu “Estado de informação”. A coluna da esquerda apresenta os estados de informação estabelecidos por essa norma e a da direita, seus conceitos. Numere a coluna da direita de acordo com a da esquerda.

- | | | |
|------------------|-----|---|
| 1. Em andamento | () | Informação aprovada para ser utilizada para detalhamento de projeto, construção e/ou gestão do ativo. |
| 2. Compartilhado | | |
| 3. Publicado | () | Informação em desenvolvimento pelo seu criador ou equipe de tarefas. |
| 4. Arquivado | | Não está visível ou acessível a outras equipes de tarefa, agentes ou organizações. |
| | () | Informação que foi superada, retirada de uso ou rejeitada do processo. |
| | () | Informação aprovada para ser compartilhada com o contratante, outras equipes de entrega ou equipes de tarefa. |

Marque a sequência correta.

- [A] 2, 1, 3, 4
- [B] 1, 2, 4, 3
- [C] 3, 4, 2, 1
- [D] 3, 1, 4, 2

QUESTÃO 40

Infraestrutura urbana refere-se ao conjunto de instalações, serviços e sistemas essenciais que sustentam cidades e comunidades. Segundo dados do Instituto Brasileiro de Geografia e Estatística (IBGE), cidades com boa infraestrutura tendem a ter melhor qualidade de vida, maior crescimento econômico e são mais atraentes para investimentos. Analise as afirmativas.

- I. A infraestrutura de _____ é a porta de entrada para o desenvolvimento de soluções digitais e avanços tecnológicos, gerando impactos em todos os setores através da modernização e digitalização.
- II. Entre os serviços de infraestrutura de _____, estão: tratamento e distribuição de água, coleta e tratamento de esgoto, coleta de lixo, limpeza urbana e serviços de drenagem e manejo das águas pluviais.
- III. A infraestrutura _____ está diretamente ligada aos modais de transportes devido ao processo de escoamento, conservação e segurança de cargas e mercadorias comercializadas.
- IV. A infraestrutura de _____ refere-se a todos os modais de transporte, mobilidade urbana e estruturas necessárias para a circulação de pessoas, frotas, cargas e mercadorias.

Assinale a alternativa que preenche correta e respectivamente as lacunas.

- [A] energia elétrica, água potável, transporte, logística
- [B] energia elétrica, saneamento, iluminação pública, logística
- [C] telecomunicações, saneamento, logística, transportes
- [D] telecomunicações, água potável, logística, transporte



ESTADO DE MATO GROSSO
PREFEITURA MUNICIPAL DE CÁCERES

EDITAL N.º 02/2024 - PMC

FOLHA DE ANOTAÇÃO DO CANDIDATO

Questão	Alternativa
01	
02	
03	
04	
05	
06	
07	
08	
09	
10	
11	
12	
13	
14	
15	
16	
17	
18	
19	
20	

Questão	Alternativa
21	
22	
23	
24	
25	
26	
27	
28	
29	
30	
31	
32	
33	
34	
35	
36	
37	
38	
39	
40	

Esta folha é destinada para uso EXCLUSIVO do candidato.

PREFEITURA MUNICIPAL DE CÁCERES