

AVANÇASP



CÂMARA MUNICIPAL DE ITATIBA

CONCURSO PÚBLICO
01/2024

AUXILIAR CONTÁBIL

Leia atentamente as instruções abaixo

1. PROVA E FOLHA DE RESPOSTAS

Além deste Caderno de Prova, contendo 40 (quarenta) questões objetivas, você receberá do Fiscal de Sala:

- 01 (uma) Folha de Respostas destinada às respostas das questões objetivas. Confira se seus dados estão corretos.

2. TEMPO

- 03 (três) horas é o tempo disponível para realização da prova, já incluído o tempo para marcação da Folha de Respostas da prova objetiva;

- **01 (uma) hora** após o início da prova é possível, retirar-se da sala levando o caderno de prova;

3. INFORMAÇÕES GERAIS

- As questões objetivas têm 05 (cinco) alternativas de resposta (A, B, C, D, E) e somente **uma** delas está correta;
- Verifique se seu caderno está completo, sem repetição de questões ou falhas. Caso contrário, informe imediatamente o Fiscal da Sala, para que sejam tomadas as devidas providências;
- Confira seus dados pessoais na Folha de Respostas, especialmente nome, número de inscrição e documento de identidade e leia atentamente as instruções para preenchimento;
- O preenchimento das respostas da prova objetiva é de sua responsabilidade e não será permitida a troca de Folha de Respostas em caso de erro de marcação pelo candidato;

- Marque, na folha de respostas, com caneta de tinta azul ou preta, a letra correspondente à alternativa que você escolheu.

- Reserve tempo suficiente para o preenchimento de suas respostas. Para fins de avaliação, serão levadas em consideração apenas as marcações realizadas na Folha de Respostas da prova objetiva, não sendo permitido anotar informações relativas às respostas em qualquer outro meio que não seja o caderno de prova;

- Ao se retirar, entregue a Folha de Respostas preenchida e assinada ao Fiscal de Sala.

SERÁ ELIMINADO do presente certame o candidato que:

- a) for surpreendido, durante as provas, em qualquer tipo de comunicação com outro candidato;
- b) portar ou usar, qualquer tipo de aparelho eletrônico (calculadoras, bips/pagers, câmeras fotográficas, filmadoras, telefones celulares, smartphones, tablets, relógios, walkmans, MP3 players, fones de ouvido, agendas eletrônicas, notebooks, palmtops ou qualquer outro tipo de computador portátil, receptores ou gravadores) seja na sala de prova, sanitários, pátios ou qualquer outra dependência do local de prova;
- c) se ausentar da sala em que se realizam as provas levando consigo o Caderno de Questões e/ou a Folha de Respostas;
- d) se recusar a entregar a Folha de Respostas, quando terminar o tempo estabelecido;
- e) não assinar a Lista de Presença e/ou a Folha de Respostas.

LÍNGUA PORTUGUESA
TEXTO

Leia o texto para responder às questões de 1 a 7.

Máscara em mosaico e outros tesouros são encontrados em tumba de rei maia

O auge da civilização maia ocorreu entre 250 d.C. e 900 d.C. Apesar da grande importância histórica, existem poucos resquícios desse período devido ao saqueamento de sítios arqueológicos. Mas, recentemente, um trabalho da Universidade Tulane, nos EUA, conseguiu recuperar raros tesouros da época.

Liderado pelo arqueólogo Francisco Estrada-Belli, o time de pesquisadores fez investigações no sítio de Chochkitam, localizado na Guatemala, em uma região próxima das fronteiras dos atuais países México e Belize. Em 2022, a equipe encontrou a tumba de um rei maia, datada em 1.700 anos.

A descoberta foi possível graças à tecnologia LIDAR, que utilizou um avião para direcionar raios laser para o chão e, assim, fazer um mapeamento da área. “É como tirar raio-X do solo da floresta”, explica Estrada-Belli, em nota. “Isso revolucionou o nosso campo. Agora podemos ver aonde estamos indo, em vez de simplesmente fazer uma expedição na floresta esperando achar alguma coisa”, diz.

A tumba contém oferendas funerárias consideradas extraordinárias. Há uma máscara de jade em mosaico, raras conchas de ostra e escritos em ossos humanos. Estima-se que as relíquias sejam de 350 d.C.

A expectativa é que elas contribuam para a compreensão de elementos da cultura maia, como a religião e a linhagem real. As conchas, por exemplo, eram utilizadas pela realeza como joias e moedas, além de servirem para oferendas religiosas e de sacrifício. Os escritos em ossos humanos, por sua vez, foram feitos em pedaços de fêmur. Um deles retrata um homem que seria um rei — até então desconhecido — segurando uma máscara de jade similar à encontrada na tumba. Os pesquisadores suspeitam que os hieróglifos vistos no material possam identificar o pai e o avô do líder, conectando-o a outros estados maias, como Tikal e Teotihuacan.

“Uma descoberta como essa é um pouco como ganhar na loteria, em termos de informação”, constata o arqueólogo Estrada-Belli. “Ela abre uma janela para um tempo obscuro sobre o qual temos pouquíssimos textos.”

Revista Galileu. Disponível em: <https://revistagalileu.globo.com/ciencia/arqueologia/noticia/2024/02/mascara-em-mosaico-e-outros-tesouros-sao-encontrados-em-tumba-de-rei-maia.ghtml>

QUESTÃO 01

De acordo com o texto, todas as afirmações a seguir são verdadeiras, exceto:

- (A) os artefatos do auge da cultura maia são escassos.
- (B) os hieróglifos gravados nos pedaços de fêmur são evidências da linhagem real.
- (C) as conchas encontradas na tumba tinham utilidades diversas na sociedade maia.
- (D) o mapeamento do local em que a tumba foi encontrada foi feito por meio de máquinas de raio-x.
- (E) o auge da civilização maia durou mais de meio século.

QUESTÃO 02

Segundo o texto, as relíquias encontradas na tumba maia são consideradas extraordinárias porque:

- (A) apresentam um alto valor comercial e podem trazer recursos financeiros para os pesquisadores.
- (B) podem contribuir para o entendimento de um período sobre o qual não se tem muita informação.
- (C) sugerem que os estados maias Chochkitam, Tikal e Teotihuacan não tinham qualquer tipo de ligação.
- (D) confirmam que o rei maia a que se referem as oferendas tinha familiares no poder em outros estados maias.
- (E) são escrituras em hieróglifos raros que contam histórias que contrariam o que já se sabia sobre Tikal e Teotihuacan.

QUESTÃO 03

Considere o excerto: “Isso revolucionou o nosso campo.” No contexto apresentado, o pronome demonstrativo “isso” é utilizado como um recurso de coesão referencial anafórico. O referente ao qual remete tal pronome é:

- (A) a tecnologia LIDAR.
- (B) a floresta.
- (C) a expedição na floresta.
- (D) o avião utilizado na expedição.
- (E) as relíquias encontradas.

QUESTÃO 04

Considere os seguintes excertos, retirados do texto:

- I. Estima-se que as relíquias sejam de 350 d.C.
 - II. Os pesquisadores suspeitam que os hieróglifos vistos no material possam identificar o pai e o avô do líder, conectando-o a outros estados maias, como Tikal e Teotihuacan.
- As normas gramaticais que sugerem a colocação pronominal enclítica nos casos apresentados são, respectivamente:
- (A) I. não se inicia período por pronome átono e II. usa-se ênclise em verbos flexionados em oração subordinada.
 - (B) I. usa-se ênclise quando houver palavra atrativa antes do verbo e II. usa-se ênclise em orações subordinadas com verbos flexionados em qualquer tempo e modo.
 - (C) I. não se inicia período por pronome átono e II. usa-se ênclise em orações reduzidas de gerúndio não precedidas pela preposição em.
 - (D) I. usa-se ênclise em orações imperativas afirmativas e II. usa-se ênclise em orações reduzidas de gerúndio, independentemente dos demais elementos colocados.
 - (E) I. usa-se ênclise em orações reduzidas de infinitivo flexionado e II. usa-se ênclise em orações reduzidas de gerúndio antecedidas pela preposição *em*, mesmo que esta esteja implícita.

Considere o excerto a seguir para responder às questões 5, 6 e 7:

“Uma descoberta como essa é um pouco como ganhar na loteria, em termos de informação”, constata o arqueólogo Estrada-Belli. “Ela abre uma janela para um tempo obscuro sobre o qual temos pouquíssimos textos.”

QUESTÃO 05

No excerto apresentado, a regência verbal de “abrir” é:

- (A) transitiva direta.
- (B) transitiva indireta.
- (C) intransitiva.
- (D) transitiva direta e indireta.
- (E) pronominal.

QUESTÃO 06

Em relação às categorias gramaticais, no contexto em que ocorrem, as palavras “uma”, “descoberta”, “obscuro” e “qual” classificam-se respectivamente em:

- (A) pronome indefinido, adjetivo, substantivo e pronome relativo.
- (B) artigo indefinido, substantivo, adjetivo e pronome relativo.
- (C) artigo indefinido, substantivo, adjetivo e pronome interrogativo.
- (D) artigo indefinido, adjetivo, adjetivo e pronome interrogativo.
- (E) pronome indefinido, substantivo, substantivo e pronome relativo.

QUESTÃO 07

O adjetivo “*pouquíssimos*”, que ocorre no excerto apresentado, exprime sua qualidade no grau:

- (A) positivo.
- (B) comparativo.
- (C) superlativo relativo.
- (D) superlativo absoluto sintético.
- (E) superlativo absoluto analítico.

QUESTÃO 08

Analise as palavras a seguir quanto à tonicidade e assinale a alternativa em que a palavra dada é oxítona.

- (A) hostil.
- (B) aeromoça.
- (C) espelho.
- (D) patente.
- (E) esperança.

QUESTÃO 09

Analise as sentenças a seguir e assinale aquela em que ocorre um verbo defectivo.

- (A) Deste pico se vê toda a praia.
- (B) A prefeitura demoliu os prédios mais antigos da cidade ontem à tarde.
- (C) Os incêndios florestais criminosos multiplicam-se nessa época do ano.
- (D) A exposição de fotos na biblioteca da universidade está belíssima.
- (E) Ele imprimiu todas as suas fotos da viagem à Flórida.

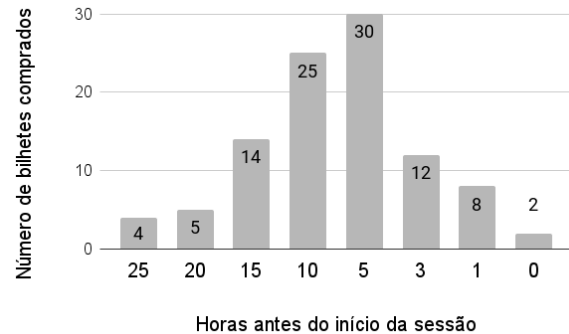
QUESTÃO 10

Analise as sentenças a seguir e assinale a alternativa em que as palavras apontadas preenchem corretamente as lacunas.

- I. O _____ da máquina de lavar ficou muito caro.
 - II. Já reservamos os _____ para assistirmos à peça teatral.
 - III. Finalmente, as crianças _____ a gritaria.
- (A) I. concerto; II. assentos; III. cessaram.
 - (B) I. conserto; II. assentos; III. cessaram.
 - (C) I. conserto; II. acentos; III. cessaram.
 - (D) I. concerto; II. assentos; III. sessaram.
 - (E) I. conserto; II. acentos; III. sessaram.

MATEMÁTICA E RACIOCÍNIO LÓGICO**QUESTÃO 11**

A figura abaixo mostra a antecedência de compra dos clientes para uma determinada sessão de cinema:



A antecedência de compra é a diferença de tempo entre o horário do início do filme e o horário da compra do bilhete. Com base no gráfico, pode-se dizer que a média de antecedência de compra, em horas, é:

- (A) 8,54.
- (B) 8,15.
- (C) 9,80.
- (D) 7,92.
- (E) 5,15.

QUESTÃO 12

Um quadrado e um triângulo equilátero têm a mesma área, qual a razão entre o perímetro deste quadrado e o perímetro deste triângulo? Sabe-se que a altura do triângulo equilátero é $a\frac{\sqrt{3}}{2}$, onde a é a medida do seu lado.

- (A) $\frac{3}{2} \sqrt[4]{3}$.
- (B) $\frac{1}{3} \sqrt[4]{3}$.
- (C) $\frac{3}{2 \sqrt[4]{3}}$.
- (D) $\frac{3}{4 \sqrt[4]{3}}$.
- (E) $\frac{2}{3} \sqrt[4]{3}$.

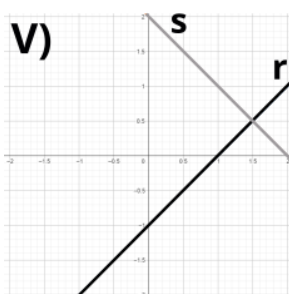
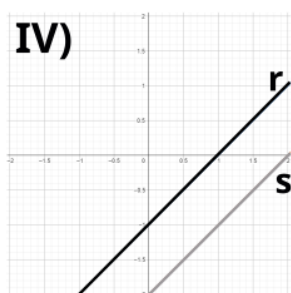
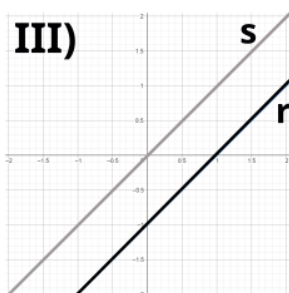
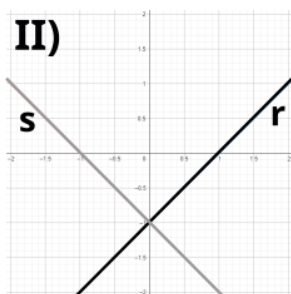
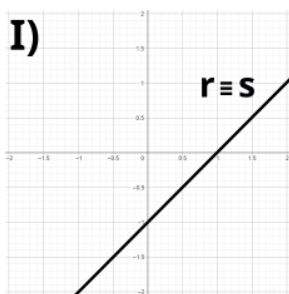
QUESTÃO 13

Observe o sistema de equações do primeiro grau abaixo:

$$2y = 2x - 2$$

$$-y = -x + 1$$

Essas equações podem ser representadas por retas r e s , respectivamente, num gráfico. Dentre as correspondências abaixo, indique o gráfico ao qual este sistema corresponde:



- (A) I.
- (B) II.
- (C) III.
- (D) IV.
- (E) V.

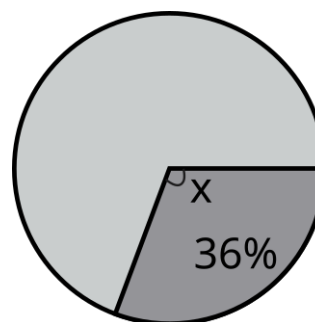
QUESTÃO 14

Um professor aplicou uma prova cuja nota final deve estar entre zero e dez. Ao calcular as notas, ele viu que a média da turma foi 3,0, e o candidato com maior nota tirou 6,0. Ele resolveu ‘normalizar’ as notas e atribuiu a nota 10,0 ao estudante com nota máxima anterior, e aumentou a nota de todos os outros alunos na mesma porcentagem que aumentou a do estudante com nota máxima. Neste caso, quanto passou a ser a média da turma?

- (A) 5,5.
- (B) 5,0.
- (C) 7,0.
- (D) 6,5.
- (E) 6,0.

QUESTÃO 15

Num gráfico de pizza, se quisermos representar uma fração de 36%, conforme a figura abaixo:



Qual deve ser o ângulo X do setor circular?

- (A) 224,0°.
- (B) 129,6°.
- (C) 136,4°.
- (D) 64,0°.
- (E) 112,9°.

NOÇÕES DE INFORMÁTICA**QUESTÃO 16**

No MS-Word 2016, qual das seguintes alternativas descreve corretamente o processo para recuperar um documento que não foi salvo antes do fechamento do aplicativo?

- (A) Acessar o menu "Arquivo", selecionar "Informações", depois "Gerenciar Documento" e "Recuperar Documentos Não Salvos".
- (B) Reabrir o Word, que automaticamente exibirá os documentos não salvos.
- (C) Usar a função "Pesquisar" do sistema operacional para localizar o arquivo temporário que corresponderá à versão mais recente editada.
- (D) Ir em "Opções" dentro do Word, selecionar "Salvar" e acessar a pasta de auto recuperação "Recuperar Documentos Não Salvos".
- (E) Clicar no botão "Desfazer" na barra de ferramentas de acesso rápido após reabrir o Word.

QUESTÃO 17

Quando se deseja alterar a aparência do texto no Microsoft Word 2016, pode-se modificar a fonte, o tamanho, sublinhar e alinhar o texto através da guia _____.

- (A) Revisão
- (B) Inserir
- (C) Layout de Página
- (D) Página Inicial
- (E) Referências

QUESTÃO 18

No Excel 2016, como uma fórmula deve ser iniciada para realizar cálculos dentro de uma célula?

- (A) Com o sinal #
- (B) Com o sinal &
- (C) Com o sinal @
- (D) Com o sinal %
- (E) Com o sinal =

QUESTÃO 19

No Microsoft Excel 2016, para realizar o cálculo do total dos valores presentes em um determinado conjunto de células, que no presente caso compreende de A1 até A5, qual das funções a seguir é apropriada?

- (A) =SOMA(A1:A5)
- (B) =SUBTRAIR(A1:A5)
- (C) =MULTIPLICAR(A1:A5)
- (D) =DIVIDIR(A1:A5)
- (E) =MÉDIA(A1:A5)

QUESTÃO 20

Em relação à criação e execução de macros no MS-Excel 2016, qual afirmação é verdadeira?

- (A) O Excel não permite a importação de macros de outras planilhas, mas suporta a exportação direta de macros para outros softwares de planilha.
- (B) É impossível atribuir uma macro a um botão na planilha para facilitar sua execução.
- (C) Macros são usadas para operações de formatação e não podem automatizar cálculos ou análise de dados.
- (D) Para executar uma macro, o usuário precisa acessar sempre o Visual Basic for Applications (VBA).
- (E) Macros permitem automatizar tarefas repetitivas, incluindo cálculos complexos, através de scripts no VBA.

CONHECIMENTOS ESPECÍFICOS**QUESTÃO 21**

Carlos é um dos sócios proprietários da CS Cia. Ltda. Carlos tem por hábito pagar pequenas despesas pessoais com cheques sacados contra a conta corrente da empresa. É correto afirmar que a conduta descrita viola:

- (A) o Princípio da Proporcionalidade.
- (B) o Princípio da Razoabilidade.
- (C) o Princípio da Continuidade.
- (D) o Princípio da Entidade.
- (E) o Princípio da Oportunidade.

QUESTÃO 22

O Princípio Contábil _____ preconiza que, em situações em que seja possível escolher entre mais de uma opção válida para mensuração dos elementos patrimoniais, deve ser adotada aquela que resulte em _____ valor para o ativo e _____ valor para o passivo. Assinale a alternativa que corretamente preenche os espaços em branco.

- (A) do Conservadorismo / menor / maior
- (B) da Cautela / maior / maior
- (C) da Prudência / menor / maior
- (D) da Parcimônia / menor / menor
- (E) da Prudência / maior / menor

QUESTÃO 23

A NBC TG – Estrutura Conceitual para Relatório Financeiro, do Conselho Federal de Contabilidade, estabelece os fundamentos para elaboração das Demonstrações Contábeis no Brasil. Com base em suas disposições, julgue os itens a seguir.

I. Ativo é um recurso econômico presente controlado pela entidade como resultado de eventos passados, presentes ou futuros.

II. Nos termos da referida norma, *Recurso econômico* pode ser definido como um direito que tem o potencial de produzir benefícios econômicos.

III. Passivo é um dever jurídico ou não, presente ou futuro da entidade, de transferir um recurso econômico como resultado de eventos passados, presentes ou futuros.

Está correto o que se afirma em:

- (A) II, apenas.
- (B) nenhuma das afirmativas.
- (C) II e III, apenas.
- (D) I e II, apenas.
- (E) I e III, apenas.

QUESTÃO 24

A escrituração contábil é a técnica que tem por finalidade efetuar o registro sistemático e em ordem cronológica dos fatos que alteram o patrimônio das entidades. Sobre o tema, informe se é verdadeiro (V) ou falso (F) para o que se afirma e assinale a alternativa com a sequência correta.

() O método das partidas dobradas determina o registro dos fatos contábeis em, no mínimo, duas contas contábeis simultaneamente. E deve haver pelo menos um registro a débito e pelo menos um registro a crédito.

() Ao final do exercício, as contas de resultado terão seus saldos encerrados, não se transportando para o exercício seguinte.

() Para incrementar o saldo das contas-contábeis que integram o ativo, a exemplo dos Prédios e Instalações, é necessário realizar lançamentos a débito.

- (A) F – V – V.
- (B) V – V – F.
- (C) V – V – V.
- (D) V – F – V.
- (E) V – F – F.

QUESTÃO 25

IMPORTANTE! Para responder às próximas TRÊS questões, considere os dados a seguir.

No encerramento do exercício social de 2023 e após os procedimentos de apropriação do resultado, a Cia. Jatobá evidencia os seguintes saldos em suas contas patrimoniais:

Empréstimos a Diretores	12.000,00
Dividendos a Pagar	5.000,00
Aluguéis a apropriar	18.000,00
Fornecedores	29.000,00
Bancos c/ Movimento	45.000,00
Participações societárias permanentes	55.000,00
Duplicatas Descontadas	21.000,00
Depreciação Acumulada	19.000,00
Perdas Estimadas com Créditos de Liquidação Duvidosa	8.000,00
Estoques	53.000,00
Veículos	120.000,00
Clientes	98.000,00
Empréstimos e Financiamentos	82.000,00
Ajuste para redução ao valor recuperável - ativo imobilizado	8.000,00
Investimentos Temporários de Curto Prazo	24.000,00
Salários e Encargos a Pagar	41.000,00
Prédios e Edificações	130.000,00
Obrigações Tributárias a Recolher	22.000,00

Com base nos dados fornecidos, é correto afirmar que o Ativo Não-Circulante da Cia. Jatobá em 31/12/2023 era de:

- (A) 310.000,00.
- (B) 278.000,00
- (C) 298.000,00.
- (D) 300.000,00.
- (E) 290.000,00.

QUESTÃO 26

De acordo com os dados apresentados, é correto afirmar que o Passivo Circulante da Cia. Jatobá em 31/12/2023 era de:

- (A) 179.000,00.
- (B) 195.000,00.
- (C) 200.000,00.
- (D) 193.000,00.
- (E) 168.000,00.

QUESTÃO 27

Com fulcro nas informações apresentadas, é correto afirmar que o Patrimônio Líquido da Cia. Jatobá em 31/12/2023 equivalia a:

- (A) 320.000,00.
- (B) 308.000,00.
- (C) 326.000,00.
- (D) 288.000,00.
- (E) 332.000,00.

QUESTÃO 28

Em um plano de contas padrão, são contas-contábeis classificadas no Patrimônio Líquido de uma sociedade as adiante elencadas, À EXCEÇÃO DE:

- (A) Capital Social a Integralizar.
- (B) Encargos Financeiros a Transcorrer.
- (C) Ações em Tesouraria.
- (D) Ajustes de Avaliação Patrimonial.
- (E) Reservas de Lucros.

QUESTÃO 29

Tributos fiscais são aqueles conceituados pela doutrina como tendo por finalidade principal promover arrecadação de recursos financeiros para o Estado financiar suas atividades. Neste sentido, assinale dentre as opções abaixo aquela que representa um tributo tipicamente fiscal.

- (A) Imposto sobre a exportação de produtos ao exterior.
 (B) Imposto sobre a importação de produtos estrangeiros.
 (C) Imposto sobre a Propriedade de Veículos Automotores.
 (D) Imposto sobre operações de crédito, câmbio e seguro, ou relativas a títulos ou valores mobiliários.
 (E) Contribuição para o Custeio do Serviço de Iluminação Pública.

QUESTÃO 30

IMPORTANTE! Para resolução das próximas TRÊS questões, considere as informações fornecidas a seguir.

- A Cia. Jobs atua no ramo de fabricação de telhas de fibrocimento. Para melhoria de seu processo produtivo, ela adquire, em 01/02/2023, uma prensa hidráulica, cujo valor à vista seria de 150.000,00. No entanto, opta por parcelar o pagamento em 10 vezes de 17.000,00.
- Incide na compra ICMS não-recuperável no montante de 12.000,00, e a Cia. Jobs tem que arcar com frete de 5.000,00 e seguro de transporte, de 3.000,00.
- Em 01/03/2023 o equipamento é entregue, e a Cia Jobs percebe que suas instalações estão adequadas à operação da máquina, necessitando fazer ajustes elétricos, gastando mais 4.000,00.
- Finalmente, em 01/04/2023, a prensa entra em operação. Sua vida útil estimada é de 10 anos e o valor residual é de 42.000,00.

Com base nestes dados, é correto afirmar que o valor de custo do ativo no reconhecimento inicial é de:

- (A) 159.000,00.
 (B) 162.000,00.
 (C) 174.000,00.
 (D) 170.000,00.
 (E) 169.000,00.

QUESTÃO 31

Ainda com base nos dados fornecidos, é correto asseverar que, em 01/04/2023, o valor depreciável da prensa hidráulica é:

- (A) 117.000,00.
 (B) 120.000,00.
 (C) 138.000,00.
 (D) 127.000,00.
 (E) 132.000,00.

QUESTÃO 32

Mensalmente deverá ser efetuado o seguinte lançamento contábil para o registro da despesa com depreciação:

- (A) D – Depreciação
 C – Depreciação Acumulada 1.066,67
 (B) D – Depreciação
 C – Depreciação Acumulada 1.075,00
 (C) D – Depreciação Acumulada
 C – Depreciação 1.075,00.
 (D) D – Depreciação
 C – Depreciação Acumulada 1.100,00
 (E) D – Depreciação Acumulada
 C – Depreciação 1.100,00

QUESTÃO 33

Nos termos do atual regramento relativo à auditoria independente no Brasil, são procedimentos de auditoria os elencados a seguir, EXCETO:

- (A) confirmação externa.
 (B) procedimentos analíticos.
 (C) condução coercitiva.
 (D) observação.
 (E) inspeção.

QUESTÃO 34

Se, durante um trabalho de auditoria, o auditor encontra impedimentos ao acesso de registros e ativos, de forma que não é possível coletar evidência suficiente e adequada para concluir sobre a adequação das demonstrações financeiras como um todo, seu parecer será do tipo:

- (A) com ressalvas.
- (B) adverso.
- (C) com abstenção de opinião.
- (D) sem ressalvas.
- (E) não-modificado.

QUESTÃO 35

A Cia. Belo Pé fabrica e vende calçados de luxo. No entanto, ela necessita comprar as caixas prontas de outra empresa para embalar seu produto, pois seu processo é voltado apenas à fabricação de sapatos. Nesse caso, as embalagens adquiridas prontas são consideradas como custos:

- (A) primários.
- (B) indiretos.
- (C) diretos.
- (D) fixos.
- (E) secundários.

QUESTÃO 36

Sobre a Demonstração dos Fluxos de Caixa (DFC), informe se é verdadeiro (V) ou falso (F) para o que se afirma, com base no atual regramento.

() A companhia fechada com patrimônio líquido, na data do balanço, inferior a R\$ 5.000.000,00 (cinco milhões de reais) não será obrigada à elaboração e publicação da demonstração dos fluxos de caixa.

() A demonstração dos fluxos de caixa evidenciará as alterações ocorridas, durante o exercício, no saldo de caixa e equivalentes de caixa, segregando-se essas alterações em, no mínimo, três fluxos: das operações, dos financiamentos e dos investimentos.

() A elaboração da DFC pelo método direto parte do lucro líquido do período, fazendo ajustes em receitas e despesas não financeiras.

A sequência está correta em:

- (A) V – F – F.
- (B) F – V – F.
- (C) V – V – F.
- (D) F – V – V.
- (E) F – F – V.

QUESTÃO 37

Princípio orçamentário que consagra que a Lei Orçamentária Anual deve tratar apenas de temas relativos à previsão das receitas e fixação das despesas orçamentárias, não se permitindo a inserção de dispositivos alheios a estes temas em seu texto. Trata-se do:

- (A) Princípio da Rigidez Orçamentária.
- (B) Princípio do Orçamento Bruto.
- (C) Princípio da Evidenciação.
- (D) Princípio da Universalidade.
- (E) Princípio da Exclusividade.

QUESTÃO 38

No âmbito de classificação da despesa orçamentária segundo a natureza, é correto afirmar que elas se segregam entre:

- (A) correntes e de capital, com oito grupos de natureza de despesa.
- (B) primárias e financeiras, com seis grupos de natureza de despesa.
- (C) correntes e de capital, com seis grupos de natureza de despesa.
- (D) primárias e financeiras, com quatro grupos de natureza de despesa.
- (E) efetivas e não-efetivas, com seis grupos de natureza de despesa.

QUESTÃO 39

Na etapa de execução orçamentária, o estágio da despesa que se consubstancia no ato emanado da autoridade competente, que cria para o Estado obrigação de pagamento pendente ou não de implemento de condição é denominado:

- (A) Licitação.
- (B) Contrato.
- (C) Sub-Empenho.
- (D) Liquidação.
- (E) Empenho.

QUESTÃO 40

A Lei de Responsabilidade Fiscal estabelece limites para a Despesa com Pessoal dos entes da federação. No âmbito dos Estados, é correto afirmar que, a Despesa com Pessoal não poderá exceder, em cada período de apuração:

- (A) 60% da Receita Corrente.
- (B) 50% da Receita Orçamentária Total.
- (C) 70% da Receita Corrente.
- (D) 60% da Receita Corrente Líquida.
- (E) 50% da Receita Corrente Líquida.

